

LİSELERE GEÇİŞ SINAVI

LGS

2021

8. SINIF

M.E.B. MÜFREDATINA
%100 UYGUNDUR

MANTIK - MUHAKEME,
BECERİ ve YAŞAM
TEMELLİ SORULAR İLE,

PISA TIMMS SINAVLARI
ÖRNEK ALINARAK
HAZIRLANMIŞTIR.



VIDEO ÇÖZÜMLÜ



AKILLI TAHTAYA
UYUMLU



SORU ÇÖZÜMLERİ İÇİN
QR KODU OKUTUNUZ

TAMAMI ÇÖZÜMLÜ

T.C. İNKILAP TARİHİ ve ATATÜRKÇÜLÜK

SORU BANKASI



PEGEM YAYINLARI

LGS T.C. İNKILAP TARİHİ VE ATATÜRKÇÜLÜK TAMAMI ÇÖZÜMLÜ SORU BANKASI

KOMİSYON

ISBN 978-625-7228-78-7

Kitapta yer alan bölümlerin tüm sorumluluğu yazarlarına aittir.

© PEGEM AKADEMİ

Bu kitabın basım, yayım ve satış hakları Pegem Akademi Yay. Eğt. Dan. Hizm. Tic. A.Ş.'ye aittir. Anılan kuruluşun izni alınmadan kitabın tümü ya da bölümleri, kapak tasarımı; mekanik, elektronik, fotokopi, manyetik kayıt ya da başka yöntemlerle çoğaltılamaz, basılamaz ve dağıtılamaz. Bu kitap, T.C. Kültür ve Turizm Bakanlığı bandrolü ile satılmaktadır. Okuyucularımızın bandrolü olmayan kitaplar hakkında yayinevimize bilgi vermesini ve bandrolsüz yayınları satın almamasını diliyoruz.

Pegem Akademi Yayıncılık, 1998 yılından bugüne uluslararası düzeyde düzenli faaliyet yürüten uluslararası akademik bir yayinevidir. Yayımladığı kitaplar; Yükseköğretim Kurulunca tanınan yükseköğretim kurumlarının kataloglarında yer almaktadır. Dünyadaki en büyük çevrimiçi kamu erişim kataloğu olan WorldCat ve ayrıca Türkiye'de kurulan Turcademy.com tarafından yayınları taranmaktadır, indekslenmektedir. Aynı alanda farklı yazarlara ait 1000'in üzerinde yayını bulunmaktadır. Pegem Akademi Yayınları ile ilgili detaylı bilgilere <http://pegem.net> adresinden ulaşılabilir.

1. Baskı: Aralık 2020, Ankara

Proje-Yayın: Şule Kılıç
Dizgi-Grafik Tasarım: Gamze Şahin Oral
Kapak Tasarımı: Pegem Akademi

Baskı: Vadi Grup Basım A.Ş.
İvedik Organize Sanayi 28. Cadde 2284 Sokak No:105
Yenimahalle/ANKARA
(0312 394 55 91)

Yayıncı Sertifika No: 36306
Matbaa Sertifika No: 49180

İLETİŞİM



Karanfil 2 Sokak No: 45 Kızılay / ANKARA



Yayınevi: 0312 430 67 50 - 430 67 51

Dağıtım: 0312 434 54 24 - 434 54 08

Hazırlık Kursları: 0312 419 05 60



www.pegem.net



pegem@pegem.net



0538 594 92 40



[pegemakademi](https://www.instagram.com/pegemakademi)

Değerli Öğrenciler,

Bu kitap Lise Geçiş Sınavı (LGS) T.C. İnkılap Tarihi ve Atatürkçülük kapsamındaki soruları çözmek için gerekli bilgi, beceri ve teknikleri edinmeniz ve farklı soru çeşitleri ile sınava hazırlık sürecinize rehberlik etmek için hazırlanmıştır.

Kitabımız, her soru için anlaşılır bir dilde hazırlanmış çözümlü videolar içermektedir. Çalışmalarınız süresince QR kod ile erişebileceğiniz soru çözümlerinden yararlanmanız, konulara dair bilgilerinizi pekiştirmenizi ve konuları tüm ayrıntıları ile öğrenmiş olmanızı sağlayacaktır.


Soruların çeşitliliği tercih edilirken en çok zorlandığımız soru tipleri, ÖSYM'nin şimdiye kadar hazırladığı sınavlarda çıkmış ve bundan sonra hazırlayacağı sınavlarda da çıkabilecek soru tipleri referans alınmış ayrıca konuyu pekiştirmenize yardımcı olacak düzeyde hemen hemen tüm soru tiplerine değinilmiştir.


Yoğun bir araştırma ve çalışma süreci ile hazırlanmış olan bu kitapla ilgili görüş ve önerilerinizi bizimle pegem@pegem.net e-posta adresimizden veya [0 538 594 92 40](tel:05385949240) WhatsApp hattımız aracılığı ile paylaşabilirsiniz.

Pegem yayınlarının tecrübeli ve kendi alanlarında uzman öğretmenleri tarafından hazırlanan bu T.C. İnkılap Tarihi ve Atatürkçülük kitabının lise geçiş sınavına hazırlanma sürecinizde sizlere yardımcı olmasını ve kendinize olan inancınızı desteklemesini ümit ediyoruz.

 PEGEM YAYINLARI

Karekod okutmak için tavsiye edilen uygulamalar

QR Droid 

Qrafter 



T.C. İnkılap Tarihi ve Atatürkçülük sorularının çözüm videolarına ulaşmak için karekodu okutunuz.



1. ÜNİTE

Bir Kahraman Doğuyor 1

2. ÜNİTE

Millî Uyanış: Bağımsızlık Yolunda Atılan Adımlar 35

3. ÜNİTE

Ya İstiklal Ya Ölüm 73

4. ÜNİTE

Atatürkçülük ve Çağdaşlaşan Türkiye 107

5. ÜNİTE

Demokratikleşme Çabaları 153

6. ÜNİTE

Atatürk Dönemi Türk Dış Politikası 171

7. ÜNİTE

Atatürk'ün Ölümü ve Sonrası 185

Cevap Anahtarı 201

1. ÜNİTE



BİR KAHRAMAN DOĞUYOR



NOTLARIM

TEST - 1

ÇÖZÜMÜ
GÖR

Uyanan Avrupa ve Sarsılan Osmanlı

1 ve 2. soruları aşağıda verilen bilgiler ışığında cevaplayınız.

Aşağıda verilen açıklamalar Avrupa'da meydana gelen Sanayi İnkılabı'na yönelik olarak oluşturulmuştur.

SANAYİ İNKILABI ENDÜSTRİ DEVRİMİ

18. yüzyılda İngiltere'de James Watt tarafından buhar gücünün makinelerde kullanılmasıyla başlayan teknolojik gelişmelere denir.

SONUÇLARI

- ➔ El tezgahları ve atölyeler kapanmış, fabrikalar açılmıştır.
- ➔ Mallar seri ve ucuz olarak üretilmeye başlanmıştır.
- ➔ Ham madde ihtiyacı ve pazar arayışı artmış, sömürgecilik hız kazanmıştır.
- ➔ İşçi sınıfı ortaya çıkmıştır.
- ➔ Köyden şehre göç başlamıştır.
- ➔ Sanayileşemeyen ülkeler sömürge durumuna düşmüştür.
- ➔ Kapitalizm, Liberalizm, Sosyalizm gibi kavramlar ortaya çıkmıştır.
- ➔ Süveyş Kanalı ve Panama Kanalı açılmış, uluslararası ulaşım ve ticaret gelişmiştir.
- ➔ Osmanlı Devleti, kapitülasyonların da etkisiyle açık pazar hâline gelmiş, küçük esnaf ve Lonca teşkilatı çökmüştür.

- ➔ Sanayinin gelişmesiyle ham madde ve pazar arayışı ortaya çıkmış, Avrupa devletleri arasında sömürge yarışı başlamıştır. Bu durumda I. Dünya Savaşı'nın en önemli nedeni olmuştur.



1. Yukarıda verilen tabloda, aşağıdakilerden hangisinin cevabı yoktur?

- A) Sanayi İnkılabı ilk olarak nerede başlamıştır?
- B) Sanayi İnkılabı'nın Osmanlı Devleti'ne zararları nelerdir?
- C) Sömürgeciliğin artmasındaki temel etkenler nelerdir?
- D) Sanayileşme sürecini tamamlayan ülkeler hangileridir?

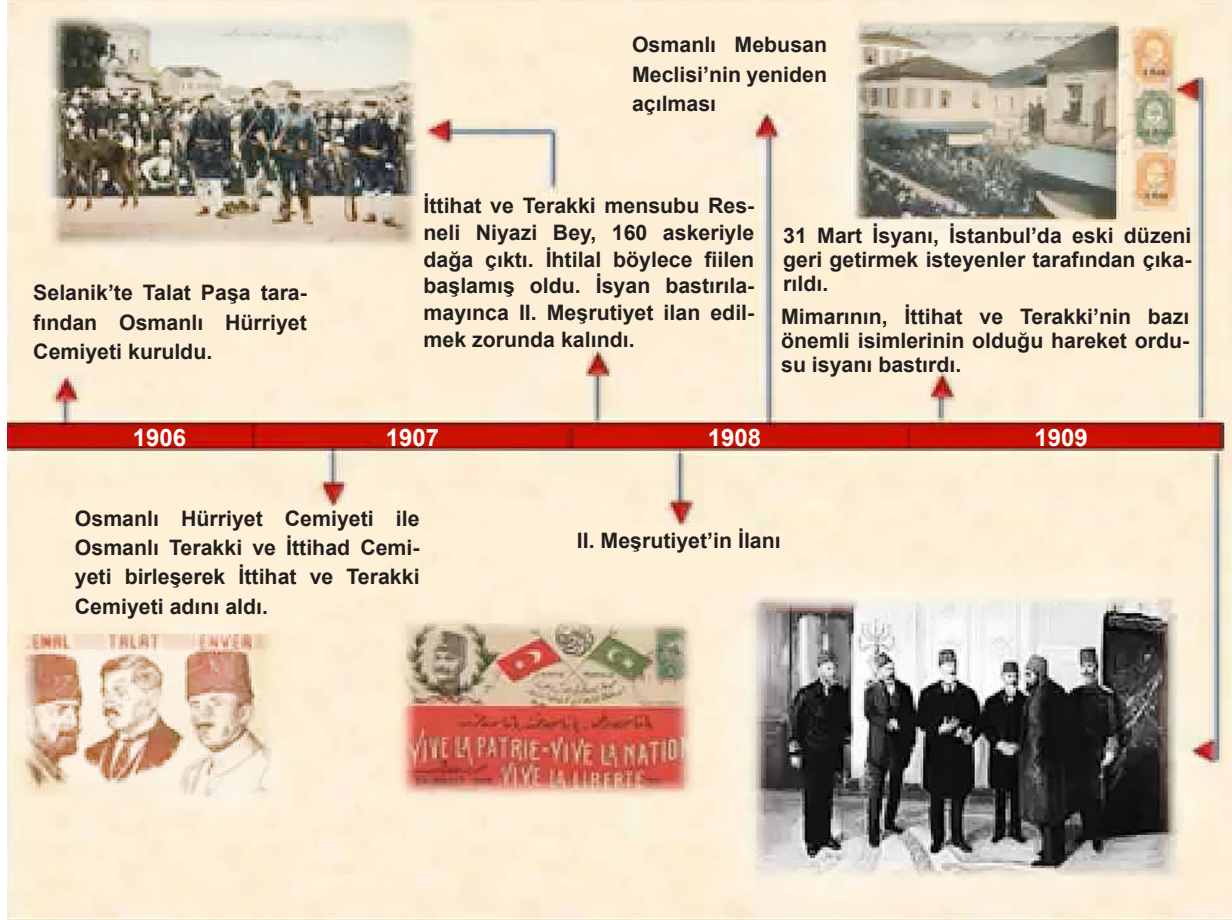
2. Sadece yukarıda verilen tablodan yola çıkarak Osmanlı ile ilgili yargılardan hangisine ulaşamaz?

- A) Ekonomik alanda zora girmesinde sadece Sanayi İnkılabı'nın etkisi olmamıştır.
- B) I. Dünya Savaşı'na katılmıştır.
- C) Ekonomik yapısına etki eden bazı kuruluşlar, geçerliliğini yitirmiştir.
- D) Toprakları, Avrupalı Devletlerin ürünlerinin satıldığı bir merkez hâline gelmiştir.



3 ve 4. soruları aşağıda verilen zaman şeridinden yararlanarak cevaplayınız.

Aşağıdaki zaman şeridinde, 1906 – 1909 yılları arasında Osmanlı Devleti'nde meydana gelen gelişmelere yer verilmiştir.



3. Verilen görselde Osmanlı Devleti ile ilgili çıkarımlardan hangisi yapılamaz?

- A) II. Meşrutiyet, Osmanlı'nın demokrasi yolunda attığı ilk adım değildir.
- B) Demokratik gelişmeler, bazı gruplar tarafından hoş karşılanmamıştır.
- C) Demokratikleşme süreci, ayaklanma ile başlamıştır.
- D) Osmanlı Devleti'nde parlamento ilk kez açılmış oldu.

4. Yukarıdaki tabloda aşağıda verilenlerden hangisine ait bir bilgiye ulaşılamaz?

- A) 31 Mart İsyanı, meşruti yönetim karşıtlarının çıkardığı bir ayaklanmadır.
- B) Hareket Ordusu, meşrutiyet taraftarları tarafından kurulmuştur.
- C) Mustafa Kemal, meşrutiyet rejiminin korunmasında önemli pay sahibidir.
- D) İttihat ve Terakki Cemiyeti üyeleri, 1906-1909 yılları arasında meydana gelen demokratik gelişmelerde etkilidir.

TEST - 2

ÇÖZÜMÜ
GÖR

Uyanan Avrupa ve Sarsılan Osmanlı

1. Fransız İhtilali, 1789 yılında meydana gelen Fransa halkının eşitlik, adalet, hak ve demokrasi talepleriyle Fransa Kralına karşı başkaldırması ve başarıya ulaşması olayıdır. Bu ihtilal sonrasında hak, adalet, eşitlik ve demokrasi kavramları tüm dünyaya yayılmış ve ulusların kendi devletlerini kurma fikri oluşmaya başlamıştır.

Yukarıda anlatılanlardan yola çıkarak Atatürk'ün sözlerinden hangisinin Fransız İhtilali ile doğrudan ilişkilendirilmesi mümkün değildir?

- A) "İnsan önce doğanın esiriydi, sonra buna gökten kuvvet ve yetki alan birtakım adamlara esir olmak eklendi."
 B) "Hükümet, memlekette kanunu egemen kılmak ve adaleti iyi dağıtmakla yükümlüdür."
 C) "Biz Türkler, bütün tarihimiz boyunca hürriyet ve istiklâl timsal olmuş bir milletiz."
 D) "Bir başka çağdan kalma adetlerinizde, alışkanlıklarınızda direnirseniz, cüzzamlılar, paryalar gibi tek başınıza kalakalırsınız. Benliğinize bağlı kalın ama, gelişmiş uluslar için gerekli olan şeyleri Batı'dan almasını bilin."

2.



Osmanlı Devleti'nin Batı'ya açılan kapısı konumunda olan Selanik; Rum, Bulgar, Sırp, Yahudi ve Türklerin bir arada yaşadığı kozmopolit bir kentti.

Sadece verilen bilgilerden hareketle Fransız İhtilali'nin getirdiği kavramlardan özellikle hangisinin Osmanlı Devleti'nin isyanlarla mücadele etmesinde etkili olduğu söylenebilir?

- A) Milliyetçilik B) Demokrasi C) Adalet D) Hak



3.

I	Türkçülük, tüm Türkleri tek çatı altında toplamayı amaçlar.	A	Müslüman Arapların ihaneti üzerine geçerliliğini yitirmiştir.
II	İslamcılık, Müslümanların halifenin etrafında toplanmasını amaçlar.	B	Balkan Savaşları sonrasında Müslüman olmayan unsurların bağımsızlığını kazanmasıyla önemini kaybetmiştir.
III	Osmanlıcılık, Osmanlı ülkesinde yaşayan her bireyi din, dil, ırk ve mezhep ayrımı yapmadan birleştirmeyi amaçlar.	C	Türk halkının birlik ve beraberlik duygusuyla Kurtuluş Savaşı'nın kazanılmasında etkin rol oynamıştır.

Kutucuklarda yer alan fikir akımlarının amaçları ile sonuçlarının doğru eşleştirilmiş hâli hangi seçenekte yer almaktadır?

A) I – A

B) I – B

C) I – C

D) I – C

II – C

II – A

II – A

II – B

III – B

III – C

III – B

III – A

4. İnsan gücünün yerini makinenin alması olarak nitelendirilen Sanayi İnkılabı, ilk olarak İngiltere'de başlamış ve daha sonra tüm Avrupa'ya yayılmıştır. Sanayileşme sürecini tamamlayan devletlerin ham madde ve pazara duyduğu ihtiyaç artınca dünya yeni bir savaşın eşiğine gelmiştir. Bu devletlerden İtalya, Almanya ile İngiltere de Fransa ile yakınlaşmıştır. Sanayileşme sürecinin dışında kalan Osmanlı sınırlarında kalan bazı bölgeler ise bazı Avrupalı devletler tarafından ham madde elde etmek için fırsat olarak görülmüş ve bunun neticesinde Avrupalı Devletlerin egemenliğine girmeye başlamıştır.

Sadece yukarıda verilen metinden hareketle aşağıdakilerden hangisine kesin olarak ulaşamaz?

A) İtalya, sanayileşme sürecini tamamlayan ülkeler arasındadır.

B) Ham madde ve pazar ihtiyacı bazı gruplaşmalara neden olmuştur.

C) Sanayi Devrimi, bazı devletlerin yüz ölçümlerinde değişikliğe neden olmuştur.

D) Tüm Avrupalı Devletler, Osmanlı Devleti'ni ham madde ve pazar ihtiyaçları doğrultusunda işgal etmek istemektedirler.

5. Osmanlı Devleti'nin son dönemlerinde ortaya atılan Osmanlıcılık (din, dil ayrımı yapmamaya dayalı olarak oluşturulan fikir akımı) ve İslamcılık (inanç birliğini esas alan fikir akımı) gibi fikir akımlarının önemini kaybetmesinde hangi durumun doğrudan etkili olduğu söylenemez?

A) Müslümanların yaşadığı bazı bölgelerde yaşanan toprak kayıpları

B) Azınlıkların çoğunlukta olduğu bölgelerin kaybedilmesi

C) Arapların Osmanlı'ya ihaneti

D) İngilizlerin Boğazlarda egemenlik kurmak istemesi

TEST - 3

ÇÖZÜMÜ
GÖR

Uyanan Avrupa ve Sarsılan Osmanlı

- Osmanlı'nın egemenlik alanları daralmaya başlayınca bazı fikir akımları ortaya atılmıştır.
Buna göre fikir akımları ile ilgili aşağıdaki çıkarımlardan hangisi yapılamaz?
 - Devletin yıkılmasını engellemek doğrultusunda ortaya atılmıştır.
 - Devletin sınırlarının korunmasını sağlamak, en önemli hedefleri arasındadır.
 - Yayılmacı hedeflere sahip bir yönetim oluşturulması amaçlanmaktadır.
 - Olası ayrılıkçı isyanların önlenmesine yöneliktir.
- Türklerin yanı sıra Rum, Sırp, Bulgar gibi Hristiyan unsurların birlikte yaşadığı Selanik kentinin kaybedilmesinin, açıklamasıyla birlikte verilen aşağıdaki fikir akımlarından hangisinin önemini kaybetmesinde etkili olduğu söylenebilir?**
 - Osmanlıcılık akımı, Osmanlı ülkesinde yaşayan her bireyi din, dil, ırk ve mezhep ayrımı yapmaksızın Osmanlı vatandaşı olarak kabul etmektedir.
 - İslamcılık akımı, tüm Müslümanları bir bayrak altında toplamayı amaç edinmiştir.
 - Türkçülük akımı, tüm Türkleri bir bayrak altında toplamayı hedeflemektedir.
 - Batıcılık akımı, Batı'nın ilmi ve teknolojiyle devleti güçlendirmeyi amaç edinmiştir.
- Osmanlı Devleti'nin Orta Doğu'daki topraklarını ele geçirmek isteyen Sanayi İnkılabı'nın öncüsü İngiltere, önceleri Osmanlı topraklarını korumaya yönelik bir politika izlemekteydi. Bir süre sonra bu politikasının aksine Osmanlı üzerinde emelleri bulunan Rusların Osmanlı topraklarındaki faaliyetlerini desteklemeye başladı. Hiç kuşkusuz bunun en büyük nedenlerinden biri Osmanlı-Almanya yakınlaşmasıydı. Kendine rakip olarak gördüğü Almanya'yı yalnız bırakmak için de İtalya'nın, Osmanlı egemenlik bölgesinde olan Trablusgarp ve On iki Ada'yı işgaline göz yumdu.
Yukarıda anlatılanlardan yola çıkarak aşağıdakilerden hangisine ulaşamaz?
 - İtalya, Almanya'nın müttefiklerindedir.
 - Osmanlı Devleti, İngiltere'nin desteğini çekmesiyle tamamen savunmasız kalmıştır.
 - İngiltere, Almanya'yı kendine rakip olarak görmektedir.
 - İngiltere'nin Osmanlı politikası değişmiştir.



4. Fransız İhtilali'nin getirdiği milliyetçilik akımı, özellikle Balkan topraklarında bomba etkisi yarattı. Panslavizm politikası doğrultusunda hareket eden Rusların bu bölgedeki faaliyetleri de ayrılıkçı isyanların çıkmasında etkili oldu. Ayrılıkçı ayaklanmalar Osmanlı Devleti'nden ayrılma isteğinin yanında Müslüman halka zarar verme amacı da taşıyordu. Bu durum, Balkan coğrafyasından Anadolu'ya göç hareketlerinin başlamasına sebep oldu. 20. yüzyılın başlarında İstanbul ve İzmir gibi kentlerde nüfus patlaması yaşandı.

Verilen bilgilerden hareketle hangi seçenekte yer alan yargıya ulaşamaz?

- A) Osmanlı, Balkanlardaki etkinliğini tamamen kaybetmiştir.
B) İsyenların tek nedeni Fransız İhtilali'nin getirdiği milliyetçilik akımı değildir.
C) Balkanlardaki karışıklıklar Anadolu'nun nüfusunun artmasına neden olmuştur.
D) Ayaklanmaların kökeninde dış kaynaklı faktörler etkilidir.

5. Dokuma sektöründe ortaya çıkan Sanayi İnkılabı, sanayileşme atılımını gerçekleştiremeyen ülkeleri işgallere açık hâle getirmiştir. Fabrikalaşma sürecini geç de olsa tamamlayan İtalya, Osmanlı sınırları içerisindeki Trablusgarp'a göz dikmiş ve bu bölgeyi ele geçirmenin planlarını yapmıştır. Olası savaş tehlikelerinin farkına varan Osmanlı, Mısır'ın İngilizlerin elinde olması nedeniyle karadan asker gönderemeyince aralarında Mustafa Kemal'in de olduğu bir grup gönüllü subay Trablusgarp'a giderek buradaki halkı örgütlemiştir. Ancak İtalya'nın On İki Ada'yı işgal etmesi ve Boğazlara asker göndermesi Osmanlı'yı zor durumda bırakınca Osmanlı Devleti savaştan çekilme kararı almıştır.

Sadece metinden hareketle, yaşanan gelişmelerle ilgili çıkarımlardan hangisine kesinlikle ulaşamaz?

- A) Sanayi İnkılabı, bazı devletler için risk oluşturdu.
B) Osmanlı'nın egemenlik alanları daraldı.
C) İtalya, Osmanlı'yı savaştan çekmek için farklı yöntemler izledi.
D) Osmanlı Devleti, geçici olarak On İki Ada'yı İtalya'ya vermek zorunda kalmıştır.

6. Osmanlı'nın kötü gidişatına dur demek için ortaya atılan ancak toprak kayıplarını engelleyemeyen İslamcılık ve Osmanlıcılık fikir akımlarının önemini kaybetmesi üzerine dil, tarih ve kültür gibi alanlarda ortak yaşantılara sahip bireyleri bir arada tutmayı amaçlayan Türkçülük fikir akımı, işgalcilere karşı yürütülen Kurtuluş Savaşı'nın halk tarafından benimsenmesinde önemli rol oynadı.

Buna göre;

- I. İslamcılık ve Osmanlıcılık fikir akımlarının benimsendiği süreçte egemenlik alanlarının daraldığına,
II. Türkçülük akımının bazı özellikleri aynı olan bireyleri bir arada tutmayı hedeflediğine,
III. Bazı fikir akımlarının Osmanlı'nın toprak kaybetmesini önleyebildiğine,

yargılarından hangilerine ulaşılabilir?

- A) I ve III B) II ve III C) I ve II D) Yalnız II

TEST - 4


 ÇÖZÜMÜ
 GÖR

Uyanan Avrupa ve Sarsılan Osmanlı

1. Aşağıda Osmanlı Devleti'nin bir zamanlar gayrimüslim halkı olarak nitelendirilen Balkan ulusları ile yaptığı Balkan Savaşları sonrasındaki durumunu gösteren haritaya ve Osmanlı'yı dağılmaktan kurtarmaya yönelik olarak ortaya atılan bazı fikir akımlarına yer verilmiştir.



Osmanlıcılık, Osmanlı Devleti sınırları içinde yaşayan vatandaşları ırk, din ve dil ayrımı yapmadan eşit kabul eden düşünce anlayışıdır.

Önemli Savunucuları: Namık Kemal

İslamcılık, Osmanlı Devleti'nin bütünlüğünü korumak amacıyla 19. yüzyılın ikinci yarısında önem kazanan bir düşünce akımıdır. Amacı, farklı ırklardan Müslümanları birleştirip kalkındırmak, Hristiyan dünyasının karşısında bir denge unsuru hâline getirmektir.

Önemli Savunucuları: Mehmet Akif

Türkçülük, Osmanlı içindeki Türkleri bir bayrak altında toplamayı amaçlar. Türkiye Cumhuriyeti'nin kuruluş felsefesidir. II. Meşrutiyet'in ilan edilmesinde etkilidir.

Önemli Savunucuları: Ziya Gökalp

Yukarıda verilen harita ve fikir akımları birlikte düşünüldüğünde Balkan Savaşları sonrasında Osmanlı Devleti'nde;

- I. İslamcılık
- II. Türkçülük
- III. Osmanlıcılık

fikir akımlarından hangilerinin önemini kaybettiği söylenebilir?

- A) Yalnız III B) Yalnız I C) I ve II D) II ve III



2. Trablusgarp Savaşı, 1911-1912 yılları arasında Osmanlı İmparatorluğu ve İtalya Krallığı arasında geçen bir savaştır. Diğer büyük devletlerin destekleri ve I. Balkan Savaşı'nın patlak vermesi sayesinde savaşı kazanan İtalya, Rodos ve On İki Ada'yı işgal etmiş ancak savaş sonrasında imzalanan Uşi Antlaşması'yla birlikte On İki Ada'yı Osmanlı İmparatorluğuna geri verme sözüne rağmen bir süre sonra Yunanistan'a hibe etmiştir. 23 Ekim 1911'de Osmanlı toprakları üzerinde uçan İtalyan Yüzbaşı Carlo Piazza, tarihteki ilk keşif uçuşunu gerçekleştirmiştir. Giulio Gavotti ise 1 Kasım günü Etrich Taube model bir uçakla Libya'daki Osmanlı kuvvetlerine karşı bir hava saldırısı düzenlemiş ve bu saldırı, ilk hava saldırısı olarak tarihe geçmiştir. Herhangi bir hava taşıtı savunma silahı olmayan Osmanlı askerleri ise tüfek atışıyla bir uçak düşürmeyi başarmıştır.

Sadece verilen metinde yaşanan gelişmelerle ilgili yorumlardan hangisi yapılamaz?

- A) İtalya, On İki Ada'nın Türklere verilmesi konusunda tutum değiştirmiştir.
B) Trablusgarp Savaşı'nın başlamasında siyasi nedenler etkilidir.
C) Trablusgarp Savaşı, aynı zamanda teknolojik gelişmelerin yaşandığı bir savaştır.
D) Osmanlı'nın savaşı kaybetmesinde dış politikada yaşanan gelişmeler etkili olmuştur.

3. 20. yüzyıla başarısızlıklarla, ayrılıkçı ayaklanmalarla ve iktisadi bunalımlarla giren Osmanlı Devleti'nde halkın yöneticilere duyduğu güven azalmıştır. Özellikle Balkan coğrafyasında kaybedilen topraklarda azınlık durumuna düşen Türkler, Marmara ve Ege Bölgelerindeki bazı kentlere yerleşmeye başlamışlardır. Bu durum göç alan bu bölgelerde sağlık, güvenlik, barınma ve yiyecek problemlerini de beraberinde getirmiştir. Yaşanan bu sıkıntı ve çaresizlikler toplumsal uzlaşının yok olmasının önünü açarak toplumdaki birlik ve beraberlik duygularının zayıflamasına sebep olmuştur.

Yukarıda anlatılanlardan yola çıkarak Osmanlı Devleti ile ilgili çıkarımlardan hangisi yapılamaz?

- A) Osmanlı Devleti'nin yaşadığı bazı durumlar toplumsal huzursuzluklara neden olmuştur.
B) Osmanlı sınırları içerisinde olan bölgelere yapılan göçler, yeni sıkıntıların yaşanmasına neden olmuştur.
C) Osmanlı Devleti sınırları içerisinde yaşayıp ayrı devlet kurmak isteyen topluluklar vardır.
D) Düşünülen çareler, devleti yıkımdan kurtaramamıştır.

4. 1800'lü yılların ikinci yarısında dış borçlarını ödeyemeyeceğini ilan eden Osmanlı Devleti'ne karşı alacaklı devletler, alacaklarını tahsil edebilmek için Osmanlı vergi gelirlerinin büyük bir kısmına el koyan Düyun-u Umumiye İdaresi'ni kurmuşlardır.

Yukarıda verilen bilgiye göre Osmanlı Devleti ile ilgili yorumlardan hangisi yapılabilir?

- A) Mali unsurları bazı devletlerin denetimi altına girmiştir.
B) Ekonomisi, Avrupalı Devletlerin kontrolünde güçlendirilmeye çalışılmaktadır.
C) İktisadi bağımsızlık sağlanmıştır.
D) Yüz ölçümü küçülmeye başlamıştır.

TEST - 5

ÇÖZÜMÜ
GÖR

Uyanan Avrupa ve Sarsılan Osmanlı

1. II. Meşrutiyet'in ilan edilmesinde büyük role sahip olan İttihat ve Terakki Cemiyeti, I. Meşrutiyet'e göre meclis etkinliğini daha çok arttırmaya ve padişahın keyfi emir ve uygulamalarını engellemeye yönelik maddelerin padişah tarafından kabul edilmesini sağlamıştır. Ayrılıkçı ayaklanmaların ve toprak kayıplarının ancak bu şekilde sona ereceğine inanan İttihatçılar, Arnavutluk'un bağımsızlığını kazanması sonrasında büyük bir hayal kırıklığına uğramışlardır. Daha önceden Almanya ile dostane ilişkiler kurmaya başlayan İttihatçılar kaybedilen yerleri geri almanın ve devletin eski gücüne ulaşmasının tek koşulunun yaklaşmakta olan I. Dünya Savaşı'na girmek olduğu fikrini benimsediler.

Verilen metinde, Osmanlı Devleti'yle ilgili aşağıdaki çıkarımlardan hangisi yapılabilir?

- A) I. Dünya Savaşı'nda taraf olmayı kurtuluş ümidi olarak görenlerin olduğuna
B) Halkın yönetimdeki etkisinin arttırıldığına
C) II. Meşrutiyet'in, I. Meşrutiyet'e oranla daha baskıcı olduğuna
D) Yönetimdeki bazı kişilerin, olumsuz görülen gelişmelerin önüne geçebildiğine
2. Rusların Balkanlarda egemenlik kurma politikasına yönelik ortaya attığı Panславizm ideali sebebiyle kışkırttığı bazı Balkan ulusları, Osmanlı'nın İtalya ile mücadele etmesini fırsat bilerek Osmanlı'ya karşı savaş ilan etmişlerdir. Bulgaristan'ın başını çektiği gruba Yunanistan, Sırbistan ve Karadağ da katılmıştır. Osmanlı askerleri arasında siyasi görüş ayrılıklarının bulunması ve bunun neticesinde orduda görülen gruplaşmalar, savaşın kaybedilmesine ve düşmanın Çatalca'ya kadar ilerlemesine neden olmuştur. Barış istemek zorunda kalan Osmanlı Devleti, Doğu Trakya'yı kaybetmiştir. Savaş sonrasında yapılan antlaşmalar sonrasında Bulgaristan'ın en fazla toprak alan devlet olması, düşman grup içinde anlaşmazlığa neden olunca Osmanlı'ya karşı savaşan devletler, birbirleriyle mücadele etmeye başlamışlardır. Bu durumu fırsat bilen Osmanlı, en azından Doğu Trakya'yı geri almayı başarmıştır.

Yaşanan gelişmelerden hareketle aşağıdakilerden hangisine ulaşılamaz?

- A) Rusların menfaatleri, Osmanlı ile Balkan Devletleri arasındaki mücadeleleri gerekli kılmaktadır.
B) Ordunun içindeki anlaşmazlıklar Bulgaristan'ın en fazla toprak almasına neden olan gelişmelerde etkilidir.
C) Osmanlı, kaybettiği toprakları geri almak için bazı Balkan ulusları arasındaki çekişmelerden yararlanmıştır.
D) Rusya, savaşların sonunda Panславizm idealinden vazgeçmek zorunda kalmıştır.
3. Balkan Savaşları sonrasında Balkanlardaki egemenliği sona eren Osmanlı Devleti'nin prestiji hem yurt içinde hem yurt dışında sarsılmış oldu. Bu bölgede azınlık durumuna düşen Türkler, Anadolu'ya göç etmeye başladılar.

Buna göre Osmanlı Devleti ile ilgili yorumlardan hangisi yapılamaz?

- A) Osmanlı'nın Balkan Savaşlarından mağlubiyetle ayrıldığına
B) Osmanlı Devleti'nin itibarını kaybettiğine
C) Osmanlı'nın resmen sona erdiğine
D) Osmanlı'nın elinde kalan bölgelerde nüfus artışı yaşandığına