

KPSS

2022

**GENEL YETENEK
GENEL KÜLTÜR**



EZBERBOZAN
COĞRAFYA
SORU BANKASI



QR KODU OKUTARAK

PEGEMKAMPÜS

UYGULAMASINI İNDİR

SORULARIN ÇÖZÜM VİDEOLARINI HEMEN İZLE

Lütfen detaylı bilgi için ön sözü okuyunuz.

**TAMAMI
VIDEO ÇÖZÜMLÜ**



PEGEM

AKADEMİ



Komisyon

KPSS Coğrafya Soru Bankası

ISBN 978-0-2021-8878-2

Kitapta yer alan bölümlerin tüm sorumluluğu yazarına aittir.

© Pegem Akademi

Bu kitabın basım, yayım ve satış hakları Pegem Akademi Yay. Eğt. Dan. Hizm. Tic. AŞ'ye aittir. Anılan kuruluşun izni alınmadan kitabın tümü ya da bölümleri, kapak tasarımı; mekanik, elektronik, fotokopi, manyetik kayıt ya da başka yöntemlerle çoğaltılamaz, basılamaz ve dağıtılamaz. Bu kitap, T.C. Kültür ve Turizm Bakanlığı bandrolü ile satılmaktadır. Okuyucularımızın bandrolü olmayan kitaplar hakkında yayınevimize bilgi vermesini ve bandrolsüz yayınları satın almamasını diliyoruz.

Pegem Akademi Yayıncılık, 1998 yılındanMat bugüne uluslararası düzeyde düzenli faaliyet yürüten uluslararası akademik bir yayınevidir. Yayımladığı kitaplar; Yükseköğretim Kurulunca tanınan yükseköğretim kurumlarının kataloglarında yer almaktadır. Dünyadaki en büyük çevrimiçi kamu erişim kataloğu olan WorldCat ve ayrıca Türkiye'de kurulan Turcademy.com tarafından yayınları taranmaktadır, indekslenmektedir. Aynı alanda farklı yazarlara ait 1000'in üzerinde yayını bulunmaktadır. Pegem Akademi Yayınları ile ilgili detaylı bilgilere <http://pegem.net> adresinden ulaşılabilir.

20. Baskı: 2022, Ankara

Proje-Yayın: Nilay Balın

Dizgi-GrafikTasarım: Gülnur Öcalan

Kapak Tasarım: Pegem Akademi

Baskı: Vadi Grup Basım AŞ

Saray Mah. 126. Cad. No: 20/A

Kazan/ANKARA

(0312 802 00 53)

Yayıncı Sertifika No: 51818

Matbaa Sertifika No: 49180

İletişim

Shira Ticaret Merkezi, Macun Mahallesi 204 Cad.

No: 141/33, Yenimahalle/Ankara

Yayınevi: 0312 430 67 50

Dağıtım: 0312 434 54 24

Hazırlık Kursları: 0312 419 05 60

İnternet: www.pegem.net

E-ileti: pegem@pegem.net

WhatsApp Hattı: 0538 594 92 40

Sevgili Adaylar,

Bu kitap Kamu Personeli Seçme Sınavı (KPSS) Genel Kültür Testinde önemli bir yer tutan "Coğrafya" kapsamındaki 18 soruyu etkili bir şekilde çözebilmeniz amacıyla hazırlanmıştır.

Kitabımız, her soru için anlaşılır bir dilde hazırlanmış çözümlü anlatım ve açıklamalar içermektedir. Çalışmalarınız süresince QR kod ile erişebileceğiniz soru çözümlerinden yararlanmanız, konulara dair bilgilerinizi pekiştirmenizi ve konuları tüm ayrıntıları ile öğrenmiş olmanızı sağlayacaktır.


Soruların çeşitliliği tercih edilirken en çok zorlandığınız soru tipleri, ÖSYM'nin şimdiye kadar hazırladığı sınavlarda çıkmış ve bundan sonra hazırlayacağı sınavlarda da çıkabilecek soru tipleri referans alınmış ayrıca konuyu pekiştirmenize yardımcı olacak düzeyde hemen hemen tüm soru tiplerine değinilmiştir.

Yoğun bir araştırma ve çalışma süreci ile hazırlanmış olan bu kitapla ilgili görüş ve önerilerinizi bizimle pegem@pegem.net e-posta adresimizden veya **0 538 594 92 40** WhatsApp hattımız aracılığı ile paylaşabilirsiniz.

Kitabın çalışmalarınızda yararlı olması dileğiyle, KPSS'de ve meslek hayatınızda başarılar.

Pegem Akademi

Karekod okutmak için tavsiye edilen uygulamalar

QR Droid 

Qrafter 



Coğrafya sorularının çözüm videolarına ulaşmak için karekodu okutunuz.

İÇİNDEKİLER

Test - 1	Türkiye'nin Coğrafi Konumu - 1	1
Test - 2	Türkiye'nin Coğrafi Konumu - 2	5
Test - 3	Türkiye'de Dağlar, Ovalar ve Platolar	9
Test - 4	Türkiye'de Akarsuların Genel Özellikleri ve Akarsuların Oluşturduğu Yerçekilleri	13
Test - 5	Türkiye'de Yer Altı Kaynakları - Barajlar - Göller ve Denizler	17
Test - 6	Türkiye'de Diğer Yerçekilleri (Rüzgâr - Buzul - Karstik - Kıyı Tipleri)	21
Test - 7	Türkiye'de Toprak Oluşumu ve Toprak Tipleri	25
Test - 8	Tarama Testi - 1	29
Test - 9	Türkiye'nin İklimi ve Bitki Örtüsü - 1	33
Test - 10	Türkiye'nin İklimi ve Bitki Örtüsü - 2	37
Test - 11	Türkiye'nin İklimi ve Bitki Örtüsü - 3	41
Test - 12	Türkiye'de Doğal Afetler (Erozyon - Heyelan - Çığ - Sel vb.)	45
Test - 13	Türkiye'nin Nüfus Özellikleri - 1	49
Test - 14	Türkiye'nin Nüfus Özellikleri - 2	53
Test - 15	Türkiye'de Tarım - 1	57
Test - 16	Türkiye'de Tarım - 2	62
Test - 17	Türkiye'de Tarım - Hayvancılık - Ormancılık	66
Test - 18	Türkiye'de Madenler ve Enerji Kaynakları	70
Test - 19	Türkiye'de Sanayi ve Ticaret	74
Test - 20	Türkiye'de Turizm ve Ulaşım	78
Test - 21	Tarama Testi - 2	82
Test - 22	Karadeniz Bölgesi	86
Test - 23	Marmara Bölgesi	90
Test - 24	Ege Bölgesi	94
Test - 25	Akdeniz Bölgesi	98
Test - 26	Tarama Testi - 3	102
Test - 27	Güneydoğu Anadolu Bölgesi	106
Test - 28	Doğu Anadolu Bölgesi	110
Test - 29	İç Anadolu Bölgesi	114

İÇİNDEKİLER

Test - 30	Tarama Testi - 4	118
Test - 31	Karma Test - 1	122
Test - 32	Karma Test - 2	126
Test - 33	Karma Test - 3	130
Test - 34	Karma Test - 4	134
Test - 35	Genel Tarama Testi.....	138
Test - 36	Deneme - 1	145
Test - 37	Deneme - 2	150
Test - 38	Deneme - 3	155
Test - 39	Deneme - 4	160
Test - 40	Deneme - 5	165
Test - 41	Deneme - 6	170
Test - 42	Deneme - 7	175
Test - 43	Deneme - 8	180
Test - 44	Deneme - 9	187
Test - 45	Deneme - 10	192
	Cevap Anahtarı.....	198



C O Ğ R A F Y A

Türkiye'nin Coğrafi Konumu - 1

1

1. Türkiye'de güneyden kuzeye doğru gidildikçe güneş ışınlarının düşme açısının daralmasına bağlı olarak birtakım değişiklikler ortaya çıkar. Bu değişiklikler enlem etkisi olarak açıklanır.

Buna göre, aşağıdakilerden hangisi enlem etkisi ile açıklanamaz?

- A) Diyarbakır'ın yıllık ortalama sıcaklığının Kars'tan yüksek olması
B) Karadeniz'in Akdeniz'den daha soğuk olması
C) Kışın Samsun'un Ankara'dan sıcak olması
D) Toroslar'da kalıcı kar sınırının Kuzey Anadolu Dağları'ndan yüksek olması
E) Antalya'da yaz turizminin İzmir'den daha uzun sürmesi

2.

- I. Gürcistan
II. Bulgaristan
III. İran
IV. Ermenistan

Yukarıda numaralandırılmış ülkelerden hangilerinin Türkiye ile birlikte aynı denize kıyısı vardır?

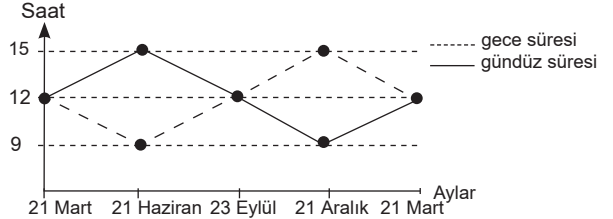
- A) I ve II
B) I ve III
C) I ve IV
D) II ve III
E) III ve IV

3. Van ve Hakkari'nin yerel saatlerinin ulusal saatten 2 dakika geri olduğu tespit edilmiştir.

Buna göre, bu illerle ilgili olarak aşağıdakilerden hangisi söylenemez?

- A) Öğle vakitleri aynıdır.
B) Boylamları aynıdır.
C) 45°D meridyenine göre batıdadır.
D) Gün içinde ulusal saatle 12.00'de cisimlerin gölge boyu en kısa olmaz.
E) Başlangıç Meridyeni'ne uzaklıkları aynıdır.

4. Aşağıdaki grafikte Türkiye'de yıl içindeki gece-gündüz süresi değişimi gösterilmiştir.



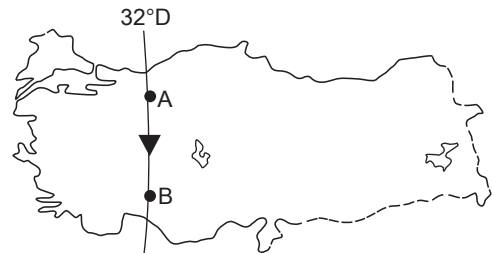
Yalnızca tablodaki bilgilere göre;

- I. 21 Mart - 23 Eylül arası dönemde gece-gündüz süre farkı sürekli artar.
II. 21 Aralık tarihinde en uzun gece yaşanır.
III. 21 Haziran ve 21 Aralık tarihlerinde gece-gündüz süre farkları eşittir.
IV. 21 Aralık tarihinden itibaren gündüzler uzamaya başlar.
V. 21 Mart ve 23 Eylül'de gece-gündüz süreleri eşittir.

numaralandırılmış ifadelerden hangisine ulaşılamaz?

- A) I
B) II
C) III
D) IV
E) V

5.



Yukarıdaki Türkiye haritasında A'dan B'ye gidildiğinde;

- I. yerel saat,
II. Başlangıç Meridyeni'ne uzaklık,
III. Güneş ışınlarının düşme açısı

ifadelerinden hangilerinde değişim gözlenmez?

- A) Yalnız I
B) Yalnız II
C) Yalnız III
D) I ve III
E) II ve III

6. "Türkiye bulunduğu konum itibarıyla 2. ve 3. saat dilimlerinde yer alır. Bu durum açıklanır." **diyen bir coğrafyacı aşağıdakilerden hangisi ile cümlesini devam ettirirse ifadesini kanıtlamış olur?**

- A) Doğu Yarım Küre ülkesi olması ile
B) 30°D ve 45°D meridyenlerinin ülkemizden geçmesi ile
C) Başlangıç Meridyeni'ne göre doğuda olması ile
D) Doğusu ile batısı arasında 76 dakikalık zaman farkı olması ile
E) Doğusu ile batısı arasında 19 meridyenlik fark olması ile

7.

- I. Dört mevsimin belirgin olarak yaşanması
II. Cephe yağışlarının etkili olması
III. En uzun gecenin 21 Aralık'ta yaşanması
IV. Batı rüzgarlarının etkisi altında olması

Yukarıda numaralandırılmış ifadelerden hangileri Türkiye'nin orta kuşakta yer aldığını kanıtlar?

- A) I ve II B) I ve IV C) III ve IV
D) I, II ve IV E) II, III ve IV

8. **Aşağıdaki illerin hangilerinde yerel saat ile ulusal saat arasındaki fark en az ve en fazla olur?**

	En az	En fazla
A)	Erzurum	İzmir
B)	İzmit	Diyarbakır
C)	Ankara	Van
D)	Eskişehir	Malatya
E)	Konya	Sivas

9.

- I. Sinop'ta yıl içinde gölge boyunun Antalya'dan uzun olması
II. Bitlis'de yıllık sıcaklık ortalamasının İzmir'den düşük olması
III. Karadeniz'in tuzluluk oranının Akdeniz'den düşük olması
IV. Akdeniz'de yaz turizmi süresinin Ege'den daha uzun olması
V. Sinop'ta güneşin doğuş-batış süresinin Adana'dan uzun olması

Yukarıdaki numaralandırılmış ifadelerden hangisi üzerinde mutlak konumun etkili olduğu söylenemez?

- A) I B) II C) III D) IV E) V

10. Bir ülkenin jeopolitik konumu; o ülkenin coğrafi unsurlarını, dünya güç dengesini sürekli ve çok yönlü etkileyecek tarzda kullanabilmesi olarak nitelendirilir.

Buna göre, aşağıdakilerden hangisi Türkiye'nin jeopolitik önemini yansıtmaz?

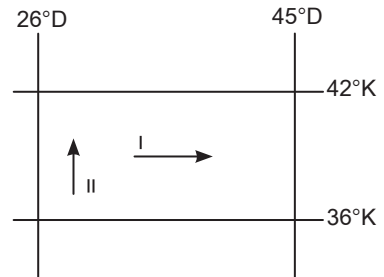
- A) İstanbul ve Çanakkale Boğazlarına sahip olması
B) Orta Doğu petrollerine yakın olması
C) Dünya transit ticaretinde önemli bir yere sahip olması
D) Alp-Himalaya kıvrım kuşağında yer alması
E) Üç kıta arasında köprü durumunda olması

11. Türkiye Kuzey Yarım Küre'de yer alan bir ülkedir.

Aşağıdakilerden hangisi bu duruma kanıt oluşturmaz?

- A) Güneyden kuzeye doğru sıcaklık ortalamalarının azalması
B) En uzun gündüzün 21 Haziran'da yaşanması
C) Karadeniz'in tuzluluk oranının Akdeniz'den az olması
D) 2. ve 3. saat dilimleri içerisinde yer alması
E) Güneyden kuzeye doğru çizgisel hızın azalması

12.



Türkiye'de I ve II nolu doğrultular boyunca gidildikçe yıllık ortalama sıcaklıklar azalmaktadır.

Bu durumu ortaya çıkaran temel faktörler aşağıdaki seçeneklerden hangisinde doğru verilmiştir?

	I	II
A)	Yükselti	Enlem
B)	Boylam	Enlem
C)	Karasallık	Boylam
D)	Yükselti	Karasallık
E)	Enlem	Yükselti

ÇÖZÜMLER

1. Türkiye'de güneyden kuzeye doğru gidildikçe güneş ışınlarının düşme açısının daralmasına bağlı olarak birtakım değişiklikler ortaya çıkar. Bu değişiklikler enlem etkisi olarak açıklanır.

Verilen seçenekler incelendiğinde;

- Diyarbakır'ın yıllık ortalama sıcaklığının Kars'tan yüksek olması,
- Karadeniz'in Akdeniz'den daha soğuk olması,
- Antalya'da yaz turizminin İzmir'den daha uzun sürmesi,
- Toroslar'da kalıcı kar sınırının Kuzey Anadolu Dağları'ndan yüksek olması

bilgileri Türkiye'nin enleminin sonucunda ortaya çıkan değişikliklerdir. Ancak kış mevsiminde Samsun'un Ankara'dan daha sıcak olması denizellik ve karasallığın sıcaklık üzerindeki etkisine kanıttır.

Cevap C

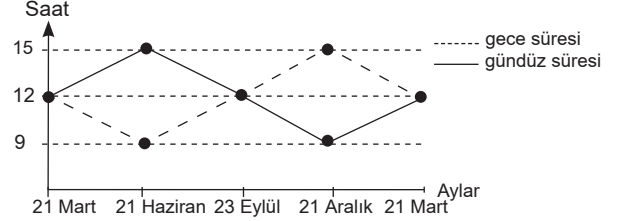
2. Türkiye göreceli konumu itibarıyla üç tarafı denizlerle kaplı bir yarımadadır. Verilen ülkelerle Gürcistan ve Bulgaristan'ın Karadeniz'e kıyısı bulunduğu için Türkiye ile birlikte aynı denize kıyısı bulunmaktadır.

Cevap A

3. Van ve Hakkari'nin yerel saatlerinin ulusal saatten 2 dakika geri olduğu tespit edilmiştir. Buna göre Van ve Hakkari aynı boylam üzerindedir ve aynı boylam üzerindeki merkezlerin yerel saatleri ile öğle vakitleri aynıdır. Yerel saatleri 2 dakika geri olduğuna göre, 45°D boylamına göre daha batıda yer alır ve göle boylarının en kısa olduğu an ulusal saate göre 12.02 olur. Ancak bu iki kent Başlangıç Meridyeni'ne uzaklıkları aynı değildir. Çünkü Ekvator'dan kutuplara doğru gidildikçe iki meridyen arası mesafe daralır. Dolayısıyla da Van, Hakkari'ye göre Başlangıç Meridyeni'ne daha yakındır.

Cevap E

4.



Grafikte Türkiye'de yıl içindeki gece-gündüz süresi değişimi gösterilmiştir.

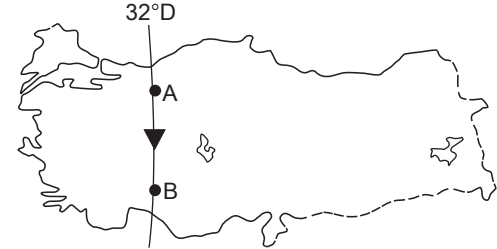
Yalnızca tablodaki veriler dikkate alındığında;

- 21 Aralık tarihinde en uzun gece yaşanır.
- 21 Haziran ve 21 Aralık tarihlerinde gece-gündüz süre farkları eşittir.
- 21 Aralık tarihinden itibaren gündüzler uzamaya başlar.
- 21 Mart ve 23 Eylül'de gece-gündüz süreleri eşittir.

bilgilerine ulaşılır. Ancak I. numaralı öncüdeki 21 Mart - 23 Eylül arası dönemde gece-gündüz süre farkı sürekli artar ifadesi yanlıştır. 21 Mart - 21 Haziran arası dönemde sürekli artar, 21 Haziran - 23 Eylül arası dönemde sürekli azalır.

Cevap A

5.



Türkiye haritasında verildiği gibi aynı boylam üzerinde yer alan A merkezinden B merkezine doğru hareket edildiğinde sadece yerel saatlerin değişmediğini söyleyebiliriz. Başlangıç Meridyeni'ne olan uzaklık kutuplara doğru hareket edildiğinde azalır. Güneş ışınlarının düşme açısı ise enlemle ilgili olduğu için güneye doğru hareket edildiğinde değişir ancak aynı boylam üzerinde yerel saatlerde değişim görülmez.

Cevap A

6. "Türkiye bulunduğu konum itibarıyla 2. ve 3. saat dilimlerinde yer alır. Bu durum açıklanır." bilgisini kanıtlamak isteyen bir coğrafyacı noktalarla boş bırakılan yeri Türkiye'nin boylam değerleri içerisinde bulunan ulusal saat dilimleri yani 30°D ve 45°D ülkemizden geçmesi ile ilişkilendirir. 0 meridyeninden doğuya doğru her 15 meridyen geçildiğinde 1 saat dilimi geçmiş olur. Dolayısıyla Türkiye 2. ve 3. saat dilimlerinde yer alır diyebiliriz.

Cevap B

7. Türkiye mutlak konumu itibarıyla "Kuzey Yarım Küre'de Yengeç Dönencesi'nin Kuzeyinde Orta Kuşak'ta" ve 26°D - 45°D meridyenleri arasında yer alır. Türkiye orta kuşakta bulunduğu için dört mevsim belirgin olarak yaşanır, cephe yağışları etkili olur ve sürekli rüzgarlardan batı rüzgarları etkisi altındadır. Türkiye'de en uzun gecenin 21 Aralık'ta yaşanması Kuzey Yarım Küre'de yer almasının bir sonucudur. Çünkü 21 Aralık'ta Kuzey Yarım Küre'de yer alan tüm merkezler en uzun gece sürelerini yaşar.

Cevap D

8. Türkiye'de 2016'dan beri yıl boyunca 45°D'da yer alan Iğdır ulusal saat olarak kullanılır. Yerel saatle ulusal saat arasındaki farkın en az olması için 45°D meridyenine en yakın olan il Erzurum, bu farkın en fazla olması için ise 45°D meridyenine en uzak olan il İzmir seçilmelidir.

Cevap A

9. Öncüllerde verilen bilgiler dikkate alındığında;
- Sinop'ta yıl içinde gölge boyunun Antalya'dan uzun olması,
 - Karadeniz'in tuzluluk oranının Akdeniz'den düşük olması,
 - Akdeniz'de yaz turizmi süresinin Ege'den daha uzun olması,
 - Sinop'ta güneşin doğuş-batış süresinin Adana'dan uzun olması

Türkiye'nin mutlak konumunun sonucunda ortaya çıkan durumlarıdır. Ancak Bitlis'de yıllık sıcaklık ortalamalarının İzmir'den düşük olması yükselti, karasallık ve denizellik ile ilgilidir.

Cevap B

10. Bir ülkenin jeopolitik konumu; o ülkenin coğrafi unsurlarını dünya güç dengesini sürekli ve çok yönlü etkileyecek tarzda kullanabilmesi olarak nitelendirilir.

Buna göre Türkiye'nin;

- İstanbul ve Çanakkale Boğazlarına sahip olması,
- Orta Doğu petrollerine yakın olması,
- Dünya transit ticaretinde önemli bir yere sahip olması

jeopolitik önemini yansıtır. Ancak Türkiye'deki dağların oluşum şekli, göreceli konumunu yansıtsa da jeopolitik önemini yansıtmaz.

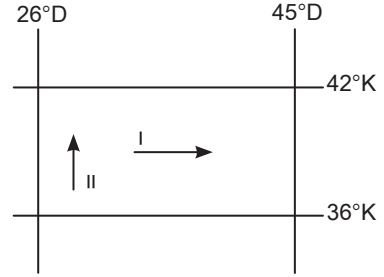
Cevap D

11. Türkiye Kuzey Yarım Küre'de yer alır. Bu durumun sonucunda ise;

- güneyden kuzeye doğru sıcaklık ortalamalarının azalması,
 - en uzun gündüzün 21 Haziran'da yaşanması,
 - Karadeniz'in tuzluluk oranının Akdeniz'den az olması,
 - güneyden kuzeye doğru çizgisel hızın azalması
- durumları ortaya çıkar. Ancak Türkiye'nin 2. ve 3 saat dilimleri arasında yer alması boylamların sonuçları arasında incelenir.

Cevap D

- 12.



Türkiye'de I ve II nolu doğrultular boyunca gidildikçe yıllık ortalama sıcaklıklar azalmaktadır. Bu durumun ortaya çıkmasındaki faktörler şunlardır: I. numaralı ok yönünde hareket edildiğinde yükseltinin artmasıyla sıcaklık azalırken II. numaralı ok yönünde hareket edildiğinde enlemin etkisiyle sıcaklık azalır.

Cevap A