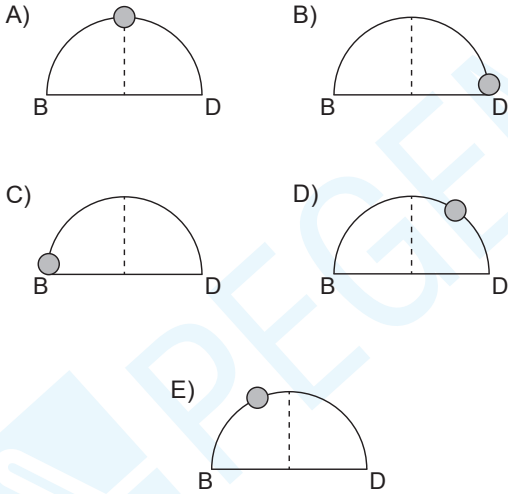


1. Paralel boylarının Türkiye'de kuzeye doğru gidildikçe kısalması üzerinde etkili olan faktörün, aşağıdakilerden hangisi üzerinde etkili olduğu söylenemez?

- A) Meridyenler arası mesafenin kuzeye doğru daralması  
B) Türkiye'de yerleşme üst sınırının Rusya'dan yüksek olması  
C) Hatay'da gurup ve tan sürelerinin kısa olması  
D) Gölge boylarının kuzeye doğru uzaması  
E) Türkiye'nin iç kısımlarında karasallığın etkili olması

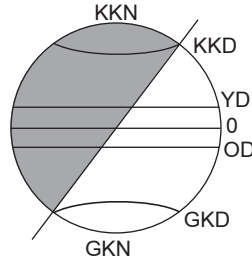
2. 21 Mart tarihinde Greenwich'te saat 10.00 iken Türkiye'de  $30^{\circ}D$  boylamında bulunan İzmit'te Güneş'in ufuk düzlemindeki konumu aşağıdakilerin hangisinde doğru olarak verilmiştir?



3. Aşağıdakilerden hangisi yaklaşık olarak aynı boylam üzerinde yer alan Karabük ve Ankara için ortak bir özellik değildir?

- A) 23 Eylül'de güneşin doğuş saatleri  
B) Başlangıç meridyenine olan uzaklıkları  
C) Yerel saatleri  
D) Gün içerisinde gölge boyunun en kısa olduğu anları  
E) Öğle vakitleri

- 4.



Dünya güneşin karşısında şekildeki konumda iken verilen kentlerden hangisinin gündüz süresi daha uzundur?

- A) Ardahan B) Kayseri C) Trabzon  
D) Muğla E) İzmir

5. Eksen eğikliğine bağlı olarak yıl içinde gece-gündüz süreleri uzayıp kısalır.

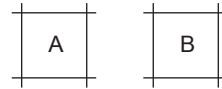
Aşağıda verilen kentlerden hangisinde gece-gündüz sürelerinde değişim daha fazladır?

- A) Van B) Çanakkale C) Sinop  
D) Hatay E) Konya

6. Türkiye'nin mutlak konum değerleri düşünüldüğünde aşağıda verilenlerden hangisi ülkemiz sınırları içerisinde yer almaktadır?

- A)  $25^{\circ}$  Doğu -  $25^{\circ}$  Kuzey  
B)  $38^{\circ}$  Doğu -  $38^{\circ}$  Kuzey  
C)  $45^{\circ}$  Doğu -  $45^{\circ}$  Kuzey  
D)  $30^{\circ}$  Doğu -  $21^{\circ}$  Kuzey  
E)  $35^{\circ}$  Doğu -  $26^{\circ}$  Kuzey

- 7.

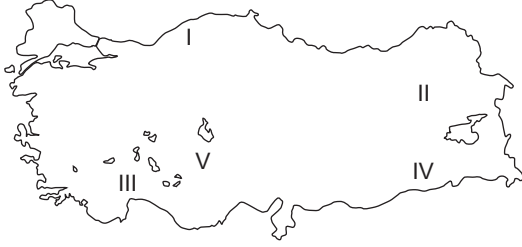


Türkiye'de yer alan izdüşüm alanları eşit olan A ve B bölgelerinin paralel değerleri aynıdır.

Bu iki bölge için aşağıdakilerden hangisi kesinlikle doğrudur?

- A) Kutup noktasına olan kuş uçuşu uzaklıkları eşittir.  
B) İkisinin de Karadeniz'e kıyısı vardır.  
C) Başlangıç meridyenine uzaklıkları eşittir.  
D) İkisi de aynı bölgede yer alır.  
E) Yerel saatleri aynıdır.

8.



Güneş ışınlarını yıl içerisinde aynı açıyla alan merkezlerde gündüz süreleri de aynıdır.

**Bu durum haritadaki merkezlerden hangilerinin gündüz sürelerinin birbirine daha yakın olmasını sağlamıştır?**

- A) I ve II                      B) II ve IV                      C) III ve IV  
D) III ve V                      E) I ve V

9. Aşağıda verilen ülkemiz ile ilgili özelliklerden hangisi enlem-sıcaklık ilişkisi ile açıklanamaz?

- A) Lodos rüzgârının sıcaklık ortalamasını artırması  
B) Karadeniz'in tuzluluk oranının en az olması  
C) Yerleşme üst sınırının kuzeye doğru gidildikçe deniz seviyesine yaklaşması  
D) Ocak ayında Antalya'nın sıcaklık ortalamasının İzmir'den daha fazla olması  
E) Deniz melteminin serinletici etkide olması

10. Türkiye 36° - 42° kuzey paralelleri ile 26° - 45° doğu meridyenleri arasında yer alan bir orta kuşak ülkesidir.

**Aşağıda verilenlerden hangisi ülkemizin yalnızca orta kuşakta yer almasından kaynaklanan bir durumdur?**

- A) 21 Haziran tarihinde güneş ışınlarının en büyük açıyla gelmesi  
B) Kuzey yönlü rüzgârların sıcaklığı azaltması  
C) Dört mevsimi belirgin olarak yaşaması  
D) Bakı yönünün her zaman güney olması  
E) Gölge boylarının kuzeye doğru uzaması

11. Kayseri'de yer alan bir gözlemci, gittiği ilde gece-gündüz arasındaki süre farkının daha az, yerel saatin daha geri olduğunu gözlemlemiştir.

**Gözlemci Kayseri'den hangi yöne doğru hareket etmiştir?**

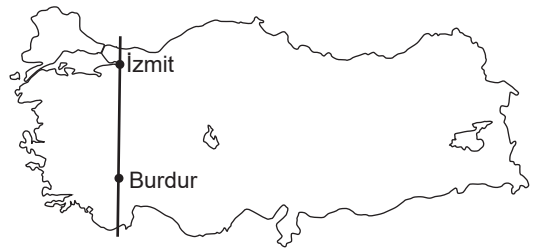
- A) Kuzeybatı                      B) Kuzeydoğu                      C) Güneydoğu  
D) Güneybatı                      E) Doğu

12. Türkiye'de yer alan X ve Y şehirleri farklı boylam üzerinde yer alırlar, X şehrinin başlangıç meridyeni ile arasındaki zaman farkının fazla olduğu bilinmektedir.

**Buna göre aşağıda verilenlerden hangisi bu merkezler için doğru bir bilgidir?**

- A) İki merkezin de II. saat diliminde yer aldığı  
B) Y merkezinde güneşin daha önce battığı  
C) Verilen iki merkezinde Ege Bölgesi'nde yer aldığı  
D) 21 Mart tarihinde X merkezinde güneşin daha önce doğduğu  
E) Verilen merkezlerin aynı enlem üzerinde yer aldığı

13.



Yukarıdaki haritada verilen Izmit ve Burdur yaklaşık olarak aynı boylam üzerinde yer alırlar.

**Buna göre bu merkezler için aşağıdakilerden hangisi yıl boyunca aynı olan özelliktir?**

- A) Güneşin doğuş saatleri  
B) Gün içinde gölge boylarının en kısa olduğu anlar  
C) Güneş ışınlarının yıl içerisindeki geliş açıları  
D) Güneş karşısından geçiş hızları  
E) Greenwich'e olan uzaklıkları

1. Aşağıdakilerden hangisi Türkiye'nin göreceli konumunun sonuçlarından biri değildir?
- A) İklim çeşitliliğinin fazla olması  
B) Karın yerde kalma süresinin batıdan doğuya doğru artması  
C) Deniz yolu ulaşımının gelişmiş olması  
D) Ortalama yükseltisinin fazla olması  
E) Gölge yönünün yıl boyunca kuzeyi göstermesi
2. Türkiye, yükseltisi ve engebeli arazi yapısı fazla olan bir coğrafyada yer almaktadır. Bu durum göreceli konumun sonuçlarını etkilemektedir.  
**Buna göre aşağıdaki göreceli konum sonuçlarından hangisi yükselti ve engebeli arazi yapısının sonuçlarından biri değildir?**
- A) Tektonik deprem riski fazladır.  
B) Yol yapım maliyeti yüksektir.  
C) Akarsuların akış hızı fazladır.  
D) Gerçek alan ile iz düşüm alan arasındaki fark fazladır.  
E) Mikroklima alanları fazladır.
3. Aşağıdakilerden hangisi Türkiye'nin jeopolitiği ile ilgili değildir?
- A) Hazar petrolünün Avrupa kıtasına taşınmasında köprü oluşturması  
B) Küresel ticarete deniz ve hava yollarında kavşak noktalarından biri olması  
C) Ham madde sahibi Orta Doğu ülkeleri ile sanayileşmiş Avrupa ülkeleri arasında transit ticaret güzergâhı olması  
D) Özellikle doğu sınırına yakın yerlerde pek çok volkanik dağa sahip olması  
E) Pek çok ülke için hayati değere sahip olan akarsulara sahip olması
4. Türkiye'nin jeopolitik önemi üzerinde aşağıdaki etkenlerden hangisinin önemi daha azdır?
- A) Asya, Avrupa ve Afrika kıtalarının birbirlerine en çok yaklaştığı noktada yer alması  
B) Aynı anda farklı iklimlerin yaşanması ve tarım ürünlerinin çeşitlilik göstermesi  
C) Deniz ticareti açısından önemli boğazlara sahip olması  
D) Orta Doğu gibi sıcak çatışma bölgesine hâkim noktada olması  
E) Petrol ihraç eden ülkelere komşu olması

5. Türkiye-Yunanistan sınırı ile ilgili aşağıda verilen bilgilerden hangisi yanlıştır?
- A) Önemli bir bölümü kıta sahanlığı olarak denizlerden geçmektedir.  
B) Kara sınırının büyük bölümü doğal sınır özelliği gösterir.  
C) Türkiye'yi, Avrupa'ya bağlayan tek sınır kapısı bu ülke iledir.  
D) Edirne şehri ülkeye sınır oluşturan tek ildir.  
E) İpsala Sınır Kapısı en önemli gümrük kapısıdır.
6. Aşağıdaki uluslararası ve bölgesel sorunlardan hangisi Türkiye'yi ilgilendirmesi yönüyle diğerlerinden farklıdır?
- A) Irak Sorunu  
B) Ege Denizi Sorunu  
C) Kıbrıs Sorunu  
D) Kosova Sorunu  
E) Suriye Sorunu
- 7.
- I. Mardin  
II. Muş  
III. Ağrı  
IV. Şırnak  
V. Kilis
- Yukarıda verilen illerden hangisinin karasal alanda doğrudan komşu ülkelerle sınırı bulunmamaktadır?**
- A) I B) II C) III D) IV E) V
8. Aşağıdakilerden hangisi, Türkiye'nin özel konumuyla ilgilidir?
- A) Dört mevsimin belirgin olarak yaşanması  
B) Deniz suyu sıcaklığının İzmir'de Antalya'dan düşük olması  
C) Ülke genelinde cephesel yağışların görülmesi  
D) Batı rüzgarlarının ülkemizde etkili olması  
E) Batıdan doğuya doğru gidildikçe sıcaklık ortalamasının azalması

9. Aşağıda verilenlerden hangisi Türkiye'nin özel konumundan kaynaklanmaz?

- A) Aynı anda dört mevsim özelliklerinin yaşanması
- B) Akdeniz iklimi özelliklerinin yaşanıyor olması
- C) Yağış miktarının kıyı kesimlerde fazla olması
- D) Kara ve demir yollarında önemli bir kavşak olması
- E) Doğuya doğru gidildikçe karasallık şiddetinin artması

10. Türkiye'nin komşuları ve sınır özellikleri ile ilgili olarak aşağıda verilen yargılardan hangisi yanlıştır?

- A) Irak sınırının büyük bir kısmını Dicle Nehri çizer.
- B) En yeni oluşturulan kara sınırı Suriye iledir.
- C) İran sınırının önemli bir kesimi doğal sınır özelliği gösterir.
- D) En uzun kara sınırı Suriye iledir.
- E) Trakya'da Bulgaristan ve Yunanistan ile kara sınırı bulunur.

11. Türkiye'nin genç oluşumlu bir arazi yapısı üzerinde yer alması göreceli konumu özellikleri üzerinde etkili olmuştur.

Aşağıdakilerden hangisi bu durumun bir sonucu değildir?

- A) Akarsuların rejimleri düzensizdir.
- B) Tektonik deprem riski yüksektir.
- C) Genç volkanik arazilere sahiptir.
- D) Sıcak su kaynakları bakımından zengindir.
- E) Linyit, tuz ve bor yataklarına sahiptir.

12. Akarsular üzerine inşa edilmiş baraj gölleri, o akarsuyun geçtiği ülkeler için bir tehdit unsuru olarak kullanılabilir. Örneğin bir barajın kapakları açıldığında akarsu yolunu izler ve geniş alanlarda taşkına sebep olabilir.

Türkiye barajları düşünüldüğünde aşağıdaki ülkelerden hangisi üzerinde bu tehdit daha çok görülmektedir?

- A) Ermenistan
- B) İran
- C) Suriye
- D) Irak
- E) Bulgaristan

13. Aşağıdakilerden hangisi Türkiye'nin üye olduğu uluslararası ekonomik örgütlerden biri değildir?

- A) Dünya Ticaret Örgütü (WTO)
- B) Ekonomik İşbirliği Teşkilatı (EKO)
- C) Uluslararası Para Fonu (IMF)
- D) Ekonomik Kalkınma ve İşbirliği Teşkilatı (OECD)
- E) Kuzey Atlantik Antlaşması Örgütü (NATO)

14.

- I. Bor yatakları
- II. Transit ticaret yolları
- III. Komşu ülke sayısı
- IV. Bakı yönü
- V. Alaca karanlık süreleri

Yukarıda verilen özelliklerden hangisi ülkemizin özel konumu ile ilgili değildir?

- A) I ve II
- B) II ve III
- C) II ve IV
- D) III ve IV
- E) IV ve V

15. Aşağıda verilen kıyı tiplerinden hangisi Türkiye'nin mutlak (matematiksel) konumunun sonuçlarıyla ilgili olarak ülkemizde görülmez?

- A) Fiyord
- B) Boyuna
- C) Dalmaçya
- D) Ria
- E) Haliç

16. Aşağıdakilerden hangisi Türkiye'nin göreceli konumunun sonuçları arasında yer almaz?

- A) Orta Doğu ülkeleri ile sınır olması
- B) Bor yataklarına sahip olması
- C) Dağlık alanlardaki kırsal yerleşmelerin çoğunlukla güney yamaçlarda toplanması
- D) Batısından doğusuna doğru yükseltinin artması
- E) Suriye ile en uzun sınıra sahip olması