

KPSS

2023

**GENEL YETENEK
GENEL KÜLTÜR**



COĞRAFYA

TAMAMI ÇÖZÜMLÜ

30 DENEME

**SORULARIN ÇÖZÜMLERİNE
ULAŞMAK İÇİN QR KODU OKUTUNUZ**



PEGEM AKADEMİ



KPSS COĞRAFYA TAMAMI ÇÖZÜMLÜ 30 DENEME

Komisyon

ISBN 978-0-2022-0111-5

Kitapta yer alan bölümlerin tüm sorumluluğu yazarlarına aittir.

Bu kitabın basım, yayım ve satış hakları Pegem Akademi Yay. Eğt. Dan. Hizm. Tic. AŞ'ye aittir. Anılan kuruluşun izni alınmadan kitabın tümü ya da bölümleri, kapak tasarımı; mekanik, elektronik, fotokopi, manyetik kayıt ya da başka yöntemlerle çoğaltılmaz, basılamaz ve dağıtılamaz. Bu kitap, T.C. Kültür ve Turizm Bakanlığı bandrolü ile satılmaktadır. Okuyucularımızın bandrolü olmayan kitaplar hakkında yayınevimize bilgi vermesini ve bandrolsüz yayınları satın almamasını diliyoruz.

Pegem Akademi Yayıncılık, 1998 yılından bugüne uluslararası düzeyde düzenli faaliyet yürüten uluslararası akademik bir yayınevidir. Yayınladığı kitaplar; Yükseköğretim Kurulunca tanınan yükseköğretim kurumlarının kataloglarında yer almaktadır. Dünyadaki en büyük çevrimiçi kamu erişim kataloğu olan WorldCat ve ayrıca Türkiye'de kurulan Turcademy.com tarafından yayınları taranmaktadır, indekslenmektedir. Aynı alanda farklı yazarlara ait 1000'in üzerinde yayını bulunmaktadır. Pegem Akademi Yayınları ile ilgili detaylı bilgilere <http://pegem.net> adresinden ulaşılabilir.

63. Baskı: Kasım 2022, Ankara

Proje-Yayın: Deniz Şahan
Dizgi-Grafik Tasarım: Gülnur Öcalan
Kapak Tasarımı: Pegem Akademi

Baskı: Vadi Grup Basım AŞ
Saray Mah. 126 Cad. No: 20/A
Kazan/ANKARA
Tel: (0312) 802 00 53-54

Yayıncı Sertifika No: 51818
Matbaa Sertifika No: 49180

İLETİŞİM



Shira Ticaret Merkezi, Macun Mahallesi 204 Cad.
No: 141/33, Yenimahalle/Ankara



Yayınevi: 0312 430 67 50

Dağıtım: 0312 434 54 24

Hazırlık Kursları: 0312 419 05 60



www.pegem.net



pegem@pegem.net



0538 594 92 40



[pegemakademi](https://www.instagram.com/pegemakademi)

Sevgili Kamu Personeli Adayları,

KPSS Genel Kültür testinde önemli bir yer tutan “Coğrafya” kapsamındaki sorular, yıllara göre analiz edilmiş ve bu analiz sonuçlarına göre kitabınızda yer alan denemeler oluşturulmuştur.

Sınavda başarılı olabilmek için yeterli bilgi düzeyinin yanı sıra çok sayıda soruyu anlayarak hızlı bir şekilde cevaplamak gerekmektedir. Bu koşul göz önünde bulundurularak sınavda karşınıza çıkabilecek soru türleri çözümleri ile birlikte sizlere sunulmuştur. Çözümlere ulaşabilmeniz için aşağıda yer alan bildirim inceleyebilir, kitaba ilişkin sorularınızı pegem@pegem.net adresine mail yolu ile ya da 0538 594 92 40 numaralı telefonumuza WhatsApp yolu ile iletebilir olduğunuzu belirtiriz.

KPSS yayınlarında hissedilen önemli bir eksikliğı gidermek ve adaylara daha nitelikli ve kapsamlı bir kaynak sunmak amacıyla böyle bir çalışma hazırlanmıştır. Kitaptaki denemeler hazırlanırken her sorunun KPSS formatına bire bir uygun olmasına özen gösterilmiş, çıkması muhtemel tüm konulara da gerektiğı kadar yer verilmiştir.

“KPSS Coğrafya 30 Deneme” kitabımızın hepimize faydalı olacağını umuyor, Pegem Akademi Yayıncılık olarak bütün KPSS adaylarına başarılar diliyoruz.

Pegem Akademi Yayıncılık

*Coğrafya Sorularının
çözümleri için QR
kodu okutunuz.*



*Karekod okutmak için tavsiye
edilen uygulamalar*



QR Droid



Qrafter

*pegem.net'ten ulaşmak için
<http://depo.pegem.net/2023-gygcografya-30deneme-cozum.pdf>*

Deneme 01.....	1
Deneme 02.....	4
Deneme 03.....	7
Deneme 04.....	11
Deneme 05.....	14
Deneme 06.....	17
Deneme 07.....	20
Deneme 08.....	23
Deneme 09.....	26
Deneme 10.....	29
Deneme 11.....	32
Deneme 12.....	36
Deneme 13.....	39
Deneme 14.....	43
Deneme 15.....	46
Deneme 16.....	49
Deneme 17.....	52
Deneme 18.....	55
Deneme 19.....	58
Deneme 20.....	61
Deneme 21.....	64
Deneme 22.....	67
Deneme 23.....	70
Deneme 24.....	73
Deneme 25.....	77
Deneme 26.....	80
Deneme 27.....	83
Deneme 28.....	86
Deneme 29.....	90
Deneme 30.....	94
Cevap Anahtarı.....	97

1. Aşağıdakilerden hangisi, Türkiye'nin göreceli (özel) konumuyla ilgilidir?

- A) Antalya'dan İzmir'e gidildikçe ortalama deniz suyu sıcaklıklarının düşmesi
- B) Alacakaranlık süresinin Sinop'ta Hatay'dan fazla olması
- C) Çanakkale'de ortalama sıcaklıkların Ankara'dan yüksek olması
- D) Ankara'da kuzeyden esen rüzgârların sıcaklığı azaltması
- E) Mersin'in ortalama sıcaklığının Samsun'dan fazla olması

2.



Yukarıdaki haritada numaralandırılarak gösterilen alanların hangisinde volkanik araziler yaygın olarak görülür?

- A) I
- B) II
- C) III
- D) IV
- E) V

3.

- I. Ladin – Doğu Karadeniz İklimi
- II. Kızılcım – Akdeniz İklimi
- III. Kayın – Karasal İklim

Türkiye'nin coğrafi özellikleri dikkate alındığında, yukarıdaki ağaç türleri ile yaygın olarak görüldüğü iklim tipi eşleştirmelerinden hangileri yanlıştır?

- A) Yalnız I
- B) Yalnız II
- C) Yalnız III
- D) I ve II
- E) II ve III

4. Aşağıdakilerden hangisi Türkiye'deki set göllerinden biri değildir?

- A) Tortum Gölü
- B) Abant Gölü
- C) Büyük Çekmece Gölü
- D) İznik Gölü
- E) Bafa Gölü

P
E
G
E
M
A
K
A
D
E
M
i

5. Karadeniz'e kıyısı olan ülkelerin Akdeniz'e açılmaları için kullanabilecekleri en kısa yol Çanakkale ve İstanbul boğazlarından geçmektedir.

Aşağıdaki ülkelerden hangisi Akdeniz'e açılmak için Boğazları kullanmak zorunda olan ülkelerden biri değildir?

- A) Bulgaristan
- B) Yunanistan
- C) Gürcistan
- D) Ukrayna
- E) Romanya

6. Doğu Karadeniz Bölümü ile ilgili;

- I. Kıyılarında geniş yapraklı ormanlar yaygındır.
- II. Eğim değeri yüksek araziler yaygındır.
- III. En fazla yaz mevsiminde yağış alır.
- IV. Akarsuların havzaları geniştir.

İfadelerinden hangileri doğrudur?

- A) I ve II
- B) I ve III
- C) II ve III
- D) II ve IV
- E) III ve IV

7.

- Ispiranca
- Ilgaz Dağı
- Menderes
- Kırşehir
- Bitlis

Yukarıda verilen alanlarda bulunan ortak özellik aşağıdakilerden hangisidir?

- A) Yaygın karstik araziler
- B) Lav örtülü alanlar
- C) Masif araziler
- D) Yüksek çığ riski
- E) Kaliteli linyit yatakları

8. Türkiye'nin nüfus özellikleri ile ilgili olarak aşağıda verilenlerden hangisi doğrudur?

- A) Nüfus ülkenin iç kesimlerinde toplanmıştır.
- B) Biga Yöresi kavşak noktasında yer aldığı için yoğun nüfusludur.
- C) Nüfusun büyük bir kısmı kırsal alanlarda yaşar.
- D) Taşeli Yöresi'nde yaz sıcaklıklarının yüksek olmasından dolayı nüfus tenhadır.
- E) Doğu Karadeniz kıyı kuşağı yoğun nüfusludur.

9. Aşağıda verilen alanlardan hangisi ülkemizde yaylacılık faaliyetinin yoğun yapıldığı alanlardan biridir?

- A) Orta Toroslar
- B) Yıldız Dağları
- C) Uludağ
- D) Mardin Dağları
- E) Kaz Dağları

10. Sanayi faaliyetlerinin gelişmişliği nüfus yoğunluğunu da beraberinde getirmektedir.

Buna göre aşağıdaki alanlardan hangisindeki nüfus artışı, demir-çelik işletmelerinin varlığına bağlı olarak gerçekleşmiştir?

- A) Artvin – Murgul
- B) Karadeniz Ereğlisi
- C) Balıkesir – Bandırma
- D) Marmara Ereğlisi
- E) Konya – Seydişehir

11.

- Yağ ve iplik yapımında ham madde olarak kullanılır.
- Türkiye'nin dünyada ön sırada yer aldığı bir sanayi kolunda önemli oranda kullanılır.
- Üretiminde Şanlıurfa, Aydın, Diyarbakır ön sıralarda yer alan illerdir.

Yukarıda bazı özellikleri verilen tarım ürünü aşağıdakilerden hangisidir?

- A) Keten
- B) Ayçiçeği
- C) Mısır
- D) Pamuk
- E) Antep fıstığı

12. Aşağıda verilen enerji kaynaklarından hangisinin ülkemiz elektrik enerjisi üretimindeki payı daha azdır?

- A) Kömür
- B) Doğal gaz
- C) Hidrolik
- D) Rüzgâr
- E) Jeotermal

13. Aşağıda verilen akarsulardan hangisinin hidroelektrik üretimi daha azdır?

- A) Fırat
B) Çoruh
C) Yeşilirmak
D) Gediz
E) Ceyhan

14. Aşağıda verilen alanlardan hangisinde ülkemizin önemli bor yatakları yer almaz?

- A) Eskişehir – Kırka
B) Balıkesir – Susurluk
C) Niğde – Bor
D) Bursa – Kestelek
E) Kütahya – Emet

15. Hazar Denizi'nden çıkan petrolü Azerbaycan, Gürcistan ve Türkiye üstünden Adana Ceyhan'daki limana taşıyan dünyanın en büyük ikinci petrol boru hattıdır. 1700 km'lik bir uzunluğa sahip olan hat, Ermenistan ile olan sorunlar yüzünden, yolu uzatarak Gürcistan üzerinden Türkiye sınırlarına girer.

Yukarıda başlıca özellikleri verilen boru hattı aşağıdakilerden hangisidir?

- A) Mavi Akım
B) Trans Anadolu
C) Yumurtalık
D) Bakü – Tiflis – Ceyhan
E) Türkiye – Yunanistan – İtalya

16.

- I. En eski kara sınırına sahip olan komşumuzdur.
II. Yüz ölçümü Türkiye'nin yüz ölçümünden büyüktür.
III. Türkiye ile en fazla sınır kapısına sahip olan ülkedir.
IV. Fırat Irmağı ülkemizden çıkarak bu ülkenin topraklarını sular.

Yukarıda verilen özelliklerden hangileri komşumuz İran'a aittir?

- A) I ve II
B) I ve III
C) II ve III
D) II ve IV
E) III ve IV

P
E
G
E
M
A
K
A
D
E
M
İ

17. Aşağıda verilen turistik mekân ve bulunduğu il eşleştirmelerinden hangisi yanlıştır?

- A) İzmir - Efes Antik Kenti
B) Amasya - Kral Mezarları
C) Şanlıurfa - Balıklıgöl
D) Muğla - Hierapolis Antik Kenti
E) Kars - Ani Harabeleri

18.



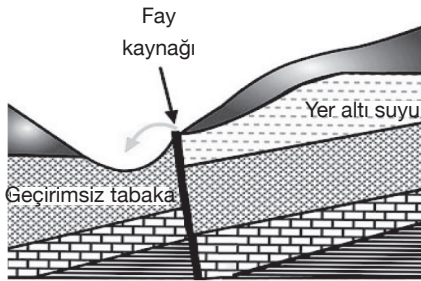
Haritada gösterilen numaralı alanlardan hangisinde demir yolu ulaşımına sahip bir liman bulunmaz?

- A) I
B) II
C) III
D) IV
E) V

1. Aşağıda verilen Mersin ile Sinop ili arasındaki farklılıklardan hangisi enlem ile açıklanamaz?

- A) Sıcaklık ortalamaları
- B) Deniz suyu tuzluluk oranı
- C) Yağışın en fazla düştüğü mevsim
- D) Orman üst sınırı
- E) Kalıcı kar başlangıç sınırı

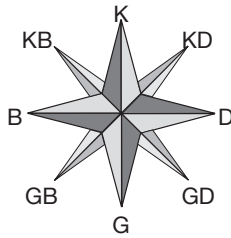
2. Türkiye kaynak suları açısından çeşitlilik gösteren bir ülkedir.



Yukarıda yer alan kaynak çeşidinin ülkemizde yaygın olduğu bir yöre düşünüldüğünde aşağıda verilenlerden hangisinin bu yöreye ait olması beklenmez?

- A) Yıl boyunca yapılabilen turizm faaliyetleri
- B) Deprem riskinin fazla olması
- C) Mineral bakımından zengin su kaynaklarının varlığı
- D) Tektonik salınımların yaşanması
- E) Lav çıkışlarına rastlanması

3.



Yukarıdaki şekilde ülkemizdeki bir merkeze ait rüzgâr gülü gösterilmiştir.

Yalnızca yer şekillerinin rüzgâra yön verici etkisi dikkate alındığında bu rüzgâr frekans gülünün aşağıdaki merkezlerden hangisine ait olması beklenir?

- A) Konya
- B) Aydın
- C) İzmir
- D) İstanbul
- E) Çanakkale

4.



Yukarıdaki haritada ok yönünde hareket eden bir yolcunun sırasıyla hangi delta ovalarını görmesi beklenir?

- A) Bakırçay, Gediz, Silifke
- B) K. Menderes, B. Menderes, Silifke
- C) B. Menderes, Menemen, Çarşamba
- D) Gediz, K. Menderes, Çukurova
- E) Gediz, Bakırçay, Silifke

P
E
G
E
M
A
K
A
D
E
M
İ

5. Fiziksel ufalanma, gece ile gündüz arasındaki sıcaklık farkının fazla olduğu merkezlerde hızlıdır.

Buna göre, aşağıdaki yörelerin hangisinde fiziksel ufalanmanın daha hızlı olması beklenir?

- A) Yukarı Kızılırmak Bölümü
- B) Adana Bölümü
- C) Güney Marmara Bölümü
- D) Batı Karadeniz Bölümü
- E) Yıldız Dağları Bölümü

6. Bağlı nem; belli bir sıcaklıkta havada bulunan su buharı miktarının, havanın o sıcaklıkta taşıyabileceği maksimum su buharı miktarına oranıdır.

Buna göre, aşağıdaki merkezlerden hangisinde yıl boyunca bağlı nem oranı en fazladır?

- A) Doğu Karadeniz Bölümü
- B) Kıyı Ege Bölümü
- C) Orta Karadeniz Bölümü
- D) Antalya Bölümü
- E) İçbatı Anadolu Bölümü

7. Türkiye 36° - 42° kuzey enlemleri arasında yer almaktadır.

Aşağıdakilerden hangisi Türkiye'nin sahip olduğu 36° - 42° enlem aralığının, iklimine etkilerinden biri değildir?

- A) Akdeniz iklim bölgesinde yer alması
B) Dört mevsimin belirgin yaşanması
C) Cephesel yağışların görülmesi
D) Batı rüzgârlarının etkisinde olması
E) Fön rüzgârlarının oluşması

8. Bir bölgede yaşayan toplam kişi sayısının bölge yüz ölçümüne bölünmesiyle aritmetik nüfus yoğunluğu elde edilir. Ülke ortalamasına göre bu alanlar yoğun ve tenha nüfuslu bölgeler olarak gruplandırılır.



Yukarıdaki haritada işaretlenmiş alanların hangisi ülkemizdeki tenha nüfuslu bölgelere örnektir?

- A) I B) II C) III D) IV E) V

9. **Aşağıdakilerden hangisi Türkiye'deki yoğun nüfuslu illerden biri değildir?**

- A) Gaziantep
B) Yalova
C) Bursa
D) Erzurum
E) Samsun

10. **Aşağıda yer alan merkezlerden hangisinin nüfuslanmasında diğerlerinden farklı bir neden etkili olmuştur?**

- A) İskenderun
B) Raman
C) Ereğli
D) Seydişehir
E) Çeşme

11. **Aşağıdaki haritada bazı tarım ürünlerinin ülkemizde yoğun olarak yetiştirildiği yöreler gösterilmiştir.**



Buna göre, haritada gösterilen tarım ürünleri aşağıdakilerden hangisidir?

	I	II	III
A)	Soya	Zeytin	Ayçiçeği
B)	Ayçiçeği	Buğday	Turunçgiller
C)	Muz	İncir	Mercimek
D)	Pirinç	Zeytin	Mercimek
E)	Mısır	Pamuk	Zeytin

12. **Doğu Karadeniz'in kıyı kesiminde her mevsim yağışlı, yaz ayları serin, kış ayları ise ılıman geçen bir iklim yaşanır.**

Buna göre, aşağıda verilen tarım ürünlerinden hangisinin Karadeniz'in doğu kıyılarında yetiştirilme olanağı güçtür?

- A) Çay B) Fındık C) Pamuk
D) Mısır E) Kivi

13. **Aşağıda üç farklı tarım ürününün verilen illerde Türkiye üretimindeki payları yaklaşık olarak verilmiştir.**

- I. Rize %70
II. Konya %9
III. Adana %29

İllerin üretim oranlarına dikkat edildiğinde bu tarım ürünlerinin aşağıdakilerden hangileri olması beklenir?

	I	II	III
A)	Çay	Buğday	Turunçgiller
B)	Çay	Buğday	Pamuk
C)	Fındık	Üzüm	Tütün
D)	Pirinç	Arpa	Üzüm
E)	Fındık	Fasulye	Anason

14. Haritada ülkemizdeki bir hayvancılık faaliyetinde önde gelen alanlar gösterilmiştir.



Dağılışı gösterilen hayvancılık faaliyetinin aşağıdakilerden hangisi olması beklenir?

- A) Sığır yetiştiriciliği
B) Arıcılık
C) Balıkçılık
D) İpek böcekçiliği
E) Kıl keçisi yetiştiriciliği

15. Türkiye elektrik üretimini doğal gaz, kömür, hidrolik, rüzgâr, jeotermal gibi çok çeşitli enerji kaynaklarından elde etmektedir.

Buna göre,

- I. taş kömürü,
II. doğal gaz,
III. linyit,
IV. rüzgâr

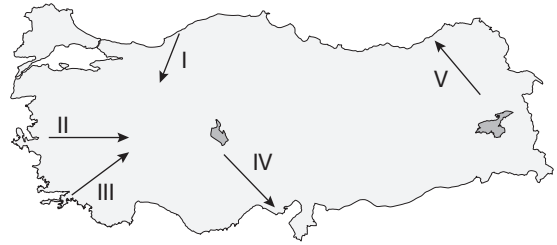
gibi kaynakların hangilerinden elde edilen elektrik ülkemizdeki mevcut enerji kaynağı potansiyeline göre daha ekonomiktir?

- A) Yalnız I
B) I ve II
C) I ve III
D) II ve III
E) III ve IV

16. Aşağıdaki sanayi kuruluşlarından hangisinin yıllık üretim miktarının iklim koşullarına bağlı olarak değişmesi beklenir?

- A) Otomotiv
B) Seramik
C) Çimento
D) Cam
E) Yağ

17. Türkiye'nin göreceli konum özelliklerine bağlı olarak ulaşım sistemini etkileyen birçok doğal faktör bulunmaktadır. Örneğin, dağların genellikle doğu-batı doğrultusunda uzanması, kuzey-güney yönünde ulaşımı zorlaştırmaktadır.



Buna göre, yukarıdaki haritada numaralandırılmış doğrultulardan hangisinde yapılan kara yolunun birim maliyeti daha azdır?

- A) I
B) II
C) III
D) IV
E) V

18. Aşağıda yer alan merkezlerden hangisi UNESCO'nun hem kültürel hem de doğal miras alanına sahiptir?

- A) Hierapolis-Pamukkale
B) Bergama Çok Katmanlı Kültürel Peyzaj Alanı
C) Nemrut Dağı
D) Belkıs Harabeleri
E) Arslantepe Höyüğü