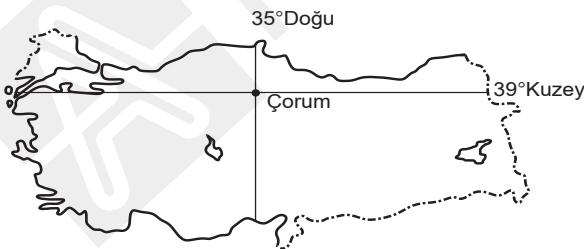


1. Aşağıdakilerden hangisi Türkiye'nin mutlak (matematiksel) konumu ile açıklanamaz?
- A) Kuzeye doğru yer çekiminin artması
B) Doğuda yerel saatin daha ileri olması
C) Batı rüzgârlarının etkili olması
D) Yıl boyunca gölgenin öğlen vakti kuzeyi göstermesi
E) Ulaşımın daha çok doğu-batı yönünde gelişmesi

2. Aşağıdakilerden hangisi Türkiye'nin Orta kuşakta yer aldığını kanıtlamaz?
- A) Batı rüzgârlarının etkili olması
B) Akdeniz iklim tipinin görülmesi
C) Dört mevsimin belirgin olarak yaşanması
D) Dağların güney yamaçlarının daha fazla ısınması
E) Cephesel yağışların görülmesi

3. Aşağıdakilerden hangisi Türkiye'nin Kuzey Yarımküre'de yer aldığını kanıtlar?
- A) Cephe yağışlarının görülmesi
B) İklim çeşitliliğinin fazla olması
C) Kuzeye gidildikçe alacakaranlık süresinin artması
D) Akdeniz iklimi kuşağı içerisinde yer alması
E) Gölge boyunun hiçbir zaman 0 (sıfır) olmaması

4. Aşağıda Çorum ilinin mutlak (matematiksel) konumu gösterilmiştir.



Buna göre, 21 Haziran tarihinde aşağıdaki illerden hangisinde Çorum'a göre yerel saat ileri gündüz süresi ise daha kısa olur?

- A) Artvin B) Bursa C) Çanakkale
D) Diyarbakır E) Sinop

- 5.

- I. Cephe yağışları görülür.
II. Ortalama yükselti fazladır.
III. Güneş ışınları dik açı ile gelmez.
IV. Yarımada ülkesidir.

Yukarıdaki özelliklerden hangileri Türkiye'nin mutlak (matematiksel) konumu ile açıklanamaz?

- A) Yalnız I B) Yalnız II C) Yalnız III
D) I ve III E) II ve IV

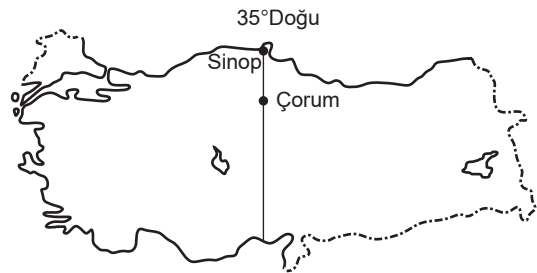
6. Haritada Çanakkale ve Erzurum il merkezlerinden geçen paralel gösterilmiştir.



Buna göre, aşağıdakilerden hangisinin bu merkezler için yıl boyunca aynı olduğu söylenemez?

- A) Yer çekimi
B) Tan süresi
C) Yerel saatleri
D) Öğle vakti oluşan gölge boyları
E) Çizgisel hızları

7. Aşağıdaki haritada Sinop ve Çorum il merkezlerinden geçen meridyen gösterilmiştir.



Buna göre aşağıdakilerden hangisinin bu merkezler için yıl boyunca aynı olduğu söylenebilir?

- A) Çizgisel hızları
B) Öğlen vakitleri
C) Yer çekimleri
D) Güneş ışınlarının yıl içerisindeki geliş açıları
E) Gündüz süreleri

8. Türkiye'de 2016 yılında geri saat uygulamasından vazgeçilerek yıl boyunca ileri saat uygulaması sabitlenmiştir.

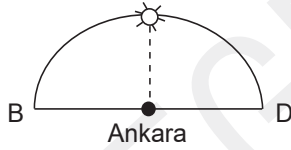
Buna göre aşağıda verilen saat dilimlerinden hangisinin ortasından geçen boylamın yerel saati yıl boyunca ulusal saat olarak kullanılmaktadır?

- A) 1. saat dilimi B) 4. saat dilimi C) 5. saat dilimi
D) 2. saat dilimi E) 3. saat dilimi

9. Aşağıdakilerden hangisi 21 Aralık tarihinde Türkiye'de yaşanan olaylardan biri değildir?

- A) Yıl içerisindeki en kısa gölge boyu oluşur.
B) Yıl içerisindeki en uzun gece süresi yaşanır.
C) Kuzeye gidildikçe gündüz süresi azalır.
D) Güneş ışınları yıl içerisindeki en eğik açı ile gelir.
E) Kış mevsimi yaşanır.

10.



21 Mart tarihinde Güneş Ankara'da şekildeki konumda iken aynı anda Erzurum'da aşağıdaki konumlardan hangisinde görülür?

- A) B) C) D) E)

11. Türkiye'de gece gündüz süreleri yıl içerisinde değişkenlik gösterir.

Aşağıda verilen tarih aralıklarından hangisinde gündüz süresi gece süresinden daha uzun ve gündüz süresi giderek kısalmaktadır?

- A) 30 Ocak-15 Şubat
B) 25 Haziran-10 Temmuz
C) 23 Nisan-19 Mayıs
D) 28 Eylül-12 Ekim
E) 21 Mart-6 Nisan

12. Aşağıdakilerden hangisi Türkiye'nin mutlak (matematiksel) konumunun sonucu değildir?

- A) Aynı anda dört mevsim özelliklerinin yaşanması
B) Cephe yağışlarının oluşması
C) Güneş ışınlarının dik açı ile gelmemesi
D) Kuzeye gidildikçe gölge boyunun uzaması
E) Dağların güney yamaçlarının daha sıcak olması

13. Aşağıdaki haritada bazı kentlerin Türkiye üzerindeki konumları gösterilmiştir.



Buna göre haritadaki kentlerden hangisi 21 Haziran tarihinde Ankara'ya göre daha uzun gece süresine sahiptir ve yerel saati daha geridir?

- A) Aydın B) Hatay C) Van
D) İstanbul E) Trabzon

1.

- Türkiye, Doğu ve Batı Kültürleri arasında geçiş bölgesidir.
- Transit taşımacılıkta kavşak konumundadır.

Buna göre, söz konusu durumların oluşmasında Türkiye'nin aşağıda verilen özelliklerinden hangisi etkili olmuştur?

- A) Asya, Avrupa ve Afrika kıtalarının kesişim alanında olması
- B) Komşularının farklı dinlere inanan insanlardan oluşması
- C) Boğazlara sahip olması
- D) Yarım ada ülkesi olması
- E) Yüksek ve engebeli bir ülke olması

2. **Aşağıdakilerden hangisi Türkiye'nin karasal alanda komşusu olduğu ülke sayısıdır?**

- A) 5 B) 3 C) 8 D) 11 E) 19

3. **Aşağıdaki akarsulardan hangisi Türkiye'nin jeopolitik önemini daha çok arttırıcı bir özelliğe sahiptir?**

- A) Kızılırmak
- B) Meriç
- C) Asi
- D) Fırat
- E) Ceyhan

4. Türkiye'yi doğrudan veya dolaylı yoldan ilgilendiren sorunlar bulunmaktadır.

Aşağıdakilerden hangisi Türkiye'yi doğrudan ilgilendiren sorunlardan biridir?

- A) Bosna- Hersek Sorunu
- B) Suriye Sorunu
- C) Filistin Sorunu
- D) Karabağ Sorunu
- E) Kosova Sorunu

5. Türkiye'nin üç tarafı denizlerle çevrili olmasına rağmen denizel iklim iç kesimlere pek fazla sokulamaz.

Bu durumun oluşmasında Türkiye'nin aşağıda verilen özelliklerinden hangisi etkili olmuştur?

- A) Kıyısı olan denizlerin büyük olmaması
- B) Dağların kıyı çizgisine uzanış doğrultusu
- C) Platoların yaygın olması
- D) Orta kuşak ülkesi olması
- E) Kıvrım dağlarının yaygın olması

6. Bir ülkenin; kıtalara, okyanuslara, denizlere, boğazlara, ticaret yollarına göre konumu ile yer şekilleri, yükseltisi, yer altı ve yer üstü zenginlik kaynakları özel (göreceli) konumunu belirler.

Buna göre, aşağıdakilerden hangisi Türkiye'nin özel (göreceli) konumuyla açıklanamaz?

- A) Avrupa ile Asya kıtalarını birbirine bağlayan köprü konumunda olması
- B) Üç tarafının denizlerle çevrili olması
- C) Yükseltisinin batıdan doğuya doğru artması
- D) Aynı anda farklı iklimlerin yaşanması
- E) Doğusunda yerel saatin ileri olması

7. • En eski sınır çizgisine sahip olan,
• Yüz ölçümü ülkemizden büyük olan,
• Doğrudan kara sınırimızın bulunduğu,

komşu ülkemiz aşağıdakilerden hangisidir?

- A) Suriye B) Irak C) Rusya
D) İran E) Gürcistan

8. **Türkiye'nin kıyılarından iç kesimlere doğru gidildikçe aşağıdaki değişikliklerden hangisi meydana gelmez?**

- A) Karlı gün sayısı azalır.
- B) Yıllık sıcaklık farkı artar.
- C) Orman oranı azalır.
- D) Yağış miktarları azalır.
- E) Nem oranı azalır.

9. Türkiye'nin siyasi sınırları düşünülüğünde aşağıda verilen ülkelerden hangileri ile sınırının büyük kısmını akarsular oluşturur?

- A) Bulgaristan\Gürcistan
- B) Yunanistan\Ermenistan
- C) İran\Irak
- D) Suriye\Nahcivan
- E) Yunanistan\Bulgaristan

10.

- I. Iğdır'da pamuk
- II. Aydın'da zeytin
- III. Anamur'da muz

Yukarıda verilen tarım ürünlerinden hangileri bölgelerin yerel (mikroklima) iklimlerinin sonucu olarak yetiştirmektedir?

- A) Yalnız I
- B) Yalnız II
- C) I ve III
- D) I ve II
- E) II ve III

11. Aşağıdakilerden hangisi Türkiye'nin özel (göreceli) konumundan etkilenen özelliklerinden biri değildir?

- A) Yükselti
- B) Maden çeşitliliği
- C) Jeotermal kaynakları
- D) Gölge yönü
- E) Ulaşım sistemleri

12. Türkiye'de bazı şehirler komşu ülkeler ile sınır bağlantısı olan kapılara sahiptir. Bu özellikleri sayesinde pek çok avantajdan yararlanmaktadır.

Buna göre aşağıda verilen illerden hangisinin sınır komşusu olan ülke sayısı diğerlerinden fazladır?

- A) Kilis
- B) Ağrı
- C) Iğdır
- D) Hakkâri
- E) Van

13. Sınır bölgelerinde yapılan ticaret yer yer yöre insanın temel geçim yöntemi olarak karşımıza çıkmaktadır. Türkiye'nin de sınır bölgelerinde insanlar yoğun olarak sınır ticareti ile geçinmektedir.

Buna göre günümüzde Türkiye'nin hangi ülke ile olan sınır ticaretleri durma noktasına gelmiştir?

- A) İran
- B) Gürcistan
- C) Suriye
- D) Yunanistan
- E) Bulgaristan

14. Yer şekillerinin engebeli olduğu alanlarda gerçek alan ile izdüşüm alan arasındaki fark fazladır.



Buna göre yukarıdaki haritada numaralandırılarak verilen alanların hangisinde gerçek alan ile izdüşüm alan arasındaki fark en azdır?

- A) I
- B) II
- C) III
- D) IV
- E) V

15. Samsun ili Ankara'nın daha kuzeyinde yer almaktadır. Enlem etkisi göz önüne alındığında Samsun'un, Ankara'dan daha soğuk olması gerekirken Samsun'un yıllık sıcaklık ortalaması Ankara'nın yıllık sıcaklık ortalamasından yüksektir.

Buna göre, söz konusu durumun oluşmasının temel nedeni aşağıdakilerden hangisidir?

- A) Bakı durumu
- B) Denizellik
- C) Enlem farkı
- D) Boylam farkı
- E) Bitki örtüsü

1.



Haritada gösterilen merkezlerden hangileri arasındaki sıcaklık ortalaması farklılığında temel sebep enlemidir?

- A) Çanakkale-Batman
- B) Batman-Samsun
- C) Samsun-Antalya
- D) Antalya-Batman
- E) Antalya-Afyon

2. Aşağıdaki komşu ülkelerden hangisi Akdeniz'e açılabilmek için ülkemizin boğazlarından geçmek zorundadır?

- A) Bulgaristan
- B) Suriye
- C) Yunanistan
- D) İran
- E) Irak

3.



Haritada ▼ ile gösterilen merkezler ile aşağıdaki bilgiler eşleştirildiğinde hangisi dışarda kalır?

- A) Güneşin en erken doğduğu yer
- B) Gölge boyunun yıl boyunca en kısa olduğu yer
- C) Alacakaranlık süresinin en uzun olduğu yer
- D) Yerel saatin en geri olduğu yer
- E) Gölge yönünün yıl boyunca güney olduğu yer

4. Yapacağı gözlemler için Antalya'da güneşin doğuş ve batış süresini yeterli bulmayan bir kişi aşağıdaki şehirlerden hangisine giderse bu sürenin yıl boyunca daha uzun olduğunu gözlemler?

- A) Iğdır
- B) Mersin
- C) Bursa
- D) Bartın
- E) Hakkâri

5.



Aşağıdakilerden hangisi haritada verilen merkezlerin ortak özelliği değildir?

- A) Yıl içerisindeki gölge yönleri
- B) Gündüz süreleri
- C) Yıl içerisindeki gölge boyları
- D) Yıllık sıcaklık ortalamaları
- E) Ekvator'a kuş uçuşu uzaklıkları

6. Bir ülkenin kıtalara, okyanuslara, denizlere, boğazlara, ticaret yollarına göre konumu ile yer şekilleri, yükseltisi, yeraltı ve yerüstü zenginlik kaynakları; özel (göreceli) konumunu belirler.

Buna göre, aşağıdakilerden hangisi Türkiye'nin özel (göreceli) konumuyla açıklanamaz?

- A) Maden çeşitliliğinin fazla olması
- B) Üç tarafının denizlerle çevrili olması
- C) Aktif fay hatlarına sahip olması
- D) Aynı anda farklı iklimlerin yaşanması
- E) Yıl içerisinde sıcaklık değişimlerinin belirgin olması

7. Özel (göreceli) konumdan etkilenen faktörlerden biri de yükseltidir. Türkiye'de yükselti batıdan doğuya doğru gidildikçe artmaktadır.

Aşağıdakilerden hangisi bu duruma bağlı olarak ortaya çıkan sonuçlardan değildir?

- A) Sıcaklık ortalamalarının Ankara'dan Erzurum'a gidildikçe azalması
- B) Erzincan'da tarım ürünlerinin Eskişehir'e göre daha geç olgunlaşması
- C) Güncel buzullara batıdaki dağlardan daha çok doğudaki dağlarda rastlanması
- D) Van'da güneşin Konya'ya göre daha erken doğması
- E) Hakkâri'de kar yağışının Şanlıurfa'dan fazla olması

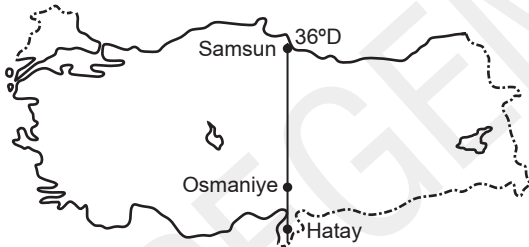
8. Türkiye'nin güneyinden kuzeyine gidildikçe aşağıdaki değişikliklerden hangisi meydana gelmez?

- A) Gölge boyu uzar.
- B) Gölge yönü değişir.
- C) Gündoğumu süresi uzar.
- D) Çizgisel hız azalır.
- E) Paralel daireleri küçülür.

9. Aşağıda verilen ülkelerden hangisi ile ülkemizin doğrudan sınırı bulunmaz?

- A) Irak
- B) İran
- C) Suriye
- D) Azerbaycan
- E) Bulgaristan

10.



Haritada gösterilen merkezlerde Güneş'in aynı anda doğup batması aşağıda verilen zamanlardan hangisinde mümkündür?

- A) 21 Haziran
- B) 25 Mayıs
- C) Yıl boyunca
- D) 1 Ocak
- E) 23 Eylül

11. Aşağıdakilerden hangisi Türkiye'nin özel (göreceli) konumundan etkilenen özelliklerinden biri değildir?

- A) Yükselti ortalaması
- B) Maden çeşitliliği
- C) Deprem olasılığı
- D) Yağış miktarı
- E) Gölge boyu

12. Türkiye'nin mutlak ve göreceli konumu aşağıda verilen özelliklerden hangisini birlikte etkiler?

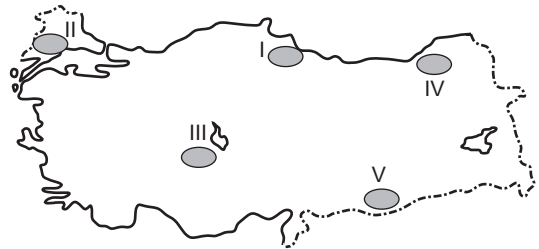
- A) Çizgisel hız
- B) Gölge yönü
- C) Sıcaklık ortalaması
- D) Alacakaranlık süresi
- E) Gündüz süresi

13. Türkiye'nin de sınır bölgelerinde insanlar yoğun olarak sınır ticareti yaparak geçim sağlamaktadır.

Aşağıda verilenlerden hangisi bu sınır illerine örnek gösterilemez?

- A) Ağrı
- B) Gaziantep
- C) Edirne
- D) Bitlis
- E) Artvin

14. Özel (göreceli) konum koşullarına göre yer şekillerinin engebeli olduğu alanlarda gerçek alan ile izdüşüm alan arasındaki fark fazladır.



Haritada numaralandırılarak verilen alanların hangisinde gerçek alan ile iz düşüm alan arasındaki fark en fazladır?

- A) I
- B) II
- C) III
- D) IV
- E) V

1. Aşağıda verilen platolardan hangisi deniz seviyesine daha yakındır?

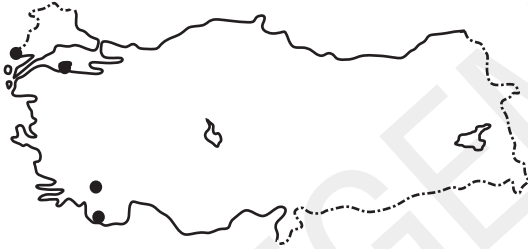
- A) Haymana Platosu
- B) Bozok Platosu
- C) Şanlıurfa Platosu
- D) Kocaeli Platosu
- E) Uzunyayla Platosu

2. Türkiye'de ova çeşitliliği fazladır.

Aşağıda verilen ovalardan hangisi tektonik, delta ve karstik ova oluşumu sıralamasına örnektir?

- A) Silifke – Tefenni – Ergene
- B) Elmalı – Bafra – Dikili
- C) Altınbaşak – Aksaray – Erbaa
- D) Niksar – Menemen – Tefenni
- E) Bafra – Ergene – Niksar

3.



Haritada gösterilen alanları ziyaret eden bir kişi aşağıdaki yer şekillerinden hangisini göremez?

- A) Delta Ovası
- B) Tombolo
- C) Karstik Ova
- D) Volkan Konisi
- E) Dalmaçya Kıyı Tipi

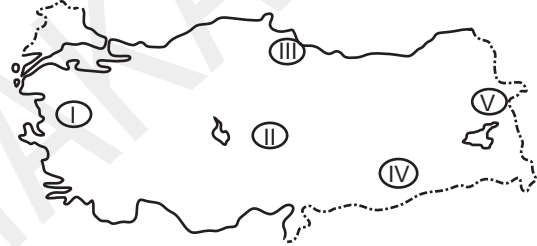
4. Aşağıdaki dağlardan hangisinin oluşumu diğerlerinden farklıdır?

- A) Kazdağı
- B) Bozdağlar
- C) Aydın Dağları
- D) Menteşe Dağları
- E) Yıldız Dağları

5. Aşağıdakilerden hangisi Türkiye'deki volkanik konilerin özelliklerinden biri değildir?

- A) Genel olarak Orta ve Doğu Anadolu'da yaygındır.
- B) Yükselteleri fazla olduğu için hepsinde güncel buzul bulunur.
- C) Fay hatları ile paralellik gösterirler.
- D) Ülkemizin en yüksek dağı bu türde oluşuma sahiptir.
- E) Aktiflik açısından riskleri düşüktür.

6.



Yukarıdaki haritada gösterilen alanların hangisinde volkanizma ile oluşmuş yer şekline rastlanmaz?

- A) I
- B) II
- C) III
- D) IV
- E) V

7. Aşağıdakilerden hangisi Türkiye'nin yüksek ve engebeli bir arazi üzerinde yer almasının sonuçlarından biri değildir?

- A) Birçok alanda yol yapım maliyetinin yüksek olması
- B) Kısa mesafelerde iklim değişimlerinin görülmesi
- C) Tarım ürünleri çeşitliliğinin fazla olması
- D) Akarsu vadilerinin çoğunlukla "V" vadi profiline sahip olması
- E) Maden çeşitliliğinin fazla olması

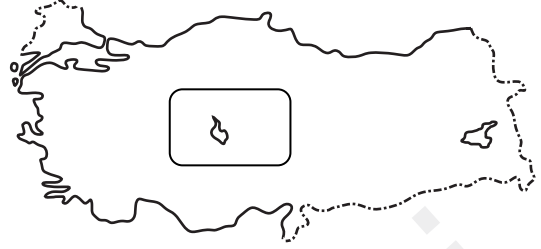
8. Aşağıdakilerden hangisi Türkiye'nin iç ovalarının genel özelliklerinden biri değildir?
- A) Tarım arazisi olduklarından yerleşme açısından tenhadır.
B) Yükselteleri doğuya doğru genel olarak artar.
C) Çoğu ulaşım yollarının geçtiği alanlarda yer alır.
D) Deprem açısından risk dereceleri yüksektir.
E) Tektonik kökenli olanları çoğunluktadır.

9. Türkiye'de ova oluşumu çeşitliliği fazladır. Aşağıda verilen ülkemiz ovalarından hangisinin oluşumu diğerlerinden farklıdır?
- A) Elmalı
B) Acıpayam
C) Tefenni
D) Korkuteli
E) Balat

10. Fiziki haritalarda renkler yükselti basamaklarını gösterir. Buna göre, bir Türkiye fiziki haritasında aşağıdaki platolardan hangisi yeşil ile gösterilir?
- A) Erzurum- Kars
B) Ardahan
C) Cihanbeyli
D) Çatalca
E) Bozok

11. Aşağıdaki ovalardan hangisi farklı bir coğrafi bölgede yer almaktadır?
- A) İnegöl
B) Susurluk
C) Ergene
D) Tosya
E) Yenişehir

12.



Haritada sınırlandırılarak gösterilen alan içerisinde aşağıdaki yer şekillerinden hangisi yer almaz?

- A) Obruk Platosu
B) Hasan Dağı
C) Peribacaları
D) Kızılırmak
E) Kula Konileri

13.



Haritada numaralar ile gösterilen platolardan hangileri yükselti değerleri açısından en fazla ve en az olanlardır?

- A) I ve II
B) I ve III
C) II ve V
D) III ve IV
E) IV ve V

14. Aşağıdaki dağ sistemlerinden hangisi volkanizma ile meydana gelen dağlardan biri değildir?
- A) Madra Dağı
B) Melendiz Dağı
C) Karadağ
D) Hasan Dağı
E) Süphan Dağı

1. Türkiye'nin bugünkü yer şekillerinin görünümü üzerinde çeşitli iç ve dış kuvvetler etkili olmuştur.

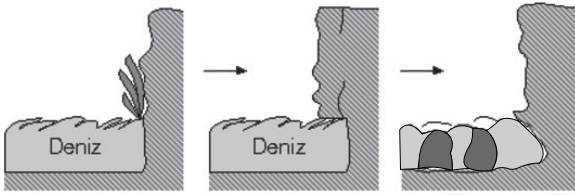
Aşağıda verilenlerden hangisi ülkemizin görünümü üzerinde en fazla etkili olan iç kuvvettir?

- A) Buzullar
B) Volkanizma
C) Akarsular
D) Dalgalar
E) Orojenez

2. Aşağıdakilerden hangisi ülkemizde örneklerine rastlanan karstik aşınım şekillerinden biridir?

- A) Polye
B) Peribacası
C) Tombolo
D) Kırgıbayır
E) Lagün

3.



Yukarıda dalga aşındırması sonucu oluşan bir kıyı şeklinin aşamaları gösterilmiştir.

Buna göre, şekilde gösterilen kıyı şekli aşağıdakilerden hangisidir?

- A) Dev kazanı
B) Tombolo
C) Birikinti konisi
D) Kıyı set gölü
E) Falez

4. Aşağıdaki yerleşim birimlerinden hangisi ile özdeşleşmiş yer şekillerinin oluşumunda volkanizma faaliyetleri ve akarsu, sel, rüzgâr aşınımlarının etkisi bir arada görülür?

- A) Denizli
B) Nevşehir
C) Antalya
D) Edirne
E) Çanakkale

5. Türkiye'de yer şekilleri çeşitlilik göstermesine rağmen bazı yer şekillerine ülkemizin mutlak konumuna bağlı olarak rastlanmaz.

Buna göre, aşağıda verilen yer şekillerinden hangisi ülkemizde görülmez?

- A) Delta
B) Peribacası
C) Tombolo
D) Fiyord
E) Falez

6. Kalker, jips, kaya tuzu, dolomit, mermer gibi suda çözünebilir kayaların oluşturduğu şekillere karstik şekiller denir.

Aşağıdakilerden hangisi ülkemizde görülen karstik aşınımlar ile oluşmuş bir ova örneğidir?

- A) Kızören obruğu
B) Silifke deltası
C) Elmalı polyesi
D) Cennet obruğu
E) Pamukkale traverteni

7.



Haritada numaralandırılarak verilen alanların hangisinde güncel buzullara rastlanır?

- A) I
B) II
C) III
D) IV
E) V

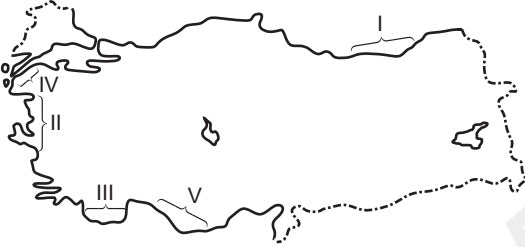
8. Aşağıdaki yerleşim birimlerinden hangisinde kalırcı arazi üzerinde gelişmiş karstik şekiller daha fazla yer almaktadır?

- A) Ankara
B) Antalya
C) Edirne
D) Iğdır
E) İzmir

9. Aşağıdakilerden hangisi dalga biriktirme faaliyetleri sonucunda oluşan ülkemizdeki lagün gölü (deniz kulağı) alanlarına örnek gösterilebilir?

- A) Manyas Gölü
B) Marmara Gölü
C) Durusu Gölü
D) Tuz Gölü
E) Beyşehir Gölü

10.



Haritada gösterilen numaralı kıyılarda yer alan kıyı tiplerinden hangileri benzerdir?

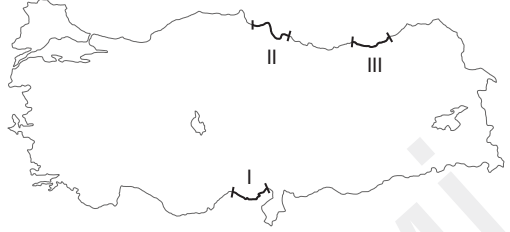
- A) I ve II
B) I ve III
C) I ve V
D) II ve IV
E) III ve IV

11. Dağların deniz kıyısına göre uzanış doğrultusu ve yaşanan epirojenik hareketler ülkemizdeki kıyı çeşitliliğini arttırmıştır.

Buna göre, aşağıda verilen kıyı tiplerinden hangisi ülkemiz kıyılarında daha yaygın olarak görülür?

- A) Ria
B) Enine
C) Dalmaçya
D) Boyuna
E) Haliç

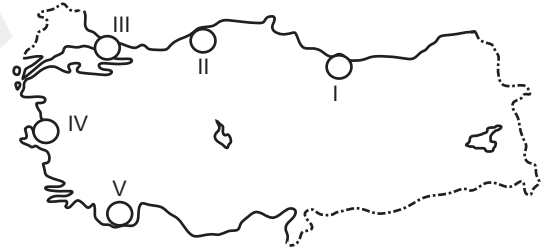
12. Aşağıdaki haritada Türkiye kıyılarına ait üç yer numaralandırılarak gösterilmiştir.



Bu yerlerin kıta sahanlıklarının, genişten daraya doğru olarak sıralaması aşağıdakilerden hangisidir?

- A) I - II - III
B) III - II - I
C) II - III - I
D) I - III - II
E) II - I - III

13. Eski akarsu vadilerinin deniz ilerlemesi ile sular altında kalması sonucu ria kıyı tipi oluşur.



Harita verilen alanların hangisinde ria tipi kıyı yer almaktadır?

- A) I B) II C) III D) IV E) V

14. Aşağıdakilerden hangisi ülkemizde yerin şekillenmesinde rüzgârın etkili olduğu sahaların ortak özelliklerinden biri değildir?

- A) Kurak ve yarı kurak iklim özellikleri yaygındır.
B) Bitki örtüsü cılızdır.
C) Volkanik arazilerdir.
D) Sıcaklık farkı fazladır.
E) Yıllık yağış ortalaması az olan yörelerdir.