

KPSS
2024

5 TÜRKÇE
x 30



Çözümlere ulaşmak için
QR kodu okutunuz.

DENEME

• Tamamı Çözümlü 150 Özgün Soru •



ÖĞRETİ AKADEMİ

Bu testte 30 soru vardır.

1. Eleştirmenler, bazı ünlü yazarların eserlerini ele alırken o eserin kusurlu yönlerini çoğu zaman bir eleştirmen edasıyla değil de rakip bir yazarmış gibi ortaya koymaya çalışıyorlar. Eserin eksikliklerini tamamlamak ve yazara yardımcı olmak yerine, onları başarısız bir yazarmış gibi gösterme ve konuyla ilgili bir kaos ortamı yaratma çabasına giriyorlar. Böylece ünlü yazarların isminden de yararlanarak âdetâ bulanık suda balık avlamaya çalışıyorlar.

Bu parçadaki altı çizili sözle eleştirmenlerle ilgili olarak anlatılmak istenen aşağıdakilerden hangisidir?

- A) Toplumı yanıltmaya çalıştıkları
B) Yazarları kendilerine rakip olarak görmedikleri
C) Gerçeği olduğu gibi yansıtmadıkları
D) Karışık durumlardan yararlanarak çıkar sağladıkları
E) Düşmanca bir tutum sergilemeye çalıştıkları

2. Dilimiz, kalıplaşmış söz öbekleri bakımından çok güçlü bir potansiyele sahiptir. Pek çok farklı durumu anlatmak için çeşitli deyimlerden yararlanılmaktadır. Örneğin herhangi bir işteki eksiği veya hileyi ortaya çıkarmak anlamında açığı bulmak, içinden çıkılması güç bir durumda kalmak anlamında açmaza düşmek, birini yakını olmaktan çıkarmak, ilgisini kesmek anlamında aforoz etmek; bildiklerini anlatmaktan çekinmemek anlamında ağız dil vermemek, çeşitli yollarla birini bir şeye razı etmek anlamında ağızdan girip burnundan çıkmak deyimini kullanılmaktadır.

Bu parçadaki numaralanmış deyimlerden hangisinin kendinden önceki açıklaması yanlış verilmiştir?

- A) I B) II C) III D) IV E) V

3. Küresel ısınma, çeşitli nedenlerle atmosfere ---- gazların sonucu olarak Dünya üzerinde tüm yıl boyunca kara, deniz ve havada ölçülen ortalama ---- görülen artışa verilen isimdir.

Bu cümlede boş bırakılan yerlere sırasıyla aşağıdakilerden hangileri getirilmelidir?

- A) oluşun – ısılarda
B) salınan – sıcaklıklarda
C) gönderilen – yağışlarda
D) bırakılan – seviyede
E) uygulanan – durumlarda

4. I. Yıldırım, bulut ile yer arasında oluşan en tehlikeli şimşek türüdür.
II. Yıldırımların çoğu yeryüzüne negatif yük dağıtır ancak bir kısmı yeryüzüne pozitif yük taşır.
III. Bahar aylarında düşen yıldırımlar ise kış aylarında düşenlerden daha etkili ve tehlikelidir.
IV. Pozitif yıldırımlar aynı zamanda kış ayları boyunca düşen toplam yıldırımların yüksek bir yüzdesini oluşturur.
V. Pozitif yük taşıyan bu yıldırımlar, genellikle bir fırtınanın dağılma aşamasında oluşur.

Yukarıdaki numaralanmış cümlelerin anlamlı bir bütün oluşturabilmesi için hangileri yer değiştirilmelidir?

- A) I ile IV B) IV ile V C) III ile V
D) II ile V E) II ile III

KPSS
2024

5 MATEMATİK x 30



Çözümlere ulaşmak için
QR kodu okutunuz.

DENEME

• Tamamı Çözümlü 150 Özgün Soru •



ÖĞRETİ AKADEMİ

Bu testte 30 soru vardır.

1.
$$\frac{\left(2 - \frac{3}{4}\right) - \left(1 - \frac{3}{4}\right)}{\left(3 - \frac{3}{8}\right) - \left(2 - \frac{3}{8}\right)}$$

işleminin sonucu kaçtır?

- A) $-\frac{1}{2}$ B) $-\frac{1}{3}$ C) $\frac{1}{2}$ D) 1 E) 3

2.
$$\left(\frac{5}{0,2} - \frac{2}{0,5}\right) : \frac{1,4}{5}$$

işleminin sonucu kaçtır?

- A) 90 B) 75 C) 60 D) 45 E) 30

3.

- a ve b pozitif tam sayıdır.
- $a^2 - b^2$ sayısı asal sayıdır.

Buna göre,

- I. $a + b$ asal sayıdır.
 II. $a \cdot b$ çift sayıdır.
 III. $(a - b)$ ile $(a + b)$ aralarında asal sayıdır.

İfadelerinden hangileri her zaman doğrudur?

- A) Yalnız I B) Yalnız II C) I ve III
 D) II ve III E) I, II ve III

4. Rakamları birbirinden farklı, iki basamaklı beş farklı doğal sayının toplamı 279'dur.

Buna göre, bu sayılardan en büyüğü en az kaçtır?

- A) 59 B) 58 C) 57 D) 56 E) 54

5. Bir torbadaki bilyeler üçer üçer, beşer beşer ve altışar altışar sayıldığında her seferinde bir bilye artıyor.

Bu torbadaki bilye sayısı 400'den fazla olduğuna göre, bu torbada en az kaç bilye vardır?

- A) 411 B) 416 C) 421 D) 431 E) 441

6.
$$\frac{2 \cdot 15^{-2} - 3 \cdot 15^{-3}}{2 \cdot 10^{-4} + 5 \cdot 10^{-5}}$$

işleminin sonucu kaçtır?

- A) 48 B) 32 C) 30 D) 24 E) 20

KPSS
2024

5 TARİH

x 27



Çözümlere ulaşmak için
QR kodu okutunuz.

DENEME

• Tamamı Çözümlü 135 Özgün Soru •



ÖĞRETİ AKADEMİ

Bu testte 27 soru vardır.

1. Aşağıdakilerden hangisi *Orhun Kitabeleri*'yle ilgili doğru bir bilgi değildir?

- A) Türk dilinin ilk yazılı belgelerindedir.
- B) İlk olarak Tengri kelimesinin çevrilmesi kitabenin okunmasını kolaylaştırmıştır.
- C) Günümüzde Kırgızistan sınırları içerisinde yer almaktadır.
- D) Çin alfabesinin de izlerini taşımaktadır.
- E) Kutluk Devleti zamanında yazılmıştır.

2.

- I. Divan-ı İnşa – Devletin iç ve dış yazışmalarını yürütür.
- II. Divan-ı Arz – Ordunun ihtiyaçlarının karşılanmasından sorumludur.
- III. Divan-ı Berid – İstihbarat ve haberleşme işlerini yürütür.
- IV. Divan-ı İşraf – Mali ve idari denetim yapar.
- V. Divan-ı İstifa – Üst düzey devlet görevlilerinin tayin veya terfi ettirilmesine bakar.

Türk-İslam devletleriyle ilgili yukarıdaki kavramlardan hangisinin karşısında verilen açıklaması yanlıştır?

- A) I B) II C) III D) IV E) V

3.

- Malazgirt Savaşı'ndan sonra Erzincan ve çevresinde kurulmuştur.
- Rumlara karşı başarılı savaşlar yapmıştır.
- Divriği Ulu Camii, Divriği Darüşşifası ve Divriği Kale Camii önemli eserlerindedir.

Yukarıdaki bilgiler aşağıdaki beyliklerden-devletlerden hangisine aittir?

- A) Danişmentliler
- B) Saltuklular
- C) Mengücekliler
- D) Artuklular
- E) Eretna Devleti

4. Osmanlı Devleti İstanbul'un fethine kadar geçen süreç içerisinde;

- I. Timur,
- II. Safevi,
- III. Bizans

devletlerinden hangileriyle herhangi bir mücadelede bulunmamıştır?

- A) Yalnız I B) Yalnız II C) Yalnız III
D) I ve II E) II ve III

5. Osmanlı Devleti'nin XV. yüzyılın başlarından itibaren Orta Doğu, Balkanlar, Kuzey Afrika ve Akdeniz Havzası'nın önemli bir kısmında kurduğu ve XIX. yüzyılın sonlarına kadar sürdürdüğü egemenliğe Pax Ottomana yani "Osmanlı Barışı" denmesinin temel nedeni aşağıdakilerden hangisidir?

- A) Komşu ülkelere farklı zamanlarda ticari ayrıcalıklar tanınması
- B) Ortodoksları himaye etmesi
- C) Başkentte bütün dinlerin temsilcilerinin bulundurulması
- D) Ekonomik, sosyal ve siyasi yönden uzun süreli bir istikrarın sağlanması
- E) *Mecelle-i Ahkâm-ı Adliye*'nin hazırlanması

6. Osmanlı Devleti'nde aşağıdaki durumlardan hangisinde Coğrafi Keşifler sonucunda meydana gelen gelişmelerin etkili olduğu savunulamaz?

- A) Yabancı tüccarlara tanınan ayrıcalıkların artırılması
- B) Don - Volga ve Süveyş Kanalı Projelerinin hazırlanması
- C) Gayrimüslim tebaaya din ve inanç özgürlüğünün tanınması
- D) Hint Deniz Seferleri'nin düzenlenmesi
- E) Ticaretten elde edilen gelirlerin hazinedeki payının azalması

KPSS
2024

7

COĞRAFYA

x

18



Çözümlere ulaşmak için
QR kodu okutunuz.

DENEME

• Tamamı Çözümlü 126 Özgün Soru •



ÖĞRETİ AKADEMİ

Bu testte 18 soru vardır.

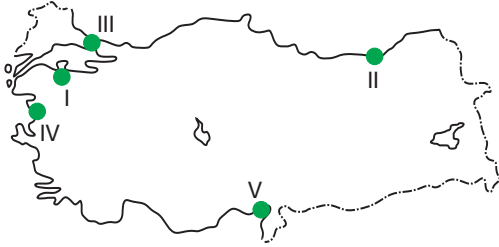
1. Türkiye’de gözlenen;

- I. Akdeniz ve Ege kıyılarında maki bitki örtüsünün görülmesi,
- II. cephesel yağışların görülmesi,
- III. kuzey - güney kıyılarında fön rüzgârlarının etkili olması,
- IV. batı rüzgârlarının etkili olması

durumlarından hangileri göreceli (özel) konumun sonuçları arasında yer alır?

- A) Yalnız I B) Yalnız III C) II ve III
D) II ve IV E) III ve IV

2. Tombolo (saplı ada) kıyıya yakın adaların dalga ve akıntıların biriktirmesi sonucunda ana karaya bağlanması ile oluşur.



Yukarıdaki Türkiye haritasında işaretlenmiş kıyıların hangisinde üzerinde şehir yerleşmesi bulunan belirgin bir tombolo oluşumuna rastlanır?

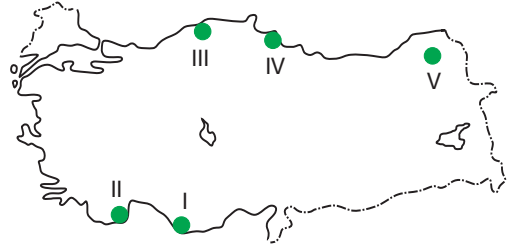
- A) I B) II C) III D) IV E) V

3. Erozyon, toprak yüzeyinin dış kuvvetler etkisiyle süpürülmesi olup Türkiye’nin tamamında farklı şiddetlerde etkilidir.

Aşağıdakilerden hangisi Türkiye’de erozyonun yaygın olmasının nedenleri arasında yer almaz?

- A) Bitki örtüsünün cılız olması
- B) Tarım arazilerinin nadasa bırakılması
- C) Tarım alanlarının eğim yönünde sürülmesi
- D) Tarımsal verimin azalması
- E) Meralarda aşırı otlatma yapılması

4.



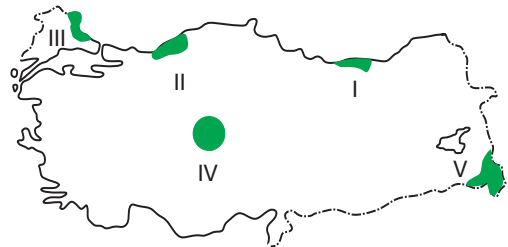
Yukarıdaki Türkiye haritasında işaretlenmiş yörelerin hangisinde alüvyal topraklar daha yaygındır?

- A) I B) II C) III D) IV E) V

5. Aşağıdakilerden hangisi Türkiye akarsularının genel özellikleri arasında yer almaz?

- A) Rejimleri düzensizdir.
- B) Genelde “V” vadi profiline sahiptirler.
- C) Denge profiline ulaşmışlardır.
- D) Hidroelektrik potansiyelleri fazladır.
- E) Ulaşım elverişli değildir.

6. Bağıl nem oranının yüksek olduğu yörelerde güneşli gün sayısı az, hava kapalı ve yağış miktarı da fazladır.



Buna göre haritada numarandırılarak gösterilen sahaların hangisinde bağıl nem oranı en düşüktür?

- A) I B) II C) III D) IV E) V

KPSS
2024

10 VATANDAŞLIK

x

15



Çözümlere ulaşmak için
QR kodu okutunuz.

DENEME

• Tamamı Çözümlü 150 Özgün Soru •



ÖGRETİ AKADEMİ

Bu testte 15 soru vardır.

1. Türk Medeni Kanunu'na göre hâkim, önüne gelen davada hukuk boşluğu ile karşılaştığında aşağıdakilerden hangisini yapar?

- A) Örf âdet hukukunu uygular.
- B) Kanunu amacına uygun olarak sınırlar.
- C) Dürüstlük kuralından yararlanır.
- D) Takdir yetkisini kullanır.
- E) Hukuk yaratır.

2. Medeni Kanun'daki "Herkes, yardım etmediği ölçüde yoksulluğa düşecek olan alt soyu ve üst soyu ile kardeşlerine nafaka vermekle yükümlüdür." hükmü ne tür bir hukuk kuralıdır?

- A) Yorumlayıcı
- B) Emredici
- C) Tamamlayıcı
- D) Yetki verici
- E) Tanımlayıcı

3. Aşağıdakilerden hangisi ilk defa 1961 Anayasası tarafından getirilmiş yeniliklerden biri değildir?

- A) Devlet Denetleme Kurulu
- B) Millî Güvenlik Kurulu
- C) Sosyal devlet ilkesi
- D) Anayasa Mahkemesi
- E) İnsan haklarına dayanan devlet ilkesi

4. 1982 Anayasası'na göre, aşağıdakilerden hangisi savaş, seferberlik ve olağanüstü hâllerde dahi dokunulamayan sert çekirdek haklar arasında yer almaz?

- A) Suç ve cezalar geçmişi yürütülemez.
- B) Kimse zorla çalıştırılmaz ve angarya yasaktır.
- C) Kişinin maddî ve manevî varlığının bütünlüğüne dokunulamaz.
- D) Kimse din, vicdan, düşünce ve kanaatlerini açıklamaya zorlanamaz.
- E) Suçluluğu mahkeme kararıyla saptanıncaya kadar kimse suçlu sayılmaz.

5. 1982 Anayasası'na göre, Türkiye Büyük Millet Meclisi tarafından üyeliği düşürülen milletvekilinin, itirazını aşağıdakilerden hangisi kaç gün içinde karara bağlar?

- A) 7 gün-Yüksek Seçim Kurulu
- B) 7 gün-Anayasa Mahkemesi
- C) 15 gün-Yüksek Seçim Kurulu
- D) 15 gün-Danıştay
- E) 15 gün-Anayasa Mahkemesi

6.

- I. Siyasi parti grupları
- II. Tek başına en son yapılan seçimde geçerli oyların yüzde beşini almış siyasi parti
- III. Birleşerek en son yapılan genel seçimde yüzde yedi almış siyasi partiler
- IV. 100.000 seçmen

1982 Anayasası'na göre, yukarıdakilerden hangileri Cumhurbaşkanlığı için aday gösterebilir?

- A) Yalnız I
- B) I ve II
- C) II ve III
- D) I, II ve IV
- E) I, II, III ve IV

7. 1982 Anayasası'nda, hâkimlik teminatını sağlamak için aşağıdakilerden hangisi kurulmuştur?

- A) Yüksek Hâkimler Kurulu
- B) Adalet Bakanlığı
- C) Danıştay
- D) Hâkimler ve Savcılar Kurulu
- E) Yargıtay