

KPSS

2024

**GENEL YETENEK
GENEL KÜLTÜR**



TÜRKÇE

TAMAMI ÇÖZÜMLÜ

30

DENEME

**SORULARIN ÇÖZÜMLERİNE
ULAŞMAK İÇİN
QR KODU OKUTUNUZ**



PEGEM AKADEMİ



KPSS TÜRKÇE TAMAMI ÇÖZÜMLÜ 30 DENEME

Komisyon

ISBN 978-625-6890-63-3

Kitapta yer alan bölümlerin tüm sorumluluğu yazarlarına aittir.

Bu kitabın basım, yayım ve satış hakları Pegem Akademi Yay. Eğt. Dan. Hizm. Tic. AŞ'ye aittir. Anılan kuruluşun izni alınmadan kitabın tümü ya da bölümleri, kapak tasarımı; mekanik, elektronik, fotokopi, manyetik kayıt ya da başka yöntemlerle çoğaltılmaz, basılamaz ve dağıtılamaz. Bu kitap, T.C. Kültür ve Turizm Bakanlığı bandrolü ile satılmaktadır. Okuyucularımızın bandrolü olmayan kitaplar hakkında yayinevimize bilgi vermesini ve bandrolsüz yayınları satın almamasını diliyoruz.

Pegem Akademi Yayıncılık, 1998 yılından bugüne uluslararası düzeyde düzenli faaliyet yürüten uluslararası akademik bir yayınevidir. Yayınladığı kitaplar; Yükseköğretim Kurulunca tanınan yükseköğretim kurumlarının kataloglarında yer almaktadır. Dünyadaki en büyük çevrimiçi kamu erişim kataloğu olan WorldCat ve ayrıca Türkiye'de kurulan Turcademy.com tarafından yayınları taranmaktadır, indekslenmektedir. Aynı alanda farklı yazarlara ait 1000'in üzerinde yayını bulunmaktadır. Pegem Akademi Yayınları ile ilgili detaylı bilgilere <http://pegem.net> adresinden ulaşılabilmektedir.

62. Baskı: Ekim 2023, Ankara

Proje-Yayın: Deniz Şahan
Dizgi-Grafik Tasarım: Berna Ardiç Arslan
Kapak Tasarımı: Pegem Akademi

Baskı: Vadi Grup Basım AŞ
Saray Mah. 126 Cad. No: 20/A
Kazan/ANKARA
Tel: (0312) 802 00 53-54

Yayıncı Sertifika No: 51818
Matbaa Sertifika No: 49180

İLETİŞİM



Shira Ticaret Merkezi, Macun Mahallesi 204 Cad.
No: 141/33, Yenimahalle/Ankara



Yayınevi: 0312 430 67 50

Dağıtım: 0312 434 54 24

Hazırlık Kursları: 0312 419 05 60



www.pegem.net



pegem@pegem.net



0538 594 92 40



[pegemakademi](https://www.instagram.com/pegemakademi)

Sevgili Kamu Personeli Adayları,

KPSS Genel Yetenek testinde önemli bir yer tutan “Türkçe” kapsamındaki sorular, yıllara göre analiz edilmiş ve bu analiz sonuçlarına göre kitabınızda yer alan deneme sınavları oluşturulmuştur.

Sınavda başarılı olabilmek için yeterli bilgi düzeyinin yanı sıra çok sayıda soruyu anlayarak hızlı bir şekilde cevaplamak gerekmektedir. Bu koşul göz önünde bulundurularak sınavda karşınıza çıkabilecek soru türleri çözümleri ile birlikte sizlere sunulmuştur. Çözümlere ulaşabilmeniz için aşağıda yer alan bildirimini inceleyebilir, kitaba ilişkin sorularınızı pegem@pegem.net adresine mail yolu ile ya da 0538 594 92 40 numaralı telefonumuza WhatsApp yolu ile iletebilir olduğunuzu belirtiriz.

KPSS yayınlarında hissedilen önemli bir eksikliği gidermek ve adaylara daha nitelikli ve kapsamlı bir kaynak sunmak amacıyla böyle bir çalışma hazırlanmıştır. Kitaptaki denemeler hazırlanırken her sorunun KPSS formatına bire bir uygun olmasına özen gösterilmiş, çıkması muhtemel tüm konulara da gerektiği kadar yer verilmiştir.

“KPSS Türkçe 30 Deneme” kitabımızın hepinize faydalı olacağını umuyor, Pegem Akademi Yayıncılık olarak bütün KPSS adaylarına başarılar diliyoruz.

Pegem Akademi Yayıncılık

Türkçe Sorularının
çözümleri için QR
kodu okutunuz.



Karekod okutmak için tavsiye
edilen uygulamalar



QR Droid



Qrafter

pegem.net'ten ulaşmak için
<https://depo.pegem.net/2024-gygk-turkce30deneme.cozum.pdf>

Ön Söz.....	iii
Deneme 1	1
Deneme 2	8
Deneme 3	15
Deneme 4	23
Deneme 5	30
Deneme 6	37
Deneme 7	44
Deneme 8	51
Deneme 9	58
Deneme 10.....	64
Deneme 11.....	71
Deneme 12.....	78
Deneme 13.....	85
Deneme 14.....	92
Deneme 15.....	98
Deneme 16.....	104
Deneme 17.....	110
Deneme 18.....	117
Deneme 19.....	124
Deneme 20.....	130
Deneme 21.....	136
Deneme 22.....	142
Deneme 23.....	148
Deneme 24.....	154
Deneme 25.....	161
Deneme 26.....	168
Deneme 27.....	175
Deneme 28.....	182
Deneme 29.....	188
Deneme 30.....	194
Cevap Anahtarı.....	201

1. Çok güzel olduğu kadar canlı, capcanlı bir hayat öyküsü *Adı: Aylın*. İnsanın kendisine çıkaracağı pek çok pay var bundan. Okurken “İşte şu satırlarda ben varım.” dedim. En önemlisi gerçekten içimizden geldiği gibi yaşayıp yaşamadığımızı düşündürüyor Aylın Radomisli. Hayatı en hızlı yönüyle yaşamış ve aynı hızda vedalaşmış bu hayatla. Hemen herkes sevmiş onu. Ben de sevdim. En çok da sevmeyi bilen tarafını yakın buldum kendime. O canlılığıysa imrendiğim yanı oldu. “Keşke!” dedim.

Bu parçanın yazarının altı çizili cümleyle parçada tanıtılan kitaba ilişkin olarak vurgulamak istediği aşağıdakilerden hangisidir?

- A) İnsanın kendisini eserde bulabildiği
B) Anlatılanların gerçekliğini sorguladığı
C) Hayalle gerçeği bir arada barındırdığı
D) Eserin yaşamdaki ilginç olayları değerlendirdiği
E) Kitabın yazarının yaşadıklarını kaleme aldığı

2. “Bu yazılanların hepsi gerçektir ama aynı zamanda hepsi yalandır çünkü onları ben yazdım.” **diyen bir yazar aşağıdakilerden hangisini anlatmak istemiş olabilir?**

- A) Sanat kaygısı taşımadığını
B) Yazılarında eleştiriye yer vermediğini
C) Anlaşılması zor bir dil kullandığını
D) Yazılarının yorum gerektirmediğini
E) Yazılarında öznel davrandığını

3. Sahneye koyduğu birbirinden ilginç oyunlarla izleyenlere hoş vakit geçirten Başkent Tiyatrosu, bu ay 5’i çocuk oyunu olmak üzere 9 oyun sergiliyor.

Bu cümleden aşağıdakilerin hangisine kesin olarak ulaşılabılır?

- A) Başkent Tiyatrosu, hep çocuk oyunu sergilemektedir.
B) Başkent Tiyatrosu, yetişkinler için de oyun sergilemektedir.
C) Başkent Tiyatrosu, bu yıl 9 oyun sergilemektedir.
D) Başkent Tiyatrosunun oyunları genellikle komedi türündedir.
E) Başkent Tiyatrosunun izleyicileri genellikle çocuklardır.

4. Sevginin en önemli bileşeni, yani saygı ---- sorumluluk kolayca sahiplenmeciliğe dönüşebilir. Saygı; korku ve huşu değildir. Saygı, bir insanı olduğu gibi ----, onun eşsiz bireyselliğinin farkında olma demektir.

Bu cümlede boş bırakılan yerlere sırasıyla aşağıdakilerden hangileri getirilmelidir?

- A) ortadan kalkarsa - algılama
B) olmazsa - görme
C) yok olsaydı - kabullenememe
D) devreye girince - yaşama
E) varsa - sevme

P
E
G
E
M
A
K
A
D
E
M
İ

5. (I) İçinde çayırıklar olan ormanlar, step ve yarı step özelliği gösteren alanlar, tarla kenarları, ağaçlık ve kayalık yerler porsukların yaşam alanlarıdır. (II) Diğer yırtıcılara göre daha az kavga eder ve kendi türlerinden bireylere dostça davranır bu tür. (III) Fare ve sincap gibi kemiriciler başta olmak üzere yılanlar, kuş yumurtaları, böcekler meyveler ana besinleridir. (IV) Tarımsal etkinlikler, aşırı avlanma, kirlilik gibi etkenler şimdilerde bu hayvanların soylarını tehdit ediyor. (V) Dünya genelinde soyları çok tehlikede olmamasına karşın ülkemizde az sayıda oldukları için soylarının tehlike altında olduğu kabul ediliyor.

Porsukların anlatıldığı bu parçadaki numaralanmış cümlelerle ilgili olarak aşağıda verilenlerden hangisi yanlıştır?

- A) I’inci cümlede, nerelerde yaşadıkları belirtilmiştir.
B) II’nci cümlede, farklı yönleri dile getirilmiştir.
C) III’üncü cümlede, besinlerini nasıl buldukları anlatılmıştır.
D) IV’üncü cümlede, bazı uygulamaların bu hayvanlar için risk oluşturduğuna değinilmiştir.
E) V’inci cümlede, varlıklarının tehlike altında olmasının nedeni verilmiştir.

6.

- I. Böylece dış dünyayla bağlantımız kopar, büyük bir boşlukta buluruz kendimizi.
- II. Sonuçta evrendeki öbür varlıklardan hiçbir üstünlüğümüz kalmaz.
- III. Bizi biz kılan konuşma gücümüzdür.
- IV. Bu gücü yitirdiğimizi düşünelim.
- V. Suskunluğun dayanılmaz köleliğine düşeriz.

Yukarıdaki numaralanmış cümleler anlamlı bir bütün oluşturacak biçimde sıralandığında hangisi baştan ikinci olur?

- A) I B) II C) III D) IV E) V

7.

- I. Behçet Necatigil, şiir türlerinin hemen hepsine yaklaşmış fakat en çok da bireysel-sosyal şiiri benimsemek zorunda kalmıştır.
- II. Çünkü artık sadece hayallerin mavi çiçeklerini derlemeye, düşlerde yakamozlanan güzellikleri göstermeye vakit ve imkân yok.
- III. Ona göre şair, sosyal gerçeklik ile iç âlemini bir potada eritmek, benliğini yitirmeden her ikisini de bir potada eritip yansıtmak zorundadır.
- IV. Vakit ve imkân olmayınca hayallere dalmak ağır bassa bile sonunda ortaya çıkan sanat veriminde çağın sorunlarını, bizden kopmuş insanın çılgınlıklarını aktarmalı.
- V. Yani şair toplumun dertlerini de bencil kaygılarını da işlemeli fakat hepsini mizacından geçirerek ortaya koymalıdır.

Yukarıdaki numaralanmış cümlelerin anlamlı bir bütün oluşturabilmesi için hangileri yer değiştirmelidir?

- A) I ile II B) I ile III C) II ile III
D) III ile V E) IV ile V

8.

- (I) D vitamini, kalsiyum ve fosforun sindirim yollarında kullanımı ve emilimi ile özellikle çocuklarda büyüme için gerekli vitamin. (II) Kas zayıflığına karşı vücudu korur, kalp atışının düzenlenmesinde etkilidir, bağışıklık sistemini kuvvetlendirir, tiroit fonksiyonları ve normal kan pıhtılaşması için gereklidir. (III) Özellikle çocukların D vitamininden faydalanabilmesi için güneşe sıkça çıkarılması gerekir. (IV) D vitamini sindirim sisteminden kalsiyum emilimini artırır. (V) Böylece kalsiyumun kemiklere aktif taşınmasını hızlandırır.

Bu parçadaki numaralanmış cümlelerden hangisi düşüncenin akışını bozmaktadır?

- A) I B) II C) III D) IV E) V

P
E
G
E
M
A
K
A
D
E
M
İ

9.

Aşağıdaki cümlelerin hangisinde yazım yanlışı vardır?

- A) Fransızların dillerine ne kadar düşkün olduklarını hatırlatmaya gerek yok.
- B) İnsan, yaşama gücünü ve sırrını ancak kendinde bulabilir.
- C) Bazı şairlerimiz eleştiriye tahamül edememektedir.
- D) Sıcak havalar yurdu terk etse de hâlâ güneşli günler görebiliyoruz.
- E) SSK'nin çalışmaları ne yazık ki hiçbir zaman yeterli olmadı.

10.

Macera sporlarına bir yenisi daha eklendi () Güney Afrika'da köpek balıklarıyla dans () Artık macerape-restler bu yeni spor dalıyla uğraşabiliyorlar ()

Bu parçada ayraçlarla () belirtilen yerlere sırasıyla aşağıdakilerin hangisinde verilen noktalama işaretleri getirilmelidir?

- A) (;) (.) (!) B) (!) (.) (...) C) (;) (:) (.)
D) (;) (...) (!) E) (;) (.) (.)

11. Bazı roman girişleri öylesine etkileyici bir güce sahiptir ki âdeta kitaba yapıştığını hissedersiniz.

Bu cümlede aşağıdakilerden hangisi yoktur?

- A) Belgisiz zamir
B) Belgisiz sıfat
C) Zarf
D) Bağlaç
E) Yardımcı fiil

12. Kalem ve kâğıt, birbirinden ayrılmaz ne var ki kötü bir

I
yazar onu mahveder. İyi bir yazar geçerse masanın

III
başına o zaman mükemmel bir eser ortaya çıkar.

IV
Bu eser de unutulmazlar arasında yerini alır.

V
Bu parçadaki numaralanmış sözlerle ilgili aşağıdakilerden hangisi söylenemez?

- A) I. söz, öznedir.
B) II. söz, bağlaçtır.
C) III. söz, işaret zamiridir.
D) IV. söz, sıfattır.
E) V. söz, dolaylı tümleçtir.

13. **Aşağıdaki cümlelerden hangisi birleşik yapıdır?**

- A) Böyle seresperpe oturacağına biraz ders çalış.
B) Bugünlerde kendimi yapayalnız hissediyorum.
C) Sırlısıklam âşık gibi davranıyorsun bugünlerde.
D) Karadenizde masmavi bir deniz ve eşsiz bir doğa vardır.
E) Güpegündüz kitapçıyı soymuş hırsızlar.

14. (I) Her kış koyu renkler giymekten sıkılan bizlere, moda dünyası bu sonbahar-kış sezonu için bir güzellik yaptı. (II) Çok daha renkli bir sezon yarattı. (III) Özellikle koyu kırmızı, koyu yeşil renkleri sıkça göreceğimiz bu kış, renkli kumaş pantolonlar dikkat çekiyor. (IV) Kazağınız siyah ya da toprak tonlarda olsun, altına giyeceğiniz kırmızı ya da yeşil bir kumaş pantolonla bütün havanız değişecek. (V) Renkleri kullanmaktan çekinmeyin, bu kış kadınlar daha cesur.

Bu parçadaki numaralanmış cümlelerle ilgili olarak aşağıda verilenlerden hangisi yanlıştır?

- A) I'inci cümlede, sıfat-fiil grubu bir zamiri nitelemiştir.
B) II'inci cümlede, iki öge yer almaktadır.
C) III'üncü cümlede, yüklem birleşik bir fiildir.
D) IV'üncü cümlede, nesne kullanılmıştır.
E) V'inci cümlede, emir kipiyle çekimlenmiş bir fiil vardır.

15. İnsana dair, insan aklına dair soruların hepsi... Aklımıza gelen bütün çelişkiler, insanları ortadan ikiye ayıran farklılıklar, insanın toplumla ihtilafı... Ailesiyle, zamanla olan ihtilafı, hayatta olmakla olan ihtilafı... İşte kitabımda bütün bunların üzerinde elimden geldiğince durmaya çalışıyorum.

Bu parça aşağıdaki sorulardan hangisine yanıt olabilir?

- A) Yaşamı farklı bir şekilde yansıtmak mı asıl amacınız?
B) Eserlerinizi niçin çelişkiler üzerine kurduğunuz?
C) Eserlerinizde her zaman insanı mı merkeze alırsınız?
D) Kitabınızda özellikle hangi konuları irdeliyorsunuz?
E) Kitabınızın en özgün yanı nedir sizce?

16. Sezai Karakoç geleneksel şiire de yaklaşır ancak dili farklıdır. O, modern şiirin diliyle de şiirlerini yazmıştır. Ona göre şair, şiiri okurun önüne hazır bir şekilde koymamalıdır. Bu yüzden onun şiirleri derin anlamlar taşır ve okuyucuyu yorar. Kolay değildir onun şiirlerindeki gizleri keşfetmek.

Bu parçaya dayanarak Sezai Karakoç ve eserleriyle ilgili olarak aşağıdakilerden hangisi söylenmez?

- A) Gelenekten tamamen kopmadığı
- B) Okuru düşünmeye zorladığı
- C) Anlatılmak isteneni açıkça belirtmediği
- D) Yüzeysel anlatımdan kaçındığı
- E) Anlaşılmaz olmak istediği

17. Bir şiir kitabını, bir hikâye ya da roman okur gibi okumak ne derece doğrudur? Roman ya da hikâye kitabını bitirdikten sonra düşünmeye ve yorum yapmaya başlarız. Oysa şiir okuyucusu şiir kitabını okurken her dizede, her kıtada durup düşünür, hayal kurmak ister. Okuyucu şiirlerin tadına ancak bu şekilde varabilir.

Bu parçada asıl anlatılmak istenen aşağıdakilerden hangisidir?

- A) Şiir okuyucusunun, şiiri çözümlenmeye çalışırken daha çok çaba sarf ettiği
- B) Şiir türünün anlaşılmasının ustalık gerektiren bir iş olduğu
- C) Şiirin, roman ve hikâyeye göre daha çok sindirilerek okunması gereken bir tür olduğu
- D) Şairin, okurun hayal dünyasını gözeterek şiir yazdığı
- E) Roman ve hikâyenin çok fazla düşündürücü olması gerektiği

18. Günümüzde gençlerin şiire ilgi göstermesi sevindirici. Hatta bunların arasında geleneksel kalıpları ustaca kullananlar olduğu da gözden kaçmıyor. Fakat yeni nesil Türk şairlerinde gördüğüm bir eksiklik var. Ozanlarımız, estetiği yalnızca biçimde aramaya başladılar. Şiirin biçim özellikleri elbette çok önemlidir. Ancak benim kuşağım salt biçime itibar etmezdi. Biz, bir yönüyle ön plana çıkan eserleri, bütüne varamayan eserler olarak görürdük. Yoksa estetik açıdan biçim tabii ki vazgeçilmezdir şiirin.

Bu parçada yazarın yeni nesil şairlerle ilgili olarak eleştirdiği aşağıdakilerden hangisidir?

- A) Akıcı, açık bir dil kullanamamaları
- B) Şiirlerini yaşamadan yazıyor olmaları
- C) Geleneksel motifleri kullanmamaları
- D) Sanatsal değerleri ayırt edememeleri
- E) Şiiri tüm yönleriyle kavrayamamaları

19. Balıkların kas sistemi çok gelişmiştir. Gerçekten bedenlerinin en büyük bölümü çoğunlukla kaslardan oluşur. Dolgun liflerin oluşturduğu kaslar, genellikle beyazdır. Ama bazı türlerde farklı renklerdedir. Balıklarda kuyruk, başlıca ilerleme organıdır. Düşey yüzgeçler gerçek bir kürek işlevi gören kuyruğun alanını yalnızca genişletmeye, göğüs ve karın yüzgeçleri ise hareketin yönünü etkileyerek hayvanı dengede tutmaya yarar. Bu çeşitli organlar, balıkların genellikle büyük bir hızla yüzmelerini sağlar. Söz gelimi kılıç balığının ve yelken balığının hızları yaklaşık olarak saatte 100 km'dir. Bazı türler, göğüs yüzgeçlerinin olağanüstü gelişmesi sayesinde sudan sıçrayarak belli bir süre havada kalabilir.

Bu parçada balıklarla ilgili olarak aşağıdakilerden hangisine yönelik bilgi yoktur?

- A) Fiziksel yapıları
- B) Nasıl avlandıkları
- C) Organlarının işlevleri
- D) Hızları
- E) Renkleri

20. 1970 yılından bu yana uzaya gönderilen özel balonlar, füzeler ve uydular sayesinde, atmosferle ilgili bilgilerde büyük gelişmeler olmuştur. Yapay uydulardan sağlanan veriler, meteoroloji uzmanlarına uzayla ilgili yeni bilgiler sağlamaktadır. Bulutların fotoğraflarının yukarıdan çekimi sonucunda, ortalama bulutluluk durumunun, özellikle dönenceler arası bölgede sanılanın altında olduğu anlaşılmıştır. Meteoroloji uzmanları, bu verilere dayanarak rüzgârların yönünü, bulutların yüksekliklerini ve yer değiştirmelerini, nemin ve sıcaklığın dikey dağılımlarını, yağış miktarını, yeryüzündeki ve deniz yüzeyindeki sıcaklığı hesaplayabilmektedir.

Bu parçaya göre aşağıdakilerden hangisi uydulardan sağlanan verilerin kullanıldığı hesaplamalardan biri değildir?

- A) Denizin yüzeyindeki sıcaklıklar
- B) Bulutların konumları
- C) Yağış miktarı
- D) Rüzgârların şiddeti
- E) Sıcaklığın dikey dağılımı

21. Psikoloji, insanların duyuşsal, duygusal, davranışsal ve zihinsel özelliklerini inceler. Başka bir deyişle psikoloji insan doğasını inceleyen bir bilimdir. Kurumları, gruplar içerisindeki insan davranışlarını inceleyen sosyoloji, insan doğasını bilmeden toplum içindeki insanı (toplumsal insanı) anlayamaz.

Bu parçadan aşağıdakilerin hangisine ulaşılabilir?

- A) Sosyoloji, insan doğasıyla ilgili bilgilerini psikolojiden alır.
- B) Psikoloji, sosyolojiye göre daha yeni bir bilimdir.
- C) Sosyoloji çalışmalarında, öncelikle psikolojinin verilerine başvurulur.
- D) Psikoloji ve sosyoloji, benzer yöntemleri kullanan bilim dallarıdır.
- E) Toplumsal konularda sosyolojiye en önemli desteği psikoloji verir.

22. Biz dil yenilikçilerinin amacı evimizde oturup Osmanlıca, uyaklı, Fuzulî ağzından gazeller yazarak kendimizi ve bir kısım meraklıyı eğlendirmek değildir. Bizim bütün düşüncemiz, derisi katlanmış elinde sabanını tutan, çatlak topuklu, çorapsız ayağıyla Türk topraklarının göbeğine basan yurttaşlarımızın söylediğini anlamak, istediğini yapmak, yapmasını istediğimizi ona kolayca anlatarak onları belirli bir eğitim ve kültür seviyesine ulaştırmaktır.

Sanat yapma amacını bu düşüncelerle aktaran bir yazarla ilgili olarak aşağıdakilerden hangisi söylenebilir?

- A) Toplumsal içerikli gazeller yazmak istemektedir.
- B) Halkın anlayacağı bir dil yaratmak istemektedir.
- C) Tüm vatandaşlara iyi bir dil eğitiminin verilmesini istemektedir.
- D) Halkın üst tabakasına seslenmeyi yeğlemektedir.
- E) Dilin hiçbir şekilde değişmemesi taraftarıdır.

23. Bir yerde yaşamayı sevmek için orada mutlaka anılarının olması gerekli. Yoksa evler soğuk birer duvar yığını, cadde ve sokaklar yabancılara ait yerlerdir. Size dostça bakmayan bu otobüs durağında eğreti eğreti beklersiniz. Yeni bir eve taşınmanın birçok insana hiç çekici gelmemesinin nedenleri de aslında bunlardır. Evin duvarlarında geçmişinizin o acı tatlı anılarından hiçbir iz yoktur. Bir tanışla iş dönüşü karşılaşmış dostça iki çift laf edilmiş o eski sokağınızla hiçbir benzerliği bulunmaz bu sokağın. Her şey, sesler, renkler sizin dışınızda akıp gider gibidir. Bu yüzden, hayatınıza yeni giren bir yeri benimsemek için zamana ihtiyacınız olacaktır. Orayı sevebilirsiniz. Ta ki anı biriktirene kadar.

Bu parçanın anlatımında aşağıdakilerden hangisi yoktur?

- A) İkillemelere yer verme
- B) Karşılaştırmaya başvurma
- C) Somutlamaya başvurma
- D) Betimleyici ögelerden yararlanma
- E) Birinci kişili anlatımla oluşturulma

24 ve 25. soruları aşağıdaki parçaya göre cevaplayınız.

Şiirden şair, resimden ressam anlanmış, eleştirmen değil... (I) Böyle diyen şairler ne dediklerini biliyorlarsa eserlerini resamlara gösterebilir. (II) Kitapları, resimleri beğenilecek, satın alınacak, bu parayla geçinecekler, bir gün zengin bile olacaklar. (III) "Kimden alacaklar o parayı?" sizden, benden, anlamayanlardan... (IV) Şiiri eleştirmen anlayamaz demek, okuyucu anlayamaz demektir; zaten eleştirmen, herhangi bir okuyucudan başka nedir ki? (V) Okur, okuduğu kitap üzerine düşündüklerini yazmaz, eleştirmen yazar; yazması mı onun anlamadığını gösteriyor?

24. Bu parçada vurgulanmak istenen düşünce aşağıdakilerden hangisidir?

- A) Eleştirmenin özel eğilimleri yaptığı işi belirli oranda etkileyebilir.
B) Her eleştirmenin ilgi alanı farklı olabilir fakat değerlendirmelerde nesnel olmalıdır eleştirmen.
C) Eleştirmen sanat eserini okuyucu gözüyle değerlendiren ve bunu dile getiren kişidir.
D) Sanatçı, eserini oluştururken okurun beklentilerini de dikkate almalıdır.
E) Sanat eserinin değeri okuyucuya göre değişebilmektedir.

25. Bu parçadaki numaralanmış yerlerden hangisine "Ne üstündür ondan ne de aşağı." cümlesi getirilebilir?

- A) I B) II C) III D) IV E) V

26 ve 27. soruları aşağıdaki parçaya göre cevaplayınız.

Günümüz hayatının vazgeçilmez parçası hâline gelen internet, aslında çok uzun bir geçmişe sahip değil. Esasında internet kullanımının yaygınlaşması bilgisayar teknolojisinin gelişimi ile eş zamanlı gerçekleşmiştir. Dünyada 1980'lerde kullanılmaya başlanan internet ile Türkiye, 1990'larda tanıştı. 2000'li yıllar ise tüm dünyada ve Türkiye'de internetin hızla yaygınlaştığı yıllar oldu. Bilgisayar teknolojisinin ucuzlaması ve halkın alım gücünde meydana gelen artış, bilgisayarı ve dolayısıyla interneti herkesin evine soktu. Günümüzde özellikle gençler arasında internet kullanımı son derece yaygın hâle gelmiştir. Günümüz gençleri saatlerini internet başında geçirmektedir. İnternet birey-devlet ilişkilerinde de kullanılır hâle gelmiştir. Hatta internet kullanmayan birinin modern yaşamda yer edinmesi imkânsız olmuştur. İnternet, iletişim kurmanın yanı sıra bankacılık işlemlerinde, hastanelerde randevu almada hatta üniversitede ders seçmede bile tek seçenek durumundadır.

26. Bu parçaya göre internet yaygınlaşmasında;

- I. gençlerin ilgi göstermesi,
II. alım gücünün artması,
III. teknolojinin gelişmesi,
IV. farklı alanlarda kullanılması

durumlarından hangileri etkili olmuştur?

- A) Yalnız I B) Yalnız II C) I ve III
D) II ve III E) III ve IV

27. Bu parçada internet ile ilgili olarak aşağıdakilerden hangisine değinilmemiştir?

- A) Gençler arasındaki kullanımının daha yaygın olduğuna
B) Farklı alanlarda kullanıldığına
C) Teknolojideki gelişmelerden etkilendiğine
D) Yaşamın vazgeçilmez parçası hâline geldiğine
E) Bilgisayar teknolojisinin gelişimine katkıda bulunduğuna

KPSS

2024

**GENEL YETENEK
GENEL KÜLTÜR**



**MATEMATİK
GEOMETRİ**

TAMAMI ÇÖZÜMLÜ

30

DENEME

**SORULARIN ÇÖZÜMLERİNE
ULAŞMAK İÇİN
QR KODU OKUTUNUZ**



PEGEM AKADEMİ



KPSS MATEMATİK TAMAMI ÇÖZÜMLÜ 30 DENEME

Komisyon

ISBN 978-625-6890-64-0

Kitapta yer alan bölümlerin tüm sorumluluğu yazarlarına aittir.

Bu kitabın basım, yayım ve satış hakları Pegem Akademi Yay. Eğt. Dan. Hizm. Tic. AŞ'ye aittir. Anılan kuruluşun izni alınmadan kitabın tümü ya da bölümleri, kapak tasarımı; mekanik, elektronik, fotokopi, manyetik kayıt ya da başka yöntemlerle çoğaltılmaz, basılamaz ve dağıtılamaz. Bu kitap, T.C. Kültür ve Turizm Bakanlığı bandrolü ile satılmaktadır. Okuyucularımızın bandrolü olmayan kitaplar hakkında yayınevimize bilgi vermesini ve bandrolsüz yayınları satın almamasını diliyoruz.

Pegem Akademi Yayıncılık, 1998 yılından bugüne uluslararası düzeyde düzenli faaliyet yürüten uluslararası akademik bir yayınevidir. Yayınladığı kitaplar; Yükseköğretim Kurulunca tanınan yükseköğretim kurumlarının kataloglarında yer almaktadır. Dünyadaki en büyük çevrimiçi kamu erişim kataloğu olan WorldCat ve ayrıca Türkiye'de kurulan Turcademy.com tarafından yayınları taranmaktadır, indekslenmektedir. Aynı alanda farklı yazarlara ait 1000'in üzerinde yayını bulunmaktadır. Pegem Akademi Yayınları ile ilgili detaylı bilgilere <http://pegem.net> adresinden ulaşılabilmektedir.

55. Baskı: Eylül 2023, Ankara

Proje-Yayın: Deniz Şahan
Dizgi-Grafik Tasarım: Gülnur Öcalan
Kapak Tasarımı: Pegem Akademi

Baskı: Vadi Grup Basım AŞ
Saray Mah. 126 Cad. No: 20/A
Kazan/ANKARA
Tel: (0312) 802 00 53-54

Yayıncı Sertifika No: 51818
Matbaa Sertifika No: 49180

İLETİŞİM



Shira Ticaret Merkezi, Macun Mahallesi 204 Cad.
No: 141/33, Yenimahalle/Ankara



Yayınevi: 0312 430 67 50

Dağıtım: 0312 434 54 24

Hazırlık Kursları: 0312 419 05 60



www.pegem.net



pegem@pegem.net



0538 594 92 40



[pegemakademi](https://www.instagram.com/pegemakademi)

Sevgili Kamu Personeli Adayları,

KPSS Genel Yetenek testinde önemli bir yer tutan “Matematik” kapsamındaki sorular, yıllara göre analiz edilmiş ve bu analiz sonuçlarına göre kitabınızda yer alan deneme sınavları oluşturulmuştur.

Sınavda başarılı olabilmek için yeterli bilgi düzeyinin yanı sıra çok sayıda soruyu anlayarak hızlı bir şekilde cevaplamak gerekmektedir. Bu koşul göz önünde bulundurularak sınavda karşınıza çıkabilecek soru türleri çözümleri ile birlikte sizlere sunulmuştur. Çözümlere ulaşabilmeniz için aşağıda yer alan bildirimini inceleyebilir, kitaba ilişkin sorularınızı pegem@pegem.net adresine mail yolu ile ya da 0538 594 92 40 numaralı telefonumuza WhatsApp yolu ile ilettebilir olduğunuzu belirtiriz.

KPSS yayınlarında hissedilen önemli bir eksikliği gidermek ve adaylara daha nitelikli ve kapsamlı bir kaynak sunmak amacıyla böyle bir çalışma hazırlanmıştır. Kitaptaki denemeler hazırlanırken her sorunun KPSS formatına bire bir uygun olmasına özen gösterilmiş, çıkması muhtemel tüm konulara da gerektiği kadar yer verilmiştir.

“KPSS Matematik 30 Deneme” kitabımızın hepimize faydalı olacağını umuyor, Pegem Akademi Yayıncılık olarak bütün KPSS adaylarına başarılar diliyoruz.

Pegem Akademi Yayıncılık

Matematik
Sorularının çözümleri
için QR kodu
okutunuz.



Karekod okutmak için tavsiye
edilen uygulamalar



QR Droid



Qrafter

pegem.net'ten ulaşmak için
<https://depo.pegem.net/2024-gykg-matematik30deneme.cozum.pdf>

Deneme 1	1
Deneme 2	6
Deneme 3	11
Deneme 4	16
Deneme 5	21
Deneme 6	26
Deneme 7	31
Deneme 8	36
Deneme 9	41
Deneme 10.....	46
Deneme 11.....	51
Deneme 12.....	55
Deneme 13.....	60
Deneme 14.....	65
Deneme 15.....	70
Deneme 16.....	75
Deneme 17.....	80
Deneme 18.....	85
Deneme 19.....	90
Deneme 20.....	95
Deneme 21.....	100
Deneme 22.....	104
Deneme 23.....	108
Deneme 24.....	112
Deneme 25.....	116
Deneme 26.....	120
Deneme 27.....	125
Deneme 28.....	130
Deneme 29.....	135
Deneme 30.....	140
Cevap Anahtarı.....	145

1. $\frac{-8 - (-5) + (-6)}{3 \cdot (-2)}$

işleminin sonucu kaçtır?

- A) $\frac{3}{2}$ B) 1 C) $\frac{1}{2}$
D) -1 E) $-\frac{3}{2}$

2. $\frac{10^6 - 4}{1002}$

işleminin sonucu kaçtır?

- A) 1000 B) 998 C) 996
D) 994 E) 992

3. $\frac{\sqrt{1,92}}{\sqrt{7,5} - \sqrt{1,2}}$

işleminin sonucu kaçtır?

- A) $\frac{4\sqrt{10}}{3}$ B) $\frac{4\sqrt{10}}{5}$ C) $\frac{4\sqrt{10}}{15}$
D) $\frac{8\sqrt{10}}{5}$ E) $\frac{8\sqrt{10}}{15}$

4. $\left(\frac{2}{3}\right)^{x-1} = \left(\frac{27}{8}\right)^{3x-1}$

eşitliğini sağlayan x gerçel sayısı kaçtır?

- A) $\frac{2}{5}$ B) $\frac{2}{3}$ C) $\frac{3}{2}$ D) 2 E) 3

5. Dakikada 4 saniye geri kalan bir dijital saat, öğlen 13.00'da doğru olarak ayarlanıyor.

Gerçek saat ilk kez 22.30 olduğu anda dijital saat kaç gösterir?

- A) 21.52 B) 21.56 C) 21.58
D) 22.02 E) 22.06

6. Pozitif gerçel sayılar kümesi üzerinde \square gösterimi ile \star işlemi

$$\square x = \frac{2 + 3x}{x^2}$$

$$x \star y = \frac{\square x}{\square x + \square y}$$

biçiminde tanımlanıyor.

Buna göre, $6 \star 3$ işleminin sonucu kaçtır?

- A) $\frac{5}{12}$ B) $\frac{5}{16}$ C) $\frac{5}{18}$ D) $\frac{7}{16}$ E) $\frac{7}{18}$

7. Bir pastanede;

- 75 gram un ve 35 gram peynir ile bir poğaça
- 90 gram un ve 70 gram peynir ile bir börek yapılmaktadır.

Bu pastanede servis edilen her kahvaltı tabağında iki poğaça ve bir börek bulunmaktadır.

Buna göre, pastanede 2 kg un ve 1 kg peynir ile en çok kaç kahvaltı tabağı hazırlanabilir?

- A) 5 B) 6 C) 7 D) 8 E) 9

8. $x < 0$ olmak üzere,

$$|3x - 2| - |2 - x| + |-4x|$$

işleminin sonucu aşağıdakilerden hangisidir?

- A) $4 - 8x$ B) $-3x$ C) $-4x$
D) $-5x$ E) $-6x$

9. $\frac{x}{2} + \frac{y-1}{3} = 3$

$$2x + 3y = 15$$

denkleminin sağladığı x ve y gerçel sayılar için, $x \cdot y$ çarpımı kaçtır?

- A) 6 B) 9 C) 12 D) 15 E) 18

10. Arslan ile Elif birlikte bir oyun oynuyorlar.
- Arslan aklından dört basamaklı bir sayı tutup, bu sayıdan rakamları toplamını çıkarıyor ve bulduğu sayının son üç basamağındaki rakamları Elif'e söylüyor.
 - Elif ise Arslan'ın söylediği rakamlara göre söylemediği rakamı tahmin ediyor.

Buna göre, Arslan'ın işlem sonunda söylediği rakamlar 5, 2 ve 7 ise Elif'in tahmin ettiği rakam kaçtır?

- A) 8 B) 7 C) 6 D) 5 E) 4

11. Eni 84 cm, boyu 132 cm olan dikdörtgen biçimindeki bir karton parçası, kenar uzunluğu en büyük tam sayı olacak şekilde eş büyüklükteki karelere bölünüyor.

Buna göre, karton kaç eş kareye bölünmüş olur?

- A) 56 B) 63 C) 70 D) 77 E) 84

12. İki musluk boş bir havuzu tek başına a ve b saatte dolduruyor.

a < b olmak üzere, iki musluk birlikte açıldığında boş havuz 12 saatte dolduğuna göre, b aşağıdakilerden hangisi olabilir?

- A) 18 B) 20 C) 22 D) 24 E) 30

13. a, b ve c pozitif gerçel sayıları ile ilgili aşağıdakiler bilinmektedir:

- a ile c'nin geometrik ortalaması b'ye eşittir.
- b ile c'nin geometrik ortalaması, a ile b'nin geometrik ortalamasının 3 katıdır.
- a, b ve c'nin aritmetik ortalaması 65'tir.

Buna göre, b kaçtır?

- A) 36 B) 40 C) 45 D) 48 E) 52

14. Bir boyacı 4 katlı bir apartmanın her bir katını elindeki 6 farklı renkteki boya ile boyamak istiyor.

Buna göre, her katın birbirinden farklı renkte boyanması koşulu ile bu boyamayı kaç farklı şekilde yapabilir?

- A) 720 B) 360 C) 240 D) 180 E) 120

15. Bir otomobil K kentinden M kentine saatte $(V - 15)$ km hızla 10 saat 40 dakikada gidip M kentinden K kentine saatte $(V + 15)$ km hızla 7 saat 20 dakikada dönüyor.

Buna göre, K ile M arası kaç km'dir?

- A) 664 B) 684 C) 704 D) 720 E) 740

16. Bir annenin bugünkü yaşı, iki çocuğunun bugünkü yaşları toplamından 25 fazladır.

4 yıl sonra annenin yaşı, çocuklarının yaşları toplamının 2 katına eşit olacağına göre, büyük çocuğunun bugünkü yaşı en az kaçtır?

- A) 10 B) 9 C) 8 D) 7 E) 6

17. Bir mağaza aldığı malların %40'ını % 40 kârla, %25'ini %25 zararla, kalanını ise maliyetine satıyor.

Buna göre, bu malın tüm satışı ile ilgili aşağıdakilerden hangisi söylenebilir?

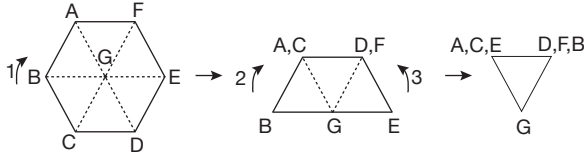
- A) %9 kâr B) %9 zarar
C) Ne kâr-ne zarar D) %9,75 zarar
E) %9,75 kâr

P
E
G
E
M

A
K
A
D
E
M
İ

18 ve 19. soruları aşağıdaki bilgilere göre cevaplayınız.

Aşağıda köşeleri A, B, C, D, E, F olan düzgün altıgen biçimindeki bir kâğıdın üç adımda katlanması gösterilmiştir.



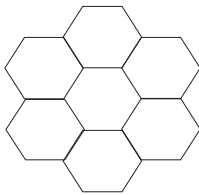
Birinci adımda kâğıt 1 yönünde aşağıdan yukarı doğru katlanmıştır.

İkinci adımda kâğıt soldan sağa doğru katlanmıştır.

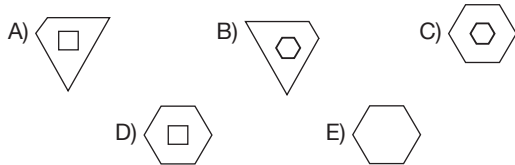
Üçüncü adımda kâğıt sağdan sola doğru katlanmıştır.

Konumu değiştirilmeden bazı parçaları kesilerek çıkarılmıştır.

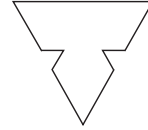
18. Kesilen parçalar çıkarıldıktan sonra kâğıt konumu değiştirilmeden katlandığı yerlerden tamamen açılıyor ve aşağıdaki görünüm elde ediliyor.



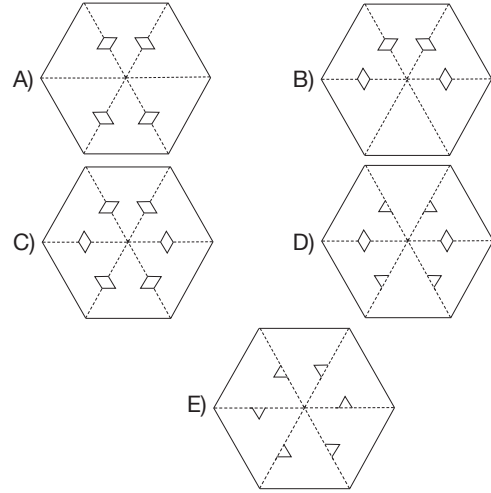
Buna göre, kâğıdın açılmadan önceki biçimi aşağıdakilerden hangisidir?



19. Üçüncü adımdan sonra kâğıt, konumu aşağıdaki gibi kesiliyor.



Buna göre, kesildikten sonra konumu değiştirilmeden tamamen açılan bu kâğıdın görünümünü aşağıdakilerden hangisidir?



P
E
G
E
M
A
K
A
D
E
M
İ

20. Futbol ile basketbol oyunlarından en az birini oynayanların bulunduğu bir gruptaki öğrencilerden;

- Her iki sporu da yapanların sayısı 40,
- Sadece futbol oynayanlar, grubun %44'ü; sadece basketbol oynayanlar, grubun %36'sıdır.

Buna göre, gruptaki öğrenci sayısı kaçtır?

- A) 100 B) 160 C) 200 D) 240 E) 300

21. Bir grup işçi bir işi günde 10 saat çalışarak 24 günde bitiriyor.

Gruba 2 işçi daha katılırsa aynı işi günde 8 saat çalışarak 18 günde bitirdiklerine göre, başlangıçta grupta kaç işçi vardır?

- A) 6 B) 5 C) 4 D) 3 E) 2

22 - 24. soruları aşağıdaki bilgilere göre cevaplayınız.

4		6
	7	

1'den 9'a kadar olan sayılardan bazıları yandaki tabloya yerleştirilmiştir.

Boş olan kutucuklara kalan sayılar aşağıdaki kurallara göre yerleştirilmiştir.

- Her kutucukta farklı sayılar vardır.
- Her sütunda bulunan sayıların toplamı eşittir.
- Sütundaki sayılar yukarıdan aşağıya doğru artmaktadır.

22. Her sütundaki sayıların toplamı kaçtır?

- A) 18 B) 17 C) 16 D) 15 E) 14

23. 2 ile aynı satırda bulunan sayıların toplamı kaçtır?

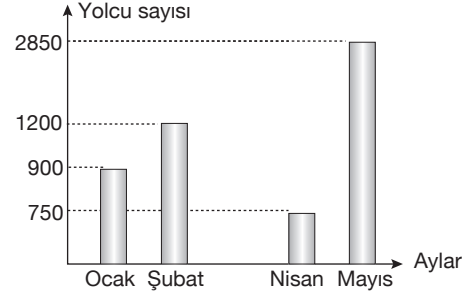
- A) 8 B) 7 C) 6 D) 5 E) 4

24. 7'nin hemen üstündeki kutucukta hangi sayı olmalıdır?

- A) 8 B) 5 C) 3 D) 2 E) 1

25 - 27. soruları aşağıdaki bilgilere göre cevaplayınız.

Aşağıdaki grafik bir otobüs firmasının ocak, şubat, nisan ve mayıs aylarındaki yolcu sayısını göstermektedir.



Otobüs firmasının mart ayındaki yolcu sayısı gösterilmemiştir.

25. Otobüs firmasının beş ayda aylık ortalama 1440 yolcusu olduğuna göre, mart ayındaki yolcu sayısı kaçtır?

- A) 1600 B) 1500 C) 1400
D) 1300 E) 1200

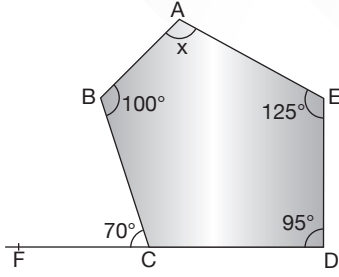
26. Buna göre, otobüs firmasının ocak ayındaki yolcu sayısı nisan ayındaki yolcu sayısından % kaç fazladır?

- A) 10 B) 15 C) 20
D) 25 E) 30

27. Toplam yolcu sayıları bir daire grafiği ile gösterildiğinde şubat ayındaki yolcu sayısı kaç artarsa şubat ayındaki yolcu sayısını gösteren daire diliminin merkez açısı 72° olur?

- A) 200 B) 225 C) 250
D) 275 E) 300

28.



$$m(\widehat{ABC}) = 100^\circ$$

$$m(\widehat{BCF}) = 70^\circ$$

$$m(\widehat{AED}) = 125^\circ$$

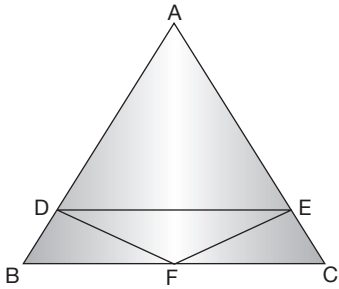
$$m(\widehat{EDC}) = 95^\circ$$

$$m(\widehat{BAE}) = x$$

Yukarıdaki verilere göre, x kaç derecedir?

- A) 105 B) 110 C) 113
D) 115 E) 120

29.



ABC bir üçgen

$$[DE] \parallel [BC]$$

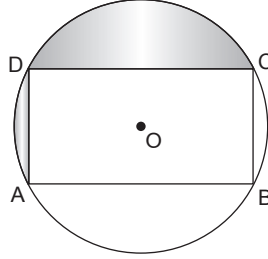
$$2|AD| = 5|BD|$$

$$A(\widehat{DEF}) = 30 \text{ cm}^2$$

Yukarıdaki verilere göre, ABC üçgeninin alanı kaç cm^2 dir?

- A) 147 B) 144 C) 141 D) 139 E) 137

30.



O merkezli çember,

ABCD bir dikdörtgen

$$|BC| = 4 \text{ cm}$$

$$|DC| = 8 \text{ cm}$$

Yukarıda verilenlere göre, taralı bölgelerin alanları toplamı kaç cm^2 dir?

- A) $10\pi - 24$ B) $10\pi - 20$
C) $10\pi - 16$ D) $12\pi - 16$
E) $12\pi - 8$

$$1. \frac{7^2}{2} + \frac{1}{\frac{1}{7} - \frac{1}{3}}$$

işleminin sonucu kaçtır?

- A) $\frac{79}{4}$ B) $\frac{77}{4}$ C) $\frac{67}{4}$ D) $\frac{65}{4}$ E) $\frac{57}{4}$

2. Ardışık dört tek tam sayının toplamının dörtte biri 22 olduğuna göre, bu sayıların en büyüğü kaçtır?

- A) 19 B) 21 C) 23 D) 25 E) 27

3. A sayısı 104 tane 2014 sayısının toplamıdır.

Buna göre, A'nın 9 ile bölümünden kalan kaçtır?

- A) 4 B) 5 C) 6 D) 7 E) 8

4. $A = 15 - x$

$$B = x - 3$$

olduğuna göre, A · B çarpımının alabileceği en büyük değer kaçtır?

- A) 32 B) 35 C) 36 D) 40 E) 45

$$5. \frac{(n+1)!}{(n-1)!} - \frac{(n+1)!}{n!} = 48$$

olduğuna göre, n kaçtır?

- A) 4 B) 5 C) 6 D) 7 E) 8

6. Çevresi 1500 metre olan dairesel bir pistin belli bir noktasından hızları sırasıyla 100 m/sn, 60 m/sn ve 75 m/sn olan üç hareketli aynı anda, aynı yönde hareket ediyor.

Buna göre, bu üç hareketli kaç dakika sonra tekrar birlikte yan yana gelirler?

- A) 5 B) 8 C) 9 D) 10 E) 12

$$7. \frac{1}{4} - \sqrt{\frac{1}{16} + \frac{1}{9}}$$

işleminin sonucu kaçtır?

- A) $\frac{2}{3}$ B) $\frac{1}{6}$ C) $-\frac{1}{24}$
D) $-\frac{1}{12}$ E) $-\frac{1}{6}$

P
E
G
E
M
A
K
A
D
E
M
İ

8. K, L, M, N ve P araçlarının fiyatları sırasıyla k, l, m, n ve p TL'dir.

Bu fiyatlar arasında,

$$k > 3l > m > 3n > p$$

biçiminde bir ilişki vardır.

Buna göre,

- I. K aracı en pahalı olanıdır.
II. P aracı en ucuz olanıdır.
III. N aracı L aracından daha ucuzdur.

ifadelerinden hangileri kesinlikle doğrudur?

- A) Yalnız I B) Yalnız II C) Yalnız III
D) I ve II E) I ve III

$$9. \left(\frac{2^x}{16}\right)^x - \frac{1}{16} = 0$$

olduğuna göre, x kaçtır?

- A) -2 B) -1 C) 0 D) 1 E) 2

10. $-3 \leq x \leq 5$
 $-6 \leq y \leq 3$
olduğuna göre, $x \cdot y$ çarpımının en geniş tanım aralığı aşağıdakilerden hangisidir?
- A) [15, 18] B) [-9, 30] C) [-18, -9]
D) [-30, 18] E) [-30, 15]

11. $\frac{x^3y - xy^3}{x^2y - xy^2} : \left(1 + \frac{y}{x}\right)$
ifadesinin sadeleştirilmiş biçimi aşağıdakilerden hangisidir?
- A) x B) y C) x · y
D) x + y E) x - y

12. Gerçek sayılar kümesi üzerinde f fonksiyonu
 $f(x) = 3x - 5$
biçiminde tanımlanıyor.
 $(f \circ f)(a) = 7$
olduğuna göre, a kaçtır?
- A) 3 B) 4 C) 6 D) 9 E) 12

13. Şeker oranı %20 olan 48 litre şekerli suyun $\frac{1}{4}$ 'ü dö-külüyor. Yerine dökülen miktar kadar şeker oranı %40 olan şekerli su konuyor.
Buna göre, oluşan karışımın şeker oranı yüzde kaçtır?
- A) 20 B) 25 C) 28 D) 30 E) 32

14. a pozitif, b negatif tam sayı olmak üzere;
- I. $a + b$
II. $b - a$
III. $a \cdot b$
IV. $\frac{a}{b}$
işlemlerinden hangilerinin sonucu her zaman negatif bir tam sayıdır?
- A) I ve III B) II ve IV C) II ve III
D) III ve IV E) II, III ve IV

15. Ağırlıkları toplamı 184 kilogram olan 18 ve 24 yaşlarındaki iki kardeş, yaşları ile doğru orantılı olarak zayıflayarak kilolarını eşitlemiştir.
İki kardeşin zayıfladıktan sonraki ağırlıklarının toplamı 170 kilogram ise küçük kardeşin zayıflamadan önce ağırlığı kaç kilogramdır?
- A) 91 B) 88 C) 85 D) 82 E) 80

16. Bir trafik lambasındaki ışıklardan sırası ile önce kırmızı 72 sn, sonra sarı 3 sn ve daha sonra yeşil 40 sn yanmaktadır. Bu trafik lambası yeşilden sonra tekrar kırmızıya dönmekte ve yine bu sıralamada yanmaktadır.
Buna göre, kırmızı ışıktan başlamak üzere sarı ışık 9. kez yanıp söndüğünde başlangıçtan itibaren kaç saniye geçmiş olur?
- A) 980 B) 985 C) 990
D) 995 E) 1000

17. - 18. soruları aşağıdaki bilgilere göre birbirinden bağımsız olarak cevaplayınız.

Her saatte 6 dakika olmak üzere düzenli olarak ileri giden bir dijital saat, 11.00'de doğru zamana ayarlanmıştır.

17. Ayarlamamanın yapıldığı gün doğru zamanın 19.00 olduğu anda saat kaç dakika ileri gitmiş olur?

- A) 42 B) 48 C) 54 D) 60 E) 66

18. Ayarlamamanın yapıldığı günün ertesi sabahında, doğru zamana göre 06.00'da uyanmak isteyen bir kişi, saatini kaçta kurmalıdır?

- A) 03.28 B) 03.32 C) 07.06
D) 08.28 E) 07.54

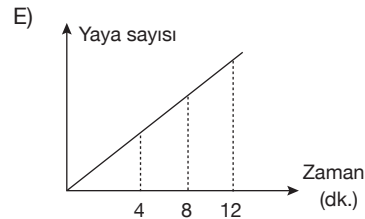
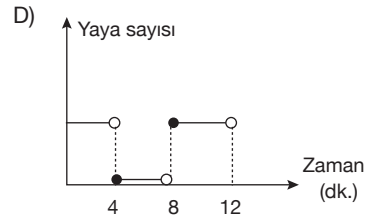
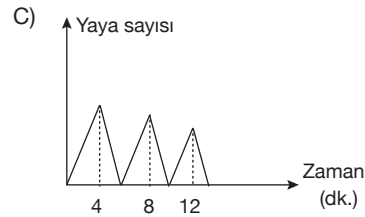
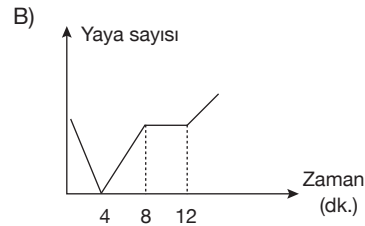
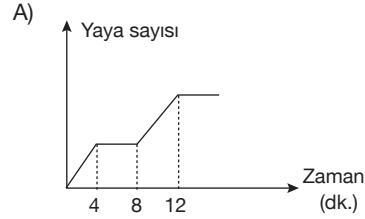
19. Bir sınıftaki öğrencilerin %50'si matematik, %85'i Türkçe dersinde başarılı olmuştur. Her iki derste de başarılı olan öğrenci sayısı 14'tür.

Her öğrenci bu derslerin en az birinde başarılı olduğuna göre, sınıfta kaç öğrenci vardır?

- A) 40 B) 35 C) 30 D) 28 E) 21

20. Yayaların sayısının her geçen dakika arttığı bir yaya geçidinde yeşil ışık her 4 dakikada bir yanmaktadır.

Karşıya geçmek için bekleyen yayaların sayısının zamana göre değişimini modelleyen en uygun grafik aşağıdakilerden hangisi olabilir?



KPSS

2024

**GENEL YETENEK
GENEL KÜLTÜR**



TARİH

TAMAMI ÇÖZÜMLÜ

300

DENEME

**SORULARIN ÇÖZÜMLERİNE
ULAŞMAK İÇİN
QR KODU OKUTUNUZ**



PEGEM AKADEMİ



KPSS TARİH TAMAMI ÇÖZÜMLÜ 30 DENEME

Komisyon

ISBN 978-625-6890-65-7

Kitapta yer alan bölümlerin tüm sorumluluğu yazarlarına aittir.

Bu kitabın basım, yayım ve satış hakları Pegem Akademi Yay. Eğt. Dan. Hizm. Tic. AŞ'ye aittir. Anılan kuruluşun izni alınmadan kitabın tümü ya da bölümleri, kapak tasarımı; mekanik, elektronik, fotokopi, manyetik kayıt ya da başka yöntemlerle çoğaltılmaz, basılamaz ve dağıtılamaz. Bu kitap, T.C. Kültür ve Turizm Bakanlığı bandrolü ile satılmaktadır. Okuyucularımızın bandrolü olmayan kitaplar hakkında yayinevimize bilgi vermesini ve bandrolsüz yayınları satın almamasını diliyoruz.

Pegem Akademi Yayıncılık, 1998 yılından bugüne uluslararası düzeyde düzenli faaliyet yürüten uluslararası akademik bir yayınevidir. Yayımladığı kitaplar; Yükseköğretim Kurulunca tanınan yükseköğretim kurumlarının kataloglarında yer almaktadır. Dünyadaki en büyük çevrimiçi kamu erişim kataloğu olan WorldCat ve ayrıca Türkiye'de kurulan Turcademy.com tarafından yayınları taranmaktadır, indekslenmektedir. Aynı alanda farklı yazarlara ait 1000'in üzerinde yayını bulunmaktadır. Pegem Akademi Yayınları ile ilgili detaylı bilgilere <http://pegem.net> adresinden ulaşılabilmektedir.

1. Baskı: Eylül 2023, Ankara

Proje-Yayın: Deniz Şahan
Dizgi-Grafik Tasarım: Seyyide Bayraktar
Kapak Tasarımı: Pegem Akademi

Baskı: Vadi Grup Basım AŞ
Saray Mah. 126 Cad. No: 20/A
Kazan/ANKARA
Tel: (0312) 802 00 53-54

Yayıncı Sertifika No: 51818
Matbaa Sertifika No: 49180

İLETİŞİM



Shira Ticaret Merkezi, Macun Mahallesi 204 Cad.
No: 141/33, Yenimahalle/Ankara



Yayınevi: 0312 430 67 50
Dağıtım: 0312 434 54 24
Hazırlık Kursları: 0312 419 05 60



www.pegem.net



pegem@pegem.net



0538 594 92 40



[pegemakademi](https://www.instagram.com/pegemakademi)

Sevgili Kamu Personeli Adayları,

KPSS Genel Kültür testinde önemli bir yer tutan “Tarih” kapsamındaki sorular, yıllara göre analiz edilmiş ve bu analiz sonuçlarına göre kitabınızda yer alan deneme sınavları oluşturulmuştur.

Sınavda başarılı olabilmek için yeterli bilgi düzeyinin yanı sıra çok sayıda soruyu anlayarak hızlı bir şekilde cevaplamak gerekmektedir. Bu koşul göz önünde bulundurularak sınavda karşınıza çıkabilecek soru türleri çözümleri ile birlikte sizlere sunulmuştur. Çözümlere ulaşabilmeniz için aşağıda yer alan bildirim inceleyebilir, kitaba ilişkin sorularınızı pegem@pegem.net adresine mail yolu ile ya da 0538 594 92 40 numaralı telefonumuza WhatsApp yolu ile iletebilir olduğunuzu belirtiriz.

KPSS yayınlarında hissedilen önemli bir eksikliği gidermek ve adaylara daha nitelikli ve kapsamlı bir kaynak sunmak amacıyla böyle bir çalışma hazırlanmıştır. Kitaptaki denemeler hazırlanırken her sorunun KPSS formatına bire bir uygun olmasına özen gösterilmiş, çıkması muhtemel tüm konulara da gerektiği kadar yer verilmiştir.

Pegem Akademi Yayıncılık olarak bütün KPSS adaylarına başarılar dileriz.

Pegem Akademi Yayıncılık

Tarih Sorularının
çözümleri için QR
kodu okutunuz.



Karekod okutmak için tavsiye
edilen uygulamalar



QR Droid



Qrafter

pegem.net'ten ulaşmak için
<https://depo.pegem.net/2024-gygk-tarih30deneme.cozum.pdf>

Ön Söz.....	iii
Deneme 1	1
Deneme 2	4
Deneme 3	7
Deneme 4	10
Deneme 5	13
Deneme 6	16
Deneme 7	19
Deneme 8	22
Deneme 9	25
Deneme 10.....	28
Deneme 11.....	31
Deneme 12.....	34
Deneme 13.....	37
Deneme 14.....	40
Deneme 15.....	43
Deneme 16.....	46
Deneme 17.....	49
Deneme 18.....	52
Deneme 19.....	55
Deneme 20.....	58
Deneme 21.....	62
Deneme 22.....	65
Deneme 23.....	69
Deneme 24.....	72
Deneme 25.....	76
Deneme 26.....	79
Deneme 27.....	83
Deneme 28.....	86
Deneme 29.....	89
Deneme 30.....	93
Cevap Anahtarı.....	97

1. İslamiyet öncesi Türklere ait aşağıdaki eşleştirmelerden hangisi yanlış verilmiştir?

- A) Budun – Aile
- B) Otağ – Hükümdar çadırı
- C) Ataman - Tigin eğitmeni
- D) Balbal – Mezar taşı
- E) Ayukı - Hükümet

2. Aşağıdakilerden hangisi Mısır'da Türk İslam kültürünün gelişmesine katkı sağlayan devletlerden biri değildir?

- A) İhşidiler
- B) Gazneliler
- C) Memlûkler
- D) Tolunoğulları
- E) Eyyübîler

3. Anadolu'da Türk hâkimiyetinin kesinleşmesini sağlayan savaş aşağıdakilerden hangisidir?

- A) Dandanakan
- B) Pasinler
- C) Malazgirt
- D) Köseadağ
- E) Miryokefalon

4. Orhan Bey Dönemi'nde aşağıdaki beyliklerden hangisine son verilmesi, Osmanlı Devleti'nin Rumeli Bölgesi'ne geçişine ortam hazırlamıştır?

- A) Eretnaoğulları
- B) Candaroğulları
- C) Karesioğulları
- D) Germiyanogulları
- E) Hamitoğulları

5.

- Mora Yarımadası alınmıştır.
- Doğu Roma İmparatorluğu'na son verilmiştir.
- Bosna ve Hersek fethedilmiştir.

Verilen gelişmeler aşağıdaki padişahlardan hangisinin döneminde gerçekleşmiştir?

- A) I. Selim
- B) II. Mehmet
- C) I. Bayezid
- D) I. Süleyman
- E) I. Mehmet

6. Aşağıdakilerden hangisi Osmanlı eğitim sistemiyle ilgili doğru bir bilgi değildir?

- A) Loncalar mesleki eğitim verilen kurumlardır.
- B) Medreselerde eğitim gören öğrencilere suhte adı verilmiştir.
- C) Müderris atamaları nişancı tarafından yapılmıştır.
- D) Devşirmelerin eğitimi için Acemi Ocağı kurulmuştur.
- E) Müderris yardımcılarına muid adı verilmiştir.

7. Aşağıdakilerden hangileri Osmanlı Devleti'nde uygulanan müsadere usulünün amaçlarından biridir?

- A) Fetihlerin kalıcı olmasını sağlamak
- B) Salyaneli eyaletlerde vergileri düzenli hale getirmek
- C) Kapıkulu ordusuna asker temin etmek
- D) Tımarlı sipahilerin yetişmesini sağlamak
- E) Devlet malını güvence altına almak

8. Osmanlı Klasik Dönemi'nde Anadolu'da kaza yöneticiliği görevini üstlenen devlet görevlisi aşağıdakilerden hangisidir?

- A) Beylerbeyi
- B) Kadı
- C) Mütevellî
- D) Tımarlı sipahi
- E) Subaşı

9.

- I. Edirne Üç Şerefeli Cami
- II. Çırağan Sarayı
- III. Mostar Köprüsü

Osmanlı Devleti'ne ait yukarıdaki mimari eserlerden hangilerinde Batı mimarisinin etkisinden söz edilebilir?

- A) Yalnız I
- B) Yalnız II
- C) Yalnız III
- D) II ve III
- E) I, II ve III

10. Osmanlı Devleti'nde;

- I. Vaka-i Vakvakiye,
- II. Kabakçı Mustafa İsyanı,
- III. Edirne Vakası

gelişmelerinden hangilerinin taht değişikliğine yol açtığı söylenebilir?

- A) Yalnız II
- B) Yalnız III
- C) I ve II
- D) II ve III
- E) I, II ve III

11. Osmanlı Devleti'nde XVIII. yüzyılda;

- I. ordu,
- II. eğitim,
- III. diplomasi

alanlarından hangilerine yönelik düzenlemelere yer verildiği savunulabilir?

- A) Yalnız I
- B) Yalnız II
- C) I ve III
- D) II ve III
- E) I, II ve III

12. Osmanlı Devleti ile Rusya arasında yaşanan Kırım Savaşı aşağıdakilerden hangisi ile son bulmuştur?

- A) Ayastefanos Antlaşması
- B) Edirne Antlaşması
- C) Berlin Antlaşması
- D) Paris Antlaşması
- E) Balta Limanı Antlaşması

13. XIX. yüzyılda ortaya çıkan, temsilcileri arasında Ziya Paşa, Mithat Paşa ve Namık Kemal'in yer aldığı fikir akımı aşağıdakilerden hangisidir?

- A) İslamcılık
- B) Osmanlıcılık
- C) Türkçülük
- D) Ademimerkeziyetçilik
- E) Turancılık

14. Aşağıdakilerden hangisi İkinci Meşrutiyet Dönemi'nin gelişmeleri arasında gösterilemez?

- A) 31 Mart Vakası
- B) Çırağan Baskını
- C) Trablusgarp Savaşı
- D) Babıali Baskını
- E) Balkan Savaşları

15. Aşağıdakilerden hangisi Birinci Dünya Savaşı'nda Osmanlı Devleti tarafından açılan taarruz cephelelerinden biridir?

- A) Kafkasya
- B) Hicaz – Yemen
- C) Irak – Basra
- D) Çanakkale
- E) Suriye – Filistin

16. Mondros Mütarekesi'ne İstanbul Hükümetinin Bahriye Nazırı olarak katılan devlet adamı aşağıdaki hangisidir?

- A) Ahmet İzzet Paşa
- B) Hüseyin Rauf Paşa
- C) Damat Ferit Paşa
- D) Salih Paşa
- E) Ali Rıza Paşa

17. Millî Mücadele yıllarında Misakımillî sınırlarının belirlenmesine yönelik karar aşağıdakilerden hangisi ile alınmıştır?

- A) Havza Bildirisi
- B) Amasya Görüşmesi
- C) Erzurum Kongresi
- D) Amasya Genelgesi
- E) Samsun Raporu

18. Millî Mücadele Dönemi'ne ait aşağıdaki gelişmelerin hangileri arasında neden-sonuç ilişkisi kurulmaz?

- A) Eskişehir-Kütahya Savaşları – Tekâlif-i Milliye Emirleri'nin yayımlanması
- B) Birinci İnönü Savaşı – Londra Konferansı'nın düzenlenmesi
- C) Sakarya Savaşı – Doğu Trakya'nın teslim alınması
- D) Birinci İnönü Savaşı – 1921 Anayasası'nın kabul edilmesi
- E) Büyük Taarruz – İzmir'in Yunan işgalinden kurtarılması

19. Aşağıdakilerden hangisi Lozan Görüşmeleri'nin düzenlenmesi için çağrı yapan devletler arasında **yer almaz?**

- A) Japonya B) İngiltere C) Fransa
D) Yunanistan E) İtalya

20. Aşağıdakilerden hangisi Terakkiperver Cumhuriyet Fırkasının kapatılmasına ortam hazırlayan gelişmelerden biridir?

- A) Vagon Lits Olayı
B) İzmir Suikast Girişimi
C) Koçgiri Aşireti İsyanı
D) Menemen Olayı
E) Şeyh Sait İsyanı

21.

- I. 1924 Anayasası'nın kabul edilmesi
II. Lozan Antlaşması'nın onaylanması
III. Saltanatın kaldırılması
IV. Ankara'nın başkent olması

Yukarıdakilerden hangileri II. TBMM Dönemi'nin gelişmeleri arasında yer almıştır?

- A) Yalnız II B) I ve IV C) II ve III
D) I, II ve IV E) II, III ve IV

22. Serbest Cumhuriyet Fırkasının;

- I. milliyetçilik,
II. devletçilik,
III. laiklik

ilkelerinden hangilerini benimsediği söylenebilir?

- A) Yalnız I B) Yalnız II C) I ve III
D) II ve III E) I, II ve III

23. Atatürk Dönemi'nde kadınlara;

- I. siyasi,
II. ekonomik,
III. sosyal

alanlarından hangileri ile ilgili haklar Türk Medeni Kanunu'nun kabulü ile tanınmıştır?

- A) Yalnız I B) Yalnız II C) I ve III
D) II ve III E) I, II ve III

24. 1934 yılında kurulan Balkan Antantı'nın merkezi aşağıdaki şehirlerden hangisi olmuştur?

- A) Tahran B) Atina
C) Moskova D) Sofya
E) Bükreş

25. 1943 yılında Türkiye, İngiltere ve ABD arasında düzenlenen konferansta, Türkiye'nin Müttefik Devletlerin yanında İkinci Dünya Savaşı'na girmesi konusu gündeme gelmiştir.

Buna göre sözü edilen konferans aşağıdakilerden hangisidir?

- A) Potsdam B) Adana C) Yalta
D) Kahire E) San Francisco

P
E
G
E
M
A
K
A
D
E
M
İ

26.

- I. Küba Füze Krizi
II. 11 Eylül Saldırıları
III. Kore Savaşı

Yukarıdakilerden hangileri Yumuşama Dönemi'nin çatışmaları arasında gösterilemez?

- A) Yalnız I B) Yalnız II C) Yalnız III
D) I ve II E) II ve III

27. Dünya tıp tarihinde "Yüzyılın Beyin Cerrahı" olarak kabul edilen ve 2000 yılında Türkiye Cumhuriyeti Devlet Üstün Hizmet Madalyası verilen Türk bilim insanı aşağıdakilerden hangisidir?

- A) Nezih Özkan
B) Mehmet Haberal
C) Gazi Yaşargil
D) Berrin Aktekin
E) Uğur Türe

1. VI. yüzyılda İpek Yolu hakimiyeti için Soğd-
lu tüccarları güvence altına alan, Doğu Roma
İmparatorluğu ile ittifak kurulup Sasani-
lere karşı mücadele eden Türk devleti aşağıdakilerden han-
gisidir?

- A) Hazar Devleti
- B) I. Kök Türk Devleti
- C) Uygur Devleti
- D) Avar Devleti
- E) Kutluk Devleti

2. Selçuklularda geliri belirli bir hizmet karşılığında
komutanlara ve devlet memurlarına ayrılan arazi-
lere verilen ad aşağıdakilerden hangisidir?

- A) Ahi
- B) Gulam
- C) İkta
- D) Vakıf
- E) Haraciye

3. Malazgirt Savaşı'ndan sonra Erzincan, Divriği, Ke-
mah ve Şebinkarahisar yöresinde hâkimiyet kuran
Türk beyliği aşağıdakilerden hangisidir?

- A) Mengücekliler
- B) Sökmenoğulları
- C) Çaka Beyliği
- D) Dilmaçoğulları
- E) Artuklular

4.

- I. Sırpsındığı Savaşı
- II. Bafeus Savaşı
- III. Palekanon Savaşı

Yukarıdakilerden hangileri Osmanlı Devleti'nin Ru-
meli Bölgesi'ndeki faaliyetleri arasında yer almış-
tır?

- A) Yalnız I
- B) Yalnız II
- C) Yalnız III
- D) I ve II
- E) I, II ve III

5.

- Trabzon Rum İmparatorluğu'na son verilmesi
- Kefe Seferi'nin düzenlenmesi
- Cenevizlilerden Amasra'nın alınması

Bu gelişmeler aşağıdaki padişahların hangisi dö-
neminde gerçekleşmiştir?

- A) Yavuz Sultan Selim
- B) Fatih Sultan Mehmet
- C) II. Selim
- D) Kanuni Sultan Süleyman
- E) II. Bayezid

6. Osmanlı Devleti'nde XVI. yüzyıldan itibaren devlet
yöneticilerine emekli maaşı yerine tahsis edilen
arazilere verilen ad aşağıdakilerden hangisidir?

- A) Öşriyye arazileri
- B) Ocaklık arazileri
- C) Arpalık arazileri
- D) Mukataa arazileri
- E) Yurtluk arazileri

7. Osmanlı Devleti'nde yönetici sınıf; seyfiye, ilmiye ve
kalemiye olarak üçe ayrılmıştır.

Buna göre aşağıdakilerden hangisi yönetici sınıf
için kullanılan kavramlardan biridir?

- A) Reaya
- B) Ehl-i hiref
- C) Beraya
- D) Ulah
- E) Tebaa

8. Osmanlı Devleti'nde yabancı devlet temsilcilerinin
kabul edildiği divan aşağıdakilerden hangisidir?

- A) Ayak Divanı
- B) İkinci Divanı
- C) Çarşamba Divanı
- D) Galebe Divanı
- E) Ağa Divanı

9. Osmanlı Devleti'nde Nizam-ı Cedid Dönemi'nin
son bulmasına ortam hazırlayan gelişme
aşağıdakilerden hangisidir?

- A) Kabakçı Mustafa İsyanı
- B) Çınar Vakası
- C) Patrona Halil İsyanı
- D) Edirne Vakası
- E) Alemdar Mustafa Paşa İsyanı

KPSS

2024

**GENEL YETENEK
GENEL KÜLTÜR**



COĞRAFYA

TAMAMI ÇÖZÜMLÜ

30

DENEME

**SORULARIN ÇÖZÜMLERİNE
ULAŞMAK İÇİN
QR KODU OKUTUNUZ**



PEGEM AKADEMİ



KPSS COĞRAFYA TAMAMI ÇÖZÜMLÜ 30 DENEME

Komisyon

ISBN 978-625-6890-67-1

Kitapta yer alan bölümlerin tüm sorumluluğu yazarlarına aittir.

Bu kitabın basım, yayım ve satış hakları Pegem Akademi Yay. Eğt. Dan. Hizm. Tic. AŞ'ye aittir. Anılan kuruluşun izni alınmadan kitabın tümü ya da bölümleri, kapak tasarımı; mekanik, elektronik, fotokopi, manyetik kayıt ya da başka yöntemlerle çoğaltılmaz, basılamaz ve dağıtılamaz. Bu kitap, T.C. Kültür ve Turizm Bakanlığı bandrolü ile satılmaktadır. Okuyucularımızın bandrolü olmayan kitaplar hakkında yayınevimize bilgi vermesini ve bandrolsüz yayınları satın almamasını diliyoruz.

Pegem Akademi Yayıncılık, 1998 yılından bugüne uluslararası düzeyde düzenli faaliyet yürüten uluslararası akademik bir yayınevidir. Yayımladığı kitaplar; Yükseköğretim Kurulunca tanınan yükseköğretim kurumlarının kataloglarında yer almaktadır. Dünyadaki en büyük çevrimiçi kamu erişim kataloğu olan WorldCat ve ayrıca Türkiye'de kurulan Turcademy.com tarafından yayınları taranmaktadır, indekslenmektedir. Aynı alanda farklı yazarlara ait 1000'in üzerinde yayını bulunmaktadır. Pegem Akademi Yayınları ile ilgili detaylı bilgilere <http://pegem.net> adresinden ulaşılabilir.

1. Baskı: Ekim 2023, Ankara

Proje-Yayın: Deniz Şahan
Dizgi-Grafik Tasarım: Seyide Bayraktar
Kapak Tasarımı: Pegem Akademi

Baskı: Vadi Grup Basım AŞ
Saray Mah. 126 Cad. No: 20/A
Kazan/ANKARA
Tel: (0312) 802 00 53-54

Yayıncı Sertifika No: 51818
Matbaa Sertifika No: 49180

İLETİŞİM



Shira Ticaret Merkezi, Macun Mahallesi 204 Cad.
No: 141/33, Yenimahalle/Ankara



Yayınevi: 0312 430 67 50

Dağıtım: 0312 434 54 24

Hazırlık Kursları: 0312 419 05 60



www.pegem.net



pegem@pegem.net



0538 594 92 40



[pegemakademi](https://www.instagram.com/pegemakademi)

Sevgili Kamu Personel Adayları,

KPSS Genel Kültür testinde önemli bir yer tutan “Coğrafya” kapsamındaki sorular, yıllara göre analiz edilmiş ve bu analiz sonuçlarına göre kitabınızda yer alan denemeler oluşturulmuştur.

Sınavda başarılı olabilmek için yeterli bilgi düzeyinin yanı sıra çok sayıda soruyu anlayarak hızlı bir şekilde cevaplamak gerekmektedir. Bu koşul göz önünde bulundurularak sınavda karşınıza çıkabilecek soru türleri çözümleri ile birlikte sizlere sunulmuştur. Çözümlere ulaşabilmeniz için aşağıda yer alan bildirim inceleyebilir, kitaba ilişkin sorularınızı pegem@pegem.net adresine mail yolu ile ya da 0538 594 92 40 numaralı telefonumuza WhatsApp yolu ile iletebilir olduğunuzu belirtiriz.

KPSS yayınlarında hissedilen önemli bir eksikliği gidermek ve adaylara daha nitelikli ve kapsamlı bir kaynak sunmak amacıyla böyle bir çalışma hazırlanmıştır. Kitaptaki denemeler hazırlanırken her sorunun KPSS formatına bire bir uygun olmasına özen gösterilmiş, çıkması muhtemel tüm konulara da gerektiği kadar yer verilmiştir.

“KPSS Coğrafya 30 Deneme” kitabımızın hepimize faydalı olacağını umuyor, Pegem Akademi Yayıncılık olarak bütün KPSS adaylarına başarılar diliyoruz.

Pegem Akademi Yayıncılık

*Coğrafya Sorularının
çözümleri için QR
kodu okutunuz.*



*Karekod okutmak için tavsiye
edilen uygulamalar*



QR Droid



Qrafter

*pegem.net'ten ulaşmak için
<https://depo.pegem.net/2024-gygk-cografya30deneme.cozum.pdf>*

Deneme 01.....	1
Deneme 02.....	4
Deneme 03.....	7
Deneme 04.....	10
Deneme 05.....	13
Deneme 06.....	16
Deneme 07.....	19
Deneme 08.....	22
Deneme 09.....	25
Deneme 10.....	28
Deneme 11.....	31
Deneme 12.....	34
Deneme 13.....	37
Deneme 14.....	40
Deneme 15.....	43
Deneme 16.....	46
Deneme 17.....	49
Deneme 18.....	52
Deneme 19.....	55
Deneme 20.....	58
Deneme 21.....	61
Deneme 22.....	63
Deneme 23.....	66
Deneme 24.....	68
Deneme 25.....	71
Deneme 26.....	74
Deneme 27.....	77
Deneme 28.....	80
Deneme 29.....	83
Deneme 30.....	86
Cevap Anahtarı.....	89

1. Türkiye'nin koordinatları belirtilirken aşağıdaki ifadelerden hangisi kullanılmaz?

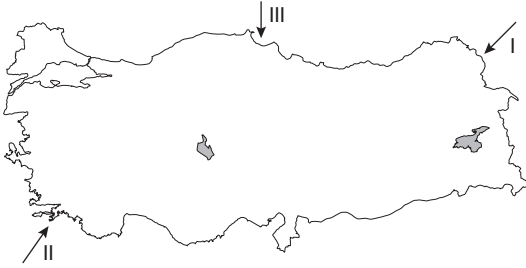
- A) 36° Kuzey B) 26° Doğu
C) 42° Kuzey D) 33° Doğu
E) 45° Doğu

2. Ahmet Bey ve eşi Selma Hanım gençlik hayalleri olan gün doğuşunu uzun uzun seyretme fikrini tekrardan gündeme alırlar. Yurt dışı seyahati için yeterli bütçeleri olmadığını fark eden çift, ülke içinde güzel bir şehir görüp aynı zamanda da gün doğuşunu seyretmeye karar verirler.

Bodrum'da bulunan Ahmet Bey ve eşi aşağıdaki şehirlerin hangisine seyahat ederse en uzun gün doğumunu izleyebilirler?

- A) Sinop B) Mardin
C) Çanakkale D) Erzurum
E) Hatay

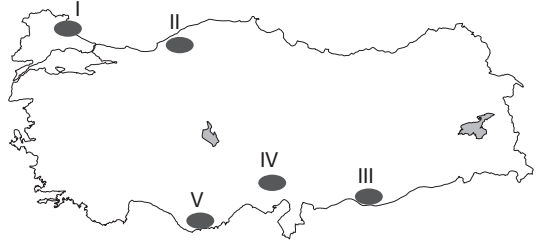
3.



Yukarıdaki Türkiye haritasında numaralandırılarak gösterilen rüzgârlar aşağıdakilerden hangisinde doğru eşleştirilmiştir?

	I	II	III
A)	Sam yeli	Kible	Lodos
B)	Poyraz	Lodos	Yıldız
C)	Kible	Karayel	Lodos
D)	Lodos	Yıldız	Poyraz
E)	Karayel	Poyraz	Sam yeli

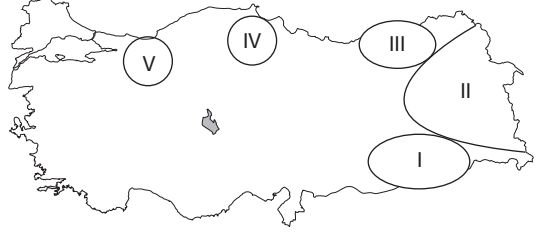
4.



Yukarıdaki Türkiye haritasında numaralandırılarak gösterilen yerlerden hangisi masif arazilerden değildir?

- A) I B) II C) III D) IV E) V

5.



Yukarıda Türkiye haritasında numaralandırılarak verilen yerlerin tümü bölgesel kalkınma planı uygulama alanlarıdır.

Bu alanlardan hangisinde uygulanan ya da uygulanması beklenen projenin temel amacı diğerlerinden farklıdır?

- A) I B) II C) III D) IV E) V

6. Aşağıdaki akarsulardan hangisi hem kaynağını Anadolu'dan alıp, hem de ağzında delta ovası oluşturarak yine Anadolu'dan denize dökülen akarsulardandır?

- A) Fırat B) Gediz C) Dalaman
D) Asi E) Sakarya

7.

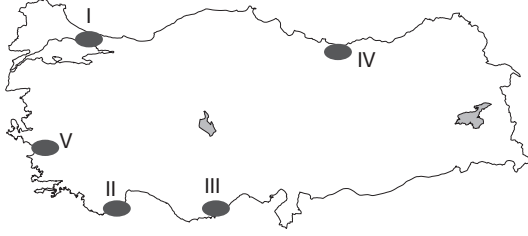
- Fazla çocuklu aileler bazı vergilerden muaf tutulmuştur.
- Evlenme yaşı 15'e indirilmiştir.
- Gebeliği önleyici ilaçların kullanılması ve satılması yasaklanmıştır.

Yukarıda ülkemizde bir dönem uygulanan nüfus politikasına ait özellikler verilmiştir.

Verilen bu özellikler aşağıdaki dönemlerden hangisine aittir?

- A) 1923 - 1963
B) 1963 - 1980
C) 1980 - 2005
D) 2005 - 2014
E) 2014 ve sonrası

8.



Yukarıdaki Türkiye haritası üzerinde numaralandırılmış taralı alanlar ile bu alanlarda görülen kıyı tipleri eşleştirmelerinden hangisi yanlıştır?

- A) I → Ria Kıyı
B) II → Dalmaçya Kıyı
C) III → Boyuna Kıyı
D) IV → Boyuna Kıyı
E) V → Enine Kıyı

9.

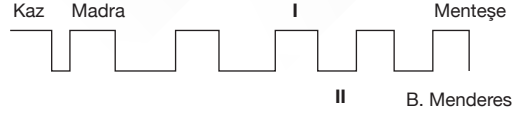
- I. Taş kömürü yataklarının oluşumu - I. Jeolojik Devir
II. Uludağ volkanik yapısının oluşumu - II. Jeolojik Devir
III. İstanbul - Çanakkale boğazlarının oluşumu - IV. Jeolojik Devir

Yukarıda Türkiye'de yaşanan jeolojik olaylar ve yaşandığı jeolojik devirler eşleştirilmiştir.

Yapılan eşleştirmelerin hangileri doğrudur?

- A) Yalnız I
B) I ve II
C) Yalnız III
D) II ve III
E) I, II ve III

10.



Yukarıda Ege Bölgesi'nde bulunan horst ve grabenlerin gösterildiği bir şekil verilmiştir.

Verilen şekilde numaralandırılmış yerlere aşağıdakilerden hangisi yazılmalıdır?

	I	II
A)	Boz	Gediz
B)	Boz	Küçük Menderes
C)	Aydın	Bakırçay
D)	Yunt	Gediz
E)	Aydın	Küçük Menderes

P
E
G
E
M
A
K
A
D
E
M
İ

11. Türkiye'de dokusuna göre kırsal yerleşmeler toplu ve dağınık yerleşmeler olarak ikiye ayrılır.

Bu bilgiye göre aşağıdaki yerlerin hangisinde köyaltı yerleşmeleri toplu yerleşme şeklindedir?

- A) Rize
B) Artvin
C) Giresun
D) Karabük
E) Ankara

12.

- Türkiye'nin ilk transit konteyner limanıdır.
- 1200 kişilik istihdam gücüne sahiptir.
- Avrupa'nın 10. büyük transit limanıdır.

Genel özellikleri verilen "Asyaport" aşağıdaki şehirlerden hangisinin sınırları içinde yer alır?

- A) Tekirdağ
B) Samsun
C) İstanbul
D) Mersin
E) Bursa

13. Türkiye 1983 yılında UNESCO'ya resmen üye olmuştur. UNESCO'nun Dünya Mirası Listesi'nde Türkiye'nin 17'si kültürel, 2'si karma olmak üzere 19 miras alanı bulunmaktadır.

Aşağıda verilen alanlardan hangisi UNESCO Dünya Miras Listesi'nde bulunan karma alanlardandır?

- A) İstanbul Tarihi Alanları
B) Ani Arkeolojik Alanı
C) Göreme Millî Parkı ve Kapadokya
D) Safranbolu Şehri
E) Xanthos - Letoon

14. Aşağıdaki yerlerden hangisi Türkiye'nin 2023 Turizm Stratejisi'ne göre İpek Yolu Turizm Koridoru üzerinde yer alır?

- A) Kartalkaya B) Hayrabolu C) Ayaş
D) Hopa E) Mudanya

15.

- I. Sarayköy - Jeotermal
II. Ambarlı - Linyit
III. Yatağan - Taş kömürü
IV. Çatalağzı - Taş kömürü
V. Keban - Su

Yukarıda ülkemizde bulunan beş enerji santrali ve bunların enerji ürettiği kaynaklar eşleştirilmiştir.

Yapılan eşleştirmelerden hangileri yanlıştır?

- A) I ve II B) I ve III C) II ve III
D) I ve V E) IV ve III

16. Aşağıda Türkiye haritasında bazı platolarımız ve bu platolarda yaygın yapılan hayvancılık faaliyetleri verilmiştir.



Buna göre aşağıdaki hayvancılık faaliyetlerinden hangisi yanlış gösterilmiştir?

- A) Büyükbaş (Mera)
B) Kıl keçiciliği
C) Küçükbaş
D) Büyükbaş (Besi)
E) İpek böcekçiliği

17. Aşağıdaki tarım ürünlerinin yetiştirme alanları dikkate alındığında hangisinin ekonomik getirisi az olduğu için üretimi kıyı bölgelerde yapılamaz?

- A) Şeker pancarı B) Çay C) Muz
D) Zeytin E) Mısır

18. Aşağıda verilen sanayi kollarına ait işletmelerden hangisinde kurulum yeri seçilirken ham maddeye yakınlık gözetilmemiştir?

- A) Çanakkale - Konserve Sanayisi
B) Karabük - Demir-Çelik Sanayisi
C) Ankara - Şeker Fabrikası
D) Rize - Çay Fabrikası
E) Giresun - Kâğıt Fabrikası

1. Aşağıdaki özelliklerden hangisi Türkiye'nin Kuzey Yarım Küre'de olduğunu kanıtlar?

- A) En sıcak ayların 6, 7 ve 8. aylar olması
- B) Batı rüzgârlarından etkilenmesi
- C) Akarsuların doğu-batı doğrultusunda akması
- D) Cephe yağışlarının görülmesi
- E) Yıl içinde güneşi dik açıyla almaması

2. Türkiye'de dış kuvvetler içerisinde buzulların etkisi diğer dış kuvvetlere göre çok daha azdır. Orta Kuşak'ta bulunan Türkiye'de buzullar sadece yüksek dağ yamaçlarında etkili olabilir.

Hatta buzul vadilerin sular altında kalmasıyla oluşan fiyort kıyı tipi de Türkiye'de görülmez.

Bu durum Türkiye'nin aşağıdaki özelliklerinden hangisi ile ilgilidir?

- A) Yüz ölçümüyle
- B) Özel konumuyla
- C) Kuzey Yarım Küre'de olmasıyla
- D) Dağların uzanış doğrultusuyla
- E) Orta Kuşak'ta olmasıyla

3. Aşağıda verilen elektrik santrallerinden hangisinde kullanılan enerji kaynağı linyit değildir?

- A) Manisa (Soma)
- B) Muğla (Yatağan)
- C) Denizli (Sarayköy)
- D) Maraş (Elbistan)
- E) Ankara (Çayırhan)

4.

- I. Üretimi devlet kontrolündedir.
- II. Kalitenin düşmemesi için kota koyulan ürünlerdendir.
- III. Bütün coğrafi bölgelerimize uyum sağlamıştır.
- IV. Üretimi en fazla Adıyaman'da yapılır.

Verilen özellikler aşağıdaki tarım ürünlerinden hangisine aittir?

- A) Çeltik
- B) Tütün
- C) Haşhaş
- D) Kenevir
- E) Çay

5. Bir yanardağdan akan lavın üst kısmının soğuyarak kalınlaşması ve bu katı kısmın altından lavların akmaya devam etmesiyle oluşan çoğunlukla tüp şekilli mağaralara "Lav Tüpü Mağarası" denir.

Türkiye'nin bu özelliklere sahip ilk mağarası aşağıdaki illerden hangisinde yer almaktadır?

- A) Konya
- B) Adıyaman
- C) Hatay
- D) İzmir
- E) Manisa

6.

- I. Doğu Anadolu ve Güney Doğu Anadolu'da tarım ve hayvancılık için kurulan sürekli köyaltı yerleşmelerdir.
- II. Türkiye'deki en yaygın köyaltı yerleşmedir. Yazları hayvan otlatmak amacıyla kurulan bu yerleşmeler bazen ekoturizm amaçlı da kullanılır. Karadeniz ve Akdeniz'de yaygın görülür.
- III. Batı Karadeniz'de köyden yüksek ve birbirine uzak kurulmuş evlerden oluşan tarım, hayvancılık alanlarıdır.
- IV. Marmara'nın ve Ege'nin güneyinde kurulan küçük balıkçılık barınaklarıdır.

Verilen bilgiler aşağıdaki köyaltı yerleşmeleri ile eşleştirildiğinde hangisi dışarıda kalır?

- A) Mezra
- B) Divan
- C) Yayla
- D) Kom
- E) Dalyan

7. Aşağıdaki haritada bazı hayvancılık faaliyetlerinin yapıldığı alanlar gösterilmiştir.



Buna göre haritada verilen hayvancılık türlerinden hangisinin yeri yanlış gösterilmiştir?

- A) Kümes hayvancılığı
- B) Arıcılık
- C) Tiftik keçiciliği
- D) İpek böcekçiliği
- E) Sığır yetiştiriciliği

8. Denge profili; bir akarsuyun yatak eğimini tamamen ortadan kaldırarak yatağında menderesler çizerek dönemi dökülmesidir. Ülkemizdeki akarsuların hiçbiri henüz denge profiline ulaşmamıştır.

Aşağıdaki ifadelerden hangisi bu durumu kanıtlamak için kullanılamaz?

- A) Akarsuların dar ve derin vadilerden akması
B) Akarsuların hidroelektrik potansiyelinin fazla olması
C) Akarsuların kaynağı ve ağız arasındaki yükselti farkının fazla olması
D) Akarsuların kirlilik oranının fazla olması
E) Akarsuların yük ve yolcu taşımaya elverişsiz olması

9. Türkiye'nin aşağıda verilen sınır kapılarından hangisine demir yolu ile ulaşamaz?

- A) Canbaz - Gürcistan
B) Kapıköy - İran
C) Akyaka - Ermenistan
D) Nusaybin - Suriye
E) Dilucu - Nahcivan

10.

- I. Kültepe - Kayseri
II. Çatalhöyük - Konya
III. Alacahöyük - Çorum
IV. Sard - İzmir
V. Gordion - Ankara

Yukarıda verilen tarihi turizm alanı ve il eşleştirmelerinden hangisi yanlıştır?

- A) I B) II C) III D) IV E) V

11.

- Zonguldak'ta taş kömür yataklarının olması
- Dünya bor rezervlerinin yarıdan fazlasının Eskişehir'de olması
- Ege'de kırık dağların yer alması

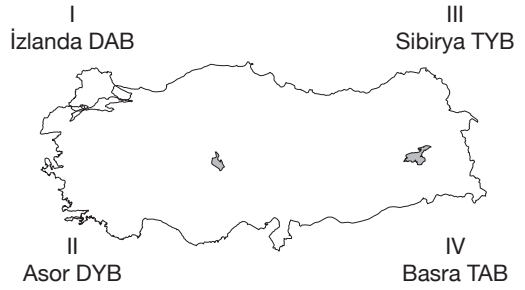
Yukarıda Türkiye'nin jeolojik geçmişiyle ilgili bazı bilgilere yer verilmiştir.

Buna göre ulaşılabilecek en kapsamlı yargı aşağıdakilerden hangisidir?

- A) Ülkemizde farklı jeolojik dönemlere ait oluşumlar yer alır.
B) Ülkemizde maden çeşitliliği fazladır.
C) Ülkemizde sık sık volkanizma etkili olmuştur.
D) Bugünkü şeklini I. Jeolojik Dönem'de almıştır.
E) Akarsular dar ve derin vadilerden akar.

P
E
G
E
M
A
K
A
D
E
M
İ

12.



Yukarıdaki Türkiye haritasında numaralandırılarak gösterilen basınçlardan hangileri ülkemizde kışların yağışlı ve ılıman geçmesine katkı sağlar?

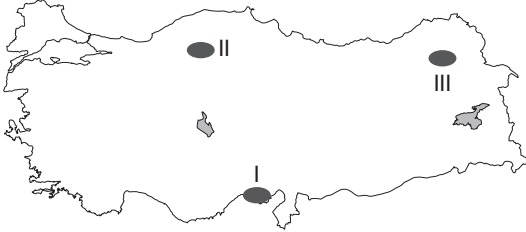
- A) Yalnız I B) Yalnız II C) II ve III
D) I ve IV E) II ve IV

13. Türkiye'nin bitki türü ve çeşitliliği bakımından zengin bir ülke olmasında;

- I. endemik bitki sayısının fazla olması,
II. akarsularının dar ve derin vadilerden akması,
III. kısa mesafelerde yükseltinin ani değişmesi
- özelliklerinden hangileri etkili olmuştur?**

- A) Yalnız I B) Yalnız II C) Yalnız III
D) I ve III E) II ve III

14.



Haritada numaralandırılan alanlarda yaygın olarak görülen toprak türleri aşağıdakilerin hangisinde doğru eşleştirilmiştir?

	I	II	III
A)	Alüvyal	Kahverengi Orman	Laterit
B)	Terra Rossa	Laterit	Tundra
C)	Alüvyal	Podzol	Çernezyom
D)	Kolüvyal	Podzol	Kahverengi Step
E)	Alüvyal	Regasol	Çernezyom

15. Türkiye'nin nüfusuyla ilgili olarak

- I. Tarım sektöründe çalışanların oranı sanayide çalışanlardan fazladır.
- II. En fazla göçü kırdan kente verir.
- III. Kentlerdeki doğal nüfus artış hızı kırsal kesimden daha azdır.
- IV. Kadın nüfusunun ortalama ömür beklentisi erkek nüfusa göre daha fazladır.

yargılarından hangileri doğrudur?

- A) Yalnız II B) II, III ve IV C) II ve III
D) I ve III E) III ve IV

16. Kıyı oklarının büyüyerek bir koyun önünü kapatması sonucunda oluşan göllere kıyı set gölü denir.

Aşağıdaki göllerin oluşum özellikleri dikkate alındığında hangisi kıyı set gölüne örnek gösterilemez?

- A) Küçük Çekmece
B) Büyük Çekmece
C) Mogan
D) Durusu (Terkos)
E) Akyatan

17. Muğla, Antalya ve Rize şehirlerinin mevsimlik işçi göçü almasında,

- I. turizm,
- II. sanayi,
- III. madencilik,
- IV. tarım

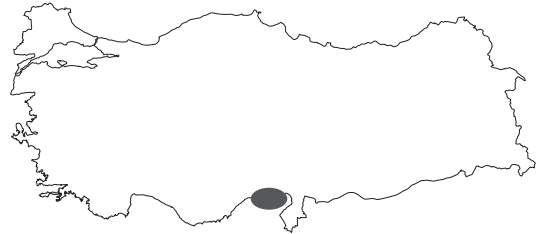
sektörlerinden hangileri etkili olmuştur?

- A) I ve II B) I ve III C) II ve III
D) II ve IV E) I ve IV

P
E
G
E
M

A
K
A
D
E
M
İ

18.



Verilen haritada taralı olarak gösterilen yer aşağıdaki bölge türlerinden hangisine örnek gösterilemez?

- A) Yoğun Nüfus Bölgesi
B) Tarım Bölgesi
C) Maden Bölgesi
D) Sanayi Bölgesi
E) Ticaret Bölgesi

1. Samsun bakır işletmesinin yer seçiminde;

- I. ham maddeye yakınlık,
- II. elverişli ulaşım şartları,
- III. enerji kaynağına yakınlık,
- IV. su kaynaklarına yakınlık,
- V. pazara yakınlık

faktörlerinden hangisi etkili olmuştur?

- A) I B) II C) III D) IV E) V

2. Dünyanın en uzun asma köprüsü aşağıdakilerden hangisidir?

- A) Yavuz Sultan Selim Köprüsü
- B) 1915 Çanakkale Köprüsü
- C) Fatih Sultan Mehmet Köprüsü
- D) 15 Temmuz Şehitler Köprüsü
- E) Osmangazi Köprüsü

3.



Yukarıda Türkiye'nin sakin şehirleri verilmiştir.

Haritada verilen yerlerin hangisi son sakin şehrimizdir?

- A) Antalya (Finike)
- B) İzmir (Seferihisar)
- C) Isparta (Yalvaç)
- D) Malatya (Arapgir)
- E) Erzincan (Kemaliye)

4.

- I. Göçler daha çok kırdan-kente doğrudur.
- II. Göçlerin yönü kuzeyden-güneye doğrudur.
- III. Göç alan il sayısı, göç veren il sayısından daha azdır.

Türkiye'de yaşanan göçlerle ilgili yukarıda verilen ifadelerden hangileri yanlıştır?

- A) Yalnız I B) I ve II C) Yalnız II
D) I ve III E) I, II ve III

5. UNESCO Dünya Miras Listesi'ne Türkiye'den aşağıdaki eserlerden hangisi dâhil değildir?

- A) Truva Antik Kenti (Çanakkale)
- B) İstanbul'un Tarihî Alanları (İstanbul)
- C) Kommagene Antik Kenti (Adıyaman)
- D) Bergama Çok Katmanlı Kültürel Peyzaj Alanı (İzmir)
- E) Afrodiasias Antik Kenti (Aydın)

6. Türkiye'nin ilk ve tek su altı millî parkı aşağıdakilerden hangisidir?

- A) Gökçeada (Çanakkale)
- B) Van Gölü (Van)
- C) Manavgat (Antalya)
- D) İnciraltı (İzmir)
- E) Kuşadası (Aydın)

KPSS

2024

**GENEL YETENEK
GENEL KÜLTÜR**



WATANDASLIK

TAMAMI ÇÖZÜMLÜ

30

DENEME

**SORULARIN ÇÖZÜMLERİNE
ULAŞMAK İÇİN
QR KODU OKUTUNUZ**



PEGEM AKADEMİ



KPSS VATANDAŞLIK TAMAMI ÇÖZÜMLÜ 30 DENEME

Komisyon

ISBN 978-625-6890-66-4

Kitapta yer alan bölümlerin tüm sorumluluğu yazarlarına aittir.

Bu kitabın basım, yayım ve satış hakları Pegem Akademi Yay. Eğt. Dan. Hizm. Tic. AŞ'ye aittir. Anılan kuruluşun izni alınmadan kitabın tümü ya da bölümleri, kapak tasarımı; mekanik, elektronik, fotokopi, manyetik kayıt ya da başka yöntemlerle çoğaltılmaz, basılamaz ve dağıtılamaz. Bu kitap, T.C. Kültür ve Turizm Bakanlığı bandrolü ile satılmaktadır. Okuyucularımızın bandrolü olmayan kitaplar hakkında yayinevimize bilgi vermesini ve bandrolsüz yayınları satın almamasını diliyoruz.

Pegem Akademi Yayıncılık, 1998 yılından bugüne uluslararası düzeyde düzenli faaliyet yürüten uluslararası akademik bir yayınevidir. Yayımladığı kitaplar; Yükseköğretim Kurulunca tanınan yükseköğretim kurumlarının kataloglarında yer almaktadır. Dünyadaki en büyük çevrimiçi kamu erişim kataloğu olan WorldCat ve ayrıca Türkiye'de kurulan Turcademy.com tarafından yayınları taranmaktadır, indekslenmektedir. Aynı alanda farklı yazarlara ait 1000'in üzerinde yayını bulunmaktadır. Pegem Akademi Yayınları ile ilgili detaylı bilgilere <http://pegem.net> adresinden ulaşılabilmektedir.

59. Baskı: Eylül 2023 Ankara

Proje-Yayın: Deniz Şahan
Dizgi-Grafik Tasarım: Arzu Orhan Kaya
Kapak Tasarımı: Pegem Akademi

Baskı: Vadi Grup Basım AŞ
Saray Mah. 126 Cad. No: 20/A
Kazan/ANKARA
Tel: (0312) 802 00 53-54

Yayıncı Sertifika No: 51818
Matbaa Sertifika No: 49180

İLETİŞİM



Shira Ticaret Merkezi, Macun Mahallesi 204 Cad.
No: 141/33, Yenimahalle/Ankara



Yayınevi: 0312 430 67 50

Dağıtım: 0312 434 54 24

Hazırlık Kursları: 0312 419 05 60



www.pegem.net



pegem@pegem.net



0538 594 92 40



[pegemakademi](https://www.instagram.com/pegemakademi)

Sevgili Kamu Personel Adayları,

KPSS Genel Kültür testinde önemli bir yer tutan “Vatandaşlık” kapsamındaki sorular, yıllara göre analiz edilmiş ve bu analiz sonuçlarına göre kitabınızda yer alan deneme sınavları oluşturulmuştur.

Sınavda başarılı olabilmek için yeterli bilgi düzeyinin yanı sıra çok sayıda soruyu anlayarak hızlı bir şekilde cevaplamak gerekmektedir. Bu koşul göz önünde bulundurularak sınavda karşınıza çıkabilecek soru türleri çözümleri ile birlikte sizlere sunulmuştur. Çözümlere ulaşabilmeniz için aşağıda yer alan bildirimini inceleyebilir, kitaba ilişkin sorularınızı pegem@pegem.net adresine mail yolu ile ya da 0538 594 92 40 numaralı telefonumuza WhatsApp yolu ile iletebilir olduğunuzu belirtiriz.

KPSS yayınlarında hissedilen önemli bir eksikliğı gidermek ve adaylara daha nitelikli ve kapsamlı bir kaynak sunmak amacıyla böyle bir çalışma hazırlanmıştır. Kitaptaki denemeler hazırlanırken her sorunun KPSS formatına bire bir uygun olmasına özen gösterilmiş, çıkması muhtemel tüm konulara da gerektiğı kadar yer verilmiştir.

“KPSS Vatandaşlık 30 Deneme” kitabımızın hepinize faydalı olacağını umuyor, Pegem Akademi Yayıncılık olarak bütün KPSS adaylarına başarılar diliyoruz.

Pegem Akademi Yayıncılık

Vatandaşlık
Sorularının çözümleri
için QR kodu
okutunuz.



Karekod okutmak için tavsiye
edilen uygulamalar



QR Droid



Qrafter

pegem.net'ten ulaşmak için
<https://depo.pegem.net/2024-gykg-vatandaslik30deneme.cozum.pdf>

Ön Söz.....	iv
Deneme 1	1
Deneme 2	3
Deneme 3	5
Deneme 4	7
Deneme 5	9
Deneme 6	11
Deneme 7	13
Deneme 8	15
Deneme 9	17
Deneme 10.....	19
Deneme 11.....	21
Deneme 12.....	23
Deneme 13.....	25
Deneme 14.....	27
Deneme 15.....	29
Deneme 16.....	32
Deneme 17.....	34
Deneme 18.....	36
Deneme 19.....	38
Deneme 20.....	40
Deneme 21.....	42
Deneme 22.....	44
Deneme 23.....	46
Deneme 24.....	48
Deneme 25.....	50
Deneme 26.....	53
Deneme 27.....	55
Deneme 28.....	58
Deneme 29.....	60
Deneme 30.....	63
Cevap Anahtarı.....	66

1. Hukuk sistemimize göre herhangi bir sözleşmenin aranan kurucu unsurları taşımakla birlikte emredici hükümlerden bir veya birkaçına aykırı olması durumunda karşılaşılabilecek yapıtırm aşağıdakilerden hangisidir?

- A) Sözleşmenin nispi butlanı
- B) Sözleşmenin iptali
- C) Sözleşmenin mutlak butlanı
- D) Sözleşmenin yokluğu
- E) Sözleşmenin feshi

2.

- “Kayın hısımlığı, kendisini meydana getiren evliliğin sona ermesiyle ortadan kalkmaz.” (MK.18)
- “Borcun ifası için bir ayın başlangıcı veya sonu belirlenmişse bundan ayın birinci ve sonuncu günü; ayın ortası belirlenmişse bundan da ayın on beşinci günü anlaşılır.” (BK m. 91)
- “Bir ticari işletmeyi, kısmen de olsa, kendi adına işleten kişiye tacir denir.” (TK m. 12)

Yukarıda verilen hukuk kuralları, hukuk kurallarının çeşitlerinden hangilerine örnek teşkil eder?

- A) Emredici – yorumlayıcı – tanımlayıcı
- B) Yorumlayıcı – tanımlayıcı – emredici
- C) Tanımlayıcı – yorumlayıcı – tamamlayıcı
- D) Emredici – tamamlayıcı – tanımlayıcı
- E) Tamamlayıcı – yorumlayıcı – tanımlayıcı

3. Aşağıdakilerden hangisi 1982 Anayasası'nın “Siyasi hak ve ödevler” bölümünde düzenlenen haklardan değildir?

- A) Vatan hizmeti
- B) Dilekçe hakkı
- C) Vatandaşlık hakkı
- D) Kamu hizmetine girme hakkı
- E) Grev hakkı

4. 1982 Anayasası'na göre Türkiye Büyük Millet Meclisinin yapacağı tüm seçimler de dâhil her işte toplantı yeter sayısı aşağıdakilerden hangisidir?

- A) TBMM üye tam sayısının dörtte birinin bir fazlası (151)
- B) TBMM üye tam sayısının dörtte üçü (450)
- C) TBMM üye tam sayısının yarısından bir fazlası (301)
- D) TBMM üye tam sayısının üçte biri (200)
- E) TBMM üye tam sayısının beşte biri (120)

5. 1982 Anayasası'na göre, Cumhurbaşkanı aşağıdaki yargı organlarından hangisine üye seçemez?

- A) Anayasa Mahkemesi
- B) Yargıtay
- C) Hâkimler ve Savcılar Kurulu
- D) Danıştay
- E) Yargıtay Cumhuriyet Başsavcısı

6. 1982 Anayasası'na göre, Millî Güvenlik Kurulunun gündemini ilgililerin önerilerini dikkate alarak belirleme yetkisi aşağıdakilerden hangisine aittir?

- A) TBMM Başkanı
- B) Cumhurbaşkanı
- C) İçişleri Bakanı
- D) Genelkurmay Başkanı
- E) Millî Güvenlik Kurulu Genel Sekreteri

7. Türk hukukunda, aşağıdakilerden hangisi yüksek mahkemeler arasında düzenlenmemiştir?

- A) Anayasa Mahkemesi
- B) Danıştay
- C) Hâkimler ve Savcılar Kurulu
- D) Yargıtay
- E) Uyuşmazlık Mahkemesi

8. 1982 Anayasası'na göre, aşağıdakilerden hangisi Anayasa Mahkemesinin üye sayısıdır?

- A) 11 B) 13 C) 15 D) 17 E) 21

9. Mahalli idareler ile ilgili aşağıdaki ifadelerden hangisi yanlıştır?

- A) Kamu tüzel kişilikleri vardır.
B) Karar organları seçimle iş başına gelir.
C) Anayasal kuruluşlardır.
D) Özerk kuruluşlardır.
E) Merkezî idarenin yerel yönetimler üzerinde hiyerarşi yetkisi bulunmaktadır.

10. Dünyanın Yedi Harikası'ndan biri olan İskenderiye Feneri, aşağıdaki ülkelerin hangisinde yer almaktadır?

- A) Mısır B) Türkiye
C) Yunanistan D) Hindistan
E) İran

11. Skolastik düşüncenin yıkılıp özgür düşünce ve yeni sanat anlayışının doğmasına neden olan Rönesans, ilk olarak hangi ülkede başlamıştır?

- A) Yunanistan B) İtalya
C) İngiltere D) Fransa
E) Almanya

12. "Umumi Türk Tarihine Giriş" adlı eseri ile tanınan ve Türkiye'deki üniversitelerde tarih dersi veren Orta Asya kökenli ünlü bilim insanı aşağıdakilerden hangisidir?

- A) İsmail Gaspıralı
B) Halil İnalıcık
C) Zeki Velidi Togan
D) Yusuf Akçura
E) Cengiz Aytmatov

13. Aşağıdaki ülke ve başkent eşleştirmelerinden hangisi yanlıştır?

- A) Arnavutluk – Tiran
B) Portekiz – Madrid
C) İsviçre – Bern
D) İtalya – Roma
E) Gürcistan – Tiflis

14. Modern Türk edebiyatının en önemli eserlerinden biri olan, dil ve anlatım biçimi edebiyatta bir devrim olarak kabul edilen, yayınlandığı 1970 yılında TRT Roman Ödülü'nü kazanan Oğuz Atay'ın ilk romanı aşağıdakilerden hangisidir?

- A) Tutunamayanlar
B) Tehlikeli Oyunlar
C) Korkuyu Beklerken
D) Bir Bilim Adamının Romanı
E) Oyunlarla Yaşayanlar

15. Doğu Anadolu'ya yerleşen, askerî alanda başarılarıyla ve savaşçı özellikleri ile tanınan İlk Çağ uygarlığı aşağıdakilerden hangisidir?

- A) Urartular
B) Lidyalılar
C) İyonlar
D) Hititler
E) Frigler

1. "6098 sayılı Borçlar Kanunu'na göre hak ve alacakların zamanaşımına uğramasına ilişkin süre sınırlandırmalarına yer verilmiştir."

Borçlar Kanunu'na göre aksine bir hüküm bulunmadıkça, her alacak kaç yıllık sürenin dolmasıyla birlikte zamanaşımına uğrar?

- A) Üç yıl
B) Beş yıl
C) On yıl
D) On beş yıl
E) Yirmi yıl

2. "Önceki ikametgâhı belli olmayan veya yabancı ülkedeki yerleşim yerini bıraktığı hâlde Türkiye'de henüz bir ikametgâh edinmemiş olan kimsenin hâlen oturduğu yer onun ikametgâhı sayılır."

Bu şekilde tanımlanan ikametgâh türü aşağıdakilerden hangisidir?

- A) Kısmi ikametgâh
B) Yasal ikametgâh
C) Kanuni ikametgâh
D) Sıhri ikametgâh
E) İtibari ikametgâh

3. **Aşağıdaki ilkelerden hangisi 1961 Anayasası'nın yeniliği değildir?**

- A) Laik devlet
B) İnsan haklarına dayalı devlet
C) Çoğulcu demokrasi
D) Hukuk devleti
E) Sosyal devlet

4. **1982 Anayasası'ndaki "Sert çekirdek haklar" hangi temel hak kategorisinde incelenebilir?**

- A) Pozitif statü hakları
B) Aktif statü hakları
C) Siyasi haklar
D) İsteme hakları
E) Negatif statü hakları

5. **1982 Anayasası'na göre, milletvekili seçilme yeterlilikleri arasında aşağıdakilerden hangisi yer almaz?**

- A) Türk vatandaşı olmak
B) En az ortaokul mezunu olmak
C) 18 yaşını doldurmuş olmak
D) Askerlikle ilişkisi olmamak
E) Kısıtlı olmamak

6.

- I. Kanun
II. Cumhurbaşkanlığı kararnamesi
III. Mahkeme kararları

1982 Anayasası'na göre, yönetmelikler yukarıdakilerden hangilerine uygun olmak zorundadır?

- A) Yalnız I
B) Yalnız II
C) Yalnız III
D) I ve II
E) I, II ve III

7. **1982 Anayasası'na göre, Genelkurmay Başkanı aşağıdakilerden hangisi doğrudan atar?**

- A) Millî Savunma Bakanı
B) İçişleri Bakanı
C) Cumhurbaşkanı Yardımcısı
D) Cumhurbaşkanı
E) Millî Güvenlik Kurulu

8. **1982 Anayasası'na göre, Hâkimler ve Savcılar Kurulunun üye sayısı aşağıdakilerden hangisidir?**

- A) 11 asıl üye
B) 13 asıl üye
C) 15 asıl üye
D) 7 asıl 4 yedek üye
E) 11 asıl 4 yedek üye

9.

- I. Kariyer
- II. Derece
- III. Liyakat
- IV. Sınıflandırma

Yukarıdakilerden hangileri, 657 sayılı Devlet Memurları Kanunu'nun kabul ettiği temel ilkelerden değildir?

- A) Yalnız II
- B) Yalnız IV
- C) I ve IV
- D) II ve IV
- E) III ve IV

10. Fransız aydınlanmasının önde gelen temsilcilerinden olan, hukuk, yönetim tarzları ve toplumsal konularda çalışmalar yapan, *Kanunların Ruhu Üzerine* adlı eseri ile bilinen siyaset ve hukuk felsefecisi aşağıdakilerden hangisidir?

- A) Etienne de La Boétie
- B) Niccolò Machiavelli
- C) Montesquieu
- D) Walter Benjamin
- E) Jacques Vergès

11. Dünyanın en derin noktası olarak kabul edilen ve Japonya ile Endonezya'nın tam ortasında yer alan alanın adı, aşağıdakilerden hangisidir?

- A) Mirny Çukuru
- B) Kimberley Çukuru
- C) Mariana Çukuru
- D) Büyük Mavi Delik
- E) Bingham Kanyonu

12. Aşağıdakilerden hangisi 2021 yılında UNESCO Dünya Mirası Listesi'ne girmiş olan ve Türkiye'nin UNESCO Dünya Mirası Listesi'ndeki varlık sayısını 19'a çıkaran arkeolojik alandır?

- A) Göbeklitepe - Şanlıurfa
- B) Arslantepe Höyüğü - Malatya
- C) Troya Antik Kenti - Çanakkale
- D) Hattuşa (Boğazköy) - Çorum
- E) Aphrodisias Antik Kenti - Aydın

13. Şeriat, tarikat, hakikat ve marifet adlı dört kapı ve buna bağlı kırk makamdan söz edilen "*Makalat*" adlı eser aşağıdakilerden hangisine aittir?

- A) Mevlana
- B) Yunus Emre
- C) Gülşehri
- D) Kâtip Çelebi
- E) Hacı Bektaş-ı Veli

14. Aşağıdakilerden hangisi İtalyan heykeltıraş Michelangelo'nun eseridir?

- A) Adem'in Yaratılışı
- B) Mona Lisa
- C) İlahi Komedi
- D) Prens
- E) Ulusların Zenginliği

15. "*Beş Şehir*" adlı eseri ile İstanbul, Konya, Erzurum, Bursa ve Ankara'yı anlatan yazar aşağıdakilerden hangisidir?

- A) Yahya Kemal Beyatlı
- B) Ahmet Hamdi Tanpınar
- C) Sait Faik Abasıyanık
- D) Reşat Nuri Güntekin
- E) Yakup Kadri Karaosmanoğlu

1. Kanuna göre yetkili mercilerce iddianamenin kabulüyle başlayıp, hükmün kesinleşmesine kadar geçen evreye ne ad verilir?

- A) Soruşturma
- B) Kovuşturma
- C) Hazırlık soruşturması
- D) Müdafî
- E) Kanun yolu muhakemesi

2. Bir kişinin eşya hukukuna göre taşınır veya taşınmaz bir mal varlığı üzerindeki fiili hâkimiyetine ne ad verilir?

- A) İrtifak hakkı
- B) Mülkiyet
- C) Zilyetlik
- D) İntifa hakkı
- E) İrtikap

3. 1982 Anayasası'na göre, Millî Güvenlik Kuruluna aşağıdakilerden hangisi başkanlık eder?

- A) TBMM Başkanı
- B) Cumhurbaşkanı
- C) Genelkurmay Başkanı
- D) Kara Kuvvetleri Komutanı
- E) Cumhurbaşkanı Yardımcısı

4. Kanun tekliflerinin bir yasama dönemi boyunca so-nuçlandırılmamasına ne ad verilir?

- A) Serinleme süresi
- B) Hükümsüzlük
- C) Butlan
- D) Kadük olma
- E) Askıya alınma

5. 1982 Anayasası'na göre, usulüne göre yürürlüğe koyulmuş milletlerarası antlaşmalar normlar hiyerarşisinde aşağıdakilerden hangisine denktir?

- A) Anayasa
- B) Kanun
- C) İç Tüzük
- D) Cumhurbaşkanlığı Kararnamesi
- E) Yönetmelik

6. 1982 Anayasası'na göre, aşağıdakilerden hangisinin başkan ve üyelerinin tamamı Cumhurbaşkanınca atanır?

- A) Millî Güvenlik Kurulu
- B) Devlet Denetleme Kurulu
- C) Radyo ve Televizyon Üst Kurulu
- D) Hâkimler ve Savcılar Kurulu
- E) Anayasa Mahkemesi

7. 1982 Anayasası'na göre, aşağıdakilerden hangisi Cumhurbaşkanının görevleri arasında yer almaz?

- A) Gerekli gördüğü takdirde TBMM oturumlarına başkanlık eder.
- B) Cumhurbaşkanı, devlet başkanı sıfatıyla Türkiye Cumhuriyetini ve Türk milletinin birliğini temsil eder.
- C) Ülkenin iç ve dış siyaseti hakkında Meclise mesaj verir.
- D) Cumhurbaşkanı yardımcılarını ile bakanları atar ve görevlerine son verir.
- E) Üst kademe kamu yöneticilerini atar, görevlerine son verir.

8. 1982 Anayasası'na göre, Anayasa Mahkemesi aşağıdakilerden hangisinin denetimini yapmaz?

- A) Kanun
- B) Cumhurbaşkanlığı kararnamesi
- C) Yönetmelik
- D) Anayasa değişikliği
- E) TBMM İçtüzüğü

9. Aşağıdakilerden hangisi hizmet yerinden yönetim kuruluşudur?

- A) İstanbul Büyükşehir Belediyesi
- B) Ankara Ticaret Odası
- C) Burdur İl Özel İdaresi
- D) Hisarönü Köyü
- E) Diyanet İşleri Başkanlığı

10. Dünyanın en uzun nehri, aşağıdakilerden hangisidir?

- A) Parana Nehri
- B) Yenisey Nehri
- C) Yangtze Nehri
- D) Mississippi Nehri
- E) Nil Nehri

11. Aşağıdaki eserlerden hangisinin Atatürk'ün hayatını anlatan biyografik bir eser olduğu söylenemez?

- A) *Modern Türkiye'nin Kurucusu*
- B) *Bozkurt*
- C) *Tek Adam*
- D) *Bir Millet'in Yeniden Doğuşu*
- E) *Toprak Uyanırsa*

12. Selçuklularda ruh ve sinir hastalıklarının tedavi edildiği yerlere ne ad verilir?

- A) Darülkurra
- B) Darülhadis
- C) Kümbet
- D) Bimarhane
- E) Şifahane

13. İlk yerli tiyatro eseri olarak bilinen *Şair Evlenmesi* oyununun yazarı, aşağıdakilerden hangisidir?

- A) Haldun Taner
- B) Şinasi
- C) Yusuf Kamil Paşa
- D) Kavuklu Hamdi
- E) Namık Kemal

14. *Deliliğe Övgü* adlı eserde geçen "Bütün insan ömrü, deliliğin yarattığı bir hayalden ibarettir." sözü aşağıdakilerden hangisine aittir?

- A) Honore De Balzac
- B) Victor Hugo
- C) Erasmus
- D) Montaigne
- E) Machiavelli

15. Ünlü besteci Mozart'ın mehter müziğindeki davulların ve zillerin vuruşlarını melodik bir anlatım vererek yarattığı opera eseri aşağıdakilerden hangisidir?

- A) *Saraydan Kız Kaçırma*
- B) *Figaro'nun Düğünü*
- C) *Othello*
- D) *Macbeth*
- E) *Küçük Prens*

1. Türk Borçlar Kanunu'na göre aşağıdakilerden hangisi borcu sona erdiren nedenler arasında yer almaz?

- A) Yenileme (tecdit)
- B) Zaman aşımı
- C) İbra
- D) Alacaklı ve borçlu sıfatının birleşmesi
- E) Kusursuz imkânsızlık

2. Türk Medeni Kanunu'na göre bir hakkın kazanılması veya bir hukuki sonucun doğması yönünden mevcut bir engeli, bir eksikliği veya benzeri bir olguyu bilmemek ve hâlin gerektirdiği özen gösterilse dahi bilecek durumda olmamak şeklinde tanımlanan hukuki kavram aşağıdakilerden hangisidir?

- A) Hakkın kötüye kullanılması yasağı
- B) İyi niyet ilkesi
- C) Nispilelik ilkesi
- D) Hukuka saygı ilkesi
- E) Dürüstlük ilkesi

3. Aşağıdaki tarihlerin hangisinde ülkemizde çift kanatlı değil tek kanatlı meclis uygulaması kullanılmaktaydı?

- A) 1877
- B) 1910
- C) 1950
- D) 1967
- E) 1971

4. 1982 Anayasasına göre, aşağıdakilerden hangisi "Sosyal ve Ekonomik Hak ve Ödevler" arasında sayılmamıştır?

- A) Çalışma ve sözleşme hürriyeti
- B) Düşünce ve kanaat hürriyeti
- C) Konut hakkı
- D) Sanatın ve sanatçının korunması
- E) Toplu iş sözleşmesi, grev hakkı ve lokavt

5. 1982 Anayasası'na göre, Cumhurbaşkanı tarafından üst kademe yöneticilerinin atanması ve görevlerine son verilmesine ilişkin usul ve esaslar aşağıdakilerden hangisi ile düzenlenir?

- A) Cumhurbaşkanlığı kararnamesi
- B) Genelge
- C) Kanun
- D) İç tüzük
- E) Yönetmelik

6. 1982 Anayasası'na göre, uluslararası antlaşmaları onaylama ve yayımlama aşağıdakilerden hangisinin görevidir?

- A) Dışişleri Bakanı
- B) TBMM Başkanı
- C) Cumhurbaşkanı
- D) İçişleri Bakanı
- E) TBMM Genel Kurulu

7. 1982 Anayasası'na göre, aşağıdaki ifadelerden hangisi Cumhurbaşkanı seçilen kişi hakkında yanlıştır?

- A) Varsa milletvekilliği sona erer.
- B) Varsa bakanlığı sona erer.
- C) Varsa Cumhurbaşkanı yardımcılığı sona erer.
- D) Varsa partisi ile ilişkisi kesilir.
- E) Varsa Meclis Başkanlığı sona erer.

8. 1982 Anayasası'na göre, Danıştay üyeleri aşağıdakilerden hangisi tarafından seçilmektedir?

- A) Dörtte biri Cumhurbaşkanı, dörtte üçü Hâkimler ve Savcılar Kurulu tarafından
- B) Dörtte üçü Cumhurbaşkanı, dörtte biri Hâkimler ve Savcılar Kurulu tarafından
- C) Türkiye Büyük Millet Meclisi tarafından
- D) Hâkimler ve Savcılar Kurulu tarafından
- E) Anayasa Mahkemesi tarafından

9.

- I. Vali
- II. İl genel meclisi
- III. İl encümeni
- IV. İl idare kurulu

Yukarıdakilerden hangileri, il özel idaresinin organları arasında yer alır?

- A) I ve IV
- B) II ve III
- C) I, II ve III
- D) I, II ve IV
- E) I, II, III ve IV

10. **Çömlek Öncesi Neolitik Dönem'e ait olan ve dünyanın en eski tapınağının bulunduğu Göbeklitepe, aşağıdaki şehirlerden hangisinde yer almaktadır?**

- A) Gaziantep
- B) Diyarbakır
- C) Mardin
- D) Kahramanmaraş
- E) Şanlıurfa

11.

- I. 1957 yılında uzaya Sovyetler Birliği tarafından gönderilen ilk canlı Laika adında bir köpektir.
- II. Uzaya giden ilk insan Yuri Gagarin'dir.
- III. Ay'a ayak basan ilk insan Neil Armstrong'dur.

İnsanoğlunun uzay serüveni hakkında verilen yukarıdaki ifadelerden hangileri doğrudur?

- A) I ve II
- B) Yalnız II
- C) II ve III
- D) I, II ve III
- E) Yalnız III

12. **Aşağıdaki eserlerden hangisi Mimar Sinan'a ait değildir?**

- A) Selimiye Camii
- B) Sultanahmet Camii
- C) Süleymaniye Külliyesi
- D) Mihrimah Sultan Camii
- E) Süleymaniye Camii

13. **Kök Türk Devleti Hükümdarı Bilge Kağan Devri'nden kalma altı adet yazılı dikili taştan oluşan Kök Türk (Orhun) Yazıtları, günümüzde aşağıdaki ülkelerden hangisinin sınırları içinde yer almaktadır?**

- A) Kazakistan
- B) Çin
- C) Moğolistan
- D) Kırgızistan
- E) Tacikistan

14. **Tarihte ilk yazı olarak kabul edilen çivi yazısı ilk olarak aşağıdaki bölgelerden hangisinde kullanılmıştır?**

- A) Mısır
- B) Mezopotamya
- C) Anadolu
- D) Trakya
- E) Çin

15. **Psikanaliz biliminin temellerini atan bilim adamı aşağıdakilerden hangisidir?**

- A) Sigmund Freud
- B) Alfred Wagner
- C) Luis Pascal
- D) Aguste Comte
- E) Hegel

KPSS
2024

5 TÜRKÇE
x 30



Çözümlere ulaşmak için
QR kodu okutunuz.

DENEME

• Tamamı Çözümlü 150 Özgün Soru •



ÖGRETİ AKADEMİ

Bu testte 30 soru vardır.

1. Eleştirmenler, bazı ünlü yazarların eserlerini ele alırken o eserin kusurlu yönlerini çoğu zaman bir eleştirmen edasıyla değil de rakip bir yazarmış gibi ortaya koymaya çalışıyorlar. Eserin eksikliklerini tamamlamak ve yazara yardımcı olmak yerine, onları başarısız bir yazarmış gibi gösterme ve konuyla ilgili bir kaos ortamı yaratma çabasına giriyorlar. Böylece ünlü yazarların isminden de yararlanarak âdetâ bulanık suda balık avlamaya çalışıyorlar.

Bu parçadaki altı çizili sözle eleştirmenlerle ilgili olarak anlatılmak istenen aşağıdakilerden hangisidir?

- A) Toplumı yanıltmaya çalıştıkları
B) Yazarları kendilerine rakip olarak görmedikleri
C) Gerçeği olduğu gibi yansıtmadıkları
D) Karışık durumlardan yararlanarak çıkar sağladıkları
E) Düşmanca bir tutum sergilemeye çalıştıkları

2. Dilimiz, kalıplaşmış söz öbekleri bakımından çok güçlü bir potansiyele sahiptir. Pek çok farklı durumu anlatmak için çeşitli deyimlerden yararlanılmaktadır. Örneğin herhangi bir işteki eksiği veya hileyi ortaya çıkarmak anlamında açığı bulmak, içinden çıkılması güç bir durumda kalmak anlamında açmaza düşmek, birini yakını olmaktan çıkarmak, ilgisini kesmek anlamında aforoz etmek; bildiklerini anlatmaktan çekinmemek anlamında ağız dil vermemek, çeşitli yollarla birini bir şeye razı etmek anlamında ağızdan girip burnundan çıkmak deyimini kullanılmaktadır.

Bu parçadaki numaralanmış deyimlerden hangisinin kendinden önceki açıklaması yanlış verilmiştir?

- A) I B) II C) III D) IV E) V

3. Küresel ısınma, çeşitli nedenlerle atmosfere ---- gazların sonucu olarak Dünya üzerinde tüm yıl boyunca kara, deniz ve havada ölçülen ortalama ---- görülen artışa verilen isimdir.

Bu cümlede boş bırakılan yerlere sırasıyla aşağıdakilerden hangileri getirilmelidir?

- A) oluşan – ısılarda
B) salınan – sıcaklıklarda
C) gönderilen – yağışlarda
D) bırakılan – seviyede
E) uygulanan – durumlarda

4. I. Yıldırım, bulut ile yer arasında oluşan en tehlikeli şimşek türüdür.
II. Yıldırımların çoğu yeryüzüne negatif yük dağıtır ancak bir kısmı yeryüzüne pozitif yük taşır.
III. Bahar aylarında düşen yıldırımlar ise kış aylarında düşenlerden daha etkili ve tehlikelidir.
IV. Pozitif yıldırımlar aynı zamanda kış ayları boyunca düşen toplam yıldırımların yüksek bir yüzdesini oluşturur.
V. Pozitif yük taşıyan bu yıldırımlar, genellikle bir fırtınanın dağılma aşamasında oluşur.

Yukarıdaki numaralanmış cümlelerin anlamlı bir bütün oluşturabilmesi için hangileri yer değiştirilmelidir?

- A) I ile IV B) IV ile V C) III ile V
D) II ile V E) II ile III

KPSS
2024

5 MATEMATİK x 30



Çözümlere ulaşmak için
QR kodu okutunuz.

DENEME

• Tamamı Çözümlü 150 Özgün Soru •



ÖĞRETİ AKADEMİ

Bu testte 30 soru vardır.

1.
$$\frac{\left(2 - \frac{3}{4}\right) - \left(1 - \frac{3}{4}\right)}{\left(3 - \frac{3}{8}\right) - \left(2 - \frac{3}{8}\right)}$$

işleminin sonucu kaçtır?

- A) $-\frac{1}{2}$ B) $-\frac{1}{3}$ C) $\frac{1}{2}$ D) 1 E) 3

2.
$$\left(\frac{5}{0,2} - \frac{2}{0,5}\right) : \frac{1,4}{5}$$

işleminin sonucu kaçtır?

- A) 90 B) 75 C) 60 D) 45 E) 30

3.

- a ve b pozitif tam sayıdır.
- $a^2 - b^2$ sayısı asal sayıdır.

Buna göre,

- I. $a + b$ asal sayıdır.
 II. $a \cdot b$ çift sayıdır.
 III. $(a - b)$ ile $(a + b)$ aralarında asal sayıdır.

ifadelerinden hangileri her zaman doğrudur?

- A) Yalnız I B) Yalnız II C) I ve III
 D) II ve III E) I, II ve III

4. Rakamları birbirinden farklı, iki basamaklı beş farklı doğal sayının toplamı 279'dur.

Buna göre, bu sayılardan en büyüğü en az kaçtır?

- A) 59 B) 58 C) 57 D) 56 E) 54

5. Bir torbadaki bilyeler üçer üçer, beşer beşer ve altışar altışar sayıldığında her seferinde bir bilye artıyor.

Bu torbadaki bilye sayısı 400'den fazla olduğuna göre, bu torbada en az kaç bilye vardır?

- A) 411 B) 416 C) 421 D) 431 E) 441

6.
$$\frac{2 \cdot 15^{-2} - 3 \cdot 15^{-3}}{2 \cdot 10^{-4} + 5 \cdot 10^{-5}}$$

işleminin sonucu kaçtır?

- A) 48 B) 32 C) 30 D) 24 E) 20

KPSS
2024

5 TARİH

x 27



Çözümlere ulaşmak için
QR kodu okutunuz.

DENEME

• Tamamı Çözümlü 135 Özgün Soru •



ÖĞRETİ AKADEMİ

Bu testte 27 soru vardır.

1. Aşağıdakilerden hangisi *Orhun Kitabeleri*'yle ilgili doğru bir bilgi değildir?

- A) Türk dilinin ilk yazılı belgelerindedir.
- B) İlk olarak Tengri kelimesinin çevrilmesi kitabenin okunmasını kolaylaştırmıştır.
- C) Günümüzde Kırgızistan sınırları içerisinde yer almaktadır.
- D) Çin alfabesinin de izlerini taşımaktadır.
- E) Kutluk Devleti zamanında yazılmıştır.

2.

- I. Divan-ı İnşa – Devletin iç ve dış yazışmalarını yürütür.
- II. Divan-ı Arz – Ordunun ihtiyaçlarının karşılanmasından sorumludur.
- III. Divan-ı Berid – İstihbarat ve haberleşme işlerini yürütür.
- IV. Divan-ı İşraf – Mali ve idari denetim yapar.
- V. Divan-ı İstifa – Üst düzey devlet görevlilerinin tayin veya terfi ettirilmesine bakar.

Türk-İslam devletleriyle ilgili yukarıdaki kavramlardan hangisinin karşısında verilen açıklaması yanlıştır?

- A) I B) II C) III D) IV E) V

3.

- Malazgirt Savaşı'ndan sonra Erzincan ve çevresinde kurulmuştur.
- Rumlara karşı başarılı savaşlar yapmıştır.
- Divriği Ulu Camii, Divriği Darüşşifası ve Divriği Kale Camii önemli eserlerindedir.

Yukarıdaki bilgiler aşağıdaki beyliklerden-devletlerden hangisine aittir?

- A) Danişmentliler
- B) Saltuklular
- C) Mengücekliler
- D) Artuklular
- E) Eretna Devleti

4. Osmanlı Devleti İstanbul'un fethine kadar geçen süreç içerisinde;

- I. Timur,
- II. Safevi,
- III. Bizans

devletlerinden hangileriyle herhangi bir mücadelede bulunmamıştır?

- A) Yalnız I B) Yalnız II C) Yalnız III
D) I ve II E) II ve III

5. Osmanlı Devleti'nin XV. yüzyılın başlarından itibaren Orta Doğu, Balkanlar, Kuzey Afrika ve Akdeniz Havzası'nın önemli bir kısmında kurduğu ve XIX. yüzyılın sonlarına kadar sürdürdüğü egemenliğe Pax Ottomana yani "Osmanlı Barışı" denmesinin temel nedeni aşağıdakilerden hangisidir?

- A) Komşu ülkelere farklı zamanlarda ticari ayrıcalıklar tanınması
- B) Ortodoksları himaye etmesi
- C) Başkentte bütün dinlerin temsilcilerinin bulundurulması
- D) Ekonomik, sosyal ve siyasi yönden uzun süreli bir istikrarın sağlanması
- E) *Mecelle-i Ahkâm-ı Adliye*'nin hazırlanması

6. Osmanlı Devleti'nde aşağıdaki durumlardan hangisinde Coğrafi Keşifler sonucunda meydana gelen gelişmelerin etkili olduğu savunulamaz?

- A) Yabancı tüccarlara tanınan ayrıcalıkların artırılması
- B) Don - Volga ve Süveyş Kanalı Projelerinin hazırlanması
- C) Gayrimüslim tebaaya din ve inanç özgürlüğünün tanınması
- D) Hint Deniz Seferleri'nin düzenlenmesi
- E) Ticaretten elde edilen gelirlerin hazinedeki payının azalması

KPSS
2024

7

COĞRAFYA

x

18



Çözümlere ulaşmak için
QR kodu okutunuz.

DENEME

• Tamamı Çözümlü 126 Özgün Soru •



ÖĞRETİ AKADEMİ

Bu testte 18 soru vardır.

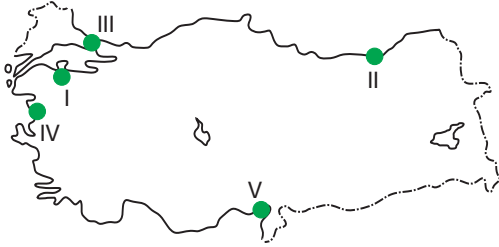
1. Türkiye’de gözlenen;

- I. Akdeniz ve Ege kıyılarında maki bitki örtüsünün görülmesi,
- II. cephesel yağışların görülmesi,
- III. kuzey - güney kıyılarında fön rüzgârlarının etkili olması,
- IV. batı rüzgârlarının etkili olması

durumlarından hangileri göreceli (özel) konumun sonuçları arasında yer alır?

- A) Yalnız I B) Yalnız III C) II ve III
D) II ve IV E) III ve IV

2. Tombolo (saplı ada) kıyıya yakın adaların dalga ve akıntıların biriktirmesi sonucunda ana karaya bağlanması ile oluşur.



Yukarıdaki Türkiye haritasında işaretlenmiş kıyıların hangisinde üzerinde şehir yerleşmesi bulunan belirgin bir tombolo oluşumuna rastlanır?

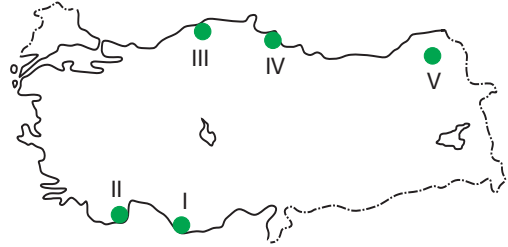
- A) I B) II C) III D) IV E) V

3. Erozyon, toprak yüzeyinin dış kuvvetler etkisiyle süpürülmesi olup Türkiye’nin tamamında farklı şiddetlerde etkilidir.

Aşağıdakilerden hangisi Türkiye’de erozyonun yaygın olmasının nedenleri arasında yer almaz?

- A) Bitki örtüsünün cılız olması
- B) Tarım arazilerinin nadasa bırakılması
- C) Tarım alanlarının eğim yönünde sürülmesi
- D) Tarımsal verimin azalması
- E) Meralarda aşırı otlatma yapılması

4.



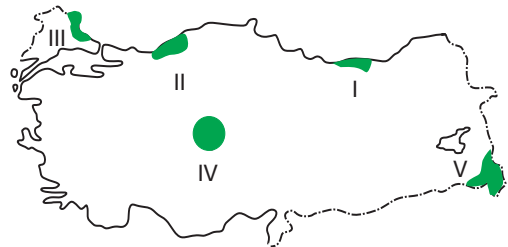
Yukarıdaki Türkiye haritasında işaretlenmiş yörelerin hangisinde alüvyal topraklar daha yaygındır?

- A) I B) II C) III D) IV E) V

5. Aşağıdakilerden hangisi Türkiye akarsularının genel özellikleri arasında yer almaz?

- A) Rejimleri düzensizdir.
- B) Genelde “V” vadi profiline sahiptirler.
- C) Denge profiline ulaşmışlardır.
- D) Hidroelektrik potansiyelleri fazladır.
- E) Ulaşım elverişli değildir.

6. Bağıl nem oranının yüksek olduğu yörelerde güneşli gün sayısı az, hava kapalı ve yağış miktarı da fazladır.



Buna göre haritada numarandırılarak gösterilen sahaların hangisinde bağıl nem oranı en düşüktür?

- A) I B) II C) III D) IV E) V

KPSS
2024

10 VATANDAŞLIK

x

15



Çözümlere ulaşmak için
QR kodu okutunuz.

DENEME

• Tamamı Çözümlü 150 Özgün Soru •



ÖGRETİ AKADEMİ

Bu testte 15 soru vardır.

1. Türk Medeni Kanunu'na göre hâkim, önüne gelen davada hukuk boşluğu ile karşılaştığında aşağıdakilerden hangisini yapar?

- A) Örf âdet hukukunu uygular.
- B) Kanunu amacına uygun olarak sınırlar.
- C) Dürüstlük kuralından yararlanır.
- D) Takdir yetkisini kullanır.
- E) Hukuk yaratır.

2. Medeni Kanun'daki "Herkes, yardım etmediği ölçüde yoksulluğa düşecek olan alt soyu ve üst soyu ile kardeşlerine nafaka vermekle yükümlüdür." hükmü ne tür bir hukuk kuralıdır?

- A) Yorumlayıcı
- B) Emredici
- C) Tamamlayıcı
- D) Yetki verici
- E) Tanımlayıcı

3. Aşağıdakilerden hangisi ilk defa 1961 Anayasası tarafından getirilmiş yeniliklerden biri değildir?

- A) Devlet Denetleme Kurulu
- B) Millî Güvenlik Kurulu
- C) Sosyal devlet ilkesi
- D) Anayasa Mahkemesi
- E) İnsan haklarına dayanan devlet ilkesi

4. 1982 Anayasası'na göre, aşağıdakilerden hangisi savaş, seferberlik ve olağanüstü hâllerde dahi dokunulamayan sert çekirdek haklar arasında yer almaz?

- A) Suç ve cezalar geçmişi yürütülemez.
- B) Kimse zorla çalıştırılmaz ve angarya yasaktır.
- C) Kişinin maddî ve manevî varlığının bütünlüğüne dokunulamaz.
- D) Kimse din, vicdan, düşünce ve kanaatlerini açıklamaya zorlanamaz.
- E) Suçluluğu mahkeme kararıyla saptanıncaya kadar kimse suçlu sayılmaz.

5. 1982 Anayasası'na göre, Türkiye Büyük Millet Meclisi tarafından üyeliği düşürülen milletvekilinin, itirazını aşağıdakilerden hangisi kaç gün içinde karara bağlar?

- A) 7 gün-Yüksek Seçim Kurulu
- B) 7 gün-Anayasa Mahkemesi
- C) 15 gün-Yüksek Seçim Kurulu
- D) 15 gün-Danıştay
- E) 15 gün-Anayasa Mahkemesi

6.

- I. Siyasi parti grupları
- II. Tek başına en son yapılan seçimde geçerli oyların yüzde beşini almış siyasi parti
- III. Birleşerek en son yapılan genel seçimde yüzde yedi almış siyasi partiler
- IV. 100.000 seçmen

1982 Anayasası'na göre, yukarıdakilerden hangileri Cumhurbaşkanlığı için aday gösterebilir?

- A) Yalnız I
- B) I ve II
- C) II ve III
- D) I, II ve IV
- E) I, II, III ve IV

7. 1982 Anayasası'nda, hâkimlik teminatını sağlamak için aşağıdakilerden hangisi kurulmuştur?

- A) Yüksek Hâkimler Kurulu
- B) Adalet Bakanlığı
- C) Danıştay
- D) Hâkimler ve Savcılar Kurulu
- E) Yargıtay