

KPSS

2024

GENEL YETENEK
GENEL KÜLTÜR

TAMAMI
VIDEO
ÇÖZÜMLÜ

EZBERBOZAN

COĞRAFYA

SORU BANKASI

Arti - Yapay
Zekâ Asistan

Dijital Öğrenme
Ayak İzi

Hibrit Kitap
Teknolojisi

Bu kitabı alan
adaylara ayrıca
Yapay Zekâ
destekli 600+
Coğrafya sorusu
çözme hakkı
verilecektir.



Hibrit kitaba erişebilmek
için QR kodu okutunuz.

PEGEM AKADEMİ



**Yazar
Komisyon**

Genel Kültür Genel Yetenek Ezberbozan Coğrafya Soru Bankası

ISBN 978-625-6890-50-3

Kitapta yer alan bölümlerin tüm sorumluluğu yazarına aittir.

© Pegem Akademi

Bu kitabın basım, yayım ve satış hakları Pegem Akademi Yay. Eğt. Dan. Hizm. Tic. AŞ'ye aittir. Anılan kuruluşun izni alınmadan kitabın tümü ya da bölümleri, kapak tasarımı; mekanik, elektronik, fotokopi, manyetik kayıt ya da başka yöntemlerle çoğaltılamaz, basılamaz ve dağıtılamaz. Bu kitap, T.C. Kültür ve Turizm Bakanlığı bandrolü ile satılmaktadır. Okuyucularımızın bandrolü olmayan kitaplar hakkında yayınevimize bilgi vermesini ve bandrolsüz yayınları satın almamasını diliyoruz.

Pegem Akademi Yayıncılık, 1998 yılından bugüne uluslararası düzeyde düzenli faaliyet yürüten uluslararası akademik bir yayınevidir. Yayımladığı kitaplar; Yükseköğretim Kurulunca tanınan yükseköğretim kurumlarının kataloglarında yer almaktadır. Dünyadaki en büyük çevrimiçi kamu erişim kataloğu olan WorldCat ve ayrıca Türkiye'de kurulan Turcademy.com tarafından yayınları taranmaktadır, indekslenmektedir. Aynı alanda farklı yazarlara ait 1000'in üzerinde yayını bulunmaktadır. Pegem Akademi Yayınları ile ilgili detaylı bilgilere <http://pegem.net> adresinden ulaşılabilir.

29. Baskı: Temmuz 2023 Ankara

Proje-Yayın: Deniz Şahan
Dizgi-Grafik Tasarım: İlnur Öztürk
Kapak Tasarım: Pegem Akademi

Baskı: Koza Yayın Dağıtım AŞ
Saray Mahallesi 205 cadde No: 4/2
Kahramankazan/ANKARA
Tel: (0312) 385 91 91

Yayıncı Sertifika No: 51818
Matbaa Sertifika No: 45553

İletişim

Shira Ticaret Merkezi, Macun Mahallesi 204 Cad.
No: 141/33, Yenimahalle/Ankara
Yayınevi: 0312 430 67 50
Dağıtım: 0312 434 54 24
Hazırlık Kursları: 0312 419 05 60
İnternet: www.pegem.net
E-ileti: pegem@pegem.net
WhatsApp Hattı: 0538 594 92 40

Sevgili Adaylar,

Bu kitap Kamu Personel Seçme Sınavı (KPSS) Genel Kültür Testinde önemli bir yer tutan "Coğrafya" kapsamındaki 18 soruyu etkili bir şekilde çözebilmeniz amacıyla hazırlanmıştır. Kitabımız, her soru için anlaşılır bir dilde hazırlanmış çözümlü anlatım ve açıklamalar içermektedir. Soruları çözerek ÖSYM'nin diline hâkim olacaksınız. Meslek hayatınızda başarılar dileriz.

Pegem Akademi

TÜRKİYE'DE İLK DEFA TÜM KİTAPLAR YANINDA; CEPTE, TABLETTE VE MASANDA

Hibrit kitaplarda kullanıcılar;



1. Kitabın dijital formatına erişim sağlayabilir.
2. Konu sonu testlerini çözebilir.
3. Soruların çözüm videolarını izleyebilir.

Yapay zekâ, bırakılan etkileşimler sonrasında kullanıcıların başarı durumlarını tespit ederek karşlarına bir analiz ekranı çıkarmaktadır.



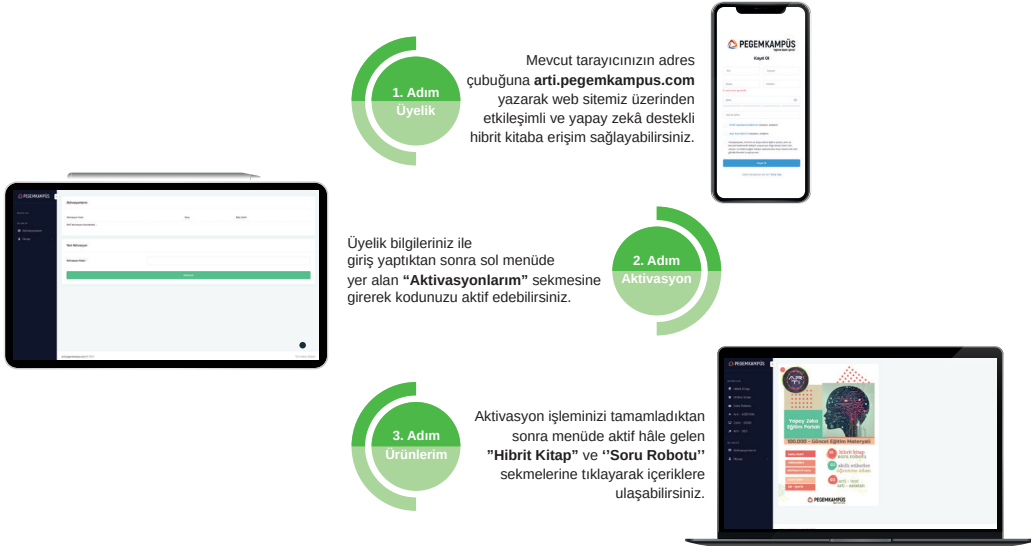
Detaylı anlatım için QR kodu okutunuz.

Soru robotunda kullanıcılar;

1. 600+ soru içinden seçtikleri dersin seçtikleri konularından kendilerine testler oluşturabilir.
2. Çözdükleri sorular sonrasında Arti - ASİSTAN sekmesinde öğrenme durumlarına dair anahtar kelimeler ile başarılı/başarısız oldukları konuları detaylı olarak görüntüleyebilir.

Yapay zekâ, soruları çözmeye başladıkları andan itibaren kullanıcıların başarı durumlarını tespit edecektir.

Pegem Kampüs web sitesi üzerinden hibrit kitabınıza ve soru robotunuza erişebilmek için aşağıdaki adımları takip ediniz:



**Aktivasyon kodu kitabınızın ilk sayfasında yer almaktadır.
Aktivasyon kodu ile aktif ettiğiniz hibrit kitaba erişim 31.08.2024 tarihine kadar geçerlidir.
Kitaba dair içerikler 1 Eylül 2023'te yayında olacaktır.**



Pegem Kampüs İletişim Hattı
0312 418 51 55

İÇİNDEKİLER

Test - 1	Türkiye'nin Coğrafi Konumu - 1	1
Test - 2	Türkiye'nin Coğrafi Konumu - 2	5
Test - 3	Türkiye'de Dağlar, Ovalar ve Platolar	9
Test - 4	Türkiye'de Akarsuların Genel Özellikleri ve Akarsuların Oluşturduğu Yerçekimleri	13
Test - 5	Türkiye'de Yer Altı Kaynakları - Barajlar - Göller ve Denizler	17
Test - 6	Türkiye'de Diğer Yerçekimleri (Rüzgâr - Buzul - Karstik - Kıyı Tipleri).....	21
Test - 7	Türkiye'de Toprak Oluşumu ve Toprak Tipleri.....	25
Test - 8	Tarama Testi - 1	29
Test - 9	Türkiye'nin İklimi ve Bitki Örtüsü - 1.....	33
Test - 10	Türkiye'nin İklimi ve Bitki Örtüsü - 2.....	37
Test - 11	Türkiye'nin İklimi ve Bitki Örtüsü - 3.....	41
Test - 12	Türkiye'de Doğal Afetler (Erozyon - Heyelan - Çığ - Sel vb.)	45
Test - 13	Türkiye'nin Nüfus Özellikleri - 1	49
Test - 14	Türkiye'nin Nüfus Özellikleri - 2	53
Test - 15	Türkiye'de Tarım - 1	57
Test - 16	Türkiye'de Tarım - 2.....	62
Test - 17	Türkiye'de Tarım - Hayvancılık - Ormancılık.....	66
Test - 18	Türkiye'de Madenler ve Enerji Kaynakları	70
Test - 19	Türkiye'de Sanayi ve Ticaret	74
Test - 20	Türkiye'de Turizm ve Ulaşım	78
Test - 21	Tarama Testi - 2	82
Test - 22	Karma Test - 1	86
Test - 23	Karma Test - 2	90
Test - 24	Karma Test - 3	94
Test - 25	Karma Test - 4	98
Test - 26	Genel Tarama Testi.....	102
Test - 27	Deneme - 1	109
Test - 28	Deneme - 2	114
Test - 29	Deneme - 3.....	119
Test - 30	Deneme - 4	124
Test - 31	Deneme - 5	129
Test - 32	Deneme - 6	134
Test - 33	Deneme - 7	139
Test - 34	Deneme - 8	144
Test - 35	Deneme - 9.....	151
Test - 36	Deneme - 10.....	156
	Cevap Anahtarı.....	162

1. Türkiye'de güneyden kuzeye doğru gidildikçe güneş ışınlarının düşme açısının daralmasına bağlı olarak birtakım değişiklikler ortaya çıkar. Bu değişiklikler enlem etkisi olarak açıklanır.

Buna göre, aşağıdakilerden hangisi enlem etkisi ile açıklanamaz?

- A) Diyarbakır'ın yıllık ortalama sıcaklığının Kars'tan yüksek olması
B) Karadeniz'in Akdeniz'den daha soğuk olması
C) Kışın Samsun'un Ankara'dan sıcak olması
D) Toroslar'da kalıcı kar sınırının Kuzey Anadolu Dağları'ndan yüksek olması
E) Antalya'da yaz turizminin İzmir'den daha uzun sürmesi

2.

- I. Gürcistan
II. Bulgaristan
III. İran
IV. Ermenistan

Yukarıda numaralandırılmış ülkelerden hangilerinin Türkiye ile birlikte aynı denize kıyısı vardır?

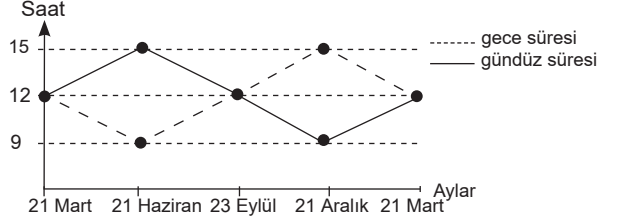
- A) I ve II
B) I ve III
C) I ve IV
D) II ve III
E) III ve IV

3. Van ve Hakkari'nin yerel saatlerinin ulusal saatten 2 dakika geri olduğu tespit edilmiştir.

Buna göre, bu illerle ilgili olarak aşağıdakilerden hangisi söylenemez?

- A) Öğle vakitleri aynıdır.
B) Boylamları aynıdır.
C) 45°D meridyenine göre batıdadır.
D) Gün içinde ulusal saatle 12.00'de cisimlerin gölge boyu en kısa olmaz.
E) Başlangıç Meridyeni'ne uzaklıkları aynıdır.

4. Aşağıdaki grafikte Türkiye'de yıl içindeki gece-gündüz süresi değişimi gösterilmiştir.



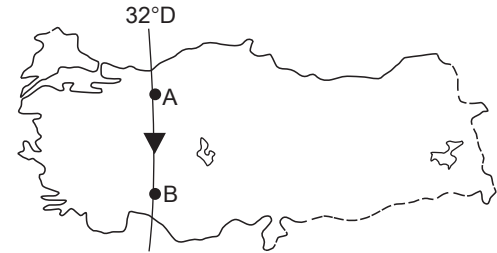
Yalnızca tablodaki bilgilere göre;

- I. 21 Mart - 23 Eylül arası dönemde gece-gündüz süre farkı sürekli artar.
II. 21 Aralık tarihinde en uzun gece yaşanır.
III. 21 Haziran ve 21 Aralık tarihlerinde gece-gündüz süre farkları eşittir.
IV. 21 Aralık tarihinden itibaren gündüzler uzamaya başlar.
V. 21 Mart ve 23 Eylül'de gece-gündüz süreleri eşittir.

numaralandırılmış ifadelerden hangisine ulaşılamaz?

- A) I
B) II
C) III
D) IV
E) V

5.



Yukarıdaki Türkiye haritasında A'dan B'ye gidildiğinde;

- I. yerel saat,
II. Başlangıç Meridyeni'ne uzaklık,
III. Güneş ışınlarının düşme açısı

ifadelerinden hangilerinde değişim gözlenmez?

- A) Yalnız I
B) Yalnız II
C) Yalnız III
D) I ve III
E) II ve III

6. "Türkiye bulunduğu konum itibarıyla 2. ve 3. saat dilimlerinde yer alır. Bu durum açıklanır." **diyen bir coğrafyacı aşağıdakilerden hangisi ile cümlesini devam ettirirse ifadesini kanıtlamış olur?**
- A) Doğu Yarım Küre ülkesi olması ile
B) 30°D ve 45°D meridyenlerinin ülkemizden geçmesi ile
C) Başlangıç Meridyeni'ne göre doğuda olması ile
D) Doğusu ile batısı arasında 76 dakikalık zaman farkı olması ile
E) Doğusu ile batısı arasında 19 meridyenlik fark olması ile

7. I. Dört mevsimin belirgin olarak yaşanması
II. Cephe yağışlarının etkili olması
III. En uzun gecenin 21 Aralık'ta yaşanması
IV. Batı rüzgarlarının etkisi altında olması
- Yukarıda numaralandırılmış ifadelerden hangileri Türkiye'nin orta kuşakta yer aldığını kanıtlar?**
- A) I ve II B) I ve IV C) III ve IV
D) I, II ve IV E) II, III ve IV

8. **Aşağıdaki illerin hangilerinde yerel saat ile ulusal saat arasındaki fark en az ve en fazla olur?**
- | | En az | En fazla |
|----|-----------|------------|
| A) | Erzurum | İzmir |
| B) | İzmit | Diyarbakır |
| C) | Ankara | Van |
| D) | Eskişehir | Malatya |
| E) | Konya | Sivas |

9. I. Sinop'ta yıl içinde gölge boyunun Antalya'dan uzun olması
II. Bitlis'de yıllık sıcaklık ortalamasının İzmir'den düşük olması
III. Karadeniz'in tuzluluk oranının Akdeniz'den düşük olması
IV. Akdeniz'de yaz turizmi süresinin Ege'den daha uzun olması
V. Sinop'ta güneşin doğuş-batış süresinin Adana'dan uzun olması

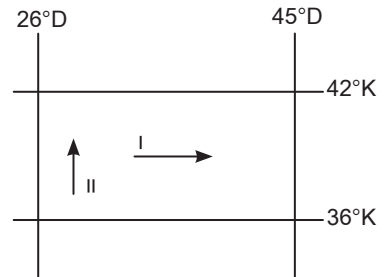
Yukarıdaki numaralandırılmış ifadelerden hangisi üzerinde mutlak konumun etkili olduğu söylenemez?

- A) I B) II C) III D) IV E) V

10. Bir ülkenin jeopolitik konumu; o ülkenin coğrafi unsurlarını, dünya güç dengesini sürekli ve çok yönlü etkileyecek tarzda kullanabilmesi olarak nitelendirilir. **Buna göre, aşağıdakilerden hangisi Türkiye'nin jeopolitik önemini yansıtmaz?**
- A) İstanbul ve Çanakkale Boğazlarına sahip olması
B) Orta Doğu petrollerine yakın olması
C) Dünya transit ticaretinde önemli bir yere sahip olması
D) Alp-Himalaya kıvrım kuşağında yer alması
E) Üç kıta arasında köprü durumunda olması

11. Türkiye Kuzey Yarım Küre'de yer alan bir ülkedir. **Aşağıdakilerden hangisi bu duruma kanıt oluşturmaz?**
- A) Güneyden kuzeye doğru sıcaklık ortalamalarının azalması
B) En uzun gündüzün 21 Haziran'da yaşanması
C) Karadeniz'in tuzluluk oranının Akdeniz'den az olması
D) 2. ve 3. saat dilimleri içerisinde yer alması
E) Güneyden kuzeye doğru çizgisel hızın azalması

- 12.



Türkiye'de I ve II nolu doğrultular boyunca gidildikçe yıllık ortalama sıcaklıklar azalmaktadır.

Bu durumu ortaya çıkaran temel faktörler aşağıdaki seçeneklerden hangisinde doğru verilmiştir?

- | | I | II |
|----|------------|------------|
| A) | Yükselti | Enlem |
| B) | Boylam | Enlem |
| C) | Karasallık | Boylam |
| D) | Yükselti | Karasallık |
| E) | Enlem | Yükselti |

ÇÖZÜMLER

1. Türkiye'de güneyden kuzeye doğru gidildikçe güneş ışınlarının düşme açısının daralmasına bağlı olarak birtakım değişiklikler ortaya çıkar. Bu değişiklikler enlem etkisi olarak açıklanır.

Verilen seçenekler incelendiğinde;

- Diyarbakır'ın yıllık ortalama sıcaklığının Kars'tan yüksek olması,
- Karadeniz'in Akdeniz'den daha soğuk olması,
- Antalya'da yaz turizminin İzmir'den daha uzun sürmesi,
- Toroslar'da kalıcı kar sınırınının Kuzey Anadolu Dağları'ndan yüksek olması

bilgileri Türkiye'nin enleminin sonucunda ortaya çıkan değişikliklerdir. Ancak kış mevsiminde Samsun'un Ankara'dan daha sıcak olması denizellik ve karasallığın sıcaklık üzerindeki etkisine kanıttır.

Cevap C

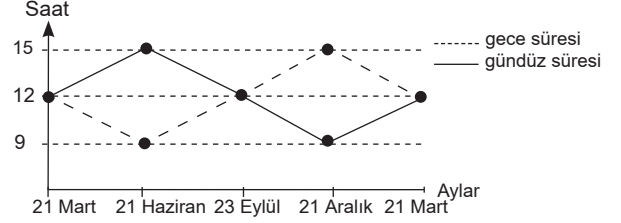
2. Türkiye göreceli konumu itibarıyla üç tarafı denizlerle kaplı bir yarımadadır. Verilen ülkelerle Gürcistan ve Bulgaristan'ın Karadeniz'e kıyısı bulunduğu için Türkiye ile birlikte aynı denize kıyısı bulunmaktadır.

Cevap A

3. Van ve Hakkari'nin yerel saatlerinin ulusal saatten 2 dakika geri olduğu tespit edilmiştir. Buna göre Van ve Hakkari aynı boylam üzerindedir ve aynı boylam üzerindeki merkezlerin yerel saatleri ile öğle vakitleri aynıdır. Yerel saatleri 2 dakika geri olduğuna göre, 45°D boylamına göre daha batıda yer alır ve göle boylarının en kısa olduğu an ulusal saate göre 12.02 olur. Ancak bu iki kent Başlangıç Meridyeni'ne uzaklıkları aynı değildir. Çünkü Ekvator'dan kutuplara doğru gidildikçe iki meridyen arası mesafe daralır. Dolayısıyla da Van, Hakkari'ye göre Başlangıç Meridyeni'ne daha yakındır.

Cevap E

4.



Grafikte Türkiye'de yıl içindeki gece-gündüz süresi değişimi gösterilmiştir.

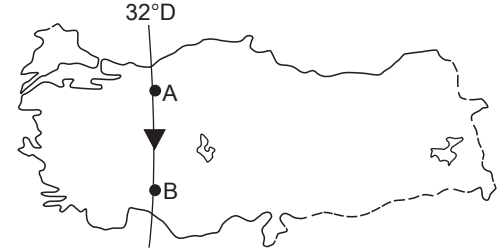
Yalnızca tablodaki veriler dikkate alındığında;

- 21 Aralık tarihinde en uzun gece yaşanır.
- 21 Haziran ve 21 Aralık tarihlerinde gece-gündüz süre farkları eşittir.
- 21 Aralık tarihinden itibaren gündüzler uzamaya başlar.
- 21 Mart ve 23 Eylül'de gece-gündüz süreleri eşittir.

bilgilerine ulaşılır. Ancak I. numaralı öncüdeki 21 Mart - 23 Eylül arası dönemde gece-gündüz süre farkı sürekli artar ifadesi yanlıştır. 21 Mart - 21 Haziran arası dönemde sürekli artar, 21 Haziran - 23 Eylül arası dönemde sürekli azalır.

Cevap A

5.



Türkiye haritasında verildiği gibi aynı boylam üzerinde yer alan A merkezinden B merkezine doğru hareket edildiğinde sadece yerel saatlerin değişmediğini söyleyebiliriz. Başlangıç Meridyeni'ne olan uzaklık kutuplara doğru hareket edildiğinde azalır. Güneş ışınlarının düşme açısı ise enlemle ilgili olduğu için güneye doğru hareket edildiğinde değişir ancak aynı boylam üzerinde yerel saatlerde değişim görülmez.

Cevap A

6. "Türkiye bulunduğu konum itibarıyla 2. ve 3. saat dilimlerinde yer alır. Bu durum açıklanır." bilgisini kanıtlamak isteyen bir coğrafyacı noktalarla boş bırakılan yeri Türkiye'nin boylam değerleri içerisinde bulunan ulusal saat dilimleri yani 30°D ve 45°D ülkemizden geçmesi ile ilişkilendirir. 0 meridyeninden doğuya doğru her 15 meridyen geçildiğinde 1 saat dilimi geçmiş olur. Dolayısıyla Türkiye 2. ve 3. saat dilimlerinde yer alır diyebiliriz.

Cevap B

7. Türkiye mutlak konumu itibarıyla "Kuzey Yarım Küre'de Yengeç Dönencesi'nin Kuzeyinde Orta Kuşak'ta" ve 26°D - 45°D meridyenleri arasında yer alır. Türkiye orta kuşakta bulunduğu için dört mevsim belirgin olarak yaşanır, cephe yağışları etkili olur ve sürekli rüzgarlardan batı rüzgarları etkisi altındadır. Türkiye'de en uzun gecenin 21 Aralık'ta yaşanması Kuzey Yarım Küre'de yer almasının bir sonucudur. Çünkü 21 Aralık'ta Kuzey Yarım Küre'de yer alan tüm merkezler en uzun gece sürelerini yaşar.

Cevap D

8. Türkiye'de 2016'dan beri yıl boyunca 45°D'da yer alan Iğdır ulusal saat olarak kullanılır. Yerel saatle ulusal saat arasındaki farkın en az olması için 45°D meridyenine en yakın olan il Erzurum, bu farkın en fazla olması için ise 45°D meridyenine en uzak olan il İzmir seçilmelidir.

Cevap A

9. Öncüllerde verilen bilgiler dikkate alındığında;
- Sinop'ta yıl içinde gölge boyunun Antalya'dan uzun olması,
 - Karadeniz'in tuzluluk oranının Akdeniz'den düşük olması,
 - Akdeniz'de yaz turizmi süresinin Ege'den daha uzun olması,
 - Sinop'ta güneşin doğuş-batış süresinin Adana'dan uzun olması

Türkiye'nin mutlak konumunun sonucunda ortaya çıkan durumlarıdır. Ancak Bitlis'de yıllık sıcaklık ortalamalarının İzmir'den düşük olması yükselti, karasallık ve denizellik ile ilgilidir.

Cevap B

10. Bir ülkenin jeopolitik konumu; o ülkenin coğrafi unsurlarını dünya güç dengesini sürekli ve çok yönlü etkileyecek tarzda kullanabilmesi olarak nitelendirilir.

Buna göre Türkiye'nin;

- İstanbul ve Çanakkale Boğazlarına sahip olması,
- Orta Doğu petrollerine yakın olması,
- Dünya transit ticaretinde önemli bir yere sahip olması

jeopolitik önemini yansıtır. Ancak Türkiye'deki dağların oluşum şekli, göreceli konumunu yansıtsa da jeopolitik önemini yansıtmaz.

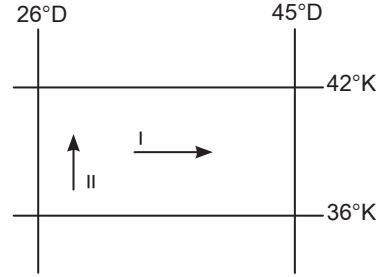
Cevap D

11. Türkiye Kuzey Yarım Küre'de yer alır. Bu durumun sonucunda ise;

- güneyden kuzeye doğru sıcaklık ortalamalarının azalması,
 - en uzun gündüzün 21 Haziran'da yaşanması,
 - Karadeniz'in tuzluluk oranının Akdeniz'den az olması,
 - güneyden kuzeye doğru çizgisel hızın azalması
- durumları ortaya çıkar. Ancak Türkiye'nin 2. ve 3 saat dilimleri arasında yer alması boylamların sonuçları arasında incelenir.

Cevap D

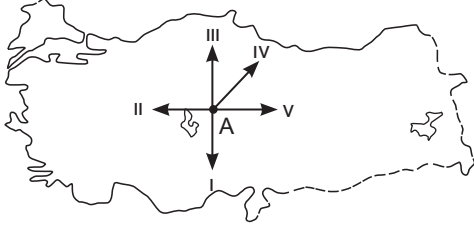
- 12.



Türkiye'de I ve II nolu doğrultular boyunca gidildikçe yıllık ortalama sıcaklıklar azalmaktadır. Bu durumun ortaya çıkmasındaki faktörler şunlardır: I. numaralı ok yönünde hareket edildiğinde yükseltinin artmasıyla sıcaklık azalırken II. numaralı ok yönünde hareket edildiğinde enlemin etkisiyle sıcaklık azalır.

Cevap A

1.



Yukarıdaki Türkiye haritasında A merkezinden numaralandırılmış oklar yönünde ilerlendiğinde, hangi yönde hem Ekvator'dan hem de Başlangıç Meridyeni'nden uzaklaşılr?

- A) I B) II C) III D) IV E) V

2.

Durum I: Sıcaklığın dağılışında yükseltinin etkisi ortadan kaldırılarak hesaplanan sıcaklığa indirgenmiş sıcaklık denir.

Durum II: Türkiye'nin indirgenmiş sıcaklık dağılışı haritasında; güneyi ile kuzeyi arasındaki sıcaklık farkı 7-8°C'dir.

Buna göre, Türkiye'nin kuzeyi ile güneyi arasındaki sıcaklık farkı aşağıdakilerden hangisi ile açıklanır?

- A) Mutlak konum
B) Yerşekilleri
C) Karasallık – denizellik
D) Yükselti
E) Yağış rejimi

3.

Bir ülkenin sınırları içerisindeki limanların ve kara yollarının başka ülkeler tarafından kullanılmasıyla yapılan ticarete, transit ticaret adı verilir.

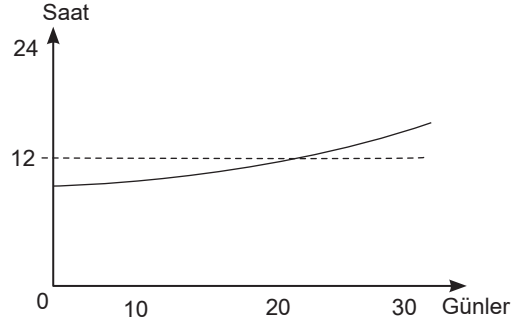
Buna göre;

- I. İstanbul ve Çanakkale Boğazlarına sahip olması,
- II. petrol zengini ülkelere komşu olması,
- III. teknoloji bakımından gelişmiş Avrupa'ya yakın olması,
- IV. doğu-batı yönünde geniş olması,
- V. üç kıtanın birbirine yaklaştığı yerde bulunması

İfadelerinden hangisi Türkiye'nin transit ticaretteki önemini arttırmaz?

- A) I B) II C) III D) IV E) V

4.



Yukarıdaki grafikte Türkiye'de gündüz süresinin bir aylık değişimi gösterilmiştir.

Buna göre, grafiğin gösterdiği ay aşağıdakilerden hangisidir?

- A) Mart B) Aralık C) Ocak
D) Haziran E) Eylül

5.

- I. Doğusu ile batısı arasında 76 dakikalık zaman farkının olması
- II. 2. ve 3. saat dilimlerinde yer alması
- III. Yerel saatinin Başlangıç Meridyeni'nden ileri olması
- IV. Doğuya doğru sıcaklıkların azalması
- V. Doğu Yarım Küre'de yer alması

Yukarıda numaralandırılmış ifadelerden hangisi Türkiye'nin boylam değerleri ile açıklanamaz?

- A) I B) II C) III D) IV E) V

6.

Ekvator'dan kutuplara doğru gidildikçe sıcaklığın azalması enlem etkisi ile açıklanır.

Buna göre, aşağıda verilenlerden hangisi enlem-sıcaklık ilişkisine ters düşer?

- A) Antalya'da denize girme süresinin Sinop'tan uzun olması
- B) Akdeniz'de tuzluluk oranının Karadeniz'den fazla olması
- C) Ülkemizde güneyden esen rüzgârların sıcaklığı artırması
- D) Ege kıyılarında kuzeye doğru ilerlendikçe sıcaklıkların düşmesi
- E) Doğuya doğru karın yerde kalma süresinin uzaması

7. Aşağıdakilerden hangisinin Antalya Bölümü ile Doğu Karadeniz Bölümü arasında farklılık göstermesi mutlak konum ile açıklanamaz?

- A) Orman üst sınırı
- B) Gündüz süresi uzunluğu
- C) Yaz turizmi süresi
- D) Yıllık yağış miktarı
- E) Kalıcı kar sınırı

8. Türkiye'de cisimlerin gölge yönü yıl boyunca kuzeydir.

Bu durum, Türkiye'nin aşağıdaki özelliklerinden hangisi ile açıklanabilir?

- A) Kuzey Yarım Küre'de yer almasıyla
- B) Güneş ışınlarını hiçbir zaman dik almamasıyla
- C) Başlangıç Meridyeni'nin doğusunda yer almasıyla
- D) Orta kuşakta bulunmasıyla
- E) Yengeç Dönencesi'nin kuzeyinde yer almasıyla

9. Aşağıdakilerden hangisi Türkiye'nin göreceli konumu ile açıklanamaz?

- A) Zengin yer altı kaynaklarına sahip olması
- B) Yerçekillerinin doğu-batı doğrultusunda uzanması
- C) Doğuya doğru yıllık sıcaklık ortalamalarının düşmesi
- D) Orta Doğu petrollerine yakın olması
- E) Dört mevsimi belirgin olarak yaşaması

10. Dünya üzerindeki herhangi bir noktanın güneş karşısından geçiş hızı çizgisel hız olarak tanımlanmıştır. Çizgisel hız en fazla Ekvator'dadır ve saatte yaklaşık 1670 km'dir.

Buna göre, aşağıda verilen merkezlerden hangisinde çizgisel hızın daha az olması beklenir?

- A) İzmir
- B) Sinop
- C) Ankara
- D) Antalya
- E) Malatya

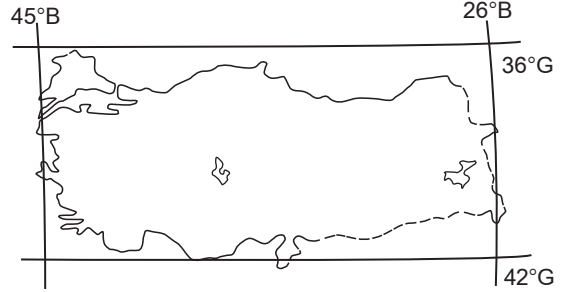
11.



Yukarıdaki Türkiye haritasında verilen illerimizden hangisinde 21 Haziran tarihinde gece süresi diğerlerinden daha uzundur?

- A) Ankara
- B) İzmir
- C) Trabzon
- D) Antalya
- E) Erzurum

12.



Türkiye paralel ve meridyen aralıklarını korumak şartıyla yukarıdaki konuma sahip olsaydı aşağıdakilerden hangisinde değişme görülmezdi?

- A) Karadeniz kıyılarında yıllık ortalama sıcaklıklar artardı.
- B) Akdeniz'in tuzluluk oranı azalır.
- C) Doğu-batı arasındaki zaman farkı azalır.
- D) Antalya'da yıllık ortalama sıcaklıklar azalır.
- E) Samsun'a güneş ışınlarının düşme açısı bugünkünden daha büyük olurdu.

13. Coğrafi açıdan önemli bir konumda olan Türkiye, elverişli özellikleri nedeniyle tarihin ilk çağlarından beri büyük ölçüde yerleşime açılmış, pek çok medeniyete ev sahipliği yapmıştır.

Buna göre;

- I. zengin kültürel mirasa sahip olması,
- II. İstanbul ve Çanakkale Boğazlarına sahip olması,
- III. kültür turizmi potansiyelinin fazla olması

İfadelerinden hangileri yukarıdaki açıklamaya kanıt oluşturur?

- A) Yalnız I
- B) Yalnız II
- C) Yalnız III
- D) I ve II
- E) I ve III

KPSS

2024

GENEL YETENEK
GENEL KÜLTÜR

TAMAMI
VIDEO
ÇÖZÜMLÜ

EZBERBOZAN

TARİH

SORU BANKASI

Arti - Yapay
Zekâ Asistan

Dijital Öğrenme
Ayak İzi

Hibrit Kitap
Teknolojisi

Bu kitabı alan
adaylara ayrıca
Yapay Zekâ
destekli 2200+
Tarih sorusu
çözme hakkı
verilecektir.



Hibrit kitaba erişebilmek
için QR kodu okutunuz.

A PEGEM AKADEMİ



Komisyon

Genel Kültür Genel Yetenek Ezberbozan Tarih Soru Bankası

ISBN 978-625-6890-49-7

Kitapta yer alan bölümlerin tüm sorumluluğu yazarına aittir.

© Pegem Akademi

Bu kitabın basım, yayım ve satış hakları Pegem Akademi Yay. Eğt. Dan. Hizm. Tic. AŞ'ye aittir. Anılan kuruluşun izni alınmadan kitabın tümü ya da bölümleri, kapak tasarımı; mekanik, elektronik, fotokopi, manyetik kayıt ya da başka yöntemlerle çoğaltılamaz, basılamaz ve dağıtılamaz. Bu kitap, T.C. Kültür ve Turizm Bakanlığı bandrolü ile satılmaktadır. Okuyucularımızın bandrolü olmayan kitaplar hakkında yayinevimize bilgi vermesini ve bandrolsüz yayınları satın almamasını diliyoruz.

Pegem Akademi Yayıncılık, 1998 yılından bugüne uluslararası düzeyde düzenli faaliyet yürüten uluslararası akademik bir yayınevidir. Yayımladığı kitaplar; Yükseköğretim Kurulunca tanınan yükseköğretim kurumlarının kataloglarında yer almaktadır. Dünyadaki en büyük çevrimiçi kamu erişim kataloğu olan WorldCat ve ayrıca Türkiye'de kurulan Turcademy.com tarafından yayınları taranmaktadır, indekslenmektedir. Aynı alanda farklı yazarlara ait 1000'in üzerinde yayını bulunmaktadır. Pegem Akademi Yayınları ile ilgili detaylı bilgilere <http://pegem.net> adresinden ulaşılabilir.

28. Baskı: Temmuz 2023 Ankara

Proje-Yayın: Deniz Şahan

Dizgi-GrafikTasarım: İlknur Öztürk

Kapak Tasarım: Pegem Akademi

Baskı: Koza Yayın Dağıtım AŞ
Saray Mahallesi 205 cadde No: 4/2
Kahramankazan/ANKARA
Tel: (0312) 385 91 91

Yayıncı Sertifika No: 51818

Matbaa Sertifika No: 45553

İletişim

Shira Ticaret Merkezi, Macun Mahallesi 204 Cad.

No: 141/33, Yenimahalle/Ankara

Yayınevi: 0312 430 67 50

Dağıtım: 0312 434 54 24

Hazırlık Kursları: 0312 419 05 60

İnternet: www.pegem.net

E-ileti: pegem@pegem.net

WhatsApp Hattı: 0538 594 92 40

Sevgili Adaylar,

Bu kitap Kamu Personeli Seçme Sınavı (KPSS) Genel Kültür Testinde önemli bir yeri olan Tarih bölümündeki 27 soruyu uygun bir süre zarfında ve hatasız çözebilmeniz için hazırlanmıştır. Kitabımız, her soru için anlaşılır bir dilde hazırlanmış çözümlü anlatım ve açıklamalar içermektedir. Soruları çözerken ÖSYM'nin diline hâkim olacaksınız. Meslek hayatınızda başarılar dileriz.

Pegem Akademi

TÜRKİYE'DE İLK DEFA TÜM KİTAPLAR YANINDA; CEPTE, TABLETTE VE MASANDA

Hibrit kitaplarda kullanıcılar;



- 1 Kitabın dijital formatına erişim sağlayabilir.
- 2 Konu sonu testlerini çözebilir.
- 3 Soruların çözüm videolarını izleyebilir.

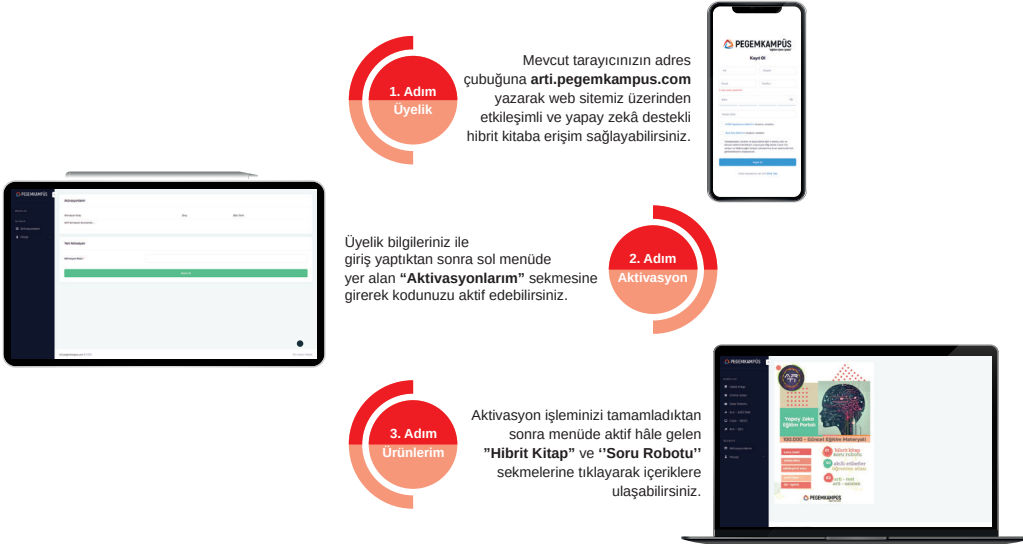
Yapay zekâ, bırakılan etkileşimler sonrasında kullanıcıların başarı durumlarını tespit ederek karşlarına bir analiz ekranı çıkarmaktadır.



Soru robotunda kullanıcılar;

- 1 2200+ soru içinden seçtikleri dersin seçtikleri konularından kendilerine testler oluşturabilir.
 - 2 Çözdükleri sorular sonrasında Arti - ASİSTAN sekmesinde öğrenme durumlarına dair anahtar kelimeler ile başarılı/başarısız oldukları konuları detaylı olarak görüntüleyebilir.
- Yapay zekâ, soruları çözmeye başladıkları andan itibaren kullanıcıların başarı durumlarını tespit edecektir.

Pegem Kampüs web sitesi üzerinden hibrit kitabınıza ve soru robotunuza erişebilmek için aşağıdaki adımları takip ediniz:



**Aktivasyon kodu kitabınızın ilk sayfasında yer almaktadır.
Aktivasyon kodu ile aktif ettiğiniz hibrit kitaba erişim 31.08.2024 tarihine kadar geçerlidir.
Kitaba dair içerikler 1 Eylül 2023'te yayında olacaktır.**



Pegem Kampüs İletişim Hattı
0312 418 51 55

İÇİNDEKİLER

Test - 1	Orta Asya Türk Tarihi - 1	1
Test - 2	Orta Asya Türk Tarihi - 2	4
Test - 3	Orta Asya Türk Tarihi - 3	7
Test - 4	Orta Asya Türk Tarihi - 4	10
Test - 5	Orta Asya Türk Tarihi - 5	13
Test - 6	Türk - İslam ve Türkiye Tarihi - 1	16
Test - 7	Türk - İslam ve Türkiye Tarihi - 2	19
Test - 8	Türk - İslam ve Türkiye Tarihi - 3	22
Test - 9	Türk - İslam ve Türkiye Tarihi - 4	25
Test - 10	Türk - İslam ve Türkiye Tarihi - 5	28
Test - 11	Türk - İslam ve Türkiye Tarihi - 6	31
Test - 12	Türk - İslam ve Türkiye Tarihi - 7	34
Test - 13	Osmanlı Devleti Kuruluş Dönemi (Beylikten Devlete)	37
Test - 14	Osmanlı Devleti Yükselme Dönemi (Dünya Gücü: Osmanlı Devleti)	41
Test - 15	Osmanlı Kültür ve Uygarlığı - 1	45
Test - 16	Osmanlı Kültür ve Uygarlığı - 2	48
Test - 17	Osmanlı Kültür ve Uygarlığı - 3	51
Test - 18	Osmanlı Kültür ve Uygarlığı - 4	54
Test - 19	Osmanlı Kültür ve Uygarlığı - 5	57
Test - 20	Osmanlı Kültür ve Uygarlığı - 6	61
Test - 21	Osmanlı Devleti Duraklama Dönemi (Arayış Yılları) (XVII. yüzyıl)	64
Test - 22	Osmanlı Devleti Gerileme Dönemi (Değişim ve Diplomasi) (XVIII. yüzyıl)	68
Test - 23	Osmanlı Devleti Dağılma Dönemi (En Uzun Yüzyıl) (XIX. yüzyıl)	72
Test - 24	Osmanlı Yenileşme ve Demokratikleşme Hareketleri - 1	76
Test - 25	Osmanlı Yenileşme ve Demokratikleşme Hareketleri - 2	79
Test - 26	Osmanlı Yenileşme ve Demokratikleşme Hareketleri - 3	82
Test - 27	Osmanlı Yenileşme ve Demokratikleşme Hareketleri - 4	85
Test - 28	Osmanlı Yenileşme ve Demokratikleşme Hareketleri - 5	88
Test - 29	Avrupa'da Yaşanan Gelişmeler	91
Test - 30	XX. yy.da Osmanlı (Trablusgarp Savaşı, Balkan Savaşları, I. Dünya Savaşı, Mondros Ateşkesi ve Cemiyetler) - 1	94
Test - 31	XX. yy.da Osmanlı (Trablusgarp Savaşı, Balkan Savaşları, I. Dünya Savaşı, Mondros Ateşkesi ve Cemiyetler) - 2	97
Test - 32	XX. yy.da Osmanlı (Trablusgarp Savaşı, Balkan Savaşları, I. Dünya Savaşı, Mondros Ateşkesi ve Cemiyetler) - 3	100
Test - 33	XX. yy.da Osmanlı (Trablusgarp Savaşı, Balkan Savaşları, I. Dünya Savaşı, Mondros Ateşkesi ve Cemiyetler) - 4	104
Test - 34	XX. yy.da Osmanlı (Trablusgarp Savaşı, Balkan Savaşları, I. Dünya Savaşı, Mondros Ateşkesi ve Cemiyetler) - 5	107
Test - 35	Kurtuluş Savaşı Hazırlık Dönemi ve TBMM'nin Açılması - 1	110
Test - 36	Kurtuluş Savaşı Hazırlık Dönemi ve TBMM'nin Açılması - 2	113
Test - 37	Kurtuluş Savaşı Hazırlık Dönemi ve TBMM'nin Açılması - 3	116
Test - 38	Kurtuluş Savaşı Hazırlık Dönemi ve TBMM'nin Açılması - 4	119
Test - 39	Kurtuluş Savaşı Hazırlık Dönemi ve TBMM'nin Açılması - 5	122
Test - 40	Kurtuluş Savaşı Hazırlık Dönemi ve TBMM'nin Açılması - 6	125
Test - 41	Kurtuluş Savaşı Hazırlık Dönemi ve TBMM'nin Açılması - 7	128
Test - 42	Kurtuluş Savaşı Hazırlık Dönemi ve TBMM'nin Açılması - 8	131

İÇİNDEKİLER

Test - 43 Kurtuluş Savaşı Muharebeler ve Antlaşmalar Dönemi - 1	134
Test - 44 Kurtuluş Savaşı Muharebeler ve Antlaşmalar Dönemi - 2	137
Test - 45 Kurtuluş Savaşı Muharebeler ve Antlaşmalar Dönemi - 3	140
Test - 46 Kurtuluş Savaşı Muharebeler ve Antlaşmalar Dönemi - 4	143
Test - 47 Kurtuluş Savaşı Muharebeler ve Antlaşmalar Dönemi - 5	146
Test - 48 Kurtuluş Savaşı Muharebeler ve Antlaşmalar Dönemi - 6	149
Test - 49 İnkılaplar - 1	152
Test - 50 İnkılaplar - 2	155
Test - 51 İnkılaplar - 3	158
Test - 52 İnkılaplar - 4	161
Test - 53 İnkılaplar - 5	164
Test - 54 İnkılaplar - 6	167
Test - 55 İnkılaplar - 7	170
Test - 56 Atatürk İlkeleri ve Atatürkçülük - 1	173
Test - 57 Atatürk İlkeleri ve Atatürkçülük - 2	176
Test - 58 Atatürk İlkeleri ve Atatürkçülük - 3	179
Test - 59 Atatürk İlkeleri ve Atatürkçülük - 4	182
Test - 60 Atatürk İlkeleri ve Atatürkçülük - 5	185
Test - 61 Dış Politika - 1	188
Test - 62 Dış Politika - 2	191
Test - 63 Dış Politika - 3	194
Test - 64 Çağdaş Türk ve Dünya Tarihi - 1	197
Test - 65 Çağdaş Türk ve Dünya Tarihi - 2	202
Test - 66 Çağdaş Türk ve Dünya Tarihi - 3	207
Test - 67 Çağdaş Türk ve Dünya Tarihi - 4	212
Test - 68 Çağdaş Türk ve Dünya Tarihi - 5	217
Test - 69 Tarama - 1	222
Test - 70 Tarama - 2	229
Test - 71 Tarama - 3	236
Test - 72 Tarama - 4	243
Test - 73 Tarama - 5	250
Test - 74 Tarama - 6	257
Test - 75 Tarama - 7	264
Test - 76 Tarama - 8	271
Test - 77 Tarama - 9	278
Test - 78 Tarama - 10	285
Test - 79 Tarama - 11	292
Test - 80 Tarama - 12	300
Test - 81 Tarama - 13	308
Test - 82 Tarama - 14	315
Test - 83 Tarama - 15	321
Cevap Anahtarı	327

1. Türk adının hangi anlama geldiği konusunda birçok araştırma yapılmıştır.

Aşağıdakilerden hangisi Türk adının anlamları arasında yer almaz?

- A) Güç B) Kargı C) Olgunluk Çağı
D) Törelî E) Miğfer

2.

- Uzun süreli hapis cezalarının uygulanamaması
- Sanat eserlerinin taşınabilir malzemelerden oluşması

Yukarıda verilen İslamiyet öncesi Türk devletlerine ait özellikler, aşağıdakilerden hangisiyle daha çok ilişkilidir?

- A) Savaşların uzun sürmesiyle
B) Diğer kültürlerle ilişki kurulmasıyla
C) Egemenlik anlayışıyla
D) Göçebe hayat tarzının benimsenmesiyle
E) Din ve inanışla

3.

- Taht kavgaları sıkça yaşanmıştır.
- Birçok Türk devleti kurulmuştur.
- Devletler uzun ömürlü olamamıştır.

İslamiyet öncesi Türk devletlerinde ortaya çıkan yukarıdaki durumlara, aşağıdakilerden hangisi neden olarak gösterilebilir?

- A) Gök Tanrı inancının görülmesi
B) Nüfus yoğunluğunun az olması
C) Ahiret inancının olması
D) Ülke topraklarının hükümdar ailesinin ortak malı sayılması
E) Kavimler Göçü'nün yaşanması

4. **İslamiyet öncesi Türklerde;**

- I. ölen kişinin mumyalanması,
II. çiçek aşısının uygulanması,
III. 12 Hayvanlı Türk Takvimi'nin yapılması

gelişmelerinden hangileri bilimsel faaliyetlerde bulunulduğuna kanıt olarak gösterilebilir?

- A) Yalnız I B) Yalnız II C) Yalnız III
D) I ve II E) I, II ve III

5. **Karadeniz'in kuzeyinde kurulan, oluşturdukları güçlü ordular sayesinde Bizans üzerine kadar başarılı seferler düzenleyerek bugünkü Sibiry'a isimlerini veren Türk devleti aşağıdakilerden hangisidir?**

- A) Avarlar
B) Sabirler
C) Göktürkler
D) Sasaniler
E) Karluklar

6. Uygur şehir kalıntılarında Hristiyan, Maniheizt, Budist mabet ve manastır harabeleri yan yana bulunmuştur.

Bu duruma göre, Uygur Türkleri için aşağıdaki yargılardan hangisine ulaşılabilir?

- A) Uygur Türklerinde hükümdar yetkileri sınırsızdır.
B) Adalet ve hoşgörü hâkimdir.
C) Uygur Türkleri paylaşımcı bir toplumdur.
D) Türk kültürü Uygurlar Dönemi'nde geniş alanlara yayılmıştır.
E) Töreye dayalı bir yönetim anlayışı vardır.

7. Orta Asya'da kurulan kültür merkezlerinin tarihi MÖ 5000 yıllarına kadar uzanmaktadır.

Aşağıdakilerden hangisi Orta Asya'daki kültür merkezleri içinde yer almaz?

- A) Anav B) Afanesyevo C) Süev
D) Andronova E) Karasuk

8. Aşağıdakilerden hangisi İslamiyet öncesi Türk devletlerinde görülen inanışlardan biri değildir?

- A) Totemizm
- B) Şamanizm
- C) Musevilik
- D) Manihaizm
- E) Kalvenizm

9. Aşağıdakilerden hangisi, Türklerin göçebe oldukları döneme ait bir sanat eseri olarak gösterilemez?

- A) Kabzaları süslü silahlar
- B) İşlemeler ile süslenmiş çadırlar
- C) Altın ve gümüştan yapılmış takılar
- D) İskitlere ait halılar
- E) Uygur tapınakları

10. Bilinen ilk büyük Türk devleti olan Asya Hun Devleti hükümdarı Mete Han'ın oluşturduğu güçlü ordular sayesinde Çin'i yenilgiye uğratmış olmasına rağmen, Çin'e yerleşmeyip Çin'i sadece vergiye bağlamasının sebebi olarak, aşağıdakilerden hangisi gösterilebilir?

- A) Devletin ekonomik olarak vergiye ihtiyacının olması
- B) Çin'in coğrafi yapısı
- C) Türklerin Çin nüfusu karşısında asimile olacağı düşüncesi
- D) Devlet içerisinde iç savaş olması
- E) Veraset sisteminin benimsenmesi

11. Orta Asya'nın çeşitli yerlerinde Türklere ait kaynaklara rastlanmaktadır. Bu kaynaklardan en önemlisi Kök Türk ait kitabelerdir.

VIII. yüzyıl başlarında Kök Türk alfabesiyle yazılan bu kitabeler, aşağıdakilerden hangisidir?

- A) *Orhun Kitabeleri*
- B) *Yenisey Yazıtları*
- C) *Sine Uşi Yazıtları*
- D) *Karabalğasun Yazıtları*
- E) *Taryat Kitabeleri*

12. İslamiyet öncesi Türklerde;

- I. temel geçim kaynağının hayvancılık olması,
- II. sosyal devlet anlayışının olması,
- III. 12 Hayvanlı Türk Takvimi'nin kullanılması

gelişmelerinden hangileri "hayvan üslubu" sanat tarzının görülmesinin nedenidir?

- A) Yalnız I
- B) Yalnız III
- C) I ve II
- D) II ve III
- E) I, II ve III

13. Aşağıdakilerden hangisi Türk topluluklarından biri değildir?

- A) İskitler
- B) Kumanlar
- C) Sabirler
- D) Vandallar
- E) Avarlar

14. İslamiyet öncesi Türk devletlerinde ordu-millet anlayışı egemen olmuş, kadın-erkek herkes asker sayılmıştır.

Bu duruma göre eski Türkler için aşağıdakilerden hangisi söylenebilir?

- A) Ordu, "onlu sistem"e göre düzenlenmiştir.
- B) İktidarı sistemini uygulamışlardır.
- C) Askerlik özel bir meslek sayılmamıştır.
- D) Komşu ülkelerle iyi geçinilmiştir.
- E) Sosyal sınıf farklılığı vardır.

15. Hunların neden olduğu Kavimler Göçü'nün sonuçları arasında;

- I. Roma İmparatorluğu'nun ikiye ayrılması,
- II. Avrupa'da feodalite rejiminin ortaya çıkması,
- III. Avrupa'da skolastik düşüncenin egemen olması

gelişmelerinden hangileri yer alır?

- A) Yalnız I
- B) Yalnız II
- C) Yalnız III
- D) II ve III
- E) I, II ve III

ÇÖZÜMLER

1. Türk adı Uygur metinlerinde "güç, kuvvet", Kaşgarlı Mahmut'un "Divan-ı Lügat-i Türk" adlı eserinde "olgunluk çağı" eski Çin kaynaklarında "miğfer" anlamında kullanılmıştır. Ziya Gökalp ise Türk adının "türeli (törel), kanun nizam sahibi" anlamına geldiğini belirtmiştir. Ayrıca Armin Vamberi "türemek" fiilinden geldiğini, Gerhard Doerfer de "devlete bağlı halk" anlamına geldiğini belirtmiştir.

Cevap B

2. Göçebe yaşamın sonuçları;
- feodal yapının bulunmaması,
 - başlıca ekonomik faaliyet olarak hayvancılığın benimsenmesi,
 - sözlü edebiyatın gelişmesi,
 - savaşçı bir yapıya sahip olunması,
 - hapis cezalarının kısa süreli olması,
 - taşınabilir sanat eserlerinin ortaya konması şeklinde özetlenebilir.

Cevap D

3. Türk devletlerinde veraset sistemi benimsendiği için ülke, hükümdar ailesinin ortak malı sayılmıştır. Hükümdar öldükten sonra yerine kimin geçeceği belli olmadığı için bu durum taht kavgalarının yaşanmasına ve devletlerin çabuk yıkılmasına neden olmuştur. Türk toplumları teşkilatçı bir yapıya sahip oldukları için kısa sürede başka bir devlet kurma özelliği de taşımışlardır.

Cevap D

4. Ölen kişinin mumyalanması tıp, kimya gibi bilimlerle uğraşıldığının kanıtıdır. Çiçek aşısının uygulanması tıp bilimiyle uğraşıldığının kanıtıdır. 12 Hayvanlı Türk Takvimi'nin yapılması astronomi ve matematik bilimleriyle uğraşıldığını göstermektedir.

Cevap E

5. Büyük Hunlara bağlı topluluklardan biri olan Sabirlerin anayurtları Tanrı Dağları'nın batısı ile İli Nehri arasındaki bölgeydi. 6. yüzyılın başlarında Doğu Avrupa'da görülen Sabirler, 515 yılında Kafkasya ve Karadeniz'in kuzeyine yerleştiler. Bizans'a karşı başarılı seferler düzenleyip 516 yılında Kafkasları aşarak Anadolu'ya geldiler. Bugünkü Sibiry'a isimlerini veren Türk topluluğu Sabirler'dir.

Cevap B

6. Bir toplumda farklı dinlerin var olması orada din ve vicdan özgürlüğünün olduğunu gösterir. Bu da o toplumun adalet ve hoşgörüye sahip olduğunu kanıtıdır.

Cevap B

7. Süev bir kültür merkezi değil, barbar kavmidir.

Cevap C

8. Türkler arasında birçok din yayılmıştır. Totemizm, Şamanizm, Atalar Kültü, Gök Tanrı, Hristiyanlık, Musevilik, İslamiyet, Budizm, Manihaizm gibi. Kalvenizm, Avrupa'da yaşanan Reform Hareketleri'nden sonra ortaya çıkan bir mezheptir.

Cevap E

9. Tapınaklar yerleşik hayatın sonucudur. Dolayısıyla göçebe bir toplumda mimari sanat eserlerine rastlanmaz.

Cevap E

10. Çin kalabalık bir nüfusa, eski ve köklü bir kültüre sahiptir. Bu sebeple Mete Han, Türklerin oraya yerleşmesi neticesinde asimile olacağını düşünmüş ve Çin'i sadece vergiye bağlamakla yetinmiştir.

Cevap C

11. Türk dilinin ve tarihinin ilk yazılı örnekleri Kök Türklerle ait *Orhun Kitabeleri*'dir. *Yenişey Kitabeleri* Kırgızlara, *Sine Uşi*, *Karabalgasun* ve *Taryat Kitabeleri* ise Uygurlara aittir.

Cevap A

12. Göçebe yaşam tarzı benimseyen Türklerde başlıca ekonomik faaliyet hayvancılıktır. Dolayısıyla bu durum sanatsal faaliyetlere yansiyacaktır. Yani sanat eserlerinde hayvan figürlerinden yararlanılacaktır. Bu durum da beraberinde "hayvan üslubu"nu getirmiştir. Şöyle bir sonuçta da ulaşılabilir; ekonomik faaliyetler ve dinî inanışlar sanatsal faaliyetler üzerinde etkili olmuştur.

Cevap A

13. Soruda verilen Vandallar barbar kavimlerindenidir. Dolayısıyla Orta Asya Türk boylarından değildir.

Cevap D

14. Türklerde kadın-erkek herkesin asker sayılması, ayrı bir askerî sınıfın olmadığını gösterir. Yani askerlik bir yaşam tarzı olarak benimsenmiştir. Dolayısıyla askerlik özel bir meslek olarak kabul edilmemiştir.

Cevap C

15. Kavimler Göçü'nün sonuçları şu şekilde özetlenebilir: Roma İmparatorluğu ikiye ayrılmış, Avrupa'nın etnik yapısı değişmiş, bugünkü Avrupa devletlerinin temelleri atılmış, Türkler Avrupa'da bir Hun Devleti kurmuş, Türk kültürü Avrupa'da yayılmış, İlik Çağ sona ermiş, Orta Çağ başlamış; Avrupa'da kilise önem kazanmış, skolastik düşünce egemen olmuş ve feodalite rejimi ortaya çıkmıştır.

Cevap E

1. Aşağıdakilerden hangisi İslamiyet'ten önce Orta Asya'da yaşayan Türklerin farklı coğrafyalara göç etmelerinin nedenlerinden biri değildir?

- A) Yaşanılan toprakların artan nüfusa yeterli olmaması
B) Salgın hastalıklar ve hayvan hastalıkları
C) Kendi aralarındaki mücadeleler
D) Dış devletlerin baskısı
E) Dinî inanış çatışmaları

2. *Kök Türk Yazıtları*'ndaki bilgilerden Oğuzların Orhun ve Selenga nehirleri bölgesinde yaşadıkları anlaşıl-
maktadır. Yirmi dört boydan oluşan Oğuzların büyük
bir bölümü ilk başlarda göçebe olarak yaşadı. Ancak
batıya göç etmeleriyle birlikte yerleşik hayata geçerek
şehirler kurdular.

Aşağıdakilerden hangisi Oğuzları oluşturan yirmi
dört boydan biri değildir?

- A) Kayı B) Kınık C) Angıl
D) Bayındır E) Çepni

3. Türkler, tarihte gerçekleştirdikleri faaliyetler sonucun-
da, evrensel nitelikli önemli olayların oluşumunda rol
oynamışlardır.

Aşağıdakilerden hangisi bu duruma kanıt olarak
gösterilebilir?

- A) Sanayi İnkılabı
B) ABD'nin Kuruluşu
C) Reform Hareketleri
D) Kavimler Göçü
E) Fransız İhtilali

4. Museviliği kabul eden Türk topluluğu aşağıdakiler-
den hangisidir?

- A) Bulgarlar
B) Hazarlar
C) Karluklar
D) Uygurlar
E) Macarlar

5. İslamiyet öncesi Türkler ile ilgili araştırma yapan bir
tarihçi, Bizans kaynaklarına ulaşmıştır.

Elde edilen bu kaynakların aşağıdaki devletlerden
hangisinin aydınlatılmasına daha çok yardımcı ola-
cağı savunulabilir?

- A) Büyük Hun Devleti
B) Uygur Devleti
C) Kırgız Devleti
D) Avrupa Hun Devleti
E) Hazar Devleti

6. İslamiyet öncesi Türklerde görülen;

- I. taş ve ahşaptan mimari yapılar,
II. kitabelerin ortaya çıkması,
III. askerî harcamaların artması

durumlarından hangileri göçebe yaşamdan yerleşik
hayata geçildiğinin kesin kanıtıdır?

- A) Yalnız I B) Yalnız II C) I ve II
D) II ve III E) I, II ve III

7. İslamiyet öncesinde yaşanan Türk göçleri sonu-
cunda ulusal kültürünü kaybederek asimile olan
Türk boyu aşağıdakilerden hangisidir?

- A) Kök Türkler
B) Karluklar
C) Oğuzlar
D) Uygurlar
E) Macarlar

8.

- I. *Alp Er Tunga*
II. *Ergenekon*
III. *Oğuz Kağan*

Yukarıdaki destanlardan hangileri İskitlere aittir?

- A) Yalnız I B) Yalnız II C) I ve II
D) I ve III E) II ve III

9. Uygurlar, aşağıdaki hükümdarlardan hangisinin döneminde Maniheizm dinini benimsemiştir?

- A) Böğü Kağan
- B) Moyen-Çor
- C) Kutluk Bilge Kül Kağan
- D) Baga Tarkan
- E) Bilge Kağan

10. Aşağıdakilerden hangisi bilinen ilk Türk devletidir?

- A) Asya Hun Devleti
- B) Kök Türk Devleti
- C) Uygur Devleti
- D) Büyük Selçuklu Devleti
- E) Osmanlı Devleti

11. Aşağıdakilerden hangisi İslamiyet öncesi Türk devletlerinde bağımsızlığa verilen önemin göstergesidir?

- A) Hayvancılığın temel geçim kaynağı olarak benimsenmesi
- B) Yılın belli dönemlerinde av merasimlerinin yapılması
- C) Kağan dâhil herkesin töreye uymak zorunda olması
- D) Boylar arasındaki mücadelelerde kaybeden tarafın farklı bir coğrafi bölgeye göç etmesi
- E) Farklı inançlardaki insanların bir arada yaşaması

12. Aşağıdakilerden hangisi İslam öncesi Türk devletlerinde hükümdarlık alametleri arasında yer almaz?

- A) Otağ
- B) Kotuz
- C) Törün
- D) Kama
- E) Berge

13. İslamiyet öncesi Türk tarihi araştırılırken;

- I. Çin,
- II. Bizans,
- III. Mısır

kaynaklarından hangilerinden yararlanılmak zorundadır?

- A) Yalnız I
- B) Yalnız II
- C) Yalnız III
- D) I ve II
- E) I, II ve III

14. İslamiyet öncesi Türk devletlerinde gelenek ve göreneklerden oluşan kurallara töre denirdi. Kağan dâhil olmak üzere herkes töreye uymak zorundaydı.

Bu durum eski Türklerde aşağıdakilerden hangisine verilen önemin göstergesidir?

- A) Sosyal devlet anlayışına
- B) Gök Tanrı inancına
- C) Kanun üstünlüğüne
- D) Ulusal bağımsızlığa
- E) Özel mülkiyete

15. Uygurlar, Türk tarihinde ilk kez Çinlilerin etkisi ile yerleşik hayata geçerek tarımsal faaliyetleri geliştirmiş, şehirler kurmuşlardır.

Buna göre Uygur Türklerinin sosyal ve ekonomik hayatlarındaki bu gelişmeyi sağlayan neden aşağıdakilerden hangisidir?

- A) Kut anlayışı
- B) Veraset sistemi
- C) Maniheizm dini
- D) İkili teşkilat
- E) Onlu sistem