

KPSS  
2024

GENEL YETENEK  
GENEL KÜLTÜR

TÜRKÇE

TAMAMI ÇÖZÜMLÜ  
ÇIKMIŞ  
SORULAR

SON  
10  
YIL

 ÖGRETİ AKADEMİ

# ÖĞRETİ AKADEMİ

## Komisyon

### GYGK TÜRKÇE TAMAMI ÇÖZÜMLÜ ÇIKMIŞ SORULAR

ISBN 978-625-6764-51-4

Kitapta yer alan bölümlerin tüm sorumluluğu yazarlarına aittir.

Bu kitabın basım, yayım ve satış hakları Pegem Akademi Yay. Eğt. Dan. Hizm. Tic. AŞ'ye aittir. (Öğreti Akademi yayınları bir Pegem Akademi markasıdır.) Anılan kuruluşun izni alınmadan kitabın tümü ya da bölümleri, kapak tasarımı; mekanik, elektronik, fotokopi, manyetik kayıt ya da başka yöntemlerle çoğaltılamaz, basılamaz ve dağıtılamaz. Bu kitap, T.C. Kültür ve Turizm Bakanlığı bandrolü ile satılmaktadır. Okuyucularımızın bandrolü olmayan kitaplar hakkında yayınevimize bilgi vermesini ve bandrolsüz yayınları satın almamasını diliyoruz.

**1. Baskı:** 2023, Ankara

Yayın-Proje: Şewal Aksoy  
Dizgi-Grafik Tasarım: Gülnur Öcalan  
Kapak Tasarımı: Öğreti Akademi

**Baskı:** Vadi Grup Basım AŞ  
Saray Mah. 126 Cad. No: 20/A  
Kazan/ANKARA  
Tel: (0312) 802 00 53-54

Yayıncı Sertifika No: 51818  
Matbaa Sertifika No: 49180

## İletişim

Shira Ticaret Merkezi, Macun Mahallesi 204 Cad.  
No: 141/33, Yenimahalle/Ankara  
Yayınevi: 0312 430 67 50  
Dağıtım: 0312 434 54 24  
Hazırlık Kursları: 0312 419 05 60  
İnternet: [www.ogreti.com](http://www.ogreti.com)  
E-ileti: [ogreti@ogreti.com.tr](mailto:ogreti@ogreti.com.tr)  
WhatsApp Hattı: 0538 594 92 40

Değerli KPSS Adayları,

KPSS'ye hazırlanan adaylarımız KPSS'de çıkan soruları incelemek, çözmek ve kendini geliştirmek, eksiklerini fark edip tamamlamak amacıyla çalışmalarına dâhil etmektedir. Lisans mezunu adayların bu yönde yaptıkları çalışmaların başarı oranları üzerindeki olumlu etkisi göz ardı edilemeyeceğinden kitabımızda 2014-2023 yılları arasında yapılan KPSS Genel Yetenek Türkçe alanında yöneltilen tüm sorulara yer verilmiştir.

Lisans mezunu adayların geleceğe umutla bakabilmelerine, eğitimini aldıkları alanda kendilerini gerçekleştirilmelerine ve karşılarına çıkan engelleri aşmalarına yardımcı olması amacıyla hazırlanan KPSS Tamamı Çözümü Genel Yetenek-Genel Kültür Türkçe Çıkış Sorular kitabı ile sizlere faydalı olacağımızı umuyor ve hepinize başarılar diliyoruz.

**Öğreti Akademi Yayıncılık**

## İÇİNDEKİLER

2014 GYGK Türkçe Çıkmış Sorular .....	1
2015 GYGK Türkçe Çıkmış Sorular .....	14
2016 GYGK Türkçe Çıkmış Sorular .....	28
2017 GYGK Türkçe Çıkmış Sorular .....	42
2018 GYGK Türkçe Çıkmış Sorular .....	59
2019 GYGK Türkçe Çıkmış Sorular .....	74
2020 GYGK Türkçe Çıkmış Sorular .....	89
2021 GYGK Türkçe Çıkmış Sorular .....	104
2022 GYGK Türkçe Çıkmış Sorular .....	120
2023 GYGK Türkçe Çıkmış Sorular .....	138
Cevap Anahtarı .....	154

1. Bir edebiyatçı, şiir yazmayı telefon kulübesinde halay çekmeye benzetmiş. Gerçekten de bir romancınıninkine nazaran şairin işi çok daha zordur.

**Bu parçada geçen “telefon kulübesinde halay çekmek” sözüyle, şiirin anlatılmak istenen yönü aşağıdakilerden hangisidir?**

- A) Roman yazmaya tercih edildiği  
B) Az sözcükle çok şey anlatmayı gerektirdiği  
C) Dış dünyadan soyutlanmayı sağladığı  
D) Diğer türlerden daha üstün görüldüğü  
E) Farklı alanlarla etkileşim içinde olduğu

2. Bazı yerel yönetimlerin ya da sivil toplum kuruluşlarının ---- geri dönüşüm projeleri sayesinde kâğıt, plastik ve cam atıkların ---- geri dönüşüme kazandırıldığı örnekler ülkemizde ----.

**Bu cümlede boş bırakılan yerlere sırasıyla aşağıdakilerden hangileri getirilmelidir?**

- A) önyak olduğu – büyük oranda – yaygınlaşıyor  
B) başlattığı – farklı yöntemlerle – görülüyor  
C) tanıtmaya başladığı – düzenli olarak – biliniyor  
D) geliştirmeye çalıştığı – her birinin – kalıyor  
E) hazırlığını yaptığı – önemli kısmının – tanıtılıyor

3. “Bu konuyu anlatabilmem için yeterli sürem yok.” diyen bir insanın aslında o konuda yeterli bilgiye sahip olmadığı düşünülebilir.

**Aşağıdakilerden hangisi bu cümlede anlatılmak istenene anlamca en yakındır?**

- A) Bazı konuların kısa sürede anlatılması dinleyici kitlesine bağlıdır.  
B) İnsanlar, uzman olmadıkları bir konuda uzun süre konuşamazlar.  
C) Bir konuyu ayrıntılarıyla bilen insan, o konuyu kısa zamanda başkalarına aktarabilir.  
D) Anlatma becerisine sahip olmak ile bir konunun uzmanı olmak farklı şeylerdir.  
E) Konuşulan konu hakkında yetkinliği olmayan insanlar, sözü uzatırlar.

4. (I) Yalnızca bir bölgede yetişen veya yaşayan bitki ve hayvanlar, “endemik” olarak adlandırılıyor. (II) Üzerinde yaşadığımız coğrafyadaki bitki türlerinden özellikle endemik olanlar, turistik ya da bilimsel nedenlerle tüm dünyanın ilgisini çekiyor. (III) Ancak bazen yasa dışı biçimde bunlar yurt dışına kaçırılıyor. (IV) Bu türlerden biri de “ters lale” adıyla bilinen ağlayan gelinler. (V) Endemik bitkilerin topraklarından uzaklaştırılması ise onların yok olmalarına yol açıyor.

**Bu parçadaki numaralandırılmış cümlelerle ilgili olarak aşağıda verilenlerden hangisi yanlıştır?**

- A) I. cümlede, tanımlama yapılmıştır.  
B) II. cümlede, sebeplere yer verilmiştir.  
C) III. cümlede, olumsuz bir durumdan söz edilmiştir.  
D) IV. cümlede, örneklemeden yararlanılmıştır.  
E) V. cümlede, beklenmeyen bir sonuç dile getirilmiştir.

5.

- I. Ebrunun çerçevelenerek resim gibi seyirlik bir sanat eserine dönüştürülmesi, bu zorlamaya örnektir.
- II. Hâlbuki ebru, ciltçiliğin ve hat sanatının bir parçasıdır ve öyle kalmalıdır.
- III. Bu yaygınlık ve popülerleşmenin etkisiyle bazı deneysel girişimlere ve geleneğe aykırı zorlamalara da üzülerek tanık oluyoruz.
- IV. Bugün, tarihinde hiç olmadığı kadar yaygınlık kazanan ebru sanatı; çoğu sanat atölyesinde ustasından meraklısına öğretilen bir ders konusu hâline gelmiştir.
- V. Uzun bir ihmal hatta inkâr döneminin ardından ebru sanatı, geleneksel sanatlarımızın çoğu gibi yeniden dirilmiştir.

**Yukarıdaki numaralandırılmış cümleler anlamlı bir paragraf oluşturacak biçimde sıralandığında hangisi dördüncü olur?**

- A) I    B) II    C) III    D) IV    E) V

6.

- I. Toprakla temas etmeyen ve dört mevsim yeşil kalan bir bitki olan ökse otu; köknar, söğüt, çam, armut, elma, kayısı gibi ağaçların dallarında bulunur.
- II. Sarımsı yeşil renkteki ökse otları, ağaçlar yapraklarını döktüğü zaman çıplak dallarda kuş yuvası şeklindeki görünüşleriyle dikkat çeker.
- III. Meyvenin yapışkan kısmını yiyen arıdık kuşu; ökse otunun, kursağında yumuşattığı tohum kısmını dallara bırakır.
- IV. İlginç görüntüleri yanında ökse otlarının; yapışkan, zehirli bir madde içeren beyaz, yuvarlak ve nohut büyüklüğünde meyveleri vardır ama meyvenin içindeki zehir, hayvanları etkilemez.
- V. Kuşlar aracılığıyla gerçekleşen bu üreme, ökse otunu farklı kılan bir diğer özelliğidir.

**Yukarıdaki numaralandırılmış cümlelerle anlamlı bir paragraf oluşturulmak istendiğinde hangilerinin yer değiştirilmesi gerekir?**

- A) I ile II    B) I ile III    C) II ile IV  
D) III ile IV    E) IV ile V



**11. Aşağıdakilerin hangisinde nesnelere bir, diğerinin açıklayıcı durumudur?**

- A) Hayatının en önemli insanını, annesini büyük bir özlemle andı.  
 B) Örgülü beyaz saçlarını, rüzgârda uçuşan şapkasını tuttu.  
 C) Acaba hiç üstü kapalı bir ev, karnını doyuracak sıcak bir aş bulamadı mı?  
 D) Her çağ kendi rüyalarını, kendi emellerini söylemiş şairlere.  
 E) Kimsesiz çocuklar için eskimiş ayakkabılar, yamanmış giysiler topluyordu.

**12. Aşağıdakilerden hangisi sıralı cümledir?**

- A) Cam; 4.000 yılı aşkın zamandır kum, çakmak taşı ya da kuvarstan yapılmaktadır.  
 B) Arabalardaki çok katlı ön camlar, iki levhanın arasına bir plastik tabakası koyularak üretilir.  
 C) Pürüzsüz bir yüzey elde edilmesi için cam, kalay üzerinde kalınlığı her yerde eşitlenene kadar sıvı hâlde tutulur.  
 D) Vitraylar; küçük, renkli cam parçalarının kurşun şeritlerle birbirine eklenmesiyle yapılır.  
 E) Cam üfleme ustaları sıcak, erimiş cam madenini keser; içine borudan hava üfleterek şekillendirir.

**13. Oluz Höyük kazılarında bu yıl bir**

- I  
 Roma Sikkesi bulundu. Gümüşten  
 II  
 üretilmiş 1,8 cm çapında ve 3,6 gram  
 ağırlığındaki paranın önemi, Roma'da  
 III  
 basılmış olması. Yapılan ön incelemeler,  
 IV  
 gümüş sikkenin MÖ 142'de  
 V  
 bastırıldığına işaret ediyor.

**Bu parçadaki numaralandırılmış sözlerin hangisinde yazım yanlışı vardır?**

- A) I B) II C) III D) IV E) V

**14. Aşağıdakilerin hangisinde büyük harflerin kullanımıyla ilgili bir yanlışlık yapılmıştır?**

- A) Türkçenin sözcük türetme imkânları oldukça geniştir.  
 B) Mehmet Bey, konuyla ilgili görüşmeler yapmak üzere cumartesi günü İstanbul'a gidecek.  
 C) Bilge Kağan anıtındaki yazıları okumaya çalışıyor ancak pek başarılı olamıyordu.  
 D) Sabahleyin yedide yola çıkabilirsek en geç öğleden sonra ikide Tokat'tayız.  
 E) Cumhuriyet Bayramı, bütün Türkiye'de büyük bir coşkuyla kutlandı.



15. (I) Türkiye’de gazete ve televizyon haberciliği son dönemlerde önemli bir dönüşüm yaşadı. (II) Bundan 15-20 yıl öncesine kadar televizyon ve gazete haberlerinde trafik kazası, kavga, cinayet, hırsızlık gibi haberler dışında sıradan insanlara pek yer verilmiyordu. (III) Ekonomik sorunlarla boğuşan basın çalışanları, yaptıkları haberlerde kaliteden taviz vermek zorunda kalmıştı. (IV) Eğitim sistemi, vergi uygulamaları, sağlık ve ulaşım hizmetleri gibi vatandaşları doğrudan ilgilendiren konularda bile “yetkili kimseler” konuşur; konunun doğrudan muhatabı olan insanların düşüncelerine başvurulmazdı. (V) Bu tutumun gerekçesi olarak da ilgi çekici olan kişiyi bulup konuş-turmak gösterilirdi. (VI) Ancak zamanla, sıradan insanların söylediklerinin, yetkili kişilerin resmî dilin sınırları içinde söylediklerinden daha ilgi çekici olabileceği fark edildi.

**Bu parçadaki numaralandırılmış cümlelerden hangisi düşüncenin akışını bozmaktadır?**

- A) II    B) III    C) IV    D) V    E) VI

16. Sözlü kültürümüzde halk hikâyeciliği geneleği çok köklüdür. Leyla ile Mecnun’u, Kerem ile Aslı’yı duymayalım; onlardan hoşlanmayalım yoktur. Bu hikâyeleri dinlerken çoğu zaman kendimizi kahramanların yerine koyarız. Çünkü bu hikâyeler bizi anlatır. Anlatıcı, “Ben böyle se-verim.” demeye getirirse öfkeleniriz. ----.

**Bu parçanın sonuna, düşüncenin akışına göre aşağıdakilerden hangisi getirilmelidir?**

- A) Bu yüzden halk hikâyesinde anlatıcı kendini anlatmamalı, anlatsa bile gizlemelidir  
 B) Sanatçı, kendi duygularıyla izleyicisinin duyguları arasında denge kurabilmelidir  
 C) Bundan dolayı sanatçı; kendisi açısından neyin iyi, neyin güzel olduğunu açıkça belirtmelidir  
 D) Anlatıcı, gerçeği bir süzgeçten geçirerek dinleyiciye sunmalıdır  
 E) İşte bu sebeple anlatıcı, anlatırken kahramanları tazelemelidir

17. Bir meşe palamuduyla bir çakıl taşı biçim ve büyüklük bakımından birbirine benze-  
tilebilir. İkisini de bir hedefe doğru fırlatıp  
atabilirsiniz. Ne var ki meşe palamudu  
kendi içinde bir ağacı barındırır, o ağaç  
da başka ağaçlar... Çocuklara bakarken  
onların içlerinde barındırdıkları gizli gücü  
ve yetenekleri göz ardı ederseniz pala-  
mudu, çakıl taşıyla bir tutan kişi gibi olur-  
sunuz. Nitekim tarihe damgasını vurmuş  
birçok büyük insan, çocukluğunda çakıl  
taşı gibi görülmüştür.

**Bu parçadan aşağıdakilerden hangisi  
çıkarılabilir?**

- A) Yetenekli insanların, küçük yaşlarda  
fark edilmemeleri insanlık için bir ka-  
pıy olmuştur.
- B) Çocuğun taşıdığı cevheri açığa çıka-  
rarak ona hak ettiği değeri vermek  
gerekir.
- C) İnsan, evrendeki bütün varlıklar ara-  
sında en yetenekli olanıdır.
- D) İnsanların, başarıları oranında top-  
lumda değer kazandığı açıktır.
- E) Bir toplumu oluşturan bireylerin farklı  
yeteneklere sahip olması bir tür zen-  
ginliktir.

18. Şairin yaşadığı toplumu yansıtmasının  
yalnızca tek bir yolu ve yöntemi yok. Ki-  
misi şiir estetiğinden fire vermeyi göze  
alarak sert ve köşeli bir edayla bunu ya-  
par. Kimisi de Cahit Külebi gibi, şiirden  
ödün vermeyerek sosyal içeriği güçlü  
olan “28 Nisan” ve “İkinci Cumhuriyet”  
benzeri şiirlerin de şairi olabilmıştır.

**Bu parçada aşağıdakilerin hangisi an-  
latılmak istenmiştir?**

- A) Şiirde toplumsal sorunları konu edin-  
mek şiiri özünden uzaklaştırır.
- B) Külebi'nin şiirlerindeki ustalık, şiirleri-  
nin örnek alınmasını sağlamıştır.
- C) Şiir tarzı, hiçbir zaman sadece bir  
yöntemle sınırlı kalmamıştır.
- D) Şiirle topluma tanklık etmek, şiiri za-  
yıflatmadığında değerlidir.
- E) Külebi, şiirde şairlerin seçmediği bir  
anlatım yoluna gitmiştir.

19. Arkeolojik, antropolojik ve jeolojik ara-  
tırmalarda elde edilen nesnelerin yaşını  
belirlemek için yapılan çalışmaya “ta-  
rihlendirme” adı verilir. Temelde iki tür  
tarihlendirme vardır. İlki, bir bilgiyi diğer  
bir bilgi ile kıyaslayarak yapılan tarihlen-  
dirmedi ki buna “göreceli tarihlendirme”  
denir. İkincisi ise numunenin fiziksel ve  
kimyasal özelliklerini kullanarak yapılan  
tarihlendirmedi ve buna da “mutlak ta-  
rihlendirme” adı verilir. İkinci yöntemdeki  
tarihlendirme, somut verilere dayandığın-  
dan ilkinde göre daha güvenilirdir.

**Bu parçada tarihlendirme ile ilgili ola-  
rak aşağıdakilerden hangisine değinil-  
memiştir?**

- A) Farklı bilim dallarınca ve farklı yön-  
temlerle kullanıldığına
- B) Bazı çalışmalarda ulaşılan sonuçların  
kesinlik taşıdığına
- C) Mutlak tarihlendirmede fen bilimler-  
den yararlanıldığına
- D) Sonuçlara örneklerin incelenmesiyle  
ulaşıldığına
- E) Karşılaştırmalı çalışmaların güvenilirli-  
ği artırdığına

**20. - 21. soruları aşağıdaki parçaya göre cevaplayınız.**

Bugünün kültür dünyasına gürültülü ve içi boş bir kalabalık hâkim. Kişinin kendi sesini bile duymadığı böyle bir ortamda kalıcı bir yer edinmek oldukça zor. Kültür, hızlı ve yoğun akıntıların buluşup çarpıştığı bir deniz gibi. Her yer taşkın, her yer sel altındayken sırtında su taşıyan bir kültür gönüllüsü olmak da anlamını yitiriyor.

**20. Bu parçanın yazarı aşağıdakilerin hangisinden yakındır?**

- A) Kültür insanlarının geçmişte yaşadıkları sıkıntılardan
- B) Kültürel etkinliklerin fazlalığının, takipçileri zor durumda bırakmasından
- C) Kültür alanındaki niteliğin, nicelle ters orantılı şekilde azalmasından
- D) Günümüzdeki kültür insanlarının yetersiz çalışmalarından
- E) Bilgi kirliliğinin, kültür üzerindeki olumsuz etkilerinden

**21. Bu parçada geçen “kendi sesini duymamak” sözüyle anlatılmak istenen aşağıdakilerden hangisidir?**

- A) Kültür insanlarının, ürünlerini geniş kitlelere ulaştıramamaları
- B) Belli bir kültürel çevreye ait olmamanın sanatçıyı zor duruma düşürmesi
- C) Toplumun, kültür insanlarına hak ettikleri saygıyı göstermemesi
- D) Kültürel eserlerin inceliklerini anlayanın azınlıkta kalması
- E) Kültürle uğraşanların, çoğunluğun içerisinde kendini ifade edememeleri

**22. - 23. soruları aşağıdaki parçaya göre cevaplayınız.**

Eskiden edebiyata yansiyacak denli hızlı yaşanmıyordu toplumsal değişimler. Bence Türk edebiyatında Divan edebiyatı öğelerinin yüzlerce yıl etkisini sürdürmesi bu yüzdendi mesela. Son dönemlerde hızlanan sosyoekonomik gelişmelerle birlikte değişen koşulları yansıtan edebiyat eserleri, eskisinden çok daha kısa bir zaman içerisinde birbirini izlemeye başladı. Günümüzdeyse bir edebiyat akımı oluşturmaya yetmeyecek denli hızlı akmaktadır zaman. Artık yazarları, bir edebiyat akımının özellikleri altında toplamanın zor olduğu bir döneme girdik. Edebiyat akımlarından değil de olsa olsa bireysel üslaplardan söz edebiliriz çağımızda.

**22. Bu parçadan aşağıdakilerden hangisine ulaşılamaz?**

- A) Çoğu edebî eserde artık tarihi konular işlenmeye başlanmıştır.
- B) Toplumsal nitelikli edebî eser ortaya koymada geçmişe oranla artış gözlenmiştir.
- C) Son dönemlerde yazarların özgünlüğünde anlatımları belirleyici olmaktadır.
- D) Edebiyat akımından söz edilmesi, edebiyatçılar arasındaki ortaklıklara bağlıdır.
- E) Geçmişte edebiyatı, bireylerde ortak olan nitelikler yönlendirmiştir.

**23. Bu parçanın anlatımıyla ilgili olarak aşağıdakilerin hangisi söylenemez?**

- A) Devrik cümlelerden yararlanılmıştır.
- B) Tanık göstermeye başvurulmuştur.
- C) Özne yargılara yer verilmiştir.
- D) Örnek kullanılmıştır.
- E) Karşılaştırma yapılmıştır.

24. - 26. soruları aşağıdaki parçaya göre cevaplayınız.

Tankların tarihi, I. Dünya Savaşı'na dayanıyor. Tarihi kayıtlara göre ilk olarak Eylül 1916'da İngiliz ordusu tarafından kullanılmaya başlandı. Çeşitli kaynaklara göre, bu paletli ve zırlı savaş aracına "tank" adı, üretiminden hiç kimsenin haberdar olmasını istemeyen İngiliz ordu yetkilileri tarafından bilinçli olarak verilmiştir. Söz konusu aracın yapımında çalışan İngiliz işçilere bile ürettiklerinin sadece paletli su depoları olduğu söyleniyor. Kısa sürede I. Dünya Savaşı'nın önemli unsurlarından biri hâline gelen tanklar, aynı zamanda siper savaşı taktiğini de tarihin derinliklerine gömerek ordular hareketli savunma düzenine geçmeye zorluyor ve klasik süvari görevlerini üstlenmeye başlıyor. Sonraki yıllarda İngiliz ordusunun yanı sıra özellikle Alman, Fransız, Rus orduları ve ABD tarafından da geliştirilen zırlı araçlar ve buna dayalı savaş tarzı; geçerliliğini günümüzde de koruyan ana muharebe tanklarının, II. Dünya Savaşı'nın güçlü aktörlerinden biri olmasını sağlıyor. Tanklar, ilk defa II. Dünya Savaşı sırasında Alman orduları tarafından ana silah olarak kullanılmaya başlanıyor.

24. Bu parçaya göre tanklarla ilgili olarak aşağıdakilerden hangisi söylenebilir?

- A) I. Dünya Savaşı'nın sonuçlanmasında etkili oldukları
- B) İlk önce paletli su depoları olarak planlandıkları
- C) En iyilerinin İngiltere tarafından ürettiği
- D) Yaygınlaşmasında I. Dünya Savaşı'ndaki performansının belirleyici olduğu
- E) II. Dünya Savaşı'ndan sonra kullanımının bırakılmaya başlandığı

25. Bu parçada tanklarla ilgili olarak aşağıdakilerden hangisine değinilmemiştir?

- A) İsminin verilmiş biçimindeki tutuma
- B) Geçmişinin ne zamana uzandığına
- C) Üretimine gizli olarak başlandığına
- D) Öneminin artmasını sağlayan nedenlere
- E) Yerine geçtiği savaş aracına

26. Bu parçaya göre tankların, ana muharebe aracı hâline gelmesinde aşağıdakilerden hangisi etkili değildir?

- A) Atlı birliklerin görevlerini yapması
- B) Savaş biçimini değiştirmesi
- C) Uluslararası savaşlara neden olması
- D) Siperleri etkisizleştirmesi
- E) Zırlı araçların yaygınlaşması

**27. - 30. soruları aşağıdaki bilgilere göre birbirinden bağımsız olarak cevaplayınız.**

Bir öğle yemeğinde et, tavuk ve balık yemeklerinin tam veya yarım porsiyonlarından (her bir yemeğin tam ve yarım porsiyonlarından en az bir kere sipariş edilmek koşuluyla) sipariş eden Ahmet, Burcu, Cemre, Deniz, Emre, Fatih, Gizem ve Hakan'a ilişkin kimi bilgiler şu şekildedir:

- Tam ve yarım porsiyon yemek sipariş eden kişi sayısı birbirine eşittir.
- Burcu ile Emre, farklı porsiyonlarda et yemeği sipariş etmişlerdir.
- Deniz ile Gizem, yarım porsiyon yemek sipariş etmişlerdir.
- Balık sipariş eden iki kişiden biri Cemre'dir.
- Ahmet, yarım porsiyon tavuk sipariş eden tek kişidir.
- Fatih ile Burcu, aynı porsiyonda aynı yemeği sipariş etmişlerdir.

27.

- I. Cemre
- II. Hakan
- III. Emre

**Yukarıdaki kişilerden hangileri tam porsiyon yemek sipariş etmişlerdir?**

- A) Yalnız I    B) Yalnız II    C) I ve II
- D) II ve III    E) I, II ve III

28.

- I. Deniz
- II. Gizem
- III. Hakan

**Yukarıdaki kişilerden hangileri balık yemeği sipariş etmiş olabilir?**

- A) Yalnız I    B) I ve II    C) I ve III
- D) II ve III    E) I, II ve III

**29. Aşağıdaki ifadelerden hangisi kesinlikle doğrudur?**

- A) Hakan, yarım porsiyon yemek sipariş etmiştir.
- B) Emre, tam porsiyon yemek sipariş etmiştir.
- C) Gizem, balık yemeği sipariş etmiştir.
- D) Cemre, tam porsiyon yemek sipariş etmiştir.
- E) Burcu, yarım porsiyon yemek sipariş etmiştir.

**30. Deniz'in et yemeği sipariş ettiği biliniyorsa aşağıdaki ifadelerden hangisi kesinlikle doğrudur?**

- A) Balık sipariş eden kişilerden biri Gizem'dir.
- B) Fatih, yarım porsiyon yemek sipariş etmiştir.
- C) Et yemeği sipariş eden toplam üç kişi bulunmaktadır.
- D) Burcu ile Deniz, aynı porsiyonda yemek sipariş etmişlerdir.
- E) Hakan ile Cemre, farklı porsiyonlarda yemek sipariş etmişlerdir.

1. Romanda sözcük sınırı yoktur, dolayısıyla yazar anlatmak istediğini dilediği kadar sözcük kullanarak anlatabilir. Fakat şiirin uzunluğu sınırlıdır. Şair sınırlı sayıda kelimeyle, yani az sözle çok şey anlatmak zorundadır. Bu karşılaştırma soruda telefon kulübesinde halay çekmek benzetmesiyle anlatılmıştır.

**Cevap B**

2. Parçada bazı sivil toplum kuruluşlarının girişimleri ve bu girişimlerde başı çektikleri, yani önyak oldukları ifade edilmiştir. Dolayısıyla A seçeneğindeki “önyak olmak” deyimini parçadaki vurguyu en iyi şekilde karşılar. Söz konusu girişimlerin başarılı sonuçlar vermesi de A seçeneğindeki “büyük oranda” ifadesinin boşluğa uygun olduğunu göstermektedir.

**Cevap A**

3. Verilen cümlede yeterli bilgiye sahip olunmadığı zaman konunun uzun sürede anlatılabileceği vurgulanmıştır. Dolayısıyla bir konuyu ayrıntılarıyla bilen insanın o konuyu kısa sürede anlatabileceği düşünülebilir.

**Cevap C**

4. V. cümlede yasa dışı yoldan yurt dışına çıkarılan endemik bitkilerin yok olduğundan söz edilse de bu sonucun beklenmediğini bildiren bir ifadeye yer verilmiştir.

**Cevap E**

5. Verilen cümlelerin anlamlı bir bütün oluşturacak sıralaması V - IV - III - I - II şeklindedir.

**Cevap A**

6. IV. cümledeki “ilginç görüntüleri yanında” ifadesi bu cümlenin II. cümledeki “görünümleriyle dikkat çeker” ifadesinden sonra gelmesi gerektiğini göstermektedir. Bunu sağlayacak değişiklik de III ve IV değişikliğidir.

**Cevap D**

7. III numaralı “uzak bir yer” tamlaması, sıfat tamlamasıdır. Diğer tamlamalar ise belirtisiz isim tamlamasıdır.

<u>uzak</u>	<u>bir</u>	<u>yer</u>
niteleme	belgisiz	isim
sıfatı	sıfat	

**Cevap C**

8. Bildirme eki (-dır), A, C, D ve E seçeneklerindeki “tilkidir, yumaktır yanıktır, şifasızdır, neferdir, yoldaşımdır” sözcüklerinde geniş zaman ek fiili olarak kullanılmış, yani çekim eki olmuştur. B seçeneğinde ise “yıllardır” sözcüğünde yapım eki kullanılmıştır.

**Cevap B**

KPSS  
2024

GENEL YETENEK  
GENEL KÜLTÜR

# MATEMATİK

TAMAMI ÇÖZÜMLÜ  
ÇIKMIŞ  
SORULAR

SON  
10  
YIL

 ÖGRETİ AKADEMİ

# ÖĞRETİ AKADEMİ

## Komisyon

### GYGK MATEMATİK TAMAMI ÇÖZÜMLÜ ÇIKMIŞ SORULAR

ISBN 978-625-6764-54-5

Kitapta yer alan bölümlerin tüm sorumluluğu yazarlarına aittir.

Bu kitabın basım, yayım ve satış hakları Pegem Akademi Yay. Eğt. Dan. Hizm. Tic. AŞ'ye aittir. (Öğreti Akademi yayınları bir Pegem Akademi markasıdır.) Anılan kuruluşun izni alınmadan kitabın tümü ya da bölümleri, kapak tasarımı; mekanik, elektronik, fotokopi, manyetik kayıt ya da başka yöntemlerle çoğaltılamaz, basılamaz ve dağıtılamaz. Bu kitap, T.C. Kültür ve Turizm Bakanlığı bandrolü ile satılmaktadır. Okuyucularımızın bandrolü olmayan kitaplar hakkında yayınevimize bilgi vermesini ve bandrolsüz yayınları satın almamasını diliyoruz.

**1. Baskı:** 2023, Ankara

Yayın-Proje: Şewal Aksoy  
Dizgi-Grafik Tasarım: Gülnur Öcalan  
Kapak Tasarımı: Öğreti Akademi

**Baskı:** Vadi Grup Basım AŞ  
Saray Mah. 126 Cad. No: 20/A  
Kazan/ANKARA  
Tel: (0312) 802 00 53-54

Yayıncı Sertifika No: 51818  
Matbaa Sertifika No: 49180

## İletişim

Shira Ticaret Merkezi, Macun Mahallesi 204 Cad.  
No: 141/33, Yenimahalle/Ankara  
Yayınevi: 0312 430 67 50  
Dağıtım: 0312 434 54 24  
Hazırlık Kursları: 0312 419 05 60  
İnternet: [www.ogreti.com](http://www.ogreti.com)  
E-ileti: [ogreti@ogreti.com.tr](mailto:ogreti@ogreti.com.tr)  
WhatsApp Hattı: 0538 594 92 40



Değerli KPSS Adayları,

KPSS'ye hazırlanan adaylarımız KPSS'de çıkan soruları incelemek, çözmek ve kendini geliştirmek, eksiklerini fark edip tamamlamak amacıyla çalışmalarına dâhil etmektedir. Lisans mezunu adayların bu yönde yaptıkları çalışmaların başarı oranları üzerindeki olumlu etkisi göz ardı edilemeyeceğinden kitabımızda 2014-2023 yılları arasında yapılan KPSS Genel Yetenek Matematik alanında yöneltilen tüm sorulara yer verilmiştir.

Lisans mezunu adayların geleceğe umutla bakabilmelerine, eğitimini aldıkları alanda kendilerini gerçekleştirmelerine ve karşılıklarına çıkan engelleri aşmalarına yardımcı olması amacıyla hazırlanan KPSS Tamamı Çözümlü Genel Yetenek-Genel Kültür Matematik Çıkmış Sorular kitabı ile sizlere faydalı olacağımızı umuyor ve hepinize başarılar diliyoruz.

**Öğreti Akademi Yayıncılık**

## İÇİNDEKİLER

2014 GYGK Matematik Çıkmış Sorular .....	1
2015 GYGK Matematik Çıkmış Sorular .....	12
2016 GYGK Matematik Çıkmış Sorular .....	23
2017 GYGK Matematik Çıkmış Sorular .....	36
2018 GYGK Matematik Çıkmış Sorular .....	49
2019 GYGK Matematik Çıkmış Sorular .....	64
2020 GYGK Matematik Çıkmış Sorular .....	79
2021 GYGK Matematik Çıkmış Sorular .....	91
2022 GYGK Matematik Çıkmış Sorular .....	104
2023 GYGK Matematik Çıkmış Sorular .....	118
Cevap Anahtarı .....	131

1.  $\frac{1+3^{-1}+5^{-1}}{2^{-1}+4^{-1}+6^{-1}}$

işleminin sonucu kaçtır?

- A)  $\frac{92}{55}$  B)  $\frac{86}{55}$  C)  $\frac{84}{55}$  D)  $\frac{94}{55}$  E)  $\frac{96}{55}$

2.  $\frac{0,4-0,08}{1-\sqrt[3]{0,008}}$

işleminin sonucu kaçtır?

- A)  $\frac{1}{5}$  B)  $\frac{2}{5}$  C)  $\frac{3}{5}$  D)  $\frac{4}{5}$  E) 1

3.  $(4\sqrt{8})^{3x} = \frac{8^x}{32}$

olduğuna göre, x kaçtır?

- A)  $\frac{1}{3}$  B)  $\frac{3}{4}$  C)  $\frac{2}{5}$   
D)  $\frac{-1}{2}$  E)  $\frac{-2}{3}$

4.  $|\sqrt{3}-2|+|1-\sqrt{2}|+|\sqrt{3}-\sqrt{2}|$

işleminin sonucu kaçtır?

- A)  $\sqrt{2}$  B)  $\sqrt{3}$  C)  $2\sqrt{3}$  D) 1 E) 3

5.  $\frac{x-2}{x^2+x} \cdot \left(x - \frac{3x^2}{x^2-4}\right)$

ifadesinin sadeleştirilmiş biçimi aşağıdakilerden hangisidir?

- A)  $\frac{x-4}{x+2}$  B)  $\frac{x-1}{x+2}$  C)  $\frac{x+1}{x+2}$   
D)  $\frac{x}{x-2}$  E)  $\frac{x+4}{x-2}$

6. Gerçek sayılar kümesi üzerinde  $\odot$  işlemi

$$x \odot y = x^2 + y^2$$

biçiminde tanımlanıyor.

Buna göre,

$$3 \odot a = b \odot 5$$

$$a + b = 2$$

eşitliklerini sağlayan a ve b değerleri için a - b farkı kaçtır?

- A) 2 B) 4 C) 8 D)  $\frac{1}{2}$  E)  $\frac{1}{4}$

7. X ve Y kümelerinin simetrik farkı  
 $X\Delta Y = (X\setminus Y) \cup (Y\setminus X)$   
 biçiminde tanımlanır.  
**Buna göre, boş kümeden ve birbirinden farklı K, L kümeleri için**  
 $[K\setminus(K\Delta L)] \cup [(K\Delta L) \cap L]$   
 ifadesi aşağıdakilerden hangisine eşittir?

- A) K                      B) L                      C)  $\emptyset$   
 D)  $K \cap L$               E)  $K \cup L$

8. Üç basamaklı ABC doğal sayısı iki basamaklı BC doğal sayısının 21 katına eşittir.  
**Buna göre, bu koşula uyan en büyük ABC sayısının rakamları toplamı kaçtır?**

- A) 15    B) 16    C) 17    D) 18    E) 19

9. x ve y pozitif tam sayılar olmak üzere,  
 $xy + 3y = 12$   
 eşitliğini sağlayan x değerlerinin toplamı kaçtır?

- A) 9    B) 11    C) 13    D) 15    E) 17

10.  $24^x = 5$  olduğuna göre,

$$\frac{2^{x+2} \cdot 3^{x+3}}{4^{1-x}}$$

ifadesinin değeri kaçtır?

- A) 80    B) 90    C) 120    D) 125    E) 135

- 11.

$$a - b < 0$$

$$\frac{a}{b} < c$$

$$b \cdot c^2 < 0$$

eşitsizliklerini sağlayan a, b ve c gerçel sayıları için aşağıdakilerden hangisi doğrudur?

- A)  $\frac{ab}{c} < 0$     B)  $abc < 0$     C)  $\frac{a}{b-c} < 0$

D)  $\frac{a+b}{c} < 0$     E)  $ab + c < 0$

12. a, b gerçel sayılar ve

$$f(x) = \frac{ax + b}{2}$$

$$f(0) = 2$$

$$f(f(0)) = 6$$

olduğuna göre,  $f(8)$  kaçtır?

- A) 10 B) 12 C) 14 D) 16 E) 18

13. Bir pazarcı elindeki patateslerin  $\frac{1}{3}$ 'ünü 4 kilogramı 3 TL'den, kalanları ise 3 kilogramı 2 TL'den satıp toplam 500 TL elde ediyor.

**Buna göre, pazarcı kaç kilogram patates satmıştır?**

- A) 720 B) 735 C) 750 D) 765 E) 780

14. Bir yıl önce 300 gram ekmek 60 kuruşa satılırken bugün 250 gram ekmek 60 kuruşa satılmaktadır.

**Buna göre, ekmeğin gram fiyatı bir yıl öncesine göre yüzde kaç artmıştır?**

- A) 15 B) 20 C) 25 D) 32 E) 3

15. Ardışık 8 tam sayının ilk 5'i ile son 3'ünün toplamı eşittir.

**Buna göre, sayıların en küçüğü ile en büyüğünün toplamı kaçtır?**

- A) 11 B) 13 C) 15 D) 17 E) 19

16. Başak, girdiği sınavda başarılı olabilmek için tüm soruların en az % 80'ini doğru cevaplamalıdır. Bu sınavda başarılı olan Başak, ilk 15 sorunun 8'ini doğru cevaplamıştır.

**Buna göre, sınavda en az kaç soru sorulmuştur?**

- A) 32 B) 35 C) 38 D) 40 E) 42

17. Kiraz ve elma ağaçlarının dikili olduğu bir bahçede toplam 50 adet ağaç vardır. Kiraz ağaçlarının ortalama 8 kg, elma ağaçlarının ise ortalama 15 kg meyve verdiği bir yılda bu bahçeden toplam 610 kg ürün alınmıştır.

**Buna göre, bahçedeki elma ağaçlarının sayısı kiraz ağaçlarının sayısından kaç fazladır?**

- A) 5 B) 8 C) 10 D) 12 E) 15

18. İstanbul yerel saati, Londra yerel saati-ne göre 120 dakika ileridir. İstanbul'dan çarşamba günü yerel saatle 13.30'da yola çıkan bir kişi Londra'ya aynı gün yerel saatle 15.00'da varmıştır. Bu kişinin Londra'dan İstanbul'a dönüş yolculuğu ise 30 dakika daha kısa sürmüştür.

**Bu kişi, Londra'dan perşembe günü yerel saatle 20.15'te ayrıldığına göre, İstanbul'a yerel saatle ne zaman ulaşmıştır?**

- A) Perşembe, 23.15  
B) Cuma, 00.15  
C) Cuma, 01.45  
D) Perşembe, 23.45  
E) Cuma, 01.15

19. Bir evde, enerji tüketimleri eşit olan 6 ampul 10 saatte 3 kilovat enerji tüketiyor. Bu ampuller % 20 daha az enerji tüketen tasarruflu ampullerle değiştiriliyor.

**Buna göre, evdeki 4 tasarruflu ampul 25 saatte kaç kilovat enerji tüketir?**

- A) 1 B) 2 C) 3 D) 4 E) 5

20. Bir kutuda 1'den 7'ye kadar numaralanmış yedi adet kart bulunmaktadır. Cihan, bu kutudan üç kart seçtikten sonra Sercan, kalan kartlardan ikisini seçiyor. Cihan, seçtiği kartlara bakarak "Sercan'ın seçmiş olduğu kartların numaralarının toplamı kesinlikle çifttir." diyor.

**Buna göre, Cihan'ın seçmiş olduğu kartların numaralarının toplamı kaçtır?**

- A) 6 B) 7 C) 9 D) 12 E) 15

21. Bir hava yolu şirketi, yolcularına bagaj ağırlığı için kişi başı bir sınır koymuştur. Ağırlığı bu sınıra kadar olan bagajları ücretsiz taşıyan şirket, sınırı aşan yolculardan ise aşılana her bir kilogram için ücret almaktadır.

Bu şirket ile seyahat eden;

- bir kişi 60 kilogram ağırlığındaki bagajı için 105 TL,
- her ikisinin de bagaj ağırlığı sınırı geçen ve bagaj ağırlıklarının toplamı 60 kilogram olan iki kişi toplam 30 TL

ücret ödemiştir.

**Buna göre şirketin, bagaj ağırlığı için koyduğu sınır kaç kilogramdır?**

- A) 10 B) 15 C) 20 D) 25 E) 30

22. Hilesiz bir zar 3 defa atıldığında zarın üst yüzüne gelen sayıların toplamının 16 olma olasılığı kaçtır?

- A)  $\frac{1}{9}$  B)  $\frac{1}{12}$  C)  $\frac{1}{18}$  D)  $\frac{1}{24}$  E)  $\frac{1}{36}$

**23. - 24. soruları aşağıdaki bilgilere göre birbirinden bağımsız olarak cevaplayınız.**

Bir çocuk kırmızı, mavi ve beyaz renkli özdeş küpler kullanarak aşağıda tarif edilen biçimde bir yapı oluşturuyor.

- 75 küpü yan yana dizerek birinci katı oluşturuyor. Birinci katın üzerine yan yana 73 küp koyarak ikinci katı, ikinci katın üzerine yan yana 67 küp koyarak üçüncü katı ve bundan sonraki her katta bir önceki katta kullandığı küp sayısından 6 tane daha az küp kullanarak diğer katları oluşturuyor.
- Birinci katta kırmızı, ikinci katta mavi, üçüncü katta beyaz küpler kullanıyor ve üstteki diğer katlarda da aynı renk düzenini tekrar ediyor.

**23. Bu yapının onuncu katında kaç küp vardır?**

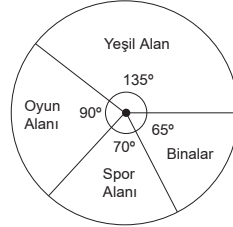
- A) 19 B) 22 C) 25 D) 28 E) 31

**24. Bu çocuk mümkün olan en çok katlı yapıyı oluşturduğuna göre, toplam kaç mavi renkli küp kullanmıştır?**

- A) 181 B) 183 C) 185 D) 187 E) 189

**25. - 26. soruları aşağıdaki bilgilere göre birbirinden bağımsız olarak cevaplayınız.**

Bir okul arazisinin alan dağılımı aşağıdaki dairesel grafikte gösterilmiştir.



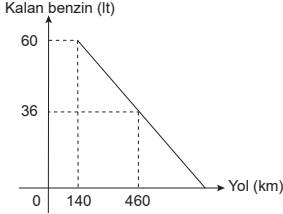
**25. Bu okul arazisinde yeşil alan için ayrılan bölge, oyun alanı için ayrılan bölgeden  $720 \text{ m}^2$  daha büyük olduğuna göre, spor alanı için ayrılan bölge kaç  $\text{m}^2$ 'dir?**

- A) 960 B) 1080 C) 1120  
D) 1200 E) 1240

**26. Spor alanının  $\frac{1}{10}$ 'u ve oyun alanının  $\frac{2}{5}$ 'i kullanılarak kapalı spor salonu binası yapıldığında; binaların toplam alanı, okul arazisinin yüzde kaçını oluşturur?**

- A) 25 B) 30 C) 35 D) 40 E) 45

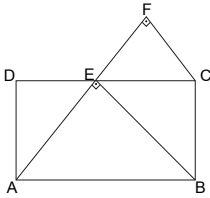
27. Bir aracın aldığı yola bağlı olarak deposunda kalan benzin miktarı aşağıdaki doğrusal grafikte verilmiştir.



**Bu araç, deposundaki 60 litre benzinle kaç km yol alır?**

- A) 800 B) 760 C) 720 D) 680 E) 640

28.



ABCD bir dikdörtgen

$$2|DE| = |EC|$$

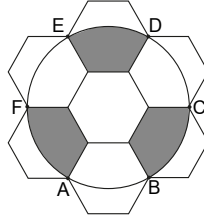
$$[AE] \perp [EB]$$

$$[AF] \perp [EF]$$

**Yukarıdaki verilere göre,  $\frac{|EB|}{|FC|}$  oranı kaçtır?**

- A)  $\frac{3}{2}$  B)  $\frac{4\sqrt{2}}{3}$  C)  $\frac{5}{4}$   
D)  $\sqrt{5}$  E)  $\sqrt{6}$

29.

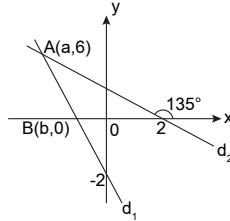


Kenar uzunluğu 1 birim olan yedi tane düzgün altıgen şekildeki gibi birleştiriliyor. A, B, C, D, E ve F noktalarından geçen çember çiziliyor.

**Buna göre, boyalı alanların toplamı kaç birim karedir?**

- A)  $2\pi - \frac{\sqrt{3}}{4}$  B)  $2\pi - \frac{3\sqrt{3}}{4}$  C)  $\pi - \frac{3\sqrt{3}}{4}$   
D)  $2\pi - \frac{\sqrt{3}}{2}$  E)  $\pi - \frac{\sqrt{3}}{2}$

30.



Dik koordinat düzleminde verilen  $d_1$  ve  $d_2$  doğruları  $A(a, 6)$  noktasında kesişmektedir.

**$d_1$  doğrusu x-eksenini  $B(b, 0)$  noktasında kestiğine göre,  $a + b$  toplamı kaçtır?**

- A) -5 B) -4 C) -3  
D)  $-\frac{9}{2}$  E)  $-\frac{7}{2}$



1. Negatif kuvvetleri sayılar ters çevrilip düzenlenirse,

$$\begin{aligned} 1 + \frac{1}{3} + \frac{1}{5} &= \frac{15 + 5 + 3}{15} \\ \frac{1}{2} + \frac{1}{4} + \frac{1}{6} &= \frac{6 + 3 + 2}{12} \\ &= \frac{23}{155} \cdot \frac{12^4}{11} = \frac{92}{55} \text{ bulunur.} \end{aligned}$$

**Cevap A**

2. Kök içindeki ondalık sayı kök dışına çıkartılıp işlem yapılırsa,

$$\begin{aligned} \frac{0,4 - 0,08}{1 - \sqrt[3]{0,008}} &= \frac{0,32}{1 - \sqrt[3]{(0,2)^3}} = \frac{0,32}{1 - 0,2} \\ &= \frac{0,32}{0,8} = \frac{32}{80} = \frac{2}{5} \text{ bulunur.} \end{aligned}$$

**Cevap B**

3. Köklü sayılar üslü sayıya çevrilip tabanları düzenlenirse,

$$\begin{aligned} (2^2 \cdot \sqrt{2^3})^{3x} &= \frac{(2^3)^x}{2^5} \Rightarrow (2^2 \cdot 2^{\frac{3}{2}})^{3x} = 2^{3x-5} \\ &\Rightarrow \left(2^{\frac{7}{2}}\right)^{3x} = 2^{3x-5} \\ &\Rightarrow 2^{\frac{21x}{2}} = 2^{3x-5} \\ &\Rightarrow \frac{21x}{2} = 3x - 5 \\ &\Rightarrow 21x = 6x - 10 \\ &\Rightarrow 15x = -10 \\ &\Rightarrow x = -\frac{2}{3} \text{ bulunur.} \end{aligned}$$

**Cevap E**

4.  $\sqrt{3} - 2 < 0, 1 - \sqrt{2} < 0$  ve  $\sqrt{3} - \sqrt{2} > 0$  olduğundan pozitif olan sayılar mutlak değer dışına olduğu gibi, negatif olan sayılar mutlak değer dışına "-" ile çarpılarak çıkarılırsa,

$$\begin{aligned} &|\sqrt{3} - 2| + |1 - \sqrt{2}| + |\sqrt{3} - \sqrt{2}| \\ &= \sqrt{3} - 2 + 1 + \sqrt{2} + \sqrt{3} - \sqrt{2} \\ &= 1 \text{ bulunur.} \end{aligned}$$

**Cevap D**

5. Parantez içinde verilen ifadenin paydası eşitlenip düzenlenirse,

$$\begin{aligned} \frac{x-2}{x^2+x} \cdot \left(\frac{x^3-4x-3x^2}{x^2-4}\right) \\ &= \frac{\cancel{x-2} \cdot x(x^3-3x-4)}{x(x+1) \cdot \cancel{(x-2)}(x+2)} \\ &= \frac{(x-4)\cancel{(x+1)}}{\cancel{(x+1)}(x+2)} \\ &= \frac{x-4}{x+2} \text{ bulunur.} \end{aligned}$$

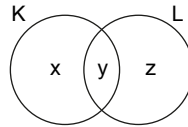
**Cevap A**

6. Verilen tanıma göre,

$$\begin{aligned} 3 \odot a = b \odot 5 &\Rightarrow 3^2 + a^2 = b^2 + 5^2 \\ &\Rightarrow a^2 + 9 = b^2 + 25 \\ &\Rightarrow a^2 - b^2 = 16 \\ &\Rightarrow (a+b)(a-b) = 16 \\ &\Rightarrow 2 \cdot (a-b) = 16 \\ &\Rightarrow a-b = 8 \text{ bulunur.} \end{aligned}$$

**Cevap C**

7. K ile L kümeleri aşağıdaki gibi tanımlanırsa,



$$\begin{aligned} K &= \{x, y\} \text{ ve } L = \{y, z\} \text{ ise} \\ K \Delta L &= (K \setminus L) \cup (L \setminus K) = \{x\} \cup \{z\} \\ &= \{x, z\} \text{ olur.} \end{aligned}$$

Böylece

$$\begin{aligned} K \setminus (K \Delta L) &= \{x, y\} \setminus \{x, z\} = \{y\} \\ (K \Delta L) \cap L &= \{x, z\} \cap \{y, z\} = \{z\} \\ (K \setminus (K \Delta L)) \cup ((K \Delta L) \cap L) &= \{y\} \cup \{z\} \\ &= \{y, z\} = L \end{aligned}$$

kümesi olur.

**Cevap B**

8.  $ABC = 21 \cdot (BC)$  eşitliği yazılır. Bu eşitlik sayılar çözümlenirse,

$$100A + BC = 21(BC)$$

$$\Rightarrow 100A = 20(BC)$$

$$\Rightarrow 5A = BC$$

$$\Rightarrow A = 9, BC = 45 \text{ olur.}$$

Böylece en büyük ABC sayısı 945 ve bu sayının rakamları toplamı  $9 + 4 + 5 = 18$  bulunur.

**Cevap D**

9. Verilen ifade ortak paranteze alınıp düzenlenirse,

$$xy + 3y = 12 \Rightarrow y(x + 3) = 12$$

$$\Rightarrow y = \frac{12}{x+3} \text{ olur.}$$

$$x + 3 = 1 \Rightarrow x = -2 \notin \mathbb{Z}^+$$

$$x + 3 = 2 \Rightarrow x = -1 \notin \mathbb{Z}^+$$

$$x + 3 = 3 \Rightarrow x = 0 \notin \mathbb{Z}^+$$

$$x + 3 = 4 \Rightarrow x = 1$$

$$x + 3 = 6 \Rightarrow x = 3$$

$$x + 3 = 12 \Rightarrow x = 9$$

Böylece eşitliği sağlayan x değerlerinin toplamı  $1 + 3 + 9 = 13$  bulunur.

**Cevap C**

10. Eşitlikte verilen sayıların kuvvetleri parçalanıp düzenlenirse,

$$\frac{2^x \cdot 2^2 \cdot 3^x \cdot 3^3}{4^1 \cdot 4^{-x}} = 2^x \cdot 3^x \cdot 4^x \cdot 27^{-1}$$

$$= (2 \cdot 3 \cdot 4)^x \cdot 27$$

$$= 24^x \cdot 27$$

$$= 5 \cdot 27$$

$$= 135 \text{ bulunur.}$$

**Cevap E**

11.  $c^2 > 0$  de  $b \cdot c^2 < 0$  olduğundan  $b < 0$  olur.

$b < 0$  ve  $a - b < 0 \Rightarrow a < b$  olduğundan  $a < 0, b < 0$  ve  $\frac{a}{b} < c$  olduğundan  $c > 0$  olur.

Seçenekler incelenirse,

$$A) \frac{a \cdot b}{c} = \frac{(-)(-)}{(+)} = + \text{ yanlış}$$

$$B) a \cdot b \cdot c = (-)(-)(+) = + \text{ yanlış}$$

$$C) \frac{a}{b \cdot c} = \frac{-}{(-) \cdot (+)} = \frac{-}{-} = + \text{ yanlış}$$

$$D) \frac{a+b}{c} = \frac{(-)+(-)}{(+)} = \frac{(-)}{(+)} = - \text{ doğru}$$

$$E) a \cdot b + c = (-) \cdot (-) + (+) = (+) + (+) = + \text{ yanlış}$$

yanlış

Böylece D seçeneğinde verilen ifade doğrudur.

**Cevap D**

$$12. f(0) = \frac{a \cdot 0 + b}{2} \Rightarrow 2 = \frac{b}{2} \Rightarrow b = 4$$

$$f(f(0)) = 6 \Rightarrow f(2) = 6 \Rightarrow \frac{2a + b}{2} = 6$$

$$\Rightarrow 2a + 4 = 12$$

$$\Rightarrow a = 4$$

$$\text{Dolayısıyla } f(x) = \frac{4x + 4}{2} = 2x + 2 \text{ olur.}$$

Böylece  $f(8) = 2 \cdot 8 + 2 = 18$  bulunur.

**Cevap E**

13. Pazarcının  $3x$  kg patatesi olsun.

Bu durumda  $x$  kg'ını 4 kilosu 3 TL'den,  $2x$  kg'ını 3 kilosu 2 TL'den satın 500TL elde edeceğinden

$$\frac{x}{4} \cdot 3 + \frac{2x}{3} \cdot 2 = 500 \Rightarrow \frac{9x + 16x}{12} = 500$$

$$\Rightarrow 25x = 12 \cdot 500^{20}$$

$$\Rightarrow x = 240 \text{ olur.}$$

Böylece patatesin tamamı

$$3x = 3 \cdot 240 = 720 \text{ kg bulunur.}$$

**Cevap A**

14. 300 gram 60 kuruş ise 50 gram 10 kuruş, 250 gram 60 kuruş ise 50 gram 12 kuruş olur.

Böylece ekmeğin fiyatı 2 kuruş artmış olur.

Dolayısıyla

$$\frac{10}{100} \times \frac{2}{x} \text{ kr artmış ise artar.}$$

$$x = \frac{200}{10} = 20 \text{ bulunur.}$$

**Cevap B**

15. İlk beş sayı  $x - 5, x - 4, x - 3, x - 2, x - 1$  ve son üç sayı  $x, x + 1, x + 2$  olsun.

Bu durumda

$$x - 5 + x - 4 + x - 3 + x - 2 + x - 1$$

$$= x + x + 1 + x + 2$$

$$5x - 15 = 3x + 3$$

$$x = 9$$

En büyük sayı  $9 + 2 = 11$ , en küçük sayı  $9 - 5 = 4$  olacağından toplamları

$$11 + 4 = 15 \text{ bulunur.}$$

**Cevap C**

16. Sınavda  $10x$  soru olsun.

$$\%80 \text{ başarılı ise } 10x \cdot \frac{80}{100} = 8x \text{ doğru}$$

olmalı

$$8 + (10x - 15) = 8x \Rightarrow 10x - 7 = 8x$$

$$\Rightarrow x = \frac{7}{2}$$

$$\text{Böylece sınavda } 10x = 10 \cdot \frac{7}{2} = 35 \text{ soru}$$

sorulmuştur.

**Cevap B**

17. Kiraz ağaçlarının sayısı  $x$ , elma ağaçlarının sayısı  $y$  olsun.  $x + y = 50 \dots (1)$  olur.

Kiraz ağaçlarında ortalama 8 kg ürün alındığında

$$8 = \frac{A}{x} \Rightarrow A = 8x$$

Elma ağaçlarında ortalama 15 kg ürün alındığında

$$15 = \frac{B}{y} \Rightarrow B = 15y$$

O yıl alınan toplam ürün 610 kg olduğunda

$$A + B = 610 \Rightarrow 8x + 15y = 610 \dots (2) \text{ olur.}$$

Birinci denklem  $-8$  ile çarpılıp iki denklem toplanır

$$-8x - 8y = -400$$

$$+8x + 15y = 610$$

$$7y = 210$$

$$y = 30 \text{ ve } x = 20 \text{ olur.}$$

Kiraz ağaçları ile elma ağaçlarının sayılarının farkı  $y - x = 30 - 20 = 10$  bulunur.

**Cevap C**

18. İstanbul yerel saat olarak 2 saat ileride olduğundan İstanbul saatine göre 13.30'da hareket eden uçak Londra saatine göre 11.30'da hareket etmiş olur.

Bu durumda yolculuk

$$15.00 - 11.30 = 3.30 \text{ saat sürmüştür.}$$

Londra'dan İstanbul'a dönüşü 30 dakika kısa olduğundan 3 saat sürmelidir.

Londra saatine göre 20.15'te hareket eden uçak İstanbul saatine göre 22.15'te hareket etmiş olur. Yolculuk 3 saat süreceğinden  $22.15 + 3.00 = 1.15$ 'te İstanbul'a iner. Fakat inişi cuma günü olur.

**Cevap E**

19. İlk durumdaki ampuller %100 elektrik tüketimi yapsın. İkinci durumdaki ampuller %80 elektrik tüketimi yapar.

$$\frac{3}{6 \cdot 10 \cdot 100} = \frac{x}{4 \cdot 25 \cdot 80} \Rightarrow 6x = 24$$

$$\Rightarrow x = 4 \text{ kilovat}$$

enerji tüketir.

**Cevap D**

20. Kutudaki kartların numaraları 1, 2, 3, 4, 5, 6, 7 olduğundan 4 kart tek sayı, 3 kart çift sayıdır.

Eğer Cihan 3 çift kartı yani 2, 4 ve 6'yı çekerse geriye tek sayılar kalır. Dolayısıyla Sercan bu kartlardan hangi ikisini çekerse çeksin toplamaları kesinlikle çift sayı olur.

Böylece Cihan'ın çekmiş olduğu sayıların toplamı  $2 + 4 + 6 = 12$  bulunur.

**Cevap D**

21. Şirketin koyduğu bagaj ağırlığı sınırı  $x$  kg olsun. Sınırı geçen çöçen ağırlıklar için kilogram başı  $y$  TL olsun.

Birinci müşteri 105 TL ödediğinden

$$(60 - x) \cdot y = 105$$

İki müşteri 30 TL ödediğinden

$$(60 - 2x) \cdot y = 30 \text{ olur.}$$

Bu iki denklem oranlanırsa,

$$\frac{(60 - x) \cdot y}{(60 - 2x) \cdot y} = \frac{105}{30}$$

$$\Rightarrow 120 - 2x = 420 - 14x$$

$$\Rightarrow 12x = 300$$

$$\Rightarrow x = 25 \text{ kg bulunur.}$$

**Cevap D**

22. Örnek uzay zar 3 defa atıldığından

$$6^3 = 216 \text{ olur.}$$

Üst yüze gelen sayıların toplamı 16 ise zarlar

(6, 6, 4), (6, 4, 6), (4, 6, 6)  
(5, 5, 6), (5, 6, 5), (6, 5, 5) şeklinde olmalıdır.

Böylece toplamalarının 16 olma olasılığı

$$\frac{6}{216} = \frac{1}{36} \text{ bulunur.}$$

**Cevap E**

23. İlk üç kattan sonra küp sayısı ardışık azalmaktadır. Dolayısıyla 10. kat için 7 kez azalma olmalıdır.

$$67 - 6 \cdot 7 = 67 - 42 = 25 \text{ küp olmalıdır.}$$

**Cevap C**

24. En büyük yapıda en son katında

$$67 - 11 \cdot 6 = 1 \text{ küp olur. Dolayısıyla yapı 14 katlı olur.}$$

Mavi boyalı küpler

$$2.\text{kat } 73$$

$$5.\text{kat } 67 - 2 \cdot 6 = 55$$

$$8.\text{kat } 67 - 5 \cdot 6 = 37$$

$$11.\text{kat } 67 - 8 \cdot 6 = 19$$

$$14.\text{kat } 67 - 11 \cdot 6 = 1$$

olmak üzere 185 tane mavi boyalı küp vardır.

**Cevap C**

25. Bölgelerin merkez açılarının farkı

$$135^\circ - 90^\circ = 45^\circ \text{ dir.}$$

Bu  $45^\circ$ lik açı fark  $720 \text{ m}^2$  olduğundan

$$45^\circ \begin{array}{l} \nearrow 720 \text{ m}^2 \text{ ise} \\ \searrow x \end{array}$$

$$x = \frac{70 \cdot 720}{45} = 1120 \text{ m}^2 \text{ bulunur.}$$

**Cevap C**

KPSS  
2024

GENEL YETENEK  
GENEL KÜLTÜR

TARİH

TAMAMI ÇÖZÜMLÜ  
ÇIKMIŞ  
SORULAR

SON  
10  
YIL

 ÖGRETİ AKADEMİ

# ÖĞRETİ AKADEMİ

## Komisyon

### GYGK TARİH TAMAMI ÇÖZÜMLÜ ÇIKMIŞ SORULAR

ISBN 978-625-6764-52-1

Kitapta yer alan bölümlerin tüm sorumluluğu yazarlarına aittir.

Bu kitabın basım, yayım ve satış hakları Pegem Akademi Yay. Eğt. Dan. Hizm. Tic. AŞ'ye aittir. (Öğreti Akademi yayınları bir Pegem Akademi markasıdır.) Anılan kuruluşun izni alınmadan kitabın tümü ya da bölümleri, kapak tasarımı; mekanik, elektronik, fotokopi, manyetik kayıt ya da başka yöntemlerle çoğaltılamaz, basılamaz ve dağıtılamaz. Bu kitap, T.C. Kültür ve Turizm Bakanlığı bandrolü ile satılmaktadır. Okuyucularımızın bandrolü olmayan kitaplar hakkında yayınevimize bilgi vermesini ve bandrolsüz yayınları satın almamasını diliyoruz.

**1. Baskı:** 2023, Ankara

Yayın-Proje: Şewal Aksoy  
Dizgi-Grafik Tasarım: Gülnur Öcalan  
Kapak Tasarımı: Öğreti Akademi

**Baskı:** Vadi Grup Basım AŞ  
Saray Mah. 126 Cad. No: 20/A  
Kazan/ANKARA  
Tel: (0312) 802 00 53-54

Yayıncı Sertifika No: 51818  
Matbaa Sertifika No: 49180

## İletişim

Shira Ticaret Merkezi, Macun Mahallesi 204 Cad.  
No: 141/33, Yenimahalle/Ankara  
Yayınevi: 0312 430 67 50  
Dağıtım: 0312 434 54 24  
Hazırlık Kursları: 0312 419 05 60  
İnternet: [www.ogreti.com](http://www.ogreti.com)  
E-ileti: [ogreti@ogreti.com.tr](mailto:ogreti@ogreti.com.tr)  
WhatsApp Hattı: 0538 594 92 40

Değerli KPSS Adayları,

KPSS'ye hazırlanan adaylarımız KPSS'de çıkan soruları incelemek, çözmek ve kendini geliştirmek, eksiklerini fark edip tamamlamak amacıyla çalışmalarına dâhil etmektedir. Lisans mezunu adayların bu yön-de yaptıkları çalışmaların başarı oranları üzerindeki olumlu etkisi göz ardı edilemeyeceğinden kitabımızda 2014-2023 yılları arasında yapılan KPSS Genel Kültür Tarih alanında yöneltilen tüm sorulara yer verilmiştir.

Lisans mezunu adayların geleceğe umutla bakabilmelerine, eğitimini aldıkları alanda kendilerini ger-çekleştirmelerine ve karşılarına çıkan engelleri aşmalarına yardımcı olması amacıyla hazırlanan KPSS Tamamı Çözömlü Genel Yetenek-Genel Kültür Tarih Çıkış Sorular kitabı ile sizlere faydalı olacağımızı umuyor ve hepinize başarılar diliyoruz..

**Öğreti Akademi Yayıncılık**

## İÇİNDEKİLER

2014 GYGK Tarih Çıkmış Sorular .....	1
2015 GYGK Tarih Çıkmış Sorular .....	8
2016 GYGK Tarih Çıkmış Sorular .....	16
2017 GYGK Tarih Çıkmış Sorular .....	26
2018 GYGK Tarih Çıkmış Sorular .....	38
2019 GYGK Tarih Çıkmış Sorular .....	48
2020 GYGK Tarih Çıkmış Sorular .....	57
2021 GYGK Tarih Çıkmış Sorular .....	68
2022 GYGK Tarih Çıkmış Sorular .....	79
2023 GYGK Tarih Çıkmış Sorular .....	88
Cevap Anahtarı .....	99



1. Aşağıdakilerden hangisi Uygurların, kağanlarının gücünü Ay'dan aldıklarına inanmalarından dolayı unvanlarının başına "Ay" kelimesini eklemelerinde etkili olan dindir?
  - A) Manihaizm
  - B) Budizm
  - C) İslamiyet
  - D) Hristiyanlık
  - E) Şamanizm
  
2. Firdevsi'nin *Şehnâme* adlı eserinde adı geçen efsanevi Türk hakanı aşağıdakilerden hangisidir?
  - A) Kül Tigin
  - B) Bilge Kağan
  - C) Afrasyab
  - D) Mukan Kağan
  - E) Teoman
  
3. 963-1187 yılları arasında Afganistan, Özbekistan, İran, Horasan, Pakistan ve Kuzey Hindistan'a kadar uzanan geniş bir coğrafyaya hâkim olan devlet aşağıdakilerden hangisidir?
  - A) Karahanlı
  - B) Akkoyunlu
  - C) Gazneli
  - D) Büyük Selçuklu
  - E) Karakoyunlu
  
4. Aşağıdakilerden hangisi, Osmanlı Devleti'nin XVIII. yüzyıldaki ıslahatçı devlet adamlarından biri **değildir**?
  - A) Nevşehirli Damat İbrahim Paşa
  - B) Halil Hamit Paşa
  - C) Sadrazam Koca Ragıp Paşa
  - D) Humbaracı Ahmet Paşa
  - E) Tarhuncu Ahmet Paşa
  
5. Osmanlı Devleti'nde padişaha tanınan, suçluları sürgün etme yetkisi **ilk kez** aşağıdakilerden hangisiyle kaldırılmıştır?
  - A) II. Meşrutiyet'in ilanından sonra Kanunuesasi'ye eklenen yeni hükümlerle
  - B) Kanunuesasi'nin kabulüyle
  - C) Sened-i İttifak'ın imzalanmasıyla
  - D) Tanzimat Fermanı'nın ilanıyla
  - E) Islahat Fermanı'nın ilanıyla
  
6. Gaziân-ı Rum terimiyle nitelenen kişilerle ilgili olarak aşağıdakilerden hangisi **doğrudur**?
  - A) Rumelili olmaları
  - B) XIX. yüzyılda Rumeli'de etkin olmaları
  - C) Osmanlı - İran savaşlarındaki gönüllülerden oluşmaları
  - D) Kuruluş Dönemi'nde, gaza yapmak amacıyla Osmanlı akınlarına katılmaları
  - E) Osmanlı denizciliğinin öncüleri olmaları
  
7. I. Bayezit'in ve Osmanlı ordusunun Niğbolu Savaşı dolayısıyla Avrupa'da bulunmasını fırsat bilerek, o dönemde Osmanlı Devleti'nin toprağı olan Ankarayı hâkimiyeti altına alan Anadolu Türk beyliği aşağıdakilerden hangisidir?
  - A) Kadı Burhanettin
  - B) Karamanoğulları
  - C) Saruhanoğulları
  - D) Dulkadiroğulları
  - E) Candaroğulları

8. Aşağıdakilerden hangisi Osmanlı Devleti'nde Tanzimat Fermanı'nın ilan edilmesinin nedenlerinden biri **değildir**?
- A) Şeriati yürürlükten kaldırmak  
B) Osmanlı tebaası arasında eşitliği sağlamak  
C) Devleti eski gücüne kavuşturmayı istemek  
D) Mısır ve Boğazlar gibi sorunlarda Avrupalı devletlerin desteğini sağlamak  
E) İç işlerine Avrupalı devletlerin karışmalarını önlemek
9. Aşağıdakilerden hangisi Ayestefanos (Yeşilköy) Antlaşması'nın hükümlerinden biri **değildir**?
- A) Büyük bir Bulgaristan krallığı kurulacak.  
B) Karadeniz; ticaret gemilerine açık, savaş gemilerine kapalı olacak.  
C) Kars, Ardahan, Batum ve Doğu Beyazıt Rusya'ya bırakılacak.  
D) Ermenilerin yaşadığı yerlerde ıslahat yapılacak.  
E) Bosna-Hersek'e özerklik verilecek.
10. Aşağıdakilerden hangisi, vezirlerle devlet adamlarının ve seferde ordunun atlarına bakmak ve sair zamanlarda Has ahır ve çayır hizmetinde kullanılan üzere gayrimüslimlerden tertip olunan ve özellikle Bulgaristan, Sırbistan, Makedonya ve Tesalya'da istihdam edilen askerî zümredir?
- A) Ulah B) Martolos C) Voynuk  
D) Levent E) Miralay
11. Aşağıdakilerden hangisi Mecelle'nin özelliklerinden biri **değildir**?
- A) 1926'ya kadar yürürlükte kalması  
B) Bazı İslami hukuk kurallarını düzenli hâle getirmiş olması  
C) Ahmet Cevdet Paşa'nın başında bulunduğu bir heyet tarafından hazırlanması  
D) Müslim ve gayrimüslim tebaaya ilişkin kurallar içermesi  
E) Medeni kanun özelliği taşıması
12. Aşağıdakilerden hangisi Osmanlı Devleti'nin "seyfiye" sınıfı üyelerinden biri **değildir**?
- A) Kapıkulu askerleri  
B) Sadrazam  
C) Vezirler  
D) Beylerbeyi  
E) Kazasker
13. Aşağıdakilerden hangisi 31 Mart Olayı'nın ortaya çıkmasında etkili **olmamıştır**?
- A) Halkın, Trablusgarp'ın işgaline tepki göstermesi  
B) Volkan Gazetesi'nin yazarı Derviş Vahdeti'nin tahrirleri  
C) Serbestî Gazetesi'nin başyazarı Hasan Fehmi Bey'in öldürülmesi  
D) Orduda Alaylı-Mektepli çekişmesinin artması  
E) Bazı kesimlerin Meşrutiyet'in ilanına tepki göstermesi

14. I. Dünya Savaşı'nda Brest-Litovsk Antlaşması'nın imzalanmasıyla kapanan cephe aşağıdakilerden hangisidir?
- A) Çanakkale  
B) Irak  
C) Kafkasya  
D) Kanal  
E) Suriye-Filistin
15. Misakımillî aşağıdaki Avrupa devletlerinden hangisi tarafından ilk kez kabul edilmiştir?
- A) Yunanistan  
B) İngiltere  
C) Fransa  
D) Rusya  
E) İtalya
- 16.
- I. Batı Anadolu'da yaşayan Rumlar  
II. Gümölcine ve İskeçe'de yaşayan Türkler  
III. İstanbul'da yaşayan Rumlar
- Lozan Antlaşması'nda yukarıdakilerin hangileri mübadele dışında bırakılmıştır?**
- A) Yalnız I    B) I ve II    C) I ve III  
D) II ve III    E) I, II ve III
17. "İstiklal Harbimiz" adlı eser aşağıdaki Millî Mücadele komutanlarından hangisinin anılarını içermektedir?
- A) Kâzım Özalp  
B) Kâzım Karabekir  
C) Ali Fuat Cebesoy  
D) İsmet İnönü  
E) Fevzi Çakmak
18. Atatürk Dönemi'nde, incelemeler yapmak ve raporlar hazırlamak üzere İsviçre'den davet edilen Prof. Malche tarafından verilen raporun ardından, devamına karar verilen kurum aşağıdakilerden hangisidir?
- A) İstanbul Üniversitesi  
B) Maden Tetkik Arama Enstitüsü  
C) Türk Tarih Kurumu  
D) Türk Hava Kurumu  
E) Merkez Bankası
19. Aşağıdakilerden hangisi Falih Rıfkı Atay'ın, I. Dünya Savaşı'nda Suriye ve Kanal cephelerinde geçen olayların konu edildiği eseridir?
- A) Çankaya  
B) Zeytin Dağı  
C) Atatürk'ten Hatıralar  
D) Medine Müdafaası  
E) Ateşten Gömlek
20. Türkiye'de 1923-1938 yılları arasında yılda ortalama 200 km ile toplam 3.360 km yeni demir yolunun yapımı tamamlanmıştır.
- Aşağıdakilerden hangisi, 1923-1938 yılları arasında tamamlanmış bu demir yolu hatlarından biri değildir?**
- A) Samsun-Sivas  
B) Sivas-Erzurum  
C) Malatya-Diyarbakır  
D) Zonguldak-Ankara  
E) Eskişehir-Ankara

21. II. Dünya Savaşı sonrası çok partili hayata geçiş sürecinde kurulan ilk siyasi parti aşağıdakilerden hangisidir?  
 A) Hürriyet Partisi  
 B) Millî Nizam Partisi  
 C) Demokrat Parti  
 D) Millet Partisi  
 E) Ahali Partisi
22. Türkiye'nin de içinde bulunduğu ve antlaşmayı imzalayan devletlerden birinin ayrılmasından sonra CENTO adını alan pakt aşağıdakilerden hangisidir?  
 A) Bağdat B) Balkan  
 C) Akdeniz D) Sadabat  
 E) Briand-Kellogg
23. Aşağıdakilerden hangisi Kurtuluş Savaşı Dönemi'nde Anadolu'nun dışına açılan en önemli ikmal limanı olmuştur?  
 A) İzmir B) Trabzon C) Samsun  
 D) İnebolu E) Antalya
- 24.
- Türk dilinin halk arasında yaşayan sözcüklerini araştırmak
  - Folklor üzerinde çalışmak
  - Ulusal tarihin yerel olaylarına ilişkin belgeleri araştırmak
  - Güzel sanatlar dallarında kurslar açmak
  - Köylülerin sağlık ve sosyal alanlarda gelişmelerine yardımcı olmak
- Yukarıda belirtilen işleri yapmak için kurulan kurum aşağıdakilerden hangisidir?  
 A) Halkevleri  
 B) Türk İnkılap Tarihi Enstitüsü  
 C) Türk Dil Kurumu  
 D) Türk Tarih Kurumu  
 E) Dil ve Tarih-Coğrafya Fakültesi
25. 1991-2013 yılları arasında Kırım Tatar Millî Meclisi Başkanlığı görevini yapan Kırımlioğlu soy isimli siyasetçi ve halk kahramanı aşağıdakilerden hangisidir?  
 A) İsa Yusuf  
 B) Mustafa Abdülcemil  
 C) İsmail Gaspıralı  
 D) Remzi İlyasov  
 E) Refat Çubarov
26. Aşağıdakilerden hangisi Türkiye'de 1993 yılında ilk resmî internet bağlantısının kurulduğu kurumdur?  
 A) İstanbul Teknik Üniversitesi  
 B) Türkiye Büyük Millet Meclisi  
 C) Ankara Üniversitesi  
 D) Boğaziçi Üniversitesi  
 E) Orta Doğu Teknik Üniversitesi
27. 1992 yılında Türkiye'nin öncülüğünde İstanbul'da kurulan ve üyeleri arasında ekonomik, teknolojik ve sosyal ilişkileri geliştirmeyi amaçlayan uluslararası örgüt aşağıdakilerden hangisidir?  
 A) TÜRKSOY  
 B) D8  
 C) AGİT  
 D) KEİ  
 E) BDT

1. Uygurlar, Böğü Kağan Dönemi'nde Manihaizm dinini benimsemiştir. Bu dinin etkisiyle Uygur kağanları gücünü Ay'dan aldıklarına inandıklarından unvanlarının başına "Ay" kelimesini eklemiştirlerdir.

**Cevap A**

2. Firdevsî'nin "Şehnâme" adlı eserinde adı geçen efsanevi Türk hakanı Afrasyab'dır. Diğer bir ifadeyle de Alp Er Tunga'dır. Firdevsî "Şehnâme" adlı eserini Gazneli Sultan Mahmut'a takdim etmiştir.

**Cevap C**

3. 963-1187 yılları arasında Afganistan, Özbekistan, İran, Horasan, Pakistan ve Kuzey Hindistan'a kadar uzanan geniş bir coğrafyaya hâkim olan devlet Gazneli Devleti'dir. Karahanlılar 840-1212, Büyük Selçuklular 1040-1157, Akkoyunlular 1350-1502, Karakoyunlular 1365-1469 yılları arasında yaşamışlardır.

**Cevap B**

4. XVIII. yy. 1700-1800 yılları arasını kapsar. Tarhuncu Ahmet Paşa ise XVII. yy. devlet adamıdır. Ayrıca Tarhuncu Ahmet Paşa IV. Mehmet Dönemi sadrazamlarından olup, Osmanlı'da modern ilk denk bütçeyi oluşturmuştur.

**Cevap E**

5. Türk tarihinin ilk anayasası Kanunuesasi'dir. 23 Aralık 1876'da II. Abdülhamit Dönemi'nde yürürlüğe giren Kanunuesasi'de padişaha suçluları sürgün etme yetkisi verilmiştir. Bu yetki II. Meşriyet'in ilanından sonra Kanunuesasi'ye ekeleyen yeni hükümlerle kaldırılmıştır.

**Cevap A**

6. Osmanlı'nın Kuruluş Dönemi'nde, gaza yapmak amacıyla Osmanlı akınlarına katılan kişiler "Gaziyan-ı Rum" terimiyle nitelenmiştir.

**Cevap D**

7. I. Bayezit'in (Yıldırım) ve Osmanlı ordusunun Niğbolu Savaşı (1396) dolayısıyla Avrupa'da bulunmasını fırsat bilerek, o dönemde Osmanlı'nın toprağı olan Ankara'yı hâkimiyeti altına altına alan Anadolu Türk beyliği Karamanoğulları'dır. Bu beylik Osmanlı'yı en çok uğraştıran beyliktir. Bunun sebebi ise Karamanoğulları'nın kendilerini Anadolu Selçuklu Devleti'nin varisi olarak görmesidir. Osmanlı bu beyliğe II. Bayezit Dönemi'nde tamamen son verilmiştir.

**Cevap B**

8. Tanzimat Fermanı, 3 Kasım 1839'da Sultan Abdülmecit Dönemi'nde ilan edilmiştir. A seçeneğinde yer alan "Şeriat yürürlükten kaldırmak" ifadesi bu fermanın ilan edilme nedenleri arasında yer almaz. Zira Osmanlı Devleti şer'î yapısını yıkılışına kadar sürdürmüştür. Diğer seçeneklerde yer alan ifadeler ise Tanzimat Fermanı'nın ilan edilme nedenleri arasındadır.

**Cevap A**

9. Ayestefanos Antlaşması, Osmanlı Devleti ile Rusya arasında 93 Harbi'nden sonra (1877-1878 Osmanlı-Rus Savaşı) II. Abdülhamit Dönemi'nde 3 Mart 1878 tarihinde imzalanmıştır. Bu antlaşmada B seçeneğinde yer alan "Karadeniz; ticaret gemilerine açık, savaş gemilerine kapalı olacak." ifadesi yoktur. Bu ifade 1841 Londra Boğazlar Sözleşmesi'nde ve 1856 Paris Antlaşması'nda yer almıştır.

**Cevap B**

10. Osmanlı Devleti'nde vezirlerle devlet adamlarının ve seferde ordunun atlarına bakmak ve sair zamanlarda Has ahır ve çayır hizmetinde kullanılmak üzere gayrimüslimlerden tertip olunan ve özellikle Bulgaristan, Sırbistan, Makedonya ve Tesalya'da istihdam edilen askerî zümreye "voynuk" denir.

- Levent, Osmanlı'da deniz askerlerine verilen isimdir.
- Miralay, Osmanlı'da alaybeylerine verilen isim olmakla beraber albay rütbesinde olan askerlere verilen addır.
- Ulah, Osmanlı'da Eflak-Boğdan halkına verilen isimdir.
- Martolos, Osmanlı'da belirli noktaların ve sınırların emniyetini sağlama, düşman bölgelerine akınlar yaparak savunma sistemlerini bozma, keşif ve haber alma faaliyetlerinde bulunma, gerektiğinde ise Osmanlı ordusuyla beraber bilfiil seferlere katılma gibi görevler üstlenen gayrimüslim askerlere verilen isimdir.

#### Cevap C

11. Mecelle, Tanzimat Dönemi'nde (1839-1876) hazırlanmıştır. İslam hukuku esaslı olan Mecelle'nin hazırlanmasında komisyon başkanlığını Ahmet Cevdet Paşa yapmıştır. Medeni kanun özelliği taşıyan Mecelle 1926'ya kadar yürürlükte kalmıştır. Ancak Mecelle sadece Müslim (Müslüman) tebaaya ilişkin kurallar içerir, gayrimüslimleri kapsamaz.

#### Cevap D

12. Osmanlı Devleti'nde "seyfiye" sınıfına ehli örf, ehli ümera, ehli seyf de denilmiştir. Askerî bürokrasi bu sınıfa mensuptu. Seyfiye sınıfında veziriazam, vezirler, beylerbeyi, sancak beyleri, kaptan-ıdevra, kapı kulu askerleri, deniz askerleri yer alırdı. Kazasker ise Osmanlı'da "ilmiye" sınıfının üyeleri arasında bulunur.

#### Cevap E

13. 31 Mart Olayı, 1909'da yaşanan bir gelişmedir. B, C, D ve E seçeneklerinde yer alan ifadeler 31 Mart Olayı'nın ortaya çıkmasında etkili olmuştur. Ancak A seçeneğinde yer alan "Halkın, Trablusgarp'ın işgaline tepki göstermesi" ifadesi bu olay üzerinde etkili olmamıştır. Çünkü İtalya'nın Trablusgarp'ı işgal etmesi, 31 Mart Olayı'ndan sonra yani 1911'dedir. Dolayısıyla sonraki gelişmeler önceki gelişmeleri etkilemez.

#### Cevap A

14. I. Dünya Savaşı'nda Brest-Litovsk Antlaşması'nın 3 Mart 1918'de imzalanmasıyla Kafkasya Cephesi kapanmıştır.

#### Cevap C

15. Misakımillî, 28 Ocak 1920'de Son Osmanlı Mebusan Meclisinde kabul edilmiştir. I. İnönü Zaferi'nden sonra 16 Mart 1921'de imzalanan Moskova Dostluk ve Kardeşlik Antlaşması'yla Rusya, Misakımillî'yi kabul eden ilk Avrupa devleti olmuştur.

#### Cevap D

16. Lozan Antlaşması, 24 Temmuz 1923'te imzalanmıştır. Bu antlaşmayla İstanbul'da yaşayan Rumlar ile Gümölcine ve İşkece'de yaşayan Türkler mübadele dışında tutulmuştur. Ancak I. öncülde yer alan "Batı Anadolu'da yaşayan Rumlar" mübadeleye tabi tutulmuştur.

#### Cevap D

17. "İstiklal Harbimiz" adlı eser Kâzım Karabekir Paşa'nındır.

#### Cevap B

18. Atatürk Dönemi 1923-1938 yılları arasında kapsar. Bu dönemde incelemeler yapmak ve raporlar hazırlamak üzere İsviçre'den davet edilen Prof. A. Malche tarafından verilen raporun ardından, devamına karar verilen kurum İstanbul Üniversitesi'dir.

#### Cevap A

19. Falih Rifkî Atay'ın I. Dünya Savaşı'nda Suriye ve Kanal cephelerinde geçen olayların konu edildiği eser "Zeytin Dağı"dır.
- "Çankaya" adlı roman da Falih Rifkî Atay'ındır.
  - "Medine Müdafası", İsmail Bilgin tarafından kaleme alınan romandır. Çöl Kapları olarak da bilinen Fahrettin Paşa'nın Medine Müdafası'nı anlatır.
  - "Ateşten Gömlek", Halide Edip Adivar'ın eseridir.
  - "Atatürk'ten Hatıralar", Hasan Rıza Soyak tarafından, "Atatürk'ten Anılar" ise Kemal Arıburnu tarafından kaleme alınmıştır.

**Cevap B**

20. Samsun-Sivas, Sivas-Erzurum, Malatya-Diyarbakır, Zonguldak-Ankara demir yolu hatları 1923-1938 yılları arasında tamamlanmıştır. ancak E seçeneğinde yer alan "Eskişehir-Ankara" demir yolu hattı 1923'ten önceki süreçle ilgilidir.

**Cevap E**

21. II. Dünya Savaşı sonrası çok partili hayata geçiş sürecinde kurulan ilk siyasi parti "Demokratik Parti"dir. Aslında Millî Kalkınma Partisi daha önce kurulmuştur. Ancak Nuri Demirağ tarafından bu parti kurulduğunda (Temmuz 1945) II. Dünya Savaşı tam olarak bitmemiştir. Bu doğrultuda ÖSYM seçeneklere Millî Kalkınma Partisini koymamıştır.

**Cevap C**

22. Temelleri Şubat 1955'te Türkiye ve Irak tarafından atılan, daha sonra İngiltere, İran ve Pakistan'ın katıldığı, Irak'ın çekilmesiyle 1959'da Merkezî Antlaşma Örgütü (CENTO) adını alan Pakt "Bağdat Paketi"dır.

**Cevap A**

23. Kurtuluş Savaşı Dönemi'nde, Anadolu'nun dışa açılan en önemli ikmal limanı İnebolu'dur. Bu doğrultuda İnebolu'nun Millî Mücadele için önemini Mustafa Kemal, "Gözüm Sakarya'da, kulağım İnebolu'da" diyerek belirtmiştir. Ayrıca İnebolu'ya 1924 yılının başlarında TBMM tarafından "İstiklal Madalyası" da verilmiştir.

**Cevap D**

24. Soruda belirtilen işleri yapmak için 19 Şubat 1932'de Halkevleri kurulmuştur. Halkevlerinin açılması için Reşit Galip Bey görevlendirilmiştir. Halkevleri 1951'de kapatılmıştır.

**Cevap A**

25. 1991-2013 yılları arasında Kırım Tatar Millî Meclisi Başkanlığı görevini yapan, Kırmıoğlu soy isimli siyasetçi ve halk kahramanı Mustafa Abdülcemil'dir.

**Cevap B**

26. Türkiye'de 1993'te ilk resmî internet bağlantısı Orta Doğu Teknik Üniversitesinde kurulmuştur.

**Cevap E**

27. 1992 yılında Türkiye'nin öncülüğünde İstanbul'da kurulan ve üyeleri arasında ekonomik, teknolojik ve sosyal ilişkileri geliştirmeyi amaçlayan uluslararası örgüt Karadeniz Ekonomik İş Birliği Teşkilatıdır (KEİ).

**Cevap D**

1. **Türklerin demir madeninin bulunduğu dağı eriterek yaşadıkları yerden çıkışını anlatan destan aşağıdakilerden hangisidir?**
  - A) Ergenekon
  - B) Yaradılış
  - C) Bozkır
  - D) Türeyiş
  - E) Alp Er Tunga
2. **Türk-İslam devletlerinin ilk dönemlerinde başkent olan ve Timur Dönemi'nde "şehirlerin şahı" unvanıyla bilinen stratejik öneme sahip şehir aşağıdakilerden hangisidir?**
  - A) İsfahan
  - B) Semerkant
  - C) Taşkent
  - D) Buhara
  - E) Kaşgar
3. **Kaşgarlı Mahmut'un "Türk'ün kanedir." diye nitelendirdiği savaş aracı aşağıdakilerden hangisidir?**
  - A) At
  - B) Ok
  - C) Yay
  - D) Mızrak
  - E) Kalkan
4. **Osmanlı Devleti'nde şehzadelerin sancağa çıkmasıyla elde ettikleri kazanımlar ve sorumlu olduğu görevler arasında aşağıdakilerden hangisi bulunmaz?**
  - A) Yönetimde ve askerî alanda tecrübe kazanmak
  - B) Kendilerine ayrılan geliri almak
  - C) Sultanın emirlerine göre davranmak
  - D) Sancaklarındaki askerlerle birlikte sefere katılmak
  - E) Buldukları bölgede adına hutbe okutmak
5. **Osmanlı Devleti'nde saray, Türk-İslam devletlerinde olduğu gibi hem padişahın özel hayatının geçtiği ev hem de devlet işlerinin yürütüldüğü merkezd.**

**Buna göre aşağıdakilerden hangisinin sarayda yapıldığı söylenemez?**

  - A) İç oğlanlarının eğitiminin
  - B) Cülus töreninin
  - C) Yabancı elçilerin kabulünün
  - D) Bayramlaşma törenlerinin
  - E) Tımarlı sipahilerin eğitiminin
6. **Adalet halkın, şikâyetlerini doğrudan doğruya hükümdara sunabilmesini ve onun emriyle haksızlıkların giderilmesini gerektirir.**

**Buna göre Osmanlı Klasik Dönemi'nde reayanın şikâyetlerini sunmak için aşağıdakilerden hangisine başvurduğu söylenemez?**

  - A) Kadi
  - B) Divanhümayun
  - C) Âyan Meclisi
  - D) Beylerbeyi
  - E) Sancak beyi
7. **Osmanlı toplumu, Avrupa'dan farklı olarak aşılmaz duvarlarla birbirinden ayrılmamıştır.**

**Bu duruma aşağıdakilerden hangisi örnek olarak gösterilebilir?**

  - A) Padişah beratıyla reayadan bir kişinin askerî sınıfa geçebilmesi
  - B) Yönetenler sınıfının seyfiye, ilmiye ve kalemiye olarak gruplara ayrılması
  - C) Müslüman olmayanların özel hukuk alanında kendi kanunlarına tabi olması
  - D) Halktan gelir düzeyine göre vergi alınması
  - E) Beşik ulemalığı sisteminin görülmesi



8. Askere setre pantolon giydirip imanına halel getiren, önlerine muallim diye Frenkleri düşüren bir padişaha elbette Allah tevfikini çok görür... Efendi şimdi ne yeniçeri var ne de sipahi! Cümlesi başı şapkalı Frenk oldu!..

**Osmanlı Devleti'nde görülen ıslahat hareketlerine karşı halk arasında konuşulan bu sözlerle bakılarak aşağıdakilerden hangisine ulaşılamaz?**

- A) Islahat faaliyetleri askerî alanla sınırlı kalmıştır.  
B) Islahat hareketlerinde Avrupalı uzmanlardan yararlanılmıştır.  
C) Geleneksel askerî kıyafetlerin giyimi terk edilmiştir.  
D) Klasik Dönem Osmanlı ordusunun yapısı değişmiştir.  
E) Halk arasında bazı ıslahatçı padişahlara karşı tepkili olanlar vardır.

9. XVIII. yüzyıldan itibaren Osmanlı mimarisi üzerinde Avrupa etkisi görülmeye başlanmıştır.

**Aşağıdakilerden hangisi bu etkinin görüldüğü eserlerden biri değildir?**

- A) Sultan Ahmet Camisi  
B) Beylerbeyi Sarayı  
C) İshak Paşa Sarayı  
D) Nuru Osmaniye Camisi  
E) Laleli Külliyesi

10. Aşağıdaki devletlerden hangisinin hükümdarı, 1815'te toplanan Viyana Kongresi'nde Osmanlı Devleti'ni "hasta adam" olarak nitelemiştir?

- A) Fransa  
B) İtalya  
C) Almanya  
D) Rusya  
E) Avusturya-Macaristan

11. XIX. yüzyıl sonlarında gelişen; öncülleri arasında Mehmet Emin Resulzade, Mahmut Celaeddin Paşa ve Gasprıralı İsmail Bey gibi kişilerin gösterildiği; düşüncelerini daha çok dil, kültür ve ekonomi meseleleri üzerinde yoğunlaştıran düşünce akımı aşağıdakilerden hangisidir?

- A) Batıcılık  
B) Türkçülük  
C) İslamcılık  
D) Ademimerkeziyetçilik  
E) Sosyalizm

12. Göçler, hastalıklar ve ölümler nedeniyle kimsesiz kalan çocuklar için 1914'te açılan kurum aşağıdakilerden hangisidir?

- A) Darüleytam  
B) Darüelhan  
C) Darübedayi  
D) Darümuallimat  
E) Darülaceze

13. Mustafa Kemal'in ilk görev yaptığı, Vatan ve Hürriyet Cemiyeti'ni kurduğu yer aşağıdakilerden hangisidir?

- A) İstanbul  
B) Selanik  
C) Manastır  
D) Şam  
E) Trablusgarp

14. Atatürk *Nutuk*'ta, "Bütün memleketi karışıklık ateşleri içerisinde yakmış; hıyanet, cehalet, kin ve taassup dumanları bütün vatan semasını yoğun karanlıklar içinde bırakmıştı." demiştir.

**Bu sözle Atatürk, Millî Mücadele'yi etkileyen aşağıdaki gelişmelerden hangisine işaret etmiştir?**

- A) İç isyanlara  
B) Yerel direniş hareketlerine  
C) I. İnönü Savaşı'na  
D) II. İnönü Savaşı'na  
E) İşgal karşıtı mitinglere

**15. Erzurum Kongresi'nde alınan;**

- I. işgallere karşı topyekûn direneleceği,
- II. manda ve himayenin reddedileceği,
- III. Müslüman olmayanlara siyasi ve sosyal dengeyi bozacak ayrıcalıkların verilmeyeceği

**kararlarından hangileri, kongrenin bağımsızlığı ilke edindiğinin kanıtları arasında gösterilebilir?**

- A) Yalnız I
- B) Yalnız II
- C) Yalnız III
- D) I ve II
- E) I, II ve III

**16. TBMM'nin 13 Ocak 1921'deki birleşiminde Mustafa Kemal, Namık Kemal'in ünlü beytini değiştirerek şöyle der:**

"Vatanın bağına düşman dayasın hançerini, Bulunur kurtaracak bahtı kara mâderini"

**Mustafa Kemal'in belirtilen bu umutlu tavrı sergilemesine yol açan askerî başarı aşağıdakilerden hangisidir?**

- A) I. İnönü Savaşı
- B) II. İnönü Savaşı
- C) Kütahya – Eskişehir Savaşı
- D) Başkomutan Meydan Savaşı
- E) Sakarya Meydan Savaşı

**17. Millî Mücadele Dönemi'nde Türkiye'nin izlediği siyaset hakkında olumlu yazılar yazan ve Anadolu halkının direnişini destekleyerek "Türk dostu" olarak tanınan Fransız yazar aşağıdakilerden hangisidir?**

- A) Pierre Loti
- B) Franklin Bouillon
- C) George Picot
- D) Raymond Poincare
- E) Pelle

**18. Mustafa Kemal'in 8 Nisan 1923'te açıkladığı "Dokuz Umde (Dokuz İlke)" aşağıdakilerden hangisinin varlığının esasını oluşturmuştur?**

- A) TBMM'nin
- B) Halk Fırkasının
- C) Teşkilat-ı Esasiye Kanunu'nun
- D) İsmet Paşa Hükûmetinin
- E) Lozan Konferansı'nın

**19.**

- I. 1921 Anayasası'nı yapması
- II. Osmanlı saltanatını yıkması
- III. Mustafa Kemal'e "Gazi" unvanını vermesi

**Yukarıdakilerden hangileri, I. TBMM'nin kuruculuk ve inkılapçılık niteliklerine örnek olarak gösterilebilir?**

- A) Yalnız I
- B) Yalnız II
- C) Yalnız III
- D) I ve II
- E) I ve III

**20. Afet İnan tarafından derlenen ve Atatürk'ün de devlet ve toplum hayatını ilgilendiren konularda yazıları bulunan eser aşağıdakilerden hangisidir?**

- A) *Medeni Bilgiler*
- B) *Nutuk*
- C) *Cumali Ordugâhı*
- D) *Zabit ve Kumandan ile Hasbihal*
- E) *Geometri*

KPSS  
2024

GENEL YETENEK  
GENEL KÜLTÜR

# COĞRAFYA

TAMAMI ÇÖZÜMLÜ  
ÇIKMIŞ  
SORULAR

SON  
10  
YIL

 ÖGRETİ AKADEMİ

# ÖĞRETİ AKADEMİ

## Komisyon

### GYGK COĞRAFYA TAMAMI ÇÖZÜMLÜ ÇIKMIŞ SORULAR

ISBN 978-625-6764-55-2

Kitapta yer alan bölümlerin tüm sorumluluğu yazarlarına aittir.

Bu kitabın basım, yayım ve satış hakları Pegem Akademi Yay. Eğt. Dan. Hizm. Tic. AŞ'ye aittir. (Öğreti Akademi yayınları bir Pegem Akademi markasıdır.) Anılan kuruluşun izni alınmadan kitabın tümü ya da bölümleri, kapak tasarımı; mekanik, elektronik, fotokopi, manyetik kayıt ya da başka yöntemlerle çoğaltılamaz, basılamaz ve dağıtılamaz. Bu kitap, T.C. Kültür ve Turizm Bakanlığı bandrolü ile satılmaktadır. Okuyucularımızın bandrolü olmayan kitaplar hakkında yayınevimize bilgi vermesini ve bandrolsüz yayınları satın almamasını diliyoruz.

**1. Baskı:** 2023, Ankara

Yayın-Proje: Şewal Aksoy  
Dizgi-Grafik Tasarım: Gülnur Öcalan  
Kapak Tasarımı: Öğreti Akademi

**Baskı:** Vadi Grup Basım AŞ  
Saray Mah. 126 Cad. No: 20/A  
Kazan/ANKARA  
Tel: (0312) 802 00 53-54

Yayıncı Sertifika No: 51818  
Matbaa Sertifika No: 49180

## İletişim

Shira Ticaret Merkezi, Macun Mahallesi 204 Cad.  
No: 141/33, Yenimahalle/Ankara  
Yayınevi: 0312 430 67 50  
Dağıtım: 0312 434 54 24  
Hazırlık Kursları: 0312 419 05 60  
İnternet: [www.ogreti.com](http://www.ogreti.com)  
E-ileti: [ogreti@ogreti.com.tr](mailto:ogreti@ogreti.com.tr)  
WhatsApp Hattı: 0538 594 92 40

Değerli KPSS Adayları,

KPSS'ye hazırlanan adaylarımız KPSS'de çıkan soruları incelemek, çözmek ve kendini geliştirmek, eksiklerini fark edip tamamlamak amacıyla çalışmalarına dâhil etmektedir. Lisans mezunu adayların bu yönde yaptıkları çalışmaların başarı oranları üzerindeki olumlu etkisi göz ardı edilemeyeceğinden kitabımızda 2014-2023 yılları arasında yapılan KPSS Genel Kültür Coğrafya alanında yöneltilen tüm sorulara yer verilmiştir.

Lisans mezunu adayların geleceğe umutla bakabilmelerine, eğitimini aldıkları alanda kendilerini gerçekleştirmelerine ve karşılarına çıkan engelleri aşmalarına yardımcı olması amacıyla hazırlanan KPSS Tamamı Çözömlü Genel Yetenek-Genel Kültür Coğrafya Çıkış Sorular kitabı ile sizlere faydalı olacağımızı umuyor ve hepinize başarılar diliyoruz.

**Öğreti Akademi Yayıncılık**

## İÇİNDEKİLER

2014 GYGK Coğrafya Çıkmış Sorular.....	1
2015 GYGK Coğrafya Çıkmış Sorular.....	9
2016 GYGK Coğrafya Çıkmış Sorular.....	17
2017 GYGK Coğrafya Çıkmış Sorular.....	25
2018 GYGK Coğrafya Çıkmış Sorular.....	32
2019 GYGK Coğrafya Çıkmış Sorular.....	39
2020 GYGK Coğrafya Çıkmış Sorular.....	47
2021 GYGK Coğrafya Çıkmış Sorular.....	54
2022 GYGK Coğrafya Çıkmış Sorular.....	61
2023 GYGK Coğrafya Çıkmış Sorular.....	68
Cevap Anahtarı.....	76

1. Türkiye’de,
- dört mevsim belirgin olarak yaşanır,
  - Akdeniz iklimi etkilidir,
  - cephesel yağışlar görülür,
  - Batı rüzgârları etkilidir.

**Bu özelliklerin ortaya çıkmasında aşağıdakilerden hangisinin etkisi daha fazladır?**

- A) Kuzey yarım kürede yer almasının  
 B) Orta kuşakta yer almasının  
 C) Üç tarafının denizlerle çevrili olmasının  
 D) Yüzey şekillerinin çok çeşitli olmasının  
 E) 26° - 45° doğu meridyenleri arasında bulunmasının

2. Ege Bölgesi, genellikle horst ve graben sistemlerini meydana getiren tektonik hareketlerle şekillenmiştir.

**Buna göre, aşağıdakilerden hangisi bu şekillenmenin bir sonucu değildir?**

- A) Akarsuların doğu-batı yönünde akması  
 B) Kıyı ile iç kesimler arasındaki ulaşımın zor olması  
 C) Kıyıların çok fazla girintili-çukuntılı olması  
 D) Kıyılarda çok sayıda doğal liman bulunması  
 E) Denizel hava kütlelerinin iç kısımlara kolay erişebilmesi

3. Türkiye genel hatlarıyla yüksek, dağlık ve engebeli bir arazi yapısına sahiptir.

**Bu durumun ortaya çıkmasında aşağıdakilerden hangisi daha az etkili olmuştur?**

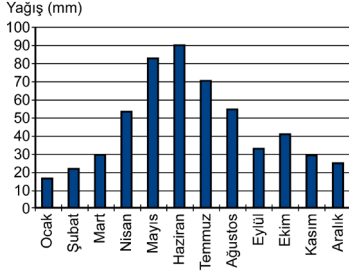
- A) Alp orojenez kuşağında bulunması  
 B) Epirojenez ile yükselmesi  
 C) Akarsu aşındırmasının fazla olması  
 D) Aktif fayların bulunması  
 E) Farklı kayaç türlerinin bulunması

4. Heyelanlar, Karadeniz Bölgesi’nin önemli doğal afetlerindendir.

**Aşağıdakilerden hangisi heyelanların bu bölgede sık görülmesinin nedenlerinden biri değildir?**

- A) Yıllık yağış miktarının fazla olması  
 B) Akarsu rejimlerinin farklılık göstermesi  
 C) Tabaka eğimlerinin fazla olması  
 D) Doğal ve beşerî nedenlerle yamaç dengesinin bozulması  
 E) Killi kayaçların fazla olması

5. Türkiye'deki bir meteoroloji istasyonundan alınan yağış rejim grafiği aşağıda verilmiştir.



**Buna göre, bu grafik hangi yağış rejim tipine aittir?**

- A) Akdeniz yağış rejimi  
B) Karadeniz yağış rejimi  
C) İç Anadolu yarı karasal yağış rejimi  
D) Doğu Anadolu karasal yağış rejimi  
E) Akdeniz-Karadeniz geçiş yağış rejimi

6. Doğu Anadolu Bölgesi'nin kuzeydoğusunda, uzun boylu çayır örtüsü altında koyu renkli ve organik madde bakımından zengin topraklar gelişmiştir.

**Buna göre, özellikleri verilen toprak tipi aşağıdakilerden hangisidir?**

- A) Solancak  
B) Çernozyem  
C) Podsol  
D) Terra-Rossa  
E) Vertisol

7. Türkiye'nin jeomorfolojik özellikleri dikkate alındığında aşağıdakilerden hangisi söylenemez?

- A) Erzurum-Kars-Ardahan Platosu'nun oluşumunda akıcı lavların yayılması etkilidir.  
B) Taşeli Platosu'nda karstlaşma etkilidir.  
C) Üçüncü Zaman'da geniş alan kaplayan göller zamanla karlaşmıştır.  
D) Ege Bölgesi'ndeki doğu-batı uzantılı ovalar birer grabendir.  
E) Türkiye'deki volkanik dağlar üzerinde buzullar bulunmamaktadır.

8. Üniversitede arkadaş olan dört öğrenci, yaşadıkları kentler ve bu kentlerin ekonomik faaliyetleri hakkında aşağıdaki bilgileri vermişlerdir.

Ayşen: Yaşadığım kent Türkiye'nin en büyük maden kömürü havzasında yer alır.

Şahin: Akdeniz Bölgesi'nde bir kentte yaşıyorum. Kentteki en önemli sanayi kolu demir-çelik sektörüdür.

Ayhan: Benim yaşadığım kent kıyıda ve burada ham petrolü işleyen bir rafineri bulunmaktadır.

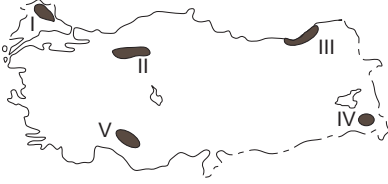
Burak: Yaşadığım kentte Türkiye'nin en küçük petrol rafinerisi bulunmaktadır. Rafineride işlenen petrol yöreden elde edilmektedir.

**Buna göre, aşağıdakilerden hangisi bu öğrencilerin yaşadıkları kentlerden biri değildir?**

- A) Zonguldak  
B) İskenderun  
C) Aliağa  
D) Batman  
E) E) Kırıkkale



9. Türkiye'de dağlık ve engebeli alanlar genellikle seyrek nüfusludur.



**Yukarıdaki haritada numaralandırılan alanlardan hangisi bu yargıya uymaktadır?**

- A) I B) II C) III D) IV E) V
10. Türkiye'de iç göçlerin yönüne bakıldığında genel olarak aşağıdakilerden hangisi **söylenemez**?
- A) Türkiye'nin doğusundan batısına doğrudur.  
 B) İç bölgelerden kıyılara doğrudur.  
 C) Yüksek alanlardan alçak alanlara doğrudur.  
 D) Doğal nüfus artışının en fazla olduğu illere yapılmaktadır.  
 E) En çok İstanbul, Ankara, İzmir gibi büyük kentlere yapılmaktadır.

11.

- I. Tekirdağ  
 II. Düzce  
 III. Eskişehir  
 IV. Kırşehir  
 V. Çorum

**Türkiye'de tarımı etkileyen coğrafi koşullar düşünüldüğünde, yukarıdaki illerin hangilerinde nadasa bırakılan alanların oranının daha düşük olması beklenir?**

- A) I ve II B) I ve III C) II ve IV  
 D) III ve V E) IV ve V

12. Türkiye'de ekonomik balıkçılık açısından Karadeniz önemli bir yer tutmaktadır. Ancak Karadeniz'de 200 metrenin altındaki derinliklerde canlı yaşamamaktadır.

**Bunun nedeni aşağıdakilerden hangisidir?**

- A) Güneş ışınlarının 200 metreden fazla derinlikte etkili olmaması  
 B) Karadeniz'e dökülen bazı nehirlerin taşıdığı kimyasal atıklar  
 C) 200 metreden fazla derinlikte bulunan kükürtlü hidrojen gazı  
 D) Karadeniz tabanındaki volkanik aktiviteler  
 E) 200 metreden fazla derinlikte su sıcaklığının canlı varlığına engel olması

13. Yer kabuğunun zayıf noktalarından çıkan sıcak su ve buhar, jeotermal enerji olarak ısıtma ve elektrik üretiminde kullanılır.

**Türkiye'de bu enerji kaynağı açısından elektrik üretimi potansiyeli en yüksek olan bölge aşağıdakilerden hangisidir?**

- A) Ege Bölgesi  
 B) İç Anadolu Bölgesi  
 C) Karadeniz Bölgesi  
 D) Akdeniz Bölgesi  
 E) Doğu Anadolu Bölgesi

14. Sanayinin gelişmesinde ham maddeye yakınlık önemlidir.

**Aşağıdakilerin hangisinde böyle bir ilişki bulunmamaktadır?**

- A) Afyonkarahisar - Mermer sanayi  
B) Kars - Süt mamulleri sanayi  
C) Adana - Pamuklu dokuma sanayi  
D) Ankara - Mobilya sanayi  
E) Bilecik - Seramik sanayi

15. Hasan: Türkiye'de özellikle Cumhuriyetin ilk yıllarında ulaşım politikalarında demir yolu yapımına öncelik verilmiştir.

Serap: Hasan seninle aynı görüşte değilim. Özellikle Cumhuriyetin ilk yıllarında kara yolu ulaşımına ağırlık veren bir politika izlenmiştir ve bu durum hâlen devam etmektedir.

Kerem: Türkiye'de son yıllarda hava yolu ulaşımında önemli gelişmeler olmaktadır. Örneğin daha önce havaalanı olmayan pek çok kentte havaalanları inşa edilmiş ve hava yolunu kullanan yolcu sayısı artmıştır.

Leyla: Türkiye'de son yıllarda demir yollarındaki gelişmeler de dikkat çekicidir. Yeni yapılan hatlarla birlikte demir yolu ana hat uzunluğu 25.000 km'yi geçmiştir.

**Türkiye'de ulaşım sistemlerinin gelişimiyle ilgili konuşan bu dört arkadaşın hangilerinin verdiği bilgiler doğrudur?**

- A) Hasan ve Kerem  
B) Hasan ve Leyla  
C) Serap ve Kerem  
D) Serap ve Leyla  
E) Kerem ve Leyla

16. Ülkelerin coğrafi özellikleri, ulaşım politikaları ve bu politikalara bağlı olarak oluşturulan ulaşım altyapıları, ulaşım sistemlerinin gelişiminde belirleyici rol oynar.

**Buna göre, Türkiye'deki ulaşım sistemlerine bağlı olarak yurt içi ve yurt dışı yük taşımacılığında egemen olan ulaşım çeşidi aşağıdakilerin hangisinde birlikte verilmiştir?**

Yurt içi      Yurt dışı

- A) Demir yolu      Kara yolu  
B) Kara yolu      Kara yolu  
C) Demir yolu      Deniz yolu  
D) Kara yolu      Deniz yolu  
E) Kara yolu      Hava yolu

17. Türkiye'nin 2023 Turizm Stratejisi'nde 7 tematik turizm gelişim koridoru belirlenmiştir. Bunlardan "kış koridoru" Erzurum, Erzincan, Kars ve Ardahan illerini kapsamaktadır.

**Belirtilen bölgenin kış koridoru olarak belirlenmesinde**

- I. kış devresinin uzun olması,  
II. kış mevsiminde ortalama sıcaklıkların düşük olması,  
III. kış mevsiminde donan çok sayıda göl bulunması

**faktörlerinden hangileri etkilidir?**

- A) Yalnız I      B) Yalnız III      C) I ve II  
D) I ve III      E) II ve III

18. Ovalar; tarım, yerleşme, sanayi kuruluşu için uygun alanları oluşturur.

**Buna göre, aşağıdaki ovalardan hangisi diğerlerinden farklı bir özellik göstermektedir?**

- A) Konya Ovası  
B) Erzincan Ovası  
C) Bursa Ovası  
D) Eskişehir Ovası  
E) Muş Ovası

1. Türkiye'de,
  - I. dört mevsim belirgin olarak yaşanması,
  - II. Akdeniz ikliminin etkili olması,
  - III. cephesel yağışların görülmesi,
  - IV. Batı rüzgârlarının etkili olması,

Orta Kuşak'ta (Dönence ile kutup dairesi arasında) yer alması ile ilgilidir.

Türkiye 36°- 42° kuzey paralelleri arasında yer aldığı için mutlak konumuna göre bir orta kuşak ülkesidir.

Orta Kuşak Güney Yarım Küre'de de bulunduğu için bu özellikler Güney Yarım Küre'nin orta kuşağında da geçerlidir. Sadece Kuzey Yarım Küre'deki ülkelerde görülmez.

**Cevap B**

2. Ege Bölgesi, genellikle horst ve graben sistemlerini meydana getiren tektonik hareketlerle şekillenmiştir. Bu hareketler ile bölge kıyılarında çoğunlukla doğu-batı yönünde uzanan kırık dağ sıraları oluşmuştur.

Bu şekillenme sonucunda;

- I. Akarsuların doğu-batı yönünde akması
- II. Kıyıların çok fazla girintili-çıkıntılı olması
- III. Kıyılarda çok sayıda doğal liman bulunması
- IV. Denizel hava kütlelerinin iç kısımlara kolay erişebilmesi söz konusudur.

Ancak aynı durum kıyı ile iç kesimler arasında ulaşımın **zor değil aksine kolay olmasına** neden olmuştur (dağların doğu-batı yönünde uzanmasına bağlı olarak).

**Cevap B**

3. Türkiye genel hatlarıyla yüksek, dağlık ve engebeli bir arazi yapısına sahiptir.

Bu durumun ortaya çıkmasında;

- I. Alp orojenezine bağlı olarak kuzey ve güneyde sıradağların oluşması
- II. Epirojenez ile Anadolu'nun yükselmesi
- III. Akarsu aşındırması ile engebenin artması
- IV. Aktif fayların bulunması ile kırılma, yükselme ve volkanizma gibi olaylar sonucu engebe ve yükseltinin artması söz konusu olmuştur.

Ancak farklı kayaç (taş) türlerinin bulunması yükselti ve engebeden ziyade oluşan şekillerin farklılığı üzerinde etkili olmuştur (aşınma hızları ve oluşan şekillerdeki farklılık gibi).

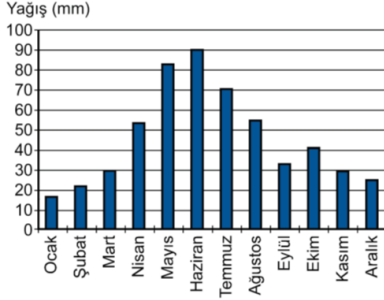
**Cevap E**

4. Heyelanlar, Karadeniz Bölgesi'nin önemli doğal afetlerindendir. İklim yer şekilleri toprak özellikleri ve bazen de beşerî etkenlere göre gerçekleşen bu doğal afetin Karadeniz'de sık görülmesinde;

- Yıllık yağış miktarının fazla olması,
- Tabaka eğimlerinin fazla olması,
- Doğal ve beşerî nedenlerle yamaç dengesinin bozulması,
- Killi kayaçların fazla olması etkili olmaktadır. **Ancak akarsu rejimleri bu doğal afetler ile ilgili değildir.** Akarsular ile ilişkilendirebilecek doğal afet taşkınlardır.

**Cevap B**

5.



Soruda verilen yağış rejimi grafiğine bakıldığında en fazla yağışın ilkbahar sonu, yaz başına denk geldiği, en az yağışın ise kışın düştüğü görülür.

Buna göre, bu grafik **Doğu Anadolu Karasal Yağış Rejimi** tipine uygunluk göstermektedir. Özellikle Kuzeydoğu Anadolu'da (Erzurum-Kars Bölümü) yükseltinin fazlalığı havanın ısınmasını geciktirerek konveksiyonel (yükselim) yağışların yaza doğru kaymasına neden olur (klasik karasalda en fazla yağış ilkbahar mevsiminde düşer). Aynı zamanda kışın düşen kar yağışları yağmura göre daha az su hacmini ifade ettiği için en az yağış değeri (mili metre cinsinden) kışın gerçekleşir.

#### Cevap D

6. Doğu Anadolu Bölgesi'nin kuzeydoğusunda, uzun boylu çayır örtüsü altında koyu renkli ve organik madde bakımından zengin topraklar gelişmiştir. **Bu tür topraklar çernozyemlerdir.**

Kara toprak olarak da isimlendirilen bu topraklar, Dünya'nın en verimli yeri toprağıdır, coğrafi olarak yarı nemli step bölgelerinde yağışın artış gösterdiği yüksek platolarda görülen topraklardır. Üzerindeki gür bitki örtüsünün düşük sıcaklığa bağlı olarak ayrışmaması nedeniyle humusça zengin olan koyu renkli topraklardır.

#### Cevap B

7. Türkiye'nin jeomorfolojik özellikleri dik-kate alındığında;

- I. Erzurum-Kars-Ardahan Platosu'nun oluşumunda akıcı lavların yayılması etkilidir.
- II. Taşeli Platosu'nda karstlaşma etkilidir.
- III. Üçüncü Zaman'da geniş alan kaplayan göller zamanla karalaşmıştır.
- IV. Ege Bölgesi'ndeki doğu-batı uzantılı ovalar birer grabendir.

bilgileri doğrudur. **Ancak "Türkiye'deki volkanik dağlar üzerinde buzullar bulunmamaktadır." bilgisi yanlıştır.** Ülke-mizdeki Ağrı, Süphan, Erciyes volkanik dağları üzerinde güncel buzullar bulunmaktadır.

#### Cevap E

8. Üniversitede arkadaş olan dört öğrenci, yaşadıkları kentler ve bu kentlerin ekonomik faaliyetleri hakkında bilgiler vermişlerdir.

Bu bilgiler ile yaşadıkları şehirler eşleştirildiğinde;

Ayşen: Yaşadığım kent Türkiye'nin en büyük maden kömürü havzasında yer alır. → **Zonguldak**

Şahin: Akdeniz Bölgesi'nde bir kentte yaşıyorum.

Kentteki en önemli sanayi kolu demir-çelik sektörüdür. → **İskenderun**

Ayhan: Benim yaşadığım kent kıydadır ve burada

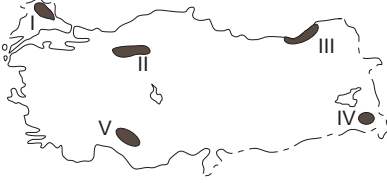
ham petrolü işleyen bir rafineri bulunmaktadır. → **Aliağa**

Burak: Yaşadığım kentte Türkiye'nin en küçük petrol rafinerisi bulunmaktadır. Rafineride işlenen petrol yöreden elde edilmektedir. → **Batman**

Ancak Kırkkale ile ilgili bir özellik öğrenciler tarafından verilmemiştir.

#### Cevap E

9. Türkiye’de dağlık ve engebeli alanlar genellikle seyrek nüfusludur.



Haritada gösterilen;

- I → Yıldız Dağları Yöresi  
 II → Koroğlu Dağları Yöresi  
 III → Hakkâri Dağları Yöresi  
 IV → Batı - Orta Toroslar Yöresi

Dağlık ve engebeli olduğu için تنها nüfuslanmış alanlardır. Ancak III numara ile gösterilen **Doğu Karadeniz kıyı kesimi dağlık ve engebeli olmasına rağmen yoğun nüfuslanmıştır**. Doğu Karadeniz kıyıları yoğun nüfuslu iken iç kesimleri (Gümüşhane-Bayburt çevresi) تنها nüfusludur.

**Cevap C**

10. Türkiye’de iç göçlerin yönüne bakıldığında genel olarak;
- Türkiye’nin doğusundan batısına doğrudur.(A)
  - İç bölgelerden kıyılara doğrudur.(B)
  - Yüksek alanlardan alçak alanlara doğrudur.(C)
  - En çok İstanbul, Ankara, İzmir gibi büyük kentlere yapılmaktadır.(E)

bilgileri doğrudur. Ancak ülkemizdeki göç yönleri ile ilgili olarak “**Doğal nüfus artışının en fazla olduğu illere yapılmaktadır.**” bilgisi yanlıştır. Doğal nüfus artışının fazla olduğu iller genellikle Doğu ve Güneydoğu’daki geri kalmış illerdir, göç yönü bu illere doğru değil, bu illerden daha fazla gelişmiş illere doğrudur.

**Cevap D**

11. Türkiye’de tarımı etkileyen en önemli coğrafi koşul iklimdir. İklim koşullarına bağlı olarak özellikle iç bölgelerdeki tarımsal alanlarda nadas (tarım alanının bir yıl ekilip sonraki yıl boş bırakılması) uygulaması yapılmaktadır. Buna göre soruda verilen karasal iklime sahip illerden Eskişehir (III) , Kırşehir (IV) ve Çorum’da (V) nadas alanları oranı daha fazla iken, kıyı ili olan **Tekirdağ (I) ve Düzce’de (II)** daha azdır.

**Cevap A**

12. Türkiye’de ekonomik balıkçılık açısından Karadeniz önemli bir yer tutmaktadır. Ancak Karadeniz’de 200 metrenin altındaki derinliklerde canlı yaşamamaktadır.

**Bunun nedeni 200 metreden fazla derinlikte bulunan kükürtlü hidrojen gazıdır.** Karadeniz eskiden tatlı su gölü iken sonradan denize dönüşerek tuzlu suya kavuşmuş ve buda içerisinde yaşayan canlıların ölüp deniz dibine çökerek çürümeleri sonucunda kükürtlü hidrojen gazının açığa çıkmasına neden olmuştur.

**Cevap C**

13. Yer kabuğunun zayıf noktalarından çıkan sıcak su ve buhar, jeotermal enerji olarak ısıtma ve elektrik üretiminde kullanılır. Türkiye’de bu enerji kaynağı açısından elektrik üretimi potansiyeli en yüksek olan bölge Ege Bölgesi’dir. Batı Anadolu fay hattına sahip olan **Ege Bölge’si ülkemizdeki jeotermal potansiyelin yaklaşık %70’ine sahiptir.**

**Cevap A**

14. Sanayinin gelişmesinde ham maddeye yakınlık önemlidir.  
Soruda verilen;

- Afyonkarahisar - Mermer sanayi (A)
- Kars - Süt mamulleri sanayi (B)
- Adana - Pamuklu dokuma sanayi (C)
- Bilecik - Seramik sanayi (kil ve kolen) (E)

Sanayi kollarının gelişiminde o alanlardaki ham madde olanakları etkili olmuştur.

Ancak orman varlığı açısından zengin olmayan Ankara'da mobilya sanayinin gelişimi daha çok pazar olanakları ile ilgilidir.

**Cevap D**

15. Soruda verilen öncüllerde ulaşım ile ilgili konuşan dört arkadaşın verdiği;

**Hasan:** Türkiye'de özellikle Cumhuriyetin ilk yıllarında ulaşım politikalarında demir yolu yapımına öncelik verilmiştir.

**Kerem:** Türkiye'de son yıllarda hava yolu ulaşımında önemli gelişmeler olmaktadır. Örneğin daha önce havaalanı olmayan pek çok kentte havaalanları inşa edilmiş ve hava yolunu kullanan yolcu sayısı artmıştır.

bilgileri doğrudur.

**Cevap A**

16. Ülkelerin coğrafi özellikleri, ulaşım politikaları ve bu politikalara bağlı olarak oluşturulan ulaşım altyapıları, ulaşım sistemlerinin gelişiminde belirleyici rol oynar. Türkiye'deki ulaşım sistemlerine bağlı olarak yurt içi yük taşımacılığında **kara yolu**, yurt dışı yük taşımacılığında egemen olan ulaşım çeşidi ise **deniz yolu**'dur.

**Cevap D**

17. Türkiye'nin 2023 Turizm Stratejisi'nde 7 tematik turizm gelişim koridoru belirlenmiştir. Bunlardan "kış koridoru" Erzurum, Erzincan, Kars ve Ardahan illerini kapsamaktadır.

Belirtilen bölgenin kış koridoru olarak belirlenmesinde;

- I. kış devresinin uzun olması (I)
- II. kış mevsiminde ortalama sıcaklıkların düşük olması (II)

etkili olmuştur.

**Cevap C**

18. Ovalar; tarım, yerleşme, sanayi kuruluşu için uygun alanları oluşturur.

Soruda verilen Konya, Bursa, Erzincan, Eskişehir tarım sanayi yerleşme ulaşım açısından daha elverişli alanlar oluştururken Muş Ovası sanayi açısından elverişli bir alanda yer almaz.

**Cevap E**

1. Türkiye'yi etkileyen aşağıdaki basınç merkezlerinden hangisi muson sisteminin bir parçasıdır?

A) İzlanda Alçak Basınç Merkezi  
 B) Basra Alçak Basınç Merkezi  
 C) Azor Yüksek Basınç Merkezi  
 D) Akdeniz Alçak Basınç Merkezi  
 E) Sibirya Yüksek Basınç Merkezi

2. Çok sayıda akarsuyun bulunduğu Türkiye'de, akarsu vadilerinin büyük bölümünün "V" şeklinde bir profile sahip olduğu görülür.

**Bu durumun başlıca nedeni aşağıdakilerden hangisidir?**

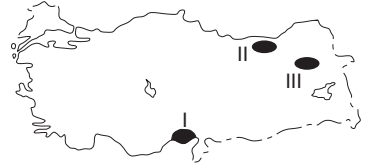
A) Yamaç eğim değerlerinin fazla olması  
 B) İlbahardaki kar erimelerinin fazla olması  
 C) Akarsuların denge profiline ulaşmamış olması  
 D) Zemindeki kayaç yapısının dirençsiz olması  
 E) Açık havza akarsuları olması

3. Tatilini geçirmek üzere Türkiye'ye gelen bir turist, Türkiye'de kaldığı dönemde gece süresinin gittikçe kısalmasıyla birlikte gündüz süresine göre daha uzun olduğunu fark etmiştir.

**Buna göre turistin hangi tarihler arasında Türkiye'de olduğu söylenebilir?**

A) 31 Ocak - 11 Şubat  
 B) 1 - 11 Nisan  
 C) 8 - 18 Temmuz  
 D) 30 Eylül - 11 Ekim  
 E) 11 - 21 Aralık

4.



**Haritada numaralarla gösterilen alanlarda yaygın olarak görülen toprak tipleri aşağıdakilerin hangisinde doğru olarak eşleştirilmiştir?**

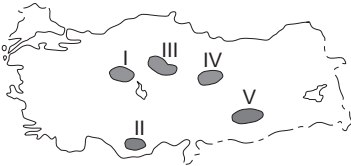
	I	II	III
A)	Alüvyal	Kahverengi orman	Çernezyom
B)	Terra-Rossa	Alüvyal	Çernezyom
C)	Terra-Rossa	Kahverengi orman	Alüvyal
D)	Alüvyal	Çernezyom	Kahverengi orman
E)	Çernezyom	Alüvyal	Kahverengi orman

5. Türkiye kışın genellikle kuzey sektörlü soğuk ve nemli hava kütlelerinin, yazın ise güney sektörlü sıcak ve kuru hava kütlelerinin etkisinde kalır.

**Bu durum Türkiye'nin başlıca hangi özelliğinden kaynaklanmaktadır?**

- A) Orta kesimlerinde geniş düzlüklerin bulunmasından  
B) Üç tarafının denizlerle çevrili olmasından  
C) Kuzeyinde ve güneyinde yüksek dağ sıralarının bulunmasından  
D) Ortalama yükseltisinin fazla olmasından  
E) Mutlak konumundan

6. Platolar, Türkiye arazisi içinde geniş yer kaplamaktadır. Bu alanlarda genellikle kuru tarım ve hayvancılık faaliyetleri yapılmaktadır.



**Buna göre yukarıdaki haritada numaralarla gösterilen platolardan hangisi bu faaliyetlerin her ikisi bakımından bu genellemeye uymamaktadır?**

- A) I B) II C) III D) IV E) V

7. **Aşağıdaki ova ve oluşum kökeni eşleştirmelerinden hangisi yanlıştır?**

- A) Elmalı – Karstik  
B) Bafra – Delta  
C) Nazilli – Tektonik  
D) Merzifon – Tektonik  
E) Ergene – Delta

8. **Aşağıdakilerden hangisi, Türkiye'nin 1927-2022 dönemine ait nüfus gelişim özelliklerinden biri değildir?**

- A) Kırsal nüfus oranı geçmişten günümüze azalmaktadır.  
B) Ortalama yaşam süresi uzamaktadır.  
C) Aritmetik nüfus yoğunluğu artarak devam etmektedir.  
D) Geçmişten günümüze nüfus artışı hızı yükselmektedir.  
E) Şehirli nüfus miktarı artmaya devam etmektedir.

9. Türkiye, geçici kırsal yerleşmeler bakımından çeşitlilik göstermektedir. Bu yerleşmelerdeki temel ekonomik faaliyet türü; hayvancılık, bazen de tarım olmaktadır.

**Aşağıdakilerden hangisi bu tür yerleşmelerden biri değildir?**

- A) Yayla B) Oba C) Kom  
D) Ağıl E) Mahalle



KPSS  
2024

GENEL YETENEK  
GENEL KÜLTÜR

VATANDAŞLIK

TAMAMI ÇÖZÜMLÜ  
ÇIKMIŞ  
SORULAR

SON  
10  
YIL

 ÖGRETİ AKADEMİ

# ÖĞRETİ AKADEMİ

## Komisyon

### GYGK VATANDAŞLIK TAMAMI ÇÖZÜMLÜ ÇIKMIŞ SORULAR

ISBN 978-625-6764-53-8

Kitapta yer alan bölümlerin tüm sorumluluğu yazarlarına aittir.

Bu kitabın basım, yayım ve satış hakları Pegem Akademi Yay. Eğt. Dan. Hizm. Tic. AŞ'ye aittir. (Öğreti Akademi yayınları bir Pegem Akademi markasıdır.) Anılan kuruluşun izni alınmadan kitabın tümü ya da bölümleri, kapak tasarımı; mekanik, elektronik, fotokopi, manyetik kayıt ya da başka yöntemlerle çoğaltılamaz, basılamaz ve dağıtılamaz. Bu kitap, T.C. Kültür ve Turizm Bakanlığı bandrolü ile satılmaktadır. Okuyucularımızın bandrolü olmayan kitaplar hakkında yayınevimize bilgi vermesini ve bandrolsüz yayınları satın almamasını diliyoruz.

**1. Baskı:** 2023, Ankara

Yayın-Proje: Şewal Aksoy  
Dizgi-Grafik Tasarım: Gülnur Öcalan  
Kapak Tasarımı: Öğreti Akademi

**Baskı:** Vadi Grup Basım AŞ  
Saray Mah. 126 Cad. No: 20/A  
Kazan/ANKARA  
Tel: (0312) 802 00 53-54

Yayıncı Sertifika No: 51818  
Matbaa Sertifika No: 49180

## İletişim

Shira Ticaret Merkezi, Macun Mahallesi 204 Cad.  
No: 141/33, Yenimahalle/Ankara  
Yayınevi: 0312 430 67 50  
Dağıtım: 0312 434 54 24  
Hazırlık Kursları: 0312 419 05 60  
İnternet: [www.ogreti.com](http://www.ogreti.com)  
E-ileti: [ogreti@ogreti.com.tr](mailto:ogreti@ogreti.com.tr)  
WhatsApp Hattı: 0538 594 92 40

Değerli KPSS Adayları,

KPSS'ye hazırlanan adaylarımız KPSS'de çıkan soruları incelemek, çözmek ve kendini geliştirmek, eksiklerini fark edip tamamlamak amacıyla çalışmalarına dâhil etmektedir. Lisans mezunu adayların bu yönde yaptıkları çalışmaların başarı oranları üzerindeki olumlu etkisi göz ardı edilemeyeceğinden kitabımızda 2014-2023 yılları arasında yapılan KPSS Genel Kültür Vatandaşlık alanında yöneltilen tüm sorulara yer verilmiştir.

Lisans mezunu adayların geleceğe umutla bakabilmelerine, eğitimini aldıkları alanda kendilerini gerçekleştirilmelerine ve karşılarına çıkan engelleri aşmalarına yardımcı olması amacıyla hazırlanan KPSS Tamamı Çözömlü Genel Yetenek-Genel Kültür Vatandaşlık Çıkılmış Sorular kitabı ile sizlere faydalı olacağımızı umuyor ve hepinize başarılar diliyoruz.

**Öğreti Akademi Yayıncılık**

## İÇİNDEKİLER

2014 GYGK Vatandaşlık Çıkmış Sorular.....	1
2015 GYGK Vatandaşlık Çıkmış Sorular.....	6
2016 GYGK Vatandaşlık Çıkmış Sorular.....	12
2017 GYGK Vatandaşlık Çıkmış Sorular.....	17
2018 GYGK Vatandaşlık Çıkmış Sorular.....	22
2019 GYGK Vatandaşlık Çıkmış Sorular.....	28
2020 GYGK Vatandaşlık Çıkmış Sorular.....	34
2021 GYGK Vatandaşlık Çıkmış Sorular.....	41
2022 GYGK Vatandaşlık Çıkmış Sorular.....	46
2023 GYGK Vatandaşlık Çıkmış Sorular.....	53
Cevap Anahtarı.....	59

1. I. Yönetmelik  
II. Kanun hükmünde kararname  
III. Tüzük
- Hukukumuzda normlar hiyerarşisi bakımından, numaralandırılmış normların üstlük-astlık ilişkisine göre sıralanışı aşağıdakilerin hangisinde verilmiştir?**
- A) II - I - III B) III - II - I C) II - III - I  
D) I - III - II E) III - I - II
2. **Aşağıdakilerden hangisinin yargı denetimi yaptığı alanda, kendisinden başka ilk derece ve üst derece mahkemesi bulunmamaktadır?**
- A) Askerî Yüksek İdare Mahkemesi  
B) Askerî Yargıtay  
C) Bölge adliye mahkemesi  
D) Danıştay  
E) Bölge idare mahkemesi
3. **Bir kimsenin, bilerek sebep olmadığı bir tehlikeden kendisini veya bir başkasını kurtarmak için, bu tehlikle ilgili olmayan üçüncü bir kişinin malına zarar vermesi hâline ne ad verilir?**
- A) Meşru müdafaa  
B) İztırar hâli  
C) Haksız tahrik  
D) Nispi hak  
E) Hakkin kötüye kullanılması
4. **1982 Anayasası'na göre, Hâkimler ve Savcılar Yüksek Kurulu Başkanı aşağıdakilerden hangisidir?**
- A) Uyuşmazlık Mahkemesi Başkanı  
B) Danıştay Başkanı  
C) Yargıtay Başkanı  
D) Adalet Bakanı  
E) Adalet Bakanlığı Müsteşarı
5. **1982 Anayasası'na göre, milletvekillerinin yasama dokunulmazlığını kaldırma yetkisi aşağıdakilerden hangisine aittir?**
- A) Türkiye Büyük Millet Meclisi Başkanı  
B) Danıştay  
C) Yüksek Seçim Kurulu  
D) Anayasa Mahkemesi  
E) Türkiye Büyük Millet Meclisi Genel Kurulu
6. **Türkiye'de gizli oy-açık sayım ve döküm ilkesine uygun olarak ilk milletvekili seçimi hangi yıl yapılmıştır?**
- A) 1946 B) 1950 C) 1954  
D) 1957 E) 1961
7. **Türk idare hukukunda, merkezî idareye ait bazı yetkilerin taşradaki idareci tarafından merkez adına kullanılabilmesine ne ad verilir?**
- A) Hiyerarşi  
B) İdarenin bütünlüğü  
C) İdari vesayet  
D) Yerinden yönetim  
E) Yetki genişliği

8. Jandarma Genel Komutanlığı, idari kolluk görevleri bakımından aşağıdakilerden hangisine bağlıdır?  
 A) İçişleri Bakanlığı  
 B) Başbakanlık  
 C) Genelkurmay Başkanlığı  
 D) Millî Savunma Bakanlığı  
 E) Adalet Bakanlığı
9. Bir yerleşim biriminde belediye kurulabilmesi için nüfusun en az kaç olması gerekir?  
 A) 20.000 B) 10.000 C) 7.500  
 D) 5.000 E) 1.000
10. İktisatın bir bilim hâline gelişinin öncüsü olan, 1776 yılında yayımlanan ve kısaca *Ulusların Zenginliği* adıyla anılan eserin yazarı aşağıdakilerden hangisidir?  
 A) Adam Smith  
 B) David Hume  
 C) John Locke  
 D) Jacques Turgot  
 E) François Quesnay
11. Ortalama 4.900 metre rakımıyla Dünya'nın en yüksek bölgesi olan ve "Dünya'nın Çatısı" olarak adlandırılan ülke aşağıdakilerden hangisidir?  
 A) Hindistan  
 B) Tibet  
 C) Çin  
 D) Afganistan  
 E) Nepal
12. *Mesnevî*, *Divan-ı Kebir* adlı eserleriyle tanınan, Mevlevîliğin öncüsü olan mu-tasavvîf şair ve düşünce adamı aşağıdakilerden hangisidir?  
 A) Hacı Bektaş-ı Velî  
 B) Yunus Emre  
 C) Mevlana  
 D) Gazalî  
 E) Hacı Bayram-ı Velî
13. "Evrenin merkezinin Dünya değil, Güneş olduğu" tezini geri çekmediği için en-gizisyon mahkemesi tarafından 1633 yılında hapse mahkûm edilen bilim in-sanı aşağıdakilerden hangisidir?  
 A) Nicolaus Copernicus  
 B) Jonhannes Kepler  
 C) Isaac Newton  
 D) Galileo Galilei  
 E) Leonardo da Vinci
14. 8 Mart 2014 tarihinde Malezya'nın başkenti Kuala Lumpur'dan havalan-dıktan sonra içindeki 227 yolcu ve 12 mürettebatla kaybolan uçak aşağıdaki şehirlerden hangisine gitmekteydi?  
 A) Manila B) Seul C) Bangkok  
 D) Tokyo E) Pekin
15. *Yüzyıllık Yalnızlık* romanıyla tanınan ve 2014 yılı Nisan ayında hayatını kaybe-den, Nobel ödüllü edebiyatçı aşağıda-kilerden hangisidir?  
 A) Gabriel García Márquez  
 B) Mario Vargas Llosa  
 C) Umberto Eco  
 D) Dan Brown  
 E) Jorge Luis Borges

1. **Normlar hiyerarşisi**, hukuk normlarının derecesini ve kuvvetini belirler. Hukuk düzeninde var olan norm çokluğu genellikle piramide benzetilir. Piramit ise anayasa, kanun, kanun hükmünde kararname, uluslararası anlaşmalar, tüzük, yönetmelik ve genelgelerden (adsız düzenleyici işlemlerden) oluşan birden çok normun varlığını tanımlar. Normlar hiyerarşisi, hukuk düzeni piramidi olarak da tanımlanır. Hukuk düzenindeki normlar, altlık-üstlük ilişkisi içindedir. Alttaki norm üstteki normun işleyişini, hayata geçirmesini sağlar. Normlar hiyerarşisinin en üstünde anayasa yer almaktadır. Anayasanın altında kanun, kanuna eş değer kanun hükmünde kararname, kanuna eş değer olan uluslararası anlaşmalar yer alır. Kanundan sonra tüzük, ardından yönetmelik ve adsız düzenleyici işlemler (sirküler, tamim, genelge, yönerge gibi..) Kanunlar anayasaya, tüzükler kanuna, yönetmelikler tüzüğe aykırı olamaz.



**Cevap C**

2. **Askerî Yüksek İdare Mahkemesinin** yargı denetimi yaptığı alanda, kendisinden başka ilk derece ve üst derece mahkemesi bulunmamaktadır. Askerî Yüksek İdare Mahkemesi; Türkiye Cumhuriyeti Anayasası ile görevlendirilmiş bağımsız bir yüksek mahkemedir. Askerî Yüksek İdare Mahkemesi, Türk Milleti adına, askerî olmayan makamlarla tesis edilmiş olsa bile, asker kişileri ilgilendiren ve askerî hizmete ilişkin idari işlem ve eylemlerden doğan uyuşmazlıkların ilk ve son derece mahkemesi olarak yargı denetimini ve diğer kanunlarda gösterilen görevleri yapar. Alt mahkemesi yoktur. Askerî Yüksek İdare Mahkemesinin kuruluşu, işleyişi, yargılama usulleri, mensuplarının disiplin ve özlük işleri; mahkemelerin bağımsızlığı ve hâkimlik teminatı esaslarına göre kanunla düzenlenir.

★ 2017 Anayasa değişikliği ile Askerî Yüksek İdare Mahkemesi kaldırılmıştır.

**Cevap A**

3. **Meşru müdafaa (haklı savunma)**, bir kişinin hayatına, özgürlüğüne, beden tamliğine, haysiyetine veya malına yönelik bir saldırıda, o kişiyi belirli şartlar altında kuvvet kullanarak bu saldırıyı uzaklaştırma imkânı vermektedir.

**Zaruret (ıztırar) hâli**, bir kişinin kendisini veya başkasını açık ya da yakın bir zarar tehlikesinden korumak için diğer bir kişinin mallarına zarar vermesidir. Bir kimse- nin, bilerek sebep olmadığı bir tehlikeden kendisini veya bir başkasını kurtarmak için, bu tehlikeyle ilgili olmayan üçüncü bir kişinin malına zarar vermesi hâlidir. Böyle bir durumda hâkim, ortaya çıkan zararın tazmin yükümlülüğünü hakkaniyete göre belirleyecektir.

**Hakkın kötüye kullanılması**; bir hakkın dürüstlük kurallarına açıkça aykırı şekilde ve özellikle amacı dışında kullanılmış ve bundan da başkalarının zarar görmüş veya zarar görme tehlikesiyle karşılaşmış olmaları demektir.

**Haksız tahrik**, ceza sorumluluğunu azaltan neden olarak öngörülmüştür. Hukuken cezada indirim sebebi niteliği taşıyan ve kişi üzerinde büyük elem ve ızdırap yaratması sonucu kişiyi suça iten karşı taraf eylemidir.

**Nispi hak**, herkese karşı ileri sürülemeyen sadece bazı kişilere karşı ileri sürülen haklardır. Alacak hakkı vb...

**Cevap B**

4. **Hâkimler ve Savcılar Yüksek Kurulu**, yargı bağımsızlığı ve tarafsızlığı ilkelerini esas alarak yargı hizmetlerinin adil, hızlı ve etkin bir şekilde yürütülmesini sağlamak amacıyla; hâkim ve savcılarla ilgili iş ve işlemlerin; adalet, tarafsızlık, doğruluk, dürüstlük, tutarlılık, eşitlik, ehliyet ve liyakat ilkeleri çerçevesinde yürütülmesini temin etmek amaçlı kurulmuştur. Kurulun başkanı Adalet bakanı olup müsteşar kurulun tabii üyesidir.

**Cevap D**

5. **Yasama dokunulmazlığı**, seçimden önce veya sonra bir suç işlediği öne sürülen milletvekilinin, TBMM Genel Kurulunun kararı olmadıkça tutulmaması, sorguya çekilememesi, tutuklanmaması ve yargılanmamasıdır. 1982 Anayasası'na göre, milletvekillerinin yasama dokunulmazlığını kaldırma yetkisi TBMM Genel Kuruluna aittir. Yasama dokunulmazlığı, mutlak ve sürekli değildir. Yasama dokunulmazlığının kaldırılmasının iptali için ise 7 gün içinde Anaya Mahkemesine başvurulur. Anayasa Mahkemesi 15 gün içinde karar verir.

**Cevap E**

6. **Gizli oy ilkesi**, yani oyun gizli olarak verilmesi ilkesi, seçmenin iradesini serbestçe ve her türlü baskıdan uzak biçimde ortaya koymasını sağlar. Türkiye'de gizli oy ilkesi ilk defa 1950 seçimlerinde uygulanmıştır.

**Cevap B**

7. **Yetki genişliği**, bir yerin veya bir hizmetin başında bulunan amire, aslında merkeze ait olan karar alma ve uygulama gibi kamu gücünden kaynaklanan yetkilerin tanınması durumudur. Yani, taşradaki amirin merkeze danışmadan karar alabilmesidir.

**Hiyerarşi**, başkent ve taşra arasında bütünlüğü sağlamak için oluşturan hukuki bağıdır. Başkent teşkilatının taşra örgütleri üzerindeki denetim aracıdır.

**İdarenin bütünlüğü ilkesine göre**, idare, teşkilat ve görevleriyle bir bütündür ve kanuna dayanır. İdari teşkilat, tekçi (üniter) devlet ilkesi gereğince bir uyum ve bütünlük içinde çalışmalıdır.

**Yerinden yönetim**, merkezin üstlenmediği kimi kamu hizmetlerinin merkezden ayrı ve özerk kamu idareleri tarafından yürütülmesidir.

**İdari vesayet**, merkezi idarenin yerinden yönetim kuruluşları üzerinde sahip olduğu denetim yetkisidir.

**Cevap E**



8. **Jandarma**, idari ve kolluk yetkileri yönüyle İçişleri Bakanlığına bağlıdır. İçişleri Bakanı gerektiğinde Bakanlar Kurulu kararı ile ordu birliklerinden istifade edebilir.

**Cevap A**

9. Belediye, belde sakinlerinin mahallî müşterek nitelikteki ihtiyaçlarını karşılamak üzere kurulan ve karar organı seçmenler tarafından seçilerek oluşturulan, idari ve mali özerkliğe sahip kamu tüzel kişidir. Nüfusu 5.000 ve üzerinde olan yerleşim birimlerinde belediye kurulabilir. İl ve ilçe merkezlerinde belediye kurulması zorunludur.

**Cevap D**

10. *Ulusların Zenginliği*, ekonomi disiplinin oluşumunda ve aynı zamanda özerk ve sistematik hâle gelmesi konusunda önemli bir yere bir sahiptir. 1776'da yazılmıştır ve merkantilizme yönelik klasik bir bildirgeye dönüşmüştür. İktisatın bir bilim hâline gelişinin öncüsü olan "İktisatın Açılış Kitabı" olarak da kabul edilen kitabın yazarı Adam Smith'tir.

**Cevap A**

11. Soru iptal edilmiştir.

12. Mevlânâ Celâleddin-i Rumi, Tasavvufî Mevlevî yolunun öncüsüdür. Eserleri;

- Mesnevi,
- Büyük Divan (Divan-ı Kebir)
- Mecalis-i Seb'a
- Mektubat'tır.

**Cevap C**

13. Güneş merkezli evren kuramı, güneşin merkezde olduğunu ve diğer gezegenlerin onun etrafında döndüğünün görüşüdür. Aristarchus, evrenin merkezinde Dünya'nın değil de güneşin olduğunu savunan ilk kişidir. Galileo Galilei de güneş merkezli evren kuramını benimsemiştir. Dünya-Evren teorisi Katolik Kilisesinin benimsemediği bir görüş olduğundan iki kez 1600'lü yıllarda Engizisyon mahkemesinde yargılanmıştır. İşkenceyle tehdit edilince, "Görmedim, duymadım ve bilmiyorum." diyerek söylediğini inkâr etmiş ve ev hapsine mahkûm edilmiştir. Medicilerle arasının iyi olması sayesinde ömrünün kalan yıllarını Floransa yakınlarındaki lüks bir villada geçirmiştir. Katolik Kilisesi ise 1992 yılında, 8 Ocak 1642'de ölen Galileo Galilei'nin itibarını iade etmiştir.

**Cevap D**

14. Malezya Kuala Lumpur'dan Pekin'e gitmek üzere havalanan 12 mürettebat ve 227 yolcusu bulunan Boeing 777-200 tipi uçak havada kaybolmuştur.

**Cevap E**

15. *Yüzyıllık Yalnızlık*, 1982 Nobel Edebiyat Ödüllü, Kolombiyalı yazar Gabriel García Márquez'in 1967 yılında Meksika'da kaleme aldığı başyapıtı olarak kabul edilen eserdir.

**Cevap A**

1. 6098 sayılı Türk Borçlar Kanunu madde 91: "Borcun ifası için bir ayın başlangıcı veya sonu belirlenmişse, bundan ayın birinci ve sonuncu günü; ayın ortası belirlenmişse, bundan da ayın on beşinci günü anlaşılır."  
**Bu kural, niteliğine göre aşağıdakilerden hangisine örnek olarak verilebilir?**
- A) Emredici hukuk kuralı  
B) Yasaklayıcı hukuk kuralı  
C) Tamamlayıcı hukuk kuralı  
D) Yorumlayıcı hukuk kuralı  
E) Tanımlayıcı hukuk kuralı
2. Bir otel işletmecisinin, müşterisinin kendisine bıraktığı eşya üzerinde ödenmeyen otel ücreti nedeniyle alacağını güvence altına almak için hapis hakkına sahip olması durumu aşağıdakilerden hangisiyle ifade edilir?
- A) Haklı savunma  
B) Zorunluluk hâli  
C) Kendi hakkını kendi gücüyle koruma  
D) Kıyas  
E) Diyet usulü
3. Adli yargı kolundaki üst derece mahkemesi aşağıdakilerden hangisidir?
- A) Danıştay  
B) Yargıtay  
C) Uyuşmazlık Mahkemesi  
D) Anayasa Mahkemesi  
E) Askerî Yüksek İdare Mahkemesi
4. 1982 Anayasası'na göre, aşağıdakilerden hangisi milletvekili seçilebilme şartlarından biri **değildir**?
- A) Türk vatandaşı olmak  
B) Kısıtlı olmamak  
C) Kamu hizmetlerinden yasaklı olmamak  
D) Yükümlü olduğu askerlik hizmetini yapmış olmak  
E) On sekiz yaşını doldurmuş olmak
5. 1982 Anayasası'na göre, aşağıdakilerden hangisi siyasi haklar ve ödevler başlığı altında **düzenlenmemiştir**?
- A) Türk vatandaşlığı  
B) Seçme, seçilme ve siyasi faaliyette bulunma hakları  
C) Kamu hizmetlerine girme hakkı  
D) Dilekçe, bilgi edinme ve kamu denetçisine başvurma hakkı  
E) İspat hakkı
6. 1982 Anayasası'na göre, aşağıdaki yüksek mahkemelerden hangisinin üyelerinin tamamı Hâkimler ve Savcılar Yüksek Kurulu tarafından seçilir?
- A) Yargıtay  
B) Danıştay  
C) Askerî Yargıtay  
D) Askerî Yüksek İdare Mahkemesi  
E) Uyuşmazlık Mahkemesi

7. İllerin kurulması, kaldırılması ve adlarının değiştirilmesi aşağıdakilerden hangisiyle gerçekleşir?
- A) Kanun  
B) Tüzük  
C) Yönetmelik  
D) Bakanlar Kurulu kararı  
E) Müşterek kararname
8. Devlet kamu hizmetleri görevlerine girmek, sınıflar içerisinde ilerlemek ve yükselmek açısından bireylerin bilgi ve yeteneklerini esas alan temel ilke aşağıdakilerden hangisidir?
- A) Derecelendirme  
B) Kademelendirme  
C) Sınıflandırma  
D) Kariyer  
E) Liyakat
9. Sayıştay, merkezî yönetim bütçesi kapsamındaki kamu idareleri ve sosyal güvenlik kurumlarının bütün gelir ve giderleri ile mallarını aşağıdakilerden hangisi adına denetler?
- A) Cumhurbaşkanı  
B) Türkiye Büyük Millet Meclisi  
C) Bakanlar Kurulu  
D) Başbakan  
E) Maliye Bakanlığı
10. 26 Nisan 2015 tarihinde yapılan seçimde Nursultan Nazarbayev'in %97'nin üzerinde oyla yeniden devlet başkanı seçildiği ülke aşağıdakilerden hangisidir?
- A) Tacikistan  
B) Kazakistan  
C) Türkmenistan  
D) Özbekistan  
E) Kırgızistan
11. 10 Şubat 2015 tarihinde yapılan toplantıda Anayasa Mahkemesi Başkanlığına aşağıdakilerden hangisi seçilmiştir?
- A) İsmail Rüştü Cirit  
B) Kenan İpek  
C) Ömer Cihad Vardan  
D) Vacit Öktem  
E) Zühtü Arslan
12. Türkiye'de sokağa çıkma yasağının uygulandığı son nüfus sayımı, aşağıdaki yılların hangisinde gerçekleştirilmiştir?
- A) 1980 B) 1985 C) 1990  
D) 2000 E) 2009
13. Bilim adamlarının "Kızıl Gezegen" olarak isimlendirdiği ve Dünya'dan yaklaşık iki kat daha küçük olan gezegen aşağıdakilerden hangisidir?
- A) Neptün B) Merkür C) Venüs  
D) Mars E) Jüpiter
14. Türkiye'nin İstiklal Madalyası'na sahip ilk ili aşağıdakilerden hangisidir?
- A) İzmir  
B) Şanlıurfa  
C) Kahramanmaraş  
D) Gaziantep  
E) Samsun
15. Aşağıdakilerden hangisi Yaşar Kemal'in eserlerinden biri değildir?
- A) *İnce Memed*  
B) *Yer Demir Gök Bakır*  
C) *Ağrı Dağı Efsanesi*  
D) *Esir Şehrin İnsanları*  
E) *Yılanı Öldürseler*

1. Emredici hukuk, mutlaka uyulması gereken, kesinlik ifade eden kurallardır.

Tamamlayıcı hukuk, aksi kararlaştırılmadıkları takdirde tarafların iradeleri ile uygulanan kurallardır.

Tanımlayıcı hukuk kuralları; bir hukuki kavramın, bir müessesenin, normun hangi anlama geldiğini açıklayan kurallardır. Aynı zamanda emredici hukuk kurallarıdır.

Yorumlayıcı hukuk, birden fazla anlamı olan eylem ve beyanların yorumudur. Sözleşme hükümlerini açıklığa kavuşturan kurallardır. 6098 sayılı Türk Borçlar Kanunu'ndaki 91. maddede yer alan "Borcun ifası için bir ayın başlangıcı veya sonu belirlenmişse, bundan ayın birinci ve sonuncu günü; ayın ortası belirlenmişse bundan da ayın on beşinci gününün anlaşılması" ifadesi de yorumlayıcı hukuk kurallarına dairdir. Tarafların hukuki bir işlemde kullandıkları ve ne anlama geldiğini açıklamadıkları hususlara dair bir hüküm kanunda öngörülmüşse o hüküm de yorumlayıcıdır.

#### **Cevap D**

2. Haklı savunma (meşru müdafaa), bir kimşenin kendi şahsına veya malına yapılan hukuka aykırı ve hâlen devam eden bir saldırıyı önlemek için yaptığı ölçülü karşı saldırıya denir.

Zorunluluk hâli (İztırar hali), kendisini ve başkasını bilerek sebebiyet vermediği zarardan veya derhâl oluşabilecek bir tehlikeden kurtarmak için başkalarının mallarına zarar vermektir.

Kıyas, bir suç işleyenin aynı cinsten bir ceza ile cezalandırılmasıdır, İslam hukukunda yer almaktadır.

Diyet usulü, modern para cezasının temelini oluşturmaktadır. Öç alma veya kıyas hakkına sahip olan kişi, aile veya klan, belli bir mal veya para karşılığında bu hakkından vazgeçmektedir. Ayrıca "diyet" usulü, tarihsel açıdan fail ile mağdur arasındaki ihtilafın çözümü yollarından biri olarak da değerlendirilmektedir.

Kendi hakkını kendi gücüyle koruma (kuvvet kullanma), hakkın kaybolması tehlikesi mevcutken ve o anda hükümet güçlerine başvurmanın imkânsız bulunması durumunda bir kimsenin hakkını bizzat kuvvete başvurarak korumasıdır. Bir otel işletmecisinin, müşterisinin kendisine bıraktığı eşya üzerinde ödenmeyen otel ücreti nedeniyle alacağını güvence altına almak için hapis hakkına sahip olması durumu da kendi hakkını kendi gücüyle korumadır. Kişi, kendi alacağını hakkını kendi eliyle korumuştur.

#### **Cevap C**

3. Adli yargı, olağan ve genel yargıdır. Yani diğer yargı kollarının görevine girmeyen davalara adli yargıda bakılır. Adli yargı kolunun üst derece (kontrol) mahkemesi Yargıtaydır.

#### **Cevap B**

4. 1982 Anayasası'na göre, milletvekili seçilebilme şartları;

Yirmi beş yaşını dolduran her Türk vatan-daşı milletvekili seçilebilir. (2006 Anayasa Değişikliği)

- Seçilebilmek için en az ilkokul me-zunu olmak.
- Kısıtlı olmamak, yükümlü olduğu askerlik hizmetini yapmış olmak.
- Kamu hizmetinden yasaklı olma-mak.
- Taksirli suçlar hariç olmak üzere bir yıl ve daha fazla hapis cezası alma-mış olmak.
- Affa uğramış olsa bile zimmet, ihti-las, irtikap, rüşvet, hırsızlık, dolan-dırıcılık, sahtecilik, inancı kötüy e kullanma, dolanlı iflas gibi yüz kı-zartıcı suçlar ile kaçakçılık, ihale-ye fesat karıştırma, Devlet sırlarını açığa vurma, terör (2002 değişikliği öncesinde "ideolojik ve anarşik" ifadesi vardı.) eylemlerine katılma ve bu eylemleri tahrik ve teşvik gibi suçlardan hüküm giymemiş olmak gerekir.

★ 2017 Anayasa değişikliği ile milletve-kili seçilme yaşı 18'e düşürülmüştür. Askerlik hizmetini yapmış olmak veya bundan muaf olmak koşulu, askerlikle ilişiği olmamak şeklinde değiştirilmiştir.

**Cevap E**

5. 1982 Anayasası'na göre siyasi haklar ve ödevler siyasi haklar ve ödevler, ka-tılım haklarıdır. Aktif statü hakları olarak da adlandırılır. Kişilerin devlet yönetimine dahil olma araçlarıdır. Bunlar:

- Türk vatandaşlığı
- Seçme ve seçilme hakkı
- Siyasi faaliyette bulunma hakkı
- Parti kurma, partilere girme ve par-tilerden çıkma
- Kamu hizmetine girme
- Mal bildirim
- Vatan hizmeti
- Vergi ödevi
- Dilekçe hakkı
- Bilgi edinme ve kamu denetçisine başvurma hakkı (2010)

★ İspat hakkı ise kişi hak ve hürriyetleri arasında yer alır.

**Cevap E**

6. Yargıtay, adliye mahkemelerince verilen karar ve hükümlerin son inceleme (tem-yiz) mercisi olup, ayrıca belli davalara da ilk ve son derece mahkemesi olarak bakar. 1982 Anayasası'na göre, üyelerinin tamamı Hâkimler ve Savcılar Yüksek Kurulu tarafından seçilir.

**Cevap A**

7. Türkiye, merkezî idare kuruluşu bakımın-dan coğrafya durumuna, iktisadi şartlara ve kamu hizmetlerinin gereklerine göre illere; iller ilçelere ve ilçeler de bucaklara bölünmüştür. İllerin kurulması, kaldırılma-sı ve adlarının değiştirilmesi "kanun" ile gerçekleşir.

**Cevap A**

8. Liyakat, devlet kamu hizmetleri görevlerine girmek, sınıflar içerisinde ilerlemek ve yükselmek açısından bireylerin bilgi ve yeteneklerini esas alan temel ilkedir. Liyakat ilkesi, memurluk mesleğine girişte ve bu meslek içinde yükselişte kayırcılığı ve partizanlığı önleyen ve memurların tarafsızlığını sağlayan bir ilkedir.

**Cevap E**

9. Sayıştay, merkezî yönetim bütçesi kapsamındaki kamu idareleri ve sosyal güvenlik kurumlarının bütün gelir ve giderleri ile mallarını Türkiye Büyük Millet Meclisi adına denetler. Sayıştay, idari görevlerinin yanında, sorumluların hesap ve işlemlerini kesin hükme bağlayarak yargısal görevler de yerine getirir.

**Cevap B**

10. 26 Nisan 2015 tarihinde yapılan seçimde Nursultan Nazarbayev'in %97'nin üzerinde oyla yeniden devlet başkanı seçildiği ülke, Kazakistan'dır.

**Cevap B**

11. Prof. Dr Zühtü Arslan, 10 Şubat 2015 tarihinde yapılan toplantıda, üyeler tarafından 4 yıllığına Anayasa Mahkemesi başkanlığına seçilmiştir.

**Cevap E**

12. Türkiye'de sokağa çıkma yasağının uygulandığı son nüfus sayımı, 2000 yılında yapılmıştır. 2007 yılında da ilk kez adrese dayalı nüfus sayımı yapılmıştır.

**Cevap D**

13. Bilim insanlarının "Kızıl Gezegen" olarak isimlendirdiği ve Dünya'dan yaklaşık iki kat daha küçük olan gezegen Mars'tır. Güneş Sistemi'nin Güneş'ten itibaren dördüncü gezegeni olup Roma mitolojisindeki savaş tanrısı Mars'a ithafen adlandırılmıştır.

**Cevap D**

14. İstiklâl Madalyası, Kurtuluş Savaşı'nda yararlılık gösteren askerlere ve sivillere, o dönemde milletvekili olanlara, savaşa katılan alayların sancaklarına, Erzurum ve Sivas kongrelerine katılanlara, İstiklâl Madalyası Kanunu adlı özel bir yasaya göre verilen madalyadır. 1 Kasım 1926 tarihine kadar Türkiye Büyük Millet Meclisince verilmiş olan İstiklâl Madalyalarını, bu tarihten sonra müracaat edenlere Millî Savunma Bakanlığı vermektedir. Türkiye'de İstiklâl Madalyası sahibi üç şehir ve bir ilçe bulunmaktadır. Bunlar Kahramanmaraş, Gaziantep, Şanlıurfa ve İnebolu'dur. Gaziantep 2008 yılında İstiklâl madalyasını alırken Şanlıurfa ise 2016 yılında almıştır. Türkiye'de İstiklâl madalyasına sahip ilk il, Kahramanmaraş'tır. Kahramanmaraş, 21 Ocak 1920 – 11 Şubat 1920 arasında kurtuluş mücadelesi vererek şehri Fransız işgalinden kurtaran halkın kahramanlığı nedeniyle, 5 Nisan 1925'te kırmızı şeritli İstiklâl madalyası ile ödüllendirilmiştir. Kurtuluş Savaşı sonrasında meclisten gelen "şehirden Kurtuluş Savaşı'na katılanların bildirilmesi" şeklindeki yazı üzerine toplanan şehrin ileri gelenlerinin "Maraş'ta Millî Mücadele'ye katılmayan tek bir fert bile yoktur." cevabı üzerine TBMM, madalyayı fertlere değil, bütün şehir halkına verme kararı almıştır.

**Cevap C**