

KPSS  
2024

GENEL YETENEK  
GENEL KÜLTÜR

TÜRKÇE

TAMAMI ÇÖZÜMLÜ  
ÇIKMIŞ  
SORULAR

SON  
10  
YIL

 ÖGRETİ AKADEMİ

# ÖĞRETİ AKADEMİ

## Komisyon

### GYGK TÜRKÇE TAMAMI ÇÖZÜMLÜ ÇIKMIŞ SORULAR

ISBN 978-625-6764-51-4

Kitapta yer alan bölümlerin tüm sorumluluğu yazarlarına aittir.

Bu kitabın basım, yayım ve satış hakları Pegem Akademi Yay. Eğt. Dan. Hizm. Tic. AŞ'ye aittir. (Öğreti Akademi yayınları bir Pegem Akademi markasıdır.) Anılan kuruluşun izni alınmadan kitabın tümü ya da bölümleri, kapak tasarımı; mekanik, elektronik, fotokopi, manyetik kayıt ya da başka yöntemlerle çoğaltılamaz, basılamaz ve dağıtılamaz. Bu kitap, T.C. Kültür ve Turizm Bakanlığı bandrolü ile satılmaktadır. Okuyucularımızın bandrolü olmayan kitaplar hakkında yayınevimize bilgi vermesini ve bandrolsüz yayınları satın almamasını diliyoruz.

**1. Baskı:** 2023, Ankara

Yayın-Proje: Şewal Aksoy  
Dizgi-Grafik Tasarım: Gülnur Öcalan  
Kapak Tasarımı: Öğreti Akademi

**Baskı:** Vadi Grup Basım AŞ  
Saray Mah. 126 Cad. No: 20/A  
Kazan/ANKARA  
Tel: (0312) 802 00 53-54

Yayıncı Sertifika No: 51818  
Matbaa Sertifika No: 49180

## İletişim

Shira Ticaret Merkezi, Macun Mahallesi 204 Cad.  
No: 141/33, Yenimahalle/Ankara  
Yayınevi: 0312 430 67 50  
Dağıtım: 0312 434 54 24  
Hazırlık Kursları: 0312 419 05 60  
İnternet: [www.ogreti.com](http://www.ogreti.com)  
E-ileti: [ogreti@ogreti.com.tr](mailto:ogreti@ogreti.com.tr)  
WhatsApp Hattı: 0538 594 92 40

Değerli KPSS Adayları,

KPSS'ye hazırlanan adaylarımız KPSS'de çıkan soruları incelemek, çözmek ve kendini geliştirmek, eksiklerini fark edip tamamlamak amacıyla çalışmalarına dâhil etmektedir. Lisans mezunu adayların bu yönde yaptıkları çalışmaların başarı oranları üzerindeki olumlu etkisi göz ardı edilemeyeceğinden kitabımızda 2014-2023 yılları arasında yapılan KPSS Genel Yetenek Türkçe alanında yöneltilen tüm sorulara yer verilmiştir.

Lisans mezunu adayların geleceğe umutla bakabilmelerine, eğitimini aldıkları alanda kendilerini gerçekleştirilmelerine ve karşılarına çıkan engelleri aşmalarına yardımcı olması amacıyla hazırlanan KPSS Tamamı Çözümü Genel Yetenek-Genel Kültür Türkçe Çıkış Sorular kitabı ile sizlere faydalı olacağımızı umuyor ve hepinize başarılar diliyoruz.

**Öğreti Akademi Yayıncılık**

## İÇİNDEKİLER

2014 GYGK Türkçe Çıkmış Sorular .....	1
2015 GYGK Türkçe Çıkmış Sorular .....	14
2016 GYGK Türkçe Çıkmış Sorular .....	28
2017 GYGK Türkçe Çıkmış Sorular .....	42
2018 GYGK Türkçe Çıkmış Sorular .....	59
2019 GYGK Türkçe Çıkmış Sorular .....	74
2020 GYGK Türkçe Çıkmış Sorular .....	89
2021 GYGK Türkçe Çıkmış Sorular .....	104
2022 GYGK Türkçe Çıkmış Sorular .....	120
2023 GYGK Türkçe Çıkmış Sorular .....	138
Cevap Anahtarı .....	154

1. Bir edebiyatçı, şiir yazmayı telefon kulübesinde halay çekmeye benzetmiş. Gerçekten de bir romancınıninkine nazaran şairin işi çok daha zordur.

**Bu parçada geçen “telefon kulübesinde halay çekmek” sözüyle, şiirin anlatılmak istenen yönü aşağıdakilerden hangisidir?**

- A) Roman yazmaya tercih edildiği  
B) Az sözcükle çok şey anlatmayı gerektirdiği  
C) Dış dünyadan soyutlanmayı sağladığı  
D) Diğer türlerden daha üstün görüldüğü  
E) Farklı alanlarla etkileşim içinde olduğu

2. Bazı yerel yönetimlerin ya da sivil toplum kuruluşlarının ---- geri dönüşüm projeleri sayesinde kâğıt, plastik ve cam atıkların ---- geri dönüşüme kazandırıldığı örnekler ülkemizde ----.

**Bu cümlede boş bırakılan yerlere sırasıyla aşağıdakilerden hangileri getirilmelidir?**

- A) önyak olduğu – büyük oranda – yaygınlaşıyor  
B) başlattığı – farklı yöntemlerle – görülüyor  
C) tanıtmaya başladığı – düzenli olarak – biliniyor  
D) geliştirmeye çalıştığı – her birinin – kalıyor  
E) hazırlığını yaptığı – önemli kısmının – tanıtılıyor

3. “Bu konuyu anlatabilmem için yeterli sürem yok.” diyen bir insanın aslında o konuda yeterli bilgiye sahip olmadığı düşünülebilir.

**Aşağıdakilerden hangisi bu cümlede anlatılmak istenene anlamca en yakındır?**

- A) Bazı konuların kısa sürede anlatılması dinleyici kitlesine bağlıdır.  
B) İnsanlar, uzman olmadıkları bir konuda uzun süre konuşamazlar.  
C) Bir konuyu ayrıntılarıyla bilen insan, o konuyu kısa zamanda başkalarına aktarabilir.  
D) Anlatma becerisine sahip olmak ile bir konunun uzmanı olmak farklı şeylerdir.  
E) Konuşulan konu hakkında yetkinliği olmayan insanlar, sözü uzatırlar.

4. (I) Yalnızca bir bölgede yetişen veya yaşayan bitki ve hayvanlar, “endemik” olarak adlandırılıyor. (II) Üzerinde yaşadığımız coğrafyadaki bitki türlerinden özellikle endemik olanlar, turistik ya da bilimsel nedenlerle tüm dünyanın ilgisini çekiyor. (III) Ancak bazen yasa dışı biçimde bunlar yurt dışına kaçırılıyor. (IV) Bu türlerden biri de “ters lale” adıyla bilinen ağlayan gelinler. (V) Endemik bitkilerin topraklarından uzaklaştırılması ise onların yok olmalarına yol açıyor.

**Bu parçadaki numaralandırılmış cümlelerle ilgili olarak aşağıda verilenlerden hangisi yanlıştır?**

- A) I. cümlede, tanımlama yapılmıştır.  
B) II. cümlede, sebeplere yer verilmiştir.  
C) III. cümlede, olumsuz bir durumdan söz edilmiştir.  
D) IV. cümlede, örneklemeden yararlanılmıştır.  
E) V. cümlede, beklenmeyen bir sonuç dile getirilmiştir.

5.

- I. Ebrunun çerçevelenerek resim gibi seyirlik bir sanat eserine dönüştürülmesi, bu zorlamaya örnektir.
- II. Hâlbuki ebru, ciltçiliğin ve hat sanatının bir parçasıdır ve öyle kalmalıdır.
- III. Bu yaygınlık ve popülerleşmenin etkisiyle bazı deneysel girişimlere ve geleneğe aykırı zorlamalara da üzülerek tanık oluyoruz.
- IV. Bugün, tarihinde hiç olmadığı kadar yaygınlık kazanan ebru sanatı; çoğu sanat atölyesinde ustasından meraklısına öğretilen bir ders konusu hâline gelmiştir.
- V. Uzun bir ihmal hatta inkâr döneminin ardından ebru sanatı, geleneksel sanatlarımızın çoğu gibi yeniden dirilmiştir.

**Yukarıdaki numaralandırılmış cümleler anlamlı bir paragraf oluşturacak biçimde sıralandığında hangisi dördüncü olur?**

- A) I    B) II    C) III    D) IV    E) V

6.

- I. Toprakla temas etmeyen ve dört mevsim yeşil kalan bir bitki olan ökse otu; köknar, söğüt, çam, armut, elma, kayısı gibi ağaçların dallarında bulunur.
- II. Sarımsı yeşil renkteki ökse otları, ağaçlar yapraklarını döktüğü zaman çıplak dallarda kuş yuvası şeklindeki görünüşleriyle dikkat çeker.
- III. Meyvenin yapışkan kısmını yiyen arıdık kuşu; ökse otunun, kursağında yumuşattığı tohum kısmını dallara bırakır.
- IV. İlginç görüntüleri yanında ökse otlarının; yapışkan, zehirli bir madde içeren beyaz, yuvarlak ve nohut büyüklüğünde meyveleri vardır ama meyvenin içindeki zehir, hayvanları etkilemez.
- V. Kuşlar aracılığıyla gerçekleşen bu üreme, ökse otunu farklı kılan bir diğer özelliktir.

**Yukarıdaki numaralandırılmış cümlelerle anlamlı bir paragraf oluşturulmak istendiğinde hangilerinin yer değiştirilmesi gerekir?**

- A) I ile II    B) I ile III    C) II ile IV  
D) III ile IV    E) IV ile V



**11. Aşağıdakilerin hangisinde nesnelere bir, diğerinin açıklayıcı durumudur?**

- A) Hayatının en önemli insanını, annesini büyük bir özlemle andı.  
 B) Örgülü beyaz saçlarını, rüzgârda uçuşan şapkasını tuttu.  
 C) Acaba hiç üstü kapalı bir ev, karnını doyuracak sıcak bir aş bulamadı mı?  
 D) Her çağ kendi rüyalarını, kendi emellerini söylemiş şairlere.  
 E) Kimsesiz çocuklar için eskimiş ayak-kabılar, yamanmış giysiler topluyordu.

**12. Aşağıdakilerden hangisi sıralı cümledir?**

- A) Cam; 4.000 yılı aşkın zamandır kum, çakmak taşı ya da kuvarstan yapılmaktadır.  
 B) Arabalardaki çok katlı ön camlar, iki levhanın arasına bir plastik tabakası koyularak üretilir.  
 C) Pürüzsüz bir yüzey elde edilmesi için cam, kalay üzerinde kalınlığı her yerde eşitlenene kadar sıvı hâlde tutulur.  
 D) Vitraylar; küçük, renkli cam parçalarının kurşun şeritlerle birbirine eklenmesiyle yapılır.  
 E) Cam üfleme ustaları sıcak, erimiş cam madenini keser; içine borudan hava üfleterek şekillendirir.

**13. Oluz Höyük kazılarında bu yıl bir**

- I  
 Roma Sikkesi bulundu. Gümüşten  
 II  
 üretilmiş 1,8 cm çapında ve 3,6 gram  
 ağırlığındaki paranın önemi, Roma'da  
 III  
 basılmış olması. Yapılan ön incelemeler,  
 IV  
 gümüş sikkenin MÖ 142'de  
 V  
 bastırıldığına işaret ediyor.

**Bu parçadaki numaralandırılmış sözlerin hangisinde yazım yanlışı vardır?**

- A) I B) II C) III D) IV E) V

**14. Aşağıdakilerin hangisinde büyük harflerin kullanımıyla ilgili bir yanlışlık yapılmıştır?**

- A) Türkçenin sözcük türetme imkânları oldukça geniştir.  
 B) Mehmet Bey, konuyla ilgili görüşmeler yapmak üzere cumartesi günü İstanbul'a gidecek.  
 C) Bilge Kağan anıtındaki yazıları okumaya çalışıyor ancak pek başarılı olamıyordu.  
 D) Sabahleyin yedide yola çıkabilirsek en geç öğleden sonra ikide Tokat'tayız.  
 E) Cumhuriyet Bayramı, bütün Türkiye'de büyük bir coşkuyla kutlandı.



15. (I) Türkiye’de gazete ve televizyon haberciliği son dönemlerde önemli bir dönüşüm yaşadı. (II) Bundan 15-20 yıl öncesine kadar televizyon ve gazete haberlerinde trafik kazası, kavga, cinayet, hırsızlık gibi haberler dışında sıradan insanlara pek yer verilmiyordu. (III) Ekonomik sorunlarla boğuşan basın çalışanları, yaptıkları haberlerde kaliteden taviz vermek zorunda kalmıştı. (IV) Eğitim sistemi, vergi uygulamaları, sağlık ve ulaşım hizmetleri gibi vatandaşları doğrudan ilgilendiren konularda bile “yetkili kimseler” konuşur; konunun doğrudan muhatabı olan insanların düşüncelerine başvurulmazdı. (V) Bu tutumun gerekçesi olarak da ilgi çekici olan kişiyi bulup konuş-turmak gösterilirdi. (VI) Ancak zamanla, sıradan insanların söylediklerinin, yetkili kişilerin resmî dilin sınırları içinde söylediklerinden daha ilgi çekici olabileceği fark edildi.

**Bu parçadaki numaralandırılmış cümlelerden hangisi düşüncenin akışını bozmaktadır?**

- A) II    B) III    C) IV    D) V    E) VI

16. Sözlü kültürümüzde halk hikâyeciliği geneleği çok köklüdür. Leyla ile Mecnun’u, Kerem ile Aslı’yı duymayalım; onlardan hoşlanmayalım yoktur. Bu hikâyeleri dinlerken çoğu zaman kendimizi kahramanların yerine koyarız. Çünkü bu hikâyeler bizi anlatır. Anlatıcı, “Ben böyle se-verim.” demeye getirirse öfkeleniriz. ----.

**Bu parçanın sonuna, düşüncenin akışına göre aşağıdakilerden hangisi getirilmelidir?**

- A) Bu yüzden halk hikâyesinde anlatıcı kendini anlatmamalı, anlatsa bile gizlemelidir  
 B) Sanatçı, kendi duygularıyla izleyicisinin duyguları arasında denge kurabilmelidir  
 C) Bundan dolayı sanatçı; kendisi açısından neyin iyi, neyin güzel olduğunu açıkça belirtmelidir  
 D) Anlatıcı, gerçeği bir süzgeçten geçirerek dinleyiciye sunmalıdır  
 E) İşte bu sebeple anlatıcı, anlatırken kahramanları tazelemelidir

17. Bir meşe palamuduyla bir çakıl taşı biçim ve büyüklük bakımından birbirine benze-  
tilebilir. İkisini de bir hedefe doğru fırlatıp  
atabilirsiniz. Ne var ki meşe palamudu  
kendi içinde bir ağacı barındırır, o ağaç  
da başka ağaçlar... Çocuklara bakarken  
onların içlerinde barındırdıkları gizli gücü  
ve yetenekleri göz ardı ederseniz pala-  
mudu, çakıl taşıyla bir tutan kişi gibi olur-  
sunuz. Nitekim tarihe damgasını vurmuş  
birçok büyük insan, çocukluğunda çakıl  
taşı gibi görülmüştür.

**Bu parçadan aşağıdakilerden hangisi  
çıkarılabilir?**

- A) Yetenekli insanların, küçük yaşlarda  
fark edilmemeleri insanlık için bir ka-  
yıp olmuştur.
- B) Çocuğun taşıdığı cevheri açığa çıkara-  
rarak ona hak ettiği değeri vermek  
gerekir.
- C) İnsan, evrendeki bütün varlıklar ara-  
sında en yetenekli olanıdır.
- D) İnsanların, başarıları oranında top-  
lumda değer kazandığı açıktır.
- E) Bir toplumu oluşturan bireylerin farklı  
yeteneklere sahip olması bir tür zen-  
ginliktir.

18. Şairin yaşadığı toplumu yansıtmasının  
yalnızca tek bir yolu ve yöntemi yok. Ki-  
misi şiir estetiğinden fire vermeyi göze  
alarak sert ve köşeli bir edayla bunu ya-  
par. Kimisi de Cahit Külebi gibi, şiirden  
ödün vermeyerek sosyal içeriği güçlü  
olan “28 Nisan” ve “İkinci Cumhuriyet”  
benzeri şiirlerin de şairi olabilmıştır.

**Bu parçada aşağıdakilerin hangisi an-  
latılmak istenmiştir?**

- A) Şiirde toplumsal sorunları konu edin-  
mek şiiri özünden uzaklaştırır.
- B) Külebi'nin şiirlerindeki ustalık, şiirleri-  
nin örnek alınmasını sağlamıştır.
- C) Şiir tarzı, hiçbir zaman sadece bir  
yöntemle sınırlı kalmamıştır.
- D) Şiirle topluma tanklık etmek, şiiri za-  
yıflatmadığında değerlidir.
- E) Külebi, şiirde şairlerin seçmediği bir  
anlatım yoluna gitmiştir.

19. Arkeolojik, antropolojik ve jeolojik ara-  
tırmalarda elde edilen nesnelerin yaşını  
belirlemek için yapılan çalışmaya “ta-  
rihlendirme” adı verilir. Temelde iki tür  
tarihlendirme vardır. İlki, bir bilgiyi diğer  
bir bilgi ile kıyaslayarak yapılan tarihlen-  
dirmedi ki buna “göreceli tarihlendirme”  
denir. İkincisi ise numunenin fiziksel ve  
kimyasal özelliklerini kullanarak yapılan  
tarihlendirmedi ve buna da “mutlak ta-  
rihlendirme” adı verilir. İkinci yöntemdeki  
tarihlendirme, somut verilere dayandığın-  
dan ilkinde göre daha güvenilirdir.

**Bu parçada tarihlendirme ile ilgili ola-  
rak aşağıdakilerden hangisine değinil-  
memiştir?**

- A) Farklı bilim dallarınca ve farklı yön-  
temlerle kullanıldığına
- B) Bazı çalışmalarda ulaşılan sonuçların  
kesinlik taşıdığına
- C) Mutlak tarihlendirmede fen bilimler-  
den yararlanıldığına
- D) Sonuçlara örneklerin incelenmesiyle  
ulaşıldığına
- E) Karşılaştırmalı çalışmaların güvenilirli-  
ği artırdığına

**20. - 21. soruları aşağıdaki parçaya göre cevaplayınız.**

Bugünün kültür dünyasına gürültülü ve içi boş bir kalabalık hâkim. Kişinin kendi sesini bile duyamadığı böyle bir ortamda kalıcı bir yer edinmek oldukça zor. Kültür, hızlı ve yoğun akıntıların buluşup çarpıştığı bir deniz gibi. Her yer taşkın, her yer sel altındayken sırtında su taşıyan bir kültür gönüllüsü olmak da anlamını yitiriyor.

**20. Bu parçanın yazarı aşağıdakilerin hangisinden yakınmaktadır?**

- A) Kültür insanlarının geçmişte yaşadıkları sıkıntılardan
- B) Kültürel etkinliklerin fazlalığının, takipçileri zor durumda bırakmasından
- C) Kültür alanındaki niteliğin, nicelle ters orantılı şekilde azalmasından
- D) Günümüzdeki kültür insanlarının yetersiz çalışmalarından
- E) Bilgi kirliliğinin, kültür üzerindeki olumsuz etkilerinden

**21. Bu parçada geçen “kendi sesini duymamak” sözüyle anlatılmak istenen aşağıdakilerden hangisidir?**

- A) Kültür insanlarının, ürünlerini geniş kitlelere ulaştıramamaları
- B) Belli bir kültürel çevreye ait olmamanın sanatçıyı zor duruma düşürmesi
- C) Toplumun, kültür insanlarına hak ettikleri saygıyı göstermemesi
- D) Kültürel eserlerin inceliklerini anlayanların azınlıkta kalması
- E) Kültürle uğraşanların, çoğunluğun içerisinde kendini ifade edememeleri

**22. - 23. soruları aşağıdaki parçaya göre cevaplayınız.**

Eskiden edebiyata yansiyacak denli hızlı yaşanmıyordu toplumsal değişimler. Bence Türk edebiyatında Divan edebiyatı öğelerinin yüzlerce yıl etkisini sürdürmesi bu yüzdendi mesela. Son dönemlerde hızlanan sosyoekonomik gelişmelerle birlikte değişen koşulları yansıtan edebiyat eserleri, eskisinden çok daha kısa bir zaman içerisinde birbirini izlemeye başladı. Günümüzdeyse bir edebiyat akımı oluşturmaya yetmeyecek denli hızlı akmaktadır zaman. Artık yazarları, bir edebiyat akımının özellikleri altında toplamanın zor olduğu bir döneme girdik. Edebiyat akımlarından değil de olsa olsa bireysel üslaplardan söz edebiliriz çağımızda.

**22. Bu parçadan aşağıdakilerden hangisine ulaşılamaz?**

- A) Çoğu edebî eserde artık tarihi konular işlenmeye başlanmıştır.
- B) Toplumsal nitelikli edebî eser ortaya koymada geçmişe oranla artış gözlenmiştir.
- C) Son dönemlerde yazarların özgünlüğünde anlatımları belirleyici olmaktadır.
- D) Edebiyat akımından söz edilmesi, edebiyatçılar arasındaki ortaklıklara bağlıdır.
- E) Geçmişte edebiyatı, bireylerde ortak olan nitelikler yönlendirmiştir.

**23. Bu parçanın anlatımıyla ilgili olarak aşağıdakilerin hangisi söylenemez?**

- A) Devrik cümlelerden yararlanılmıştır.
- B) Tanık göstermeye başvurulmuştur.
- C) Özne yargılara yer verilmiştir.
- D) Örnek kullanılmıştır.
- E) Karşılaştırma yapılmıştır.

24. - 26. soruları aşağıdaki parçaya göre cevaplayınız.

Tankların tarihi, I. Dünya Savaşı'na dayanıyor. Tarihi kayıtlara göre ilk olarak Eylül 1916'da İngiliz ordusu tarafından kullanılmaya başlandı. Çeşitli kaynaklara göre, bu paletli ve zırlı savaş aracına "tank" adı, üretiminden hiç kimsenin haberdar olmasını istemeyen İngiliz ordu yetkilileri tarafından bilinçli olarak verilmiştir. Söz konusu aracın yapımında çalışan İngiliz işçilere bile ürettiklerinin sadece paletli su depoları olduğu söyleniyor. Kısa sürede I. Dünya Savaşı'nın önemli unsurlarından biri hâline gelen tanklar, aynı zamanda siper savaşı taktiğini de tarihin derinliklerine gömerek ordular hareketli savunma düzenine geçmeye zorluyor ve klasik süvari görevlerini üstlenmeye başlıyor. Sonraki yıllarda İngiliz ordusunun yanı sıra özellikle Alman, Fransız, Rus orduları ve ABD tarafından da geliştirilen zırlı araçlar ve buna dayalı savaş tarzı; geçerliliğini günümüzde de koruyan ana muharebe tanklarının, II. Dünya Savaşı'nın güçlü aktörlerinden biri olmasını sağlıyor. Tanklar, ilk defa II. Dünya Savaşı sırasında Alman orduları tarafından ana silah olarak kullanılmaya başlanıyor.

24. Bu parçaya göre tanklarla ilgili olarak aşağıdakilerden hangisi söylenebilir?

- A) I. Dünya Savaşı'nın sonuçlanmasında etkili oldukları
- B) İlk önce paletli su depoları olarak planlandıkları
- C) En iyilerinin İngiltere tarafından ürettiği
- D) Yaygınlaşmasında I. Dünya Savaşı'ndaki performansının belirleyici olduğu
- E) II. Dünya Savaşı'ndan sonra kullanımının bırakılmaya başlandığı

25. Bu parçada tanklarla ilgili olarak aşağıdakilerden hangisine değinilmemiştir?

- A) İsminin verilmiş biçimindeki tutuma
- B) Geçmişinin ne zamana uzandığına
- C) Üretimine gizli olarak başlandığına
- D) Öneminin artmasını sağlayan nedenlere
- E) Yerine geçtiği savaş aracına

26. Bu parçaya göre tankların, ana muharebe aracı hâline gelmesinde aşağıdakilerden hangisi etkili değildir?

- A) Atlı birliklerin görevlerini yapması
- B) Savaş biçimini değiştirmesi
- C) Uluslararası savaşlara neden olması
- D) Siperleri etkisizleştirmesi
- E) Zırlı araçların yaygınlaşması

**27. - 30. soruları aşağıdaki bilgilere göre birbirinden bağımsız olarak cevaplayınız.**

Bir öğle yemeğinde et, tavuk ve balık yemeklerinin tam veya yarım porsiyonlarından (her bir yemeğin tam ve yarım porsiyonlarından en az bir kere sipariş edilmek koşuluyla) sipariş eden Ahmet, Burcu, Cemre, Deniz, Emre, Fatih, Gizem ve Hakan'a ilişkin kimi bilgiler şu şekildedir:

- Tam ve yarım porsiyon yemek sipariş eden kişi sayısı birbirine eşittir.
- Burcu ile Emre, farklı porsiyonlarda et yemeği sipariş etmişlerdir.
- Deniz ile Gizem, yarım porsiyon yemek sipariş etmişlerdir.
- Balık sipariş eden iki kişiden biri Cemre'dir.
- Ahmet, yarım porsiyon tavuk sipariş eden tek kişidir.
- Fatih ile Burcu, aynı porsiyonda aynı yemeği sipariş etmişlerdir.

27.

- I. Cemre
- II. Hakan
- III. Emre

**Yukarıdaki kişilerden hangileri tam porsiyon yemek sipariş etmişlerdir?**

- A) Yalnız I B) Yalnız II C) I ve II
- D) II ve III E) I, II ve III

28.

- I. Deniz
- II. Gizem
- III. Hakan

**Yukarıdaki kişilerden hangileri balık yemeği sipariş etmiş olabilir?**

- A) Yalnız I B) I ve II C) I ve III
- D) II ve III E) I, II ve III

**29. Aşağıdaki ifadelerden hangisi kesinlikle doğrudur?**

- A) Hakan, yarım porsiyon yemek sipariş etmiştir.
- B) Emre, tam porsiyon yemek sipariş etmiştir.
- C) Gizem, balık yemeği sipariş etmiştir.
- D) Cemre, tam porsiyon yemek sipariş etmiştir.
- E) Burcu, yarım porsiyon yemek sipariş etmiştir.

**30. Deniz'in et yemeği sipariş ettiği biliniyorsa aşağıdaki ifadelerden hangisi kesinlikle doğrudur?**

- A) Balık sipariş eden kişilerden biri Gizem'dir.
- B) Fatih, yarım porsiyon yemek sipariş etmiştir.
- C) Et yemeği sipariş eden toplam üç kişi bulunmaktadır.
- D) Burcu ile Deniz, aynı porsiyonda yemek sipariş etmişlerdir.
- E) Hakan ile Cemre, farklı porsiyonlarda yemek sipariş etmişlerdir.

1. Romanda sözcük sınırı yoktur, dolayısıyla yazar anlatmak istediğini dilediği kadar sözcük kullanarak anlatabilir. Fakat şiirin uzunluğu sınırlıdır. Şair sınırlı sayıda kelimeyle, yani az sözle çok şey anlatmak zorundadır. Bu karşılaştırma soruda telefon kulübesinde halay çekmek benzetmesiyle anlatılmıştır.

**Cevap B**

2. Parçada bazı sivil toplum kuruluşlarının girişimleri ve bu girişimlerde başı çektikleri, yani önyak oldukları ifade edilmiştir. Dolayısıyla A seçeneğindeki “önyak olmak” deyimini parçadaki vurguyu en iyi şekilde karşılar. Söz konusu girişimlerin başarılı sonuçlar vermesi de A seçeneğindeki “büyük oranda” ifadesinin boşluğa uygun olduğunu göstermektedir.

**Cevap A**

3. Verilen cümlede yeterli bilgiye sahip olunmadığı zaman konunun uzun sürede anlatılabileceği vurgulanmıştır. Dolayısıyla bir konuyu ayrıntılarıyla bilen insanın o konuyu kısa sürede anlatabileceği düşünülebilir.

**Cevap C**

4. V. cümlede yasa dışı yoldan yurt dışına çıkarılan endemik bitkilerin yok olduğundan söz edilse de bu sonucun beklenmediğini bildiren bir ifadeye yer verilmiştir.

**Cevap E**

5. Verilen cümlelerin anlamlı bir bütün oluşturacak sıralaması V - IV - III - I - II şeklindedir.

**Cevap A**

6. IV. cümledeki “ilginç görüntüleri yanında” ifadesi bu cümlenin II. cümledeki “görünümleriyle dikkat çeker” ifadesinden sonra gelmesi gerektiğini göstermektedir. Bunu sağlayacak değişiklik de III ve IV değişikliğidir.

**Cevap D**

7. III numaralı “uzak bir yer” tamlaması, sıfat tamlamasıdır. Diğer tamlamalar ise belirtisiz isim tamlamasıdır.

<u>uzak</u>	<u>bir</u>	<u>yer</u>
niteleme	belgisiz	isim
sıfatı	sıfat	

**Cevap C**

8. Bildirme eki (-dir), A, C, D ve E seçeneklerindeki “tilkidir, yumaktır yanıktır, şifasızdır, neferdir, yoldaşımdır” sözcüklerinde geniş zaman ek fiili olarak kullanılmış, yani çekim eki olmuştur. B seçeneğinde ise “yıllardır” sözcüğünde yapım eki kullanılmıştır.

**Cevap B**

KPSS  
2024

GENEL YETENEK  
GENEL KÜLTÜR

# MATEMATİK

TAMAMI ÇÖZÜMLÜ  
ÇIKMIŞ  
SORULAR

SON  
10  
YIL

 ÖGRETİ AKADEMİ

# ÖĞRETİ AKADEMİ

## Komisyon

### GYGK MATEMATİK TAMAMI ÇÖZÜMLÜ ÇIKMIŞ SORULAR

ISBN 978-625-6764-54-5

Kitapta yer alan bölümlerin tüm sorumluluğu yazarlarına aittir.

Bu kitabın basım, yayım ve satış hakları Pegem Akademi Yay. Eğt. Dan. Hizm. Tic. AŞ'ye aittir. (Öğreti Akademi yayınları bir Pegem Akademi markasıdır.) Anılan kuruluşun izni alınmadan kitabın tümü ya da bölümleri, kapak tasarımı; mekanik, elektronik, fotokopi, manyetik kayıt ya da başka yöntemlerle çoğaltılamaz, basılamaz ve dağıtılamaz. Bu kitap, T.C. Kültür ve Turizm Bakanlığı bandrolü ile satılmaktadır. Okuyucularımızın bandrolü olmayan kitaplar hakkında yayınevimize bilgi vermesini ve bandrolsüz yayınları satın almamasını diliyoruz.

**1. Baskı:** 2023, Ankara

Yayın-Proje: Şewal Aksoy  
Dizgi-Grafik Tasarım: Gülnur Öcalan  
Kapak Tasarımı: Öğreti Akademi

**Baskı:** Vadi Grup Basım AŞ  
Saray Mah. 126 Cad. No: 20/A  
Kazan/ANKARA  
Tel: (0312) 802 00 53-54

Yayıncı Sertifika No: 51818  
Matbaa Sertifika No: 49180

## İletişim

Shira Ticaret Merkezi, Macun Mahallesi 204 Cad.  
No: 141/33, Yenimahalle/Ankara  
Yayınevi: 0312 430 67 50  
Dağıtım: 0312 434 54 24  
Hazırlık Kursları: 0312 419 05 60  
İnternet: [www.ogreti.com](http://www.ogreti.com)  
E-ileti: [ogreti@ogreti.com.tr](mailto:ogreti@ogreti.com.tr)  
WhatsApp Hattı: 0538 594 92 40



Değerli KPSS Adayları,

KPSS'ye hazırlanan adaylarımız KPSS'de çıkan soruları incelemek, çözmek ve kendini geliştirmek, eksiklerini fark edip tamamlamak amacıyla çalışmalarına dâhil etmektedir. Lisans mezunu adayların bu yönde yaptıkları çalışmaların başarı oranları üzerindeki olumlu etkisi göz ardı edilemeyeceğinden kitabımızda 2014-2023 yılları arasında yapılan KPSS Genel Yetenek Matematik alanında yöneltilen tüm sorulara yer verilmiştir.

Lisans mezunu adayların geleceğe umutla bakabilmelerine, eğitimini aldıkları alanda kendilerini gerçekleştirmelerine ve karşılarına çıkan engelleri aşmalarına yardımcı olması amacıyla hazırlanan KPSS Tamamı Çözümlü Genel Yetenek-Genel Kültür Matematik Çıkmış Sorular kitabı ile sizlere faydalı olacağımızı umuyor ve hepinize başarılar diliyoruz.

**Öğreti Akademi Yayıncılık**

## İÇİNDEKİLER

2014 GYGK Matematik Çıkımiş Sorular .....	1
2015 GYGK Matematik Çıkımiş Sorular .....	12
2016 GYGK Matematik Çıkımiş Sorular .....	23
2017 GYGK Matematik Çıkımiş Sorular .....	36
2018 GYGK Matematik Çıkımiş Sorular .....	49
2019 GYGK Matematik Çıkımiş Sorular .....	64
2020 GYGK Matematik Çıkımiş Sorular .....	79
2021 GYGK Matematik Çıkımiş Sorular .....	91
2022 GYGK Matematik Çıkımiş Sorular .....	104
2023 GYGK Matematik Çıkımiş Sorular .....	118
Cevap Anahtarı .....	131

$$1. \frac{1+3^{-1}+5^{-1}}{2^{-1}+4^{-1}+6^{-1}}$$

işleminin sonucu kaçtır?

- A)  $\frac{92}{55}$  B)  $\frac{86}{55}$  C)  $\frac{84}{55}$  D)  $\frac{94}{55}$  E)  $\frac{96}{55}$

$$2. \frac{0,4-0,08}{1-\sqrt[3]{0,008}}$$

işleminin sonucu kaçtır?

- A)  $\frac{1}{5}$  B)  $\frac{2}{5}$  C)  $\frac{3}{5}$  D)  $\frac{4}{5}$  E) 1

$$3. (4\sqrt{8})^{3x} = \frac{8^x}{32}$$

olduğuna göre, x kaçtır?

- A)  $\frac{1}{3}$  B)  $\frac{3}{4}$  C)  $\frac{2}{5}$   
D)  $\frac{-1}{2}$  E)  $\frac{-2}{3}$

$$4. |\sqrt{3}-2|+|1-\sqrt{2}|+|\sqrt{3}-\sqrt{2}|$$

işleminin sonucu kaçtır?

- A)  $\sqrt{2}$  B)  $\sqrt{3}$  C)  $2\sqrt{3}$  D) 1 E) 3

$$5. \frac{x-2}{x^2+x} \cdot \left( x - \frac{3x^2}{x^2-4} \right)$$

ifadesinin sadeleştirilmiş biçimi aşağıdakilerden hangisidir?

- A)  $\frac{x-4}{x+2}$  B)  $\frac{x-1}{x+2}$  C)  $\frac{x+1}{x+2}$   
D)  $\frac{x}{x-2}$  E)  $\frac{x+4}{x-2}$

6. Gerçek sayılar kümesi üzerinde  $\odot$  işlemi

$$x \odot y = x^2 + y^2$$

biçiminde tanımlanıyor.

Buna göre,

$$3 \odot a = b \odot 5$$

$$a + b = 2$$

eşitliklerini sağlayan a ve b değerleri için a - b farkı kaçtır?

- A) 2 B) 4 C) 8 D)  $\frac{1}{2}$  E)  $\frac{1}{4}$

7. X ve Y kümelerinin simetrik farkı  
 $X\Delta Y = (X\setminus Y) \cup (Y\setminus X)$   
 biçiminde tanımlanır.  
**Buna göre, boş kümeden ve birbirinden farklı K, L kümeleri için**  
 $[K\setminus(K\Delta L)] \cup [(K\Delta L) \cap L]$   
 ifadesi aşağıdakilerden hangisine eşittir?

- A) K                      B) L                      C)  $\emptyset$   
 D)  $K \cap L$               E)  $K \cup L$

8. Üç basamaklı ABC doğal sayısı iki basamaklı BC doğal sayısının 21 katına eşittir.  
**Buna göre, bu koşula uyan en büyük ABC sayısının rakamları toplamı kaçtır?**

- A) 15    B) 16    C) 17    D) 18    E) 19

9. x ve y pozitif tam sayılar olmak üzere,  
 $xy + 3y = 12$   
 eşitliğini sağlayan x değerlerinin toplamı kaçtır?

- A) 9    B) 11    C) 13    D) 15    E) 17

10.  $24^x = 5$  olduğuna göre,

$$\frac{2^{x+2} \cdot 3^{x+3}}{4^{1-x}}$$

ifadesinin değeri kaçtır?

- A) 80    B) 90    C) 120    D) 125    E) 135

- 11.

$$a - b < 0$$

$$\frac{a}{b} < c$$

$$b \cdot c^2 < 0$$

eşitsizliklerini sağlayan a, b ve c gerçel sayıları için aşağıdakilerden hangisi doğrudur?

- A)  $\frac{ab}{c} < 0$     B)  $abc < 0$     C)  $\frac{a}{b-c} < 0$

D)  $\frac{a+b}{c} < 0$     E)  $ab + c < 0$

12. a, b gerçel sayılar ve

$$f(x) = \frac{ax + b}{2}$$

$$f(0) = 2$$

$$f(f(0)) = 6$$

olduğuna göre,  $f(8)$  kaçtır?

- A) 10 B) 12 C) 14 D) 16 E) 18

13. Bir pazarcı elindeki patateslerin  $\frac{1}{3}$ 'ünü 4 kilogramı 3 TL'den, kalanları ise 3 kilogramı 2 TL'den satıp toplam 500 TL elde ediyor.

**Buna göre, pazarcı kaç kilogram patates satmıştır?**

- A) 720 B) 735 C) 750 D) 765 E) 780

14. Bir yıl önce 300 gram ekmek 60 kuruşa satılırken bugün 250 gram ekmek 60 kuruşa satılmaktadır.

**Buna göre, ekmeğin gram fiyatı bir yıl öncesine göre yüzde kaç artmıştır?**

- A) 15 B) 20 C) 25 D) 32 E) 3

15. Ardışık 8 tam sayının ilk 5'i ile son 3'ünün toplamı eşittir.

**Buna göre, sayıların en küçüğü ile en büyüğünün toplamı kaçtır?**

- A) 11 B) 13 C) 15 D) 17 E) 19

16. Başak, girdiği sınavda başarılı olabilmek için tüm soruların en az % 80'ini doğru cevaplamalıdır. Bu sınavda başarılı olan Başak, ilk 15 sorunun 8'ini doğru cevaplamıştır.

**Buna göre, sınavda en az kaç soru sorulmuştur?**

- A) 32 B) 35 C) 38 D) 40 E) 42

17. Kiraz ve elma ağaçlarının dikili olduğu bir bahçede toplam 50 adet ağaç vardır. Kiraz ağaçlarının ortalama 8 kg, elma ağaçlarının ise ortalama 15 kg meyve verdiği bir yılda bu bahçeden toplam 610 kg ürün alınmıştır.

**Buna göre, bahçedeki elma ağaçlarının sayısı kiraz ağaçlarının sayısından kaç fazladır?**

- A) 5 B) 8 C) 10 D) 12 E) 15

18. İstanbul yerel saati, Londra yerel saati-ne göre 120 dakika ileridir. İstanbul'dan çarşamba günü yerel saatle 13.30'da yola çıkan bir kişi Londra'ya aynı gün yerel saatle 15.00'da varmıştır. Bu kişinin Londra'dan İstanbul'a dönüş yolculuğu ise 30 dakika daha kısa sürmüştür.

**Bu kişi, Londra'dan perşembe günü yerel saatle 20.15'te ayrıldığına göre, İstanbul'a yerel saatle ne zaman ulaşmıştır?**

- A) Perşembe, 23.15  
B) Cuma, 00.15  
C) Cuma, 01.45  
D) Perşembe, 23.45  
E) Cuma, 01.15

19. Bir evde, enerji tüketimleri eşit olan 6 ampul 10 saatte 3 kilovat enerji tüketiyor. Bu ampuller % 20 daha az enerji tüketen tasarruflu ampullerle değiştiriliyor.

**Buna göre, evdeki 4 tasarruflu ampul 25 saatte kaç kilovat enerji tüketir?**

- A) 1 B) 2 C) 3 D) 4 E) 5

20. Bir kutuda 1'den 7'ye kadar numaralanmış yedi adet kart bulunmaktadır. Cihan, bu kutudan üç kart seçtikten sonra Sercan, kalan kartlardan ikisini seçiyor. Cihan, seçtiği kartlara bakarak "Sercan'ın seçmiş olduğu kartların numaralarının toplamı kesinlikle çifttir." diyor.

**Buna göre, Cihan'ın seçmiş olduğu kartların numaralarının toplamı kaçtır?**

- A) 6 B) 7 C) 9 D) 12 E) 15

21. Bir hava yolu şirketi, yolcularına bagaj ağırlığı için kişi başı bir sınır koymuştur. Ağırlığı bu sınıra kadar olan bagajları ücretsiz taşıyan şirket, sınırı aşan yolculardan ise aşılın her bir kilogram için ücret almaktadır.

Bu şirket ile seyahat eden;

- bir kişi 60 kilogram ağırlığındaki bagajı için 105 TL,
- her ikisinin de bagaj ağırlığı sınırı geçen ve bagaj ağırlıklarının toplamı 60 kilogram olan iki kişi toplam 30 TL

ücret ödemiştir.

**Buna göre şirketin, bagaj ağırlığı için koyduğu sınır kaç kilogramdır?**

- A) 10 B) 15 C) 20 D) 25 E) 30

22. Hilesiz bir zar 3 defa atıldığında zarın üst yüzüne gelen sayıların toplamının 16 olma olasılığı kaçtır?

- A)  $\frac{1}{9}$  B)  $\frac{1}{12}$  C)  $\frac{1}{18}$  D)  $\frac{1}{24}$  E)  $\frac{1}{36}$

**23. - 24. soruları aşağıdaki bilgilere göre birbirinden bağımsız olarak cevaplayınız.**

Bir çocuk kırmızı, mavi ve beyaz renkli özdeş küpler kullanarak aşağıda tarif edilen biçimde bir yapı oluşturuyor.

- 75 küpü yan yana dizerek birinci katı oluşturuyor. Birinci katın üzerine yan yana 73 küp koyarak ikinci katı, ikinci katın üzerine yan yana 67 küp koyarak üçüncü katı ve bundan sonraki her katta bir önceki katta kullandığı küp sayısından 6 tane daha az küp kullanarak diğer katları oluşturuyor.
- Birinci katta kırmızı, ikinci katta mavi, üçüncü katta beyaz küpler kullanıyor ve üstteki diğer katlarda da aynı renk düzenini tekrar ediyor.

**23. Bu yapının onuncu katında kaç küp vardır?**

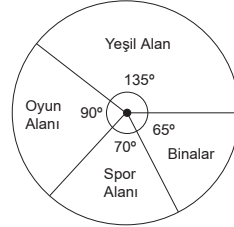
- A) 19 B) 22 C) 25 D) 28 E) 31

**24. Bu çocuk mümkün olan en çok katlı yapıyı oluşturduğuna göre, toplam kaç mavi renkli küp kullanmıştır?**

- A) 181 B) 183 C) 185 D) 187 E) 189

**25. - 26. soruları aşağıdaki bilgilere göre birbirinden bağımsız olarak cevaplayınız.**

Bir okul arazisinin alan dağılımı aşağıdaki dairesel grafikte gösterilmiştir.



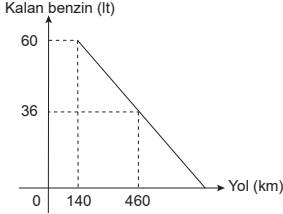
**25. Bu okul arazisinde yeşil alan için ayrılan bölge, oyun alanı için ayrılan bölgeden  $720 \text{ m}^2$  daha büyük olduğuna göre, spor alanı için ayrılan bölge kaç  $\text{m}^2$ 'dir?**

- A) 960 B) 1080 C) 1120  
D) 1200 E) 1240

**26. Spor alanının  $\frac{1}{10}$ 'u ve oyun alanının  $\frac{2}{5}$ 'i kullanılarak kapalı spor salonu binası yapıldığında; binaların toplam alanı, okul arazisinin yüzde kaçını oluşturur?**

- A) 25 B) 30 C) 35 D) 40 E) 45

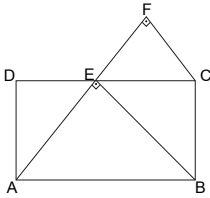
27. Bir aracın aldığı yola bağlı olarak deposunda kalan benzin miktarı aşağıdaki doğrusal grafikte verilmiştir.



**Bu araç, deposundaki 60 litre benzinle kaç km yol alır?**

- A) 800 B) 760 C) 720 D) 680 E) 640

28.



ABCD bir dikdörtgen

$$2|DE| = |EC|$$

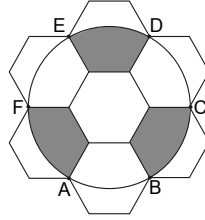
$$[AE] \perp [EB]$$

$$[AF] \perp [EF]$$

**Yukarıdaki verilere göre,  $\frac{|EB|}{|FC|}$  oranı kaçtır?**

- A)  $\frac{3}{2}$  B)  $\frac{4\sqrt{2}}{3}$  C)  $\frac{5}{4}$   
D)  $\sqrt{5}$  E)  $\sqrt{6}$

29.

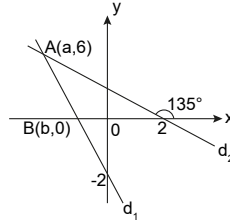


Kenar uzunluğu 1 birim olan yedi tane düzgün altıgen şekildeki gibi birleştiriliyor. A, B, C, D, E ve F noktalarından geçen çember çiziliyor.

**Buna göre, boyalı alanların toplamı kaç birim karedir?**

- A)  $2\pi - \frac{\sqrt{3}}{4}$  B)  $2\pi - \frac{3\sqrt{3}}{4}$  C)  $\pi - \frac{3\sqrt{3}}{4}$   
D)  $2\pi - \frac{\sqrt{3}}{2}$  E)  $\pi - \frac{\sqrt{3}}{2}$

30.



Dik koordinat düzleminde verilen  $d_1$  ve  $d_2$  doğruları  $A(a, 6)$  noktasında kesişmektedir.

**$d_1$  doğrusu x-eksenini  $B(b, 0)$  noktasında kestiğine göre,  $a + b$  toplamı kaçtır?**

- A) -5 B) -4 C) -3  
D)  $-\frac{9}{2}$  E)  $-\frac{7}{2}$



1. Negatif kuvvetleri sayılar ters çevrilip düzenlenirse,

$$\begin{aligned} 1 + \frac{1}{3} + \frac{1}{5} &= \frac{15 + 5 + 3}{15} \\ \frac{1}{2} + \frac{1}{4} + \frac{1}{6} &= \frac{6 + 3 + 2}{12} \\ &= \frac{23}{155} \cdot \frac{12^4}{11} = \frac{92}{55} \text{ bulunur.} \end{aligned}$$

**Cevap A**

2. Kök içindeki ondalık sayı kök dışına çıkartılıp işlem yapılırsa,

$$\begin{aligned} \frac{0,4 - 0,08}{1 - \sqrt[3]{0,008}} &= \frac{0,32}{1 - \sqrt[3]{(0,2)^3}} = \frac{0,32}{1 - 0,2} \\ &= \frac{0,32}{0,8} = \frac{32}{80} = \frac{2}{5} \text{ bulunur.} \end{aligned}$$

**Cevap B**

3. Köklü sayılar üslü sayıya çevrilip tabanları düzenlenirse,

$$\begin{aligned} (2^2 \cdot \sqrt{2^3})^{3x} &= \frac{(2^3)^x}{2^5} \Rightarrow (2^2 \cdot 2^{\frac{3}{2}})^{3x} = 2^{3x-5} \\ &\Rightarrow \left(2^{\frac{7}{2}}\right)^{3x} = 2^{3x-5} \\ &\Rightarrow 2^{\frac{21x}{2}} = 2^{3x-5} \\ &\Rightarrow \frac{21x}{2} = 3x - 5 \\ &\Rightarrow 21x = 6x - 10 \\ &\Rightarrow 15x = -10 \\ &\Rightarrow x = -\frac{2}{3} \text{ bulunur.} \end{aligned}$$

**Cevap E**

4.  $\sqrt{3} - 2 < 0$ ,  $1 - \sqrt{2} < 0$  ve  $\sqrt{3} - \sqrt{2} > 0$  olduğundan pozitif olan sayılar mutlak değer dışına olduğu gibi, negatif olan sayılar mutlak değer dışına "-" ile çarpılarak çıkarılırsa,

$$\begin{aligned} |\sqrt{3} - 2| + |1 - \sqrt{2}| + |\sqrt{3} - \sqrt{2}| \\ = -\sqrt{3} + 2 - 1 + \sqrt{2} + \sqrt{3} - \sqrt{2} \\ = 1 \text{ bulunur.} \end{aligned}$$

**Cevap D**

5. Parantez içinde verilen ifadenin paydası eşitlenip düzenlenirse,

$$\begin{aligned} \frac{x-2}{x^2+x} \cdot \left( \frac{x^3-4x-3x^2}{x^2-4} \right) \\ = \frac{\cancel{x-2} \cdot x(x^3-3x-4)}{x(x+1) \cdot (x-2)(x+2)} \\ = \frac{(x-4)(\cancel{x+1})}{(\cancel{x+1})(x+2)} \\ = \frac{x-4}{x+2} \text{ bulunur.} \end{aligned}$$

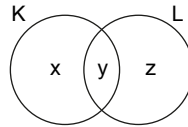
**Cevap A**

6. Verilen tanıma göre,

$$\begin{aligned} 3 \odot a = b \odot 5 &\Rightarrow 3^2 + a^2 = b^2 + 5^2 \\ &\Rightarrow a^2 + 9 = b^2 + 25 \\ &\Rightarrow a^2 - b^2 = 16 \\ &\Rightarrow (a+b)(a-b) = 16 \\ &\Rightarrow 2 \cdot (a-b) = 16 \\ &\Rightarrow a-b = 8 \text{ bulunur.} \end{aligned}$$

**Cevap C**

7. K ile L kümeleri aşağıdaki gibi tanımlanırsa,



$$\begin{aligned} K &= \{x, y\} \text{ ve } L = \{y, z\} \text{ ise} \\ K \Delta L &= (K \setminus L) \cup (L \setminus K) = \{x\} \cup \{z\} \\ &= \{x, z\} \text{ olur.} \end{aligned}$$

Böylece

$$\begin{aligned} K \setminus (K \Delta L) &= \{x, y\} \setminus \{x, z\} = \{y\} \\ (K \Delta L) \cap L &= \{x, z\} \cap \{y, z\} = \{z\} \\ (K \setminus (K \Delta L)) \cup ((K \Delta L) \cap L) &= \{y\} \cup \{z\} \\ &= \{y, z\} = L \end{aligned}$$

kümesi olur.

**Cevap B**

8.  $ABC = 21 \cdot (BC)$  eşitliği yazılır. Bu eşitlik sayılar çözümlenirse,

$$100A + BC = 21(BC)$$

$$\Rightarrow 100A = 20(BC)$$

$$\Rightarrow 5A = BC$$

$$\Rightarrow A = 9, BC = 45 \text{ olur.}$$

Böylece en büyük ABC sayısı 945 ve bu sayının rakamları toplamı  $9 + 4 + 5 = 18$  bulunur.

**Cevap D**

9. Verilen ifade ortak paranteze alınıp düzenlenirse,

$$xy + 3y = 12 \Rightarrow y(x + 3) = 12$$

$$\Rightarrow y = \frac{12}{x+3} \text{ olur.}$$

$$x + 3 = 1 \Rightarrow x = -2 \notin \mathbb{Z}^+$$

$$x + 3 = 2 \Rightarrow x = -1 \notin \mathbb{Z}^+$$

$$x + 3 = 3 \Rightarrow x = 0 \notin \mathbb{Z}^+$$

$$x + 3 = 4 \Rightarrow x = 1$$

$$x + 3 = 6 \Rightarrow x = 3$$

$$x + 3 = 12 \Rightarrow x = 9$$

Böylece eşitliği sağlayan x değerlerinin toplamı  $1 + 3 + 9 = 13$  bulunur.

**Cevap C**

10. Eşitlikte verilen sayıların kuvvetleri parçalanıp düzenlenirse,

$$\frac{2^x \cdot 2^2 \cdot 3^x \cdot 3^3}{4^1 \cdot 4^{-x}} = 2^x \cdot 3^x \cdot 4^x \cdot 27^{-1}$$

$$= (2 \cdot 3 \cdot 4)^x \cdot 27$$

$$= 24^x \cdot 27$$

$$= 5 \cdot 27$$

$$= 135 \text{ bulunur.}$$

**Cevap E**

11.  $c^2 > 0$  de  $b \cdot c^2 < 0$  olduğundan  $b < 0$  olur.

$b < 0$  ve  $a - b < 0 \Rightarrow a < b$  olduğundan  $a < 0, b < 0$  ve  $\frac{a}{b} < c$  olduğundan  $c > 0$  olur.

Seçenekler incelenirse,

$$A) \frac{a \cdot b}{c} = \frac{(-)(-)}{(+)} = + \text{ yanlış}$$

$$B) a \cdot b \cdot c = (-)(-)(+) = + \text{ yanlış}$$

$$C) \frac{a}{b \cdot c} = \frac{-}{(-) \cdot (+)} = \frac{-}{-} = + \text{ yanlış}$$

$$D) \frac{a+b}{c} = \frac{(-)+(-)}{(+)} = \frac{(-)}{(+)} = - \text{ doğru}$$

$$E) a \cdot b + c = (-) \cdot (-) + (+) = (+) + (+) = + \text{ yanlış}$$

yanlış

Böylece D seçeneğinde verilen ifade doğrudur.

**Cevap D**

$$12. f(0) = \frac{a \cdot 0 + b}{2} \Rightarrow 2 = \frac{b}{2} \Rightarrow b = 4$$

$$f(f(0)) = 6 \Rightarrow f(2) = 6 \Rightarrow \frac{2a + b}{2} = 6$$

$$\Rightarrow 2a + 4 = 12$$

$$\Rightarrow a = 4$$

$$\text{Dolayısıyla } f(x) = \frac{4x + 4}{2} = 2x + 2 \text{ olur.}$$

Böylece  $f(8) = 2 \cdot 8 + 2 = 18$  bulunur.

**Cevap E**

13. Pazarcının  $3x$  kg patatesi olsun.

Bu durumda  $x$  kg'ını 4 kilosu 3 TL'den,  $2x$  kg'ını 3 kilosu 2 TL'den satın 500TL elde edeceğinden

$$\frac{x}{4} \cdot 3 + \frac{2x}{3} \cdot 2 = 500 \Rightarrow \frac{9x + 16x}{12} = 500$$

$$\Rightarrow 25x = 12 \cdot 500^{20}$$

$$\Rightarrow x = 240 \text{ olur.}$$

Böylece patatesin tamamı

$$3x = 3 \cdot 240 = 720 \text{ kg bulunur.}$$

**Cevap A**

14. 300 gram 60 kuruş ise 50 gram 10 kuruş, 250 gram 60 kuruş ise 50 gram 12 kuruş olur.

Böylece ekmeğin fiyatı 2 kuruş artmış olur.

Dolayısıyla

$$\frac{10}{100} \times \frac{2}{x} \text{ kr artmış ise artar.}$$

$$x = \frac{200}{10} = 20 \text{ bulunur.}$$

**Cevap B**

15. İlk beş sayı  $x - 5, x - 4, x - 3, x - 2, x - 1$  ve son üç sayı  $x, x + 1, x + 2$  olsun.

Bu durumda

$$x - 5 + x - 4 + x - 3 + x - 2 + x - 1$$

$$= x + x + 1 + x + 2$$

$$5x - 15 = 3x + 3$$

$$x = 9$$

En büyük sayı  $9 + 2 = 11$ , en küçük sayı  $9 - 5 = 4$  olacağından toplamları

$$11 + 4 = 15 \text{ bulunur.}$$

**Cevap C**

16. Sınavda  $10x$  soru olsun.

$$\%80 \text{ başarılı ise } 10x \cdot \frac{80}{100} = 8x \text{ doğru}$$

olmalı

$$8 + (10x - 15) = 8x \Rightarrow 10x - 7 = 8x$$

$$\Rightarrow x = \frac{7}{2}$$

$$\text{Böylece sınavda } 10x = 10 \cdot \frac{7}{2} = 35 \text{ soru}$$

sorulmuştur.

**Cevap B**

17. Kiraz ağaçlarının sayısı  $x$ , elma ağaçlarının sayısı  $y$  olsun.  $x + y = 50 \dots (1)$  olur.

Kiraz ağaçlarında ortalama 8 kg ürün alındığında

$$8 = \frac{A}{x} \Rightarrow A = 8x$$

Elma ağaçlarında ortalama 15 kg ürün alındığında

$$15 = \frac{B}{y} \Rightarrow B = 15y$$

O yıl alınan toplam ürün 610 kg olduğunda

$$A + B = 610 \Rightarrow 8x + 15y = 610 \dots (2) \text{ olur.}$$

Birinci denklem  $-8$  ile çarpılıp iki denklem toplanır

$$-8x - 8y = -400$$

$$+8x + 15y = 610$$

$$7y = 210$$

$$y = 30 \text{ ve } x = 20 \text{ olur.}$$

Kiraz ağaçları ile elma ağaçlarının sayılarının farkı  $y - x = 30 - 20 = 10$  bulunur.

**Cevap C**

18. İstanbul yerel saat olarak 2 saat ileride olduğundan İstanbul saatine göre 13.30'da hareket eden uçak Londra saatine göre 11.30'da hareket etmiş olur.

Bu durumda yolculuk

$$15.00 - 11.30 = 3.30 \text{ saat sürmüştür.}$$

Londra'dan İstanbul'a dönüşü 30 dakika kısa olduğundan 3 saat sürmelidir.

Londra saatine göre 20.15'te hareket eden uçak İstanbul saatine göre 22.15'te hareket etmiş olur. Yolculuk 3 saat süreceğinden  $22.15 + 3.00 = 1.15$ 'te İstanbul'a iner. Fakat inişi cuma günü olur.

**Cevap E**

19. İlk durumdaki ampuller %100 elektrik tüketimi yapsın. İkinci durumdaki ampuller %80 elektrik tüketimi yapar.

$$\frac{3}{6 \cdot 10 \cdot 100} = \frac{x}{4 \cdot 25 \cdot 80} \Rightarrow 6x = 24$$

$$\Rightarrow x = 4 \text{ kilovat}$$

enerji tüketir.

**Cevap D**

20. Kutudaki kartların numaraları 1, 2, 3, 4, 5, 6, 7 olduğundan 4 kart tek sayı, 3 kart çift sayıdır.

Eğer Cihan 3 çift kartı yani 2, 4 ve 6'yı çekerse geriye tek sayılar kalır. Dolayısıyla Sercan bu kartlardan hangi ikisini çekerse çeksin toplamaları kesinlikle çift sayı olur.

Böylece Cihan'ın çekmiş olduğu sayıların toplamı  $2 + 4 + 6 = 12$  bulunur.

**Cevap D**

21. Şirketin koyduğu bagaj ağırlığı sınırı  $x$  kg olsun. Sınırı geçen ağırlıklar için kilogram başı  $y$  TL olsun.

Birinci müşteri 105 TL ödediğinden

$$(60 - x) \cdot y = 105$$

İki müşteri 30 TL ödediğinden

$$(60 - 2x) \cdot y = 30 \text{ olur.}$$

Bu iki denklem oranlanırsa,

$$\frac{(60 - x) \cdot y}{(60 - 2x) \cdot y} = \frac{105}{30}$$

$$\Rightarrow 120 - 2x = 420 - 14x$$

$$\Rightarrow 12x = 300$$

$$\Rightarrow x = 25 \text{ kg bulunur.}$$

**Cevap D**

22. Örnek uzay zar 3 defa atıldığından

$$6^3 = 216 \text{ olur.}$$

Üst yüze gelen sayıların toplamı 16 ise zarlar

$(6, 6, 4), (6, 4, 6), (4, 6, 6), (5, 5, 6), (5, 6, 5), (6, 5, 5)$  şeklinde olmalıdır.

Böylece toplamalarının 16 olma olasılığı

$$\frac{6}{216} = \frac{1}{36} \text{ bulunur.}$$

**Cevap E**

23. İlk üç kattan sonra küp sayısı ardışık azalmaktadır. Dolayısıyla 10. kat için 7 kez azalma olmalıdır.

$$67 - 6 \cdot 7 = 67 - 42 = 25 \text{ küp olmalıdır.}$$

**Cevap C**

24. En büyük yapıda en son katında

$$67 - 11 \cdot 6 = 1 \text{ küp olur. Dolayısıyla yapı 14 katlı olur.}$$

Mavi boyalı küpler

$$2.\text{kat } 73$$

$$5.\text{kat } 67 - 2 \cdot 6 = 55$$

$$8.\text{kat } 67 - 5 \cdot 6 = 37$$

$$11.\text{kat } 67 - 8 \cdot 6 = 19$$

$$14.\text{kat } 67 - 11 \cdot 6 = 1$$

olmak üzere 185 tane mavi boyalı küp vardır.

**Cevap C**

25. Bölgelerin merkez açılarının farkı

$$135^\circ - 90^\circ = 45^\circ \text{ dir.}$$

Bu  $45^\circ$ lik açı fark  $720 \text{ m}^2$  olduğundan

$$45^\circ \begin{array}{l} \nearrow 720 \text{ m}^2 \text{ ise} \\ \searrow x \end{array}$$

$$x = \frac{70 \cdot 720}{45} = 1120 \text{ m}^2 \text{ bulunur.}$$

**Cevap C**

KPSS  
2024

GENEL YETENEK  
GENEL KÜLTÜR

TARİH

TAMAMI ÇÖZÜMLÜ  
ÇIKMIŞ  
SORULAR

SON  
10  
YIL

 ÖGRETİ AKADEMİ

# ÖĞRETİ AKADEMİ

## Komisyon

### GYGK TARİH TAMAMI ÇÖZÜMLÜ ÇIKMIŞ SORULAR

ISBN 978-625-6764-52-1

Kitapta yer alan bölümlerin tüm sorumluluğu yazarlarına aittir.

Bu kitabın basım, yayım ve satış hakları Pegem Akademi Yay. Eğt. Dan. Hizm. Tic. AŞ'ye aittir. (Öğreti Akademi yayınları bir Pegem Akademi markasıdır.) Anılan kuruluşun izni alınmadan kitabın tümü ya da bölümleri, kapak tasarımı; mekanik, elektronik, fotokopi, manyetik kayıt ya da başka yöntemlerle çoğaltılamaz, basılamaz ve dağıtılamaz. Bu kitap, T.C. Kültür ve Turizm Bakanlığı bandrolü ile satılmaktadır. Okuyucularımızın bandrolü olmayan kitaplar hakkında yayınevimize bilgi vermesini ve bandrolsüz yayınları satın almamasını diliyoruz.

**1. Baskı:** 2023, Ankara

Yayın-Proje: Şewal Aksoy  
Dizgi-Grafik Tasarım: Gülnur Öcalan  
Kapak Tasarımı: Öğreti Akademi

**Baskı:** Vadi Grup Basım AŞ  
Saray Mah. 126 Cad. No: 20/A  
Kazan/ANKARA  
Tel: (0312) 802 00 53-54

Yayıncı Sertifika No: 51818  
Matbaa Sertifika No: 49180

## İletişim

Shira Ticaret Merkezi, Macun Mahallesi 204 Cad.  
No: 141/33, Yenimahalle/Ankara  
Yayınevi: 0312 430 67 50  
Dağıtım: 0312 434 54 24  
Hazırlık Kursları: 0312 419 05 60  
İnternet: [www.ogreti.com](http://www.ogreti.com)  
E-ileti: [ogreti@ogreti.com.tr](mailto:ogreti@ogreti.com.tr)  
WhatsApp Hattı: 0538 594 92 40

Değerli KPSS Adayları,

KPSS'ye hazırlanan adaylarımız KPSS'de çıkan soruları incelemek, çözmek ve kendini geliştirmek, eksiklerini fark edip tamamlamak amacıyla çalışmalarına dâhil etmektedir. Lisans mezunu adayların bu yön-de yaptıkları çalışmaların başarı oranları üzerindeki olumlu etkisi göz ardı edilemeyeceğinden kitabımızda 2014-2023 yılları arasında yapılan KPSS Genel Kültür Tarih alanında yöneltilen tüm sorulara yer verilmiştir.

Lisans mezunu adayların geleceğe umutla bakabilmelerine, eğitimini aldıkları alanda kendilerini ger-çekleştirmelerine ve karşılarına çıkan engelleri aşmalarına yardımcı olması amacıyla hazırlanan KPSS Tamamı Çözümlü Genel Yetenek-Genel Kültür Tarih Çıkmış Sorular kitabı ile sizlere faydalı olacağımızı umuyor ve hepinize başarılar diliyoruz..

**Öğreti Akademi Yayıncılık**

## İÇİNDEKİLER

2014 GYGK Tarih Çıkmış Sorular .....	1
2015 GYGK Tarih Çıkmış Sorular .....	8
2016 GYGK Tarih Çıkmış Sorular .....	16
2017 GYGK Tarih Çıkmış Sorular .....	26
2018 GYGK Tarih Çıkmış Sorular .....	38
2019 GYGK Tarih Çıkmış Sorular .....	48
2020 GYGK Tarih Çıkmış Sorular .....	57
2021 GYGK Tarih Çıkmış Sorular .....	68
2022 GYGK Tarih Çıkmış Sorular .....	79
2023 GYGK Tarih Çıkmış Sorular .....	88
Cevap Anahtarı .....	99



1. Aşağıdakilerden hangisi Uygurların, kağanlarının gücünü Ay'dan aldıklarına inanmalarından dolayı unvanlarının başına "Ay" kelimesini eklemelerinde etkili olan dindir?
  - A) Manihaizm
  - B) Budizm
  - C) İslamiyet
  - D) Hristiyanlık
  - E) Şamanizm
2. Firdevsi'nin *Şehnâme* adlı eserinde adı geçen efsanevi Türk hakanı aşağıdakilerden hangisidir?
  - A) Kül Tigin
  - B) Bilge Kağan
  - C) Afrasyab
  - D) Mukan Kağan
  - E) Teoman
3. 963-1187 yılları arasında Afganistan, Özbekistan, İran, Horasan, Pakistan ve Kuzey Hindistan'a kadar uzanan geniş bir coğrafyaya hâkim olan devlet aşağıdakilerden hangisidir?
  - A) Karahanlı
  - B) Akkoyunlu
  - C) Gazneli
  - D) Büyük Selçuklu
  - E) Karakoyunlu
4. Aşağıdakilerden hangisi, Osmanlı Devleti'nin XVIII. yüzyıldaki ıslahatçı devlet adamlarından biri **değildir**?
  - A) Nevşehirli Damat İbrahim Paşa
  - B) Halil Hamit Paşa
  - C) Sadrazam Koca Ragıp Paşa
  - D) Humbaracı Ahmet Paşa
  - E) Tarhuncu Ahmet Paşa
5. Osmanlı Devleti'nde padişaha tanınan, suçluları sürgün etme yetkisi **ilk kez** aşağıdakilerden hangisiyle kaldırılmıştır?
  - A) II. Meşrutiyet'in ilanından sonra Kanunuesasi'ye eklenen yeni hükümlerle
  - B) Kanunuesasi'nin kabulüyle
  - C) Sened-i İttifak'ın imzalanmasıyla
  - D) Tanzimat Fermanı'nın ilanıyla
  - E) Islahat Fermanı'nın ilanıyla
6. Gaziân-ı Rum terimiyle nitelenen kişilerle ilgili olarak aşağıdakilerden hangisi **doğrudur**?
  - A) Rumelili olmaları
  - B) XIX. yüzyılda Rumeli'de etkin olmaları
  - C) Osmanlı - İran savaşlarındaki gönüllülerden oluşmaları
  - D) Kuruluş Dönemi'nde, gaza yapmak amacıyla Osmanlı akınlarına katılmaları
  - E) Osmanlı denizciliğinin öncüleri olmaları
7. I. Bayezit'in ve Osmanlı ordusunun Niğbolu Savaşı dolayısıyla Avrupa'da bulunmasını fırsat bilerek, o dönemde Osmanlı Devleti'nin toprağı olan Ankarayı hâkimiyeti altına alan Anadolu Türk beyliği aşağıdakilerden hangisidir?
  - A) Kadı Burhanettin
  - B) Karamanoğulları
  - C) Saruhanoğulları
  - D) Dulkadiroğulları
  - E) Candaroğulları

8. Aşağıdakilerden hangisi Osmanlı Devleti'nde Tanzimat Fermanı'nın ilan edilmesinin nedenlerinden biri **değildir**?

- A) Şeriati yürürlükten kaldırmak
- B) Osmanlı tebaası arasında eşitliği sağlamak
- C) Devleti eski gücüne kavuşturmayı istemek
- D) Mısır ve Boğazlar gibi sorunlarda Avrupalı devletlerin desteğini sağlamak
- E) İç işlerine Avrupalı devletlerin karışmalarını önlemek

9. Aşağıdakilerden hangisi Ayestefanos (Yeşilköy) Antlaşması'nın hükümlerinden biri **değildir**?

- A) Büyük bir Bulgaristan krallığı kurulacak.
- B) Karadeniz; ticaret gemilerine açık, savaş gemilerine kapalı olacak.
- C) Kars, Ardahan, Batum ve Doğu Beyazıt Rusya'ya bırakılacak.
- D) Ermenilerin yaşadığı yerlerde ıslahat yapılacak.
- E) Bosna-Hersek'e özerklik verilecek.

10. Aşağıdakilerden hangisi, vezirlerle devlet adamlarının ve seferde ordunun atlarına bakmak ve sair zamanlarda Has ahır ve çayır hizmetinde kullanılan üzere gayrimüslimlerden tertip olunan ve özellikle Bulgaristan, Sırbistan, Makedonya ve Tesalya'da istihdam edilen askerî zümredir?

- A) Ulah
- B) Martolos
- C) Voynuk
- D) Levent
- E) Miralay

11. Aşağıdakilerden hangisi Mecelle'nin özelliklerinden biri **değildir**?

- A) 1926'ya kadar yürürlükte kalması
- B) Bazı İslami hukuk kurallarını düzenli hâle getirmiş olması
- C) Ahmet Cevdet Paşa'nın başında bulunduğu bir heyet tarafından hazırlanması
- D) Müslim ve gayrimüslim tebaaya ilişkin kurallar içermesi
- E) Medeni kanun özelliği taşıması

12. Aşağıdakilerden hangisi Osmanlı Devleti'nin "seyfiye" sınıfı üyelerinden biri **değildir**?

- A) Kapıkulu askerleri
- B) Sadrazam
- C) Vezirler
- D) Beylerbeyi
- E) Kazasker

13. Aşağıdakilerden hangisi 31 Mart Olayı'nın ortaya çıkmasında etkili **olmamıştır**?

- A) Halkın, Trablusgarp'ın işgaline tepki göstermesi
- B) Volkan Gazetesi'nin yazarı Derviş Vahdeti'nin tahrirleri
- C) Serbestî Gazetesi'nin başyazarı Hasan Fehmi Bey'in öldürülmesi
- D) Orduda Alaylı-Mektepli çekişmesinin artması
- E) Bazı kesimlerin Meşrutiyet'in ilanına tepki göstermesi

14. I. Dünya Savaşı'nda Brest-Litovsk Antlaşması'nın imzalanmasıyla kapanan cephe aşağıdakilerden hangisidir?
- A) Çanakkale  
B) Irak  
C) Kafkasya  
D) Kanal  
E) Suriye-Filistin
15. Misakımillî aşağıdaki Avrupa devletlerinden hangisi tarafından ilk kez kabul edilmiştir?
- A) Yunanistan  
B) İngiltere  
C) Fransa  
D) Rusya  
E) İtalya
- 16.
- I. Batı Anadolu'da yaşayan Rumlar  
II. Gümülcine ve İskeçe'de yaşayan Türkler  
III. İstanbul'da yaşayan Rumlar
- Lozan Antlaşması'nda yukarıdakilerin hangileri mübadele dışında bırakılmıştır?**
- A) Yalnız I    B) I ve II    C) I ve III  
D) II ve III    E) I, II ve III
17. "İstiklal Harbimiz" adlı eser aşağıdaki Millî Mücadele komutanlarından hangisinin anılarını içermektedir?
- A) Kâzım Özalp  
B) Kâzım Karabekir  
C) Ali Fuat Cebesoy  
D) İsmet İnönü  
E) Fevzi Çakmak
18. Atatürk Dönemi'nde, incelemeler yapmak ve raporlar hazırlamak üzere İsviçre'den davet edilen Prof. Malche tarafından verilen raporun ardından, devamına karar verilen kurum aşağıdakilerden hangisidir?
- A) İstanbul Üniversitesi  
B) Maden Tetkik Arama Enstitüsü  
C) Türk Tarih Kurumu  
D) Türk Hava Kurumu  
E) Merkez Bankası
19. Aşağıdakilerden hangisi Falih Rıfkı Atay'ın, I. Dünya Savaşı'nda Suriye ve Kanal cephelerinde geçen olayların konu edildiği eseridir?
- A) Çankaya  
B) Zeytin Dağı  
C) Atatürk'ten Hatıralar  
D) Medine Müdafaası  
E) Ateşten Gömlek
20. Türkiye'de 1923-1938 yılları arasında yılda ortalama 200 km ile toplam 3.360 km yeni demir yolunun yapımı tamamlanmıştır.
- Aşağıdakilerden hangisi, 1923-1938 yılları arasında tamamlanmış bu demir yolu hatlarından biri değildir?**
- A) Samsun-Sivas  
B) Sivas-Erzurum  
C) Malatya-Diyarbakır  
D) Zonguldak-Ankara  
E) Eskişehir-Ankara

21. II. Dünya Savaşı sonrası çok partili hayata geçiş sürecinde kurulan ilk siyasi parti aşağıdakilerden hangisidir?  
 A) Hürriyet Partisi  
 B) Millî Nizam Partisi  
 C) Demokrat Parti  
 D) Millet Partisi  
 E) Ahali Partisi
22. Türkiye'nin de içinde bulunduğu ve antlaşmayı imzalayan devletlerden birinin ayrılmasından sonra CENTO adını alan pakt aşağıdakilerden hangisidir?  
 A) Bağdat  
 B) Balkan  
 C) Akdeniz  
 D) Sadabat  
 E) Briand-Kellogg
23. Aşağıdakilerden hangisi Kurtuluş Savaşı Dönemi'nde Anadolu'nun dışı açılan en önemli ikmal limanı olmuştur?  
 A) İzmir  
 B) Trabzon  
 C) Samsun  
 D) İnebolu  
 E) Antalya
- 24.
- Türk dilinin halk arasında yaşayan sözcüklerini araştırmak
  - Folklor üzerinde çalışmak
  - Ulusal tarihin yerel olaylarına ilişkin belgeleri araştırmak
  - Güzel sanatlar dallarında kurslar açmak
  - Köylülerin sağlık ve sosyal alanlarda gelişmelerine yardımcı olmak
- Yukarıda belirtilen işleri yapmak için kurulan kurum aşağıdakilerden hangisidir?  
 A) Halkevleri  
 B) Türk İnkılap Tarihi Enstitüsü  
 C) Türk Dil Kurumu  
 D) Türk Tarih Kurumu  
 E) Dil ve Tarih-Coğrafya Fakültesi
25. 1991-2013 yılları arasında Kırım Tatar Millî Meclisi Başkanlığı görevini yapan Kırımlioğlu soy isimli siyasetçi ve halk kahramanı aşağıdakilerden hangisidir?  
 A) İsa Yusuf  
 B) Mustafa Abdülcemil  
 C) İsmail Gaspıralı  
 D) Remzi İlyasov  
 E) Refat Çubarov
26. Aşağıdakilerden hangisi Türkiye'de 1993 yılında ilk resmî internet bağlantısının kurulduğu kurumdur?  
 A) İstanbul Teknik Üniversitesi  
 B) Türkiye Büyük Millet Meclisi  
 C) Ankara Üniversitesi  
 D) Boğaziçi Üniversitesi  
 E) Orta Doğu Teknik Üniversitesi
27. 1992 yılında Türkiye'nin öncülüğünde İstanbul'da kurulan ve üyeleri arasında ekonomik, teknolojik ve sosyal ilişkileri geliştirmeyi amaçlayan uluslararası örgüt aşağıdakilerden hangisidir?  
 A) TÜRKSOY  
 B) D8  
 C) AGİT  
 D) KEİ  
 E) BDT

1. Uygurlar, Böğü Kağan Dönemi'nde Manihaizm dinini benimsemiştir. Bu dinin etkisiyle Uygur kağanları gücünü Ay'dan aldıklarına inandıklarından unvanlarının başına "Ay" kelimesini eklemişlerdir.

**Cevap A**

2. Firdevsî'nin "Şehnâme" adlı eserinde adı geçen efsanevi Türk hakanı Afrasyab'dır. Diğer bir ifadeyle de Alp Er Tunga'dır. Firdevsî "Şehnâme" adlı eserini Gazneli Sultan Mahmut'a takdim etmiştir.

**Cevap C**

3. 963-1187 yılları arasında Afganistan, Özbekistan, İran, Horasan, Pakistan ve Kuzey Hindistan'a kadar uzanan geniş bir coğrafyaya hâkim olan devlet Gazneli Devleti'dir. Karahanlılar 840-1212, Büyük Selçuklular 1040-1157, Akkoyunlular 1350-1502, Karakoyunlular 1365-1469 yılları arasında yaşamışlardır.

**Cevap B**

4. XVIII. yy. 1700-1800 yılları arasını kapsar. Tarhuncu Ahmet Paşa ise XVII. yy. devlet adamıdır. Ayrıca Tarhuncu Ahmet Paşa IV. Mehmet Dönemi sadrazamlarından olup, Osmanlı'da modern ilk denk bütçeyi oluşturmuştur.

**Cevap E**

5. Türk tarihinin ilk anayasası Kanunuesasi'dir. 23 Aralık 1876'da II. Abdülhamit Dönemi'nde yürürlüğe giren Kanunuesasi'de padişaha suçluları sürgün etme yetkisi verilmiştir. Bu yetki II. Meşriyet'in ilanından sonra Kanunuesasi'ye eke-len yeni hükümlerle kaldırılmıştır.

**Cevap A**

6. Osmanlı'nın Kuruluş Dönemi'nde, gaza yapmak amacıyla Osmanlı akınlarına katılan kişiler "Gaziyan-ı Rum" terimiyle nitelenmiştir.

**Cevap D**

7. I. Bayezit'in (Yıldırım) ve Osmanlı ordusunun Niğbolu Savaşı (1396) dolayısıyla Avrupa'da bulunmasını fırsat bilerek, o dönemde Osmanlı'nın toprağı olan Ankara'yı hâkimiyeti altına altına alan Anadolu Türk beyliği Karamanoğulları'dır. Bu beylik Osmanlı'yı en çok uğraştıran beyliktir. Bunun sebebi ise Karamanoğulları'nın kendilerini Anadolu Selçuklu Devleti'nin varisi olarak görmesidir. Osmanlı bu beyliğe II. Bayezit Dönemi'nde tamamen son verilmiştir.

**Cevap B**

8. Tanzimat Fermanı, 3 Kasım 1839'da Sultan Abdülmecit Dönemi'nde ilan edilmiştir. A seçeneğinde yer alan "Şeriat yürürlükten kaldırmak" ifadesi bu fermanın ilan edilme nedenleri arasında yer almaz. Zira Osmanlı Devleti şer'î yapısını yıkılışına kadar sürdürmüştür. Diğer seçeneklerde yer alan ifadeler ise Tanzimat Fermanı'nın ilan edilme nedenleri arasındadır.

**Cevap A**

9. Ayestefanos Antlaşması, Osmanlı Devleti ile Rusya arasında 93 Harbi'nden sonra (1877-1878 Osmanlı-Rus Savaşı) II. Abdülhamit Dönemi'nde 3 Mart 1878 tarihinde imzalanmıştır. Bu antlaşmada B seçeneğinde yer alan "Karadeniz; ticaret gemilerine açık, savaş gemilerine kapalı olacak." ifadesi yoktur. Bu ifade 1841 Londra Boğazlar Sözleşmesi'nde ve 1856 Paris Antlaşması'nda yer almıştır.

**Cevap B**

10. Osmanlı Devleti'nde vezirlerle devlet adamlarının ve seferde ordunun atlarına bakmak ve sair zamanlarda Has ahır ve çayır hizmetinde kullanılmak üzere gayrimüslimlerden tertip olunan ve özellikle Bulgaristan, Sırbistan, Makedonya ve Tesalya'da istihdam edilen askerî zümreye "voynuk" denir.

- Levent, Osmanlı'da deniz askerlerine verilen isimdir.
- Miralay, Osmanlı'da alaybeylerine verilen isim olmakla beraber albay rütbesinde olan askerlere verilen addır.
- Ulah, Osmanlı'da Eflak-Boğdan halkına verilen isimdir.
- Martolos, Osmanlı'da belirli noktaların ve sınırların emniyetini sağlama, düşman bölgelerine akınlar yaparak savunma sistemlerini bozma, keşif ve haber alma faaliyetlerinde bulunma, gerektiğinde ise Osmanlı ordusuyla beraber bilfiil seferlere katılma gibi görevler üstlenen gayrimüslim askerlere verilen isimdir.

#### Cevap C

11. Mecelle, Tanzimat Dönemi'nde (1839-1876) hazırlanmıştır. İslam hukuku esaslı olan Mecelle'nin hazırlanmasında komisyon başkanlığını Ahmet Cevdet Paşa yapmıştır. Medeni kanun özelliği taşıyan Mecelle 1926'ya kadar yürürlükte kalmıştır. Ancak Mecelle sadece Müslim (Müslüman) tebaaya ilişkin kurallar içerir, gayrimüslimleri kapsamaz.

#### Cevap D

12. Osmanlı Devleti'nde "seyfiye" sınıfına ehli örf, ehli ümera, ehli seyf de denilmiştir. Askerî bürokrasi bu sınıfa mensuptu. Seyfiye sınıfında veziriazam, vezirler, beylerbeyi, sancak beyleri, kaptanıderya, kapı kulu askerleri, deniz askerleri yer alırdı. Kazasker ise Osmanlı'da "ilmiye" sınıfının üyeleri arasında bulunur.

#### Cevap E

13. 31 Mart Olayı, 1909'da yaşanan bir gelişmedir. B, C, D ve E seçeneklerinde yer alan ifadeler 31 Mart Olayı'nın ortaya çıkmasında etkili olmuştur. Ancak A seçeneğinde yer alan "Halkın, Trablusgarp'ın işgaline tepki göstermesi" ifadesi bu olay üzerinde etkili olmamıştır. Çünkü İtalya'nın Trablusgarp'ı işgal etmesi, 31 Mart Olayı'ndan sonra yani 1911'dedir. Dolayısıyla sonraki gelişmeler önceki gelişmeleri etkilemez.

#### Cevap A

14. I. Dünya Savaşı'nda Brest-Litovsk Antlaşması'nın 3 Mart 1918'de imzalanmasıyla Kafkasya Cephesi kapanmıştır.

#### Cevap C

15. Misakımillî, 28 Ocak 1920'de Son Osmanlı Mebusan Meclisinde kabul edilmiştir. I. İnönü Zaferi'nden sonra 16 Mart 1921'de imzalanan Moskova Dostluk ve Kardeşlik Antlaşması'yla Rusya, Misakımillî'yi kabul eden ilk Avrupa devleti olmuştur.

#### Cevap D

16. Lozan Antlaşması, 24 Temmuz 1923'te imzalanmıştır. Bu antlaşmayla İstanbul'da yaşayan Rumlar ile Gümülcine ve İşkece'de yaşayan Türkler mübadele dışında tutulmuştur. Ancak I. öncülde yer alan "Batı Anadolu'da yaşayan Rumlar" mübadeleye tabi tutulmuştur.

#### Cevap D

17. "İstiklal Harbimiz" adlı eser Kâzım Karabekir Paşa'nındır.

#### Cevap B

18. Atatürk Dönemi 1923-1938 yılları arasında kapsar. Bu dönemde incelemeler yapmak ve raporlar hazırlamak üzere İsviçre'den davet edilen Prof. A. Malche tarafından verilen raporun ardından, devamına karar verilen kurum İstanbul Üniversitesi'dir.

#### Cevap A

19. Falih Rifkî Atay'ın I. Dünya Savaşı'nda Suriye ve Kanal cephelerinde geçen olayların konu edildiği eser "Zeytin Dağı"dır.
- "Çankaya" adlı roman da Falih Rifkî Atay'ındır.
  - "Medine Müdafası", İsmail Bilgin tarafından kaleme alınan romandır. Çöl Kapları olarak da bilinen Fahrettin Paşa'nın Medine Müdafası'nı anlatır.
  - "Ateşten Gömlek", Halide Edip Adivar'ın eseridir.
  - "Atatürk'ten Hatıralar", Hasan Rıza Soyak tarafından, "Atatürk'ten Anılar" ise Kemal Arıburnu tarafından kaleme alınmıştır.

**Cevap B**

20. Samsun-Sivas, Sivas-Erzurum, Malatya-Diyarbakır, Zonguldak-Ankara demir yolu hatları 1923-1938 yılları arasında tamamlanmıştır. ancak E seçeneğinde yer alan "Eskişehir-Ankara" demir yolu hattı 1923'ten önceki süreçle ilgilidir.

**Cevap E**

21. II. Dünya Savaşı sonrası çok partili hayata geçiş sürecinde kurulan ilk siyasi parti "Demokratik Parti"dir. Aslında Millî Kalkınma Partisi daha önce kurulmuştur. Ancak Nuri Demirağ tarafından bu parti kurulduğunda (Temmuz 1945) II. Dünya Savaşı tam olarak bitmemiştir. Bu doğrultuda ÖSYM seçeneklere Millî Kalkınma Partisini koymamıştır.

**Cevap C**

22. Temelleri Şubat 1955'te Türkiye ve Irak tarafından atılan, daha sonra İngiltere, İran ve Pakistan'ın katıldığı, Irak'ın çekilmesiyle 1959'da Merkezî Antlaşma Örgütü (CENTO) adını alan Pakt "Bağdat Paketi"dır.

**Cevap A**

23. Kurtuluş Savaşı Dönemi'nde, Anadolu'nun dışa açılan en önemli ikmal limanı İnebolu'dur. Bu doğrultuda İnebolu'nun Millî Mücadele için önemini Mustafa Kemal, "Gözüm Sakarya'da, kulağım İnebolu'da" diyerek belirtmiştir. Ayrıca İnebolu'ya 1924 yılının başlarında TBMM tarafından "İstiklal Madalyası" da verilmiştir.

**Cevap D**

24. Soruda belirtilen işleri yapmak için 19 Şubat 1932'de Halkevleri kurulmuştur. Halkevlerinin açılması için Reşit Galip Bey görevlendirilmiştir. Halkevleri 1951'de kapatılmıştır.

**Cevap A**

25. 1991-2013 yılları arasında Kırım Tatar Millî Meclisi Başkanlığı görevini yapan, Kırmıloğlu soy isimli siyasetçi ve halk kahramanı Mustafa Abdülcemil'dir.

**Cevap B**

26. Türkiye'de 1993'te ilk resmî internet bağlantısı Orta Doğu Teknik Üniversitesinde kurulmuştur.

**Cevap E**

27. 1992 yılında Türkiye'nin öncülüğünde İstanbul'da kurulan ve üyeleri arasında ekonomik, teknolojik ve sosyal ilişkileri geliştirmeyi amaçlayan uluslararası örgüt Karadeniz Ekonomik İş Birliği Teşkilatıdır (KEİ).

**Cevap D**

1. **Türklerin demir madeninin bulunduğu dağı eriterek yaşadıkları yerden çıkışını anlatan destan aşağıdakilerden hangisidir?**
  - A) Ergenekon
  - B) Yaradılış
  - C) Bozkır
  - D) Türeyiş
  - E) Alp Er Tunga
  
2. **Türk-İslam devletlerinin ilk dönemlerinde başkent olan ve Timur Dönemi'nde "şehirlerin şahı" unvanıyla bilinen stratejik öneme sahip şehir aşağıdakilerden hangisidir?**
  - A) İsfahan
  - B) Semerkant
  - C) Taşkent
  - D) Buhara
  - E) Kaşgar
  
3. **Kaşgarlı Mahmut'un "Türk'ün kanedir." diye nitelendirdiği savaş aracı aşağıdakilerden hangisidir?**
  - A) At
  - B) Ok
  - C) Yay
  - D) Mızrak
  - E) Kalkan
  
4. **Osmanlı Devleti'nde şehzadelerin sancağa çıkmasıyla elde ettikleri kazanımlar ve sorumlu olduğu görevler arasında aşağıdakilerden hangisi bulunmaz?**
  - A) Yönetimde ve askerî alanda tecrübe kazanmak
  - B) Kendilerine ayrılan geliri almak
  - C) Sultanın emirlerine göre davranmak
  - D) Sancaklarındaki askerlerle birlikte sefere katılmak
  - E) Buldukları bölgede adına hutbe okutmak
  
5. **Osmanlı Devleti'nde saray, Türk-İslam devletlerinde olduğu gibi hem padişahın özel hayatının geçtiği ev hem de devlet işlerinin yürütüldüğü merkezdi. Buna göre aşağıdakilerden hangisinin sarayda yapıldığı söylenemez?**
  - A) İç oğlanlarının eğitiminin
  - B) Cülus töreninin
  - C) Yabancı elçilerin kabulünün
  - D) Bayramlaşma törenlerinin
  - E) Tımarlı sipahilerin eğitiminin
  
6. **Adalet halkın, şikâyetlerini doğrudan doğruya hükümdara sunabilmesini ve onun emriyle haksızlıkların giderilmesini gerektirir. Buna göre Osmanlı Klasik Dönemi'nde reayanın şikâyetlerini sunmak için aşağıdakilerden hangisine başvurduğu söylenemez?**
  - A) Kadi
  - B) Divanhümayun
  - C) Âyan Meclisi
  - D) Beylerbeyi
  - E) Sancak beyi
  
7. **Osmanlı toplumu, Avrupa'dan farklı olarak aşılmaz duvarlarla birbirinden ayrılmamıştır. Bu duruma aşağıdakilerden hangisi örnek olarak gösterilebilir?**
  - A) Padişah beratıyla reayadan bir kişinin askerî sınıfa geçebilmesi
  - B) Yönetenler sınıfının seyfiye, ilmiye ve kalemiye olarak gruplara ayrılması
  - C) Müslüman olmayanların özel hukuk alanında kendi kanunlarına tabi olması
  - D) Halktan gelir düzeyine göre vergi alınması
  - E) Beşik ulemalığı sisteminin görülmesi



8. Askere setre pantolon giydirip imanına halel getiren, önlerine muallim diye Frenkleri düşüren bir padişaha elbette Allah tevfikini çok görür... Efendi şimdi ne yeniçeri var ne de sipahi! Cümlesi başı şapkalı Frenk oldu!..

**Osmanlı Devleti'nde görülen ıslahat hareketlerine karşı halk arasında konuşulan bu sözlerle bakılarak aşağıdakilerden hangisine ulaşılamaz?**

- A) Islahat faaliyetleri askerî alanla sınırlı kalmıştır.  
B) Islahat hareketlerinde Avrupalı zamanlardan yararlanılmıştır.  
C) Geleneksel askerî kıyafetlerin giyimi terk edilmiştir.  
D) Klasik Dönem Osmanlı ordusunun yapısı değişmiştir.  
E) Halk arasında bazı ıslahatçı padişahlara karşı tepkili olanlar vardır.

9. XVIII. yüzyıldan itibaren Osmanlı mimarisi üzerinde Avrupa etkisi görülmeye başlanmıştır.

**Aşağıdakilerden hangisi bu etkinin görüldüğü eserlerden biri değildir?**

- A) Sultan Ahmet Camisi  
B) Beylerbeyi Sarayı  
C) İshak Paşa Sarayı  
D) Nuru Osmaniye Camisi  
E) Laleli Külliyesi

10. Aşağıdaki devletlerden hangisinin hükümdarı, 1815'te toplanan Viyana Kongresi'nde Osmanlı Devleti'ni "has-ta adam" olarak nitelemiştir?

- A) Fransa  
B) İtalya  
C) Almanya  
D) Rusya  
E) Avusturya-Macaristan

11. XIX. yüzyıl sonlarında gelişen; öncülleri arasında Mehmet Emin Resulzade, Mahmut Celaleddin Paşa ve Gasprıralı İsmail Bey gibi kişilerin gösterildiği; düşüncelerini daha çok dil, kültür ve ekonomi meseleleri üzerinde yoğunlaştıran düşünce akımı aşağıdakilerden hangisidir?

- A) Batıcılık  
B) Türkçülük  
C) İslamcılık  
D) Ademimerkeziyetçilik  
E) Sosyalizm

12. Göçler, hastalıklar ve ölümler nedeniyle kimsesiz kalan çocuklar için 1914'te açılan kurum aşağıdakilerden hangisidir?

- A) Darüleytam  
B) Darülelhan  
C) Darübedayi  
D) Darülmualimat  
E) Darülaceze

13. Mustafa Kemal'in ilk görev yaptığı, Vatan ve Hürriyet Cemiyeti'ni kurduğu yer aşağıdakilerden hangisidir?

- A) İstanbul  
B) Selanik  
C) Manastır  
D) Şam  
E) Trablusgarp

14. Atatürk *Nutuk*'ta, "Bütün memleketi karışıklık ateşleri içerisinde yakmış; hıyanet, cehalet, kin ve taassup dumanları bütün vatan semasını yoğun karanlıklar içinde bırakmıştı." demiştir.

**Bu sözle Atatürk, Millî Mücadele'yi etkileyen aşağıdaki gelişmelerden hangisine işaret etmiştir?**

- A) İç isyanlara  
B) Yerel direniş hareketlerine  
C) I. İnönü Savaşı'na  
D) II. İnönü Savaşı'na  
E) İşgal karşıtı mitinglere

**15. Erzurum Kongresi'nde alınan;**

- I. işgallere karşı topyekûn direneleceği,
- II. manda ve himayenin reddedileceği,
- III. Müslüman olmayanlara siyasi ve sosyal dengeyi bozacak ayrıcalıkların verilmeyeceği

**kararlarından hangileri, kongrenin bağımsızlığı ilke edindiğinin kanıtları arasında gösterilebilir?**

- A) Yalnız I
- B) Yalnız II
- C) Yalnız III
- D) I ve II
- E) I, II ve III

**16. TBMM'nin 13 Ocak 1921'deki birleşiminde Mustafa Kemal, Namık Kemal'in ünlü beytini değiştirerek şöyle der:**

"Vatanın bağına düşman dayasın hançerini, Bulunur kurtaracak bahtı kara mâderini"

**Mustafa Kemal'in belirtilen bu umutlu tavrı sergilemesine yol açan askerî başarı aşağıdakilerden hangisidir?**

- A) I. İnönü Savaşı
- B) II. İnönü Savaşı
- C) Kütahya – Eskişehir Savaşı
- D) Başkomutan Meydan Savaşı
- E) Sakarya Meydan Savaşı

**17. Millî Mücadele Dönemi'nde Türkiye'nin izlediği siyaset hakkında olumlu yazılar yazan ve Anadolu halkının direnişini destekleyerek "Türk dostu" olarak tanınan Fransız yazar aşağıdakilerden hangisidir?**

- A) Pierre Loti
- B) Franklin Bouillon
- C) George Picot
- D) Raymond Poincare
- E) Pelle

**18. Mustafa Kemal'in 8 Nisan 1923'te açıkladığı "Dokuz Umde (Dokuz İlke)" aşağıdakilerden hangisinin varlığının esasını oluşturmuştur?**

- A) TBMM'nin
- B) Halk Fırkasının
- C) Teşkilat-ı Esasiye Kanunu'nun
- D) İsmet Paşa Hükûmetinin
- E) Lozan Konferansı'nın

**19.**

- I. 1921 Anayasası'nı yapması
- II. Osmanlı saltanatını yıkması
- III. Mustafa Kemal'e "Gazi" unvanını vermesi

**Yukarıdakilerden hangileri, I. TBMM'nin kuruculuk ve inkılapçılık niteliklerine örnek olarak gösterilebilir?**

- A) Yalnız I
- B) Yalnız II
- C) Yalnız III
- D) I ve II
- E) I ve III

**20. Afet İnan tarafından derlenen ve Atatürk'ün de devlet ve toplum hayatını ilgilendiren konularda yazıları bulunan eser aşağıdakilerden hangisidir?**

- A) *Medeni Bilgiler*
- B) *Nutuk*
- C) *Cumali Ordugâhı*
- D) *Zabit ve Kumandan ile Hasbihal*
- E) *Geometri*

KPSS  
2024

GENEL YETENEK  
GENEL KÜLTÜR

# COĞRAFYA

TAMAMI ÇÖZÜMLÜ  
ÇIKMIŞ  
SORULAR

SON  
10  
YIL

 ÖGRETİ AKADEMİ

# ÖĞRETİ AKADEMİ

## Komisyon

### GYGK COĞRAFYA TAMAMI ÇÖZÜMLÜ ÇIKMIŞ SORULAR

ISBN 978-625-6764-55-2

Kitapta yer alan bölümlerin tüm sorumluluğu yazarlarına aittir.

Bu kitabın basım, yayım ve satış hakları Pegem Akademi Yay. Eğt. Dan. Hizm. Tic. AŞ'ye aittir. (Öğreti Akademi yayınları bir Pegem Akademi markasıdır.) Anılan kuruluşun izni alınmadan kitabın tümü ya da bölümleri, kapak tasarımı; mekanik, elektronik, fotokopi, manyetik kayıt ya da başka yöntemlerle çoğaltılamaz, basılamaz ve dağıtılamaz. Bu kitap, T.C. Kültür ve Turizm Bakanlığı bandrolü ile satılmaktadır. Okuyucularımızın bandrolü olmayan kitaplar hakkında yayınevimize bilgi vermesini ve bandrolsüz yayınları satın almamasını diliyoruz.

**1. Baskı:** 2023, Ankara

Yayın-Proje: Şewal Aksoy  
Dizgi-Grafik Tasarım: Gülnur Öcalan  
Kapak Tasarımı: Öğreti Akademi

**Baskı:** Vadi Grup Basım AŞ  
Saray Mah. 126 Cad. No: 20/A  
Kazan/ANKARA  
Tel: (0312) 802 00 53-54

Yayıncı Sertifika No: 51818  
Matbaa Sertifika No: 49180

## İletişim

Shira Ticaret Merkezi, Macun Mahallesi 204 Cad.  
No: 141/33, Yenimahalle/Ankara  
Yayınevi: 0312 430 67 50  
Dağıtım: 0312 434 54 24  
Hazırlık Kursları: 0312 419 05 60  
İnternet: [www.ogreti.com](http://www.ogreti.com)  
E-ileti: [ogreti@ogreti.com.tr](mailto:ogreti@ogreti.com.tr)  
WhatsApp Hattı: 0538 594 92 40

Değerli KPSS Adayları,

KPSS'ye hazırlanan adaylarımız KPSS'de çıkan soruları incelemek, çözmek ve kendini geliştirmek, eksiklerini fark edip tamamlamak amacıyla çalışmalarına dâhil etmektedir. Lisans mezunu adayların bu yönde yaptıkları çalışmaların başarı oranları üzerindeki olumlu etkisi göz ardı edilemeyeceğinden kitabımızda 2014-2023 yılları arasında yapılan KPSS Genel Kültür Coğrafya alanında yöneltilen tüm sorulara yer verilmiştir.

Lisans mezunu adayların geleceğe umutla bakabilmelerine, eğitimini aldıkları alanda kendilerini gerçekleştirmelerine ve karşılarına çıkan engelleri aşmalarına yardımcı olması amacıyla hazırlanan KPSS Tamamı Çözömlü Genel Yetenek-Genel Kültür Coğrafya Çıkış Sorular kitabı ile sizlere faydalı olacağımızı umuyor ve hepinize başarılar diliyoruz.

**Öğreti Akademi Yayıncılık**

## İÇİNDEKİLER

2014 GYGK Coğrafya Çıkmış Sorular.....	1
2015 GYGK Coğrafya Çıkmış Sorular.....	9
2016 GYGK Coğrafya Çıkmış Sorular.....	17
2017 GYGK Coğrafya Çıkmış Sorular.....	25
2018 GYGK Coğrafya Çıkmış Sorular.....	32
2019 GYGK Coğrafya Çıkmış Sorular.....	39
2020 GYGK Coğrafya Çıkmış Sorular.....	47
2021 GYGK Coğrafya Çıkmış Sorular.....	54
2022 GYGK Coğrafya Çıkmış Sorular.....	61
2023 GYGK Coğrafya Çıkmış Sorular.....	68
Cevap Anahtarı.....	76

1. Türkiye’de,
- dört mevsim belirgin olarak yaşanır,
  - Akdeniz iklimi etkilidir,
  - cephesel yağışlar görülür,
  - Batı rüzgârları etkilidir.

**Bu özelliklerin ortaya çıkmasında aşağıdakilerden hangisinin etkisi daha fazladır?**

- A) Kuzey yarım kürede yer almasının  
 B) Orta kuşakta yer almasının  
 C) Üç tarafının denizlerle çevrili olmasının  
 D) Yüzey şekillerinin çok çeşitli olmasının  
 E) 26° - 45° doğu meridyenleri arasında bulunmasının

2. Ege Bölgesi, genellikle horst ve graben sistemlerini meydana getiren tektonik hareketlerle şekillenmiştir.

**Buna göre, aşağıdakilerden hangisi bu şekillenmenin bir sonucu değildir?**

- A) Akarsuların doğu-batı yönünde akması  
 B) Kıyı ile iç kesimler arasındaki ulaşımın zor olması  
 C) Kıyıların çok fazla girintili-çukuntılı olması  
 D) Kıyılarda çok sayıda doğal liman bulunması  
 E) Denizel hava kütlelerinin iç kısımlara kolay erişebilmesi

3. Türkiye genel hatlarıyla yüksek, dağlık ve engebeli bir arazi yapısına sahiptir.

**Bu durumun ortaya çıkmasında aşağıdakilerden hangisi daha az etkili olmuştur?**

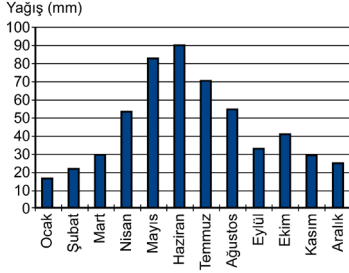
- A) Alp orojenez kuşağında bulunması  
 B) Epirojenez ile yükselmesi  
 C) Akarsu aşındırmasının fazla olması  
 D) Aktif fayların bulunması  
 E) Farklı kayaç türlerinin bulunması

4. Heyelanlar, Karadeniz Bölgesi’nin önemli doğal afetlerindedir.

**Aşağıdakilerden hangisi heyelanların bu bölgede sık görülmesinin nedenlerinden biri değildir?**

- A) Yıllık yağış miktarının fazla olması  
 B) Akarsu rejimlerinin farklılık göstermesi  
 C) Tabaka eğimlerinin fazla olması  
 D) Doğal ve beşerî nedenlerle yamaç dengesinin bozulması  
 E) Killi kayaçların fazla olması

5. Türkiye'deki bir meteoroloji istasyonundan alınan yağış rejim grafiği aşağıda verilmiştir.



**Buna göre, bu grafik hangi yağış rejim tipine aittir?**

- A) Akdeniz yağış rejimi  
B) Karadeniz yağış rejimi  
C) İç Anadolu yarı karasal yağış rejimi  
D) Doğu Anadolu karasal yağış rejimi  
E) Akdeniz-Karadeniz geçiş yağış rejimi

6. Doğu Anadolu Bölgesi'nin kuzeydoğusunda, uzun boylu çayır örtüsü altında koyu renkli ve organik madde bakımından zengin topraklar gelişmiştir.

**Buna göre, özellikleri verilen toprak tipi aşağıdakilerden hangisidir?**

- A) Solancak  
B) Çernozyem  
C) Podsol  
D) Terra-Rossa  
E) Vertisol

7. Türkiye'nin jeomorfolojik özellikleri dikkate alındığında aşağıdakilerden hangisi söylenemez?

- A) Erzurum-Kars-Ardahan Platosu'nun oluşumunda akıcı lavların yayılması etkilidir.  
B) Taşeli Platosu'nda karstlaşma etkilidir.  
C) Üçüncü Zaman'da geniş alan kaplayan göller zamanla karlaşmıştır.  
D) Ege Bölgesi'ndeki doğu-batı uzantılı ovalar birer grabendir.  
E) Türkiye'deki volkanik dağlar üzerinde buzullar bulunmamaktadır.

8. Üniversitede arkadaş olan dört öğrenci, yaşadıkları kentler ve bu kentlerin ekonomik faaliyetleri hakkında aşağıdaki bilgileri vermişlerdir.

Ayşen: Yaşadığım kent Türkiye'nin en büyük maden kömürü havzasında yer alır.

Şahin: Akdeniz Bölgesi'nde bir kentte yaşıyorum. Kentteki en önemli sanayi kolu demir-çelik sektörüdür.

Ayhan: Benim yaşadığım kent kıyıda ve burada ham petrolü işleyen bir rafineri bulunmaktadır.

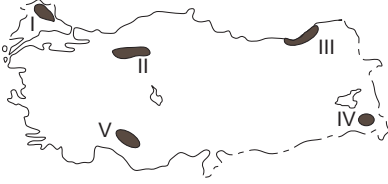
Burak: Yaşadığım kentte Türkiye'nin en küçük petrol rafinerisi bulunmaktadır. Rafineride işlenen petrol yöreden elde edilmektedir.

**Buna göre, aşağıdakilerden hangisi bu öğrencilerin yaşadıkları kentlerden biri değildir?**

- A) Zonguldak  
B) İskenderun  
C) Aliağa  
D) Batman  
E) E) Kırıkkale



9. Türkiye'de dağlık ve engebeli alanlar genellikle seyrek nüfusludur.



**Yukarıdaki haritada numaralandırılan alanlardan hangisi bu yargıya uymaktadır?**

- A) I B) II C) III D) IV E) V
10. Türkiye'de iç göçlerin yönüne bakıldığında genel olarak aşağıdakilerden hangisi **söylenemez**?
- A) Türkiye'nin doğusundan batısına doğrudur.  
 B) İç bölgelerden kıyılara doğrudur.  
 C) Yüksek alanlardan alçak alanlara doğrudur.  
 D) Doğal nüfus artışının en fazla olduğu illere yapılmaktadır.  
 E) En çok İstanbul, Ankara, İzmir gibi büyük kentlere yapılmaktadır.

11.

- I. Tekirdağ  
 II. Düzce  
 III. Eskişehir  
 IV. Kırşehir  
 V. Çorum

**Türkiye'de tarımı etkileyen coğrafi koşullar düşünüldüğünde, yukarıdaki illerin hangilerinde nadasa bırakılan alanların oranının daha düşük olması beklenir?**

- A) I ve II B) I ve III C) II ve IV  
 D) III ve V E) IV ve V

12. Türkiye'de ekonomik balıkçılık açısından Karadeniz önemli bir yer tutmaktadır. Ancak Karadeniz'de 200 metrenin altındaki derinliklerde canlı yaşamamaktadır.

**Bunun nedeni aşağıdakilerden hangisidir?**

- A) Güneş ışınlarının 200 metreden fazla derinlikte etkili olmaması  
 B) Karadeniz'e dökülen bazı nehirlerin taşıdığı kimyasal atıklar  
 C) 200 metreden fazla derinlikte bulunan kükürtlü hidrojen gazı  
 D) Karadeniz tabanındaki volkanik aktiviteler  
 E) 200 metreden fazla derinlikte su sıcaklığının canlı varlığına engel olması

13. Yer kabuğunun zayıf noktalarından çıkan sıcak su ve buhar, jeotermal enerji olarak ısıtma ve elektrik üretiminde kullanılır.

**Türkiye'de bu enerji kaynağı açısından elektrik üretimi potansiyeli en yüksek olan bölge aşağıdakilerden hangisidir?**

- A) Ege Bölgesi  
 B) İç Anadolu Bölgesi  
 C) Karadeniz Bölgesi  
 D) Akdeniz Bölgesi  
 E) Doğu Anadolu Bölgesi

14. Sanayinin gelişmesinde ham maddeye yakınlık önemlidir.

**Aşağıdakilerin hangisinde böyle bir ilişki bulunmamaktadır?**

- A) Afyonkarahisar - Mermer sanayi  
B) Kars - Süt mamulleri sanayi  
C) Adana - Pamuklu dokuma sanayi  
D) Ankara - Mobilya sanayi  
E) Bilecik - Seramik sanayi

15. Hasan: Türkiye’de özellikle Cumhuriyetin ilk yıllarında ulaşım politikalarında demir yolu yapımına öncelik verilmiştir.

Serap: Hasan seninle aynı görüşte değilim. Özellikle Cumhuriyetin ilk yıllarında kara yolu ulaşımına ağırlık veren bir politika izlenmiştir ve bu durum hâlen devam etmektedir.

Kerem: Türkiye’de son yıllarda hava yolu ulaşımında önemli gelişmeler olmaktadır. Örneğin daha önce havaalanı olmayan pek çok kentte havaalanları inşa edilmiş ve hava yolunu kullanan yolcu sayısı artmıştır.

Leyla: Türkiye’de son yıllarda demir yollarındaki gelişmeler de dikkat çekicidir. Yeni yapılan hatlarla birlikte demir yolu ana hat uzunluğu 25.000 km’yi geçmiştir.

**Türkiye’de ulaşım sistemlerinin gelişimiyle ilgili konuşan bu dört arkadaşın hangilerinin verdiği bilgiler doğrudur?**

- A) Hasan ve Kerem  
B) Hasan ve Leyla  
C) Serap ve Kerem  
D) Serap ve Leyla  
E) Kerem ve Leyla

16. Ülkelerin coğrafi özellikleri, ulaşım politikaları ve bu politikalara bağlı olarak oluşturulan ulaşım altyapıları, ulaşım sistemlerinin gelişiminde belirleyici rol oynar.

**Buna göre, Türkiye’deki ulaşım sistemlerine bağlı olarak yurt içi ve yurt dışı yük taşımacılığında egemen olan ulaşım çeşidi aşağıdakilerin hangisinde birlikte verilmiştir?**

Yurt içi      Yurt dışı

- A) Demir yolu      Kara yolu  
B) Kara yolu      Kara yolu  
C) Demir yolu      Deniz yolu  
D) Kara yolu      Deniz yolu  
E) Kara yolu      Hava yolu

17. Türkiye’nin 2023 Turizm Stratejisi’nde 7 tematik turizm gelişim koridoru belirlenmiştir. Bunlardan “kış koridoru” Erzurum, Erzincan, Kars ve Ardahan illerini kapsamaktadır.

**Belirtilen bölgenin kış koridoru olarak belirlenmesinde**

- I. kış devresinin uzun olması,  
II. kış mevsiminde ortalama sıcaklıkların düşük olması,  
III. kış mevsiminde donan çok sayıda göl bulunması

**faktörlerinden hangileri etkilidir?**

- A) Yalnız I      B) Yalnız III      C) I ve II  
D) I ve III      E) II ve III

18. Ovalar; tarım, yerleşme, sanayi kuruluşu için uygun alanları oluşturur.

**Buna göre, aşağıdaki ovalardan hangisi diğerlerinden farklı bir özellik göstermektedir?**

- A) Konya Ovası  
B) Erzincan Ovası  
C) Bursa Ovası  
D) Eskişehir Ovası  
E) Muş Ovası

1. Türkiye'de,
  - I. dört mevsim belirgin olarak yaşanması,
  - II. Akdeniz ikliminin etkili olması,
  - III. cephesel yağışların görülmesi,
  - IV. Batı rüzgârlarının etkili olması,

Orta Kuşak'ta (Dönence ile kutup dairesi arasında) yer alması ile ilgilidir.

Türkiye 36°- 42° kuzey paralelleri arasında yer aldığı için mutlak konumuna göre bir orta kuşak ülkesidir.

Orta Kuşak Güney Yarım Küre'de de bulunduğu için bu özellikler Güney Yarım Küre'nin orta kuşağında da geçerlidir. Sadece Kuzey Yarım Küre'deki ülkelerde görülmez.

**Cevap B**

2. Ege Bölgesi, genellikle horst ve graben sistemlerini meydana getiren tektonik hareketlerle şekillenmiştir. Bu hareketler ile bölge kıyılarında çoğunlukla doğu-batı yönünde uzanan kırık dağ sıraları oluşmuştur.

Bu şekillenme sonucunda;

- I. Akarsuların doğu-batı yönünde akması
- II. Kıyıların çok fazla girintili-çıkıntılı olması
- III. Kıyılarda çok sayıda doğal liman bulunması
- IV. Denizel hava kütlelerinin iç kısımlara kolay erişebilmesi söz konusudur.

Ancak aynı durum kıyı ile iç kesimler arasında ulaşımın **zor değil aksine kolay olmasına** neden olmuştur (dağların doğu-batı yönünde uzanmasına bağlı olarak).

**Cevap B**

3. Türkiye genel hatlarıyla yüksek, dağlık ve engebeli bir arazi yapısına sahiptir.

Bu durumun ortaya çıkmasında;

- I. Alp orojenezine bağlı olarak kuzey ve güneyde sıradağların oluşması
- II. Epirojenez ile Anadolu'nun yükselmesi
- III. Akarsu aşındırması ile engebenin artması
- IV. Aktif fayların bulunması ile kırılma, yükselme ve volkanizma gibi olaylar sonucu engebe ve yükseltinin artması söz konusu olmuştur.

Ancak farklı kayaç (taş) türlerinin bulunması yükselti ve engebeden ziyade oluşan şekillerin farklılığı üzerinde etkili olmuştur (aşınma hızları ve oluşan şekillerdeki farklılık gibi).

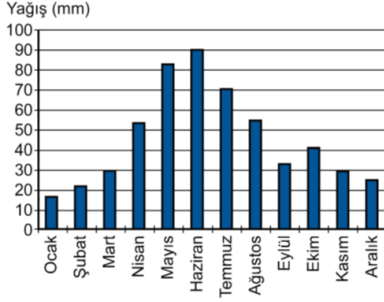
**Cevap E**

4. Heyelanlar, Karadeniz Bölgesi'nin önemli doğal afetlerindendir. İklim yer şekilleri toprak özellikleri ve bazen de beşerî etkenlere göre gerçekleşen bu doğal afetin Karadeniz'de sık görülmesinde;

- Yıllık yağış miktarının fazla olması,
- Tabaka eğimlerinin fazla olması,
- Doğal ve beşerî nedenlerle yamaç dengesinin bozulması,
- Killi kayaçların fazla olması etkili olmaktadır. **Ancak akarsu rejimleri bu doğal afetler ile ilgili değildir.** Akarsular ile ilişkilendirebilecek doğal afet taşkınlardır.

**Cevap B**

5.



Soruda verilen yağış rejimi grafiğine bakıldığında en fazla yağışın ilkbahar sonu, yaz başına denk geldiği, en az yağışın ise kışın düştüğü görülür.

Buna göre, bu grafik **Doğu Anadolu Karasal Yağış Rejimi** tipine uygunluk göstermektedir. Özellikle Kuzeydoğu Anadolu'da (Erzurum-Kars Bölümü) yükseltinin fazlalığı havanın ısınmasını geciktirerek konveksiyonel (yükselim) yağışların yaza doğru kaymasına neden olur (klasik karasalda en fazla yağış ilkbahar mevsiminde düşer). Aynı zamanda kışın düşen kar yağışları yağmura göre daha az su hacmini ifade ettiği için en az yağış değeri (mili metre cinsinden) kışın gerçekleşir.

**Cevap D**

6. Doğu Anadolu Bölgesi'nin kuzeydoğusunda, uzun boylu çayır örtüsü altında koyu renkli ve organik madde bakımından zengin topraklar gelişmiştir. **Bu tür topraklar çernozyemlerdir.**

Kara toprak olarak da isimlendirilen bu topraklar, Dünya'nın en verimli yeri toprağıdır, coğrafi olarak yarı nemli step bölgelerinde yağışın artış gösterdiği yüksek platolarda görülen topraklardır. Üzerindeki gür bitki örtüsünün düşük sıcaklığa bağlı olarak ayrışmaması nedeniyle humusça zengin olan koyu renkli topraklardır.

**Cevap B**

7. Türkiye'nin jeomorfolojik özellikleri dik-kate alındığında;

- I. Erzurum-Kars-Ardahan Platosu'nun oluşumunda akıcı lavların yayılması etkilidir.
- II. Taşeli Platosu'nda karstlaşma etkilidir.
- III. Üçüncü Zaman'da geniş alan kaplayan göller zamanla karalaşmıştır.
- IV. Ege Bölgesi'ndeki doğu-batı uzantılı ovalar birer grabendir.

bilgileri doğrudur. **Ancak "Türkiye'deki volkanik dağlar üzerinde buzullar bulunmamaktadır." bilgisi yanlıştır.** Ülke-mizdeki Ağrı, Süphan, Erciyes volkanik dağları üzerinde güncel buzullar bulunmaktadır.

**Cevap E**

8. Üniversitede arkadaş olan dört öğrenci, yaşadıkları kentler ve bu kentlerin ekonomik faaliyetleri hakkında bilgiler vermişlerdir.

Bu bilgiler ile yaşadıkları şehirler eşleştirildiğinde;

Ayşen: Yaşadığım kent Türkiye'nin en büyük maden kömürü havzasında yer alır. → **Zonguldak**

Şahin: Akdeniz Bölgesi'nde bir kentte yaşıyorum.

Kentteki en önemli sanayi kolu demir-çelik sektörüdür. → **İskenderun**

Ayhan: Benim yaşadığım kent kıydadır ve burada

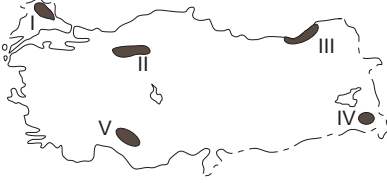
ham petrolü işleyen bir rafineri bulunmaktadır. → **Aliağa**

Burak: Yaşadığım kentte Türkiye'nin en küçük petrol rafinerisi bulunmaktadır. Rafineride işlenen petrol yöreden elde edilmektedir. → **Batman**

Ancak Kırkkale ile ilgili bir özellik öğrenciler tarafından verilmemiştir.

**Cevap E**

9. Türkiye’de dağlık ve engebeli alanlar genellikle seyrek nüfusludur.



Haritada gösterilen;

- I → Yıldız Dağları Yöresi  
 II → Koroğlu Dağları Yöresi  
 III → Hakkâri Dağları Yöresi  
 IV → Batı - Orta Toroslar Yöresi

Dağlık ve engebeli olduğu için تنها nüfuslanmış alanlardır. Ancak III numara ile gösterilen **Doğu Karadeniz kıyı kesimi dağlık ve engebeli olmasına rağmen yoğun nüfuslanmıştır**. Doğu Karadeniz kıyıları yoğun nüfuslu iken iç kesimleri (Gümüşhane-Bayburt çevresi) تنها nüfusludur.

**Cevap C**

10. Türkiye’de iç göçlerin yönüne bakıldığında genel olarak;
- Türkiye’nin doğusundan batısına doğrudur.(A)
  - İç bölgelerden kıyılara doğrudur.(B)
  - Yüksek alanlardan alçak alanlara doğrudur.(C)
  - En çok İstanbul, Ankara, İzmir gibi büyük kentlere yapılmaktadır.(E)

bilgileri doğrudur. Ancak ülkemizdeki göç yönleri ile ilgili olarak “**Doğal nüfus artışının en fazla olduğu illere yapılmaktadır.**” bilgisi yanlıştır. Doğal nüfus artışının fazla olduğu iller genellikle Doğu ve Güneydoğu’daki geri kalmış illerdir, göç yönü bu illere doğru değil, bu illerden daha fazla gelişmiş illere doğrudur.

**Cevap D**

11. Türkiye’de tarımı etkileyen en önemli coğrafi koşul iklimdir. İklim koşullarına bağlı olarak özellikle iç bölgelerdeki tarımsal alanlarda nadas (tarım alanının bir yıl ekilip sonraki yıl boş bırakılması) uygulaması yapılmaktadır. Buna göre soruda verilen karasal iklime sahip illerden Eskişehir (III) , Kırşehir (IV) ve Çorum’da (V) nadas alanları oranı daha fazla iken, kıyı ili olan **Tekirdağ (I) ve Düzce’de (II)** daha azdır.

**Cevap A**

12. Türkiye’de ekonomik balıkçılık açısından Karadeniz önemli bir yer tutmaktadır. Ancak Karadeniz’de 200 metrenin altındaki derinliklerde canlı yaşamamaktadır.

**Bunun nedeni 200 metreden fazla derinlikte bulunan kükürtlü hidrojen gazıdır.** Karadeniz eskiden tatlı su gölü iken sonradan denize dönüşerek tuzlu suya kavuşmuş ve buda içerisinde yaşayan canlıların ölüp deniz dibine çökerek çürümeleri sonucunda kükürtlü hidrojen gazının açığa çıkmasına neden olmuştur.

**Cevap C**

13. Yer kabuğunun zayıf noktalarından çıkan sıcak su ve buhar, jeotermal enerji olarak ısıtma ve elektrik üretiminde kullanılır. Türkiye’de bu enerji kaynağı açısından elektrik üretimi potansiyeli en yüksek olan bölge Ege Bölgesi’dir. Batı Anadolu fay hattına sahip olan **Ege Bölge’si ülkemizdeki jeotermal potansiyelin yaklaşık %70’ine sahiptir.**

**Cevap A**

14. Sanayinin gelişmesinde ham maddeye yakınlık önemlidir.  
Soruda verilen;

- Afyonkarahisar - Mermer sanayi (A)
- Kars - Süt mamulleri sanayi (B)
- Adana - Pamuklu dokuma sanayi (C)
- Bilecik - Seramik sanayi (kil ve kolen) (E)

Sanayi kollarının gelişiminde o alanlardaki ham madde olanakları etkili olmuştur.

Ancak orman varlığı açısından zengin olmayan Ankara'da mobilya sanayinin gelişimi daha çok pazar olanakları ile ilgilidir.

**Cevap D**

15. Soruda verilen öncüllerde ulaşım ile ilgili konuşan dört arkadaşın verdiği;

**Hasan:** Türkiye'de özellikle Cumhuriyetin ilk yıllarında ulaşım politikalarında demir yolu yapımına öncelik verilmiştir.

**Kerem:** Türkiye'de son yıllarda hava yolu ulaşımında önemli gelişmeler olmaktadır. Örneğin daha önce havaalanı olmayan pek çok kentte havaalanları inşa edilmiş ve hava yolunu kullanan yolcu sayısı artmıştır.

bilgileri doğrudur.

**Cevap A**

16. Ülkelerin coğrafi özellikleri, ulaşım politikaları ve bu politikalara bağlı olarak oluşturulan ulaşım altyapıları, ulaşım sistemlerinin gelişiminde belirleyici rol oynar. Türkiye'deki ulaşım sistemlerine bağlı olarak yurt içi yük taşımacılığında **kara yolu**, yurt dışı yük taşımacılığında egemen olan ulaşım çeşidi ise **deniz yolu**'dur.

**Cevap D**

17. Türkiye'nin 2023 Turizm Stratejisi'nde 7 tematik turizm gelişim koridoru belirlenmiştir. Bunlardan "kış koridoru" Erzurum, Erzincan, Kars ve Ardahan illerini kapsamaktadır.

Belirtilen bölgenin kış koridoru olarak belirlenmesinde;

- I. kış devresinin uzun olması (I)
- II. kış mevsiminde ortalama sıcaklıkların düşük olması (II)

etkili olmuştur.

**Cevap C**

18. Ovalar; tarım, yerleşme, sanayi kuruluşu için uygun alanları oluşturur.

Soruda verilen Konya, Bursa, Erzincan, Eskişehir tarım sanayi yerleşme ulaşım açısından daha elverişli alanlar oluştururken Muş Ovası sanayi açısından elverişli bir alanda yer almaz.

**Cevap E**

1. Türkiye'yi etkileyen aşağıdaki basınç merkezlerinden hangisi muson sisteminin bir parçasıdır?

A) İzlanda Alçak Basınç Merkezi  
 B) Basra Alçak Basınç Merkezi  
 C) Azor Yüksek Basınç Merkezi  
 D) Akdeniz Alçak Basınç Merkezi  
 E) Sibirya Yüksek Basınç Merkezi

2. Çok sayıda akarsuyun bulunduğu Türkiye'de, akarsu vadilerinin büyük bölümünün "V" şeklinde bir profile sahip olduğu görülür.

**Bu durumun başlıca nedeni aşağıdakilerden hangisidir?**

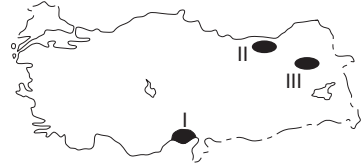
A) Yamaç eğim değerlerinin fazla olması  
 B) İlbahardaki kar erimelerinin fazla olması  
 C) Akarsuların denge profiline ulaşmamış olması  
 D) Zemindeki kayaç yapısının dirençsiz olması  
 E) Açık havza akarsuları olması

3. Tatilini geçirmek üzere Türkiye'ye gelen bir turist, Türkiye'de kaldığı dönemde gece süresinin gittikçe kısalmasıyla birlikte gündüz süresine göre daha uzun olduğunu fark etmiştir.

**Buna göre turistin hangi tarihler arasında Türkiye'de olduğu söylenebilir?**

A) 31 Ocak - 11 Şubat  
 B) 1 - 11 Nisan  
 C) 8 - 18 Temmuz  
 D) 30 Eylül - 11 Ekim  
 E) 11 - 21 Aralık

4.



**Haritada numaralarla gösterilen alanlarda yaygın olarak görülen toprak tipleri aşağıdakilerin hangisinde doğru olarak eşleştirilmiştir?**

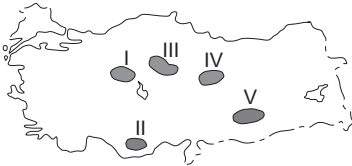
	I	II	III
A)	Alüvyal	Kahverengi orman	Çernezyom
B)	Terra-Rossa	Alüvyal	Çernezyom
C)	Terra-Rossa	Kahverengi orman	Alüvyal
D)	Alüvyal	Çernezyom	Kahverengi orman
E)	Çernezyom	Alüvyal	Kahverengi orman

5. Türkiye kışın genellikle kuzey sektörlü soğuk ve nemli hava kütlelerinin, yazın ise güney sektörlü sıcak ve kuru hava kütlelerinin etkisinde kalır.

**Bu durum Türkiye'nin başlıca hangi özelliğinden kaynaklanmaktadır?**

- A) Orta kesimlerinde geniş düzlüklerin bulunmasından  
B) Üç tarafının denizlerle çevrili olmasından  
C) Kuzeyinde ve güneyinde yüksek dağ sıralarının bulunmasından  
D) Ortalama yükseltisinin fazla olmasından  
E) Mutlak konumundan

6. Platolar, Türkiye arazisi içinde geniş yer kaplamaktadır. Bu alanlarda genellikle kuru tarım ve hayvancılık faaliyetleri yapılmaktadır.



**Buna göre yukarıdaki haritada numaralarla gösterilen platolardan hangisi bu faaliyetlerin her ikisi bakımından bu genellemeye uymamaktadır?**

- A) I B) II C) III D) IV E) V

7. **Aşağıdaki ova ve oluşum kökeni eşleştirmelerinden hangisi yanlıştır?**

- A) Elmalı – Karstik  
B) Bafra – Delta  
C) Nazilli – Tektonik  
D) Merzifon – Tektonik  
E) Ergene – Delta

8. **Aşağıdakilerden hangisi, Türkiye'nin 1927-2022 dönemine ait nüfus gelişim özelliklerinden biri değildir?**

- A) Kırsal nüfus oranı geçmişten günümüze azalmaktadır.  
B) Ortalama yaşam süresi uzamaktadır.  
C) Aritmetik nüfus yoğunluğu artarak devam etmektedir.  
D) Geçmişten günümüze nüfus artışı hızı yükselmektedir.  
E) Şehirli nüfus miktarı artmaya devam etmektedir.

9. Türkiye, geçici kırsal yerleşmeler bakımından çeşitlilik göstermektedir. Bu yerleşmelerdeki temel ekonomik faaliyet türü; hayvancılık, bazen de tarım olmaktadır.

**Aşağıdakilerden hangisi bu tür yerleşmelerden biri değildir?**

- A) Yayla B) Oba C) Kom  
D) Ağıl E) Mahalle



KPSS  
2024

GENEL YETENEK  
GENEL KÜLTÜR

VATANDAŞLIK

TAMAMI ÇÖZÜMLÜ  
ÇIKMIŞ  
SORULAR

SON  
10  
YIL

 ÖGRETİ AKADEMİ

# ÖĞRETİ AKADEMİ

## Komisyon

### GYGK VATANDAŞLIK TAMAMI ÇÖZÜMLÜ ÇIKMIŞ SORULAR

ISBN 978-625-6764-53-8

Kitapta yer alan bölümlerin tüm sorumluluğu yazarlarına aittir.

Bu kitabın basım, yayım ve satış hakları Pegem Akademi Yay. Eğt. Dan. Hizm. Tic. AŞ'ye aittir. (Öğreti Akademi yayınları bir Pegem Akademi markasıdır.) Anılan kuruluşun izni alınmadan kitabın tümü ya da bölümleri, kapak tasarımı; mekanik, elektronik, fotokopi, manyetik kayıt ya da başka yöntemlerle çoğaltılamaz, basılamaz ve dağıtılamaz. Bu kitap, T.C. Kültür ve Turizm Bakanlığı bandrolü ile satılmaktadır. Okuyucularımızın bandrolü olmayan kitaplar hakkında yayınevimize bilgi vermesini ve bandrolsüz yayınları satın almamasını diliyoruz.

**1. Baskı:** 2023, Ankara

Yayın-Proje: Şewal Aksoy  
Dizgi-Grafik Tasarım: Gülnur Öcalan  
Kapak Tasarımı: Öğreti Akademi

**Baskı:** Vadi Grup Basım AŞ  
Saray Mah. 126 Cad. No: 20/A  
Kazan/ANKARA  
Tel: (0312) 802 00 53-54

Yayıncı Sertifika No: 51818  
Matbaa Sertifika No: 49180

## İletişim

Shira Ticaret Merkezi, Macun Mahallesi 204 Cad.  
No: 141/33, Yenimahalle/Ankara  
Yayınevi: 0312 430 67 50  
Dağıtım: 0312 434 54 24  
Hazırlık Kursları: 0312 419 05 60  
İnternet: [www.ogreti.com](http://www.ogreti.com)  
E-ileti: [ogreti@ogreti.com.tr](mailto:ogreti@ogreti.com.tr)  
WhatsApp Hattı: 0538 594 92 40

Değerli KPSS Adayları,

KPSS'ye hazırlanan adaylarımız KPSS'de çıkan soruları incelemek, çözmek ve kendini geliştirmek, eksiklerini fark edip tamamlamak amacıyla çalışmalarına dâhil etmektedir. Lisans mezunu adayların bu yönde yaptıkları çalışmaların başarı oranları üzerindeki olumlu etkisi göz ardı edilemeyeceğinden kitabımızda 2014-2023 yılları arasında yapılan KPSS Genel Kültür Vatandaşlık alanında yöneltilen tüm sorulara yer verilmiştir.

Lisans mezunu adayların geleceğe umutla bakabilmelerine, eğitimini aldıkları alanda kendilerini gerçekleştirilmelerine ve karşılıklarına çıkan engelleri aşmalarına yardımcı olması amacıyla hazırlanan KPSS Tamamı Çözömlü Genel Yetenek-Genel Kültür Vatandaşlık Çıkmış Sorular kitabı ile sizlere faydalı olacağımızı umuyor ve hepinize başarılar diliyoruz.

**Öğreti Akademi Yayıncılık**

## İÇİNDEKİLER

2014 GYGK Vatandaşlık Çıkmış Sorular.....	1
2015 GYGK Vatandaşlık Çıkmış Sorular.....	6
2016 GYGK Vatandaşlık Çıkmış Sorular.....	12
2017 GYGK Vatandaşlık Çıkmış Sorular.....	17
2018 GYGK Vatandaşlık Çıkmış Sorular.....	22
2019 GYGK Vatandaşlık Çıkmış Sorular.....	28
2020 GYGK Vatandaşlık Çıkmış Sorular.....	34
2021 GYGK Vatandaşlık Çıkmış Sorular.....	41
2022 GYGK Vatandaşlık Çıkmış Sorular.....	46
2023 GYGK Vatandaşlık Çıkmış Sorular.....	53
Cevap Anahtarı.....	59

1. I. Yönetmelik  
II. Kanun hükmünde kararname  
III. Tüzük  
**Hukukumuzda normlar hiyerarşisi bakımından, numaralandırılmış normların üstlük-astlık ilişkisine göre sıralanışı aşağıdakilerin hangisinde verilmiştir?**  
A) II - I - III B) III - II - I C) II - III - I  
D) I - III - II E) III - I - II
2. **Aşağıdakilerden hangisinin yargı denetimi yaptığı alanda, kendisinden başka ilk derece ve üst derece mahkemesi bulunmamaktadır?**  
A) Askerî Yüksek İdare Mahkemesi  
B) Askerî Yargıtay  
C) Bölge adliye mahkemesi  
D) Danıştay  
E) Bölge idare mahkemesi
3. **Bir kimsenin, bilerek sebep olmadığı bir tehlikeden kendisini veya bir başkasını kurtarmak için, bu tehlikle ilgili olmayan üçüncü bir kişinin malına zarar vermesi hâline ne ad verilir?**  
A) Meşru müdafaa  
B) İztirar hâli  
C) Haksız tahrik  
D) Nispi hak  
E) Hakkin kötüye kullanılması
4. **1982 Anayasası'na göre, Hâkimler ve Savcılar Yüksek Kurulu Başkanı aşağıdakilerden hangisidir?**  
A) Uyuşmazlık Mahkemesi Başkanı  
B) Danıştay Başkanı  
C) Yargıtay Başkanı  
D) Adalet Bakanı  
E) Adalet Bakanlığı Müsteşarı
5. **1982 Anayasası'na göre, milletvekillerinin yasama dokunulmazlığını kaldırma yetkisi aşağıdakilerden hangisine aittir?**  
A) Türkiye Büyük Millet Meclisi Başkanı  
B) Danıştay  
C) Yüksek Seçim Kurulu  
D) Anayasa Mahkemesi  
E) Türkiye Büyük Millet Meclisi Genel Kurulu
6. **Türkiye'de gizli oy-açık sayım ve döküm ilkesine uygun olarak ilk milletvekili seçimi hangi yıl yapılmıştır?**  
A) 1946 B) 1950 C) 1954  
D) 1957 E) 1961
7. **Türk idare hukukunda, merkezî idareye ait bazı yetkilerin taşradaki idareci tarafından merkez adına kullanılabilmesine ne ad verilir?**  
A) Hiyerarşi  
B) İdarenin bütünlüğü  
C) İdari vesayet  
D) Yerinden yönetim  
E) Yetki genişliği

8. Jandarma Genel Komutanlığı, idari kolluk görevleri bakımından aşağıdakilerden hangisine bağlıdır?  
 A) İçişleri Bakanlığı  
 B) Başbakanlık  
 C) Genelkurmay Başkanlığı  
 D) Millî Savunma Bakanlığı  
 E) Adalet Bakanlığı
9. Bir yerleşim biriminde belediye kurulabilmesi için nüfusun en az kaç olması gerekir?  
 A) 20.000 B) 10.000 C) 7.500  
 D) 5.000 E) 1.000
10. İktisatın bir bilim hâline gelişinin öncüsü olan, 1776 yılında yayımlanan ve kısaca *Ulusların Zenginliği* adıyla anılan eserin yazarı aşağıdakilerden hangisidir?  
 A) Adam Smith  
 B) David Hume  
 C) John Locke  
 D) Jacques Turgot  
 E) François Quesnay
11. Ortalama 4.900 metre rakımıyla Dünya'nın en yüksek bölgesi olan ve "Dünya'nın Çatısı" olarak adlandırılan ülke aşağıdakilerden hangisidir?  
 A) Hindistan  
 B) Tibet  
 C) Çin  
 D) Afganistan  
 E) Nepal
12. *Mesnevî*, *Divan-ı Kebir* adlı eserleriyle tanınan, Mevlevîliğin öncüsü olan mu-tasavvîf şair ve düşünce adamı aşağıdakilerden hangisidir?  
 A) Hacı Bektaş-ı Velî  
 B) Yunus Emre  
 C) Mevlana  
 D) Gazalî  
 E) Hacı Bayram-ı Velî
13. "Evrenin merkezinin Dünya değil, Güneş olduğu" tezini geri çekmediği için en-gizisyon mahkemesi tarafından 1633 yılında hapse mahkûm edilen bilim in-sanı aşağıdakilerden hangisidir?  
 A) Nicolaus Copernicus  
 B) Jonhannes Kepler  
 C) Isaac Newton  
 D) Galileo Galilei  
 E) Leonardo da Vinci
14. 8 Mart 2014 tarihinde Malezya'nın başkenti Kuala Lumpur'dan havalan-dıktan sonra içindeki 227 yolcu ve 12 mürettebatla kaybolan uçak aşağıdaki şehirlerden hangisine gitmekteydi?  
 A) Manila B) Seul C) Bangkok  
 D) Tokyo E) Pekin
15. *Yüzyıllık Yalnızlık* romanıyla tanınan ve 2014 yılı Nisan ayında hayatını kaybe-den, Nobel ödüllü edebiyatçı aşağıda-kilerden hangisidir?  
 A) Gabriel García Márquez  
 B) Mario Vargas Llosa  
 C) Umberto Eco  
 D) Dan Brown  
 E) Jorge Luis Borges

1. **Normlar hiyerarşisi**, hukuk normlarının derecesini ve kuvvetini belirler. Hukuk düzeninde var olan norm çokluğu genellikle piramide benzetilir. Piramit ise anayasa, kanun, kanun hükmünde kararname, uluslararası anlaşmalar, tüzük, yönetmelik ve genelgelerden (adsız düzenleyici işlemlerden) oluşan birden çok normun varlığını tanımlar. Normlar hiyerarşisi, hukuk düzeni piramidi olarak da tanımlanır. Hukuk düzenindeki normlar, altlık-üstlük ilişkisi içindedir. Altteki norm üstteki normun işleyişini, hayata geçirmesini sağlar. Normlar hiyerarşisinin en üstünde anayasa yer almaktadır. Anayasanın altında kanun, kanuna eş değer kanun hükmünde kararname, kanuna eş değer olan uluslararası anlaşmalar yer alır. Kanundan sonra tüzük, ardından yönetmelik ve adsız düzenleyici işlemler (sirküler, tamim, genelge, yönerge gibi..) Kanunlar anayasaya, tüzükler kanuna, yönetmelikler tüzüğe aykırı olamaz.



**Cevap C**

2. **Askerî Yüksek İdare Mahkemesinin** yargı denetimi yaptığı alanda, kendisinden başka ilk derece ve üst derece mahkemesi bulunmamaktadır. Askerî Yüksek İdare Mahkemesi; Türkiye Cumhuriyeti Anayasası ile görevlendirilmiş bağımsız bir yüksek mahkemedir. Askerî Yüksek İdare Mahkemesi, Türk Milleti adına, askerî olmayan makamlarla tesis edilmiş olsa bile, asker kişileri ilgilendiren ve askerî hizmete ilişkin idari işlem ve eylemlerden doğan uyuşmazlıkların ilk ve son derece mahkemesi olarak yargı denetimini ve diğer kanunlarda gösterilen görevleri yapar. Alt mahkemesi yoktur. Askerî Yüksek İdare Mahkemesinin kuruluşu, işleyişi, yargılama usulleri, mensuplarının disiplin ve özlük işleri; mahkemelerin bağımsızlığı ve hâkimlik teminatı esaslarına göre kanunla düzenlenir.

★ 2017 Anayasa değişikliği ile Askerî Yüksek İdare Mahkemesi kaldırılmıştır.

**Cevap A**

3. **Meşru müdafaa (haklı savunma)**, bir kişinin hayatına, özgürlüğüne, beden tamliğine, haysiyetine veya malına yönelik bir saldırıda, o kişiyi belirli şartlar altında kuvvet kullanarak bu saldırıyı uzaklaştırma imkânı vermektedir.

**Zaruret (ıztırar) hâli**, bir kişinin kendisini veya başkasını açık ya da yakın bir zarar tehlikesinden korumak için diğer bir kişinin mallarına zarar vermesidir. Bir kimse- nin, bilerek sebep olmadığı bir tehlikeden kendisini veya bir başkasını kurtarmak için, bu tehlikeyle ilgili olmayan üçüncü bir kişinin malına zarar vermesi hâlidir. Böyle bir durumda hâkim, ortaya çıkan zararın tazmin yükümlülüğünü hakkaniyete göre belirleyecektir.

**Hakkın kötüye kullanılması**; bir hakkın dürüstlük kurallarına açıkça aykırı şekilde ve özellikle amacı dışında kullanılmış ve bundan da başkalarının zarar görmüş veya zarar görme tehlikesiyle karşılaşmış olmaları demektir.

**Haksız tahrik**, ceza sorumluluğunu azaltan neden olarak öngörülmüştür. Hukuken cezada indirim sebebi niteliği taşıyan ve kişi üzerinde büyük elem ve ızdırap yaratması sonucu kişiyi suça iten karşı taraf eylemidir.

**Nispi hak**, herkese karşı ileri sürülemeyen sadece bazı kişilere karşı ileri sürülen haklardır. Alacak hakkı vb...

**Cevap B**

4. **Hâkimler ve Savcılar Yüksek Kurulu**, yargı bağımsızlığı ve tarafsızlığı ilkelerini esas alarak yargı hizmetlerinin adil, hızlı ve etkin bir şekilde yürütülmesini sağlamak amacıyla; hâkim ve savcılarla ilgili iş ve işlemlerin; adalet, tarafsızlık, doğruluk, dürüstlük, tutarlılık, eşitlik, ehliyet ve liyakat ilkeleri çerçevesinde yürütülmesini temin etmek amaçlı kurulmuştur. Kurulun başkanı Adalet bakanı olup müsteşar kurulunun tabii üyesidir.

**Cevap D**

5. **Yasama dokunulmazlığı**, seçimden önce veya sonra bir suç işlediği öne sürülen milletvekilinin, TBMM Genel Kurulunun kararı olmadıkça tutulmaması, sorguya çekilememesi, tutuklanmaması ve yargılanmamasıdır. 1982 Anayasası'na göre, milletvekillerinin yasama dokunulmazlığını kaldırma yetkisi TBMM Genel Kuruluna aittir. Yasama dokunulmazlığı, mutlak ve sürekli değildir. Yasama dokunulmazlığının kaldırılmasının iptali için ise 7 gün içinde Anaya Mahkemesine başvurulur. Anayasa Mahkemesi 15 gün içinde karar verir.

**Cevap E**

6. **Gizli oy ilkesi**, yani oyun gizli olarak verilmesi ilkesi, seçmenin iradesini serbestçe ve her türlü baskıdan uzak biçimde ortaya koymasını sağlar. Türkiye'de gizli oy ilkesi ilk defa 1950 seçimlerinde uygulanmıştır.

**Cevap B**

7. **Yetki genişliği**, bir yerin veya bir hizmetin başında bulunan amire, aslında merkeze ait olan karar alma ve uygulama gibi kamu gücünden kaynaklanan yetkilerin tanınması durumudur. Yani, taşradaki amirin merkeze danışmadan karar alabilmesidir.

**Hiyerarşi**, başkent ve taşra arasında bütünlüğü sağlamak için oluşturan hukuki bağıdır. Başkent teşkilatının taşra örgütleri üzerindeki denetim aracıdır.

**İdarenin bütünlüğü ilkesine göre**, idare, teşkilat ve görevleriyle bir bütündür ve kanuna dayanır. İdari teşkilat, tekçi (üniter) devlet ilkesi gereğince bir uyum ve bütünlük içinde çalışmalıdır.

**Yerinden yönetim**, merkezin üstlenmediği kimi kamu hizmetlerinin merkezden ayrı ve özerk kamu idareleri tarafından yürütülmesidir.

**İdari vesayet**, merkezi idarenin yerinden yönetim kuruluşları üzerinde sahip olduğu denetim yetkisidir.

**Cevap E**



8. **Jandarma**, idari ve kolluk yetkileri yönüyle İçişleri Bakanlığına bağlıdır. İçişleri Bakanı gerektiğinde Bakanlar Kurulu kararı ile ordu birliklerinden istifade edebilir.

**Cevap A**

9. Belediye, belde sakinlerinin mahallî müşterek nitelikteki ihtiyaçlarını karşılamak üzere kurulan ve karar organı seçmenler tarafından seçilerek oluşturulan, idari ve mali özerkliğe sahip kamu tüzel kişidir. Nüfusu 5.000 ve üzerinde olan yerleşim birimlerinde belediye kurulabilir. İl ve ilçe merkezlerinde belediye kurulması zorunludur.

**Cevap D**

10. *Ulusların Zenginliği*, ekonomi disiplinin oluşumunda ve aynı zamanda özerk ve sistematik hâle gelmesi konusunda önemli bir yere bir sahiptir. 1776'da yazılmıştır ve merkantilizme yönelik klasik bir bildirgeye dönüşmüştür. İktisatın bir bilim hâline gelişinin öncüsü olan "İktisatın Açılış Kitabı" olarak da kabul edilen kitabın yazarı Adam Smith'tir.

**Cevap A**

11. Soru iptal edilmiştir.

12. Mevlânâ Celâleddin-i Rumi, Tasavvufî Mevlevî yolunun öncüsüdür. Eserleri;

- Mesnevi,
- Büyük Divan (Divan-ı Kebir)
- Mecalis-i Seb'a
- Mektubat'tır.

**Cevap C**

13. Güneş merkezli evren kuramı, güneşin merkezde olduğunu ve diğer gezegenlerin onun etrafında döndüğünün görüşüdür. Aristarchus, evrenin merkezinde Dünya'nın değil de güneşin olduğunu savunan ilk kişidir. Galileo Galilei de güneş merkezli evren kuramını benimsemiştir. Dünya-Evren teorisi Katolik Kilisesinin benimsemediği bir görüş olduğundan iki kez 1600'lü yıllarda Engizisyon mahkemesinde yargılanmıştır. İşkenceyle tehdit edilince, "Görmedim, duymadım ve bilmiyorum." diyerek söylediğini inkâr etmiş ve ev hapsine mahkûm edilmiştir. Medicilerle arasının iyi olması sayesinde ömrünün kalan yıllarını Floransa yakınlarındaki lüks bir villada geçirmiştir. Katolik Kilisesi ise 1992 yılında, 8 Ocak 1642'de ölen Galileo Galilei'nin itibarını iade etmiştir.

**Cevap D**

14. Malezya Kuala Lumpur'dan Pekin'e gitmek üzere havalanan 12 mürettebat ve 227 yolcusu bulunan Boeing 777-200 tipi uçak havada kaybolmuştur.

**Cevap E**

15. *Yüzyıllık Yalnızlık*, 1982 Nobel Edebiyat Ödüllü, Kolombiyalı yazar Gabriel García Márquez'in 1967 yılında Meksika'da kaleme aldığı başyapıtı olarak kabul edilen eserdir.

**Cevap A**

1. 6098 sayılı Türk Borçlar Kanunu madde 91: "Borcun ifası için bir ayın başlangıcı veya sonu belirlenmişse, bundan ayın birinci ve sonuncu günü; ayın ortası belirlenmişse, bundan da ayın on beşinci günü anlaşılır."  
**Bu kural, niteliğine göre aşağıdakilerden hangisine örnek olarak verilebilir?**
- A) Emredici hukuk kuralı  
B) Yasaklayıcı hukuk kuralı  
C) Tamamlayıcı hukuk kuralı  
D) Yorumlayıcı hukuk kuralı  
E) Tanımlayıcı hukuk kuralı
2. Bir otel işletmecisinin, müşterisinin kendisine bıraktığı eşya üzerinde ödenmeyen otel ücreti nedeniyle alacağını güvence altına almak için hapis hakkına sahip olması durumu aşağıdakilerden hangisiyle ifade edilir?
- A) Haklı savunma  
B) Zorunluluk hâli  
C) Kendi hakkını kendi gücüyle koruma  
D) Kıyas  
E) Diyet usulü
3. Adli yargı kolundaki üst derece mahkemesi aşağıdakilerden hangisidir?
- A) Danıştay  
B) Yargıtay  
C) Uyuşmazlık Mahkemesi  
D) Anayasa Mahkemesi  
E) Askerî Yüksek İdare Mahkemesi
4. 1982 Anayasası'na göre, aşağıdakilerden hangisi milletvekili seçilebilme şartlarından biri **değildir**?
- A) Türk vatandaşı olmak  
B) Kısıtlı olmamak  
C) Kamu hizmetlerinden yasaklı olmamak  
D) Yükümlü olduğu askerlik hizmetini yapmış olmak  
E) On sekiz yaşını doldurmuş olmak
5. 1982 Anayasası'na göre, aşağıdakilerden hangisi siyasi haklar ve ödevler başlığı altında **düzenlenmemiştir**?
- A) Türk vatandaşlığı  
B) Seçme, seçilme ve siyasi faaliyette bulunma hakları  
C) Kamu hizmetlerine girme hakkı  
D) Dilekçe, bilgi edinme ve kamu denetçisine başvurma hakkı  
E) İspat hakkı
6. 1982 Anayasası'na göre, aşağıdaki yüksek mahkemelerden hangisinin üyelerinin tamamı Hâkimler ve Savcılar Yüksek Kurulu tarafından seçilir?
- A) Yargıtay  
B) Danıştay  
C) Askerî Yargıtay  
D) Askerî Yüksek İdare Mahkemesi  
E) Uyuşmazlık Mahkemesi

7. İllerin kurulması, kaldırılması ve adlarının değiştirilmesi aşağıdakilerden hangisiyle gerçekleşir?
- A) Kanun  
B) Tüzük  
C) Yönetmelik  
D) Bakanlar Kurulu kararı  
E) Müşterek kararname
8. Devlet kamu hizmetleri görevlerine girmek, sınıflar içerisinde ilerlemek ve yükselmek açısından bireylerin bilgi ve yeteneklerini esas alan temel ilke aşağıdakilerden hangisidir?
- A) Derecelendirme  
B) Kademelendirme  
C) Sınıflandırma  
D) Kariyer  
E) Liyakat
9. Sayıştay, merkezî yönetim bütçesi kapsamındaki kamu idareleri ve sosyal güvenlik kurumlarının bütün gelir ve giderleri ile mallarını aşağıdakilerden hangisi adına denetler?
- A) Cumhurbaşkanı  
B) Türkiye Büyük Millet Meclisi  
C) Bakanlar Kurulu  
D) Başbakan  
E) Maliye Bakanlığı
10. 26 Nisan 2015 tarihinde yapılan seçimde Nursultan Nazarbayev'in %97'nin üzerinde oyla yeniden devlet başkanı seçtiği ülke aşağıdakilerden hangisidir?
- A) Tacikistan  
B) Kazakistan  
C) Türkmenistan  
D) Özbekistan  
E) Kırgızistan
11. 10 Şubat 2015 tarihinde yapılan toplantıda Anayasa Mahkemesi Başkanlığına aşağıdakilerden hangisi seçilmiştir?
- A) İsmail Rüştü Cirit  
B) Kenan İpek  
C) Ömer Cihad Vardan  
D) Vacit Öktem  
E) Zühtü Arslan
12. Türkiye'de sokağa çıkma yasağının uygulandığı son nüfus sayımı, aşağıdaki yılların hangisinde gerçekleştirilmiştir?
- A) 1980 B) 1985 C) 1990  
D) 2000 E) 2009
13. Bilim adamlarının "Kızıl Gezegen" olarak isimlendirdiği ve Dünya'dan yaklaşık iki kat daha küçük olan gezegen aşağıdakilerden hangisidir?
- A) Neptün B) Merkür C) Venüs  
D) Mars E) Jüpiter
14. Türkiye'nin İstiklal Madalyası'na sahip ilk ili aşağıdakilerden hangisidir?
- A) İzmir  
B) Şanlıurfa  
C) Kahramanmaraş  
D) Gaziantep  
E) Samsun
15. Aşağıdakilerden hangisi Yaşar Kemal'in eserlerinden biri değildir?
- A) *İnce Memed*  
B) *Yer Demir Gök Bakır*  
C) *Ağrı Dağı Efsanesi*  
D) *Esir Şehrin İnsanları*  
E) *Yılanı Öldürseler*

1. Emredici hukuk, mutlaka uyulması gereken, kesinlik ifade eden kurallardır.

Tamamlayıcı hukuk, aksi kararlaştırılmadıkları takdirde tarafların iradeleri ile uygulanan kurallardır.

Tanımlayıcı hukuk kuralları; bir hukuki kavramın, bir müessesenin, normun hangi anlama geldiğini açıklayan kurallardır. Aynı zamanda emredici hukuk kurallarıdır.

Yorumlayıcı hukuk, birden fazla anlamı olan eylem ve beyanların yorumudur. Sözleşme hükümlerini açıklığa kavuşturan kurallardır. 6098 sayılı Türk Borçlar Kanunu'ndaki 91. maddede yer alan "Borcun ifası için bir ayın başlangıcı veya sonu belirlenmişse, bundan ayın birinci ve sonuncu günü; ayın ortası belirlenmişse bundan da ayın on beşinci gününün anlaşılması" ifadesi de yorumlayıcı hukuk kurallarına dairdir. Tarafların hukuki bir işlemde kullandıkları ve ne anlama geldiğini açıklamadıkları hususlara dair bir hüküm kanunda öngörülmüşse o hüküm de yorumlayıcıdır.

**Cevap D**

2. Haklı savunma (meşru müdafaa), bir kimşenin kendi şahsına veya malına yapılan hukuka aykırı ve hâlen devam eden bir saldırıyı önlemek için yaptığı ölçülü karşı saldırıya denir.

Zorunluluk hâli (İztırar hali), kendisini ve başkasını bilerek sebebiyet vermediği zarardan veya derhâl oluşabilecek bir tehlikeden kurtarmak için başkalarının mallarına zarar vermektir.

Kıyas, bir suç işleyenin aynı cinsten bir ceza ile cezalandırılmasıdır, İslam hukukunda yer almaktadır.

Diyet usulü, modern para cezasının temelini oluşturmaktadır. Öç alma veya kıyas hakkına sahip olan kişi, aile veya klan, belli bir mal veya para karşılığında bu hakkından vazgeçmektedir. Ayrıca "diyet" usulü, tarihsel açıdan fail ile mağdur arasındaki ihtilafın çözümü yollarından biri olarak da değerlendirilmektedir.

Kendi hakkını kendi gücüyle koruma (kuvvet kullanma), hakkın kaybolması tehlikesi mevcutken ve o anda hükümet güçlerine başvurmanın imkânsız bulunması durumunda bir kimsenin hakkını bizzat kuvvete başvurarak korumasıdır. Bir otel işletmecisinin, müşterisinin kendisine bıraktığı eşya üzerinde ödenmeyen otel ücreti nedeniyle alacağını güvence altına almak için hapis hakkına sahip olması durumu da kendi hakkını kendi gücüyle korumadır. Kişi, kendi alacağını hakkını kendi eliyle korumuştur.

**Cevap C**

3. Adli yargı, olağan ve genel yargıdır. Yani diğer yargı kollarının görevine girmeyen davalara adli yargıda bakılır. Adli yargı kolunun üst derece (kontrol) mahkemesi Yargıtaydır.

**Cevap B**

4. 1982 Anayasası'na göre, milletvekili seçilebilme şartları;

Yirmi beş yaşını dolduran her Türk vatan-daşı milletvekili seçilebilir. (2006 Anayasa Değişikliği)

- Seçilebilmek için en az ilkokul me-zunu olmak.
- Kısıtlı olmamak, yükümlü olduğu askerlik hizmetini yapmış olmak.
- Kamu hizmetinden yasaklı olma-mak.
- Taksirli suçlar hariç olmak üzere bir yıl ve daha fazla hapis cezası alma-mış olmak.
- Affa uğramış olsa bile zimmet, ihti-las, irtikap, rüşvet, hırsızlık, dolan-dırıcılık, sahtecilik, inancı kötüy e kullanma, dolanlı iflas gibi yüz kı-zartıcı suçlar ile kaçakçılık, ihale-ye fesat karıştırma, Devlet sırlarını açığa vurma, terör (2002 değişikliği öncesinde "ideolojik ve anarşik" ifadesi vardı.) eylemlerine katılma ve bu eylemleri tahrik ve teşvik gibi suçlardan hüküm giymemiş olmak gerekir.

★ 2017 Anayasa değişikliği ile milletve-kili seçilme yaşı 18'e düşürülmüştür. Askerlik hizmetini yapmış olmak veya bundan muaf olmak koşulu, askerlikle ilişiği olmamak şeklinde değiştirilmiştir.

**Cevap E**

5. 1982 Anayasası'na göre siyasi haklar ve ödevler siyasi haklar ve ödevler, ka-tılım haklarıdır. Aktif statü hakları olarak da adlandırılır. Kişilerin devlet yönetimine dahil olma araçlarıdır. Bunlar:

- Türk vatandaşlığı
- Seçme ve seçilme hakkı
- Siyasi faaliyette bulunma hakkı
- Parti kurma, partilere girme ve par-tilerden çıkma
- Kamu hizmetine girme
- Mal bildirim
- Vatan hizmeti
- Vergi ödevi
- Dilekçe hakkı
- Bilgi edinme ve kamu denetçisine başvurma hakkı (2010)

★ İspat hakkı ise kişi hak ve hürriyetleri arasında yer alır.

**Cevap E**

6. Yargıtay, adliye mahkemelerince verilen karar ve hükümlerin son inceleme (tem-yiz) mercisi olup, ayrıca belli davalara da ilk ve son derece mahkemesi olarak bakar. 1982 Anayasası'na göre, üyelerinin tamamı Hâkimler ve Savcılar Yüksek Kurulu tarafından seçilir.

**Cevap A**

7. Türkiye, merkezî idare kuruluşu bakımın-dan coğrafya durumuna, iktisadi şartlara ve kamu hizmetlerinin gereklerine göre illere; iller ilçelere ve ilçeler de bucaklara bölünmüştür. İllerin kurulması, kaldırılma-sı ve adlarının değiştirilmesi "kanun" ile gerçekleşir.

**Cevap A**

8. Liyakat, devlet kamu hizmetleri görevlerine girmek, sınıflar içerisinde ilerlemek ve yükselmek açısından bireylerin bilgi ve yeteneklerini esas alan temel ilkedir. Liyakat ilkesi, memurluk mesleğine girişte ve bu meslek içinde yükselişte kayırcılığı ve partizanlığı önleyen ve memurların tarafsızlığını sağlayan bir ilkedir.

**Cevap E**

9. Sayıştay, merkezî yönetim bütçesi kapsamındaki kamu idareleri ve sosyal güvenlik kurumlarının bütün gelir ve giderleri ile mallarını Türkiye Büyük Millet Meclisi adına denetler. Sayıştay, idari görevlerinin yanında, sorumluların hesap ve işlemlerini kesin hükme bağlayarak yargısal görevler de yerine getirir.

**Cevap B**

10. 26 Nisan 2015 tarihinde yapılan seçimde Nursultan Nazarbayev'in %97'nin üzerinde oyla yeniden devlet başkanı seçildiği ülke, Kazakistan'dır.

**Cevap B**

11. Prof. Dr Zühtü Arslan, 10 Şubat 2015 tarihinde yapılan toplantıda, üyeler tarafından 4 yıllığına Anayasa Mahkemesi başkanlığına seçilmiştir.

**Cevap E**

12. Türkiye'de sokağa çıkma yasağının uygulandığı son nüfus sayımı, 2000 yılında yapılmıştır. 2007 yılında da ilk kez adrese dayalı nüfus sayımı yapılmıştır.

**Cevap D**

13. Bilim insanlarının "Kızıl Gezegen" olarak isimlendirdiği ve Dünya'dan yaklaşık iki kat daha küçük olan gezegen Mars'tır. Güneş Sistemi'nin Güneş'ten itibaren dördüncü gezegeni olup Roma mitolojisindeki savaş tanrısı Mars'a ithafen adlandırılmıştır.

**Cevap D**

14. İstiklâl Madalyası, Kurtuluş Savaşı'nda yararlılık gösteren askerlere ve sivillere, o dönemde milletvekili olanlara, savaşa katılan alayların sancaklarına, Erzurum ve Sivas kongrelerine katılanlara, İstiklâl Madalyası Kanunu adlı özel bir yasaya göre verilen madalyadır. 1 Kasım 1926 tarihine kadar Türkiye Büyük Millet Meclisince verilmiş olan İstiklâl Madalyalarını, bu tarihten sonra müracaat edenlere Millî Savunma Bakanlığı vermektedir. Türkiye'de İstiklâl Madalyası sahibi üç şehir ve bir ilçe bulunmaktadır. Bunlar Kahramanmaraş, Gaziantep, Şanlıurfa ve İnebolu'dur. Gaziantep 2008 yılında İstiklâl madalyasını alırken Şanlıurfa ise 2016 yılında almıştır. Türkiye'de İstiklâl madalyasına sahip ilk il, Kahramanmaraş'tır. Kahramanmaraş, 21 Ocak 1920 – 11 Şubat 1920 arasında kurtuluş mücadelesi vererek şehri Fransız işgalinden kurtaran halkın kahramanlığı nedeniyle, 5 Nisan 1925'te kırmızı şeritli İstiklâl madalyası ile ödüllendirilmiştir. Kurtuluş Savaşı sonrasında meclisten gelen "şehirde Kurtuluş Savaşı'na katılanların bildirilmesi" şeklindeki yazı üzerine toplanan şehrin ileri gelenlerinin "Maraş'ta Millî Mücadele'ye katılmayan tek bir fert bile yoktur." cevabı üzerine TBMM, madalyayı fertlere değil, bütün şehir halkına verme kararı almıştır.

**Cevap C**

KPSS  
2024

GENEL YETENEK  
GENEL KÜLTÜR

EFANE

TÜRKÇE

SORU  
BANKASI

TAMAMI  
ÇÖZÜMLÜ



ÖGRETİ AKADEMİ

**GENEL YETENEK GENEL KÜLTÜR EFSANE TÜRKÇE TAMAMI ÇÖZÜMLÜ SORU BANKASI**

ISBN 978-625-6764-14-9

Kitapta yer alan bölümlerin tüm sorumluluğu yazarlarına aittir.

© Öğreti Akademi

Bu kitabın basım, yayım ve satış hakları Pegem Akademi Yay. Eğt. Dan. Hizm. Tic. AŞ'ye aittir. (Öğreti Akademi yayınları bir Pegem Akademi markasıdır.) Anılan kuruluşun izni alınmadan kitabın tümü ya da bölümleri, kapak tasarımı; mekanik, elektronik, fotokopi, manyetik kayıt ya da başka yöntemlerle çoğaltılamaz, basılamaz ve dağıtılamaz. Bu kitap, T.C. Kültür ve Turizm Bakanlığı bandrolü ile satılmaktadır. Okuyucularımızın bandrolü olmayan kitaplar hakkında yayınevimize bilgi vermesini ve bandrolsüz yayınları satın almamasını diliyoruz.

**I. Baskı, Ankara**

Yayın-Proje: Sami Terzi

Dizgi-Grafik Tasarım: İlknur Öztürk

Kapak Tasarımı: Öğreti Akademi

**Baskı:** Koza Yayın Dağıtım AŞ  
Saray Mahallesi 205 cadde No: 4/2  
Kahramankazan/ANKARA  
Tel: (0312) 385 91 91

Yayıncı Sertifika No: 51818

Matbaa Sertifika No: 45553

**İletişim**

Shira Ticaret Merkezi, Macun Mahallesi 204 Cad.

No: 141/33, Yenimahalle/Ankara

Yayınevi: 0312 430 67 50

Dağıtım: 0312 434 54 24

Hazırlık Kursları: 0312 419 05 60

İnternet: [ogreti.com](http://ogreti.com)

E-ileti: [ogreti@ogreti.com.tr](mailto:ogreti@ogreti.com.tr)



# Ön Söz

*Değerli Kamu Personeli Adaylarımız,*

Kitabımızın hazırlık sürecinde KPSS Genel Yetenek'in Türkçe bölümü yıl yıl analiz edildi, gündemdeki soru kalıpları belirlendi, güncel soru teknikleri ışığında Tamamı Çözümlü Efsane Türkçe Soru Bankası hazırlandı. Her testin sonuna ayrıntılı çözüm kısmı yerleştirildi.

KPSS'de başarılı olmak, bilgi seviyesini pratikle birleştirmekten geçiyor. Kitabımız sayesinde soru türlerine âşinâ olacak, nokta atışı çözümlerimiz ile eksikliklerinizi gidereceksiniz.

Kitabımız ile ilgili önerilerinizi, sorularınızı [ogreti@ogreti.com.tr](mailto:ogreti@ogreti.com.tr) e-posta adresine, 0538 594 92 40 ÖĞRETİ AKADEMİ WhatsApp Hattı'na gönderebilirsiniz.

Tüm okurlarımıza teşekkür eder, kitabımızın başarı yolunda sizlere mühim katkılar sunmasını dileriz.

KOMİSYON



*Değerli Okuyucularımız, kitabımızın basım tarihinden sonra gerçekleşen değişikliklere, ileriki tarihlerde ulaşabilirsiniz.*



# İÇİNDEKİLER

Ön Söz .....	iii
<b>TÜRKÇE</b>	
<b>Sözcükte Anlam</b>	
Test 1 .....	1
<b>Söz Öbekleri</b>	
Test 2 .....	6
<b>Cümlede Anlam</b>	
Test 3 .....	11
Test 4 .....	17
Test 5 .....	22
<b>Paragrafta Anlam</b>	
Test 6 .....	27
Test 7 .....	34
Test 8 .....	40
Test 9 .....	46
Test 10 .....	52
<b>Ses Bilgisi</b>	
Test 11 .....	58
<b>Yapı Bilgisi</b>	
Test 12 .....	63
<b>Sözcük Türleri</b>	
Test 13 .....	68
<b>Cümle Bilgisi</b>	
Test 14 .....	73
<b>Dil Bilgisi (Karma Testler)</b>	
Test 15 .....	78
Test 16 .....	83
Test 17 .....	88
Test 18 .....	93

## Noktalama İşaretleri

Test 19 .....	100
Test 20 .....	105
Test 21 .....	110
Test 22 .....	115
Test 23 .....	120
Test 24 .....	125
Test 25 .....	130

## Yazım Kuralları

Test 26 .....	135
Test 27 .....	140
Test 28 .....	145
Test 29 .....	151
Test 30 .....	156
Test 31 .....	131
Test 32 .....	166

## Anlatım Bozukluğu

Test 33 .....	171
Test 34 .....	176
Test 35 .....	181
Test 36 .....	186
Test 37 .....	191

## Sözel Mantık

Test 38 .....	196
Test 39 .....	203
Test 40 .....	209

<b>Cevap Anahtarı .....</b>	<b>218</b>
-----------------------------	------------

1. **Düşünmek:** Bir şeye karşı ilgili ve titiz davranmak.

**Hesap:** Tutum, durum, anlayış.

**Açık:** Kolay anlaşılır olmak.

**Aşağıdaki cümlelerin hangisinde "düşünmek, hesap, açık" sözcükleri belirtilen anlamlarına gelecek şekilde kullanılmıştır?**

- A) Uzun zamandır, geçen yıl yaptığı tatilden başka ne bir şey düşünmüş ne de hatırlamıştı; babasının "Kalemi eline al ve benim hesaplarımı görüver." dediğini dahi duymamış, açık pencereden giren rüzgâra kendini kaptırmıştı.
- B) Annesinin rahatsızlığıyla ilgili bir çare düşündükten sonra hastane hesaplarının dökümünü incelemeye başladı, açık adımlarla odada dolanırken bir yandan da gelirlerin ne kadar olduğuna bakıyordu.
- C) Sabah erken saatlerde yola çıkmayı düşünüyordu, hesabına göre yol açık olursa Ankara'ya iki saatte varacaktı.
- D) Babasının artık derslerini düşünmesi gerektiği uyarısını dikkate almış, bütün hesaplarının derslerine adamakıllı çalışıp sınavı kazanmak için olduğunu ve bunun dışında bir kaygısı olup olmadığını açık suallerle babasına sormuştu.
- E) Bu malları pazara götürürse kesinlikle alıcı çıkacağı ihtimalini düşündü ve bu ürünleri hangi hesaplarla ekip biçtiklerini aklına getirdi, o sırada içeri açık sarı saçlarıyla etrafa ışık saçan kardeşi girdi.

2. Romanlarında, hikâyelerinde ve şiirlerinde hiçbir zaman konu sancısı ve yöntem sallantıları geçirmedim. Her ne yazdıysam yetkinliğe ulaştım, başarılı olduğumu da düşünüyorum.

**Bu parçadaki altı çizili sözlerden hangisi mecaz anlamda kullanılmıştır?**

- A) I B) II C) III D) IV E) V

3. O kadar zor durumdaydı ki belki para eder diye handiye bahçedeki taşları kırdırıp parçalatarak satmayı düşünüyormuş.

**Bu cümlede geçen altı çizili ifadeyi anlamca karşılayacak kullanım aşağıdakilerin hangisinde vardır?**

- A) Anayasayı sehpanın üzerine koyduktan sonra ayağa kalktı ve gelişigüzel konuşmaya başladı.
- B) Sanatçı basmakalıp fikirleri piyesleştirdiğinden pek çok eleştiriye maruz kalmıştı.
- C) Özellikle savaş zamanında, alacaklılar güneşarı kapıya dayanmış ve köylüleri hayli bunaltmıştı.
- D) Hava o kadar soğuktu ki beni ivedi biçimde hana yetiştirmeye çalışan arabacı neredeyse donacaktı.
- E) Hasan Efendi, çevresinde ehlikeyif bir insan olarak bilinirdi ancak o, daima yoksullara yardım eden bir insandı.

4. El ile gelen düğün bayram.

**Aşağıdaki cümlelerden hangisi bu atasözünü açıklamaktadır?**

- A) Her işin gerçekleşmesi birtakım koşulların bulunmasına bağlıdır.
- B) Herkese birden gelen sıkıntıya katlanmak, yalnızca bir kişiye gelene katlanmaktan daha kolaydır.
- C) Doğruyu bulmak için aklın izleyeceği bir tek yol vardır, bu yoldan gidenlerin hepsi aynı sonuca varır.
- D) Büyük sıkıntılar içinde bulunanlar mantık dışı işler yapabilirler.
- E) Kişi, kendisinin yardıma muhtaç olduğu konuda başkasına yardım edemez.

5. Hayat boyunca hatırlanan, üzerimizde iz bırakmış

I

II

öğretmenler vardır. Onların yaşamımızın tamamında var olması gerekmez. Söyleyeceklerini söylemiş ve

III

sessizce gitmiştir onlar. Biz farkında olmasak da bu

IV

V

sözler ömür boyunca bize şekil veren davranışlara dönüşmüştür.

**Bu parçadaki altı çizili sözlerden hangi ikisi yakın anlamda kullanılmıştır?**

- A) I ve II B) II ve III C) II ve V  
D) III ve IV E) IV ve V

6.

- I. Beni ancak sen kurtarabilirsin.
- II. Erken gelecektim ancak araba bozuldu.
- III. Maç yaparız ancak ben kaleci olurum.
- IV. Bunca işin arasından ancak bu saatte çıkabildim.
- V. Sana borç veririm ancak erken ödeyeceksin.

**Yukarıdaki numaralanmış cümlelerin hangilerinde "ancak" sözcüğü şart (koşul) anlamı katmıştır?**

- A) I ve II
- B) I ve III
- C) II ve III
- D) III ve V
- E) IV ve V

7. **Aşağıdaki cümlelerin hangisinde ikileme kullanılmamıştır?**

- A) Aşağı yukarı iki yıldır burada, aynı evde oturuyorum.
- B) Karadeniz yemyeşil bir doğaya sahiptir.
- C) Çocuğu, salına salına yürüyüşünden tanıdım ben.
- D) Güneş her zamanki gibi pırl pırl bu ormanda.
- E) Alışverişten sonra inan ki para mara kalmadı.

8.

Dil, insanların duygu ve düşüncelerini yansıttıkları bir araçtır. Bu araç, bir ulusun kimliğini belirlemede en önemli etkidir. Dil, aynı zamanda ulusal kimliği yansıtan bir ayna gibidir.

**Bu parçada geçen "ulusal kimliği yansıtan bir ayna gibidir" sözüyle dilin hangi yönü vurgulanmaktadır?**

- A) Kültürün tanıtıcı aracı olduğu
- B) Ulusal kimliğin devamını sağladığı
- C) Eğitimin en önemli unsuru olduğu
- D) Her toplumda farklı şekilde geliştiği
- E) Kendini sürekli yenilediği

9.

Yapmak istediği her şeyi yapılmış olarak bulan çocuk zihinsel tembelleğe itilebilir, olayları sorgulama fırsatını yeterince elde edemez. Karar vermek için sürekli yardıma ihtiyaç duyar.

**Bu parçadaki altı çizili sözün yerine aşağıdakilerden hangisi getirilemez?**

- A) Kavrama
- B) Anlamaya çalışma
- C) Yargılama
- D) Değerlendirme
- E) Değiştirme

10. **Aşağıdaki cümlelerin hangisinde "abartma (mübalağa)" sanatına yer verilmiştir?**

- A) Her konuşmamızda bana ülkenin sorunlarını anlatır.
- B) Avuç içi kadar yere kırk kişiyi oturtular.
- C) Ankara, bu sorunların çözümü için harekete geçti.
- D) Martılar, şarkı söyleyerek kayığın etrafında uçuşuyor.
- E) Çok tok olduğu, üç ekmeğe yemesinden belli.

11.

Güzellik, bakan gözdeymiş. Niyetmiş her şeyi güzelleştiren, olmazları olduran. Sevgi, açılmayacak sanılan, üzerine kilit vurulan tüm kapıların anahtarımı, tam da ümitsizliğe düşmeye ramak kala doğuruvermiş güneşi üzerimize Yaradan.

**Bu parçaya altı çizili sözün kattığı anlam, aşağıdaki cümlelerin hangisinde vardır?**

- A) Yemek neredeyse taşacaktı, iyi ki yetiştim.
- B) Bu toplantıları oldum olası sevmediğimi herkes biliyor.
- C) Dünkü olay hakkında az çok bir şeyler bildiğini söyledi.
- D) Gözlerini bana dikerek ağlamaklı konuştu durdu.
- E) Havaların ısınması için daha çok beklememiz gerekiyor herhalde.

12.

Bazı sözler hem gerçek hem de mecaz anlamda gelebilecek şekilde kullanılabilir.

**Bu açıklamaya göre, aşağıdakilerden hangisinde hem gerçek hem de mecaz anlamda kullanılacak bir söz vardır?**

- A) Baktım ki kavga çıkacak, hemen oradan uzaklaştım.
- B) Biz, tam otuz beş yıl bir yastığa baş koyduk onunla.
- C) Ev sahibi, bütün konukları tek tek odalarına kadar götürdü.
- D) Grip yüzünden yaklaşık bir hafta evde istirahat ettim.
- E) Kitabı alıp bir süre inceledikten sonra dikkatle okumaya başladım.

13. Yaşar Kemal, Anadolu âşık ve hikâyecilerinin geleneğine **göbek bağıyla bağlanmış** bir yazar. Onu ta çocukluğundan başlayarak Anadolu sözlü geleneğinin destansı türleri büyülemiş.

**Bu parçada altı çizili sözle Yaşar Kemal hakkında aşağıdakilerden hangisi vurgulanmıştır?**

- A) Anadolu'da doğup büyüdüğü  
B) Anadolu geleneğiyle küçük yaşlardan beri iç içe olduğu  
C) Anadolu geleneğini en iyi bilen yazarlardan biri olduğu  
D) Anadolu halkını çok iyi tanıdığı  
E) Toplumcu bir sanat anlayışı benimsediği

14. **Aşağıdaki dizelerin hangisinde yakın anlamlı sözcükler kullanılmıştır?**

- A) Her şey sağır içimde ne şiir ne musiki  
Dünyadan bezginliğim dünyalar kadar eski  
B) Vazgeç dünyanın köhne saltanatından  
Yetişir bunca keder bunca elem diyorum  
C) Güneşler doğardı ve batardı belli belirsiz  
Öyle yalnızlık anlatılmaz huzursuz, tesellisiz  
D) Baksana denizlerin maviliğine  
Martıların kanatlarına baksana  
E) Ne zaman elime bir ayna alsam  
Gözlerimden korkuyorum, bakışlarımdan

15. **"Git-" sözcüğü aşağıdaki cümlelerin hangisinde "yakışmak, yaraşmak" anlamında kullanılmıştır?**

- A) Bu kravat, bu gömleğin üstüne gitmedi.  
B) Eline geçen paranın çoğu çocuğa gidiyor.  
C) Gitmek istediğiniz bir yer varsa götüreyim.  
D) Bu çanta ve ayakkabı sana üç yıl gider.  
E) Sağımızdaki yolun nereye gittiğini bilmiyorum.

16. **Aşağıdaki cümlelerin hangisinde terim kullanılmıştır?**

- A) O çocuğun şikâyeti hiç biter mi?  
B) Orta Doğu'da tansiyon iyice yükseliyor şu sıralar.  
C) Bu oyunun iki perde olduğunu bilmiyordum.  
D) Arabamız bozuk yollarda rahatça ilerliyordu.  
E) Onu gören herkes ne kadar yaşlandığını anladı.

17. Yaşadığımız olaydan sonra, bana daha **yakın** davranmaya başlamıştı.

**Bu cümlede altı çizili sözcüğün yerine aşağıdakilerden hangisi getirilirse cümle, ötekilerden farklı bir anlam kazanır?**

- A) dostça                      B) samimi                      C) saygılı  
D) içten                      E) candan

18. **"İçin" sözcüğü aşağıdaki cümlelerin hangisinde "Bu kent benim için oldukça hareketliydi." cümlesindeki anlamıyla kullanılmıştır?**

- A) Şu an için size çok fazla yardımcı olamayacağım ama yarın elimden geleni yaparım.  
B) Otobüsü kaçırdığı için bugün de işe geç gelmiş, patron da uyarmış haliyle.  
C) Bütün bu yemekleri benim için yapmış, ne güzel!  
D) Çocuklar için fazlaca şiddet unsuru içeriyor bazı çizgi filmler.  
E) Ben, onun için neler yapıyorum; sen, onun bana yaptıklarına bak bir de.

19. **Aşağıdaki cümlelerin hangisinde deyim kullanılmıştır?**

- A) Çoğu insan, olduğu gibi değil, bizim istediğimiz gibi davranır.  
B) İnsanın davranışları genelde yaratılışına hiç uymaz.  
C) Âdet olduğu üzere toplantının açılışında bir konuşma yaptı.  
D) Gençken yapılan seçimler, insanları ömürleri boyunca etkiler.  
E) Samimi olmayan insanları tanımak, pek kolay değildir.

20. (I) Veysel Çolak, eleştirel bakış açısını dergilerle ilgili yazdığı bölümde sürdürüyor. (II) Dergilerin liberalleşmesi, hemen her dergide aynı şairlerin yer alması, şiir üzerine hemen hiçbir tartışma yaşanmadığı saptamalarını yapıyor. (III) İte kaka yapılmaya çalışılan tartışmalar da sonuçlanmamış, havada kalmış. (IV) *Adam Sanat, Dize, Damar ve Edebiyat ve Eleştiri* dergilerinde uç veren "toplumcu gerçekçiliğin" geç kalmış değerlendirmesi, *Hece* dergisinin özel sayıları... (V) Bir yıldan geriye ancak bunlar kalabilmiş.

**Bu parçadaki numaralanmış cümlelerin hangisinde "ikileme" kullanılmıştır?**

- A) I                      B) II                      C) III                      D) IV                      E) V

## ÇÖZÜMLER

1. Seçeneklerde verilen cümleler incelendiğinde D seçeneğindeki "Babasının artık derslerini düşünmesi gerektiği uyarısını dikkate almış, bütün hesaplarının derslerine adamakıllı çalışıp sınavı kazanmak için olduğunu ve bunun dışında bir kaygısı olup olmadığını açık suallerle babasına sormuştu." cümlesinde "düşünmek" sözcüğünün "Bir şeye karşı ilgili ve titiz davranmak", "hesap" sözcüğünün "Tutum, durum, anlayış" ve "açık" sözcüğünün "Kolay anlaşılır olmak" anlamında kullanıldığı görülmektedir.

**Cevap D**

2. Sancı, iç organlarda batar veya saplanır gibi duyulan, nöbetlerle azalıp çoğalan ağrıdır. Fakat bu sözcük, "yazarın konu sancısı çekmemesi" ifadesinde "sıkıntı" anlamında olup cümlede mecazi olarak kullanılmıştır.

**Cevap A**

3. Öncüde verilen cümlede geçen "handiyse" sözcüğü cümlede "neredeyse" anlamında kullanılmıştır. Buna göre altı çizili sözcüğü anlamca karşılayacak kullanımın D seçeneğindeki "Hava o kadar soğuktu ki beni ivedi biçimde hana yetiştirmeye çalışan arabacı neredeyse donacaktı." cümlesinde verildiği söylenebilir.

**Cevap D**

4. "El ile gelen düğün bayram." sözü, "Herkes bir den gelen sıkıntı ve felakete katlanmak, yalnızca bir kişiye gelene katlanmaktan daha kolaydır." anlamında kullanılan bir sözdür.

A'daki söz, "Harman yel ile, düğün el ile." atasözünü; C'deki söz, "Akıl için yol (veya tarık) birdir." atasözünü; D'deki söz, "Acıklı başta akıl olmaz." atasözünü; E'deki söz, "Kele kösedden yardım olmaz." atasözünü açıklamaktadır.

**Cevap B**

5. İz bırakmak, "etkisini kalıcı duruma getirmek" anlamına gelen bir söz grubudur. Parçada geçen "üzerimizde iz bırakmış öğretmenlerin, hayat boyunca hatırlanması" sözleri, birbirine yakın mesajlar içerdiği için I ve II numaralı sözler yakın anlamda kullanılmıştır.

**Cevap A**

6. Soruda III numaralı "Maç yaparız ancak/ama ben kaleci olurum." cümlesi ile V numaralı "Sana borç veririm ancak/ama erken ödeyeceksin." cümlesi şart/koşul anlamı içermektedir.

**Cevap D**

7. A'da "aşağı yukarı", C'de "salına salına", D'de "pırl pırl", E'de "para mara" söz grupları ikilemedir. Fakat B'de ikileme yoktur. Bu cümlede geçen yemyeşil sözcüğü ise pekiştirme sözdür.

**Cevap B**

8. İnsanların duygu ve düşüncelerini yansıttıkları dilin, bir ulusun kimliği belirlemede ayna görevi üstlenmesi ile "dilnin kültürü tanıtmada araç olduğu" anlatılmaktadır.

**Cevap A**

9. Cümlede çocuğun zihinsel tembellikle karşı karşıya kalması için "olayları sorgulaması" gerektiği anlatılmaktadır. O hâlde çocuğun; olayları kavraması, anlamaya çalışması, yargılaması ve değerlendirmesi anlatılanlara uymaktadır. Fakat değiştirmek, başka bir biçime sokmak, değişikliğe uğratmaktır. Bu nedenle "değiştirme" altı çizili sözün yerine kullanılamaz.

**Cevap E**

10. "Pek küçük, dar (yer)" anlamına gelen "avuç içi kadar" ifadesi "Avuç içi kadar yere kırk kişiyi oturtular." cümlesinde mübalağalı bir söyleyişe sahiptir.

**Cevap B**

11. Ramak kalmak, "Bir şeyin olmasına çok az kalmak." demektir. Parçadaki "Ümitsizliğe düşmeye ramak kala doğuruvermiş güneşi üzerimize Yaradan." cümlesinde de "az kalsın, neredeyse" anlamında kullanılmıştır. A'daki cümlede "kişinin, yemeğin taşmasına ramak kala yetişmesi" anlatıldığı için doğru cevap A'dır.

**Cevap A**

12. Aynı yastığa baş koymak, "evli bulunmak ve iyi-kötü günde birbirini destelemek vb." anlamlarda, mecazi olarak kullanılan bir sözdür. Bu söz somut olarak da düşünülebildiği için gerçek bir anlam da taşımaktadır. Bu nedenle bu söz hem gerçek hem mecaz anlamda kullanılabildiği için kinayelidir.

**Cevap B**

13. Göbek bağı, "yakın ilişki" anlamında mecazi olarak da kullanılan bir sözdür. Cümlede Yaşar Kemal'in Anadolu âşık ve hikâyecilerinin geleneğine göbek bağı ile bağlanmış olması, onun Anadolu gelenekleriyle yakın bir ilişkisi olduğu yani bu geleneklerle iç içe olduğu çıkarılır. Parçanın ikinci cümlesinde de "çocukluğundan başlayarak" ifadesi geçtiği için Yaşar Kemal'in "Anadolu geleneğiyle küçük yaşlardan beri iç içe olduğu" yargısına ulaşılabilir.

**Cevap B**

14. Elem; üzüntü, keder, dert anlamına gelen bir sözdür. B'deki cümlede de hem keder hem elem sözleri geçtiğine göre bu cümlede yakın anlamlı sözlere yer verilmiştir.

**Cevap B**

15. "Bu kravat, bu gömleğin üstüne gitmedi." cümlesinde "gitmek" sözcüğü, "Bu kravat, bu gömleğin üstüne yakışmadı/yaraşmadı." şeklinde "yaraşmak, yakışmak" anlamlarında kullanılmıştır. Gitmek sözcüğü; B'de "tüketilmek, harcanmak", C'de "götürülmek", D'de "yetmek", E'de "ulaşmak" anlamlarında kullanılmıştır.

**Cevap A**

16. C'de "perde" sözcüğü, "Bir sahne eserinin büyük bölümlerinin her biri." anlamında "tiyatro terimi" olarak kullanılmıştır.

**Cevap C**

17. "Yaşadığımız olaydan sonra, bana daha yakın davranmaya başlamıştı." cümlesinde "yakın" sözcüğü; dostça, samimi, içten, candan anlamlarında kullanılmıştır. Ama "saygılı" sözcüğü "aralarında sıkı ilişki olma durumu" dışında olduğu için, yakın sözcüğünün yerine saygılı sözü getirilirse cümle, ötekilerden farklı bir anlam kazanır.

**Cevap C**

18. "Bu kent benim için oldukça hareketliydi." cümlesinde "için" edatı "göre" anlamında kullanılmıştır. Bu anlam D'deki "Çocuklar için fazlaca şiddet unsuru içeriyor bazı çizgi filmler." cümlesinde de "çocuklara göre" anlamında olduğu için doğru cevap D'dir. "İçin" edatı; A'da "süre", B'de "-dan ötürü", C'de "özgü", E'de "uğruna" anlamında kullanılmıştır.

**Cevap D**

19. "Âdet olduğu üzere" söz grubu "alışıldığı gibi" anlamında kullanılan bir deyimdir.

**Cevap C**

20. İkilime; anlamı güçlendirmek için aynı kelimenin tekrarlanması, anlamları birbirine yakın, karşıt olan veya sesleri birbirini andıran kelimelerin yan yana kullanılmasıdır. Parçanın III numaralı cümlesinde "ite kaka" ifadesi de ikilime olduğu için, doğru cevap C'dir.

**Cevap C**

1. (I) Ne kadar uğraşırsanız uğraşın, bilgili olmadığınız alanda başarılı olamazsınız. (II) Bilgi gerek, tecrübe gerek, o konuda uzmanlaşmak gerek. (III) Ben şairim, iyi şiir yazarım, diye tiyatro metni yazarı olunur mu? (IV) Uğraşmış, zorlamış ama olmamış efendim! (V) Kişi, uzmanlığının gereği ne ise onu yapmalıdır; uzman olmadığı, bilmediği bir başka dalda at koşturmaya çalışmamalıdır.

**Bu parçadaki numaralanmış cümlelerin hangisinde deyim kullanılmıştır?**

- A) I B) II C) III D) IV E) V

2. (I) Halk oyunları, sanat eğitimi bakımından da ipuçları veriyor bize. (II) Bu oyunları halk kimden, nereden, nasıl öğrenir; nasıl sevdirebilir, nasıl öğretir? (III) Herhâlde ısrarla ya da baskıyla değil. (IV) Aslında Anadolu oyunlarında çizgiler sert, renkler haşındır. (V) Herkes kendiliğinden oynayarak öğreniyor ve alkış beklemeye oynuyor bu oyunları.

**Bu parçadaki numaralanmış cümlelerden hangisinde deyim kullanılmıştır?**

- A) I B) II C) III D) IV E) V

3. (I) Kavramlarımızın içeriklerini gerçekliğe uygun olarak kurmadığımızda, bu içerikleri gelişigüzel, bazen kulaktan dolma oluşturduğumuzda, ne düşüncelerimizden insanlara hayır gelecektir ne konuşmamızdan. (II) Birilerinin tartıştığını görürsünüz. (III) Bir düzensizliktir gider. (IV) Çünkü birimizde falan terim falan kavramı karşılarken diğerimizde falan terim falan kavramı karşılamaktadır. (V) Ya da kavramlarımızın içerikleri uyumlu değildir.

**Bu parçadaki numaralanmış cümlelerin hangisinde deyim kullanılmıştır?**

- A) I B) II C) III D) IV E) V

4. (I) Oyun bitmiş, herkes dağılmış ve hayatında hiç tiyatro görmeyen meraklı gencin ağzı açık kalmış izlediği muhteşem oyun karşısında. (II) Seyrettiği oyunun etkisi ile tiyatro müdürü ile konuşmuş ve ne olursa olsun, ne iş olursa olsun tiyatrodaki çalışmak istediğini belirtmiş. (III) Müdür, kendisinin çok şanslı olduğunu, bir temizlikçi aradığını belirtmiş. (IV) Bir yatağı bile olmayan adama tiyatrodaki yatabileceğini de söylemiş. (V) İsteddiği olan genç, müdürün odasını terk ederken müdür "Adın ne senin?" diye sormuş; aldığı cevap ise "William! William Shakespeare!" olmuş.

**Bu parçadaki numaralanmış cümlelerin hangilerinde deyim kullanılmıştır?**

- A) I ve II B) I ve III C) II ve III  
D) III ve IV E) IV ve V

5. Bazı yazarlar bir tür kahramanlıkla, hiç not almadıklarını söyler. Ama "Âlim unutmuş, kalem unutmamış!" demezler mi? Özenle not alırım ben. Alır, zaman zaman okurum onları. Yazmaya başlamadan kim bilir kaç kez elden geçiririm. Nedeni şudur: İyice sinsin kafama ki onları çok iyi yoğurabileyim!

**Bu parçada anlatılmak istenenin aşağıdaki atasözlerinden hangisi destekler?**

- A) Haklı söz, haksız Bağdat'tan çevirir.  
B) Söz uçar, yazı kalır.  
C) Adam olana bir söz yeter.  
D) Ağanın gözü, yiğidin sözü.  
E) Kuru lâf karın doyurmaz.

6. **Aşağıdakilerden hangisi "Köprü'nün altından çok su geçti." deyimini anlamca aynı doğrultudadır?**

- A) İş işten geçti.  
B) Geçti Bor'un pazarı sür eşeğini Niğde'ye.  
C) Eski çamlar bardak oldu.  
D) Atrı alan Üsküdar'ı geçti.  
E) Hangi dağda kurt öldü?



KPSS  
2024

GENEL YETENEK  
GENEL KÜLTÜR

EFSANE

MATEMATİK

SORU  
BANKASI

TAMAMI  
ÇÖZÜMLÜ



ÖĞRETİ AKADEMİ

**GENEL YETENEK GENEL KÜLTÜR EFSANE MATEMATİK TAMAMI ÇÖZÜMLÜ SORU BANKASI**

ISBN 978-625-6764-16-3

Kitapta yer alan bölümlerin tüm sorumluluğu yazarlarına aittir.

© Öğreti Akademi

Bu kitabın basım, yayım ve satış hakları Pegem Akademi Yay. Eğt. Dan. Hizm. Tic. AŞ'ye aittir. (Öğreti Akademi yayınları bir Pegem Akademi markasıdır.) Anılan kuruluşun izni alınmadan kitabın tümü ya da bölümleri, kapak tasarımı; mekanik, elektronik, fotokopi, manyetik kayıt ya da başka yöntemlerle çoğaltılamaz, basılamaz ve dağıtılamaz. Bu kitap, T.C. Kültür ve Turizm Bakanlığı bandrolü ile satılmaktadır. Okuyucularımızın bandrolü olmayan kitaplar hakkında yayınevimize bilgi vermesini ve bandrolsüz yayınları satın almamasını diliyoruz.

**I. Baskı, Ankara**

Yayın-Proje: Sami Terzi

Dizgi-Grafik Tasarım: İlknur Öztürk

Kapak Tasarımı: Öğreti Akademi

**Baskı:** Koza Yayın Dağıtım AŞ  
Saray Mahallesi 205 cadde No: 4/2  
Kahramankazan/ANKARA  
Tel: (0312) 385 91 91

Yayıncı Sertifika No: 51818

Matbaa Sertifika No: 45553

**İletişim**

Shira Ticaret Merkezi, Macun Mahallesi 204 Cad.

No: 141/33, Yenimahalle/Ankara

Yayınevi: 0312 430 67 50

Dağıtım: 0312 434 54 24

Hazırlık Kursları: 0312 419 05 60

İnternet: [ogreti.com](http://ogreti.com)

E-ileti: [ogreti@ogreti.com.tr](mailto:ogreti@ogreti.com.tr)

# Ön Söz

*Değerli Kamu Personeli Adaylarımız,*

Kitabımızın hazırlık sürecinde KPSS Genel Yetenek'in Matematik bölümü yıl yıl analiz edildi, gündemdeki soru kalıpları belirlendi, güncel soru teknikleri ışığında Tamamı Çözümlü Efsane Matematik Soru Bankası hazırlandı. Her testin sonuna ayrıntılı çözüm kısmı yerleştirildi.

KPSS'de başarılı olmak, bilgi seviyesini pratikle birleştirmekten geçiyor. Kitabımız sayesinde soru türlerine âşinâ olacak, nokta atışı çözümlerimiz ile eksikliklerinizi gidereceksiniz.

Kitabımız ile ilgili önerilerinizi, sorularınızı [ogreti@ogreti.com.tr](mailto:ogreti@ogreti.com.tr) e-posta adresine, 0538 594 92 40 ÖĞRETİ AKADEMİ WhatsApp Hattı'na gönderebilirsiniz.

Tüm okurlarımıza teşekkür eder, kitabımızın başarı yolunda sizlere mühim katkılar sunmasını dileriz.

KOMİSYON



*Değerli Okuyucularımız, kitabımızın basım tarihinden sonra gerçekleşen değişikliklere, ileriki tarihlerde ulaşabilirsiniz.*



# İÇİNDEKİLER

Ön Söz.....	iii
<b>MATEMATİK</b>	
<b>Temel Kavramlar</b>	
Test 1.....	1
<b>Sayı Basamakları ve Çözümleme</b>	
Test 2.....	7
<b>Asal Sayılar, Tam Bölenler</b>	
Test 3.....	12
<b>Faktöriyel</b>	
Test 4.....	17
<b>Bölme ve Bölünebilme</b>	
Test 5.....	22
<b>EBOB - EKOK</b>	
Test 6.....	28
<b>Rasyonel Sayılar - 1</b>	
Test 7.....	33
<b>Rasyonel Sayılar - 2</b>	
Test 8.....	38
<b>1. Dereceden Denklemler</b>	
Test 9.....	43
<b>1. Dereceden Eşitsizlikler - 1</b>	
Test 10.....	49
<b>1. Dereceden Eşitsizlikler - 2</b>	
Test 11.....	54
<b>Mutlak Değer - 1</b>	
Test 12.....	59
<b>Mutlak Değer - 2</b>	
Test 13.....	64
<b>Üslü Sayılar - 1</b>	
Test 14.....	69
<b>Üslü Sayılar - 2</b>	
Test 15.....	75
<b>Köklü Sayılar - 1</b>	
Test 16.....	80
<b>Köklü Sayılar - 2</b>	
Test 17.....	85
<b>Özdeşlikler - Çarpanlara Ayırma - 1</b>	
Test 18.....	90
<b>Özdeşlikler - Çarpanlara Ayırma - 2</b>	
Test 19.....	95
<b>Oran - Orantı - 1</b>	
Test 20.....	101
<b>Oran - Orantı - 2</b>	
Test 21.....	106
<b>Oran - Orantı - 3</b>	
Test 22.....	112
<b>Denklem Kurma Problemleri - 1</b>	
Test 23.....	118
<b>Denklem Kurma Problemleri - 2</b>	
Test 24.....	123
<b>Denklem Kurma Problemleri - 3</b>	
Test 25.....	128
<b>Denklem Kurma Problemleri - 4</b>	
Test 26.....	134
<b>Denklem Kurma Problemleri - 5</b>	
Test 27.....	139
<b>Denklem Kurma Problemleri - 6</b>	
Test 28.....	144
<b>Yaş Problemleri</b>	
Test 29.....	149
<b>Yüzde - Kâr - Zarar Problemleri - 1</b>	
Test 30.....	153
<b>Yüzde - Kâr - Zarar Problemleri - 2</b>	
Test 31.....	158
<b>Karışım Problemleri</b>	
Test 32.....	163
<b>İşçi Problemleri</b>	
Test 33.....	168

<b>Hareket Problemleri</b>	
Test 34.....	173
<b>Kümeler</b>	
Test 35.....	178
<b>İşlem - Modüler Aritmetik - 1</b>	
Test 36.....	183
<b>İşlem - Modüler Aritmetik - 2</b>	
Test 37.....	188
<b>Permütasyon</b>	
Test 38.....	193
<b>Kombinasyon - Olasılık</b>	
Test 39.....	197
<b>Tablo ve Grafik - 1</b>	
Test 40.....	202
<b>Tablo ve Grafik - 2</b>	
Test 41.....	206
<b>Sayısal Mantık - 1</b>	
Test 42.....	211
<b>Sayısal Mantık - 2</b>	
Test 43.....	215
<b>Sayısal Mantık - 3</b>	
Test 44.....	219

## GEOMETRİ

<b>Doğru Aç</b>	
Test 1.....	223
<b>Üçgende Aç</b>	
Test 2.....	228
<b>Dik Üçgen</b>	
Test 3.....	234
<b>Özel Üçgenler</b>	
Test 4.....	240
<b>Açıortay - Kenarortay</b>	
Test 5.....	246
<b>Üçgende Alan</b>	
Test 6.....	252
<b>Üçgende Benzerlik</b>	
Test 7.....	258
<b>Üçgende Benzerlik ve Alan</b>	
Test 8.....	264
<b>Üçgende Aç - Kenar Bağlıları</b>	
Test 9.....	271
<b>Çokgen - Dörtgen - 1</b>	
Test 10.....	276
<b>Çokgen - Dörtgen - 2</b>	
Test 11.....	280
<b>Paralelkenar - Eşkenar Dörtgen</b>	
Test 12.....	285
<b>Dikdörtgen - Kare</b>	
Test 13.....	290
<b>Yamuk - Deltoid</b>	
Test 14.....	295
<b>Çemberde Aç</b>	
Test 15.....	301
<b>Çemberde Uzunluk</b>	
Test 16.....	307
<b>Dairede Alan</b>	
Test 17.....	312
<b>Analitik Geometri - 1</b>	
Test 18.....	318
<b>Analitik Geometri - 2</b>	
Test 19.....	323
<b>Kati Cisimler</b>	
Test 20.....	329
<b>Cevap Anahtarı</b>	335

1.  $(17 : 3 - 2 : 3) \cdot 2 - 3$  işleminin sonucu kaçtır?

- A) 5    B) 6    C) 7    D) 8    E) 9

2.  $a = 2$  ve  $b = 3$  için

$a^2 + b^2 - a \cdot b$  işleminin sonucu kaçtır?

- A) 3    B) 5    C) 7    D) 11    E) 13

3.  $x$  ve  $y$  pozitif tam sayıdır.

$$3x + 4y = 66$$

olduğuna göre,  $x$ 'in alabileceği değerler toplamı kaçtır?

- A) 46    B) 50    C) 56    D) 64    E) 72

4.

- $a$  çift doğal sayıdır.
- $b$  tek doğal sayıdır.

Buna göre

I.  $a^b + 1$

II.  $\frac{a \cdot b}{2}$

III.  $(a + b)^2 + a$

ifadelerinden hangileri **daima** tek tam sayıdır?

- A) Yalnız I    B) Yalnız II    C) Yalnız III  
D) I ve III    E) I, II ve III

5.  $(m + 3)$  ile  $(11 - m)$  sayıları ardışık iki çift tam sayı olduğuna göre,  $m$ 'nin alabileceği değerler toplamı kaçtır?

- A) 16    B) 14    C) 12    D) 10    E) 8

6.  $K$ ,  $L$  ve  $M$  tam sayılardır.

$$K \cdot L = 42$$

$$L \cdot M = 28$$

olduğuna göre,  $K + L + M$  toplamı **en çok** kaçtır?

- A) 17    B) 31    C) 46    D) 69    E) 71

7.  $a$ ,  $b$  ve  $c$  sıfırdan farklı gerçel sayılardır.

$$\bullet a^2 + b < c$$

$$\bullet a \cdot b + b \cdot c = 0$$

olduğuna göre,  $a$ ,  $b$  ve  $c$  sayılarının işaret sırası aşağıdakilerden hangisi olabilir?

- A) -, -, -    B) -, -, +    C) +, -, +  
D) +, +, -    E) -, +, -

8. Birbirinden farklı 4 doğal sayının toplamı 106 olduğuna göre, bu sayıların **en küçüğü en çok** kaç olabilir?

- A) 25    B) 26    C) 27    D) 28    E) 29

9.  $x$ ,  $y$  ve  $z$  ardışık doğal sayılar ve  $x < y < z$  dir.

$x \cdot z = 399$  olduğuna göre,  $\frac{z-x}{y}$  oranı kaçtır?

- A)  $\frac{1}{10}$     B)  $\frac{1}{20}$     C)  $\frac{1}{15}$   
D)  $\frac{2}{15}$     E)  $\frac{1}{40}$

10.  $K$ ,  $L$  ve  $M$  birbirinden farklı rakamlardır.

$2K + L - M$  ifadesinin alabileceği **en büyük** değer kaçtır?

- A) 20    B) 22    C) 24    D) 26    E) 28

11.  $2 - 4 + 6 - 8 + \dots - 36 = x$

$1 - 2 + 3 - 4 + 5 - \dots - 20 = y$

olduğuna göre,  $\frac{x}{y}$  oranı kaçtır?

- A)  $\frac{3}{5}$       B)  $\frac{3}{10}$       C)  $\frac{9}{8}$   
D)  $\frac{9}{5}$       E)  $\frac{9}{10}$

12. a, b ve c ardışık tam sayılar ve  $a < b < c$  dir.

$$\left(1 - \frac{1}{a}\right)\left(1 - \frac{1}{b}\right)\left(1 - \frac{1}{c}\right) = \frac{2}{3}$$

olduğuna göre, b + c toplamı kaçtır?

- A) 15      B) 17      C) 19      D) 20      E) 21

13. K, L, M ve N tam sayılardır.

$K = 3M$

$L = 5N$

olmak üzere,  $10 < K < L < 30$  koşulunu sağlayan kaç farklı (K, L) ikilisi vardır?

- A) 8      B) 9      C) 10      D) 11      E) 12

14.  $X = \{m, k \in \mathbb{Z} : 125 < m < 375, m = 6k\}$

$Y = \{m, k \in \mathbb{Z} : 175 < m < 425, m = 5k\}$

olduğuna göre, bu iki kümenin kaç tane ortak elemanı vardır?

- A) 8      B) 7      C) 6      D) 5      E) 4

15. x negatif, y ve z pozitif tam sayıdır.

$3y + 2(z + 2) - 4x$

ifadesinin en küçük değeri kaçtır?

- A) 13      B) 15      C) 17      D) 19      E) 21

16. a, b ve c tam sayıdır.

$a < b < 0 < c$  olmak üzere,

I.  $\frac{a+b}{c}$

II.  $(a-b) \cdot (b-c)$

III.  $a^2 + b^5 + c^4$

ifadelerinden hangileri daima negatiftir?

- A) Yalnız I      B) Yalnız II      C) Yalnız III  
D) I ve II      E) I ve III

17. a ve b tam sayıdır.

$a \cdot b = 3a + 9$

olduğuna göre, b'nin alabileceği değerler toplamı kaçtır?

- A) 22      B) 20      C) 18      D) 15      E) 12

18. x, y ve z doğal sayıdır.

$x - 3y = 3y - z + 6$  olduğuna göre, aşağıdakilerden hangisi kesinlikle doğrudur?

- A)  $x \cdot y$  tektir.      B)  $x \cdot z$  çifttir.  
C)  $(x + z) \cdot y$  çifttir.      D) z tektir.  
E) y çifttir.

19. x, y ve z pozitif tam sayılardır.

$x = 3y - 1$

$y = 4z + 3$

olduğuna göre,  $x + y + z$  toplamı en az kaçtır?

- A) 24      B) 28      C) 32      D) 56      E) 64

20. Sayma sayıları art arda 1234.....91011....63 şeklinde yazıldığında baştan 63. rakam kaç olur?

- A) 7      B) 6      C) 5      D) 4      E) 3

## ÇÖZÜMLER

$$\begin{aligned}
 1. \quad (17:3 - 2:3) \cdot 2 - 3 &= \left( \frac{17}{3} - \frac{2}{3} \right) \cdot 2 - 3 \\
 &= \frac{15}{3} \cdot 2 - 3 \\
 &= 5 \cdot 2 - 3 \\
 &= 10 - 3 \\
 &= 7
 \end{aligned}$$

**Cevap C**

$$\begin{aligned}
 2. \quad a \text{ yerine } 2, b \text{ yerine } 3 \text{ yazılırsa} \\
 a^2 + b^2 - a \cdot b &= 2^2 + 3^2 - 2 \cdot 3 \\
 &= 4 + 9 - 6 \\
 &= 7 \text{ bulunur.}
 \end{aligned}$$

**Cevap C**

3. Bu tip sorular çözümlerken x'in ya da y'nin en küçük değeri için ilk sıralı ikili bulunduktan sonra ilk değerlerden yola çıkılarak x'in değerleri y'nin katsayısı kadar, y'nin değerleri x'in katsayısı kadar artırıp azaltılarak diğer sıralı ikililer bulunur.

$$\begin{aligned}
 x = 2 \text{ için} \\
 3x + 4y &= 66 \\
 3 \cdot 2 + 4y &= 66 \\
 6 + 4y &= 66 \\
 4y &= 60 \\
 y &= 15 \text{ bulunur.}
 \end{aligned}$$

Yani ilk sıralı ikili (2, 15)'tir. Bundan sonraki x değerleri y'nin katsayısı olan 4 kadar artırılır, y'nin değerleri ise x'in katsayısı olan 3 kadar azaltılır.

$$\begin{array}{c}
 3x + 4y = 66 \\
 \downarrow \quad \downarrow \\
 +4 \left( \begin{array}{l} (2, 15) \\ (6, 12) \\ (10, 9) \\ (14, 6) \\ (18, 3) \end{array} \right) \begin{array}{l} -3 \\ -3 \\ -3 \\ -3 \end{array}
 \end{array}$$

O hâlde, x'in alabileceği değerler toplamı  
 $2 + 6 + 10 + 14 + 18 = 50$  olur.

**Cevap B**

4.

I. b tek doğal sayı olduğundan 0 olamaz. Çift doğal sayıların 0 haricindeki doğal sayı kuvvetleri daima çift olacağından  $a^b$  daima çifttir.

O hâlde,

$$a^b + 1 = \text{Çift} + \text{Tek} = \text{Tek bulunur.}$$

II. a çift olduğundan a·b ifadesi daima çifttir. Ancak  $\frac{a \cdot b}{2}$  ifadesi tek ya da çift olabilir.

$$\text{Örneğin } a = 4, b = 1 \text{ için } \frac{a \cdot b}{2} = \frac{4 \cdot 1}{2} = 2,$$

$$a = 2, b = 1 \text{ için } \frac{a \cdot b}{2} = \frac{2 \cdot 1}{2} = 1 \text{ olur.}$$

III.  $(a + b)^2 + a = (\text{Çift} + \text{Tek})^2 + \text{Çift}$

$$= (\text{Tek})^2 + \text{Çift}$$

$$= \text{Tek} + \text{Çift}$$

$$= \text{Tek bulunur.}$$

**Cevap D**

5.

m + 3 ve 11 - m ardışık çift sayılar olduğundan (11 - m) ifadesi (m + 3)'ün 2 fazlasına yani (m + 5)'e, ya da 2 eksiğine yani (m + 1)'e eşit olmalıdır.

$$11 - m = m + 5 \quad \text{ya da} \quad 11 - m = m + 1$$

$$6 = 2m$$

$$10 = 2m$$

$$m = 3$$

$$m = 5 \text{ olur.}$$

O hâlde, m'nin alabileceği değerler toplamı

$$3 + 5 = 8 \text{ dir.}$$

**Cevap E**

6.

$$K \cdot L = 42$$

$$L \cdot M = 28$$

ifadelerinde L en küçük pozitif değerini aldığımda K ve M en büyük değerlerini alacağından K + L + M en çok olacaktır.

$$L = 1 \text{ için } K \cdot L = 42$$

$$K \cdot 1 = 42$$

$$K = 42$$

$$L = 1 \text{ için } L \cdot M = 28$$

$$1 \cdot M = 28$$

$$M = 28 \text{ olur.}$$

K + L + M toplamı  $42 + 1 + 28 = 71$  bulunur.

**Cevap E**

7.  $a \cdot b + b \cdot c = 0 \Rightarrow a b = -b \cdot c$   
 $a = -c$  dir.

O hâlde a ve c sayılarından biri pozitif diğeri negatif olmalıdır.

$a > 0, c < 0$  olursa  $a^2 + b < c$  olduğundan  $b < 0$  olmalıdır.

$a < 0, c > 0$  olursa  $b < 0$  veya  $b > 0$  olabilir.

O hâlde a, b ve c'nin işaretleri sırasıyla (+, -, -),  
 (-, -, +) veya (-, +, +) olabilir.

**Cevap B**

8. En küçük en çok ya da en büyük en az sorularında sayılar birbirine olabildiğince yakın seçilmelidir. Bunun için sayıların toplamı sayı adedine bölünür.

$$\begin{array}{r|l} 106 & 4 \\ \hline - & 26 \\ \hline & 2 \end{array}$$

Kalan 2, sayıların iki tanesine birer birer dağıtılsa sayılar 26, 26, 27, 27 hâline gelir. Sayıların farklı olması istendiğinden

$$\begin{array}{cccc} 26 & 26 & 27 & 27 \\ \downarrow -1 & & & \downarrow +1 \\ 25 & 26 & 27 & 28 \end{array}$$

olarak düzenleme yapılabilir. Yani en küçüğü en çok 25 olabilir.

**Cevap A**

9. x, y, z ardışık doğal sayılar ve  $x < y < z$  olduğundan  
 $y = x + 1$  ve  $z = x + 2$  dir.  
 $xz = 399 \Rightarrow x(x + 2) = 399$   
 $\Rightarrow x = 19$  dur.

O hâlde,

$$y = x + 1 = 19 + 1 = 20 \text{ ve}$$

$$z = x + 2 = 19 + 2 = 21 \text{ dir.}$$

$$\frac{z-x}{y} = \frac{21-19}{20} = \frac{2}{20} = \frac{1}{10} \text{ bulunur.}$$

**Cevap A**

10. Bu tip ifadelerin en büyük değeri bulunurken katsayısı pozitif olan değişkenlere büyük değerler, katsayısı negatif olan değişkenlere küçük değerler verilir.

K'nin katsayısı, L'ye göre daha büyük olduğundan

$K = 9, L = 8$  ve  $M = 0$  seçilirse

$$\begin{aligned} 2K + L - M &= 2 \cdot 9 + 8 - 0 \\ &= 18 + 8 - 0 \\ &= 26 \text{ bulunur.} \end{aligned}$$

**Cevap D**

11.  $\frac{2-4}{-2} + \frac{6-8}{-2} + \dots + \frac{34-36}{-2} = x$

x'in değerini bulmak için -2'lerin sayısını bulmak gerekir. -2'lerin sayısını bulmak için terim sayısı formülü kullanılır. Her bir -2 için bir pozitif bir negatif değer kullanıldığından terim sayısı bulunurken ya pozitif ya da negatif değerler kullanılmalıdır. Pozitif değerler kullanırsa (2, 6, 10, ..., 34)

$$\begin{aligned} \text{Terim sayısı} &= \frac{34-2}{4} + 1 \\ &= 9 \text{ dur.} \end{aligned}$$

Yani  $x = (-2) \cdot 9 = -18$  olur.

$$\frac{1-2}{-1} + \frac{3-4}{-1} + \dots + \frac{19-20}{-1} = y$$

$$\text{Terim sayısı} = \frac{19-1}{2} + 1 = 10 \text{ dur.}$$

$$y = 10 \cdot (-1) = -10 \text{ olur.}$$

$$\text{O hâlde } \frac{x}{y} = \frac{-18}{-10} = \frac{9}{5} \text{ bulunur.}$$

**Cevap D**

12. a, b, c ardışık tam sayılar ve  $a < b < c$  olduğundan  
 $b = a + 1$  ve  $c = a + 2$  dir.

$$\left(1 - \frac{1}{a}\right) \cdot \left(1 - \frac{1}{b}\right) \cdot \left(1 - \frac{1}{c}\right) = \frac{2}{3}$$

$$\left(\frac{a-1}{a}\right) \cdot \left(\frac{b-1}{b}\right) \cdot \left(\frac{c-1}{c}\right) = \frac{2}{3}$$

$$\left(\frac{a-1}{a}\right) \cdot \left(\frac{a+1-1}{a+1}\right) \cdot \left(\frac{a+2-1}{a+2}\right) = \frac{2}{3}$$

$$\left(\frac{a-1}{a}\right) \cdot \left(\frac{a}{a+1}\right) \cdot \left(\frac{a+1}{a+2}\right) = \frac{2}{3}$$

$$\frac{a-1}{a+2} = \frac{2}{3}$$

$$3(a-1) = 2(a+2)$$

$$3a - 3 = 2a + 4$$

$$a = 7 \text{ olur.}$$

O hâlde  $b = 8$  ve  $c = 9, b + c = 8 + 9 = 17$  bulunur.

**Cevap B**



13. K, 3'ün katı olduğundan alabileceği ilk değer 12'dir. L, 5'in katı olduğundan 12'den büyük 15, 20, 25 değerlerini alabilir. Oluşan sıralı ikililer (12, 15), (12, 20), (12, 25) olmak üzere 3 tanedir. K = 15 iken L = 20 ya da L = 25 olabilir ve oluşan sıralı ikililer (15, 20), (15, 25) olmak üzere 2 tanedir. K = 18 iken L = 20 ya da L = 25 olabilir. Oluşan sıralı ikililer (18, 20), (18, 25) olmak üzere 2 tanedir. K = 21 iken L = 25, K = 24 iken L = 25'tir. Oluşan sıralı ikililer (21, 25), (24, 25) olmak üzere 2 tanedir. Yani  $3 + 2 + 2 + 2 = 9$  farklı (K, L) ikilisi vardır.

**Cevap B**

14. X kümesinin elemanları 125 ile 375 arasındaki 6'nın katı olan sayılar, Y kümesinin elemanları 5'in katı olan 175 ile 425 arasındaki sayılar olduğundan bu iki kümenin ortak elemanları 175 ile 375 arasında ve 5 ile 6'nın ortak katı olan yani 30'un katı sayılar olmalıdır.

180, 210, ..., 360

$$\begin{aligned} \text{Terim sayısı} &= \frac{360 - 180}{30} + 1 \\ &= 6 + 1 \\ &= 7 \text{ bulunur.} \end{aligned}$$

**Cevap B**

15. Bu tip ifadelerin en küçük değeri bulunurken katsayısı pozitif olan değişkenler en küçük, katsayısı negatif olan değişkenler en büyük seçilmelidir.

$$y = 1, z = 1 \text{ ve } x = -1 \text{ seçilirse}$$

$$\begin{aligned} 3y + 2(z + 2) - 4x &= 3 \cdot 1 + 2 \cdot (1 + 2) - 4 \cdot (-1) \\ &= 3 + 6 + 4 \\ &= 13 \text{ bulunur.} \end{aligned}$$

**Cevap A**

- 16.

I. İki negatif sayının toplamı daima negatif olduğundan  $a + b$  daima negatiftir.

$$\frac{a+b}{c} = \frac{-}{+} = - \text{ bulunur.}$$

II. Küçük sayıdan büyük sayı çıkarıldığında negatif bir değer, büyük sayıdan küçük sayı çıkarıldığında pozitif bir değer elde edilir. Yani  $a - b$  negatif ve  $b - c$  negatif olmalıdır.

$$(a - b) \cdot (b - c) = (-) \cdot (-) = + \text{ bulunur.}$$

III.  $a^2 + b^5 + c^4 = (+) + (-) + (+)$

Bir toplamda pozitif ve negatif değerler aynı anda bulunduğu anda toplamın değeri pozitif, negatif veya 0 olabilir.

**Cevap A**

## 17. I. yol

$a \cdot b = 3a + 9$  eşitliğinde her iki taraf  $a$ 'ya bölünürse

$$\frac{a \cdot b}{a} = \frac{3a}{a} + \frac{9}{a}$$

$$b = 3 + \frac{9}{a} \text{ bulunur.}$$

$$a = 1 \Rightarrow b = 3 + \frac{9}{1} = 12$$

$$a = 3 \Rightarrow b = 3 + \frac{9}{3} = 6$$

$$a = 9 \Rightarrow b = 3 + \frac{9}{9} = 4$$

$$a = -1 \Rightarrow b = 3 + \frac{9}{-1} = -6$$

$$a = -3 \Rightarrow b = 3 + \frac{9}{-3} = 0$$

$$a = -9 \Rightarrow b = 3 + \frac{9}{-9} = 2 \text{ olur.}$$

O hâlde  $b$ 'nin alabileceği değerler toplamı

$$12 + 6 + 4 + (-6) + 0 + 2 = 18 \text{ dir.}$$

## II. yol

$b = 3 + \frac{9}{a}$  olduğundan  $b$ 'nin alabileceği değerler toplamı

3 (9'un tam bölen sayısı) kadardır. 9'un tam bölen sayısı 6 olduğundan  $b$ 'nin alabileceği değerler toplamı  $3 \cdot 6 = 18$  dir.

**Cevap C**

$$18. \quad x - 3y = 3y - z + 6$$

$$x + z = \underbrace{6y + 6}_{\text{çift}}$$

$x + z$  toplamı çift ise  $x$  ve  $z$  tek ya da  $x$  ve  $z$  çift olmalıdır.  $y$ 'nin katsayısı çift olduğundan  $y$  hakkında yorum yapılamaz.

A)  $x$  ve  $z$  çift olursa  $x \cdot y$  çift olur. Daima doğru olmaz.

B)  $x$  ve  $z$  tek olursa  $x \cdot z$  tek olur. Daima doğru olmaz.

C)  $x + z$  çift olduğundan  $(x + z) \cdot y$  daima çifttir.

D)  $z$  çift de olabilir. Daima doğru olmaz.

E)  $y$  hakkında kesin bir yorum yapılamaz.

**Cevap C**

19. En küçük değişken olan  $z = 1$  seçilirse

$$y = 4z + 3 \Rightarrow y = 4 \cdot 1 + 3$$

$$y = 7 \text{ dir.}$$

$$x = 3y - 1 \Rightarrow x = 3 \cdot 7 - 1$$

$$x = 20 \text{ dir.}$$

$$x + y + z = 20 + 7 + 1 = 28 \text{ bulunur.}$$

**Cevap B**

20. 1'den 9'a kadar olan sayılar bir basamaklı olduğundan 1'den 9'a kadar olan sayılar için  $9 \cdot 1 = 9$  basamak vardır. 10'dan sonraki sayılar iki basamaklı olduğundan  $63 - 9 = 54$  basamak ileri gidildiğinde  $\frac{54}{2} = 27$  terim ilerlenmiş olur. 1. terim 10 ise 27. terim 36 olur. Yani 63. rakam 6'dır.

**Cevap B**

- ab ve ba iki basamaklı doğal sayılardır.  
 $3(ab + ba) = 11(ab - ba)$   
**olduğuna göre,  $a \cdot b$  çarpımı aşağıdakilerden hangisi olabilir?**  
 A) 16    B) 32    C) 50    D) 72    E) 98
- aba, bab ve bbb üç basamaklı doğal sayılardır.  
 $\frac{aba + bab}{bbb} = \frac{7}{3}$   
**olduğuna göre,  $a \cdot b$  çarpımının alabileceği en büyük değer kaçtır?**  
 A) 27    B) 36    C) 48    D) 56    E) 64
- Rakamları farklı dört basamaklı **en büyük** çift sayı ile rakamları farklı üç basamaklı **en küçük** tek doğal sayının toplamı kaçtır?  
 A) 9979    B) 9992    C) 9880  
 D) 9799    E) 9789
- abc, bca ve cab üç basamaklı doğal sayıların toplamı 777'dir.  
**Buna göre kaç farklı abc doğal sayısı yazılabilir?**  
 A) 6    B) 9    C) 12    D) 14    E) 15
- Her biri **en az** üç basamaklı beş doğal sayının birer basamağındaki rakamlar 2 azaltılır ve yüzler basamağındaki rakamlar 1 artırılırsa bu beş sayının toplamı nasıl değişir?  
 A) 490 artar.    B) 480 artar.  
 C) 380 azalır.    D) 490 azalır.  
 E) 280 artar.
- ab7 üç basamaklı, ab iki basamaklı doğal sayılardır.  
 $ab7 = 9(ab) + 32$   
**olduğuna göre,  $a \cdot b$  çarpımı kaçtır?**  
 A) 10    B) 9    C) 8    D) 7    E) 6
- xy, yx, xx ve yy iki basamaklı doğal sayılardır.  
 $xy + yx + yy + xx = 286$   
**olduğuna göre,  $x \cdot y$  çarpımı en çok kaçtır?**  
 A) 32    B) 42    C) 48    D) 54    E) 63
- mnk ve knm üç basamaklı doğal sayılardır.  
 $mnk = knm + 396$   
**olduğuna göre, en büyük mnk sayısının rakamları toplamı kaçtır?**  
 A) 27    B) 26    C) 23    D) 21    E) 19
- m, n ve k birer rakamdır.  
 $\frac{m}{2} = \frac{n}{3}$   
**olduğuna göre, üç basamaklı kaç farklı mnk doğal sayısı yazılabilir?**  
 A) 22    B) 25    C) 27    D) 30    E) 32
- İki basamaklı ab doğal sayısının sağına ve soluna 3 rakamı yazıldığında değeri 3426 artıyor.  
**Buna göre  $a \cdot b$  çarpımı kaçtır?**  
 A) 45    B) 28    C) 27    D) 12    E) 6

11.  $xyz$  üç basamaklı doğal sayı ve  $x > z$ 'dir.  
 $xyz - zyx = mn7$   
**olduğuna göre,  $m + n$  toplamı kaçtır?**  
 A) 15 B) 13 C) 11 D) 9 E) 7
12. 10 basamaklı bir doğal sayı ile 7 basamaklı bir doğal sayının çarpımı **en az** kaç basamaklı bir doğal sayı olur?  
 A) 13 B) 14 C) 15 D) 16 E) 17
13.  $xy$  ve  $yx$  iki basamaklı doğal sayılardır.  
 $(xy)^2 - (yx)^2 = 693$   
**olduğuna göre,  $2x + y$  toplamı kaçtır?**  
 A) 7 B) 9 C) 11 D) 14 E) 17
14.  $ab$  ve  $xy$  iki basamaklı doğal sayılardır.  $a$  rakamının değeri 3 artırılır,  $x$  rakamının değeri 3 azaltılırsa  $ab \cdot xy$  çarpımı 60 artıyor.  
**Buna göre,  $xy - ab$  farkı kaçtır?**  
 A) 42 B) 38 C) 35 D) 32 E) 30
15.  $bc$  iki basamaklı,  $a$  bir doğal sayıdır.  
 $(bc)^2 = a^2 + 19$   
**olduğuna göre,  $a + b + c$  toplamı kaçtır?**  
 A) 21 B) 19 C) 17 D) 12 E) 10
16. Üç basamaklı rakamları farklı 4 farklı çift doğal sayının toplamı 900'dür.  
**Buna göre bu sayıların en büyüğü en çok kaçtır?**  
 A) 584 B) 586 C) 588 D) 590 E) 592
17. İki basamaklı rakamları farklı beş doğal sayının toplamı 421'dir.  
**Buna göre bu sayıların en küçüğü en az kaçtır?**  
 A) 23 B) 25 C) 29 D) 32 E) 35
18. Üç basamaklı 4 farklı doğal sayının toplamı 623'tür.  
**Buna göre bu sayılardan en büyüğü en az kaçtır?**  
 A) 153 B) 154 C) 157 D) 158 E) 159
19.  $a, b, c, x, y, m$  ve  $n$  birbirinden farklı rakamlar,  $abc$  üç basamaklı,  $xy$  ve  $mn$  iki basamaklı doğal sayılardır.  
**Buna göre  $abc + xy + mn$  toplamı en çok kaçtır?**  
 A) 1122 B) 1124 C) 1127  
 D) 1129 E) 1132
20. 1'den başlamak üzere tüm ardışık doğal sayılar yan yana yazılıyor. Daha sonra bu sayılardan 50 ile bölünenler siliniyor.  
**Buna göre son durumda baştan 912. sayı kaç olur?**  
 A) 812 B) 864 C) 900 D) 921 E) 930

## ÇÖZÜMLER

$$\begin{aligned}
 1. \quad & 3(ab + ba) = 11(ab - ba) \\
 & 3(10a + b + 10b + a) = 11(10a + b - 10b - a) \\
 & 3(11a + 11b) = 11(9a - 9b) \\
 & \cancel{3} \cdot \cancel{11} \cdot (a+b) = \cancel{11} \cdot \cancel{9} \cdot (a-b) \\
 & a + b = 3(a - b) \\
 & a + b = 3a - 3b \\
 & 4b = 2a \\
 & 2b = a \\
 & \begin{array}{c} \downarrow \quad \downarrow \\ 1 \cdot 2 = 2 \\ 2 \cdot 4 = 8 \\ 3 \cdot 6 = 18 \\ 4 \cdot 8 = 32 \end{array}
 \end{aligned}$$

O hâlde a b çarpımı 32 olabilir.

**Cevap B**

$$\begin{aligned}
 2. \quad & \frac{aba + bab}{bbb} = \frac{7}{3} \\
 & \frac{100a + 10b + a + 100b + 10a + b}{100b + 10b + b} = \frac{7}{3} \\
 & \frac{111(a+b)}{111b} = \frac{7}{3}
 \end{aligned}$$

$$3(a + b) = 7b$$

$$3a + 3b = 7b$$

$$3a = 4b$$

$$\begin{array}{c} \downarrow \quad \downarrow \\ 4 \quad 3 \end{array}$$

$$\begin{array}{c} 8 \quad 6 \end{array}$$

O hâlde a b çarpımı en çok  $8 \cdot 6 = 48$  olabilir.

**Cevap C**

3. Rakamları farklı dört basamaklı en büyük çift sayı 9876'dır. Rakamları farklı üç basamaklı en küçük tek doğal sayı 103'tür. Buradan  $9876 + 103 = 9979$  bulunur.

**Cevap A**

## 4. I. Yol

$$abc + bca + cab = 777$$

$$111(a + b + c) = 777$$

$$a + b + c = 7$$

$$a = 5 \quad b = 1 \quad c = 1$$

$$a = 4 \quad b = 2 \quad c = 1$$

$$a = 4 \quad b = 1 \quad c = 2$$

$$a = 3 \quad b = 1 \quad c = 3$$

$$a = 3 \quad b = 2 \quad c = 2$$

$$a = 3 \quad b = 3 \quad c = 1$$

$$a = 2 \quad b = 1 \quad c = 4$$

$$a = 2 \quad b = 2 \quad c = 3$$

$$a = 2 \quad b = 3 \quad c = 2$$

$$a = 2 \quad b = 4 \quad c = 1$$

$$a = 1 \quad b = 1 \quad c = 5$$

$$a = 1 \quad b = 2 \quad c = 4$$

$$a = 1 \quad b = 3 \quad c = 3$$

$$a = 1 \quad b = 4 \quad c = 2$$

$$a = 1 \quad b = 5 \quad c = 1$$

olmak üzere 15 farklı abc sayısı yazılabilir.

## II. Yol

$$(5, 1, 1) \text{ rakamları ile } \frac{3!}{2!} = 3 \text{ tane}$$

$$(4, 2, 1) \text{ rakamları ile } 3! = 6 \text{ tane}$$

$$(3, 3, 1) \text{ rakamları ile } \frac{3!}{2!} = 3 \text{ tane}$$

$$(2, 2, 3) \text{ rakamları ile } \frac{3!}{2!} = 3 \text{ tane}$$

olmak üzere, toplam  $3 + 6 + 3 + 3 = 15$  abc sayısı yazılabilir.

**Cevap E**

5. Birler basamağındaki rakam 2 azaltılırsa sayı 2 azalır, yüzler basamağındaki rakam 1 arttırılırsa sayı 100 artar. Yani her bir sayıdaki değişim  $100 - 2 = 98$  dir. 5 doğal sayı olduğundan bu sayıların toplamı  $98 \cdot 5 = 490$  artar.

**Cevap A**

KPSS  
2024

GENEL YETENEK  
GENEL KÜLTÜR

EFSANE  
TARİH  
SORU  
BANKASI

TAMAMI  
ÇÖZÜMLÜ

**GENEL YETENEK GENEL KÜLTÜR EFSANE TARİH TAMAMI ÇÖZÜMLÜ SORU BANKASI**

ISBN 978-625-6764-15-6

Kitapta yer alan bölümlerin tüm sorumluluğu yazarlarına aittir.

© Öğreti Akademi

Bu kitabın basım, yayım ve satış hakları Pegem Akademi Yay. Eğt. Dan. Hizm. Tic. AŞ'ye aittir. (Öğreti Akademi yayınları bir Pegem Akademi markasıdır.) Anılan kuruluşun izni alınmadan kitabın tümü ya da bölümleri, kapak tasarımı; mekanik, elektronik, fotokopi, manyetik kayıt ya da başka yöntemlerle çoğaltılamaz, basılamaz ve dağıtılamaz. Bu kitap, T.C. Kültür ve Turizm Bakanlığı bandrolü ile satılmaktadır. Okuyucularımızın bandrolü olmayan kitaplar hakkında yayınevimize bilgi vermesini ve bandrolsüz yayınları satın almamasını diliyoruz.

**I. Baskı, Ankara**

Yayın-Proje: Sami Terzi

Dizgi-Grafik Tasarım: İlknur Öztürk

Kapak Tasarımı: Öğreti Akademi

**Baskı:** Koza Yayın Dağıtım AŞ  
Saray Mahallesi 205 cadde No: 4/2  
Kahramankazan/ANKARA  
Tel: (0312) 385 91 91

Yayıncı Sertifika No: 51818

Matbaa Sertifika No: 45553

**İletişim**

Shira Ticaret Merkezi, Macun Mahallesi 204 Cad.

No: 141/33, Yenimahalle/Ankara

Yayınevi: 0312 430 67 50

Dağıtım: 0312 434 54 24

Hazırlık Kursları: 0312 419 05 60

İnternet: [ogreti.com](http://ogreti.com)

E-ileti: [ogreti@ogreti.com.tr](mailto:ogreti@ogreti.com.tr)

# Ön Söz

*Değerli Kamu Personeli Adaylarımız,*

Kitabımızın hazırlık sürecinde KPSS Genel Kültür'ün Tarih bölümü yıl yıl analiz edildi, gündemdeki soru kalıpları belirlendi, güncel soru teknikleri ışığında Tamamı Çözümlü Efsane Tarih Soru Bankası hazırlandı. Her testin sonuna ayrıntılı çözüm kısmı yerleştirildi.

KPSS'de başarılı olmak, bilgi seviyesini pratikle birleştirmekten geçiyor. Kitabımız sayesinde soru türlerine âşinâ olacak, nokta atışı çözümlerimiz ile eksikliklerinizi gidereceksiniz.

Kitabımız ile ilgili önerilerinizi, sorularınızı [ogreti@ogreti.com.tr](mailto:ogreti@ogreti.com.tr) e-posta adresine, 0538 594 92 40 ÖĞRETİ AKADEMİ WhatsApp Hattı'na gönderebilirsiniz.

Tüm okurlarımıza teşekkür eder, kitabımızın başarı yolunda sizlere mühim katkılar sunmasını dileriz.

KOMİSYON



*Değerli Okuyucularımız, kitabımızın basım tarihinden sonra gerçekleşen değişikliklere, ileriki tarihlerde ulaşabilirsiniz.*





# İÇİNDEKİLER

Ön Söz.....	iii
<b>İslamiyet Öncesi Türk Tarihi</b>	
Test 1.....	1
Test 2.....	5
Test 3.....	9
Test 4.....	13
<b>Türk - İslam Tarihi</b>	
Test 1.....	17
Test 2.....	21
Test 3.....	25
<b>Türkiye Tarihi</b>	
Test 1.....	29
Test 2.....	33
Test 3.....	37
<b>Avrupa Tarihi</b>	
Test 1.....	41
<b>Osmanlı Devleti Kuruluş Dönemi (Beylikten Devlete)</b>	
Test 1.....	45
<b>Osmanlı Devleti Yükselme Dönemi (Dünya Gücü: Osmanlı Devleti)</b>	
Test 1.....	49
<b>Osmanlı Devleti Kültür ve Medeniyeti</b>	
Test 1.....	54
Test 2.....	58
Test 3.....	62
Test 4.....	66
Test 5.....	70
<b>Osmanlı Devleti Duraklama Dönemi (Arayış Yılları)</b>	
Test 1.....	74
<b>Osmanlı Devleti Gerileme Dönemi (XVIII. yy.da Osmanlı Devleti)</b>	
Test 1.....	78
<b>Osmanlı Devleti Dağılıma Dönemi (En Uzun Yüzyıl)</b>	
Test 1.....	83
<b>Osmanlı Devleti Yenileşme ve Demokratikleşme Hareketleri</b>	
Test 1.....	88
Test 2.....	92
Test 3.....	96
Test 4.....	100
Test 5.....	104
<b>XX. Yüzyıl'da Osmanlı Devleti</b>	
Test 1.....	108
Test 2.....	112
Test 3.....	116
<b>I. Dünya Savaşı ve Sonuçları</b>	
Test 1.....	120
Test 2.....	124
Test 3.....	128
Test 4.....	132
Test 5.....	136
<b>Kurtuluş Savaşı Hazırlık Dönemi</b>	
Test 1.....	140
Test 2.....	144
Test 3.....	148
Test 4.....	152

<b>I. TBMM Dönemi</b>	
Test 1.....	156
Test 2.....	160
Test 3.....	164
Test 4.....	168
<b>Kurtuluş Savaşı Muharebeler ve Antlaşmalar Dönemi</b>	
Test 1.....	172
Test 2.....	176
Test 3.....	180
Test 4.....	184
Test 5.....	188
<b>Atatürk İlkeleri</b>	
Test 1.....	192
Test 2.....	196
Test 3.....	200
Test 4.....	204
<b>İnkılaplar ve Cumhuriyet Dönemi İç Gelişmeler</b>	
Test 1.....	208
Test 2.....	212
Test 3.....	216
Test 4.....	220
Test 5.....	224
Test 6.....	228
Test 7.....	232
Test 8.....	236
Test 9.....	240
Test 10.....	244
<b>Dış Politika</b>	
Test 1.....	248
Test 2.....	252
Test 3.....	256
Test 4.....	260
Test 5.....	264
<b>Çağdaş Türk ve Dünya Tarihi</b>	
Test 1.....	268
Test 2.....	273
Test 3.....	278
Test 4.....	283
Test 5.....	288
Test 6.....	292
<b>Tarama Testleri</b>	
Test 1.....	296
Test 2.....	300
Test 3.....	304
Test 4.....	308
Test 5.....	312
Test 6.....	316
Test 7.....	320
Test 8.....	324
Test 9.....	328
Test 10.....	333
Test 11.....	338
<b>Cevap Anahtarı.....</b>	343

1.

- I. Ceza işlerinin kesin hükme bağlanması
- II. Ceza işlerinin devlet tarafından takip edilmesi
- III. Kısa süreli hapis cezalarının görülmesi

**Yukarıdakilerden hangileri, İslamiyet öncesi Türk devletlerinde kan gütmeye geleneğini engellemiştir?**

- A) Yalnız I                      B) I ve II                      C) I ve III  
D) II ve III                      E) I, II ve III

2. **Asya Hun Devleti Hükümdarı Mete Han zamanında;**

- Onluk sistemin oluşturulmuştur.
- Kurultay toplanmıştır.
- Çin ile Pai-teng Antlaşması yapılmıştır.

**bu gelişmeler hangisinin kanıtı olamaz?**

- A) İdari yapılanmanın varlığının  
B) Türk siyasi birliğinin sağlandığının  
C) Demokratik tutumlara yer verildiğinin  
D) Diplomatik ilişkiler kurulduğunun  
E) Askerî yapılanmaya önem verildiğinin

3. **İlk Türk devletlerinde Kurultayın savaş, barış gibi önemli konularda aldığı kararların kağanı bağlamaması Kurultaya;**

- I. danışma meclisi,
- II. kurucu meclis,
- III. olağanüstü meclis

**özelliklerinden hangilerini kazandırmıştır?**

- A) Yalnız I                      B) Yalnız II                      C) Yalnız III  
D) I ve II                      E) II ve III

4. **Uygurlar Dönemi'nde hukuk kurallarının yazılı hâle gelmesinde;**

- I. stupa adı verilen tapınakların inşa edilmesi,
- II. özel mülkiyete önem verilmemesi,
- III. ticari ilişkilerin gelişmesi

**durumlarından hangileri etkili olmuştur?**

- A) Yalnız I                      B) Yalnız II                      C) Yalnız III  
D) I ve II                      E) I ve III

5. **Orhun Abideleri ile ilgili aşağıdaki bilgilerin hangisi yanlıştır?**

- A) Türk dilinin ve tarihinin ilk yazılı kaynaklarıdır.  
B) Siyasetname özelliğine sahiptir.  
C) Soğd alfabesi ile yazılmıştır.  
D) Kutluk Devleti'ne aittir.  
E) Bilge Kağan, Kültigin ve Vezir Tonyukuk adına dikilmiştir.

6. **Uygurların aşağıdaki özelliklerinden hangisi Çinlilerden etkilendiklerinin doğrudan bir kanıtıdır?**

- A) Kut anlayışına sahip olmaları  
B) Uygur alfabesini kullanmaları  
C) *Karabalgasun Kitabeleri*'ne sahip olmaları  
D) *Türeyiş Destanı*'na sahip olmaları  
E) Manihaizm ve Budizm dinlerini benimsemeleri

7. Orta Asya Türk devletlerinde savaş zamanında; boy beyleri komutan, kadın-erkek tüm boy üyeleri ise asker sayılırdı.

**Buna göre;**

- I. sosyal devlet anlayışının olduğu,
- II. ordu – millet anlayışının benimsendiği,
- III. askerliğin ayrıcalıklı bir meslek sayılmadığı

**yargılarından hangilerine ulaşılabilir?**

- A) Yalnız I                      B) Yalnız III                      C) I ve II  
D) II ve III                      E) I, II ve III

8.

- Tarihte ilk Türk şehirlerini kurmuşlardır.
- Orta oyunu ile Türk tiyatrosunun temellerini atmışlardır.
- Türk mimarisinin ilk örneklerini bırakmışlardır.

**Bazı özellikleri verilen Türk devleti aşağıdakilerden hangisidir?**

- A) Asya Hun                      B) Kök Türkler                      C) Uygurlar  
D) Avarlar                      E) Hazarlar

9.

- I. Kâğıt üretmeleri
- II. Baskıda hareketli harf sistemini kullanmaları
- III. Kendilerine özgü alfabelerinin olması

**Yukarıdakilerden hangileri Uygurların ve Kök Türklerin ortak özelliklerindedir?**

- A) Yalnız I                      B) Yalnız III                      C) I ve II  
D) II ve III                      E) I, II ve III

10. Aşağıdakilerden hangisi Orta Asya Türklerinde görülen hükümdarlık alametlerinden biri **değildir**?

- A) Davul                      B) Örgin                      C) Otağ  
D) Tuğ                      E) Hutbe

11. Uygurların yerleşik hayata geçmelerinde;

- I. Çin ile ticaret yapmaları,
- II. Manihaizm dinini benimsemeleri,
- III. mimaride ve sanatta ileri gitmeleri

**nedenlerinden hangileri doğrudan etkili olmuştur?**

- A) Yalnız I                      B) Yalnız II                      C) Yalnız III  
D) II ve III                      E) I, II ve III

12. Bağımsızlık mücadelesi sonucu kurulduğu bilinen **ilk Türk devleti aşağıdakilerden hangisidir?**

- A) İskitler                      B) Karluklar                      C) I. Kök Türk  
D) Uygurlar                      E) Avarlar

13. Orta Asya Türk devletlerinde devletin hükümdar ailesinin ortak malı sayılması **daha çok aşağıdaki alanlardan hangisinde olumsuzluklar yaşanmasına neden olmuştur?**

- A) Askerî                      B) Adli                      C) Sanat  
D) İdari                      E) Ekonomi

14. Türklerin, Çinlileri;

- I. tarımsal faaliyetler,
- II. Gök Tanrı inancı,
- III. askerlik

**alanlarının hangilerinde etkilediği söylenebilir?**

- A) Yalnız I                      B) Yalnız III                      C) I ve II  
D) I ve III                      E) I, II ve III

15. Almış Han zamanında İslamiyet'i kabul eden Türk devleti aşağıdakilerden hangisidir?

- A) İtil Bulgarları  
B) Tuna Bulgarları  
C) Kansu Uygurları  
D) Turfan Uygurları  
E) Avrupa Hunları

## ÇÖZÜMLER

1. Ceza işlemlerinin kesin hükme bağlanması bir kişinin başka bir kişi üzerinde husumet duygusu geliştirmesini engeller. Zira adalet tecelli eder. Aynı şekilde ceza işlerinin devlet tarafından takip edilerek hukukun gereğini yerine getirmiş olması haksızlığa uğrayan kişinin husumet duygusunu azaltır, kan gütme geleneğini engeller. Cezaların kısa süreli olması ise kişi de haksızlığa uğramasından doğan husumet duygusunun engellemez aksine artırır. Layık olunan cezanın verilmediğini düşünerek kan gütme arzusunu taşır.

**Cevap B**

2. Mete Han zamanında kurultayın toplanması idari yapılanmanın varlığını gösterir. Kurultay ülke sorunlarını görüşen meclis olması sebebiyle demokratik nitelik de gösterir. Çin ile Pai-teng Antlaşması'nın yapılması diplomatik ilişkiler kurulduğunu gösterir. Onluk sistemin uygulanması ise askerî yapılanmaya önem verildiğini gösterir. Soruda Türk siyasi birliğinin sağlandığını gösterir bir öncül bulunmamaktadır. Türk siyasi birliğinin sağlanması için Türklerin yaşadığı tüm coğrafyaların Asya Hun Devleti'nin egemenliği altına girmesi gerekir.

**Cevap B**

3. İlk Türk devletlerinde kurultayın aldığı kararların kağan için bağlayıcı olmaması kurultayın danışma meclisi özelliği taşıdığını gösterir. Zira, danışma meclisi bir konu hakkında görüş bildirir, aldığı karar bağlayıcı değildir. Kurucu meclis devlet kurar, anayasa hazırlar. Olağanüstü meclis ise olağan dışı koşullarda toplanmış olağanüstü yetkilere sahip meclistir. I. TBMM olağanüstü meclis niteliği taşır.

**Cevap A**

4. Uygurlar Dönemi'nde hukuk kurallarını yazılı hâle gelmesinde ticari ilişkilerin gelişmesi etkilidir. Kişilerin, birbirleri ile yaptığı alışverişini kayıt altına alarak güvence sağlama isteği sözleşmelerin imzalanmasına sebep olmuştur. Tapınakların inşa edilmesi hukuk kurallarını yazılı hâle gelme sebebi değildir. Yine özel mülkiyete önem verilmemesi hukukun yazılı hâle gelme sebebi olamaz. Aksine mülkiyet hakkı yazılı hukuk kurallarının gelişmesine katkı sağlar.

**Cevap C**

5. *Orhun Abideleri* ile Soğd alfabesi ile değil, Orhun alfabesi ile yazılmıştır. *Orhun Abideleri* hakkında verilen diğer öncüller doğrudur.

**Cevap C**

6. Uygurlar hakkında verilen bilgilerden Maniheizm ve Budizm dinlerini benimseme Çinlilerden etkilendiklerini doğrudan bir kanıttır. Zira Budizm ve Maniheizm Çin'de yaygın bir inanç sistemidir.

**Cevap E**

7. Orta Asya Türk devletlerinde savaş zamanında boy beyleri, komutan, kadın-erkek tüm boy üyeleri ise asker sayılırdı. Bu durum ordu millet anlayışının bulunduğunu gösterir. Tüm bireylerin asker sayılması askerliğin ayrıcalıklı bir meslek sayılmadığını gösterir. Soru kökündeki bilgilerden sosyal devlet anlayışının bulunduğuna ulaşmak mümkün değildir. Sosyal devlet, devletin kamu çıkarına uygun yatırımlar yapmasıdır.

**Cevap D**

8. Soruda verilen öncüller Uygur devletine aittir. Uygurların yerleşik hayata geçmesi ile şehir kültürü başlamıştır. Şehir kültürü ile beraber mimari alanda ev, saray, tapınak vb. örnekler verilmiştir. Yine Uygurlar, Türk tiyatrosunun temellerini atmıştır. Uygurların Türk kültürüne kazandırdığı diğer bazı önemli unsurlar arasında Uygur alfabesi, çiçek aşısı, Mani dinini benimseme, minyatür sanatı, çinicilik, kağıt, matbaa, kitap ve kütüphane bulunur.

**Cevap C**

9. Uygur ve Kök Türklerin ortak özellikleri arasında kendilerine özgü alfabelerinin olması bulunur. Uygurlar, Soğd-lardan aldıkları alfabeyi geliştirerek kendilerine özgü hâle getirmiştir.

**Cevap B**

10. Orta Asya Türklerinde görülen hükümdarlık alametleri arasında hutbe bulunmaz. Hutbe İslamiyet'in kabulü ile hükümdarlık alametleri arasına girmiştir. Hükümdarlık alametleri arasında: nevbet (davul), otağ (çadır), taht (örgin), tuğ (sancak), yarlığ (Tanrı iradesi), kılıç kemer, kamçı, yay, kotuz (sorguç), toy bulunur.

**Cevap E**

11. Uygurların yerleşik hayata geçmelerinde Manihaizm dini benimsmeleri doğrudan etkilidir. Manihaizm dini et yemeği yasaklamıştır. Bu durum Uygurların tarım yapmasına, yerleşmesine, köy ve şehirler kurmasına sebep olmuştur. Uygurların mimaride ve sanatta ileri gitmeleri yerleşik hayata geçmesinin sebebi değil sonucudur.

**Cevap B**

12. Bağımsızlık Savaşı sonucunda kurulduğu bilinen ilk Türk devleti I.Kök Türk Devleti'dir. I.Kök Türk Devleti'ni Bumin Kağan Avarlara karşı isyan ederek kurmuştur.

**Cevap C**

13. Orta Asya Türk devletlerinde devletin hükümdar ailesinin ortak malı sayılması "idari" alanda daha çok sorun yaşanmasına sebep olmuştur. Zira her erkek çocuğun hükümdar olma hakkının bulunması, taht kavgalarına ve devletin yıkılış sürecine girmesine sebep olmuştur.

**Cevap D**

14. Türkler, Çinlileri askerlik alanındaki faaliyetleri ve başarıları ile etkilemiştir. Türkler askerî alanda başka toplumlara örgütlenme modeli ve kullandıkları silah ve taktiklerle örnek olmuştur. Türkler, tarımsal faaliyetlere Çinlilerden çok daha sonra başlamıştır. Yine Çinlilerde Gök tanrı inancı bulunmaz.

**Cevap B**

15. Almış Han zamanında İslamiyet'i kabul eden ilk Türk devleti "İtil Bulgarları"dır. Abbasi halifesinin İtil Bulgarlarına gönderdiği elçilik heyetinde İbni Fadlan da bulunur. İbni Fadlan, "Rihle" adlı eserinde dönem hayatı hakkında bizlere önemli bilgiler vermiştir.

**Cevap A**

1. İslamiyet öncesi Türk devletlerinin aşağıdaki genel özelliklerinden hangisi demokratik yönetimin özellikleriyle bağdaşır?

- A) Kağanın her isteğinin kurultayda kabul edilmemesi
- B) Ülkenin hanedanın ortak malı sayılması
- C) Bağımsızlığa büyük önem verilmesi
- D) İkili teşkilat sisteminin görülmesi
- E) Ahiret inancına sahip olunması

2. İslamiyet öncesi Türk tarihinde, savaştan dönen yiğitlerin ağırlandığı, yoksulların donatıldığı, dinî ve millî bakımdan önemli günlerin hep birlikte kutlandığı şölenler yapılırdı.

**Buna göre eski Türklerle ilgili;**

- I. toplumsal dayanışmaya önem verildiğine,
- II. sosyal devlet anlayışının görüldüğüne,
- III. eğlenceye önem verildiğine

**yargılarından hangilerine ulaşılabilir?**

- A) Yalnız I
- B) Yalnız III
- C) I ve II
- D) II ve III
- E) I, II ve III

3.

- I. Mimari eserler vermeleri
- II. Duvar resimleri yapmaları
- III. Şehir ve kasabalar kurmaları

**Uygurlara ait yukarıdaki özelliklerden hangileri yerleşik yaşamı benimsediklerinin kanıtı olarak gösterilebilir?**

- A) Yalnız III
- B) I ve II
- C) I ve III
- D) II ve III
- E) I, II ve III

4. Aşağıdakilerden hangisi İslamiyet öncesi Türk devletlerinde kullanılan hükümdar unvanlarından **değildir**?

- A) Han
- B) Kağan
- C) İlteber
- D) Menşur
- E) Tanhu

5.

- I. Ahiret inancı vardır.
- II. Tek tanrı anlayışı görülür.
- III. Ordu – millet anlayışının temel dayanağıdır.

**Yukarıdakilerden hangileri Gök Tanrı inancının özellikleri arasında gösterilebilir?**

- A) Yalnız I
- B) Yalnız II
- C) Yalnız III
- D) I ve II
- E) II ve III

6. Eski Türk topluluklarına ait;

- I. *Ergenekon*,
- II. *Türeyiş*,
- III. *Oğuz Kağan*

**destanlarının ait oldukları devletler sırasıyla aşağıdakilerden hangisidir?**

	I	II	III
A)	Kök Türkler	Uygurlar	Asya Hunları
B)	Asya Hunları	Kök Türkler	Kırgızlar
C)	Uygurlar	Kırgızlar	Asya Hunları
D)	Kırgızlar	Kök Türkler	Uygurlar
E)	Kök Türkler	Uygurlar	Kırgızlar

7.

- I. Veraset sisteminin uygulanması
- II. Bayındırlık faaliyetlerinin fazla gelişmemesi
- III. Ekonomilerinin daha çok hayvancılığa dayanması

**Yukarıdakilerden hangileri Orta Asya Türk toplumlarında görülen göçebe yaşamın sonuçları arasında yer almaz?**

- A) Yalnız I
- B) Yalnız III
- C) I ve II
- D) I ve III
- E) II ve III

8. Eski Türk topluluklarının siyasi yaşamları ile ilgili verilen aşağıdaki bilgilerden hangisi **yanlıştır**?

- A) Hazarlar ve Türgeşler Müslüman Araplarla mücadele etmiştir.  
 B) Malazgirt Savaşı'nda Bizans için paralı askerlik yapan Peçenek ve Uzlar Selçuklu tarafına geçmiştir.  
 C) Bütün Türkleri tek bir bayrak altında toplayan ilk devlet Kök Türklerdir.  
 D) Avrupa'da kurulan ilk Türk devleti Avrupa Hun Devleti'dir.  
 E) İstanbul'u kuşatan ilk Türk devleti Avarlardır.

9. İslamiyet öncesi Türk devletlerinde görülen görevliler ve görevleri ile ilgili aşağıdaki eşleştirmelerden hangisi **yanlıştır**?

- A) Buyruk - Bakan  
 B) Bitikçi - Katip  
 C) Aygucı - Hazine görevlisi  
 D) Tudun - Vergi memuru  
 E) Yalvaç - Elçi

10.

- I. İmga  
 II. Ağıcı  
 III. Aygucı

**Uygurlara ait yukarıdaki devlet memurlarından hangileri ekonomiyle ilgili görevleri yapmıştır?**

- A) Yalnız I                      B) Yalnız II                      C) Yalnız III  
 D) I ve II                      E) II ve III

11.

- I. Kırgızlar  
 II. Hunlar  
 III. Avarlar

**Verilen devletlerden hangileri Avrupa'ya göç edip devlet kurmuşlardır?**

- A) Yalnız I                      B) Yalnız III                      C) I ve II  
 D) II ve III                      E) I, II ve III

12. Avrupa'nın sosyo-etnik yapısının belirlenmesinde ve Avrupa tarihinin aydınlatılmasında önemli yeri olan Türk topluluğu aşağıdakilerden hangisidir?

- A) Hunlar                      B) Kök Türkler                      C) Bulgarlar  
 D) Kırgızlar                      E) Peçenekler

13.

- I. Kök Türk alfabesini kullanmaları  
 II. Türk boylarını ikinci kez bir bayrak altında toplamaları  
 III. Türk adıyla kurulan ilk devlet olmaları

**Yukarıdakilerden hangileri Kök Türklerde ulusal devlet anlayışının benimsendiğine kanıt olarak gösterilebilir?**

- A) Yalnız I                      B) Yalnız III                      C) I ve II  
 D) II ve III                      E) I, II ve III

14. Moğol devlet kademelerinde memur, kâtiplik ve yöneticilik yaparak Moğolların Türkleşmesinde etkili olan Türk topluluğu aşağıdakilerden hangisidir?

- A) Kök Türkler                      B) Uygurlar                      C) Hunlar  
 D) Akhunlar                      E) Türgişler

15. İslamiyet'ten önceki Türklerde devlet işlerinin töreye göre yapılması;

- I. hukuk üstünlüğünün benimsendiğinin,  
 II. teokratik devlet anlayışının görüldüğünün,  
 III. hukukta birlik olmadığının

**durumlarından hangilerinin göstergesidir?**

- A) Yalnız I                      B) Yalnız III                      C) I ve II  
 D) II ve III                      E) I, II ve III

16. Eski Türklerde ahiret inancının kanıtı olarak;

- I. yuğ,  
 II. mumya,  
 III. sagu

**unsurlarından hangileri gösterilebilir?**

- A) Yalnız I                      B) Yalnız II                      C) Yalnız III  
 D) I ve II                      E) I, II ve III

KPSS  
2024

GENEL YETENEK  
GENEL KÜLTÜR

EFSANE

COĞRAFYA

SORU  
BANKASI

TAMAMI  
ÇÖZÜMLÜ

MUSTAFA MERVAN DEMİR



ÖĞRETİ AKADEMİ



ÖGRETİ AKADEMİ  
Mustafa Mervan Demir

**GENEL YETENEK GENEL KÜLTÜR EFSANE COĞRAFYA  
TAMAMI ÇÖZÜMLÜ SORU BANKASI**

ISBN 978-625-6764-17-0

Kitapta yer alan bölümlerin tüm sorumluluğu yazarlarına aittir.

© Öğreti Akademi

Bu kitabın basım, yayım ve satış hakları Pegem Akademi Yay. Eğt. Dan. Hizm. Tic. AŞ'ye aittir. (Öğreti Akademi yayınları bir Pegem Akademi markasıdır.) Anılan kuruluşun izni alınmadan kitabın tümü ya da bölümleri, kapak tasarımı; mekanik, elektronik, fotokopi, manyetik kayıt ya da başka yöntemlerle çoğaltılamaz, basılamaz ve dağıtılamaz. Bu kitap, T.C. Kültür ve Turizm Bakanlığı bandrolü ile satılmaktadır. Okuyucularımızın bandrolü olmayan kitaplar hakkında yayınevimize bilgi vermesini ve bandrolsüz yayınları satın almamasını diliyoruz.

**I. Baskı, Ankara**

Yayın-Proje: Nilay Balın

Dizgi-Grafik Tasarım: Gülnur Öcalan

Kapak Tasarımı: Öğreti Akademi

**Baskı:** Vadi Grup Basım AŞ  
Saray Mah. 126 Cad. No: 20/A  
Kazan/ANKARA

Yayıncı Sertifika No: 51818

Matbaa Sertifika No: 49180

**İletişim**

Shira Ticaret Merkezi, Macun Mahallesi 204 Cad.

No: 141/33, Yenimahalle/Ankara

Yayınevi: 0312 430 67 50

Dağıtım: 0312 434 54 24

Hazırlık Kursları: 0312 419 05 60

İnternet: [ogreti.com](http://ogreti.com)

E-ileti: [ogreti@ogreti.com.tr](mailto:ogreti@ogreti.com.tr)

# Ön Söz

*Değerli Kamu Personeli Adaylarımız,*

Kitabımızın hazırlık sürecinde KPSS Genel Kültür'ün Coğrafya bölümü yıl yıl analiz edildi, gündemdeki soru kalıpları belirlendi, güncel soru teknikleri ışığında Tamamı Çözümlü Efsane Coğrafya Soru Bankası hazırlandı. Her testin sonuna ayrıntılı çözüm kısmı yerleştirildi.

KPSS'de başarılı olmak, bilgi seviyesini pratikle birleştirmekten geçiyor. Kitabımız sayesinde soru türlerine âşinâ olacak, nokta atışı çözümlerimiz ile eksikliklerinizi gidereceksiniz.

Kitabımız ile ilgili önerilerinizi, sorularınızı [ogreti@ogreti.com.tr](mailto:ogreti@ogreti.com.tr) e-posta adresine, 0538 594 92 40 ÖĞRETİ AKADEMİ WhatsApp Hattı'na gönderebilirsiniz.

Tüm okurlarımıza teşekkür eder, kitabımızın başarı yolunda sizlere mühim katkılar sunmasını dileriz.



*Değerli Okuyucularımız, kitabımızın basım tarihinden sonra gerçekleşen değişikliklere, ileriki tarihlerde ulaşabilirsiniz.*



# İÇİNDEKİLER

Ön Söz .....	iii
<b>Türkiye'nin Coğrafi Konumu</b>	
Test 1 .....	1
Test 2 .....	7
Test 3 .....	13
Test 4 .....	19
<b>Türkiye'nin Yer Şekilleri (Dağlar - Ovalar)</b>	
Test 1 .....	23
Test 2 .....	28
<b>Türkiye'nin Yer Şekilleri (Platolar - Akarsular)</b>	
Test 1 .....	33
Test 2 .....	37
<b>Türkiye'nin Yer Şekilleri (Yeraltı suları, Göller, Barajlar)</b>	
Test 1 .....	41
Test 2 .....	46
<b>Türkiye'nin Yer Şekilleri (Diğer Yer Şekilleri, Rüzgâr - Buzul - Kıyı Tipleri)</b>	
Test 1 .....	51
Test 1 .....	56
<b>Türkiye'nin Yer Şekilleri (Toprak Oluşumu - Toprak Dağılışı)</b>	
Test 1 .....	61
<b>Türkiye'nin Yer Şekilleri (Tarama Testi)</b>	
Test 1 .....	66
Test 2 .....	71
<b>Türkiye'de Doğal Afetler</b>	
Test 1 .....	76
<b>Türkiye'nin İklimi ve Bitki Örtüsü</b>	
Test 1 .....	83
Test 2 .....	88
Test 3 .....	93
Test 4 .....	98
Test 5 .....	103
Test 6 .....	108
Test 7 .....	113

## Türkiye Beşeri Coğrafyası

Test 1 .....	118
Test 2 .....	123
Test 3 .....	128
Test 4 .....	134
Test 5 .....	139

## Ekonomik Coğrafya (Tarım, Hayvancılık, Ormancılık, Balıkçılık)

Test 1 .....	144
Test 2 .....	149
Test 3 .....	154
Test 4 .....	159
Test 5 .....	164
Test 6 .....	169
Test 7 .....	174

## Türkiye'de Madenler - Enerji Kaynakları ve Sanayi

Test 1 .....	184
Test 2 .....	189
Test 3 .....	194
Test 4 .....	199
Test 5 .....	204

## Türkiye'de Ulaşım - Turizm ve Ticaret

Test 1 .....	208
Test 2 .....	213
Test 3 .....	218
Test 4 .....	223
Test 5 .....	228

## Bölgesel Kalkınma Projeleri .....

Tarama 1 .....	238
Tarama 2 .....	243
Tarama 3 .....	246

<b>Cevap Anahtarı .....</b>	<b>250</b>
-----------------------------	------------

1. Aşağıdakilerden hangisi Türkiye'nin matematik (mutlak) konumunun sonuçlarından birisi değildir?

- A) Kuzey Yarım Küre'de bulunması
- B) Çizgisel hızın kuzey kıyılarımızda daha az olması
- C) Paralel uzunluklarının Adana'dan Sinop'a doğru kısalması
- D) Samsun'da kış mevsiminin Ankara'dan ılık olması
- E) Gölge boylarının hiçbir zaman sıfır olmaması

2. Türkiye'de coğrafi koordinatları bilinen bir merkez yalnızca bu bilgisine bakılarak aşağıda verilenlerden hangisi ile ilgili bir sonuca varılamaz?

- A) Ekvator'a olan kuş uçuşu uzaklığına
- B) Ortalama yükseltisine
- C) En sıcak ay ortalamalarına
- D) En uzun gündüzü yaşayacağı tarihe
- E) Ulusal saatle arasındaki zaman farkına

3. Türkiye'de yer alan farklı merkezlerde Güneş 23 Eylül'de aynı anda doğmaktadır.

**Buna göre bu merkezlerin aşağıda verilen özelliklerden hangisinin ortak özellik olması gerekir?**

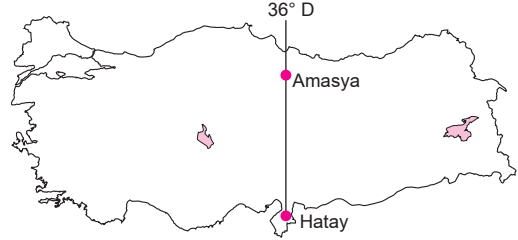
- A) Aynı enlem üzerinde yer almaları
- B) Aynı bölgede yer almaları
- C) Gündüz sürelerinin aynı olması
- D) Greenwich ile aralarındaki zaman farkının aynı olması
- E) Aynı yarım kürede yer alması

4. Türkiye'de yıl boyunca gölge boyları sıfır olmaz.

**Bu durumun temel nedeni aşağıdakilerden hangisidir?**

- A) Kuzey Yarım Küre'de bulunması
- B) 26°D - 45°D boylamları arasında olması
- C) Dağlık ve engebeli olması
- D) 2. ve 3. saat diliminde olması
- E) Dönencelerin dışında yer alması

5. Aşağıdaki Türkiye haritasında Hatay ve Amasya'nın konumları gösterilmiştir.



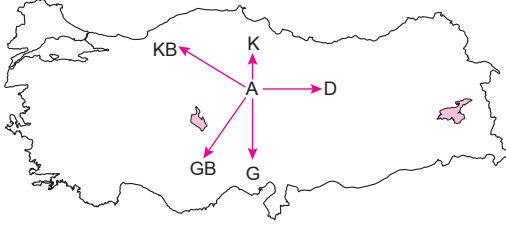
**Buna göre bu iki merkezin 23 Eylül tarihinde aşağıdaki hangi iki özelliği kesin olarak aynıdır?**

	I	II
A)	Günlük sıcaklık farkı	İklimi
B)	Bitki örtüsü	Yıllık sıcaklık farkı
C)	Yerel saatleri	Güneşin batış saati
D)	Ekvatora uzaklıkları	Kuzey Kutbuna uzaklıkları
E)	Gündüz süreleri	Gölge boyları

6. Sinop'ta yere dikilen bir metre boyundaki bir çubuğun gölge boyu, aşağıdaki tarihlerden hangisinde ögle vakti en kısa olur?

- A) 21 Mart
- B) 21 Haziran
- C) 21 Aralık
- D) 23 Eylül
- E) 3 Ocak

7.



Yukarıdaki Türkiye haritasında gösterilen "A" merkezinden 21 Haziran tarihinde hangi yöne doğru gidilirse gündüz süresi kısalar, yerel saat daha geri olur?

- A) Kuzeybatı B) Kuzey C) Güney  
D) Doğu E) Güneybatı

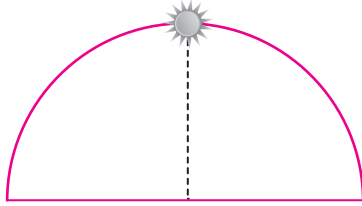
8.

- I. Yükseltinin batıdan doğuya doğru artması  
II. Gölge boyunun kuzeyde daha uzun olması  
III. Adana'da zeytin tarımı yapılması  
IV. Iğdır'da pamuk yetiştirilmesi

Yukarıdakilerden hangileri Türkiye'nin özel (göreceli) konumunun sonuçları arasında yer alır?

- A) I ve II B) I ve IV C) II ve III  
D) II ve IV E) III ve IV

9.



23 Eylül tarihinde güneş başlangıç meridyeninde yukarıdaki konumda iken Iğdır'da aşağıdaki konumlardan hangisi gibi görünür?

- A) B)   
C) D)   
E)

10. Aşağıdakilerden hangisi Türkiye'de enlemin ortaya çıkardığı bir sonuç değildir?

- A) Akdeniz'in Karadeniz'den sıcak olması  
B) Güneyden esen rüzgârların sıcaklığı artırması  
C) Sinop'ta gölge boyunun yıl boyunca en uzun olması  
D) Hatay'da güneş ışınlarının geliş açısının yıl boyunca daha büyük olması  
E) Çanakkale'de Erzurum'a göre güneşin daha geç doğması

11.

- I. Bitki örtüsünün çeşitlilik göstermesi  
II. Üç tarafının denizlerle çevrili olması  
III. Yer şekillerinin çeşitlilik göstermesi  
IV. Kuzey Yarım Küre'de yer alması

Türkiye'de göreceli (özel) konuma bağlı olarak aynı anda farklı mevsim özelliklerinin yaşanmasının temel nedeni yukarıdakilerden hangileridir?

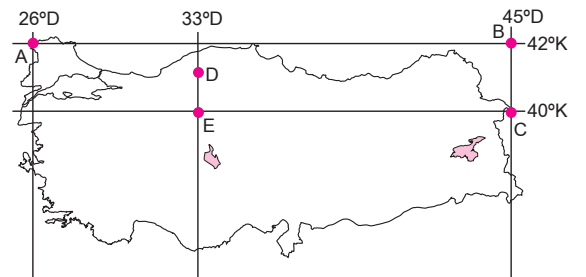
- A) Yalnız I B) Yalnız II C) Yalnız III  
D) I ve II E) III ve IV

12. Türkiye'de güneyden kuzeye doğru gidildikçe bir derece meridyen aralığının kuş uçuşu uzaklığının da kaldığı görülür.

Aşağıda verilenlerden hangisi yukarıda verilen durumla aynı gerekçeyle açıklanır?

- A) Bakı yönünün yıl boyunca güney olması  
B) Gölge boyunun sıfır olmaması  
C) Kuzey yönlü rüzgârların sıcaklığı düşürmesi  
D) En sıcak ayların temmuz, ağustos olması  
E) Dört mevsimin belirgin yaşanması

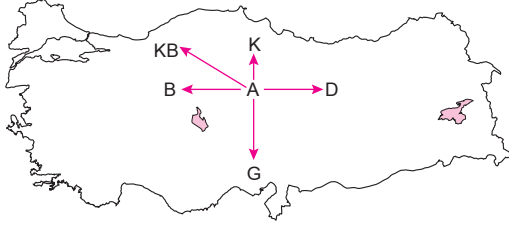
13.



Yukarıdaki Türkiye haritasında coğrafi koordinatları verilen yerlerle ilgili olarak aşağıda verilen bilgilerden hangisi yanlıştır?

- A) D ve E merkezlerinde yıl boyunca yerel saat aynıdır.  
B) A ve B merkezlerinin ekvatora kuş uçuşu uzaklıkları eşittir.  
C) 21 Mart'ta B ve C merkezlerinde güneş aynı anda doğar.  
D) 23 Eylül'de güneş en geç A merkezinde doğar.  
E) 21 Haziran'da öğle vakti güneş ışınları D ve E merkezlerine aynı açı ile gelir.

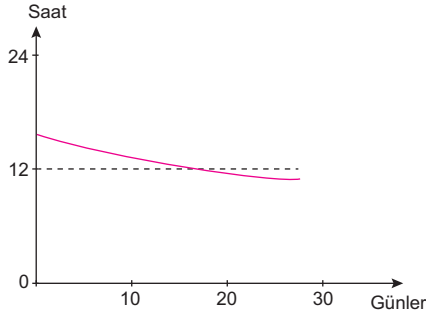
14.



Yukarıdaki A merkezinden yola çıkan beş gözlemciden hangi ikisinin gittiği yönde 21 Aralık tarihinde gece ve gündüz süresi değişmez?

	I. Gözlemci	II. Gözlemci
A)	Batı	Kuzeybatı
B)	Kuzeybatı	Doğu
C)	Kuzey	Güney
D)	Doğu	Batı
E)	Güneybatı	Kuzeydoğu

15. Aşağıdaki grafikte Türkiye'de gündüz süresinin bir aylık değişimi gösterilmiştir.



Buna göre grafiğin gösterdiği ay aşağıdakilerden hangisidir?

- A) Eylül                      B) Mart                      C) Haziran  
D) Aralık                      E) Şubat

16.

- I. Akdeniz'in Karadeniz'den tuzlu olması  
II. Rize'de turunçgil yetiştirilmesi  
III. 21 Haziran'da Kars'ta güneşin Edirne'den daha önce doğması

Yukarıdaki olayların nedenleri aşağıdaki seçeneklerden hangisinde doğru olarak verilmiştir?

	I	II	III
A)	Enlem	Yer şekilleri	Enlem
B)	Boylam	Enlem	Boylam
C)	Enlem	Yer şekilleri	Boylam
D)	Denizellik	Yükselti	Karasallık
E)	İklim	Boylam	Bakı

17. Türkiye Kuzey Yarım Küre'de Orta Kuşak'ta yer almaktadır.

Buna göre aşağıdaki bilgilerden hangisi yalnızca Orta Kuşak'ta yer almasından kaynaklanan bir durumdur?

- A) Batı rüzgârlarının etkisinde kalması  
B) 21 Haziran'da en uzun gündüzün en kuzeyde yaşanması  
C) 21 Aralık - 21 Mart arasında kış mevsiminin yaşanması  
D) Bakı etkisinin dağların güney yamaçlarında görülmesi  
E) 23 Eylül'de gündüz ve gecenin eşit olması

18.

- I. Hasat mevsiminin Ankara'da Erzurum'dan önce başlaması  
II. Genel olarak dağların güney yamaçlarında kalıcı kar başlangıç sınırının kuzey yamaçlarından daha yüksekte olması  
III. Yeraltı kaynakları çeşitliliğinin fazla olması  
IV. Dört mevsimi belirgin olarak yaşaması
- Yukarıdakilerden hangilerinin Türkiye'de yaşanması göreceli konumunun sonuçlarındandır?

- A) I ve II                      B) I ve III                      C) II ve III  
D) II ve IV                      E) III ve IV

## ÇÖZÜMLER

1. Kuzey Yarım Küre'de bulunması (A)  
Çizgisel hızın kuzey kıyılarımızda daha az olması (B)  
Paralel uzunluklarının Sinop'tan Adana'ya doğru kısalması (C)  
Gölge boylarının hiçbir zaman sıfır olmaması (E)  
Türkiye'nin mutlak konumunun sonuçlarıdır. Fakat D seçeneğinde yer alan Samsun'da kış mevsiminin Ankara'dan ılık olması göreceli konumunun sonucudur. Çünkü Samsun Ankara'dan daha kuzeyde olmasına rağmen denizellik etkisi ile daha sıcaktır. Sıcaklıklar üzerinde denizellik, karasallık, yükselti, nemlilik gibi faktörler devreye girmişse bunun adı göreceli konumdur.

**Cevap D**

2. Coğrafi koordinatlar bir bölgenin paralel ve meridyen değerlerini ifade eder. Paralel ve meridyen değerlerinden yola çıkarak o bölgenin; Ekvator'a olan kuş uçuşu uzaklığı (A) En sıcak ay ortalamaları (C) En uzun gündüzü yaşayacağı tarihi (D) Ulusal saatle ile arasındaki zaman farkı (E) Koordinat sistemi ile ulaşılacak sonuçları iken B seçeneğinde yer alan ortalama yükselti bulunamaz. Çünkü yükselti paralel veya meridyen değerlerine bağlı olarak artmaz veya azalmaz.

**Cevap B**

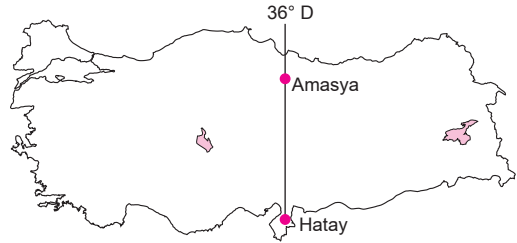
3. 23 Eylül tarihinde farklı iki merkezde Güneş'in aynı anda doğup batabilmesi için bu merkezlerin aynı boylam üzerinde yer alması gerekir. Seçenekleri değerlendirdiğimizde ise D seçeneğinde verilen Greenwich ile aralarındaki zaman farkının aynı olması bu merkezlerin aynı boylam üzerinde olduğunu gösterir. Çünkü boylamlar arasındaki zaman farkı her yerde 4 dakikadır. Greenwich ile aralarındaki zaman farkı aynı olan merkezler aynı boylamdadır. Bu merkezlerde ekinokslarda (21 Mart ve 23 Eylül'de) Güneş aynı anda doğar aynı anda batar.

**Cevap D**

4. Türkiye'de cisimlerin gölge boyunun hiçbir zaman sıfır olmaması Türkiye'nin Güneş ışınlarını hiçbir zaman 90 derecelik dik açıyla almamasından kaynaklanır. Güneş ışınları yalnızca dönenceler arasında kalan yerlere 90 derecelik açı ile gelir. Türkiye 36° ve 42° enlemlerine sahip olduğu için Türkiye'ye Güneş ışınları hiçbir zaman dik açıyla gelmez. Bu yüzden Türkiye'de gölge boyları hiçbir zaman sıfır olmaz. Gölge boylarının sıfır olmaması Türkiye'nin dönencelerin dışında yer almasından kaynaklanan bir durumdur.

**Cevap E**

- 5.



Haritada verildiği gibi Hatay ve Amasya aynı boylam üzerinde yer alırlar. Aynı boylam üzerindeki merkezlerde yıl boyunca yerel saat öğlen 12'yi yaşadıkları an güneşin en tepede olduğu an gün içinde gölge boylarının en kısa olduğu an aynıdır ve aynı boylam üzerindeki noktalarda Ekinoks tarihlerinde (21 Mart 23 Eylül'de) Güneş aynı anda doğar aynı anda batar. Bu durum yalnızca ekinokslarda gerçekleşir.

**Cevap C**

6. Türkiye 36° ve 42° enlemlerine sahip olan Kuzey Yarım Küre'de ve Yengeç Dönencesi'nin kuzeyinde yer alan bir ülkedir. Bu yüzden yıl içerisinde Güneş ışınlarını en büyük açıyla aldığı tarih 21 Haziran tarihidir. Güneş ışınlarının en büyük açı ile geldiği 21 Haziran tarihi tüm Türkiye'de yıl içerisinde gölge boylarının da en kısa olduğu tarihtir. Dolayısıyla Sinop'ta bir çubuğun gölge boyunun en kısa olacağı tarih 21 Haziran tarihidir.

**Cevap B**

KPSS  
2024

GENEL YETENEK  
GENEL KÜLTÜR

**EFSANE**

**VATANDAŞLIK**

**SORU  
BANKASI**

**TAMAMI  
ÇÖZÜMLÜ**



ÖGRETİ AKADEMİ



**GENEL YETENEK GENEL KÜLTÜR EFSANE VATANDAŞLIK  
TAMAMI ÇÖZÜMLÜ SORU BANKASI**

ISBN 978-625-6764-13-2

Kitapta yer alan bölümlerin tüm sorumluluğu yazarlarına aittir.

© Öğreti Akademi

Bu kitabın basım, yayım ve satış hakları Pegem Akademi Yay. Eğt. Dan. Hizm. Tic. AŞ'ye aittir. (Öğreti Akademi yayınları bir Pegem Akademi markasıdır.) Anılan kuruluşun izni alınmadan kitabın tümü ya da bölümleri, kapak tasarımı; mekanik, elektronik, fotokopi, manyetik kayıt ya da başka yöntemlerle çoğaltılamaz, basılamaz ve dağıtılamaz. Bu kitap, T.C. Kültür ve Turizm Bakanlığı bandrolü ile satılmaktadır. Okuyucularımızın bandrolü olmayan kitaplar hakkında yayınevimize bilgi vermesini ve bandrolsüz yayınları satın almamasını diliyoruz.

**I. Baskı, Ankara**

Yayın-Proje: Sami Terzi

Dizgi-Grafik Tasarım: Gülnur Öcalan

Kapak Tasarımı: Öğreti Akademi

**Baskı:** Koza Yayın Dağıtım AŞ  
Saray Mahallesi 205 cadde No: 4/2  
Kahramankazan/ANKARA  
Tel: (0312) 385 91 91

Yayıncı Sertifika No: 51818

Matbaa Sertifika No: 45553

**İletişim**

Shira Ticaret Merkezi, Macun Mahallesi 204 Cad.

No: 141/33, Yenimahalle/Ankara

Yayınevi: 0312 430 67 50

Dağıtım: 0312 434 54 24

Hazırlık Kursları: 0312 419 05 60

İnternet: [ogreti.com](http://ogreti.com)

E-ileti: [ogreti@ogreti.com.tr](mailto:ogreti@ogreti.com.tr)

# Ön Söz

*Değerli Kamu Personeli Adaylarımız,*

Kitabımızın hazırlık sürecinde KPSS Genel Kültür'ün Vatandaşlık bölümü yıl yıl analiz edildi, gündemdeki soru kalıpları belirlendi, güncel soru teknikleri ışığında Tamamı Çözümlü Efsane Vatandaşlık Soru Bankası hazırlandı. Her testin sonuna ayrıntılı çözüm kısmı yerleştirildi.

KPSS'de başarılı olmak, bilgi seviyesini pratikle birleştirmekten geçiyor. Kitabımız sayesinde soru türlerine âşinâ olacak, nokta atışı çözümlerimiz ile eksikliklerinizi gidereceksiniz.

Kitabımız ile ilgili önerilerinizi, sorularınızı [ogreti@ogreti.com.tr](mailto:ogreti@ogreti.com.tr) e-posta adresine, 0538 594 92 40 ÖĞRETİ AKADEMİ WhatsApp Hattı'na gönderebilirsiniz.

Tüm okurlarımıza teşekkür eder, kitabımızın başarı yolunda sizlere mühim katkılar sunmasını dileriz.

KOMİSYON



*Değerli Okuyucularımız, kitabımızın basım tarihinden sonra gerçekleşen değişikliklere, ileriki tarihlerde ulaşabilirsiniz.*



# İÇİNDEKİLER

Ön Söz ..... iii

## VATANDAŞLIK

### Hukukun Temel Kavramları

Test 1 ..... 1  
Test 2 ..... 6  
Test 3 ..... 12  
Test 4 ..... 17

### Hükümet Sistemleri ve Anayasa Türleri

Test 1 ..... 22

### Türk Anayasa Tarihi

Test 1 ..... 27

### 1982 Anayasası'nın Temel İlkeleri ve Genel Esasları

Test 1 ..... 32

### Temel Haklar ve Ödevler

Test 1 ..... 38  
Test 2 ..... 43

### Yasama

Test 1 ..... 49  
Test 2 ..... 54  
Test 3 ..... 60

### Yürütme

Test 1 ..... 65  
Test 2 ..... 70  
Test 3 ..... 76

### Yargı

Test 1 ..... 81  
Test 2 ..... 86  
Test 3 ..... 91

### İdare Hukuku

Test 1 ..... 96  
Test 2 ..... 102  
Test 3 ..... 107

### İnsan Hakları

Test 1 ..... 112

### Uluslararası Kuruluşlar

Test 1 ..... 114  
Test 2 ..... 118

### Genel, Kültürel ve Güncel Olaylar

Test 1 ..... 122

### Karma Testler

Test 1 ..... 126  
Test 2 ..... 130  
Test 3 ..... 135

### Cevap Anahtarı

..... 139

1.

- I. Ahlak kuralları
- II. Nezaket kuralları
- III. Din kuralları
- IV. Hukuk kuralları

**Yukarıdaki toplumsal düzen kurallarından hangilerinin müeyyidesi devlet eliyle uygulanmaz?**

- A) Yalnız IV
- B) I ve II
- C) II ve III
- D) I, II ve III
- E) II, III ve IV

2.

**Evlenme sırasında eşlerden birinin sürekli bir sebeple ayırt etme gücünden yoksun bulunması hâlinde aşağıdaki yaptırımlardan hangisi söz konusu olur?**

- A) Mutlak Butlan
- B) Askıda hükümsüzlük
- C) Tazminat
- D) İptal
- E) Cebrî icra

3.

**Mevzu hukukun tanımı aşağıdakilerden hangisinde doğru ifade edilmiştir?**

- A) Yetkili makamların geçmişte yaptığı ve artık kullanılmayan yazılı kurallardır.
- B) Yalnızca yazılı olmayan kurallardır.
- C) Kişinin yalnızca kendisine karşı olan sorumluluklarının yetkili makamlarca düzenlendiği hukuk kurallardır.
- D) Yetkili makamlar tarafından yapılan ve yürürlükte olan yazılı kuralların tamamıdır.
- E) Olan değil olması gereken hukuk kurallardır.

4.

**Normlar hiyerarşisinde aşağıdakilerden hangisi diğerlerine göre en üstte yer alır?**

- A) Genelge
- B) Cumhurbaşkanlığı kararnamesi
- C) Anayasa
- D) Yönetmelik
- E) Uluslararası antlaşma

5.

**Hâkimin takdir yetkisiyle doldurulan boşluk türü aşağıdakilerden hangisidir?**

- A) Kural içi boşluk
- B) Kural dışı boşluk
- C) Gerçek hukuk boşluğu
- D) Gerçek olmayan kanun boşluğu
- E) Gerçek olmayan hukuk boşluğu

6.

**Aşağıdakilerden hangisi karma hukuk dalları arasında yer almaz?**

- A) Bankacılık hukuku
- B) Sosyal güvenlik hukuku
- C) Fikir ve sanat eserleri hukuku
- D) Hava hukuku
- E) Yargılama hukuku

7.

- I. Eşya hukuku
- II. Borçlar hukuku
- III. Kıymetli evrak hukuku

**Yukarıdakilerden hangileri ticaret hukukunun bölümlerindedir?**

- A) Yalnız I
- B) Yalnız III
- C) I ve II
- D) II ve III
- E) I, II ve III

8. Kişiyeye tanıyan ve devlet tarafından korunan menfaatler bütününe ne ad verilir?

- A) İfa
- B) Ödev
- C) Hak
- D) Hürriyet
- E) İmtiyaz

9. Suçun ispatı için kullanılan unsurlara verilen ad aşağıdakilerden hangisidir?

- A) Emsal
- B) Delil
- C) Tehdit
- D) Suçun konusu
- E) İliyet

10. Suçu oluşturan hareket ile netice arasındaki sebep sonuç ilişkisi aşağıdakilerden hangisidir?

- A) Kast
- B) İliyet bağı
- C) Taksir
- D) Fail
- E) Mağdur

11. Aşağıdakilerden hangisi Türk ceza hukukunda uygulanan cezalardan değildir?

- A) Adli para cezası
- B) Süreli hapis
- C) Kıyas
- D) Müebbet hapis
- E) Ağırlaştırılmış müebbet hapis

12. Bir borç ilişkisinde borcun ifasıyla yükümlü olan kişiye ne ad verilir?

- A) Tacir
- B) Alacaklı
- C) Zanlı
- D) Borçlu
- E) Alıcı

13. Aşağıdakilerden hangisi borcu sona erdiren hâllerden değildir?

- A) Takas
- B) Birleşme
- C) İfa
- D) İbra
- E) Borçlunun ölümü

14. Bir kimse hakkında gaiplik kararı istemi aşağıdaki mahkemelerden hangisine yapılır?

- A) Bölge idare mahkemesi
- B) Ticaret mahkemesi
- C) Sulh hukuk mahkemesi
- D) Ağır ceza mahkemesi
- E) Aile mahkemesi

15. Türk hukukunda kadın ve erkeklerde olağanüstü evlenme yaşı aşağıdakilerden hangisidir?

- A) 12 yaşın doldurulması
- B) 15 yaşın doldurulması
- C) 16 yaşın doldurulması
- D) 17 yaşın doldurulması
- E) 18 yaşın doldurulması

16. Umay ile amcası Enbiya arasındaki hısımlık aşağıdakilerden hangisinde doğru ifade edilmiştir?

- A) İkinci dereceden yan soy kan hısımlığı
- B) İkinci dereceden yan soy kayın hısımlığı
- C) Üçüncü dereceden yan soy kan hısımlığı
- D) Üçüncü dereceden yan soy kayın hısımlığı
- E) Dördüncü dereceden yarım kan yan soy hısımlığı

## ÇÖZÜMLER

1. Toplum hâlinde yaşayan insanların yerine getirmek zorunda oldukları ödevleri ve kullanacakları yetkileri gösteren kurallara "sosyal düzen kuralları" denilmektedir. Toplum hayatını düzenleyen çok çeşitli sosyal düzen kuralları bulunmaktadır. Bunlar; "din kuralları", "ahlak kuralları", "gör-gü kuralları" "örf ve adet kuralları" ve "hukuk kuralları"dır. Bu kurallar birbirine benzer özellikler taşımasına ve her biri toplum hayatını doğrudan ya da dolaylı düzenlemeye yönelik olsa da aralarında önemli farklılıklar bulunmaktadır. Kuşkusuz tüm kurallar içinde hukukun özel bir yeri ve önemi vardır. **Diğer kurallardan hukuku farklı kılan pek çok nitelik olsa da en farklı kılan nitelik, hukuktaki yaptırım ögesidir.** Hukuk kuralları, Devlet gücü ile desteklenmektedir ve yaptırımı maddidir.

**Cevap D**

2. **Mutlak Butlan (Kesin Hükümsüzlük):** Bir hukuki işlemin baştan itibaren geçersiz olması ve sonradan da geçerli hâle gelmemesidir. Sözleşmenin konusunun hukuka ve ahlaka aykırı olması, sözleşmenin konusunun imkânsız olması, bir hukuki işlemin geçerlilik şartı olan şekle aykırı olarak yapılmış olması gibi. Örneğin; evlilik sırasında eşlerden birinin evli olması veya akıl hastası olması durumunda bu evlilik mutlak butlanla batıldır.

**Cevap A**

3. Bir ülkede yürürlükte olan yazılı ve yazısız hukuk kurallarının tümüne yani yürürlükteki hukuka **pozitif hukuk** denir. Bir ülkede yürürlükte olan yetkili makamlarca konulmuş bütün hukuk kurallarına ise **mevzu hukuk ya da mevzuat** adı verilir. Pozitif hukuktan farkı sadece yürürlükteki yazılı hukuk kurallarından ibaret olmasıdır. Olan değil olması gereken hukuk kurallarına ise **doğal veya ideal hukuk** adı verilir. Yürürlükten kaldırılmış hukuk kurallarına ise tarihi hukuk adı verilir.

**Cevap D**

4. Normlar hiyerarşisi, hukuk normlarının derece ve kuvvetini belirlemekte ve bir hukuk düzeninde var olan normların çokluğu anlamına gelmektedir. Hukuk düzeni bir piramide benzetilecek olursa bu piramit **anayasa, kanun – olağanüstü hâl Cumhurbaşkanlığı kararnamesi – uluslararası antlaşmalar, olağan dönem Cumhurbaşkanlığı kararnamesi, yönetmelik ve adsız düzenleyici işlemlerden** oluşan birden çok normun varlığını ifade etmektedir. Bu normlar farklı kademelerde yer almakta, normlar arasında altlık ve üstlük ilişkisi söz konusu olmakta ve her norm geçerliliğini bir üst hukuk normundan almaktadır.

**Cevap C**

5. **Hâkimin Takdir Yetkisi:** Kanun koyucunun bilerek ve isteyerek bıraktığı **kural içi boşlukların**, hukuk kurallarını uygulamakla yükümlü olanlarca olaydaki özellikler, toplumdaki ahlaki düşünceler, hukuk birliği, kuralın amacı, sosyal adalet gibi hususlar göz önünde tutularak bireyselleştirip doldurulmasına takdir yetkisi denilir. Kanun koyucunun, bir kuralın uygulanmasına ilişkin şartları (olayları) ya da bazı şartların varlığı hâlinde verilmesi gereken hükümün neden ibaret olacağını tam olarak göstermeyip bu türlü noksanlıkların tamamlanmasını hâkime bırakması durumunda, hâkim takdir yetkisini kullanacaktır. Kural içi boşluklarda kanun koyucu bir kural öngörmüş, ancak bile-rek kuralı tamamlamamıştır. Kuralı tamamlamayı hâkime bırakmıştır.

**Cevap A**

6. Bazı hukuk dalları hem özel hukukun hem de kamu hukukunun özelliklerini taşımaktadır.

**Karma hukuk dalları:**

- İş hukuku
- Sosyal güvenlik hukuku
- Fikir ve sanat eserleri hukuku
- Hava hukuku
- Toprak hukuku
- Bankacılık hukukudur.

\*\*\*\* Yargılama hukuku, kamu hukuku dalları arasında yer alır.

**Cevap E**

7. Ticaret hukuku, kişilerin ticari nitelikteki ilişkilerini düzenleyen hukuk kurallarının bütünüdür. Ticaret hukuku, borçlar hukuku ile çok yakından ilişkilidir. Borçlar hukuku kişilerin ticari nitelikte olmayan borç ilişkilerini düzenlerken, ticaret hukuku aynı ilişkilerin ticari nitelikte olanlarını düzenler. Ticaret hukuku oldukça hacimli bir hukuk dalıdır. Ticaret hukuku; kendi içinde, **ticari işletme hukuku, şirketler hukuku, kıymetli evrak hukuku, deniz ticareti hukuku ve sigorta hukuku** bölümlerine ayrılmaktadır. \*\*\*\*\*Eşya hukuku, medeni hukukun bölümlerinden biridir. Borçlar hukuku ise bağımsız bir hukuk dalıdır.

**Cevap B**

8. **Hak kavramı**, hukuk düzeninin kişilere tanıdığı yetkilere ve kişilerin hukuk düzeni tarafından korunan menfaatlerine denir. Hukuk kelimesi de hak kelimesinden türetilmiştir.

**Cevap C**

9. Ceza muhakemesi hukuku, hukuk sistemimizde suç olarak tanımlanmış ve karşılığında da bir cezanın belirlendiği fiillerin işlenmesi durumunda, soruşturmanın ve yargılamanın nasıl gerçekleştirileceğini düzenleyen hukuk dalıdır. Ceza muhakemesinde amaç; meydana gelen somut olayla ilgili maddi gerçeğe ulaşmak ve hiçbir kuşkuyla yer bırakmayacak şekilde olayın delillerle ispat edilmesini sağlamaktır. Kovuşturma evresinde delil, meydana gelen somut olayın ispatlanması ve hâkimin kanaati için gerekli olan ispat vasıtasıdır.

**Cevap B**

10. **İllyet bağı ya da nedensellik bağı**, hukuki sonuç ile sonucu ortaya çıkaran olguların arasındaki bağı belirten bir hukuk terimidir. Ortaya çıkan zarar ile failin davranışı arasındaki bağlantı olarak tanımlanabilir. Maddi hukukta da ceza hukukunda da sorumlu tutulabilmek için uygun illiyet bağının varlığı aranır.

**Kast**, ceza hukukunda failin gerçekleştirdiği hareketi ve bunun sonuçlarını bilmesi ve istemesidir.

**Taksir**, ceza hukuku anlamında "dikkat ve özen yükümlülüğüne aykırılık dolayısıyla bir davranışın suçun kanunî tanımında belirtilen neticesi öngörülmemeyerek gerçekleştirilmesidir".

Ceza hukukunda **fail**, suçun kanuni tanımındaki fiili gerçekleştiren, bu fiil üzerinde hâkimiyet kuran, kanuni tanıma uygun haksızlığı gerçekleştiren kişidir. Her suçun mutlaka bir faili vardır.

**Cevap B**

11. Türk Ceza Kanununda öngörülen cezalar iki türdür:

- Hapis Cezası.
- Adli Para Cezası.

Bir suçun karşılığı olarak sadece hapis cezası öngörülebilir, hapis cezası ile birlikte adli para cezası öngörülebileceği gibi sadece adli para cezası da tek başına öngörülebilir.

**Hapis Cezaları:** Türk Ceza Kanunu'nda hapis cezaları: Ağırlaştırılmış müebbet hapis cezası, müebbet hapis cezası ve süreli hapis cezası olarak hükme bağlanmıştır.

- Ağırlaştırılmış Müebbet Hapis: Sık güvenlik tedbirleri ile ömür boyu çektirilen cezadır.
- Müebbet Hapis: Ömür boyu infaz edilen hapis cezasıdır.
- Süreli Hapis Cezası: 1 Aydan 20 Yıla kadar olan hapis cezasıdır.
- Kısa Süreli Hapis Cezası ise süreli hapis cezasının bir türüdür ve 1 yıl veya daha az süreli hapis cezasına kısa süreli hapis cezası adı verilir.

Türk ceza hukukunda kısas şeklinde bir cezaya yer verilmemiştir.

**Cevap C**

12. Her borç ilişkisinde üç unsur vardır:

- **Borçlu**, alacaklı ile aralarındaki bir borç ilişkisi dolayısıyla bir edimi yerine getirmekle yükümlü olan taraftır.
- **Alacaklı**, borç ilişkisine konu olan edimin yerine getirilmesini isteme hakkına sahip olan taraftır. Bu edimin yerine getirilmesini isteme hâli, borçlunun edimi kendiliğinden yerine getirmemesi hâlinde ortaya çıkar ve alacaklının talep hakkı olarak tanımlanır. Alacaklı bu talebinin yerine getirilmemesi durumunda yasal yollara başvurarak borçlunun edimi yerine getirmesini sağlayabilir. Buna dava hakkı denilmektedir.
- **Edim**, borçlunun bir şey vermek, bir şey yapmak ya da bir şey yapmamak şeklindeki yükümlülüğüdür.

**Cevap D**

13. Borcu Sona Erdiren Hâller

- **İfa**: Borçlunun borcunu yerine getirmesidir.
- **Kusursuz ifa imkansızlığı**: Borcun ifa durumu kusursuz olarak imkansızlık nedeniyle sona ermesidir.
- **İbra**: Borçlunun ve alacaklının rızası ile borcun yerine getirilmesinden kurtarmaktır.
- **Yenileme**: Mevcut borcu karşılıklı anlaşarak sona erdirip yeni bir borç yaratma, yenileme olarak adlandırılır.
- **Birleşme**: Alacaklı ve borçlu sıfatlarının aynı kişide birleşmesi sonucu borç sona erer.
- **Takas**: İki kişi, karşılıklı olarak bir miktar para ve özdeş diğer edimleri birbirine borçlu oldukları takdirde, her iki borç muaccel ise her biri alacağını borcuyla takas edebilir.

Ölüm, borcu sona erdiren bir durum değildir.

**Cevap E**

14. Ölüm borcu sona erdiren bir yol değildir. Gaiplik kararı görevli mahkeme Sulh Hukuk Mahkemesi'dir. Gaiplik kararında yetkili mahkeme ise kişinin son yerleşim yeri mahkemesidir. Gaiplik kararı verilecek kişinin Türkiye'de herhangi bir yerleşim yeri yok ise nüfusa kayıtlı olduğu yer mahkemesi yetkilidir. Kişinin Türkiye'de böyle bir kaydı olmadığı durumda anne yahut babasının kayıtlı bulunduğu yer mahkemesi gaiplik kararı vermeye yetkilidir.

**Cevap C**

15. Türk Medeni Kanunu'nun ("TMK") 142. maddesinde ise evlilik şu şekilde açıklanmıştır: "Evlendirme memuru, evleneceklerden her birine birbiriyle evlenmek isteyip istemediklerini sorar. Evlenme, tarafların olumlu sözlü cevaplarını verdikleri anda oluşur. Memur, evlenmenin tarafların karşılıklı rızası ile kanuna uygun olarak yapılmış olduğunu açıklar." Evlenme için kanunun belirlediği yaşa "evlenme erginliği" denir. Buna aynı zamanda "olağan evlenme yaşı" da denir. TMK'nın 124. maddesinde evlilik yaşı düzenlenmiştir. "A. Ehliyetin koşulları I. Yaş Madde 124- Erkek veya kadın on yedi yaşını doldurmadıkça evlenemez. Ancak, hâkim olağanüstü durumlarda ve pek önemli bir sebeple on altı yaşını doldurmuş olan erkek veya kadının evlenmesine izin verebilir. Olanak bulundukça karardan önce ana ve baba veya vasi dinlenir. Olağanüstü evlenme durumunda izin verilen kişi evlenmek için ergin sayılmamakta ancak olağanüstü durum olduğu için izin verilmektedir. Burada kimle evlenilmesine izin veriliyorsa kişi onunla evlenmelidir. İzin alınan kişinin dışında başka bir kimseyle evlenmek istenirse bu izin geçerli sayılmaz. Kanun maddesine göre evlenmedeki en alt yaş sınırimız on altı yaşını doldurmaktır. Bunun altındaki yaş gruplarında olan kişilerin hiçbir sebeple evlenmesi hukuken mümkün değildir.

**Cevap C**

16. **Kan Hısımlığı**: Birbirinden veya ortak soydan gelenler arasındaki hısımlıktır. **Doğal hısımlık** veya **soy hısımlığı** olarak da adlandırılır. Kan hısımlığı

- Biri diğerinden gelen kişiler arasında **üst soy (usul)-alt soy (füruu)** hısımlığı (**Düz çizgi hısımlığı**); Kişinin kendisinden geldiği kişiler yani kişinin olmasına kaynaklık edenler üstsoy(usul), kişinin kendisinden olanlar altsoy (füruu) adını alır. Baba, dede, nine üst soy, çocuk, torun alt soya örnektir.
- Biri diğerinden gelmeyip de, ortak bir kökten gelen kişiler arasında **yansoy hısımlığı (civar hısımlığı)** vardır. Birbirinden değil, ortak bir soydan gelen kişilerin hısımlığına "civar hısımlığı" denir. Kardeşler arasındaki hısımlık veya amca, hâla, dayı ve teyze ile yeğen arasındaki hısımlık gibi.
- MK.m.17/1'e göre hısımlığın derecesi, "Hısımları birbirine bağlayan doğum sayısı ile belli olur". Pratik bir anlatımla, iki kişi arasındaki hısımlık derecesi, aradaki çizgi sayısı ile belli olur.
- Birinci Derece: Çocuklar, Anne, Baba
- İkinci Derece: Dede, Nine, Torun, Kardeş
- Üçüncü Derece: Yeğen, Amca, Dayı, Hâla, Teyze
- Dördüncü Derece: Kuzenler

**Cevap C**



1. Hukuka aykırı olarak yapılan idari işlemlere uygulanacak yaptırım aşağıdakilerden hangisidir?

- A) Ceza
- B) İptal
- C) Cebri icra
- D) Tazminat
- E) Hükümsüzlük

2.

- I. Görgü kuralları
- II. Hukuk kuralları
- III. Ahlak kuralları

Yukarıdaki sosyal düzen kurallarından hangilerinin yaptırımı devlet eliyle uygulanır?

- A) Yalnız I
- B) Yalnız II
- C) I ve II
- D) II ve III
- E) I, II ve III

3. Aşağıdaki tüzel kişilerden hangisi kişi toplulukları arasında yer almaz?

- A) Şirket
- B) Devlet
- C) Vakıf
- D) Belediye
- E) Köy

4. Sağır ve dilsizler kaç yaşını doldurmakla tam ceza ehliyetine sahip olurlar?

- A) 15
- B) 18
- C) 21
- D) 23
- E) 24

5. Ayırt etme gücüne sahip, ergin ancak kısıtlı kişiler fiil ehliyeti bakımından aşağıdakilerden hangisi kapsamında değerlendirilir?

- A) Tam ehliyetliler
- B) Tam ehliyetsizler
- C) Sınırlı ehliyetliler
- D) Sınırlı ehliyetsizler
- E) Sınırsız ehliyetliler

6. Aşağıdakilerden hangisi kısıtlılık nedenlerinden değildir?

- A) Yaş küçüklüğü
- B) Yaşlılık
- C) Sakatlık
- D) Kötü yaşam tarzı
- E) Savurganlık

7. Bir hakkın kazanılmasına veya bir hukukî sonucun doğmasına engel olan durumları bilmemeye ne ad verilir?

- A) Hakların korunması
- B) Mutlak hak
- C) Hakların kazanılması
- D) İyiniyet
- E) Dürüstlük ilkesi

8. Kişi iradesi ile gerçekleşme dahi hukukun sonuç bağladığı olaylar aşağıdakilerden hangisiyle ifade edilir?

- A) Hukuki olay
- B) Hukuki fiil
- C) Hukuki işlem
- D) Haksız fiil
- E) İyiniyet

9. Bir kimsenin hukuka aykırı eylemleriyle bir başkasının mal varlığı ya da kişilik haklarına verdiği zararı gidermesi aşağıdakilerden hangisiyle ifade edilir?

- A) Cebri icra
- B) Geçersizlik
- C) İptal
- D) Butlan
- E) Tazminat

10. Aşağıdakilerden hangisi özel hukuk dallarından değildir?

- A) Ticaret hukuku
- B) Borçlar hukuku
- C) Medeni yargılama hukuku
- D) Devletler özel hukuku
- E) Aile hukuku

11. Aşağıdakilerden hangisi kişiliğin dışı karşı korunmasında açılacak davalardan değildir?

- A) Alacak davası
- B) Saldırıya son verme davası
- C) Önleme davası
- D) Tespit Davası
- E) Maddi tazminat

12. Sosyal hayatı düzenleyen kurallara ilişkin aşağıdaki ifadelerden hangisi yanlıştır?

- A) Sosyal hayatı düzenleyen kurallar din, ahlak, görgü, örf ve adet kuralları ile hukuk kurallarıdır.
- B) Sosyal hayatı düzenleyen kuralların ortak özelliği, hepsinin yaptırımının olmasıdır.
- C) Hukuk kurallarının yaptırımı maddi; diğer sosyal düzen kurallarının yaptırımı manevidir.
- D) Hukuk kuralları, din kurallarından beslenir.
- E) İyilik ve kötülük hakkında oluşan değer yargılarına göre gösterilmesi gereken davranışlar, ahlak kurallarıdır.

13. Sosyal düzen kurallarına uymamanın sonucu olarak karşılaşılan tepkiye verilen ad aşağıdakilerden hangisidir?

- A) Edim
- B) Kısas
- C) Kısıtlılık
- D) İfa
- E) Müeyyide

14. Aşağıdakilerden hangisi hukuk kurallarının özelliklerinden değildir?

- A) Değiştirilemez olması
- B) Sürekli olması
- C) Genel olması
- D) Kişilik dışı olması
- E) Kamu gücüyle desteklenmesi

15. Aşağıdakilerden hangisi hukuk kurallarının yaptırımlarından değildir?

- A) Hapis cezası
- B) Cebrî icra
- C) Tazminat
- D) Genel müsadere
- E) Hükümsüzlük

16. Aşağıdakilerden hangisi hükümsüzlüğün türlerinden değildir?

- A) İptal
- B) Yokluk
- C) Mutlak Butlan
- D) Nispi Butlan
- E) Tek Taraflı Bağlamazlık

17. Aşağıdakilerden hangisi bir geleneğin örf ve adet hukuku kuralı olabilmesi için bulunması gereken unsurlardır?

- A) Maddi unsur- millîlik unsuru–vicdani unsur
- B) Hukuki unsur - manevi unsur -uygulanabilirlik unsur
- C) Maddi unsur - manevi unsur - hukuki unsur
- D) Maddi unsur - manevi unsur -toplumsal kabul unsur
- E) Hukuki unsur –tipiklik unsuru- yerellik unsuru

18. Kanunun suç saydığı fiillere karşı öngörülen yaptırım türü aşağıdakilerden hangisidir?

- A) Cebrî icra
- B) İptal
- C) Hükümsüzlük
- D) Ceza
- E) Tazminat

19. Hukukun yaptırımlarına ilişkin aşağıdaki ifadelerden hangisi yanlıştır?

- A) Bir kimsenin, başka birinin zararının doğumuna sebebiyet vermesi hâlinde bu zararı ödemesini sağlayan yaptırım türü, tazminattır.
- B) İdari işlemlerin hukuka aykırı yapılması durumunda karşılaşılabilecekleri yaptırım, iptaldir.
- C) Geçici irade sakatlık hâllerinin yaptırımı mutlak butlandır.
- D) Tam ehliyetsizlerin yaptıkları hukuki işlemlerin sonucu, geçersizliktir.
- E) Bir hukuki işlemin kurucu unsurunun bulunmamasının yaptırımı, yokluktur.