

KPSS
2024

GENEL YETENEK
GENEL KÜLTÜR

COĞRAFYA

TAMAMI ÇÖZÜMLÜ
ÇIKMIŞ
SORULAR



ÖĞRETİ AKADEMİ

Komisyon

GYGK COĞRAFYA TAMAMI ÇÖZÜMLÜ ÇIKMIŞ SORULAR

ISBN 978-625-6764-55-2

Kitapta yer alan bölümlerin tüm sorumluluğu yazarlarına aittir.

Bu kitabın basım, yayım ve satış hakları Pegem Akademi Yay. Eğt. Dan. Hizm. Tic. AŞ'ye aittir. (Öğreti Akademi yayınları bir Pegem Akademi markasıdır.) Anılan kuruluşun izni alınmadan kitabın tümü ya da bölümleri, kapak tasarımı; mekanik, elektronik, fotokopi, manyetik kayıt ya da başka yöntemlerle çoğaltılamaz, basılamaz ve dağıtılamaz. Bu kitap, T.C. Kültür ve Turizm Bakanlığı bandrolü ile satılmaktadır. Okuyucularımızın bandrolü olmayan kitaplar hakkında yayınevimize bilgi vermesini ve bandrolsüz yayınları satın almamasını diliyoruz.

1. Baskı: 2023, Ankara

Yayın-Proje: Şewal Aksoy
Dizgi-Grafik Tasarım: Gülnur Öcalan
Kapak Tasarımı: Öğreti Akademi

Baskı: Vadi Grup Basım AŞ
Saray Mah. 126 Cad. No: 20/A
Kazan/ANKARA
Tel: (0312) 802 00 53-54

Yayıncı Sertifika No: 51818
Matbaa Sertifika No: 49180

İletişim

Shira Ticaret Merkezi, Macun Mahallesi 204 Cad.
No: 141/33, Yenimahalle/Ankara
Yayınevi: 0312 430 67 50
Dağıtım: 0312 434 54 24
Hazırlık Kursları: 0312 419 05 60
İnternet: www.ogreti.com
E-ileti: ogreti@ogreti.com.tr
WhatsApp Hattı: 0538 594 92 40

Değerli KPSS Adayları,

KPSS'ye hazırlanan adaylarımız KPSS'de çıkan soruları incelemek, çözmek ve kendini geliştirmek, eksiklerini fark edip tamamlamak amacıyla çalışmalarına dâhil etmektedir. Lisans mezunu adayların bu yönde yaptıkları çalışmaların başarı oranları üzerindeki olumlu etkisi göz ardı edilemeyeceğinden kitabımızda 2014-2023 yılları arasında yapılan KPSS Genel Kültür Coğrafya alanında yöneltilen tüm sorulara yer verilmiştir.

Lisans mezunu adayların geleceğe umutla bakabilmelerine, eğitimini aldıkları alanda kendilerini gerçekleştirmelerine ve karşılığın çıkan engelleri aşmalarına yardımcı olması amacıyla hazırlanan KPSS Tamamı Çözümlü Genel Yetenek-Genel Kültür Coğrafya Çıkış Sorular kitabı ile sizlere faydalı olacağımızı umuyor ve hepinize başarılar diliyoruz.

Öğreti Akademi Yayıncılık

İÇİNDEKİLER

2014 GYGK Coğrafya Çıkırmıř Sorular	1
2015 GYGK Coğrafya Çıkırmıř Sorular	9
2016 GYGK Coğrafya Çıkırmıř Sorular	17
2017 GYGK Coğrafya Çıkırmıř Sorular	25
2018 GYGK Coğrafya Çıkırmıř Sorular	32
2019 GYGK Coğrafya Çıkırmıř Sorular	39
2020 GYGK Coğrafya Çıkırmıř Sorular	47
2021 GYGK Coğrafya Çıkırmıř Sorular	54
2022 GYGK Coğrafya Çıkırmıř Sorular	61
2023 GYGK Coğrafya Çıkırmıř Sorular	68
Cevap Anahtarı	76

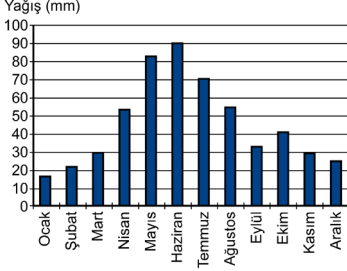
1. Türkiye’de,
- dört mevsim belirgin olarak yaşanır,
 - Akdeniz iklimi etkilidir,
 - cephesel yağışlar görülür,
 - Batı rüzgârları etkilidir.
- Bu özelliklerin ortaya çıkmasında aşağıdakilerden hangisinin etkisi daha fazladır?**
- A) Kuzey yarım kürede yer almasının
 B) Orta kuşakta yer almasının
 C) Üç tarafının denizlerle çevrili olmasının
 D) Yüzey şekillerinin çok çeşitli olmasının
 E) 26° - 45° doğu meridyenleri arasında bulunmasının

2. Ege Bölgesi, genellikle horst ve graben sistemlerini meydana getiren tektonik hareketlerle şekillenmiştir.
- Buna göre, aşağıdakilerden hangisi bu şekillenmenin bir sonucu değildir?**
- A) Akarsuların doğu-batı yönünde akması
 B) Kıyı ile iç kesimler arasındaki ulaşımın zor olması
 C) Kıyıların çok fazla girintili-çukuntılı olması
 D) Kıyılarda çok sayıda doğal liman bulunması
 E) Denizel hava kütlelerinin iç kısımlara kolay erişebilmesi

3. Türkiye genel hatlarıyla yüksek, dağlık ve engebeli bir arazi yapısına sahiptir.
- Bu durumun ortaya çıkmasında aşağıdakilerden hangisi daha az etkili olmuştur?**
- A) Alp orojenez kuşağında bulunması
 B) Epirojenez ile yükselmesi
 C) Akarsu aşındırmasının fazla olması
 D) Aktif fayların bulunması
 E) Farklı kayaç türlerinin bulunması

4. Heyelanlar, Karadeniz Bölgesi’nin önemli doğal afetlerindendir.
- Aşağıdakilerden hangisi heyelanların bu bölgede sık görülmesinin nedenlerinden biri değildir?**
- A) Yıllık yağış miktarının fazla olması
 B) Akarsu rejimlerinin farklılık göstermesi
 C) Tabaka eğimlerinin fazla olması
 D) Doğal ve beşerî nedenlerle yamaç dengesinin bozulması
 E) Killi kayaçların fazla olması

5. Türkiye'deki bir meteoroloji istasyonundan alınan yağış rejim grafiği aşağıda verilmiştir.



Buna göre, bu grafik hangi yağış rejim tipine aittir?

- A) Akdeniz yağış rejimi
B) Karadeniz yağış rejimi
C) İç Anadolu yarı karasal yağış rejimi
D) Doğu Anadolu karasal yağış rejimi
E) Akdeniz-Karadeniz geçiş yağış rejimi

6. Doğu Anadolu Bölgesi'nin kuzeydoğusunda, uzun boylu çayır örtüsü altında koyu renkli ve organik madde bakımından zengin topraklar gelişmiştir.

Buna göre, özellikleri verilen toprak tipi aşağıdakilerden hangisidir?

- A) Soloncağ
B) Çernozyem
C) Podsol
D) Terra-Rossa
E) Vertisol

7. Türkiye'nin jeomorfolojik özellikleri dikkate alındığında aşağıdakilerden hangisi söylenemez?

- A) Erzurum-Kars-Ardahan Platosu'nun oluşumunda akıcı lavların yayılması etkilidir.
B) Taşeli Platosu'nda karstlaşma etkili-dir.
C) Üçüncü Zaman'da geniş alan kaplayan göller zamanla karlaşmıştır.
D) Ege Bölgesi'ndeki doğu-batı uzantılı ovalar birer grabendir.
E) Türkiye'deki volkanik dağlar üzerinde buzullar bulunmamaktadır.

8. Üniversitede arkadaş olan dört öğrenci, yaşadıkları kentler ve bu kentlerin ekonomik faaliyetleri hakkında aşağıdaki bilgileri vermişlerdir.

Ayşen: Yaşadığım kent Türkiye'nin en büyük maden kömürü havzasında yer alır.

Şahin: Akdeniz Bölgesi'nde bir kentte yaşıyorum. Kentteki en önemli sanayi kolu demir-çelik sektörüdür.

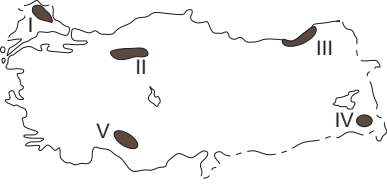
Ayhan: Benim yaşadığım kent kıyıda ve burada ham petrolü işleyen bir rafineri bulunmaktadır.

Burak: Yaşadığım kentte Türkiye'nin en küçük petrol rafinerisi bulunmaktadır. Rafineride işlenen petrol yöreden elde edilmektedir.

Buna göre, aşağıdakilerden hangisi bu öğrencilerin yaşadıkları kentlerden biri değildir?

- A) Zonguldak
B) İskenderun
C) Aliağa
D) Batman
E) E) Kırıkkale

9. Türkiye’de dağlık ve engebeli alanlar genellikle seyrek nüfusludur.



Yukarıdaki haritada numaralandırılan alanlardan hangisi bu yargıya uyummaktadır?

- A) I B) II C) III D) IV E) V

10. Türkiye’de iç göçlerin yönüne bakıldığında genel olarak aşağıdakilerden hangisi söylenemez?

- A) Türkiye’nin doğusundan batısına doğrudur.
 B) İç bölgelerden kıyılara doğrudur.
 C) Yüksek alanlardan alçak alanlara doğrudur.
 D) Doğal nüfus artışının en fazla olduğu illere yapılmaktadır.
 E) En çok İstanbul, Ankara, İzmir gibi büyük kentlere yapılmaktadır.

11.

- I. Tekirdağ
 II. Düzce
 III. Eskişehir
 IV. Kırşehir
 V. Çorum

Türkiye’de tarımı etkileyen coğrafi koşullar düşünüldüğünde, yukarıdaki illerin hangilerinde nadasa bırakılan alanların oranının daha düşük olması beklenir?

- A) I ve II B) I ve III C) II ve IV
 D) III ve V E) IV ve V

12. Türkiye’de ekonomik balıkçılık açısından Karadeniz önemli bir yer tutmaktadır. Ancak Karadeniz’de 200 metrenin altındaki derinliklerde canlı yaşamamaktadır.

Bunun nedeni aşağıdakilerden hangisidir?

- A) Güneş ışınlarının 200 metreden fazla derinlikte etkili olmaması
 B) Karadeniz’e dökülen bazı nehirlerin taşıdığı kimyasal atıklar
 C) 200 metreden fazla derinlikte bulunan kükürtlü hidrojen gazı
 D) Karadeniz tabanındaki volkanik aktiviteler
 E) 200 metreden fazla derinlikte su sıcaklığının canlı varlığına engel olması

13. Yer kabuğunun zayıf noktalarından çıkan sıcak su ve buhar, jeotermal enerji olarak ısıtma ve elektrik üretiminde kullanılır.

Türkiye’de bu enerji kaynağı açısından elektrik üretimi potansiyeli en yüksek olan bölge aşağıdakilerden hangisidir?

- A) Ege Bölgesi
 B) İç Anadolu Bölgesi
 C) Karadeniz Bölgesi
 D) Akdeniz Bölgesi
 E) Doğu Anadolu Bölgesi

14. Sanayinin gelişmesinde ham maddeye yakınlık önemlidir.

Aşağıdakilerin hangisinde böyle bir ilişki bulunmamaktadır?

- A) Afyonkarahisar - Mermer sanayi
B) Kars - Süt mamulleri sanayi
C) Adana - Pamuklu dokuma sanayi
D) Ankara - Mobilya sanayi
E) Bilecik - Seramik sanayi

15. Hasan: Türkiye'de özellikle Cumhuriyetin ilk yıllarında ulaşım politikalarında demir yolu yapımına öncelik verilmiştir.

Serap: Hasan seninle aynı görüşte değilim. Özellikle Cumhuriyetin ilk yıllarında kara yolu ulaşımına ağırlık veren bir politika izlenmiştir ve bu durum hâlen devam etmektedir.

Kerem: Türkiye'de son yıllarda hava yolu ulaşımında önemli gelişmeler olmaktadır. Örneğin daha önce havaalanı olmayan pek çok kentte havaalanları inşa edilmiş ve hava yolunu kullanan yolcu sayısı artmıştır.

Leyla: Türkiye'de son yıllarda demir yollarındaki gelişmeler de dikkat çekicidir. Yeni yapılan hatlarla birlikte demir yolu ana hat uzunluğu 25.000 km'yi geçmiştir.

Türkiye'de ulaşım sistemlerinin gelişimiyle ilgili konuşan bu dört arkadaşın hangilerinin verdiği bilgiler doğrudur?

- A) Hasan ve Kerem
B) Hasan ve Leyla
C) Serap ve Kerem
D) Serap ve Leyla
E) Kerem ve Leyla

16. Ülkelerin coğrafi özellikleri, ulaşım politikaları ve bu politikalara bağlı olarak oluşturulan ulaşım altyapıları, ulaşım sistemlerinin gelişiminde belirleyici rol oynar.

Buna göre, Türkiye'deki ulaşım sistemlerine bağlı olarak yurt içi ve yurt dışı yük taşımacılığında egemen olan ulaşım çeşidi aşağıdakilerin hangisinde birlikte verilmiştir?

<u>Yurt içi</u>	<u>Yurt dışı</u>
-----------------	------------------

- | | |
|---------------|------------|
| A) Demir yolu | Kara yolu |
| B) Kara yolu | Kara yolu |
| C) Demir yolu | Deniz yolu |
| D) Kara yolu | Deniz yolu |
| E) Kara yolu | Hava yolu |

17. Türkiye'nin 2023 Turizm Stratejisi'nde 7 tematik turizm gelişim koridoru belirlenmiştir. Bunlardan "kış koridoru" Erzurum, Erzincan, Kars ve Ardahan illerini kapsamaktadır.

Belirtilen bölgenin kış koridoru olarak belirlenmesinde

- I. kış devresinin uzun olması,
- II. kış mevsiminde ortalama sıcaklıkların düşük olması,
- III. kış mevsiminde donan çok sayıda göl bulunması

faktörlerinden hangileri etkilidir?

- A) Yalnız I B) Yalnız III C) I ve II
D) I ve III E) II ve III

18. Ovalar; tarım, yerleşme, sanayi kuruluşu için uygun alanları oluşturur.

Buna göre, aşağıdaki ovalardan hangisi diğerlerinden farklı bir özellik göstermektedir?

- A) Konya Ovası
B) Erzincan Ovası
C) Bursa Ovası
D) Eskişehir Ovası
E) Muş Ovası

1. Türkiye'de,
 - I. dört mevsim belirgin olarak yaşanması,
 - II. Akdeniz ikliminin etkili olması,
 - III. cephesel yağışların görülmesi,
 - IV. Batı rüzgârlarının etkili olması,

Orta Kuşak'ta (Dönence ile kutup daresi arasında) yer alması ile ilgilidir.

Türkiye 36°- 42° kuzey paralelleri arasında yer aldığı için mutlak konumuna göre bir orta kuşak ülkesidir.

Orta Kuşak Güney Yarım Küre'de de bulunduğu için bu özellikler Güney Yarım Küre'nin orta kuşağında da geçerlidir. Sadece Kuzey Yarım Küre'deki ülkelerde görülmez.

Cevap B

2. Ege Bölgesi, genellikle horst ve graben sistemlerini meydana getiren tektonik hareketlerle şekillenmiştir. Bu hareketler ile bölge kıyılarında çoğunlukla doğu-batı yönünde uzanan kırık dağ sıraları oluşmuştur.

Bu şekillenme sonucunda;

- I. Akarsuların doğu-batı yönünde akması
- II. Kıyıların çok fazla girintili-çıkıntılı olması
- III. Kıyılarda çok sayıda doğal liman bulunması
- IV. Denizel hava kütlelerinin iç kısımlara kolay erişebilmesi söz konusudur.

Ancak aynı durum kıyı ile iç kesimler arasında ulaşımın **zor değil aksine kolay olmasına** neden olmuştur (dağların doğu-batı yönünde uzanmasına bağlı olarak).

Cevap B

3. Türkiye genel hatlarıyla yüksek, dağlık ve engebeli bir arazi yapısına sahiptir.

Bu durumun ortaya çıkmasında;

- I. Alp orojenezine bağlı olarak kuzey ve güneyde sıradağların oluşması
- II. Epirojenez ile Anadolu'nun yükselmesi
- III. Akarsu aşındırması ile engebenin artması
- IV. Aktif fayların bulunması ile kırılma, yükselme ve volkanizma gibi olaylar sonucu engebe ve yükseltinin artması söz konusu olmuştur.

Ancak farklı kayaç (taş) türlerinin bulunması yükselti ve engebeden ziyade oluşan şekillerin farklılığı üzerinde etkili olmuştur (aşınma hızları ve oluşan şekillerdeki farklılık gibi).

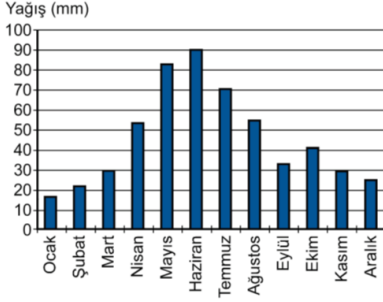
Cevap E

4. Heyelanlar, Karadeniz Bölgesi'nin önemli doğal afetlerindedir. İklim yer şekilleri toprak özellikleri ve bazen de beşerî etkenlere göre gerçekleşen bu doğal afetin Karadeniz'de sık görülmesinde;

- Yıllık yağış miktarının fazla olması,
- Tabaka eğimlerinin fazla olması,
- Doğal ve beşerî nedenlerle yamaç dengesinin bozulması,
- Killi kayaçların fazla olması etkili olmaktadır. **Ancak akarsu rejimleri bu doğal afetler ile ilgili değildir.** Akarsular ile ilişkilendirilecek doğal afet taşkınlardır.

Cevap B

5.



Soruda verilen yağış rejimi grafiğine bakıldığında en fazla yağışın ilkbahar sonu, yaz başına denk geldiği, en az yağışın ise kışın düştüğü görülür.

Buna göre, bu grafik **Doğu Anadolu Karasal Yağış Rejimi** tipine uygunluk göstermektedir. Özellikle Kuzeydoğu Anadolu'da (Erzurum-Kars Bölümü) yükseltinin fazlalığı havanın ısınmasını geciktirerek konveksiyonel (yükselim) yağışların yaza doğru kaymasına neden olur (klasik karasalda en fazla yağış ilkbahar mevsiminde düşer). Aynı zamanda kışın düşen kar yağışları yağmura göre daha az su hacmini ifade ettiği için en az yağış değeri (mili metre cinsinden) kışın gerçekleşir.

Cevap D

6. Doğu Anadolu Bölgesi'nin kuzeydoğusunda, uzun boylu çayır örtüsü altında koyu renkli ve organik madde bakımından zengin topraklar gelişmiştir. **Bu tür topraklar çernozemlerdir.**

Kara toprak olarak da isimlendirilen bu topraklar, Dünya'nın en verimli yeri toprağıdır, coğrafi olarak yarı nemli step bölgelerinde yağışın artış gösterdiği yüksek platolarda görülen topraklardır. Üzerindeki gür bitki örtüsünün düşük sıcaklığa bağlı olarak ayrışmaması nedeniyle humusça zengin olan koyu renkli topraklardır.

Cevap B

7. Türkiye'nin jeomorfolojik özellikleri dik-kate alındığında;

- Erzurum-Kars-Ardahan Platosu'nun oluşumunda akıcı lavların yayılması etkilidir.
- Taşeli Platosu'nda karstlaşma etkilidir.
- Üçüncü Zaman'da geniş alan kaplayan göller zamanla karalaşmıştır.
- Ege Bölgesi'ndeki doğu-batı uzantılı ovalar birer grabendir.

bilgileri doğrudur. **Ancak "Türkiye'deki volkanik dağlar üzerinde buzullar bulunmamaktadır." bilgisi yanlıştır.** Ülke-mizdeki Ağrı, Süphan, Erciyes volkanik dağları üzerinde güncel buzullar bulunmaktadır.

Cevap E

8. Üniversitede arkadaşı olan dört öğrenci, yaşadıkları kentler ve bu kentlerin ekonomik faaliyetleri hakkında bilgiler vermişlerdir.

Bu bilgiler ile yaşadıkları şehirler eşleştirildiğinde;

Ayşen: Yaşadığım kent Türkiye'nin en büyük maden kömürü havzasında yer alır. → **Zonguldak**

Şahin: Akdeniz Bölgesi'nde bir kentte yaşıyorum.

Kentteki en önemli sanayi kolu demir-çelik sektörüdür. → **İskenderun**

Ayhan: Benim yaşadığım kent kıydadır ve burada

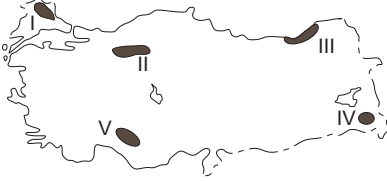
ham petrolü işleyen bir rafineri bulunmaktadır. → **Aliağa**

Burak: Yaşadığım kentte Türkiye'nin en küçük petrol rafinerisi bulunmaktadır. Rafineride işlenen petrol yöreden elde edilmektedir. → **Batman**

Ancak Kırkkale ile ilgili bir özellik öğrenciler tarafından verilmemiştir.

Cevap E

9. Türkiye'de dağlık ve engebeli alanlar genellikle seyrek nüfusludur.



Haritada gösterilen;

- I → Yıldız Dağları Yöresi
 II → Koroğlu Dağları Yöresi
 IV → Hakkâri Dağları Yöresi
 V → Batı – Orta Toroslar Yöresi

Dağlık ve engebeli olduğu için تنها nüfuslanmış alanlardır. Ancak III numara ile gösterilen **Doğu Karadeniz kıyı kesimi dağlık ve engebeli olmasına rağmen yoğun nüfuslanmıştır**. Doğu Karadeniz kıyıları yoğun nüfuslu iken iç kesimleri (Gümüşhane-Bayburt çevresi) تنها nüfusludur.

Cevap C

10. Türkiye'de iç göçlerin yönüne bakıldığında genel olarak;
- Türkiye'nin doğusundan batısına doğrudur.(A)
 - İç bölgelerden kıyılara doğrudur.(B)
 - Yüksek alanlardan alçak alanlara doğrudur.(C)
 - En çok İstanbul, Ankara, İzmir gibi büyük kentlere yapılmaktadır.(E)

bilgileri doğrudur. Ancak ülkemizdeki göç yönleri ile ilgili olarak “**Doğal nüfus artışının en fazla olduğu illere yapılmaktadır.**” bilgisi yanlıştır. Doğal nüfus artışının fazla olduğu iller genellikle Doğu ve Güneydoğu'daki geri kalmış illerdir, göç yönü bu illere doğru değil, bu illerden daha fazla gelişmiş illere doğrudur.

Cevap D

11. Türkiye'de tarımı etkileyen en önemli coğrafi koşul iklimdir. İklim koşullarına bağlı olarak özellikle iç bölgelerdeki tarımsal alanlarda nadas (tarım alanının bir yıl ekilip sonraki yıl boş bırakılması) uygulaması yapılmaktadır. Buna göre soruda verilen karasal iklime sahip illerden Eskişehir (III) , Kırşehir (IV) ve Çorum'da (V) nadas alanları oranı daha fazla iken, kıyı ili olan **Tekirdağ (I) ve Düzce'de (II)** daha azdır.

Cevap A

12. Türkiye'de ekonomik balıkçılık açısından Karadeniz önemli bir yer tutmaktadır. Ancak Karadeniz'de 200 metrenin altındaki derinliklerde canlı yaşamamaktadır.

Bunun nedeni 200 metreden fazla derinlikte bulunan kükürtlü hidrojen gazıdır. Karadeniz eskiden tatlı su gölü iken sonradan denize dönüşerek tuzlu suya kavuşmuş ve buda içerisinde yaşayan canlıların ölüp deniz dibine çökerek çürümeleri sonucunda kükürtlü hidrojen gazının açığa çıkmasına neden olmuştur.

Cevap C

13. Yer kabuğunun zayıf noktalarından çıkan sıcak su ve buhar, jeotermal enerji olarak ısıtma ve elektrik üretiminde kullanılır. Türkiye'de bu enerji kaynağı açısından elektrik üretimi potansiyeli en yüksek olan bölge Ege Bölgesi'dir. Batı Anadolu fay hattına sahip olan **Ege Bölgesi ülkemizdeki jeotermal potansiyelin yaklaşık %70'ine sahiptir.**

Cevap A

14. Sanayinin gelişmesinde ham maddeye yakınlık önemlidir.

Soruda verilen;

- Afyonkarahisar - Mermer sanayi (A)
- Kars - Süt mamulleri sanayi (B)
- Adana - Pamuklu dokuma sanayi (C)
- Bilecik - Seramik sanayi (kil ve kâolen) (E)

Sanayi kollarının gelişiminde o alanlardaki ham madde olanakları etkili olmuştur.

Ancak orman varlığı açısından zengin olmayan Ankara'da mobilya sanayinin gelişimi daha çok pazar olanakları ile ilgilidir.

Cevap D

15. Soruda verilen öncüllerde ulaşım ile ilgili konuşan dört arkadaşın verdiği;

Hasan: Türkiye'de özellikle Cumhuriyetin ilk yıllarında ulaşım politikalarında demir yolu yapımına öncelik verilmiştir.

Kerem: Türkiye'de son yıllarda hava yolu ulaşımında önemli gelişmeler olmaktadır. Örneğin daha önce havaalanı olmayan pek çok kentte havaalanları inşa edilmiş ve hava yolunu kullanan yolcu sayısı artmıştır.

bilgileri doğrudur.

Cevap A

16. Ülkelerin coğrafi özellikleri, ulaşım politikaları ve bu politikalara bağlı olarak oluşturulan ulaşım altyapıları, ulaşım sistemlerinin gelişiminde belirleyici rol oynar. Türkiye'deki ulaşım sistemlerine bağlı olarak yurt içi yük taşımacılığında **kara yolu**, yurt dışı yük taşımacılığında egemen olan ulaşım çeşidi ise **deniz yolu**'dur.

Cevap D

17. Türkiye'nin 2023 Turizm Stratejisi'nde 7 tematik turizm gelişim koridoru belirlenmiştir. Bunlardan "kış koridoru" Erzurum, Erzincan, Kars ve Ardahan illerini kapsamaktadır.

Belirtilen bölgenin kış koridoru olarak belirlenmesinde;

- I. kış devresinin uzun olması (I)
- II. kış mevsiminde ortalama sıcaklıkların düşük olması (II)

etkili olmuştur.

Cevap C

18. Ovalar; tarım, yerleşme, sanayi kuruluşu için uygun alanları oluşturur.

Soruda verilen Konya, Bursa, Erzincan, Eskişehir tarım sanayi yerleşme ulaşım açısından daha elverişli alanlar oluştururken Muş Ovası sanayi açısından elverişli bir alanda yer almaz.

Cevap E

1. Türkiye'yi etkileyen aşağıdaki basınç merkezlerinden hangisi muson sisteminin bir parçasıdır?

- A) İzlanda Alçak Basınç Merkezi
- B) Basra Alçak Basınç Merkezi
- C) Azor Yüksek Basınç Merkezi
- D) Akdeniz Alçak Basınç Merkezi
- E) Sibirya Yüksek Basınç Merkezi

2. Çok sayıda akarsuyun bulunduğu Türkiye'de, akarsu vadilerinin büyük bölümünün "V" şeklinde bir profile sahip olduğu görülür.

Bu durumun başlıca nedeni aşağıdakilerden hangisidir?

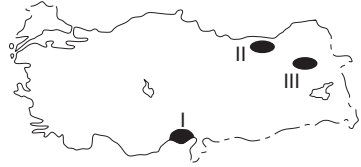
- A) Yamaç eğim değerlerinin fazla olması
- B) İkbahardaki kar erimelerinin fazla olması
- C) Akarsuların denge profiline ulaşmamış olması
- D) Zemindeki kayacın yapısının dirençsiz olması
- E) Açık havza akarsuları olması

3. Tatilini geçirmek üzere Türkiye'ye gelen bir turist, Türkiye'de kaldığı dönemde gece süresinin gittikçe kısaltılmakla birlikte gündüz süresine göre daha uzun olduğunu fark etmiştir.

Buna göre turistin hangi tarihler arasında Türkiye'de olduğu söylenebilir?

- A) 31 Ocak - 11 Şubat
- B) 1 - 11 Nisan
- C) 8 - 18 Temmuz
- D) 30 Eylül - 11 Ekim
- E) 11 - 21 Aralık

4.



Haritada numaralarla gösterilen alanlarda yaygın olarak görülen toprak tipleri aşağıdakilerin hangisinde doğru olarak eşleştirilmiştir?

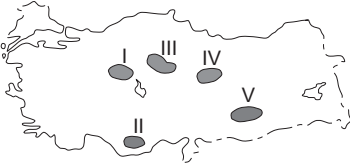
	I	II	III
A)	Alüvyal	Kahverengi orman	Çernezyom
B)	Terra-Rossa	Alüvyal	Çernezyom
C)	Terra-Rossa	Kahverengi orman	Alüvyal
D)	Alüvyal	Çernezyom	Kahverengi orman
E)	Çernezyom	Alüvyal	Kahverengi orman

5. Türkiye kışın genellikle kuzey sektörlü soğuk ve nemli hava kütlelerinin, yazın ise güney sektörlü sıcak ve kuru hava kütlelerinin etkisinde kalır.

Bu durum Türkiye'nin başlıca hangi özelliğinden kaynaklanmaktadır?

- A) Orta kesimlerinde geniş düzlüklerin bulunmasından
B) Üç tarafının denizlerle çevrili olmasından
C) Kuzeyinde ve güneyinde yüksek dağ sıralarının bulunmasından
D) Ortalama yükseltisinin fazla olmasından
E) Mutlak konumundan

6. Platolar, Türkiye arazisi içinde geniş yer kaplamaktadır. Bu alanlarda genellikle kuru tarım ve hayvancılık faaliyetleri yapılmaktadır.



Buna göre yukarıdaki haritada numaralarla gösterilen platolardan hangisi bu faaliyetlerin her ikisi bakımından bu genellemeye uymamaktadır?

- A) I B) II C) III D) IV E) V

7. **Aşağıdaki ova ve oluşum kökeni eşleştirmelerinden hangisi yanlıştır?**

- A) Elmalı – Karstik
B) Bafra – Delta
C) Nazilli – Tektonik
D) Merzifon – Tektonik
E) Ergene – Delta

8. **Aşağıdakilerden hangisi, Türkiye'nin 1927-2022 dönemine ait nüfus gelişim özelliklerinden biri değildir?**

- A) Kırsal nüfus oranı geçmişten günümüze azalmaktadır.
B) Ortalama yaşam süresi uzamaktadır.
C) Aritmetik nüfus yoğunluğu artarak devam etmektedir.
D) Geçmişten günümüze nüfus artış hızı yükselmektedir.
E) Şehirli nüfus miktarı artmaya devam etmektedir.

9. Türkiye, geçici kırsal yerleşmeler bakımından çeşitlilik göstermektedir. Bu yerleşmelerdeki temel ekonomik faaliyet türü; hayvancılık, bazen de tarım olmaktadır.

Aşağıdakilerden hangisi bu tür yerleşmelerden biri değildir?

- A) Yayla B) Oba C) Kom
D) Ağıl E) Mahalle

KPSS
2024

GENEL YETENEK
GENEL KÜLTÜR

EFANE

COĞRAFYA

SORU
BANKASI

TAMAMI
ÇÖZÜMLÜ

MUSTAFA MERVAN DEMİR



ÖĞRETİ AKADEMİ

 **ÖGRETİ AKADEMİ**
Mustafa Mervan Demir

**GENEL YETENEK GENEL KÜLTÜR EFSANE COĞRAFYA
TAMAMI ÇÖZÜMLÜ SORU BANKASI**

ISBN 978-625-6764-17-0

Kitapta yer alan bölümlerin tüm sorumluluğu yazarlarına aittir.

© Öğreti Akademi

Bu kitabın basım, yayım ve satış hakları Pegem Akademi Yay. Eğt. Dan. Hizm. Tic. AŞ'ye aittir. (Öğreti Akademi yayınları bir Pegem Akademi markasıdır.) Anılan kuruluşun izni alınmadan kitabın tümü ya da bölümleri, kapak tasarımı; mekanik, elektronik, fotokopi, manyetik kayıt ya da başka yöntemlerle çoğaltılamaz, basılamaz ve dağıtılamaz. Bu kitap, T.C. Kültür ve Turizm Bakanlığı bandrolü ile satılmaktadır. Okuyucularımızın bandrolü olmayan kitaplar hakkında yayınevimize bilgi vermesini ve bandrolsüz yayınları satın almamasını diliyoruz.

I. Baskı, Ankara

Yayın-Proje: Nilay Balin

Dizgi-Grafik Tasarım: Gülnur Öcalan

Kapak Tasarımı: Öğreti Akademi

Baskı: Vadi Grup Basım AŞ
Saray Mah. 126 Cad. No: 20/A
Kazan/ANKARA
Tel: (0312) 802 00 53-54

Yayıncı Sertifika No: 51818

Matbaa Sertifika No: 49180

İletişim

Shira Ticaret Merkezi, Macun Mahallesi 204 Cad.

No: 141/33, Yenimahalle/Ankara

Yayınevi: 0312 430 67 50

Dağıtım: 0312 434 54 24

Hazırlık Kursları: 0312 419 05 60

İnternet: öğreti.com

E-ileti: ogreti@ogreti.com.tr

Ön Söz

Değerli Kamu Personeli Adaylarımız,

Kitabımızın hazırlık sürecinde KPSS Genel Kültür'ün Coğrafya bölümü yıl yıl analiz edildi, gündemdeki soru kalıpları belirlendi, güncel soru teknikleri ışığında Tamamı Çözümlü Efsane Coğrafya Soru Bankası hazırlandı. Her testin sonuna ayrıntılı çözüm kısmı yerleştirildi.

KPSS'de başarılı olmak, bilgi seviyesini pratikle birleştirmekten geçiyor. Kitabımız sayesinde soru türlerine âşinâ olacak, nokta atışı çözümlerimiz ile eksikliklerinizi gidereceksiniz.

Kitabımız ile ilgili önerilerinizi, sorularınızı ogreti@ogreti.com.tr e-posta adresine, 0538 594 92 40 ÖĞRETİ AKADEMİ WhatsApp Hattı'na gönderebilirsiniz.

Tüm okurlarımıza teşekkür eder, kitabımızın başarı yolunda sizlere mühim katkılar sunmasını dileriz.



Değerli Okuyucularımız, kitabımızın basım tarihinden sonra gerçekleşen değişikliklere, ileriki tarihlerde ulaşabilirsiniz.



İÇİNDEKİLER

Ön Söz	iii
Türkiye'nin Coğrafi Konumu	
Test 1	1
Test 2	7
Test 3	13
Test 4	19
Türkiye'nin Yer Şekilleri (Dağlar - Ovalar)	
Test 1	23
Test 2	28
Türkiye'nin Yer Şekilleri (Platolar - Akarsular)	
Test 1	33
Test 2	37
Türkiye'nin Yer Şekilleri (Yeraltı suları, Göller, Barajlar)	
Test 1	41
Test 2	46
Türkiye'nin Yer Şekilleri (Diğer Yer Şekilleri, Rüzgâr - Buzul - Kıyı Tipleri)	
Test 1	51
Test 1	56
Türkiye'nin Yer Şekilleri (Toprak Oluşumu - Toprak Dağılışı)	
Test 1	61
Türkiye'nin Yer Şekilleri (Tarama Testi)	
Test 1	66
Test 2	71
Türkiye'de Doğal Afetler	
Test 1	76
Türkiye'nin İklimi ve Bitki Örtüsü	
Test 1	83
Test 2	88
Test 3	93
Test 4	98
Test 5	103
Test 6	108
Test 7	113

Türkiye Beşeri Coğrafyası

Test 1	118
Test 2	123
Test 3	128
Test 4	134
Test 5	139

Ekonomik Coğrafya (Tarım, Hayvancılık, Ormancılık, Balıkçılık)

Test 1	144
Test 2	149
Test 3	154
Test 4	159
Test 5	164
Test 6	169
Test 7	174

Türkiye'de Madenler - Enerji Kaynakları ve Sanayi

Test 1	184
Test 2	189
Test 3	194
Test 4	199
Test 5	204

Türkiye'de Ulaşım - Turizm ve Ticaret

Test 1	208
Test 2	213
Test 3	218
Test 4	223
Test 5	228

Bölgesel Kalkınma Projeleri

Tarama 1	238
Tarama 2	243
Tarama 3	246

Cevap Anahtarı	250
-----------------------------	------------

1. Aşağıdakilerden hangisi Türkiye'nin matematik (mutlak) konumunun sonuçlarından birisi değildir?

- A) Kuzey Yarım Küre'de bulunması
- B) Çizgisel hızın kuzey kıyılarımızda daha az olması
- C) Paralel uzunluklarının Adana'dan Sinop'a doğru kısalması
- D) Samsun'da kış mevsiminin Ankara'dan ılık olması
- E) Gölge boylarının hiçbir zaman sıfır olmaması

2. Türkiye'de coğrafi koordinatları bilinen bir merkez yalnızca bu bilgisine bakılarak aşağıda verilenlerden hangisi ile ilgili bir sonuca varılamaz?

- A) Ekvator'a olan kuş uçuşu uzaklığına
- B) Ortalama yükseltisine
- C) En sıcak ay ortalamalarına
- D) En uzun gündüzü yaşayacağı tarihe
- E) Ulusal saatle arasındaki zaman farkına

3. Türkiye'de yer alan farklı merkezlerde Güneş 23 Eylül'de aynı anda doğmaktadır.

Buna göre bu merkezlerin aşağıda verilen özelliklerden hangisinin ortak özellik olması gerekir?

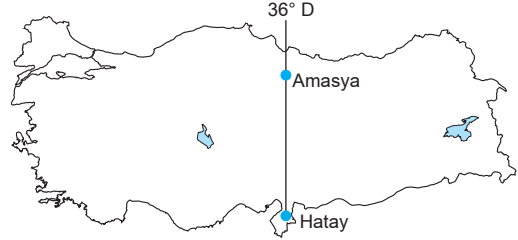
- A) Aynı enlem üzerinde yer almaları
- B) Aynı bölgede yer almaları
- C) Gündüz sürelerinin aynı olması
- D) Greenwich ile aralarındaki zaman farkının aynı olması
- E) Aynı yarım kürede yer alması

4. Türkiye'de yıl boyunca gölge boyları sıfır olmaz.

Bu durumun temel nedeni aşağıdakilerden hangisidir?

- A) Kuzey Yarım Küre'de bulunması
- B) 26°D - 45°D boylamları arasında olması
- C) Dağlık ve engebeli olması
- D) 2. ve 3. saat diliminde olması
- E) Dönencelerin dışında yer alması

5. Aşağıdaki Türkiye haritasında Hatay ve Amasya'nın konumları gösterilmiştir.



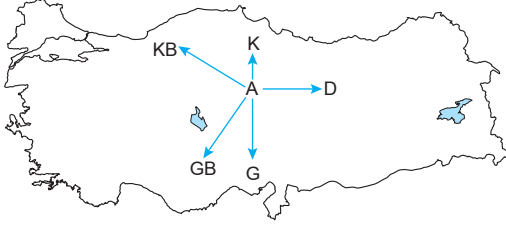
Buna göre bu iki merkezin 23 Eylül tarihinde aşağıdaki hangi iki özelliği kesin olarak aynıdır?

	I	II
A)	Günlük sıcaklık farkı	İklimi
B)	Bitki örtüsü	Yıllık sıcaklık farkı
C)	Yerel saatleri	Güneşin batış saati
D)	Ekvatora uzaklıkları	Kuzey Kutbuna uzaklıkları
E)	Gündüz süreleri	Gölge boyları

6. Sinop'ta yere dikilen bir metre boyundaki bir çubuğun gölge boyu, aşağıdaki tarihlerden hangisinde ögle vakti en kısa olur?

- A) 21 Mart
- B) 21 Haziran
- C) 21 Aralık
- D) 23 Eylül
- E) 3 Ocak

7.



Yukarıdaki Türkiye haritasında gösterilen "A" merkezinden 21 Haziran tarihinde hangi yöne doğru gidilirse gündüz süresi kısalmış, yerel saat daha geri olur?

- A) Kuzeybatı B) Kuzey C) Güney
D) Doğu E) Güneybatı

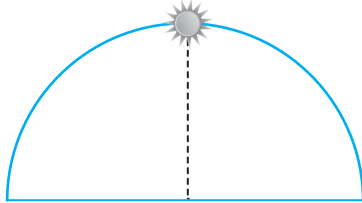
8.

- I. Yükseltinin batıdan doğuya doğru artması
II. Gölge boyunun kuzeyde daha uzun olması
III. Adana'da zeytin tarımı yapılması
IV. Iğdır'da pamuk yetiştirilmesi

Yukarıdakilerden hangileri Türkiye'nin özel (göreceli) konumunun sonuçları arasında yer alır?

- A) I ve II B) I ve IV C) II ve III
D) II ve IV E) III ve IV

9.



23 Eylül tarihinde güneş başlangıç meridyeninde yukarıdaki konumda iken Iğdır'da aşağıdaki konumlardan hangisi gibi görünür?

- A) B)
C) D)
E)

10. Aşağıdakilerden hangisi Türkiye'de enlemin ortaya çıkardığı bir sonuç değildir?

- A) Akdeniz'in Karadeniz'den sıcak olması
B) Güneyden esen rüzgârların sıcaklığı artırması
C) Sinop'ta gölge boyunun yıl boyunca en uzun olması
D) Hatay'da güneş ışınlarının geliş açısının yıl boyunca daha büyük olması
E) Çanakkale'de Erzurum'a göre güneşin daha geç doğması

11.

- I. Bitki örtüsünün çeşitlilik göstermesi
II. Üç tarafının denizlerle çevrili olması
III. Yer şekillerinin çeşitlilik göstermesi
IV. Kuzey Yarım Küre'de yer alması

Türkiye'de göreceli (özel) konuma bağlı olarak aynı anda farklı mevsim özelliklerinin yaşanmasının temel nedeni yukarıdakilerden hangileridir?

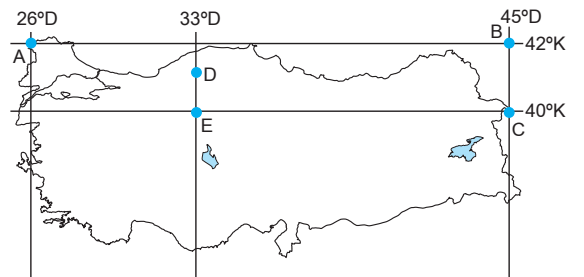
- A) Yalnız I B) Yalnız II C) Yalnız III
D) I ve II E) III ve IV

12. Türkiye'de güneyden kuzeye doğru gidildikçe bir derece meridyen aralığının kuş uçuşu uzaklığının da kaldığı görülür.

Aşağıda verilenlerden hangisi yukarıda verilen durumla aynı gerekçeyle açıklanır?

- A) Bakı yönünün yıl boyunca güney olması
B) Gölge boyunun sıfır olmaması
C) Kuzey yönlü rüzgârların sıcaklığı düşürmesi
D) En sıcak ayların temmuz, ağustos olması
E) Dört mevsimin belirgin yaşanması

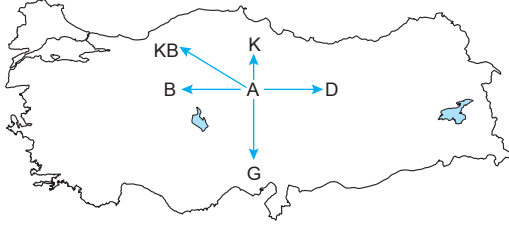
13.



Yukarıdaki Türkiye haritasında coğrafi koordinatları verilen yerlerle ilgili olarak aşağıda verilen bilgilerden hangisi yanlıştır?

- A) D ve E merkezlerinde yıl boyunca yerel saat aynıdır.
B) A ve B merkezlerinin ekvatora kuş uçuşu uzaklıkları eşittir.
C) 21 Mart'ta B ve C merkezlerinde güneş aynı anda doğar.
D) 23 Eylül'de güneş en geç A merkezinde doğar.
E) 21 Haziran'da öğle vakti güneş ışınları D ve E merkezlerine aynı açı ile gelir.

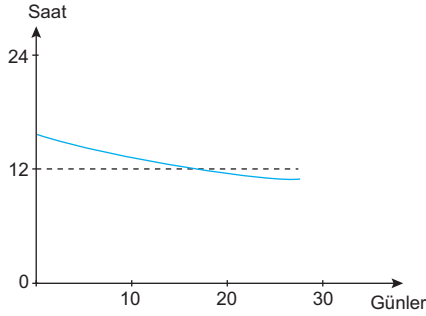
14.



Yukarıdaki A merkezinden yola çıkan beş gözlemciden hangi ikisinin gittiği yönde 21 Aralık tarihinde gece ve gündüz süresi değişmez?

	I. Gözlemci	II. Gözlemci
A)	Batı	Kuzeybatı
B)	Kuzeybatı	Doğu
C)	Kuzey	Güney
D)	Doğu	Batı
E)	Güneybatı	Kuzeydoğu

15. Aşağıdaki grafikte Türkiye'de gündüz süresinin bir aylık değişimi gösterilmiştir.



Buna göre grafiğin gösterdiği ay aşağıdakilerden hangisidir?

- A) Eylül B) Mart C) Haziran
D) Aralık E) Şubat

16.

- I. Akdeniz'in Karadeniz'den tuzlu olması
II. Rize'de turunçgil yetiştirilmesi
III. 21 Haziran'da Kars'ta güneşin Edirne'den daha önce doğması

Yukarıdaki olayların nedenleri aşağıdaki seçeneklerden hangisinde doğru olarak verilmiştir?

	I	II	III
A)	Enlem	Yer şekilleri	Enlem
B)	Boylam	Enlem	Boylam
C)	Enlem	Yer şekilleri	Boylam
D)	Denizellik	Yükselti	Karasallık
E)	İklim	Boylam	Bakı

17. Türkiye Kuzey Yarım Küre'de Orta Kuşak'ta yer almaktadır.

Buna göre aşağıdaki bilgilerden hangisi yalnızca Orta Kuşak'ta yer almasından kaynaklanan bir durumdur?

- A) Batı rüzgârlarının etkisinde kalması
B) 21 Haziran'da en uzun gündüzün en kuzeyde yaşanması
C) 21 Aralık - 21 Mart arasında kış mevsiminin yaşanması
D) Bakı etkisinin dağların güney yamaçlarında görülmesi
E) 23 Eylül'de gündüz ve gecenin eşit olması

18.

- I. Hasat mevsiminin Ankara'da Erzurum'dan önce başlaması
II. Genel olarak dağların güney yamaçlarında kalıcı kar başlangıç sınırının kuzey yamaçlarından daha yüksekte olması
III. Yeraltı kaynakları çeşitliliğinin fazla olması
IV. Dört mevsimi belirgin olarak yaşaması

Yukarıdakilerden hangilerinin Türkiye'de yaşanması göreceli konumunun sonuçlarındandır?

- A) I ve II B) I ve III C) II ve III
D) II ve IV E) III ve IV

ÇÖZÜMLER

1. Kuzey Yarım Küre'de bulunması (A)
Çizgisel hızın kuzey kıyılarımızda daha az olması (B)
Paralel uzunluklarının Sinop'tan Adana'ya doğru kısalması (C)
Gölge boylarının hiçbir zaman sıfır olmaması (E)
Türkiye'nin mutlak konumunun sonuçlarıdır. Fakat D seçeneğinde yer alan Samsun'da kış mevsiminin Ankara'dan ılık olması göreceli konumunun sonucudur. Çünkü Samsun Ankara'dan daha kuzeyde olmasına rağmen denizellik etkisi ile daha sıcaktır. Sıcaklıklar üzerinde denizellik, karasallık, yükselti, nemlilik gibi faktörler devreye girmişse bunun adı göreceli konumdur.

Cevap D

2. Coğrafi koordinatlar bir bölgenin paralel ve meridyen değerlerini ifade eder. Paralel ve meridyen değerlerinden yola çıkarak o bölgenin; Ekvator'a olan kuş uçuşu uzaklığı (A) En sıcak ay ortalamaları (C) En uzun gündüzü yaşayacağı tarihi (D) Ulusal saatle ile arasındaki zaman farkı (E) Koordinat sistemi ile ulaşılacak sonuçları iken B seçeneğinde yer alan ortalama yükselti bulunamaz. Çünkü yükselti paralel veya meridyen değerlerine bağlı olarak artmaz veya azalmaz.

Cevap B

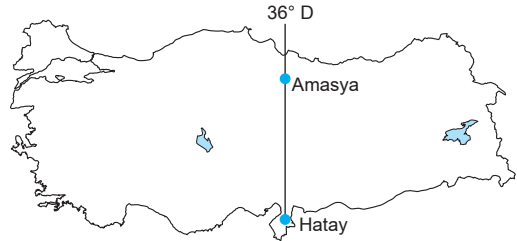
3. 23 Eylül tarihinde farklı iki merkezde Güneş'in aynı anda doğup batabilmesi için bu merkezlerin aynı boylam üzerinde yer alması gerekir. Seçenekleri değerlendirdiğimizde ise D seçeneğinde verilen Greenwich ile aralarındaki zaman farkının aynı olması bu merkezlerin aynı boylam üzerinde olduğunu gösterir. Çünkü boylamlar arasındaki zaman farkı her yerde 4 dakikadır. Greenwich ile aralarındaki zaman farkı aynı olan merkezler aynı boylamdadır. Bu merkezlerde ekinokslarda (21 Mart ve 23 Eylül'de) Güneş aynı anda doğar aynı anda batar.

Cevap D

4. Türkiye'de cisimlerin gölge boyunun hiçbir zaman sıfır olmaması Türkiye'nin Güneş ışınlarını hiçbir zaman 90 derecelik dik açıyla almamasından kaynaklanır. Güneş ışınları yalnızca dönenceler arasında kalan yerlere 90 derecelik açı ile gelir. Türkiye 36° ve 42° enlemlerine sahip olduğu için Türkiye'ye Güneş ışınları hiçbir zaman dik açıyla gelmez. Bu yüzden Türkiye'de gölge boyları hiçbir zaman sıfır olmaz. Gölge boylarının sıfır olmaması Türkiye'nin dönencelerin dışında yer almasından kaynaklanan bir durumdur.

Cevap E

- 5.



Haritada verildiği gibi Hatay ve Amasya aynı boylam üzerinde yer alırlar. Aynı boylam üzerindeki merkezlerde yıl boyunca yerel saat öğlen 12'yi yaşadıkları an güneşin en tepede olduğu an gün içinde gölge boylarının en kısa olduğu an aynıdır ve aynı boylam üzerindeki noktalarda Ekinoks tarihlerinde (21 Mart 23 Eylül'de) Güneş aynı anda doğar aynı anda batar. Bu durum yalnızca ekinokslarda gerçekleşir.

Cevap C

6. Türkiye 36° ve 42° enlemlerine sahip olan Kuzey Yarım Küre'de ve Yengeç Dönencesi'nin kuzeyinde yer alan bir ülkedir. Bu yüzden yıl içerisinde Güneş ışınlarını en büyük açıyla aldığı tarih 21 Haziran tarihidir. Güneş ışınlarının en büyük açı ile geldiği 21 Haziran tarihi tüm Türkiye'de yıl içerisinde gölge boylarının da en kısa olduğu tarihtir. Dolayısıyla Sinop'ta bir çubuğun gölge boyunun en kısa olacağı tarih 21 Haziran tarihidir.

Cevap B

KPSS
2024

7

COĞRAFYA

x

18



Çözümlere ulaşmak için
QR kodu okutunuz.

DENEME

• Tamamı Çözümlü 126 Özgün Soru •



ÖĞRETİ AKADEMİ

Bu testte 18 soru vardır.

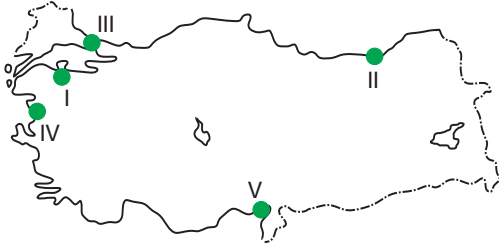
1. Türkiye’de gözlenen;

- I. Akdeniz ve Ege kıyılarında maki bitki örtüsünün görülmesi,
- II. cephesel yağışların görülmesi,
- III. kuzey - güney kıyılarında fön rüzgârlarının etkili olması,
- IV. batı rüzgârlarının etkili olması

durumlarından hangileri göreceli (özel) konumun sonuçları arasında yer alır?

- A) Yalnız I B) Yalnız III C) II ve III
D) II ve IV E) III ve IV

2. Tombolo (saplı ada) kıyıya yakın adaların dalga ve akıntıların biriktirmesi sonucunda ana karaya bağlanması ile oluşur.



Yukarıdaki Türkiye haritasında işaretlenmiş kıyıların hangisinde üzerinde şehir yerleşmesi bulunan belirgin bir tombolo oluşumuna rastlanır?

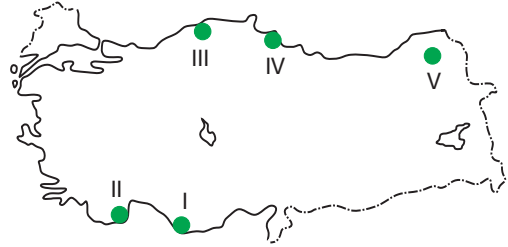
- A) I B) II C) III D) IV E) V

3. Erozyon, toprak yüzeyinin dış kuvvetler etkisiyle süpürülmesi olup Türkiye’nin tamamında farklı şiddetlerde etkilidir.

Aşağıdakilerden hangisi Türkiye’de erozyonun yaygın olmasının nedenleri arasında yer almaz?

- A) Bitki örtüsünün cılız olması
- B) Tarım arazilerinin nadasa bırakılması
- C) Tarım alanlarının eğim yönünde sürülmesi
- D) Tarımsal verimin azalması
- E) Meralarda aşırı otlatma yapılması

4.



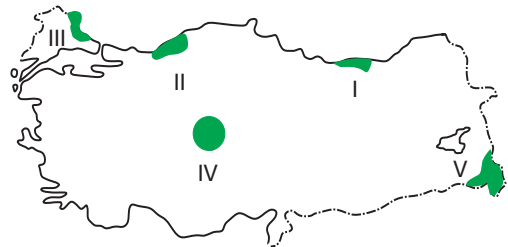
Yukarıdaki Türkiye haritasında işaretlenmiş yörelerin hangisinde alüvyal topraklar daha yaygındır?

- A) I B) II C) III D) IV E) V

5. Aşağıdakilerden hangisi Türkiye akarsularının genel özellikleri arasında yer almaz?

- A) Rejimleri düzensizdir.
- B) Genelde “V” vadi profiline sahiptirler.
- C) Denge profiline ulaşmışlardır.
- D) Hidroelektrik potansiyelleri fazladır.
- E) Ulaşım elverişli değildir.

6. Bağıl nem oranının yüksek olduğu yörelerde güneşli gün sayısı az, hava kapalı ve yağış miktarı da fazladır.



Buna göre haritada numarandırılarak gösterilen sahaların hangisinde bağıl nem oranı en düşüktür?

- A) I B) II C) III D) IV E) V