



Yapay Zekâ Destekli

HİBRİT  
KİTAP

MİLLÎ EĞİTİM BAKANLIĞI AKADEMİ GİRİŞ SINAVI

# MEB • AGS TÜRKİYE COĞRAFYASI

TAMAMI ÇÖZÜMLÜ  
SORU BANKASI



Fiziksel Kitap

HİBRİT  
KİTAP

e-Soru Bankası



e-Soru Bankasına  
erişebilmek için  
QR kodu okutunuz.

 ÖĞRETİ AKADEMİ

 ÖĞRETİ AKADEMİ  
Mustafa Mervan Demir

**MEB-AGS TAMAMI ÇÖZÜMLÜ TÜRKİYE COĞRAFYASI SORU BANKASI**

ISBN 978-605-4966-67-7

Kitapta yer alan bölümlerin tüm sorumluluğu yazarlarına aittir.

© Öğreti Akademi

Bu kitabın basım, yayım ve satış hakları Pegem Akademi Yay. Eğt. Dan. Hizm. Tic. AŞ'ye aittir. (Öğreti Akademi yayınları bir Pegem Akademi markasıdır.) Anılan kuruluşun izni alınmadan kitabın tümü ya da bölümleri, kapak tasarımı; mekanik, elektronik, fotokopi, manyetik kayıt ya da başka yöntemlerle çoğaltılamaz, basılamaz ve dağıtılamaz. Bu kitap, T.C. Kültür ve Turizm Bakanlığı bandrolü ile satılmaktadır. Okuyucularımızın bandrolü olmayan kitaplar hakkında yayınevimize bilgi vermesini ve bandrolsüz yayınları satın almamasını diliyoruz.

**I. Baskı, Ankara**

Yayın-Proje: Öğreti

Dizgi-Grafik Tasarım: İlknur Öztürk

Kapak Tasarımı: Öğreti

**İletişim**

**Öğreti Akademi:** Shira Ticaret Merkezi, Macun Mahallesi 204 Cad.

No: 141/33, Yenimahalle/Ankara

Yayınevi: 0312 430 67 50

Dağıtım: 0312 434 54 24

Hazırlık Kursları: 0312 419 05 60

İnternet: [ogreti.com](http://ogreti.com)

E-ileti: [ogreti@ogreti.com.tr](mailto:ogreti@ogreti.com.tr)

**Baskı:** Sonçağ Yayıncılık Matbaacılık Reklam San Tic. Ltd. Şti.  
İstanbul Cad. İstanbul Çarşısı 48/48 İskitler/Ankara

Yayıncı Sertifika No: 51818

Matbaa Sertifika No: 47865

## Ön Söz

Değerli okuyucularımız,

Milli Eğitim Bakanlığı Akademi Giriş Sınavı (MEB-AGS), geleceğin öğretmenlerinin belirlenmesinde son aşamadır ve öğrenim hayatınız boyunca verdiğiniz emeğin sonucu meslek hayatınıza adım atmanızla nihai başarıya dönüşecektir. Bu süreçteki emek ve çabanız, programlı bir çalışma ile sizi hedefinize doğru yönlenecek ve öne geçirecektir. Böylesi bir süreçte programlı bir çalışmaya kaynaklık edecek olan, deneyimli bir yazar ekibi tarafından özenle oluşturulmuş, geniş kapsamlı yayınlar olacaktır.

Öğreti Akademi yazar ekibinin öncelikli amacı, tam da bu kaynağı sizlere sunmak olmuş ve sonucunda sizleri başarıda öne taşıyacak bu kapsamlı konu anlatımlı kitap ortaya çıkmıştır.

Sınavda başarılı olabilmek için müfredatta mevcut olan konularda yeterli bilgi düzeyine sahip olmak ve yeterince örnek soru ile bu bilgiyi pekiştirmek gerekmektedir. Bu kitabın temel amacı, adayın sınav kapsamındaki her konuya hâkimiyetini sağlamak ve böylece karşılaşacağı soru tiplerini rahatlıkla çözebilecek seviyeye gelmesini mümkün kılmaktır.

Kitaba ilişkin sorularınızı ogreti@ogreti.com.tr adresine e-posta yoluyla ya da 0538 594 92 40 numarasına WhatsApp üzerinden iletmeniz yeterli olacaktır. Sorunuz en kısa sürede yayın ekibimiz tarafından cevaplandırılacaktır.

Kitabın, Millî Eğitim Bakanlığında görev almak isteyen tüm öğretmen adaylarımızın başarılarına katkı sağlaması dileğiyle...

ÖĞRETİ Akademi

**Kitabın içeriği, MEB'in yapacağı program değişikliği veya buna bağlı olarak ÖSYM'nin sınav içeriğinde yapacağı değişiklik durumunda, kitabın dijital hâlinde (aktivasyon geçerlilik süresince) güncellenerek siz değerli adaylara sunulur.**

### TÜM KİTAPLAR YANINDA; CEPTE, TABLETTE VE MASANDA Hibrit kitaplarda kullanıcılar;



- 1 Kitabın dijital formatına erişim sağlayabilir.
- 2 Testleri çözebilir.
- 3 Çözümlere erişim sağlayabilir.



Detaylı anlatım için  
QR kodu okutunuz.

Pegem Kampüs web sitesi üzerinden aktivasyon kodunuzu aktif edebilmek ve içeriklere erişebilmek için aşağıdaki adımları takip ediniz:



Mevcut tarayıcınızın adres çubuğuna [arti.pegemkampus.com](http://arti.pegemkampus.com) yazarak web sitemiz üzerinden üyeliğinizi gerçekleştirebilirsiniz.



Üyelik bilgileriniz ile giriş yaptıktan sonra sol menüde yer alan "Aktivasyonlarım" sekmesine girerek kodunuzu aktif edebilirsiniz.



Aktivasyon işleminizi tamamladıktan sonra menüde aktif hâle gelen "Ölçme İstasyonu" sekmesine tıklayarak içeriklere ulaşabilirsiniz.

Aktivasyon kodu kitabımızın ilk sayfasında yer almaktadır.  
Aktivasyon kodu ile aktif ettiğiniz hibrit kitaba erişim 31.08.2025 tarihine kadar geçerlidir.



Pegem Kampüs İletişim Hattı  
0312 418 51 55

# İÇİNDEKİLER

Ön Söz .....	iii
<b>Türkiye'nin Coğrafi Konumu</b>	
Test 1 .....	1
Test 2 .....	7
Test 3 .....	13
Test 4 .....	19
<b>Türkiye'nin Yer Şekilleri (Dağlar - Ovalar)</b>	
Test 1 .....	23
Test 2 .....	28
<b>Türkiye'nin Yer Şekilleri (Platolar - Akarsular)</b>	
Test 1 .....	33
Test 2 .....	37
<b>Türkiye'nin Yer Şekilleri (Yeraltı suları, Göller, Barajlar)</b>	
Test 1 .....	41
Test 2 .....	46
<b>Türkiye'nin Yer Şekilleri (Diğer Yer Şekilleri, Rüzgâr - Buzul - Kıyı Tipleri)</b>	
Test 1 .....	51
Test 1 .....	56
<b>Türkiye'nin Yer Şekilleri (Toprak Oluşumu - Toprak Dağılışı)</b>	
Test 1 .....	61
<b>Türkiye'nin Yer Şekilleri (Tarama Testi)</b>	
Test 1 .....	66
Test 2 .....	71
<b>Türkiye'de Doğal Afetler</b>	
Test 1 .....	76
<b>Türkiye'nin İklimi ve Bitki Örtüsü</b>	
Test 1 .....	83
Test 2 .....	88
Test 3 .....	93
Test 4 .....	98
Test 5 .....	103
Test 6 .....	108
Test 7 .....	113

## Türkiye Beşeri Coğrafyası

Test 1 .....	118
Test 2 .....	123
Test 3 .....	128
Test 4 .....	134
Test 5 .....	139

## Ekonomik Coğrafya (Tarım, Hayvancılık, Ormancılık, Balıkçılık)

Test 1 .....	144
Test 2 .....	149
Test 3 .....	154
Test 4 .....	159
Test 5 .....	164
Test 6 .....	169
Test 7 .....	174

## Türkiye'de Madenler - Enerji Kaynakları ve Sanayi

Test 1 .....	184
Test 2 .....	189
Test 3 .....	194
Test 4 .....	199
Test 5 .....	204

## Türkiye'de Ulaşım - Turizm ve Ticaret

Test 1 .....	208
Test 2 .....	213
Test 3 .....	218
Test 4 .....	223
Test 5 .....	228

## Bölgesel Kalkınma Projeleri .....

Tarama 1 .....	238
Tarama 2 .....	243
Tarama 3 .....	246

<b>Cevap Anahtarı .....</b>	<b>250</b>
-----------------------------	------------

1. Aşağıdakilerden hangisi Türkiye'nin matematik (mutlak) konumunun sonuçlarından birisi değildir?

- A) Kuzey Yarım Küre'de bulunması
- B) Çizgisel hızın kuzey kıyılarımızda daha az olması
- C) Paralel uzunluklarının Adana'dan Sinop'a doğru kısalması
- D) Samsun'da kış mevsiminin Ankara'dan ılık olması
- E) Gölge boylarının hiçbir zaman sıfır olmaması

2. Türkiye'de coğrafi koordinatları bilinen bir merkez yalnızca bu bilgisine bakılarak aşağıda verilenlerden hangisi ile ilgili bir sonuca varılamaz?

- A) Ekvator'a olan kuş uçuşu uzaklığına
- B) Ortalama yükseltisine
- C) En sıcak ay ortalamalarına
- D) En uzun gündüzü yaşayacağı tarihe
- E) Ulusal saatle arasındaki zaman farkına

3. Türkiye'de yer alan farklı merkezlerde Güneş 23 Eylül'de aynı anda doğmaktadır.

**Buna göre bu merkezlerin aşağıda verilen özelliklerden hangisinin ortak özellik olması gerekir?**

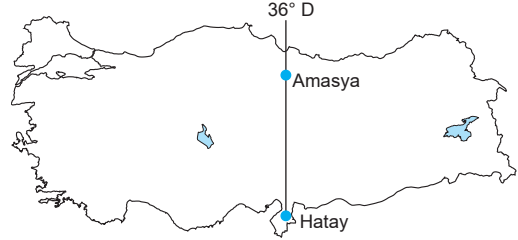
- A) Aynı enlem üzerinde yer almaları
- B) Aynı bölgede yer almaları
- C) Gündüz sürelerinin aynı olması
- D) Greenwich ile aralarındaki zaman farkının aynı olması
- E) Aynı yarım kürede yer alması

4. Türkiye'de yıl boyunca gölge boyları sıfır olmaz.

**Bu durumun temel nedeni aşağıdakilerden hangisidir?**

- A) Kuzey Yarım Küre'de bulunması
- B) 26°D - 45°D boylamları arasında olması
- C) Dağlık ve engebeli olması
- D) 2. ve 3. saat diliminde olması
- E) Dönencelerin dışında yer alması

5. Aşağıdaki Türkiye haritasında Hatay ve Amasya'nın konumları gösterilmiştir.



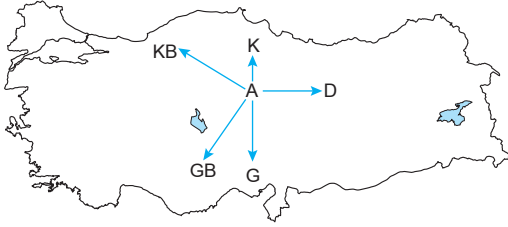
**Buna göre bu iki merkezin 23 Eylül tarihinde aşağıdaki hangi iki özelliği kesin olarak aynıdır?**

	I	II
A)	Günlük sıcaklık farkı	İklimi
B)	Bitki örtüsü	Yıllık sıcaklık farkı
C)	Yerel saatleri	Güneşin batış saati
D)	Ekvatora uzaklıkları	Kuzey Kutbuna uzaklıkları
E)	Gündüz süreleri	Gölge boyları

6. Sinop'ta yere dikilen bir metre boyundaki bir çubuğun gölge boyu, aşağıdaki tarihlerden hangisinde ögle vakti en kısa olur?

- A) 21 Mart
- B) 21 Haziran
- C) 21 Aralık
- D) 23 Eylül
- E) 3 Ocak

7.



Yukarıdaki Türkiye haritasında gösterilen "A" merkezinden 21 Haziran tarihinde hangi yöne doğru gidilirse gündüz süresi kısalar, yerel saat daha geri olur?

- A) Kuzeybatı B) Kuzey C) Güney  
D) Doğu E) Güneybatı

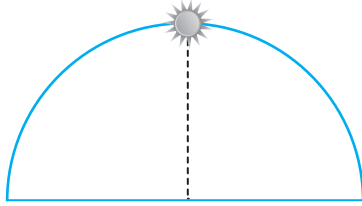
8.

- I. Yükseltinin batıdan doğuya doğru artması  
II. Gölge boyunun kuzeyde daha uzun olması  
III. Adana'da zeytin tarımı yapılması  
IV. Iğdır'da pamuk yetiştirilmesi

Yukarıdakilerden hangileri Türkiye'nin özel (göreceli) konumunun sonuçları arasında yer alır?

- A) I ve II B) I ve IV C) II ve III  
D) II ve IV E) III ve IV

9.



23 Eylül tarihinde güneş başlangıç meridyeninde yukarıdaki konumda iken Iğdır'da aşağıdaki konumlardan hangisi gibi görünür?

- A) B)   
C) D)   
E)

10. Aşağıdakilerden hangisi Türkiye'de enlemin ortaya çıkardığı bir sonuç değildir?

- A) Akdeniz'in Karadeniz'den sıcak olması  
B) Güneyden esen rüzgârların sıcaklığı artırması  
C) Sinop'ta gölge boyunun yıl boyunca en uzun olması  
D) Hatay'da güneş ışınlarının geliş açısının yıl boyunca daha büyük olması  
E) Çanakkale'de Erzurum'a göre güneşin daha geç doğması

11.

- I. Bitki örtüsünün çeşitlilik göstermesi  
II. Üç tarafının denizlerle çevrili olması  
III. Yer şekillerinin çeşitlilik göstermesi  
IV. Kuzey Yarım Küre'de yer alması

Türkiye'de göreceli (özel) konuma bağlı olarak aynı anda farklı mevsim özelliklerinin yaşanmasının temel nedeni yukarıdakilerden hangileridir?

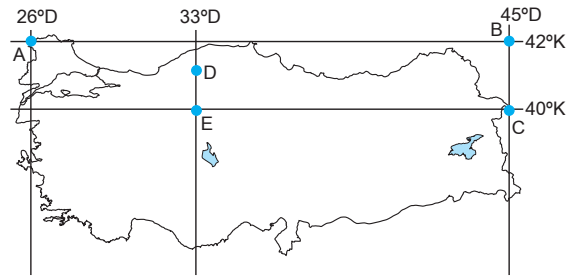
- A) Yalnız I B) Yalnız II C) Yalnız III  
D) I ve II E) III ve IV

12. Türkiye'de güneyden kuzeye doğru gidildikçe bir derece lik meridyen aralığının kuş uçuşu uzaklığının da kaldığı görülür.

Aşağıda verilenlerden hangisi yukarıda verilen durumla aynı gerekçeyle açıklanır?

- A) Bakı yönünün yıl boyunca güney olması  
B) Gölge boyunun sıfır olmaması  
C) Kuzey yönlü rüzgârların sıcaklığı düşürmesi  
D) En sıcak ayların temmuz, ağustos olması  
E) Dört mevsimin belirgin yaşanması

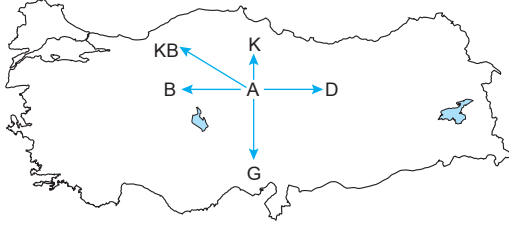
13.



Yukarıdaki Türkiye haritasında coğrafi koordinatları verilen yerlerle ilgili olarak aşağıda verilen bilgilerden hangisi yanlıştır?

- A) D ve E merkezlerinde yıl boyunca yerel saat aynıdır.  
B) A ve B merkezlerinin ekvatora kuş uçuşu uzaklıkları eşittir.  
C) 21 Mart'ta B ve C merkezlerinde güneş aynı anda doğar.  
D) 23 Eylül'de güneş en geç A merkezinde doğar.  
E) 21 Haziran'da öğle vakti güneş ışınları D ve E merkezlerine aynı açı ile gelir.

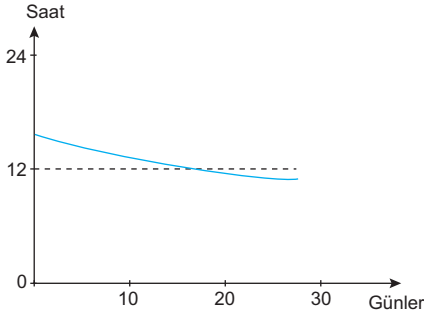
14.



Yukarıdaki A merkezinden yola çıkan beş gözlemciden hangi ikisinin gittiği yönde 21 Aralık tarihinde gece ve gündüz süresi değişmez?

	I. Gözlemci	II. Gözlemci
A)	Batı	Kuzeybatı
B)	Kuzeybatı	Doğu
C)	Kuzey	Güney
D)	Doğu	Batı
E)	Güneybatı	Kuzeydoğu

15. Aşağıdaki grafikte Türkiye'de gündüz süresinin bir aylık değişimi gösterilmiştir.



Buna göre grafiğin gösterdiği ay aşağıdakilerden hangisidir?

- A) Eylül                      B) Mart                      C) Haziran  
D) Aralık                      E) Şubat

16.

- I. Akdeniz'in Karadeniz'den tuzlu olması  
II. Rize'de turuncğil yetiştirilmesi  
III. 21 Haziran'da Kars'ta güneşin Edirne'den daha önce doğması

Yukarıdaki olayların nedenleri aşağıdaki seçeneklerden hangisinde doğru olarak verilmiştir?

	I	II	III
A)	Enlem	Yer şekilleri	Enlem
B)	Boylam	Enlem	Boylam
C)	Enlem	Yer şekilleri	Boylam
D)	Denizellik	Yükselti	Karasallık
E)	İklim	Boylam	Bakı

17. Türkiye Kuzey Yarım Küre'de Orta Kuşak'ta yer almaktadır.

Buna göre aşağıdaki bilgilerden hangisi yalnızca Orta Kuşak'ta yer almasından kaynaklanan bir durumdur?

- A) Batı rüzgârlarının etkisinde kalması  
B) 21 Haziran'da en uzun gündüzün en kuzeyde yaşanması  
C) 21 Aralık - 21 Mart arasında kış mevsiminin yaşanması  
D) Bakı etkisinin dağların güney yamaçlarında görülmesi  
E) 23 Eylül'de gündüz ve gecenin eşit olması

18.

- I. Hasat mevsiminin Ankara'da Erzurum'dan önce başlaması  
II. Genel olarak dağların güney yamaçlarında kalıcı kar başlangıç sınırının kuzey yamaçlarından daha yüksekte olması  
III. Yeraltı kaynakları çeşitliliğinin fazla olması  
IV. Dört mevsimi belirgin olarak yaşaması

Yukarıdakilerden hangilerinin Türkiye'de yaşanması göreceli konumunun sonuçlarındandır?

- A) I ve II                      B) I ve III                      C) II ve III  
D) II ve IV                      E) III ve IV

## ÇÖZÜMLER

1. Kuzey Yarım Küre'de bulunması (A)  
Çizgisel hızın kuzey kıyılarımızda daha az olması (B)  
Paralel uzunluklarının Sinop'tan Adana'ya doğru kısalması (C)  
Gölge boylarının hiçbir zaman sıfır olmaması (E)  
Türkiye'nin mutlak konumunun sonuçlarıdır. Fakat D seçeneğinde yer alan Samsun'da kış mevsiminin Ankara'dan ılık olması göreceli konumunun sonucudur. Çünkü Samsun Ankara'dan daha kuzeyde olmasına rağmen denizellik etkisi ile daha sıcaktır. Sıcaklıklar üzerinde denizellik, karasallık, yükselti, nemlilik gibi faktörler devreye girmişse bunun adı göreceli konumdur.

**Cevap D**

2. Coğrafi koordinatlar bir bölgenin paralel ve meridyen değerlerini ifade eder. Paralel ve meridyen değerlerinden yola çıkarak o bölgenin; Ekvator'a olan kuş uçuşu uzaklığı (A) En sıcak ay ortalamaları (C) En uzun gündüzü yaşayacağı tarihi (D) Ulusal saatle ile arasındaki zaman farkı (E) Koordinat sistemi ile ulaşılacak sonuçları iken B seçeneğinde yer alan ortalama yükselti bulunamaz. Çünkü yükselti paralel veya meridyen değerlerine bağlı olarak artmaz veya azalmaz.

**Cevap B**

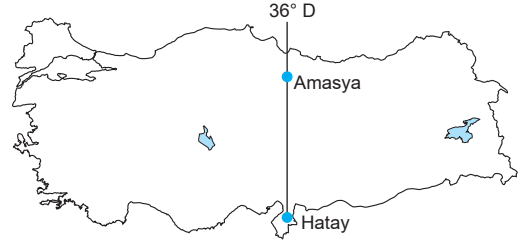
3. 23 Eylül tarihinde farklı iki merkezde Güneş'in aynı anda doğup batabilmesi için bu merkezlerin aynı boylam üzerinde yer alması gerekir. Seçenekleri değerlendirdiğimizde ise D seçeneğinde verilen Greenwich ile aralarındaki zaman farkının aynı olması bu merkezlerin aynı boylam üzerinde olduğunu gösterir. Çünkü boylamlar arasındaki zaman farkı her yerde 4 dakikadır. Greenwich ile aralarındaki zaman farkı aynı olan merkezler aynı boylamdadır. Bu merkezlerde ekinokslarda (21 Mart ve 23 Eylül'de) Güneş aynı anda doğar aynı anda batar.

**Cevap D**

4. Türkiye'de cisimlerin gölge boyunun hiçbir zaman sıfır olmaması Türkiye'nin Güneş ışınlarını hiçbir zaman 90 derecelik dik açıyla almamasından kaynaklanır. Güneş ışınları yalnızca dönenceler arasında kalan yerlere 90 derecelik açı ile gelir. Türkiye 36° ve 42° enlemlerine sahip olduğu için Türkiye'ye Güneş ışınları hiçbir zaman dik açıyla gelmez. Bu yüzden Türkiye'de gölge boyları hiçbir zaman sıfır olmaz. Gölge boylarının sıfır olmaması Türkiye'nin dönencelerin dışında yer almasından kaynaklanan bir durumdur.

**Cevap E**

- 5.



Haritada verildiği gibi Hatay ve Amasya aynı boylam üzerinde yer alırlar. Aynı boylam üzerindeki merkezlerde yıl boyunca yerel saat öğlen 12'yi yaşadıkları an güneşin en tepede olduğu an gün içinde gölge boylarının en kısa olduğu an aynıdır ve aynı boylam üzerindeki noktalarda Ekinoks tarihlerinde (21 Mart 23 Eylül'de) Güneş aynı anda doğar aynı anda batar. Bu durum yalnızca ekinokslarda gerçekleşir.

**Cevap C**

6. Türkiye 36° ve 42° enlemlerine sahip olan Kuzey Yarım Küre'de ve Yengeç Dönencesi'nin kuzeyinde yer alan bir ülkedir. Bu yüzden yıl içerisinde Güneş ışınlarını en büyük açıyla aldığı tarih 21 Haziran tarihidir. Güneş ışınlarının en büyük açı ile geldiği 21 Haziran tarihi tüm Türkiye'de yıl içerisinde gölge boylarının da en kısa olduğu tarihtir. Dolayısıyla Sinop'ta bir çubuğun gölge boyunun en kısa olacağı tarih 21 Haziran tarihidir.

**Cevap B**



7. 21 Haziran tarihinde Türkiye'de en uzun gündüz en kısa gece yaşanır. Bu tarihte Türkiye'de güneyden kuzeye doğru gidildikçe gündüz süresi uzar en uzun gündüzü yaşayan il Sinop, en kısa gündüzü yaşayan il ise Hatay'dır. Soruda gündüz süresinin kısalacağını yerel saatin daha geri olduğunu bizden istediği için gündüzün kısalması için bizim güneye gitmemiz gerekir. Yerel saatin daha geri olması için de batıya gidilmesi gerekir. Çünkü Doğu'da yerel saatler ileri, Batı'da daha geridir. Dolayısıyla gündüzün kısa ve yerel saatin geri olabilmesi için güneybatı yönünde hareket edilmesi gerekir.

**Cevap E**

8. Herhangi bir noktanın başlangıç paraleli ekvatora ve başlangıç meridyeni Greenwich'e göre olan konumuna mutlak konum denir. Başka bir ifade ile enlem ve boylam ile açıklanabilen sonuçlar mutlak konumun sonuçlarıdır. Soruda gölge boyunun kuzeyde daha uzun olması (enlem) Adana'da zeytin tarımının yapılması (enlem) Türkiye'nin mutlak konumunun sonuçlarıdır. Fakat yükseltinin batıdan doğuya doğru artması ve Iğdır'da pamuk yetiştirilmesi Türkiye'nin göreceli konumunun sonuçlarıdır. Çünkü yükselti ve Iğdır'da mikroklimadan (yer şekillerinin etkisi ile oluşan fön rüzgârlarının oluşturduğu dar alanlı iklim) pamuğun yetiştirilmesi göreceli konumunun sonucudur.

**Cevap B**

9. Sorudaki görselde 23 Eylül tarihinde başlangıç meridyeni olan Greenwich'de saatin öğlen 12 olduğu görülmektedir. Iğdır 45° Doğu boylamında yer aldığı için Greenwich ile arasında 45 meridyenlik fark bulunur. Meridyenler arası zaman farkı her yerde 4 dakika olduğuna göre  $45 \times 4 = 180$  dakika 180 dakikada/60'dan 3 saattir. Iğdır da doğuda yer aldığı için 3 saat daha ileri yani saati 15.00 olur. Seçeneklerde 15'i gösteren seçenek doğru cevaptır.

**Cevap D**

10. Akdeniz'in Karadeniz'den sıcak olması (Türkiye'nin Kuzey Yarım Küre'de yer almasının sonucu) (enlem) Güneyden esen rüzgârların sıcaklığı artırması (Türkiye'nin Yengeç Dönencesinin kuzeyinde olmasının sonucudur.) (enlem) Sinop'ta gölge boyunun yıl boyunca en uzun olması (Türkiye'nin Yengeç Dönencesinin kuzeyinde yer almasının sonucudur) (enlem) Hatay'da güneş ışınlarının geliş açısının yıl boyunca daha büyük olması (Türkiye'nin Kuzey Yarım Küre'de yer almasının sonucudur) (enlem) Çanak-kale'de Erzurum'a göre güneşin daha geç doğması boylamın sonucudur. Dünya batıdan doğuya doğru hareket ettiği için güneş doğuda önce doğar önce batır. Dolayısıyla boylamla açıklanan bir sonuç olduğu için sorunun doğru cevabıdır.

**Cevap E**

11. Türkiye jeolojik olarak genç oluşumlu bir ülke olduğu için ortalama yükseltinin fazla ve yer şekilleri bakımından engebeli bir ülkedir. Türkiye'de yer şekillerinin çeşitlilik göstermesi yani kısa mesafelerde farklılaşması aynı anda farklı mevsim özelliklerinin yaşanmasının temel nedenidir. Örneğin Antalya'da denize girilirken yaz mevsimi özellikleri yaşanırken aynı anda Erzurum'da kayak yapılabilir. Yani kış mevsimi özellikleri yaşanıyor. Bu yükselti ve yer şekillerinden kaynaklanan bir durumdur.

**Cevap C**

12. Türkiye'de güneyden kuzeye doğru gidildikçe 1 derece-lik meridyen aralığının kuş uçuşu uzaklığının daralması Türkiye'nin Kuzey Yarım Küre'de yer almasından kaynaklanır. Bununla aynı sonuca sahip olan seçenek D seçeneğidir. Türkiye Kuzey Yarım Küre'de yer aldığı için en sıcak aylar haziran, temmuz ve ağustos ayları yani yaz aylarıdır. Çünkü bu aylar Güney Yarım Küre'nin kış aylarıdır. Sıcaklık ortalamasının düşük olduğu aylardır.

**Cevap D**



Yapay Zeka Destekli

HİBRİT  
KİTAP

MİLLÎ EĞİTİM BAKANLIĞI AKADEMİ GİRİŞ SINAVI

# MEB • AGS TARİH

TAMAMI ÇÖZÜMLÜ  
SORU BANKASI



Fiziksel Kitap

HİBRİT  
KİTAP

e-Soru Bankası



e-Soru Bankasına  
erişebilmek için  
QR kodu okutunuz.

 ÖĞRETİ AKADEMİ

**MEB-AGS TAMAMI ÇÖZÜMLÜ TARİH SORU BANKASI**

ISBN 978-605-4966-95-0

Kitapta yer alan bölümlerin tüm sorumluluğu yazarlarına aittir.

© Öğreti Akademi

Bu kitabın basım, yayım ve satış hakları Pegem Akademi Yay. Eğt. Dan. Hizm. Tic. AŞ'ye aittir. (Öğreti Akademi yayınları bir Pegem Akademi markasıdır.) Anılan kuruluşun izni alınmadan kitabın tümü ya da bölümleri, kapak tasarımı; mekanik, elektronik, fotokopi, manyetik kayıt ya da başka yöntemlerle çoğaltılamaz, basılamaz ve dağıtılamaz. Bu kitap, T.C. Kültür ve Turizm Bakanlığı bandrolü ile satılmaktadır. Okuyucularımızın bandrolü olmayan kitaplar hakkında yayınevimize bilgi vermesini ve bandrolsüz yayınları satın almamasını diliyoruz.

**I. Baskı, Ankara**

Yayın-Proje: Öğreti

Dizgi-Grafik Tasarım: İlknur Öztürk

Kapak Tasarımı: Öğreti

**İletişim**

**Öğreti Akademi:** Shira Ticaret Merkezi, Macun Mahallesi 204 Cad.

No: 141/33, Yenimahalle/Ankara

Yayınevi: 0312 430 67 50

Dağıtım: 0312 434 54 24

Hazırlık Kursları: 0312 419 05 60

İnternet: [ogreti.com](http://ogreti.com)

E-ileti: [ogreti@ogreti.com.tr](mailto:ogreti@ogreti.com.tr)

**Baskı:** Sonçağ Yayıncılık Matbaacılık Reklam San Tic. Ltd. Şti.

İstanbul Cad. İstanbul Çarşısı 48/48 İskitler/Ankara

Yayıncı Sertifika No: 51818

Matbaa Sertifika No: 47865

## Ön Söz

Değerli okuyucularımız,

Milli Eğitim Bakanlığı Akademi Giriş Sınavı (MEB-AGS), geleceğin öğretmenlerinin belirlenmesinde son aşamadır ve öğrenim hayatınız boyunca verdiğiniz emeğin sonucu meslek hayatınıza adım atmanızla nihai başarıya dönüşecektir. Bu süreçteki emek ve çabanız, programlı bir çalışma ile sizi hedefinize doğru yönlenecek ve öne geçirecektir. Böylesi bir süreçte programlı bir çalışmaya kaynaklık edecek olan, deneyimli bir yazar ekibi tarafından özenle oluşturulmuş, geniş kapsamlı yayınlar olacaktır.

Öğreti Akademi yazar ekibinin öncelikli amacı, tam da bu kaynağı sizlere sunmak olmuş ve sonucunda sizleri başarıda öne taşıyacak bu kapsamlı konu anlatımlı kitap ortaya çıkmıştır.

Sınavda başarılı olabilmek için müfredatta mevcut olan konularda yeterli bilgi düzeyine sahip olmak ve yeterince örnek soru ile bu bilgiyi pekiştirmek gerekmektedir. Bu kitabın temel amacı, adayın sınav kapsamındaki her konuya hâkimiyetini sağlamak ve böylece karşılaşacağı soru tiplerini rahatlıkla çözebilecek seviyeye gelmesini mümkün kılmaktır.

Kitaba ilişkin sorularınızı ogreti@ogreti.com.tr adresine e-posta yoluyla ya da 0538 594 92 40 numarasına WhatsApp üzerinden iletmeniz yeterli olacaktır. Sorunuz en kısa sürede yayın ekibimiz tarafından cevaplandırılacaktır.

Kitabın, Millî Eğitim Bakanlığında görev almak isteyen tüm öğretmen adaylarımızın başarılarına katkı sağlaması dileğiyle...

ÖĞRETİ Akademi

**Kitabın içeriği, MEB'in yapacağı program değişikliği veya buna bağlı olarak ÖSYM'nin sınav içeriğinde yapacağı değişiklik durumunda, kitabın dijital hâlinde (aktivasyon geçerlilik süresince) güncellenerek siz değerli adaylara sunulur.**

### TÜM KİTAPLAR YANINDA; CEPTE, TABLETTE VE MASANDA Hibrit kitaplarda kullanıcılar;



- 1 Kitabın dijital formatına erişim sağlayabilir.
- 2 Testleri çözebilir.
- 3 Çözümlere erişim sağlayabilir.



Detaylı anlatım için  
QR kodu okutunuz.

Pegem Kampüs web sitesi üzerinden aktivasyon kodunuzu aktif edebilmek ve içeriklere erişebilmek için aşağıdaki adımları takip ediniz:



1. Adım  
Üyelik  
Mevcut tarayıcınızın adres çubuğuna [arti.pegemkampus.com](http://arti.pegemkampus.com) yazarak web sitemiz üzerinden üyeliğinizi gerçekleştirebilirsiniz.



2. Adım  
Aktivasyon  
Üyelik bilgileriniz ile giriş yaptıktan sonra sol menüde yer alan "Aktivasyonlarım" sekmesine girerek kodunuzu aktif edebilirsiniz.



3. Adım  
Ürünlerim  
Aktivasyon işleminizi tamamladıktan sonra menüde aktif hâle gelen "Ölçme İstasyonu" sekmesine tıklayarak içeriklere ulaşabilirsiniz.

Aktivasyon kodu kitabınızın ilk sayfasında yer almaktadır.  
Aktivasyon kodu ile aktif ettiğiniz hibrit kitaba erişim 31.08.2025 tarihine kadar geçerlidir.



Pegem Kampüs İletişim Hattı  
0312 418 51 55

# İÇİNDEKİLER

Ön Söz.....	iii
<b>İslamiyet Öncesi Türk Tarihi</b>	
Test 1.....	1
Test 2.....	5
Test 3.....	9
Test 4.....	13
<b>Türk - İslam Tarihi</b>	
Test 1.....	17
Test 2.....	21
Test 3.....	25
<b>Türkiye Tarihi</b>	
Test 1.....	29
Test 2.....	33
Test 3.....	37
<b>Avrupa Tarihi</b>	
Test 1.....	41
<b>Osmanlı Devleti Kuruluş Dönemi (Beylikten Devlete)</b>	
Test 1.....	45
<b>Osmanlı Devleti Yükselme Dönemi (Dünya Gücü: Osmanlı Devleti)</b>	
Test 1.....	49
<b>Osmanlı Devleti Kültür ve Medeniyeti</b>	
Test 1.....	54
Test 2.....	58
Test 3.....	62
Test 4.....	66
Test 5.....	70
<b>Osmanlı Devleti Duraklama Dönemi (Arayış Yılları)</b>	
Test 1.....	74
<b>Osmanlı Devleti Gerileme Dönemi (XVIII. yy.da Osmanlı Devleti)</b>	
Test 1.....	78
<b>Osmanlı Devleti Dağılıma Dönemi (En Uzun Yüzyıl)</b>	
Test 1.....	83
<b>Osmanlı Devleti Yenileşme ve Demokratikleşme Hareketleri</b>	
Test 1.....	88
Test 2.....	92
Test 3.....	96
Test 4.....	100
Test 5.....	104
<b>XX. Yüzyıl'da Osmanlı Devleti</b>	
Test 1.....	108
Test 2.....	112
Test 3.....	116
<b>I. Dünya Savaşı ve Sonuçları</b>	
Test 1.....	120
Test 2.....	124
Test 3.....	128
Test 4.....	132
Test 5.....	136
<b>Kurtuluş Savaşı Hazırlık Dönemi</b>	
Test 1.....	140
Test 2.....	144
Test 3.....	148
Test 4.....	152

<b>I. TBMM Dönemi</b>	
Test 1.....	156
Test 2.....	160
Test 3.....	164
Test 4.....	168
<b>Kurtuluş Savaşı Muharebeler ve Antlaşmalar Dönemi</b>	
Test 1.....	172
Test 2.....	176
Test 3.....	180
Test 4.....	184
Test 5.....	188
<b>Atatürk İlkeleri</b>	
Test 1.....	192
Test 2.....	196
Test 3.....	200
Test 4.....	204
<b>İnkılaplar ve Cumhuriyet Dönemi İç Gelişmeler</b>	
Test 1.....	208
Test 2.....	212
Test 3.....	216
Test 4.....	220
Test 5.....	224
Test 6.....	228
Test 7.....	232
Test 8.....	236
Test 9.....	240
Test 10.....	244
<b>Dış Politika</b>	
Test 1.....	248
Test 2.....	252
Test 3.....	256
Test 4.....	260
Test 5.....	264
<b>Çağdaş Türk ve Dünya Tarihi</b>	
Test 1.....	268
Test 2.....	273
Test 3.....	278
Test 4.....	283
Test 5.....	288
Test 6.....	292
<b>Tarama Testleri</b>	
Test 1.....	296
Test 2.....	300
Test 3.....	304
Test 4.....	308
Test 5.....	312
Test 6.....	316
Test 7.....	320
Test 8.....	324
Test 9.....	328
Test 10.....	333
Test 11.....	338
<b>Cevap Anahtarı.....</b>	343

1.

- I. Ceza işlerinin kesin hükme bağlanması
- II. Ceza işlerinin devlet tarafından takip edilmesi
- III. Kısa süreli hapis cezalarının görülmesi

**Yukarıdakilerden hangileri, İslamiyet öncesi Türk devletlerinde kan gütmeye geleneğini engellemiştir?**

- A) Yalnız I                      B) I ve II                      C) I ve III  
D) II ve III                      E) I, II ve III

2. **Asya Hun Devleti Hükümdarı Mete Han zamanında;**

- Onluk sistemin oluşturulmuştur.
- Kurultay toplanmıştır.
- Çin ile Pai-teng Antlaşması yapılmıştır.

**bu gelişmeler hangisinin kanıtı olamaz?**

- A) İdari yapılanmanın varlığının  
B) Türk siyasi birliğinin sağlandığının  
C) Demokratik tutumlara yer verildiğinin  
D) Diplomatik ilişkiler kurulduğunun  
E) Askerî yapılanmaya önem verildiğinin

3. **İlk Türk devletlerinde Kurultayın savaş, barış gibi önemli konularda aldığı kararların kağanı bağlamaması Kurultaya;**

- I. danışma meclisi,
- II. kurucu meclis,
- III. olağanüstü meclis

**özelliklerinden hangilerini kazandırmıştır?**

- A) Yalnız I                      B) Yalnız II                      C) Yalnız III  
D) I ve II                      E) II ve III

4. **Uygurlar Dönemi'nde hukuk kurallarının yazılı hâle gelmesinde;**

- I. stupa adı verilen tapınakların inşa edilmesi,
- II. özel mülkiyete önem verilmemesi,
- III. ticari ilişkilerin gelişmesi

**durumlarından hangileri etkili olmuştur?**

- A) Yalnız I                      B) Yalnız II                      C) Yalnız III  
D) I ve II                      E) I ve III

5. **Orhun Abideleri ile ilgili aşağıdaki bilgilerin hangisi yanlıştır?**

- A) Türk dilinin ve tarihinin ilk yazılı kaynaklarıdır.  
B) Siyasetname özelliğine sahiptir.  
C) Soğd alfabesi ile yazılmıştır.  
D) Kutluk Devleti'ne aittir.  
E) Bilge Kağan, Kültigin ve Vezir Tonyukuk adına dikilmiştir.

6. **Uygurların aşağıdaki özelliklerinden hangisi Çinlilerden etkilendiklerinin doğrudan bir kanıtıdır?**

- A) Kut anlayışına sahip olmaları  
B) Uygur alfabesini kullanmaları  
C) *Karabalgasun Kitabeleri*'ne sahip olmaları  
D) *Türeyiş Destanı*'na sahip olmaları  
E) Manihaizm ve Budizm dinlerini benimsemeleri

7. Orta Asya Türk devletlerinde savaş zamanında; boy beyleri komutan, kadın-erkek tüm boy üyeleri ise asker sayılırdı.

**Buna göre;**

- I. sosyal devlet anlayışının olduğu,
- II. ordu – millet anlayışının benimsendiği,
- III. askerliğin ayrıcalıklı bir meslek sayılmadığı

**yargılarından hangilerine ulaşılabilir?**

- A) Yalnız I                      B) Yalnız III                      C) I ve II  
D) II ve III                      E) I, II ve III

8.

- Tarihte ilk Türk şehirlerini kurmuşlardır.
- Orta oyunu ile Türk tiyatrosunun temellerini atmışlardır.
- Türk mimarisinin ilk örneklerini bırakmışlardır.

**Bazı özellikleri verilen Türk devleti aşağıdakilerden hangisidir?**

- A) Asya Hun                      B) Kök Türkler                      C) Uygurlar  
D) Avarlar                      E) Hazarlar

9.

- I. Kâğıt üretmeleri
- II. Baskıda hareketli harf sistemini kullanmaları
- III. Kendilerine özgü alfabelerinin olması

**Yukarıdakilerden hangileri Uygurların ve Kök Türklerin ortak özelliklerindedir?**

- A) Yalnız I                      B) Yalnız III                      C) I ve II  
D) II ve III                      E) I, II ve III

10. Aşağıdakilerden hangisi Orta Asya Türklerinde görülen hükümdarlık alametlerinden biri **değildir**?

- A) Davul                      B) Örgin                      C) Otağ  
D) Tuğ                      E) Hutbe

11. Uygurların yerleşik hayata geçmelerinde;

- I. Çin ile ticaret yapmaları,
- II. Manihaizm dinini benimsemeleri,
- III. mimaride ve sanatta ileri gitmeleri

**nedenlerinden hangileri doğrudan etkili olmuştur?**

- A) Yalnız I                      B) Yalnız II                      C) Yalnız III  
D) II ve III                      E) I, II ve III

12. Bağımsızlık mücadelesi sonucu kurulduğu bilinen **ilk Türk devleti** aşağıdakilerden hangisidir?

- A) İskitler                      B) Karluklar                      C) I. Kök Türk  
D) Uygurlar                      E) Avarlar

13. Orta Asya Türk devletlerinde devletin hükümdar ailesinin ortak malı sayılması **daha çok** aşağıdaki alanlardan hangisinde olumsuzluklar yaşanmasına neden olmuştur?

- A) Askerî                      B) Adli                      C) Sanat  
D) İdari                      E) Ekonomi

14. Türklerin, Çinlileri;

- I. tarımsal faaliyetler,
- II. Gök Tanrı inancı,
- III. askerlik

**alanlarının hangilerinde etkilediği söylenebilir?**

- A) Yalnız I                      B) Yalnız III                      C) I ve II  
D) I ve III                      E) I, II ve III

15. Almış Han zamanında İslamiyet'i kabul eden Türk devleti aşağıdakilerden hangisidir?

- A) İtil Bulgarları  
B) Tuna Bulgarları  
C) Kansu Uygurları  
D) Turfan Uygurları  
E) Avrupa Hunları

## ÇÖZÜMLER

1. Ceza işlemlerinin kesin hükme bağlanması bir kişinin başka bir kişi üzerinde husumet duygusu geliştirmesini engeller. Zira adalet tecelli eder. Aynı şekilde ceza işlerinin devlet tarafından takip edilerek hukukun gereğini yerine getirmiş olması haksızlığa uğrayan kişinin husumet duygusunu azaltır, kan gütme geleneğini engeller. Cezaların kısa süreli olması ise kişi de haksızlığa uğramasından doğan husumet duygusunun engellemez aksine artırır. Layık olunan cezanın verilmediğini düşünerek kan gütme arzusunu taşır.

**Cevap B**

2. Mete Han zamanında kurultayın toplanması idari yapılanmanın varlığını gösterir. Kurultay ülke sorunlarını görüşen meclis olması sebebiyle demokratik nitelik de gösterir. Çin ile Pai-teng Antlaşması'nın yapılması diplomatik ilişkiler kurulduğunu gösterir. Onluk sistemin uygulanması ise askerî yapılanmaya önem verildiğini gösterir. Soruda Türk siyasi birliğinin sağlandığını gösterir bir öncül bulunmamaktadır. Türk siyasi birliğinin sağlanması için Türklerin yaşadığı tüm coğrafyaların Asya Hun Devleti'nin egemenliği altına girmesi gerekir.

**Cevap B**

3. İlk Türk devletlerinde kurultayın aldığı kararların kağan için bağlayıcı olmaması kurultayın danışma meclisi özelliği taşıdığını gösterir. Zira, danışma meclisi bir konu hakkında görüş bildirir, aldığı karar bağlayıcı değildir. Kurucu meclis devlet kurar, anayasa hazırlar. Olağanüstü meclis ise olağan dışı koşullarda toplanmış olağanüstü yetkilere sahip meclistir. I. TBMM olağanüstü meclis niteliği taşır.

**Cevap A**

4. Uygurlar Dönemi'nde hukuk kurallarını yazılı hâle gelmesinde ticari ilişkilerin gelişmesi etkilidir. Kişilerin, birbirleri ile yaptığı alışverişini kayıt altına alarak güvence sağlama isteği sözleşmelerin imzalanmasına sebep olmuştur. Tapınakların inşa edilmesi hukuk kurallarını yazılı hâle gelme sebebi değildir. Yine özel mülkiyete önem verilmemesi hukukun yazılı hâle gelme sebebi olamaz. Aksine mülkiyet hakkı yazılı hukuk kurallarının gelişmesine katkı sağlar.

**Cevap C**

5. *Orhun Abideleri* ile Soğd alfabesi ile değil, Orhun alfabesi ile yazılmıştır. *Orhun Abideleri* hakkında verilen diğer öncüller doğrudur.

**Cevap C**

6. Uygurlar hakkında verilen bilgilerden Maniheizm ve Budizm dinlerini benimseme Çinlilerden etkilendiklerini doğrudan bir kanıttır. Zira Budizm ve Maniheizm Çin'de yaygın bir inanç sistemidir.

**Cevap E**

7. Orta Asya Türk devletlerinde savaş zamanında boy beyleri, komutan, kadın-erkek tüm boy üyeleri ise asker sayılırdı. Bu durum ordu millet anlayışının bulunduğunu gösterir. Tüm bireylerin asker sayılması askerliğin ayrıcalıklı bir meslek sayılmadığını gösterir. Soru kökündeki bilgilerden sosyal devlet anlayışının bulunduğuna ulaşmak mümkün değildir. Sosyal devlet, devletin kamu çıkarına uygun yatırımlar yapmasıdır.

**Cevap D**

8. Soruda verilen öncüller Uygur devletine aittir. Uygurların yerleşik hayata geçmesi ile şehir kültürü başlamıştır. Şehir kültürü ile beraber mimari alanda ev, saray, tapınak vb. örnekler verilmiştir. Yine Uygurlar, Türk tiyatrosunun temellerini atmıştır. Uygurların Türk kültürüne kazandırdığı diğer bazı önemli unsurlar arasında Uygur alfabesi, çiçek aşısı, Mani dinini benimseme, minyatür sanatı, çinicilik, kağıt, matbaa, kitap ve kütüphane bulunur.

**Cevap C**



9. Uygur ve Kök Türklerin ortak özellikleri arasında kendilerine özgü alfabelerinin olması bulunur. Uygurlar, Soğd- lardan aldıkları alfabeyi geliştirerek kendilerine özgü hâle getirmiştir.

**Cevap B**

10. Orta Asya Türklerinde görülen hükümdarlık alametleri arasında hutbe bulunmaz. Hutbe İslamiyet'in kabulü ile hükümdarlık alametleri arasına girmiştir. Hükümdarlık ala- metleri arasında: nevbet (davul), otağ (çadır), taht (örgin), tuğ (sancak), yarlığ (Tanrı iradesi), kılıç kemer, kamçı, yay, kotuz (sorguç), toy bulunur.

**Cevap E**

11. Uygurların yerleşik hayata geçmelerinde Manihaizm di- nini benimsemeleri doğrudan etkilidir. Manihaizm dini et yemeği yasaklamıştır. Bu durum Uygurların tarım yap- masına, yerleşmesine, köy ve şehirler kurmasına sebep olmuştur. Uygurların mimaride ve sanatta ileri gitmeleri yerleşik hayata geçmesinin sebebi değil sonucudur.

**Cevap B**

12. Bağımsızlık Savaşı sonucunda kurulduğu bilinen ilk Türk devleti I.Kök Türk Devleti'dir. I.Kök Türk Devleti'ni Bumin Kağan Avarlara karşı isyan ederek kurmuştur.

**Cevap C**

13. Orta Asya Türk devletlerinde devletin hükümdar ailesi- nin ortak malı sayılması "idari" alanda daha çok sorun yaşanmasına sebep olmuştur. Zira her erkek çocuğun hükümdar olma hakkının bulunması, taht kavgalarına ve devletin yıkılış sürecine girmesine sebep olmuştur.

**Cevap D**

14. Türkler, Çinlileri askerlik alanındaki faaliyetleri ve başarı- ları ile etkilemiştir. Türkler askerî alanda başka toplumlara örgütlenme modeli ve kullandıkları silah ve taktiklerle ör- nek olmuştur. Türkler, tarımsal faaliyetlere Çinlilerden çok daha sonra başlamıştır. Yine Çinlilerde Gök tanrı inancı bulunmaz.

**Cevap B**

15. Almış Han zamanında İslamiyet'i kabul eden ilk Türk dev- leti "İtil Bulgarları"dır. Abbasi halifesinin İtil Bulgarlarına gönderdiği elçilik heyetinde İbni Fadlan da bulunur. İbni Fadlan, "Rihle" adlı eserinde dönem hayatı hakkında biz- lere önemli bilgiler vermiştir.

**Cevap A**

1. İslamiyet öncesi Türk devletlerinin aşağıdaki genel özelliklerinden hangisi demokratik yönetimin özellikleriyle bağdaşır?

- A) Kağanın her isteğinin kurultayda kabul edilmemesi
- B) Ülkenin hanedanın ortak malı sayılması
- C) Bağımsızlığa büyük önem verilmesi
- D) İkili teşkilat sisteminin görülmesi
- E) Ahiret inancına sahip olunması

2. İslamiyet öncesi Türk tarihinde, savaştan dönen yiğitlerin ağırlandığı, yoksulların donatıldığı, dinî ve millî bakımdan önemli günlerin hep birlikte kutlandığı şölenler yapılırdı.

**Buna göre eski Türklerle ilgili;**

- I. toplumsal dayanışmaya önem verildiğine,
- II. sosyal devlet anlayışının görüldüğüne,
- III. eğlenceye önem verildiğine

**yargılarından hangilerine ulaşılabilir?**

- A) Yalnız I
- B) Yalnız III
- C) I ve II
- D) II ve III
- E) I, II ve III

3.

- I. Mimari eserler vermeleri
- II. Duvar resimleri yapmaları
- III. Şehir ve kasabalar kurmaları

**Uygurlara ait yukarıdaki özelliklerden hangileri yerleşik yaşamı benimsediklerinin kanıtı olarak gösterilebilir?**

- A) Yalnız III
- B) I ve II
- C) I ve III
- D) II ve III
- E) I, II ve III

4. Aşağıdakilerden hangisi İslamiyet öncesi Türk devletlerinde kullanılan hükümdar unvanlarından **değildir**?

- A) Han
- B) Kağan
- C) İlteber
- D) Menşur
- E) Tanhu

5.

- I. Ahiret inancı vardır.
- II. Tek tanrı anlayışı görülür.
- III. Ordu – millet anlayışının temel dayanağıdır.

**Yukarıdakilerden hangileri Gök Tanrı inancının özellikleri arasında gösterilebilir?**

- A) Yalnız I
- B) Yalnız II
- C) Yalnız III
- D) I ve II
- E) II ve III

6. Eski Türk topluluklarına ait;

- I. *Ergenekon*,
- II. *Türeyiş*,
- III. *Oğuz Kağan*

**destanlarının ait oldukları devletler sırasıyla aşağıdakilerden hangisidir?**

	I	II	III
A)	Kök Türkler	Uygurlar	Asya Hunları
B)	Asya Hunları	Kök Türkler	Kırgızlar
C)	Uygurlar	Kırgızlar	Asya Hunları
D)	Kırgızlar	Kök Türkler	Uygurlar
E)	Kök Türkler	Uygurlar	Kırgızlar

7.

- I. Veraset sisteminin uygulanması
- II. Bayındırlık faaliyetlerinin fazla gelişmemesi
- III. Ekonomilerinin daha çok hayvancılığa dayanması

**Yukarıdakilerden hangileri Orta Asya Türk toplumlarında görülen göçebe yaşamın sonuçları arasında yer almaz?**

- A) Yalnız I
- B) Yalnız III
- C) I ve II
- D) I ve III
- E) II ve III