

KPSS
2024

7

COĞRAFYA

x

18



Çözümlere ulaşmak için
QR kodu okutunuz.

DENEME

• Tamamı Çözümlü 126 Özgün Soru •



ÖĞRETİ AKADEMİ

Bu testte 18 soru vardır.

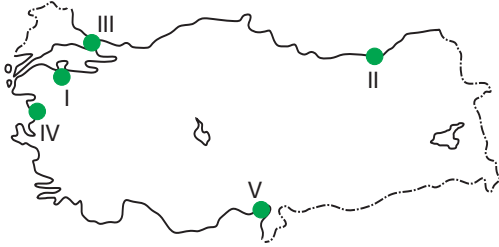
1. Türkiye’de gözlenen;

- I. Akdeniz ve Ege kıyılarında maki bitki örtüsünün görülmesi,
- II. cephesel yağışların görülmesi,
- III. kuzey - güney kıyılarında fön rüzgârlarının etkili olması,
- IV. batı rüzgârlarının etkili olması

durumlarından hangileri göreceli (özel) konumun sonuçları arasında yer alır?

- A) Yalnız I B) Yalnız III C) II ve III
D) II ve IV E) III ve IV

2. Tombolo (saplı ada) kıyıya yakın adaların dalga ve akıntıların biriktirmesi sonucunda ana karaya bağlanması ile oluşur.



Yukarıdaki Türkiye haritasında işaretlenmiş kıyıların hangisinde üzerinde şehir yerleşmesi bulunan belirgin bir tombolo oluşumuna rastlanır?

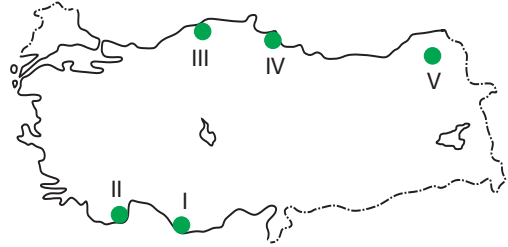
- A) I B) II C) III D) IV E) V

3. Erozyon, toprak yüzeyinin dış kuvvetler etkisiyle süpürülmesi olup Türkiye’nin tamamında farklı şiddetlerde etkilidir.

Aşağıdakilerden hangisi Türkiye’de erozyonun yaygın olmasının nedenleri arasında yer almaz?

- A) Bitki örtüsünün cılız olması
- B) Tarım arazilerinin nadasa bırakılması
- C) Tarım alanlarının eğim yönünde sürülmesi
- D) Tarımsal verimin azalması
- E) Meralarda aşırı otlatma yapılması

4.



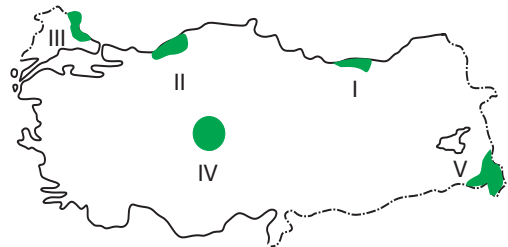
Yukarıdaki Türkiye haritasında işaretlenmiş yörelerin hangisinde alüvyal topraklar daha yaygındır?

- A) I B) II C) III D) IV E) V

5. Aşağıdakilerden hangisi Türkiye akarsularının genel özellikleri arasında yer almaz?

- A) Rejimleri düzensizdir.
- B) Genelde “V” vadi profiline sahiptirler.
- C) Denge profiline ulaşmışlardır.
- D) Hidroelektrik potansiyelleri fazladır.
- E) Ulaşım elverişli değildir.

6. Bağıl nem oranının yüksek olduğu yörelerde güneşli gün sayısı az, hava kapalı ve yağış miktarı da fazladır.



Buna göre haritada numarandırılarak gösterilen sahaların hangisinde bağıl nem oranı en düşüktür?

- A) I B) II C) III D) IV E) V