

KPSS

2025

**GENEL YETENEK
GENEL KÜLTÜR**

**HİBRİT
KİTAP**

COĞRAFYA

TAMAMI ÇÖZÜMLÜ

30

DENEME



Fiziksel Kitap

**HİBRİT
KİTAP**

e-Deneme

ARTIFORCE, TÜBİTAK-TEYDEB Destek Programından yararlanılarak geliştirilmiştir (Proje No: 7230451). Ürün/hizmet ile ilgili tüm sorumluluk Pegem Akademi Yayıncılık Eğitim Danışmanlık Hizmetleri Tic. A.Ş.'ye aittir.



e-Deneme ve soruların çözümlerine erişebilmek için QR kodu okutunuz.



PEGEM

AKADEMİ

KPSS COĞRAFYA TAMAMI ÇÖZÜMLÜ 30 DENEME

Komisyon

ISBN 978-625-6140-20-2

Kitapta yer alan bölümlerin tüm sorumluluğu yazarlarına aittir.

Bu kitabın basım, yayım ve satış hakları Pegem Akademi Yay. Eğt. Dan. Hizm. Tic. AŞ'ye aittir. Anılan kuruluşun izni alınmadan kitabın tümü ya da bölümleri, kapak tasarımı; mekanik, elektronik, fotokopi, manyetik kayıt ya da başka yöntemlerle çoğaltılmaz, basılamaz ve dağıtılamaz. Bu kitap, T.C. Kültür ve Turizm Bakanlığı bandrolü ile satılmaktadır. Okuyucularımızın bandrolü olmayan kitaplar hakkında yayinevimize bilgi vermesini ve bandrolsüz yayınları satın almamasını diliyoruz.

13. Baskı: 2024, Ankara

Pegem Akademi: Shira Ticaret Merkezi, Macun Mahallesi 204 Cad. No: 141/33, Yenimahalle/Ankara

Yayınevi: 0312 430 67 50 / Dağıtım: 0312 434 54 24 / WhatsApp Hattı: 0538 594 92 40

Hazırlık Kursları: 0312 419 05 60

İnternet: www.pegem.net / E-ileti: pegem@pegem.net

İletişim:

Proje-Yayın: Pegem
Dizgi-Grafik Tasarım: İlkur Öztürk
Kapak Tasarımı: Pegem

Başak Matbaacılık AŞ
Çınar Mah. Çankırı Bulvarı No:108 Akyurt/ANKARA

Yayıncı Sertifika No: 51818
Matbaa Sertifika No: 51529

TÜM KİTAPLAR YANINDA; CEPTE, TABLETTE VE MASANDA Hibrit kitaplarda kullanıcılar;



- 1 Kitabın dijital formatına erişim sağlayabilir.
- 2 Testleri çözebilir.
- 3 Çözümleri görüntüleyebilir.



Detaylı anlatım için
QR kodu okutunuz.


Pegem Kampus web sitesi üzerinden aktivasyon kodunuzu aktif edebilmek ve içeriklere erişebilmek için aşağıdaki adımları takip ediniz:



1. Adım
Üyelik
Mevcut tarayıcınızın adres çubuğuna **arti.pegemkampus.com** yazarak web sitemiz üzerinden üyeliğinizi gerçekleştirebilirsiniz.



2. Adım
Aktivasyon
Üyelik bilgileriniz ile giriş yaptıktan sonra sol menüde yer alan **"Aktivasyonlarım"** sekmesine girerek kodunuzu aktif edebilirsiniz.



3. Adım
Ürünlerim
Aktivasyon işleminizi tamamladıktan sonra menüde aktif hâle gelen **"Hibrit Kitap"** sekmesine tıklayarak içeriklere ulaşabilirsiniz.

Aktivasyon kodu kitabınızın ilk sayfasında yer almaktadır.
Aktivasyon kodu ile aktif ettiğiniz hibrit kitaba erişim 31.08.2025 tarihine kadar geçerlidir.



Pegem Kampus İletişim Hattı
0312 418 51 55

Sevgili Kamu Personel Adayları,

KPSS Genel Kültür testinde önemli bir yer tutan “Coğrafya” kapsamındaki sorular, yıllara göre analiz edilmiş ve bu analiz sonuçlarına göre kitabınızda yer alan denemeler oluşturulmuştur.

Sınavda başarılı olabilmek için yeterli bilgi düzeyinin yanı sıra çok sayıda soruyu anlayarak hızlı bir şekilde cevaplamak gerekmektedir. Bu koşul göz önünde bulundurularak sınavda karşınıza çıkabilecek soru türleri çözümleri ile birlikte sizlere sunulmuştur. Çözümlere ulaşabilmeniz için aşağıda yer alan bildirimini inceleyebilir, kitaba ilişkin sorularınızı pegem@pegem.net adresine mail yolu ile ya da 0538 594 92 40 numaralı telefonumuza WhatsApp yolu ile iletebilir olduğunuzu belirtiriz.

KPSS yayınlarında hissedilen önemli bir eksikliği gidermek ve adaylara daha nitelikli ve kapsamlı bir kaynak sunmak amacıyla böyle bir çalışma hazırlanmıştır. Kitaptaki denemeler hazırlanırken her sorunun KPSS formatına bire bir uygun olmasına özen gösterilmiş, çıkması muhtemel tüm konulara da gerektiği kadar yer verilmiştir.

“KPSS Coğrafya 30 Deneme” kitabımızın hepinize faydalı olacağını umuyor, Pegem Akademi Yayıncılık olarak bütün KPSS adaylarına başarılar diliyoruz.

Pegem Akademi Yayıncılık

Pegem Kampüs aktivasyon kodunu kullanarak



pegemkampus.com'da sepette %10 indirim kazanın

 **PEGEMKAMPÜS**
"eğitim bizim işimiz"

Deneme 01.....	1
Deneme 02.....	4
Deneme 03.....	7
Deneme 04.....	10
Deneme 05.....	13
Deneme 06.....	16
Deneme 07.....	19
Deneme 08.....	22
Deneme 09.....	25
Deneme 10.....	28
Deneme 11.....	31
Deneme 12.....	34
Deneme 13.....	37
Deneme 14.....	40
Deneme 15.....	43
Deneme 16.....	46
Deneme 17.....	49
Deneme 18.....	52
Deneme 19.....	55
Deneme 20.....	58
Deneme 21.....	61
Deneme 22.....	63
Deneme 23.....	66
Deneme 24.....	68
Deneme 25.....	71
Deneme 26.....	74
Deneme 27.....	77
Deneme 28.....	80
Deneme 29.....	83
Deneme 30.....	86
Cevap Anahtarı.....	89

1. Türkiye'nin koordinatları belirtilirken aşağıdaki ifadelerden hangisi kullanılmaz?

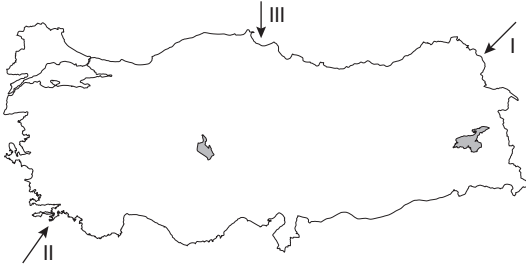
- A) 36° Kuzey B) 26° Doğu
C) 42° Kuzey D) 33° Doğu
E) 45° Doğu

2. Ahmet Bey ve eşi Selma Hanım gençlik hayalleri olan gün doğuşunu uzun uzun seyretme fikrini tekrardan gündeme alırlar. Yurt dışı seyahati için yeterli bütçeleri olmadığını fark eden çift, ülke içinde güzel bir şehir görüp aynı zamanda da gün doğuşunu seyretmeye karar verirler.

Bodrum'da bulunan Ahmet Bey ve eşi aşağıdaki şehirlerin hangisine seyahat ederse en uzun gün doğumunu izleyebilirler?

- A) Sinop B) Mardin
C) Çanakkale D) Erzurum
E) Hatay

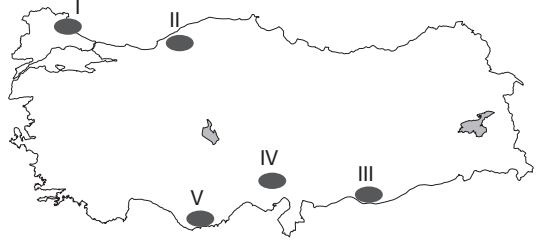
3.



Yukarıdaki Türkiye haritasında numaralandırılarak gösterilen rüzgârlar aşağıdakilerden hangisinde doğru eşleştirilmiştir?

	I	II	III
A)	Sam yeli	Kible	Lodos
B)	Poyraz	Lodos	Yıldız
C)	Kible	Karayel	Lodos
D)	Lodos	Yıldız	Poyraz
E)	Karayel	Poyraz	Sam yeli

4.



Yukarıdaki Türkiye haritasında numaralandırılarak gösterilen yerlerden hangisi masif arazilerden değildir?

- A) I B) II C) III D) IV E) V

5.



Yukarıda Türkiye haritasında numaralandırılarak verilen yerlerin tümü bölgesel kalkınma planı uygulama alanlarıdır.

Bu alanlardan hangisinde uygulanan ya da uygulanması beklenen projenin temel amacı diğer dördünden farklıdır?

- A) I B) II C) III D) IV E) V

6. Aşağıdaki akarsulardan hangisi hem kaynağını Anadolu'dan alıp, hem de ağzında delta ovası oluşturarak yine Anadolu'dan denize dökülen akarsulardandır?

- A) Fırat B) Gediz C) Dalaman
D) Asi E) Sakarya

7.

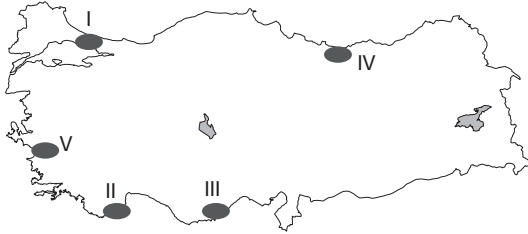
- Fazla çocuklu aileler bazı vergilerden muaf tutulmuştur.
- Evlenme yaşı 15'e indirilmiştir.
- Gebeliği önleyici ilaçların kullanılması ve satılması yasaklanmıştır.

Yukarıda ülkemizde bir dönem uygulanan nüfus politikasına ait özellikler verilmiştir.

Verilen bu özellikler aşağıdaki dönemlerden hangisine aittir?

- A) 1923 - 1963
B) 1963 - 1980
C) 1980 - 2005
D) 2005 - 2014
E) 2014 ve sonrası

8.



Yukarıdaki Türkiye haritası üzerinde numaralandırılmış taralı alanlar ile bu alanlarda görülen kıyı tipleri eşleştirmelerinden hangisi yanlıştır?

- A) I → Ria Kıyı
B) II → Dalmaçya Kıyı
C) III → Boyuna Kıyı
D) IV → Boyuna Kıyı
E) V → Enine Kıyı

9.

Ülkemizde çalışan nüfus içindeki kadın nüfus oranı her yıl biraz daha artmaktadır.

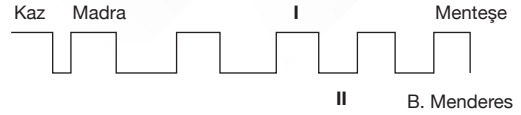
Bu durum;

- I. aktif nüfus içinde kadın nüfus oranının daha fazla olduğu,
II. kadınların hizmet, erkeklerin sanayi sektöründe çalıştığı,
III. kadının eğitim seviyesi ve iş hayatındaki yerinin arttığı

gibi ifadelerden hangilerini doğrular niteliktedir?

- A) Yalnız I
B) Yalnız II
C) Yalnız III
D) I ve III
E) II ve III

10.



Yukarıda Ege Bölgesi'nde bulunan horst ve grabenlerin gösterildiği bir şekil verilmiştir.

Verilen şekilde numaralandırılmış yerlere aşağıdakilerden hangisi yazılmalıdır?

	I	II
A)	Boz	Gediz
B)	Boz	Küçük Menderes
C)	Aydın	Bakırçay
D)	Yunt	Gediz
E)	Aydın	Küçük Menderes

P
E
G
E
M
A
K
A
D
E
M
İ

11. Türkiye'de dokusuna göre kırsal yerleşmeler toplu ve dağınık yerleşmeler olarak ikiye ayrılır.

Bu bilgiye göre aşağıdaki yerlerin hangisinde köyaltı yerleşmeleri toplu yerleşme şeklindedir?

- A) Rize
B) Artvin
C) Giresun
D) Karabük
E) Ankara

12.

- Türkiye'nin ilk transit konteyner limanıdır.
- 1200 kişilik istihdam gücüne sahiptir.
- Avrupa'nın 10. büyük transit limanıdır.

Genel özellikleri verilen "Asyaport" aşağıdaki şehirlerden hangisinin sınırları içinde yer alır?

- A) Tekirdağ
B) Samsun
C) İstanbul
D) Mersin
E) Bursa

13. Türkiye 1983 yılında UNESCO'ya resmen üye olmuştur. UNESCO'nun Dünya Mirası Listesi'nde Türkiye'nin 21 miras alanı bulunmaktadır.

Aşağıda verilen alanlardan hangisi UNESCO Dünya Miras Listesi'nde bulunan karma alanlardandır?

- A) İstanbul Tarihi Alanları
B) Ani Arkeolojik Alanı
C) Göreme Millî Parkı ve Kapadokya
D) Safranbolu Şehri
E) Xanthos - Letoon

14. Aşağıdaki yerlerden hangisi Türkiye'nin 2023 Turizm Stratejisi'ne göre İpek Yolu Turizm Koridoru üzerinde yer alır?

- A) Kartalkaya B) Hayrabolu C) Ayaş
D) Hopa E) Mudanya

15.

- I. Sarayköy - Jeotermal
II. Ambarlı - Linyit
III. Yatağan - Taş kömürü
IV. Çatalağzı - Taş kömürü
V. Keban - Su

Yukarıda ülkemizde bulunan beş enerji santrali ve bunların enerji ürettiği kaynaklar eşleştirilmiştir.

Yapılan eşleştirmelerden hangileri yanlıştır?

- A) I ve II B) I ve III C) II ve III
D) I ve V E) IV ve III

16. Ülkemizde sanayi yoğun kentlerden olan İzmir, İstanbul, İzmit gibi kentler yoğun göç alan yerlerdir.

Aşağıdakilerden hangisi bu kentlerde ortaya çıkan çevresel sorunlardan biri değildir?

- A) Çarpık kentleşme
B) Hava kirliliği
C) Gürültü (ses) kirliliği
D) Çevre kirliliği
E) Suç oranındaki artış

17. Aşağıdaki tarım ürünlerinin yetiştirme alanları dikkate alındığında hangisinin ekonomik getirisi az olduğu için üretimi kıyı bölgelerde yapılamaz?

- A) Şeker pancarı B) Çay C) Muz
D) Zeytin E) Mısır

18. Aşağıda verilen sanayi kollarına ait işletmelerden hangisinde kurulum yeri seçilirken ham maddeye yakınlık gözetilmemiştir?

- A) Çanakkale - Konserve Sanayisi
B) Karabük - Demir-Çelik Sanayisi
C) Ankara - Şeker Fabrikası
D) Rize - Çay Fabrikası
E) Giresun - Kâğıt Fabrikası