

KPSS
2024

GENEL YETENEK
GENEL KÜLTÜR

COĞRAFYA

TAMAMI ÇÖZÜMLÜ
ÇIKMIŞ
SORULAR

SON
10
YIL

 ÖGRETİ AKADEMİ

ÖĞRETİ AKADEMİ

Komisyon

GYGK COĞRAFYA TAMAMI ÇÖZÜMLÜ ÇIKMIŞ SORULAR

ISBN 978-625-6764-55-2

Kitapta yer alan bölümlerin tüm sorumluluğu yazarlarına aittir.

Bu kitabın basım, yayım ve satış hakları Pegem Akademi Yay. Eğt. Dan. Hizm. Tic. AŞ'ye aittir. (Öğreti Akademi yayınları bir Pegem Akademi markasıdır.) Anılan kuruluşun izni alınmadan kitabın tümü ya da bölümleri, kapak tasarımı; mekanik, elektronik, fotokopi, manyetik kayıt ya da başka yöntemlerle çoğaltılamaz, basılamaz ve dağıtılamaz. Bu kitap, T.C. Kültür ve Turizm Bakanlığı bandrolü ile satılmaktadır. Okuyucularımızın bandrolü olmayan kitaplar hakkında yayınevimize bilgi vermesini ve bandrolsüz yayınları satın almamasını diliyoruz.

1. Baskı: 2023, Ankara

Yayın-Proje: Şewal Aksoy
Dizgi-Grafik Tasarım: Gülnur Öcalan
Kapak Tasarımı: Öğreti Akademi

Baskı: Vadi Grup Basım AŞ
Saray Mah. 126 Cad. No: 20/A
Kazan/ANKARA
Tel: (0312) 802 00 53-54

Yayıncı Sertifika No: 51818
Matbaa Sertifika No: 49180

İletişim

Shira Ticaret Merkezi, Macun Mahallesi 204 Cad.
No: 141/33, Yenimahalle/Ankara
Yayınevi: 0312 430 67 50
Dağıtım: 0312 434 54 24
Hazırlık Kursları: 0312 419 05 60
İnternet: www.ogreti.com
E-ileti: ogreti@ogreti.com.tr
WhatsApp Hattı: 0538 594 92 40

Değerli KPSS Adayları,

KPSS'ye hazırlanan adaylarımız KPSS'de çıkan soruları incelemek, çözmek ve kendini geliştirmek, eksiklerini fark edip tamamlamak amacıyla çalışmalarına dâhil etmektedir. Lisans mezunu adayların bu yönde yaptıkları çalışmaların başarı oranları üzerindeki olumlu etkisi göz ardı edilemeyeceğinden kitabımızda 2014-2023 yılları arasında yapılan KPSS Genel Kültür Coğrafya alanında yöneltilen tüm sorulara yer verilmiştir.

Lisans mezunu adayların geleceğe umutla bakabilmelerine, eğitimini aldıkları alanda kendilerini gerçekleştirmelerine ve karşılarına çıkan engelleri aşmalarına yardımcı olması amacıyla hazırlanan KPSS Tamamı Çözömlü Genel Yetenek-Genel Kültür Coğrafya Çıkış Sorular kitabı ile sizlere faydalı olacağımızı umuyor ve hepinize başarılar diliyoruz.

Öğreti Akademi Yayıncılık

İÇİNDEKİLER

2014 GYGK Coğrafya Çıkış Sorular.....	1
2015 GYGK Coğrafya Çıkış Sorular.....	9
2016 GYGK Coğrafya Çıkış Sorular.....	17
2017 GYGK Coğrafya Çıkış Sorular.....	25
2018 GYGK Coğrafya Çıkış Sorular.....	32
2019 GYGK Coğrafya Çıkış Sorular.....	39
2020 GYGK Coğrafya Çıkış Sorular.....	47
2021 GYGK Coğrafya Çıkış Sorular.....	54
2022 GYGK Coğrafya Çıkış Sorular.....	61
2023 GYGK Coğrafya Çıkış Sorular.....	68
Cevap Anahtarı.....	76

1. Türkiye’de,
- dört mevsim belirgin olarak yaşanır,
 - Akdeniz iklimi etkilidir,
 - cephesel yağışlar görülür,
 - Batı rüzgârları etkilidir.

Bu özelliklerin ortaya çıkmasında aşağıdakilerden hangisinin etkisi daha fazladır?

- A) Kuzey yarım kürede yer almasının
 B) Orta kuşakta yer almasının
 C) Üç tarafının denizlerle çevrili olmasının
 D) Yüzey şekillerinin çok çeşitli olmasının
 E) 26° - 45° doğu meridyenleri arasında bulunmasının

2. Ege Bölgesi, genellikle horst ve graben sistemlerini meydana getiren tektonik hareketlerle şekillenmiştir.

Buna göre, aşağıdakilerden hangisi bu şekillenmenin bir sonucu değildir?

- A) Akarsuların doğu-batı yönünde akması
 B) Kıyı ile iç kesimler arasındaki ulaşımın zor olması
 C) Kıyıların çok fazla girintili-çıkıntılı olması
 D) Kıyılarda çok sayıda doğal liman bulunması
 E) Denizel hava kütlelerinin iç kısımlara kolay erişebilmesi

3. Türkiye genel hatlarıyla yüksek, dağlık ve engebeli bir arazi yapısına sahiptir.

Bu durumun ortaya çıkmasında aşağıdakilerden hangisi daha az etkili olmuştur?

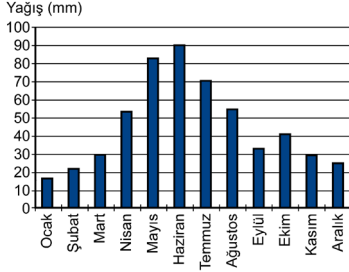
- A) Alp orojenez kuşağında bulunması
 B) Epirojenez ile yükselmesi
 C) Akarsu aşındırmasının fazla olması
 D) Aktif fayların bulunması
 E) Farklı kayaç türlerinin bulunması

4. Heyelanlar, Karadeniz Bölgesi’nin önemli doğal afetlerindendir.

Aşağıdakilerden hangisi heyelanların bu bölgede sık görülmesinin nedenlerinden biri değildir?

- A) Yıllık yağış miktarının fazla olması
 B) Akarsu rejimlerinin farklılık göstermesi
 C) Tabaka eğimlerinin fazla olması
 D) Doğal ve beşerî nedenlerle yamaç dengesinin bozulması
 E) Killi kayaçların fazla olması

5. Türkiye'deki bir meteoroloji istasyonundan alınan yağış rejim grafiği aşağıda verilmiştir.



Buna göre, bu grafik hangi yağış rejim tipine aittir?

- A) Akdeniz yağış rejimi
 B) Karadeniz yağış rejimi
 C) İç Anadolu yarı karasal yağış rejimi
 D) Doğu Anadolu karasal yağış rejimi
 E) Akdeniz-Karadeniz geçiş yağış rejimi

6. Doğu Anadolu Bölgesi'nin kuzeydoğusunda, uzun boylu çayır örtüsü altında koyu renkli ve organik madde bakımından zengin topraklar gelişmiştir.

Buna göre, özellikleri verilen toprak tipi aşağıdakilerden hangisidir?

- A) Solancak
 B) Çernozyem
 C) Podsol
 D) Terra-Rossa
 E) Vertisol

7. Türkiye'nin jeomorfolojik özellikleri dikkate alındığında aşağıdakilerden hangisi söylenemez?

- A) Erzurum-Kars-Ardahan Platosu'nun oluşumunda akıcı lavların yayılması etkilidir.
 B) Taşeli Platosu'nda karstlaşma etkilidir.
 C) Üçüncü Zaman'da geniş alan kaplayan göller zamanla karlaşmıştır.
 D) Ege Bölgesi'ndeki doğu-batı uzantılı ovalar birer grabendir.
 E) Türkiye'deki volkanik dağlar üzerinde buzullar bulunmamaktadır.

8. Üniversitede arkadaş olan dört öğrenci, yaşadıkları kentler ve bu kentlerin ekonomik faaliyetleri hakkında aşağıdaki bilgileri vermişlerdir.

Ayşen: Yaşadığım kent Türkiye'nin en büyük maden kömürü havzasında yer alır.

Şahin: Akdeniz Bölgesi'nde bir kentte yaşıyorum. Kentteki en önemli sanayi kolu demir-çelik sektörüdür.

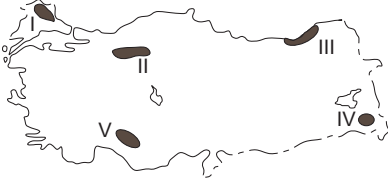
Ayhan: Benim yaşadığım kent kıyıda ve burada ham petrolü işleyen bir rafineri bulunmaktadır.

Burak: Yaşadığım kentte Türkiye'nin en küçük petrol rafinerisi bulunmaktadır. Rafineride işlenen petrol yöreden elde edilmektedir.

Buna göre, aşağıdakilerden hangisi bu öğrencilerin yaşadıkları kentlerden biri değildir?

- A) Zonguldak
 B) İskenderun
 C) Aliağa
 D) Batman
 E) E) Kırıkkale

9. Türkiye'de dağlık ve engebeli alanlar genellikle seyrek nüfusludur.



Yukarıdaki haritada numaralandırılan alanlardan hangisi bu yargıya uymaktadır?

- A) I B) II C) III D) IV E) V
10. Türkiye'de iç göçlerin yönüne bakıldığında genel olarak aşağıdakilerden hangisi **söylenemez**?
- A) Türkiye'nin doğusundan batısına doğrudur.
 B) İç bölgelerden kıyılara doğrudur.
 C) Yüksek alanlardan alçak alanlara doğrudur.
 D) Doğal nüfus artışının en fazla olduğu illere yapılmaktadır.
 E) En çok İstanbul, Ankara, İzmir gibi büyük kentlere yapılmaktadır.

11.

- I. Tekirdağ
 II. Düzce
 III. Eskişehir
 IV. Kırşehir
 V. Çorum

Türkiye'de tarımı etkileyen coğrafi koşullar düşünüldüğünde, yukarıdaki illerin hangilerinde nadasa bırakılan alanların oranının daha düşük olması beklenir?

- A) I ve II B) I ve III C) II ve IV
 D) III ve V E) IV ve V

12. Türkiye'de ekonomik balıkçılık açısından Karadeniz önemli bir yer tutmaktadır. Ancak Karadeniz'de 200 metrenin altındaki derinliklerde canlı yaşamamaktadır.

Bunun nedeni aşağıdakilerden hangisidir?

- A) Güneş ışınlarının 200 metreden fazla derinlikte etkili olmaması
 B) Karadeniz'e dökülen bazı nehirlerin taşıdığı kimyasal atıklar
 C) 200 metreden fazla derinlikte bulunan kükürtlü hidrojen gazı
 D) Karadeniz tabanındaki volkanik aktiviteler
 E) 200 metreden fazla derinlikte su sıcaklığının canlı varlığına engel olması

13. Yer kabuğunun zayıf noktalarından çıkan sıcak su ve buhar, jeotermal enerji olarak ısıtma ve elektrik üretiminde kullanılır.

Türkiye'de bu enerji kaynağı açısından elektrik üretimi potansiyeli en yüksek olan bölge aşağıdakilerden hangisidir?

- A) Ege Bölgesi
 B) İç Anadolu Bölgesi
 C) Karadeniz Bölgesi
 D) Akdeniz Bölgesi
 E) Doğu Anadolu Bölgesi

14. Sanayinin gelişmesinde ham maddeye yakınlık önemlidir.

Aşağıdakilerin hangisinde böyle bir ilişki bulunmamaktadır?

- A) Afyonkarahisar - Mermer sanayi
B) Kars - Süt mamulleri sanayi
C) Adana - Pamuklu dokuma sanayi
D) Ankara - Mobilya sanayi
E) Bilecik - Seramik sanayi

15. Hasan: Türkiye’de özellikle Cumhuriyetin ilk yıllarında ulaşım politikalarında demir yolu yapımına öncelik verilmiştir.

Serap: Hasan seninle aynı görüşte değilim. Özellikle Cumhuriyetin ilk yıllarında kara yolu ulaşımına ağırlık veren bir politika izlenmiştir ve bu durum hâlen devam etmektedir.

Kerem: Türkiye’de son yıllarda hava yolu ulaşımında önemli gelişmeler olmaktadır. Örneğin daha önce havaalanı olmayan pek çok kentte havaalanları inşa edilmiş ve hava yolunu kullanan yolcu sayısı artmıştır.

Leyla: Türkiye’de son yıllarda demir yollarındaki gelişmeler de dikkat çekicidir. Yeni yapılan hatlarla birlikte demir yolu ana hat uzunluğu 25.000 km’yi geçmiştir.

Türkiye’de ulaşım sistemlerinin gelişimiyle ilgili konuşan bu dört arkadaşın hangilerinin verdiği bilgiler doğrudur?

- A) Hasan ve Kerem
B) Hasan ve Leyla
C) Serap ve Kerem
D) Serap ve Leyla
E) Kerem ve Leyla

16. Ülkelerin coğrafi özellikleri, ulaşım politikaları ve bu politikalara bağlı olarak oluşturulan ulaşım altyapıları, ulaşım sistemlerinin gelişiminde belirleyici rol oynar.

Buna göre, Türkiye’deki ulaşım sistemlerine bağlı olarak yurt içi ve yurt dışı yük taşımacılığında egemen olan ulaşım çeşidi aşağıdakilerin hangisinde birlikte verilmiştir?

Yurt içi Yurt dışı

- A) Demir yolu Kara yolu
B) Kara yolu Kara yolu
C) Demir yolu Deniz yolu
D) Kara yolu Deniz yolu
E) Kara yolu Hava yolu

17. Türkiye’nin 2023 Turizm Stratejisi’nde 7 tematik turizm gelişim koridoru belirlenmiştir. Bunlardan “kış koridoru” Erzurum, Erzincan, Kars ve Ardahan illerini kapsamaktadır.

Belirtilen bölgenin kış koridoru olarak belirlenmesinde

- I. kış devresinin uzun olması,
II. kış mevsiminde ortalama sıcaklıkların düşük olması,
III. kış mevsiminde donan çok sayıda göl bulunması

faktörlerinden hangileri etkilidir?

- A) Yalnız I B) Yalnız III C) I ve II
D) I ve III E) II ve III

18. Ovalar; tarım, yerleşme, sanayi kuruluşu için uygun alanları oluşturur.

Buna göre, aşağıdaki ovalardan hangisi diğerlerinden farklı bir özellik göstermektedir?

- A) Konya Ovası
B) Erzincan Ovası
C) Bursa Ovası
D) Eskişehir Ovası
E) Muş Ovası

1. Türkiye'de,
 - I. dört mevsim belirgin olarak yaşanması,
 - II. Akdeniz ikliminin etkili olması,
 - III. cephesel yağışların görülmesi,
 - IV. Batı rüzgârlarının etkili olması,

Orta Kuşak'ta (Dönence ile kutup dairesi arasında) yer alması ile ilgilidir.

Türkiye 36°- 42° kuzey paralelleri arasında yer aldığı için mutlak konumuna göre bir orta kuşak ülkesidir.

Orta Kuşak Güney Yarım Küre'de de bulunduğu için bu özellikler Güney Yarım Küre'nin orta kuşağında da geçerlidir. Sadece Kuzey Yarım Küre'deki ülkelerde görülmez.

Cevap B

2. Ege Bölgesi, genellikle horst ve graben sistemlerini meydana getiren tektonik hareketlerle şekillenmiştir. Bu hareketler ile bölge kıyılarında çoğunlukla doğu-batı yönünde uzanan kırık dağ sıraları oluşmuştur.

Bu şekillenme sonucunda;

- I. Akarsuların doğu-batı yönünde akması
- II. Kıyıların çok fazla girintili-çıkıntılı olması
- III. Kıyılarda çok sayıda doğal liman bulunması
- IV. Denizel hava kütlelerinin iç kısımlara kolay erişebilmesi söz konusudur.

Ancak aynı durum kıyı ile iç kesimler arasında ulaşımın **zor değil aksine kolay olmasına** neden olmuştur (dağların doğu-batı yönünde uzanmasına bağlı olarak).

Cevap B

3. Türkiye genel hatlarıyla yüksek, dağlık ve engebeli bir arazi yapısına sahiptir.

Bu durumun ortaya çıkmasında;

- I. Alp orojenezine bağlı olarak kuzey ve güneyde sıradağların oluşması
- II. Epirojenez ile Anadolu'nun yükselmesi
- III. Akarsu aşındırması ile engebelerin artması
- IV. Aktif fayların bulunması ile kırılma, yükselme ve volkanizma gibi olaylar sonucu engebe ve yükseltinin artması söz konusu olmuştur.

Ancak farklı kayaç (taş) türlerinin bulunması yükselti ve engebeden ziyade oluşan şekillerin farklılığı üzerinde etkili olmuştur (aşınma hızları ve oluşan şekillerdeki farklılık gibi).

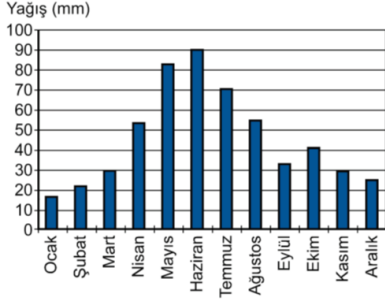
Cevap E

4. Heyelanlar, Karadeniz Bölgesi'nin önemli doğal afetlerindendir. İklim yer şekilleri toprak özellikleri ve bazen de beşerî etkenlere göre gerçekleşen bu doğal afetin Karadeniz'de sık görülmesinde;

- Yıllık yağış miktarının fazla olması,
- Tabaka eğimlerinin fazla olması,
- Doğal ve beşerî nedenlerle yamaç dengesinin bozulması,
- Killi kayaçların fazla olması etkili olmaktadır. **Ancak akarsu rejimleri bu doğal afetler ile ilgili değildir.** Akarsular ile ilişkilendirebilecek doğal afet taşkınlardır.

Cevap B

5.



Soruda verilen yağış rejimi grafiğine bakıldığında en fazla yağışın ilkbahar sonu, yaz başına denk geldiği, en az yağışın ise kışın düştüğü görülür.

Buna göre, bu grafik **Doğu Anadolu Karasal Yağış Rejimi** tipine uygunluk göstermektedir. Özellikle Kuzeydoğu Anadolu'da (Erzurum-Kars Bölümü) yükseltinin fazlalığı havanın ısınmasını geciktirerek konveksiyonel (yükselim) yağışların yaza doğru kaymasına neden olur (klasik karasalda en fazla yağış ilkbahar mevsiminde düşer). Aynı zamanda kışın düşen kar yağışları yağmura göre daha az su hacmini ifade ettiği için en az yağış değeri (mili metre cinsinden) kışın gerçekleşir.

Cevap D

6. Doğu Anadolu Bölgesi'nin kuzeydoğusunda, uzun boylu çayır örtüsü altında koyu renkli ve organik madde bakımından zengin topraklar gelişmiştir. **Bu tür topraklar çernozemlerdir.**

Kara toprak olarak da isimlendirilen bu topraklar, Dünya'nın en verimli yeri toprağıdır, coğrafi olarak yarı nemli step bölgelerinde yağışın artış gösterdiği yüksek platolarda görülen topraklardır. Üzerindeki gür bitki örtüsünün düşük sıcaklığa bağlı olarak ayrışmaması nedeniyle humusça zengin olan koyu renkli topraklardır.

Cevap B

7. Türkiye'nin jeomorfolojik özellikleri dik-kate alındığında;
- Erzurum-Kars-Ardahan Platosu'nun oluşumunda akıcı lavların yayılması etkilidir.
 - Taşeli Platosu'nda karstlaşma etkilidir.
 - Üçüncü Zaman'da geniş alan kaplayan göller zamanla karalaşmıştır.
 - Ege Bölgesi'ndeki doğu-batı uzantılı ovalar birer grabendir.

bilgileri doğrudur. **Ancak "Türkiye'deki volkanik dağlar üzerinde buzullar bulunmamaktadır." bilgisi yanlıştır.** Ülke-mizdeki Ağrı, Süphan, Erciyes volkanik dağları üzerinde güncel buzullar bulunmaktadır.

Cevap E

8. Üniversitede arkadaş olan dört öğrenci, yaşadıkları kentler ve bu kentlerin ekonomik faaliyetleri hakkında bilgiler vermişlerdir.

Bu bilgiler ile yaşadıkları şehirler eşleştirildiğinde;

Ayşen: Yaşadığım kent Türkiye'nin en büyük maden kömürü havzasında yer alır. → **Zonguldak**

Şahin: Akdeniz Bölgesi'nde bir kentte yaşıyorum.

Kentteki en önemli sanayi kolu demir-çelik sektörüdür. → **İskenderun**

Ayhan: Benim yaşadığım kent kıydadır ve burada

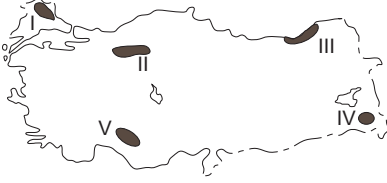
ham petrolü işleyen bir rafineri bulunmaktadır. → **Aliağa**

Burak: Yaşadığım kentte Türkiye'nin en küçük petrol rafinerisi bulunmaktadır. Rafineride işlenen petrol yöreden elde edilmektedir. → **Batman**

Ancak Kırkkale ile ilgili bir özellik öğrenciler tarafından verilmemiştir.

Cevap E

9. Türkiye’de dağlık ve engebeli alanlar genellikle seyrek nüfusludur.



Haritada gösterilen;

- I → Yıldız Dağları Yöresi
 II → Koroğlu Dağları Yöresi
 III → Hakkâri Dağları Yöresi
 IV → Batı - Orta Toroslar Yöresi

Dağlık ve engebeli olduğu için تنها nüfuslanmış alanlardır. Ancak III numara ile gösterilen **Doğu Karadeniz kıyı kesimi dağlık ve engebeli olmasına rağmen yoğun nüfuslanmıştır**. Doğu Karadeniz kıyıları yoğun nüfuslu iken iç kesimleri (Gümüşhane-Bayburt çevresi) تنها nüfusludur.

Cevap C

10. Türkiye’de iç göçlerin yönüne bakıldığında genel olarak;
- Türkiye’nin doğusundan batısına doğrudur.(A)
 - İç bölgelerden kıyılara doğrudur.(B)
 - Yüksek alanlardan alçak alanlara doğrudur.(C)
 - En çok İstanbul, Ankara, İzmir gibi büyük kentlere yapılmaktadır.(E)

bilgileri doğrudur. Ancak ülkemizdeki göç yönleri ile ilgili olarak “**Doğal nüfus artışının en fazla olduğu illere yapılmaktadır.**” bilgisi yanlıştır. Doğal nüfus artışının fazla olduğu iller genellikle Doğu ve Güneydoğu’daki geri kalmış illerdir, göç yönü bu illere doğru değil, bu illerden daha fazla gelişmiş illere doğrudur.

Cevap D

11. Türkiye’de tarımı etkileyen en önemli coğrafi koşul iklimdir. İklim koşullarına bağlı olarak özellikle iç bölgelerdeki tarımsal alanlarda nadas (tarım alanının bir yıl ekilip sonraki yıl boş bırakılması) uygulaması yapılmaktadır. Buna göre soruda verilen karasal iklime sahip illerden Eskişehir (III) , Kırşehir (IV) ve Çorum’da (V) nadas alanları oranı daha fazla iken, kıyı ili olan **Tekirdağ (I) ve Düzce’de (II)** daha azdır.

Cevap A

12. Türkiye’de ekonomik balıkçılık açısından Karadeniz önemli bir yer tutmaktadır. Ancak Karadeniz’de 200 metrenin altındaki derinliklerde canlı yaşamamaktadır.

Bunun nedeni 200 metreden fazla derinlikte bulunan kükürtlü hidrojen gazıdır. Karadeniz eskiden tatlı su gölü iken sonradan denize dönüşerek tuzlu suya kavuşmuş ve buda içerisinde yaşayan canlıların ölüp deniz dibine çökerek çürümeleri sonucunda kükürtlü hidrojen gazının açığa çıkmasına neden olmuştur.

Cevap C

13. Yer kabuğunun zayıf noktalarından çıkan sıcak su ve buhar, jeotermal enerji olarak ısıtma ve elektrik üretiminde kullanılır. Türkiye’de bu enerji kaynağı açısından elektrik üretimi potansiyeli en yüksek olan bölge Ege Bölgesi’dir. Batı Anadolu fay hattına sahip olan **Ege Bölge’si ülkemizdeki jeotermal potansiyelin yaklaşık %70’ine sahiptir.**

Cevap A

14. Sanayinin gelişmesinde ham maddeye yakınlık önemlidir.
Soruda verilen;

- Afyonkarahisar - Mermer sanayi (A)
- Kars - Süt mamulleri sanayi (B)
- Adana - Pamuklu dokuma sanayi (C)
- Bilecik - Seramik sanayi (kil ve kolen) (E)

Sanayi kollarının gelişiminde o alanlardaki ham madde olanakları etkili olmuştur.

Ancak orman varlığı açısından zengin olmayan Ankara'da mobilya sanayinin gelişimi daha çok pazar olanakları ile ilgilidir.

Cevap D

15. Soruda verilen öncüllerde ulaşım ile ilgili konuşan dört arkadaşın verdiği;

Hasan: Türkiye'de özellikle Cumhuriyetin ilk yıllarında ulaşım politikalarında demir yolu yapımına öncelik verilmiştir.

Kerem: Türkiye'de son yıllarda hava yolu ulaşımında önemli gelişmeler olmaktadır. Örneğin daha önce havaalanı olmayan pek çok kentte havaalanları inşa edilmiş ve hava yolunu kullanan yolcu sayısı artmıştır.

bilgileri doğrudur.

Cevap A

16. Ülkelerin coğrafi özellikleri, ulaşım politikaları ve bu politikalara bağlı olarak oluşturulan ulaşım altyapıları, ulaşım sistemlerinin gelişiminde belirleyici rol oynar. Türkiye'deki ulaşım sistemlerine bağlı olarak yurt içi yük taşımacılığında **kara yolu**, yurt dışı yük taşımacılığında egemen olan ulaşım çeşidi ise **deniz yolu**'dur.

Cevap D

17. Türkiye'nin 2023 Turizm Stratejisi'nde 7 tematik turizm gelişim koridoru belirlenmiştir. Bunlardan "kış koridoru" Erzurum, Erzincan, Kars ve Ardahan illerini kapsamaktadır.

Belirtilen bölgenin kış koridoru olarak belirlenmesinde;

- I. kış devresinin uzun olması (I)
- II. kış mevsiminde ortalama sıcaklıkların düşük olması (II)

etkili olmuştur.

Cevap C

18. Ovalar; tarım, yerleşme, sanayi kuruluşu için uygun alanları oluşturur.

Soruda verilen Konya, Bursa, Erzincan, Eskişehir tarım sanayi yerleşme ulaşım açısından daha elverişli alanlar oluştururken Muş Ovası sanayi açısından elverişli bir alanda yer almaz.

Cevap E

1. Türkiye'yi etkileyen aşağıdaki basınç merkezlerinden hangisi muson sisteminin bir parçasıdır?

A) İzlanda Alçak Basınç Merkezi
 B) Basra Alçak Basınç Merkezi
 C) Azor Yüksek Basınç Merkezi
 D) Akdeniz Alçak Basınç Merkezi
 E) Sibirya Yüksek Basınç Merkezi

2. Çok sayıda akarsuyun bulunduğu Türkiye'de, akarsu vadilerinin büyük bölümünün "V" şeklinde bir profile sahip olduğu görülür.

Bu durumun başlıca nedeni aşağıdakilerden hangisidir?

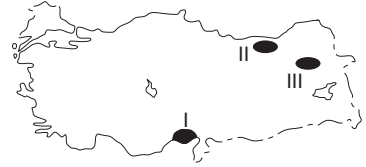
A) Yamaç eğim değerlerinin fazla olması
 B) İlbahardaki kar erimelerinin fazla olması
 C) Akarsuların denge profiline ulaşmamış olması
 D) Zemindeki kayaç yapısının dirençsiz olması
 E) Açık havza akarsuları olması

3. Tatilini geçirmek üzere Türkiye'ye gelen bir turist, Türkiye'de kaldığı dönemde gece süresinin gittikçe kısalmasıyla birlikte gündüz süresine göre daha uzun olduğunu fark etmiştir.

Buna göre turistin hangi tarihler arasında Türkiye'de olduğu söylenebilir?

A) 31 Ocak - 11 Şubat
 B) 1 - 11 Nisan
 C) 8 - 18 Temmuz
 D) 30 Eylül - 11 Ekim
 E) 11 - 21 Aralık

4.



Haritada numaralarla gösterilen alanlarda yaygın olarak görülen toprak tipleri aşağıdakilerin hangisinde doğru olarak eşleştirilmiştir?

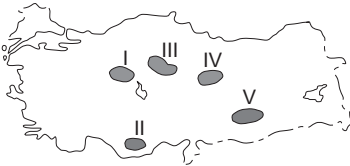
	I	II	III
A)	Alüvyal	Kahverengi orman	Çernezyom
B)	Terra-Rossa	Alüvyal	Çernezyom
C)	Terra-Rossa	Kahverengi orman	Alüvyal
D)	Alüvyal	Çernezyom	Kahverengi orman
E)	Çernezyom	Alüvyal	Kahverengi orman

5. Türkiye kışın genellikle kuzey sektörlü soğuk ve nemli hava kütlelerinin, yazın ise güney sektörlü sıcak ve kuru hava kütlelerinin etkisinde kalır.

Bu durum Türkiye'nin başlıca hangi özelliğinden kaynaklanmaktadır?

- A) Orta kesimlerinde geniş düzlüklerin bulunmasından
B) Üç tarafının denizlerle çevrili olmasından
C) Kuzeyinde ve güneyinde yüksek dağ sıralarının bulunmasından
D) Ortalama yükseltisinin fazla olmasından
E) Mutlak konumundan

6. Platolar, Türkiye arazisi içinde geniş yer kaplamaktadır. Bu alanlarda genellikle kuru tarım ve hayvancılık faaliyetleri yapılmaktadır.



Buna göre yukarıdaki haritada numaralarla gösterilen platolardan hangisi bu faaliyetlerin her ikisi bakımından bu genellemeye uymamaktadır?

- A) I B) II C) III D) IV E) V

7. **Aşağıdaki ova ve oluşum kökeni eşleştirmelerinden hangisi yanlıştır?**

- A) Elmalı – Karstik
B) Bafra – Delta
C) Nazilli – Tektonik
D) Merzifon – Tektonik
E) Ergene – Delta

8. **Aşağıdakilerden hangisi, Türkiye'nin 1927-2022 dönemine ait nüfus gelişim özelliklerinden biri değildir?**

- A) Kırsal nüfus oranı geçmişten günümüze azalmaktadır.
B) Ortalama yaşam süresi uzamaktadır.
C) Aritmetik nüfus yoğunluğu artarak devam etmektedir.
D) Geçmişten günümüze nüfus artışı hızlanmaktadır.
E) Şehirli nüfus miktarı artmaya devam etmektedir.

9. Türkiye, geçici kırsal yerleşmeler bakımından çeşitlilik göstermektedir. Bu yerleşmelerdeki temel ekonomik faaliyet türü; hayvancılık, bazen de tarım olmaktadır.

Aşağıdakilerden hangisi bu tür yerleşmelerden biri değildir?

- A) Yayla B) Oba C) Kom
D) Ağıl E) Mahalle