

**KPSS
2024**

Bütün kitaplar cepte, tablette, masanda

GENEL YETENEK GENEL KÜLTÜR

Tamamı Çözümlü

SORU

BANKASI

MODÜLER SET

TÜRKÇE

Bu seti alan
adaylara ayrıca
Yapay Zekâ
destekli
10.000 soru
çözme hakkı
verilecektir.

Arti - Yapay
Zekâ Asistan

Dijital Öğrenme
Ayak İzi

Hibrit Kitap
Teknolojisi



Hibrit kitaba erişebilmek
için QR kodu okutunuz.



PEGEM AKADEMİ



Komisyon

KPSS Lise ve Ön Lisans Türkçe Soru Bankası

ISBN 978-625-6890-25-1

Kitapta yer alan bölümlerin tüm sorumluluğu yazarlarına aittir.

© Pegem Akademi

Bu kitabın basım, yayım ve satış hakları Pegem Akademi Yay. Eğt. Dan. Hizm. Tic. AŞ'ye aittir. Anılan kuruluşun izni alınmadan kitabın tümü ya da bölümleri, kapak tasarımı; mekanik, elektronik, fotokopi, manyetik kayıt ya da başka yöntemlerle çoğaltılamaz, basılamaz ve dağıtılamaz. Bu kitap, T.C. Kültür ve Turizm Bakanlığı bandrolü ile satılmaktadır. Okuyucularımızın bandrolü olmayan kitaplar hakkında yayinevimize bilgi vermesini ve bandrolsüz yayınları satın almamasını diliyoruz.

Pegem Akademi Yayıncılık, 1998 yılından bugüne uluslararası düzeyde düzenli faaliyet yürüten uluslararası akademik bir yayinevidir. Yayınladığı kitaplar; Yükseköğretim Kurulunca tanınan yükseköğretim kurumlarının kataloglarında yer almaktadır. Dünyadaki en büyük çevrimiçi kamu erişim kataloğu olan WorldCat ve ayrıca Türkiye'de kurulan Turcademy.com tarafından yayınları taranmaktadır, indekslenmektedir. Aynı alanda farklı yazarlara ait 1000'in üzerinde yayını bulunmaktadır. Pegem Akademi Yayınları ile ilgili detaylı bilgilere <http://pegem.net> adresinden ulaşılabilmektedir.

49. Baskı: Temmuz 2023 Ankara

Proje-Yayın: Deniz Şahan

Dizgi-Grafik Tasarım: Arzu Orhan Kaya

Kapak Tasarımı: Pegem Akademi

Baskı: Vadi Grafik Tasarım ve Reklamcılık Ltd. Şti.

İvedik Org. San. 1420. Cad. No: 58/1

Yenimahalle/ANKARA

Tel: 0 312 395 85 71

Yayıncı Sertifika No: 51818

Matbaa Sertifika No: 47479

İletişim

Shira Ticaret Merkezi, Macun Mahallesi 204 Cad.

No: 141/33, Yenimahalle/Ankara

Yayınevi: 0312 430 67 50

Dağıtım: 0312 434 54 24

Hazırlık Kursları: 0312 419 05 60

İnternet: www.pegem.net

E-ileti: pegem@pegem.net

WhatsApp Hattı: 0538 594 92 40



ÖN SÖZ

Değerli Adaylar;

Bu kitap; Kamu Personel Seçme Sınavı (KPSS) Genel Yetenek Testinde önemli bir ağırlığı bulunan Sözel Akıl Yürütme, Dil Bilgisi ve Yazım Kuralları kapsamındaki **30 sorunun** hızlı ve hatasız bir şekilde çözümü hedeflenerek hazırlanmıştır. Sınavda başarılı olmanın ön koşulu konu eksiklerinin giderilmesinin ardından düzenli bir şekilde soru çözmektir. Yayınımız hem bu imkânı sağlayacak hem de Arti-Yapay Zekâ teknolojisi ile teknolojiden yararlanmanıza yardımcı olacaktır.

Kitabın çalışmalarınızda yararlı olmasını temenni eder, KPSS’de ve meslek hayatınızda başarılar dileriz.

Pegem Akademi



Kitabın baskı tarihinden sonra gerçekleşen değişikliklere aşağıda yer alan kodu okutarak ulaşabilirsiniz.



<https://depo.pegem.net/2024gygk-onlisans-turkce-sb-guncelleme.pdf>

TÜRKİYE'DE İLK DEFA TÜM KİTAPLAR YANINDA; CEPTE, TABLETTE VE MASANDA

Hibrit kitaplarda kullanıcılar;



- 1 Kitabın dijital formatına erişim sağlayabilir.
- 2 Testleri çözebilir.

Yapay zekâ, bırakılan etkileşimler sonrasında kullanıcıların başarı durumlarını tespit ederek karşılına bir analiz ekranı çıkarmaktadır.



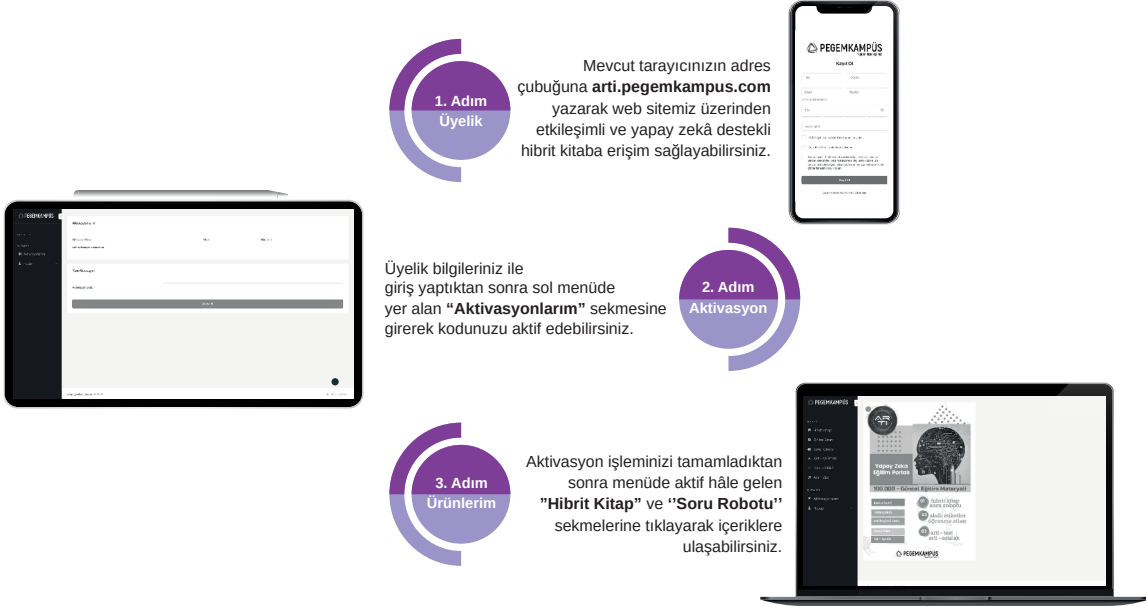
Detaylı anlatım için QR kodu okutunuz.

Soru robotunda kullanıcılar;

- 1 10.000+ soru içinden seçtikleri dersin seçtikleri konularından kendilerine testler oluşturabilir.
- 2 Çözdükleri sorular sonrasında Arti - ASİSTAN sekmesinde öğrenme durumlarına dair anahtar kelimeler ile başarılı/başarısız oldukları konuları detaylı olarak görüntüleyebilir.

Yapay zekâ, soruları çözmeye başladıkları andan itibaren kullanıcıların başarı durumlarını tespit edecektir.

Pegem Kampüs web sitesi üzerinden hibrit kitabınıza ve soru robotunuza erişebilmek için aşağıdaki adımları takip ediniz:



**Aktivasyon kodu kitabınızın ilk sayfasında yer almaktadır.
Aktivasyon kodu ile aktif ettiğiniz hibrit kitaba erişim 30.11.2024 tarihine kadar geçerlidir.**



**Pegem Kampüs İletişim Hattı
0312 418 51 55**



İÇİNDEKİLER

Test - 1 / Sözcükte Anlam – 1	1
Test - 2 / Sözcükte Anlam – 2	4
Test - 3 / Sözcükte Anlam – 3	7
Test - 4 / Sözcükte Anlam – 4	10
Test - 5 / Sözcükte Anlam – 5	13
Test - 6 / Cümlede Anlam – 1	16
Test - 7 / Cümlede Anlam – 2	19
Test - 8 / Cümlede Anlam – 3	22
Test - 9 / Cümlede Anlam – 4	25
Test - 10 / Cümlede Anlam – 5	28
Test - 11 / Anlatım Biçimleri – 1	31
Test - 12 / Anlatım Biçimleri – 2	34
Test - 13 / Anlatım Biçimleri – 3	38
Test - 14 / Paragrafın İçeriği	41
Test - 15 / Paragrafta Yardımcı Düşünceler	44
Test - 16 / Paragrafta Konu ve Düşünce	47
Test - 17 / Paragrafın Yapısı – 1	50
Test - 18 / Paragrafın Yapısı – 2	53
Test - 19 / Paragraf (Karma Test) – 1	56
Test - 20 / Paragraf (Karma Test) – 2	59
Test - 21 / Paragraf (Karma Test) – 3	62
Test - 22 / Paragraf (Karma Test) – 4	65
Test - 23 / Paragraf (Karma Test) – 5	68
Test - 24 / Parçaya Dayalı Sorular – 1	71
Test - 25 / Parçaya Dayalı Sorular – 2	74
Test - 26 / Ses Bilgisi – 1	77
Test - 27 / Ses Bilgisi – 2	80
Test - 28 / Yapı Bilgisi – 1	83
Test - 29 / Yapı Bilgisi – 2	86

İÇİNDEKİLER



Test - 30 / Sözcük Bilgisi – 1	89
Test - 31 / Sözcük Bilgisi – 2	92
Test - 32 / Sözcük Bilgisi-3	95
Test - 33 / Cümle Bilgisi – 1	98
Test - 34 / Cümle Bilgisi – 2	101
Test - 35 / Karma Dil Bilgisi	105
Test - 36 / Yazım Kuralları – 1	109
Test - 37 / Yazım Kuralları – 2	113
Test - 38 / Yazım Kuralları – 3	117
Test - 39 / Noktalama İşaretleri – 1	120
Test - 40 / Noktalama İşaretleri – 2	123
Test - 41 / Noktalama İşaretleri – 3	126
Test - 42 / Anlatım Bozukluğu – 1	129
Test - 43 / Anlatım Bozukluğu – 2	133
Test - 44 / Anlatım Bozukluğu – 3	137
Test - 45 / Sözel Mantık – 1	141
Test - 46 / Sözel Mantık –2	145
Test - 47 / Sözel Mantık – 3	149
Cevap Anahtarı	152

Sözcükte Anlam - I

1. Divan şiiiri; amacı düşündürmek olmayan, duyguları araç diye kullanan, gerçeğe yüz çevirmiş, sözcüklerle yapılan bir oyundur. Bakarsınız bir ozan, bir gazelin ilk beytinde söylediğinin karşısını söyleyiverir ikinci beytinde.

Bu parçadaki numaralanmış sözcüklerle ilgili olarak aşağıdaki açıklamalardan hangisi yanlıştır?

- A) I. söz, terimdir.
B) II. söz, gerçek anlamda kullanılmıştır.
C) III. söz, soyut anlamlıdır.
D) IV. söz, deyimdir.
E) V. söz, nicel anlamlıdır.

2.

- I. Sanırım bu sene satışlar beklediğimiz gibi iyi gitmiyor.
II. Konuşmalardan anladığım kadarıyla yanlış kitaplar okuyoruz.
III. Daha önce onlarla tam üç kez görüştüm.
IV. Öyle tahmin ediyorum ki bunlar akşama ancak gelir.
V. Yalnızca ve yalnızca iki kişi kalmıştık koca sınıftan.

Yukarıda altı çizili sözlerden hangi ikisi birbirleriyle yakın anlamlıdır?

- A) I. ve II. B) I. ve IV. C) II. ve III.
D) III. ve V. E) IV. ve V.

3. **Aşağıdaki cümlelerin hangisindeki altı çizili sözcükler anlamca birbirine en yakındır?**

- A) Yalnız yaşayan adam, sadece fener ışığının aydınlattığı karanlık gecelerde, şarkı söyleyerek korukunu yenmeye çalışırdı.
B) Resme biraz daha yaklaşıp şekillerin neye benzediğini anlamaya çalıştı.
C) Genç, garip davranışları ve sıra dışı düşünceleriyle dikkatleri üzerine çekmişti.
D) Çay içme zamanı gelmişti, bir ara gidip ocağı yaktı.
E) Eski albümde sakladığı küçük fotoğraf, bulunduğu yerden yırtılarak çıkarılmıştı.

4. **Aşağıdaki cümlelerin hangisinde altı çizili sözcük gerçek anlamıyla kullanılmamıştır?**

- A) Badem ağaçlarının gölgelendiği bu yolda uzun süre yürümüşük.
B) Gözlerinden süzülen yaşları çevresindekilere göstermeden silmeye çalıştı.
C) Tam uyumaya başlamıştı ki ani bir hareketle şoför frene bastı.
D) Odanın içine yansıyan ışık kanepede uyuyanları bir hayli rahatsız etmişti.
E) Ezilmişliğine aldırmadan gömleğinin yakasını düzeltti ve patronun odasına girdi.

5. Bir düşünce akımının kaynaklarını tüm imkânlarıyla saptamak, hele bu saptamanın doğruluğu üzerinde herkesin birleşmesini sağlamak olanaksız değilse de zor iştir.

"Kaynak" sözcüğü aşağıdaki cümlelerin hangisinde, bu cümledeki anlamıyla kullanılmıştır?

- A) Tezini bu kaynaklarla oluşturman olanaksız.
B) Gezegimizin ışık kaynağı Güneş'tir.
C) Kaynağını iyi bilmediğin düşüncelerden vazgeç!
D) Yer altı kaynaklarımızı değerlendirmeyi henüz öğrenemedik.
E) Ülkemizin kaynakları her geçen gün artıyor.

6. **Aşağıdakilerin hangisinde "gibi" sözcüğü cümleye zaman anlamı katmıştır?**

- A) Çıkış zilini duyduğu gibi kendini, kalabalık ve bu naltıcı sınıftan dışarı attı.
B) Başarılı olmak için o da kardeşi gibi düzenli çalışıyordu.
C) Onun kitabını okurken birçok okuyucu gibi ben de büyük zevk aldım.
D) Sizin de bildiğiniz gibi bu konudaki araştırmalar daha tamamlanmadı.
E) Her öğrencisiyle çocuğuymuş gibi ilgilenerek sınıfta sıcak bir hava yaratmayı biliyordu.



Sözükte Anlam - I

7. Sanat dünyasının üyeleri olarak sizlere düşen en önemli görevlerden biri, toplumsal sorunlara dikkat çekmektir; bu nedenle yapıtlarınızda topluma her hâl-de bir çözüm yolu göstermelisiniz.

Bu cümlede geçen altı çizili sözü anlamca karşılayacak kullanım aşağıdakilerin hangisinde vardır?

- A) Biraz tedirgin görünüyordu, muhtemelen sorumluluğu altında olan işte bir problem var.
B) İnsanlar genellikle bazı davranışlarının bilinçli bir sebebe dayanmadığının farkında olmaz.
C) Özellikle ergenlik çağındaki çocuklarda sıklıkla kimlik kargaşasına rast gelinir.
D) Hiç hesapta yokken ortaya çıkan yardım kolisinin ardındaki kişilerden biri de kesinlikle o idi.
E) Bu etkinlikte, dünyanın birçok bölgesinde gelişigüzel yapılaşma sorununa dikkat çekildi.

8. Bilim yan tutmaz, deriz. Öyle olması gerekir. Fakat doğa bilimleri dışında bilim adamlarının yansız davrandıklarını söyleyemeyiz. Yalnız, onların dilini biraz ağdalı bulduğumuzu saklamayacağız. Her bilim adamı, kültür ve uygarlık söz konusu olunca kendi ulusunu önde görmek ve göstermek eğilimindedir.

Bu parçadaki altı çizili sözcüklerin yerine sırasıyla aşağıdaki sözcüklerden hangileri getirilebilir?

- A) tutucudur – ölçülü
B) tarafsızdır – kararsız
C) özgündür – dikkatsiz
D) nesnelidir – karmaşık
E) mesafelidir – mantıksız
9. **Aşağıdaki dizelerin hangisinde karşıt anlamlı sözcükler kullanılmıştır?**
- A) Dalgın ve isteksiz, tablalarda balıklar Ağlamaklı bir hâli var istiridyelerin
B) Bir yerdeyiz uzaklara en yakın olduğumuz Sonsuzluğun kanımıza yürüdüğü o yerde
C) Sabahları ayaklarım zor taşıyor beni Sürüklenen bir çuval gibiyim caddede
D) Şimdi bütün umutlarım, hayallerim Sararmış ve kurumuş birer yaprak
E) Soğuk sularından içtim, serinledim Çağlayan bir nehrin sesini dinledim

10. Bir süre sonra kontrollere günaşırı gitmeye başladı.

Bu cümledeki altı çizili sözcüğün cümleye kattığı anlam aşağıdakilerden hangisinde vardır?

- A) Her gün aynı şeyleri iştikten çok sıkılmıştı.
B) Bu sokağı sevdiği için sık sık buradan geçirdi.
C) Ahmet, annesini görmeye iki günde bir gidiyordu.
D) Hiçbir zaman onun sevgisinden şüphelenmedim.
E) Kazandığı paraları yatırım amacıyla kullanacaktı.

11. “Tut-” sözcüğü, **aşağıdakilerin hangisinde “uygun gelmek, çalışmamak” anlamında kullanılmıştır?**

- A) Çalışmak, her yaşta insanı canlı tutar.
B) Büyükçe bir ev tutup bütün aile oraya taşındılar.
C) Kar sabaha kadar bu hızla yağarsa tutar.
D) Tuttuğu takım yenilince babam çok üzüldü.
E) Mahkemedeki tanıkların sözleri birbirini tutuyordu.

12. “Karanlık” sözcüğü **aşağıdakilerin hangisinde mecaz anlamıyla kullanılmıştır?**

- A) Karanlık bir geçmişle ne iş yapabiliirdi ki?
B) Ortalık ne kadar da karanlık, hiçbir şey görünmüyor.
C) Karanlıkta, pencerenin altından geçen askerler olurdu.
D) Karanlık çökmeye başlayınca şehirde yaşam dururdu.
E) Pencereden vuran ışık, odanın içindeki karanlığı dağıtana dek pencere açık kaldı.

13. **Aşağıdaki cümlelerde geçen altı çizili sözcüklerden hangisi mecaz anlamıyla kullanılmıştır?**

- A) Onun gibi bir adam böyle çığ bir hareket yapmamalıydı.
B) Fazla eşyalarını, acele acele valize doldurdu.
C) En sevdiği ve şifalı saydığı meyve ekşi elma idi.
D) Bu ağır çantanın içinde ne olduğunu kimse bilmiyor.
E) Koşarak basamaklara yaklaştı, merdiveni bir sokukta çıktı.

Bütün kitaplar cepte, tablette, masanda

KPSS
2024

Bu seti alan
adaylara ayrıca
Yapay Zekâ
destekli
10.000 soru
çözme hakkı
verilecektir.

Arti - Yapay
Zekâ Asistan

Dijital Öğrenme
Ayak İzi

Hibrit Kitap
Teknolojisi

GENEL YETENEK GENEL KÜLTÜR

Tamamı Çözümlü

SORU

BANKASI

MODÜLER SET

MATEMATİK GEOMETRİ



Hibrit kitaba erişebilmek
için QR kodu okutunuz.



PEGEM AKADEMİ



Komisyon

KPSS Lise ve Ön Lisans Matematik - Geometri Soru Bankası

ISBN 978-625-6890-25-1

Kitapta yer alan bölümlerin tüm sorumluluğu yazarlarına aittir.

© Pegem Akademi

Bu kitabın basım, yayım ve satış hakları Pegem Akademi Yay. Eğt. Dan. Hizm. Tic. AŞ'ye aittir. Anılan kuruluşun izni alınmadan kitabın tümü ya da bölümleri, kapak tasarımı; mekanik, elektronik, fotokopi, manyetik kayıt ya da başka yöntemlerle çoğaltılamaz, basılamaz ve dağıtılamaz. Bu kitap, T.C. Kültür ve Turizm Bakanlığı bandrolü ile satılmaktadır. Okuyucularımızın bandrolü olmayan kitaplar hakkında yayınevimize bilgi vermesini ve bandrolsüz yayınları satın almamasını diliyoruz.

Pegem Akademi Yayıncılık, 1998 yılından bugüne uluslararası düzeyde düzenli faaliyet yürüten uluslararası akademik bir yayınevdir. Yayımladığı kitaplar; Yükseköğretim Kurulunca tanınan yükseköğretim kurumlarının kataloglarında yer almaktadır. Dünyadaki en büyük çevrimiçi kamu erişim kataloğu olan WorldCat ve ayrıca Türkiye'de kurulan Turcademy.com tarafından yayınları taranmaktadır, indekslenmektedir. Aynı alanda farklı yazarlara ait 1000'in üzerinde yayını bulunmaktadır. Pegem Akademi Yayınları ile ilgili detaylı bilgilere <http://pegem.net> adresinden ulaşılabilir.

49. Baskı: Temmuz 2023 Ankara

Proje-Yayın: Deniz Şahan

Dizgi-Grafik Tasarım: Arzu Orhan Kaya

Kapak Tasarımı: Pegem Akademi

Baskı: Vadi Grafik Tasarım ve Reklamcılık Ltd. Şti.

İvedik Org. San. 1420. Cad. No: 58/1

Yenimahalle/ANKARA

Tel: 0 312 395 85 71

Yayıncı Sertifika No: 51818

Matbaa Sertifika No: 47479

İletişim

Shira Ticaret Merkezi, Macun Mahallesi 204 Cad.

No: 141/33, Yenimahalle/Ankara

Yayınevi: 0312 430 67 50

Dağıtım: 0312 434 54 24

Hazırlık Kursları: 0312 419 05 60

İnternet: www.pegem.net

E-ileti: pegem@pegem.net

WhatsApp Hattı: 0538 594 92 40



ÖN SÖZ

Değerli Adaylar;

Bu kitap, Kamu Personel Seçme Sınavı (KPSS) Genel Kültür Testinde önemli bir yer tutan **“Matematik ve Geometri”** kapsamındaki **30 soruyu** etkili bir şekilde çözebilmeniz amacıyla hazırlanmıştır. Sınavda başarılı olmanın ön koşulu konu eksiklerinin giderilmesinin ardından düzenli bir şekilde soru çözmektir. Yayınımız hem bu imkânı sağlayacak hem de Arti-Yapay Zekâ teknolojisi ile teknolojidenden yararlanmanıza yardımcı olacaktır.

Kitabın çalışmalarınızda yararlı olması dileğiyle, KPSS’de ve meslek hayatınızda başarılar.

Pegem Akademi



Kitabın baskı tarihinden sonra gerçekleşen değişikliklere aşağıda yer alan kodu okutarak ulaşabilirsiniz.



<https://depo.pegem.net/2024gygk-onlisans-matematikgeometri-sb-guncelleme.pdf>

TÜRKİYE'DE İLK DEFA TÜM KİTAPLAR YANINDA; CEPTE, TABLETTE VE MASANDA

Hibrit kitaplarda kullanıcılar;



1. Kitabın dijital formatına erişim sağlayabilir.
2. Testleri çözebilir.

Yapay zekâ, bırakılan etkileşimler sonrasında kullanıcıların başarı durumlarını tespit ederek karşılına bir analiz ekranı çıkarmaktadır.



Detaylı anlatım için QR kodu okutunuz.

Soru robotunda kullanıcılar;

1. 10.000+ soru içinden seçtikleri dersin seçtikleri konularından kendilerine testler oluşturabilir.
2. Çözdükleri sorular sonrasında Arti - ASİSTAN sekmesinde öğrenme durumlarına dair anahtar kelimeler ile başarılı/başarısız oldukları konuları detaylı olarak görüntüleyebilir.

Yapay zekâ, soruları çözmeye başladıkları andan itibaren kullanıcıların başarı durumlarını tespit edecektir.

Pegem Kampüs web sitesi üzerinden hibrit kitabınıza ve soru robotunuza erişebilmek için aşağıdaki adımları takip ediniz:



Aktivasyon kodu kitabınızın ilk sayfasında yer almaktadır.
Aktivasyon kodu ile aktif ettiğiniz hibrit kitaba erişim 30.11.2024 tarihine kadar geçerlidir.



Pegem Kampüs İletişim Hattı
0312 418 51 55



İÇİNDEKİLER

MATEMATİK

Test - 1 / Doğal Sayı - Tam Sayı - 1	1
Test - 2 / Doğal Sayı - Tam Sayı - 2	5
Test - 3 / Tek Sayı - Çift Sayı - Pozitif Sayı - Negatif Sayı.....	9
Test - 4 / Ardışık Sayılar	13
Test - 5 / Basamak Analizi - Çözümleme.....	17
Test - 6 / Asal Sayı - Asal Çarpanlara Ayırma - Faktöriyel	21
Test - 7 / Bölme - Bölünebilme Kuralları	25
Test - 8 / EBOB - EKOK.....	29
Test - 9 / Rasyonel Sayılar.....	33
Test - 10 / Ondalık Sayılar - Sıralama.....	37
Test - 11 / 1. Dereceden Denklemler	41
Test - 12 / Eşitsizlik.....	45
Test - 13 / Mutlak Değer	49
Test - 14 / Üslü İfadeler	53
Test - 15 / Köklü İfadeler	57
Test - 16 / Çarpanlara Ayırma - 1	61
Test - 17 / Çarpanlara Ayırma - 2.....	65
Test - 18 / Oran - Orantı - 1	69
Test - 19 / Oran - Orantı - 2.....	74
Test - 20 / Denklem Kurma Problemleri - 1	78
Test - 21 / Denklem Kurma Problemleri - 2.....	82
Test - 22 / Kesir Problemleri	86
Test - 23 / Yaş Problemleri.....	91
Test - 24 / Yüzde - Faiz Problemleri.....	95
Test - 25 / Kâr - Zarar Problemleri	99
Test - 26 / Karışım Problemleri.....	103
Test - 27 / İşçi - Havuz Problemleri	108
Test - 28 / Hareket Problemleri	113
Test - 29 / Kümeler	118
Test - 30 / Fonksiyonlar	122
Test - 31 / İşlem.....	126

İÇİNDEKİLER



Test - 32 / Modüler Aritmetik.....	130
Test - 33 / Permütasyon - Kombinasyon.....	135
Test - 34 / Olasılık.....	139
Test - 35 / Tablo - Grafik Yorumlama - 1.....	143
Test - 36 / Tablo - Grafik Yorumlama - 2.....	147
Test - 37 / Tablo - Grafik Yorumlama - 3.....	151
Test - 38 / Sayısal Mantık - 1.....	154
Test - 39 / Sayısal Mantık - 2.....	159
Test - 40 / Sayısal Mantık - 3.....	164
Test - 41 / Sayısal Mantık - 4.....	167

GEOMETRİ

Test - 1 / Doğruda Açılış.....	173
Test - 2 / Üçgende Açılış.....	178
Test - 3 / Üçgende Açılış - Kenar Bağıntıları.....	182
Test - 4 / Dik Üçgen.....	186
Test - 5 / Özel Üçgenler.....	190
Test - 6 / Üçgende Alan.....	194
Test - 7 / Üçgende Açılış - Kenarortay.....	198
Test - 8 / Üçgende Benzerlik.....	202
Test - 9 / Üçgende Benzerlik ve Alan.....	206
Test - 10 / Çokgenler - Dörtgenler.....	211
Test - 11 / Paralelkenar - Eşkenar Dörtgen.....	215
Test - 12 / Dikdörtgen.....	219
Test - 13 / Kare.....	223
Test - 14 / Yamuk - Deltoid.....	227
Test - 15 / Çemberde Açılış.....	231
Test - 16 / Çemberde Uzunluk.....	235
Test - 17 / Dairede Alan.....	239
Test - 18 / Analitik Geometri - 1.....	243
Test - 19 / Analitik Geometri - 2.....	247
Test - 20 / Katı Cisim.....	251
Cevap Anahtarı.....	255



Doğal Sayı - Tam Sayı - I

1. x, y ve z birbirinden farklı rakamlar olmak üzere, $2x - y + z$ ifadesinin en büyük değeri kaçtır?

A) 27 B) 26 C) 25 D) 24 E) 23

2. m ve n birbirinden farklı iki rakamdır.
 $\frac{m}{5} + \frac{n}{3}$ toplamının sonucunu tam sayı yapan kaç farklı (m, n) ikilisi vardır?

A) 10 B) 9 C) 8 D) 7 E) 6

3. a ve b doğal sayıdır.
 $a + b = 17$ olduğuna göre a 'nın alabileceği kaç değer vardır?

A) 16 B) 17 C) 18 D) 19 E) 20

4. a ve b doğal sayılardır.
 $a + b = 27$ olduğuna göre, $a \cdot b$ çarpımı en çok kaçtır?

A) 174 B) 176 C) 180 D) 182 E) 190

5. x ve y doğal sayılardır.
 $x \cdot y = 30$ olduğuna göre, $x + y$ 'nin en küçük değeri kaçtır?

A) 11 B) 13 C) 15 D) 17 E) 31

6. x ve y pozitif tam sayılar ve m bir gerçel sayıdır.

$$x = 6 + m$$

$$y = 4 - m$$

olduğuna göre, $x \cdot y$ çarpımının alabileceği en büyük değer kaçtır?

A) 21 B) 24 C) 25 D) 30 E) 36

7. x, y ve z sıfırdan farklı birer tam sayıdır.

$2x - y = z$ olduğuna göre, $x + y + z$ toplamı aşağıdakilerden hangisi olamaz?

A) 15 B) 22 C) 24 D) 33 E) 36

8. a, b ve c pozitif tam sayılardır.

$$a \cdot b = 4$$

$$b \cdot c = 12$$

olduğuna göre, $a + b + c$ toplamının en küçük değeri kaçtır?

A) 6 B) 8 C) 10 D) 12 E) 17

9. x, y ve z pozitif tam sayıdır.

$$3x = 5y$$

$$2y = 3z$$

olduğuna göre, y aşağıdakilerden hangisi olabilir?

A) 9 B) 8 C) 7 D) 5 E) 4



Doğal Sayı - Tam Sayı - I

10. m ve n doğal sayılardır.

$m + n = 12$ olduğuna göre, $\frac{1}{m} + \frac{1}{n}$ toplamının en küçük değeri kaçtır?

- A) $\frac{12}{11}$ B) $\frac{3}{5}$ C) $\frac{12}{35}$ D) $\frac{1}{3}$ E) $\frac{3}{8}$

11. $\frac{8}{a+2}$

işleminin sonucunun bir doğal sayı olabilmesi için a doğal sayısının alabileceği kaç farklı değer vardır?

- A) 1 B) 2 C) 3 D) 4 E) 5

12. x, y ve z birer pozitif tam sayıdır.

$y(x + z) = 23$ olduğuna göre, x + y + z toplamı kaçtır?

- A) 21 B) 22 C) 23 D) 24 E) 25

13. a gerçel (reel) sayı olmak üzere, $3a + 19$ ifadesi en küçük pozitif doğal sayıya eşit olduğuna göre, a kaçtır?

- A) -6 B) -5 C) $\frac{11}{3}$ D) $\frac{10}{3}$ E) -3

14. a ve b birbirinden farklı doğal sayılardır.

$$a + b = 8$$

olduğuna göre, $5a + 4b$ toplamı en az kaçtır?

- A) 31 B) 32 C) 33 D) 34 E) 35

15. x ve y pozitif tam sayılardır.

$$x + \frac{14}{y} = 8$$

olduğuna göre, x'in alabileceği değerler toplamı kaçtır?

- A) 14 B) 13 C) 12 D) 11 E) 10

16. a, b ve c pozitif doğal sayılardır.

$$\frac{a}{4} = \frac{6}{b} = c$$

olduğuna göre, a + b + c toplamı en çok kaçtır?

- A) 31 B) 32 C) 33 D) 34 E) 35

17. Bir doğal sayının rakamları toplamı, bu doğal sayının basamak sayısının 1 fazlasına eşit ise bu doğal sayıya uyumsuz sayı denir.

Buna göre, üç basamaklı kaç tane uyumsuz sayı vardır?

- A) 8 B) 9 C) 10 D) 11 E) 12

18. x, y, z birer rakam olmak üzere

$$\begin{array}{r} xyx \\ + xzx \\ \hline 7xy \end{array}$$

olduğuna göre, z kaçtır?

- A) 4 B) 5 C) 6 D) 7 E) 8

Bütün kitaplar cepte, tablette, masanda

KPSS
2024

Bu seti alan
adaylara ayrıca
Yapay Zekâ
destekli
10.000 soru
çözme hakkı
verilecektir.

Arti - Yapay
Zekâ Asistan

Dijital Öğrenme
Ayak İzi

Hibrit Kitap
Teknolojisi

GENEL YETENEK GENEL KÜLTÜR

Tamamı Çözümlü

SORU

BANKASI

MODÜLER SET

TARİH



Hibrit kitaba erişebilmek
için QR kodu okutunuz.

PEGEM AKADEMİ



Komisyon
KPSS Lise ve Ön Lisans Tarih Soru Bankası

ISBN 978-625-6890-25-1

Kitapta yer alan bölümlerin tüm sorumluluğu yazarlarına aittir.

© Pegem Akademi

Bu kitabın basım, yayım ve satış hakları Pegem Akademi Yay. Eğt. Dan. Hizm. Tic. AŞ'ye aittir. Anılan kuruluşun izni alınmadan kitabın tümü ya da bölümleri, kapak tasarımı; mekanik, elektronik, fotokopi, manyetik kayıt ya da başka yöntemlerle çoğaltılamaz, basılamaz ve dağıtılamaz. Bu kitap, T.C. Kültür ve Turizm Bakanlığı bandrolü ile satılmaktadır. Okuyucularımızın bandrolü olmayan kitaplar hakkında yayinevimize bilgi vermesini ve bandrolsüz yayınları satın almamasını diliyoruz.

Pegem Akademi Yayıncılık, 1998 yılından bugüne uluslararası düzeyde düzenli faaliyet yürüten uluslararası akademik bir yayınevidir. Yayımladığı kitaplar; Yükseköğretim Kurulunca tanınan yükseköğretim kurumlarının kataloglarında yer almaktadır. Dünyadaki en büyük çevrimiçi kamu erişim kataloğu olan WorldCat ve ayrıca Türkiye'de kurulan Turcademy.com tarafından yayınları taranmaktadır, indekslenmektedir. Aynı alanda farklı yazarlara ait 1000'in üzerinde yayını bulunmaktadır. Pegem Akademi Yayınları ile ilgili detaylı bilgilere <http://pegem.net> adresinden ulaşılabilmektedir.

49. Baskı: Temmuz 2023 Ankara

Proje-Yayın: Deniz Şahan
Dizgi-Grafik Tasarım: Arzu Orhan Kaya
Kapak Tasarımı: Pegem Akademi

Baskı: Vadi Grafik Tasarım ve Reklamcılık Ltd. Şti.
İvedik Org. San. 1420. Cad. No: 58/1
Yenimahalle/ANKARA
Tel: 0 312 395 85 71

Yayıncı Sertifika No: 51818
Matbaa Sertifika No: 47479

İletişim

Shira Ticaret Merkezi, Macun Mahallesi 204 Cad.
No: 141/33, Yenimahalle/Ankara
Yayınevi: 0312 430 67 50
Dağıtım: 0312 434 54 24
Hazırlık Kursları: 0312 419 05 60
İnternet: www.pegem.net
E-ileti: pegem@pegem.net
WhatsApp Hattı: 0538 594 92 40



ÖN SÖZ

Değerli Adaylar;

Bu kitap; Kamu Personel Seçme Sınavı (KPSS) Genel Kültür Testinde önemli bir ağırlığı bulunan **Tarih** kapsamındaki **27 soru**nun hızlı ve hatasız bir şekilde çözümü hedeflenerek hazırlanmıştır. Sınavda başarılı olmanın ön koşulu konu eksiklerinin giderilmesinin ardından düzenli bir şekilde soru çözmektir. Yayınımız hem bu imkânı sağlayacak hem de Arti-Yapay Zekâ teknolojisi ile teknolojidten yararlanmanıza yardımcı olacaktır.

Kitabın çalışmalarınızda yararlı olmasını temenni eder, KPSS’de ve meslek hayatınızda başarılar dileriz.

Pegem Akademi



Kitabın baskı tarihinden sonra gerçekleşen değişikliklere aşağıda yer alan kodu okutarak ulaşabilirsiniz.



<https://depo.pegem.net/2024gygk-onlisans-tarih-sb-guncelleme.pdf>



TÜRKİYE'DE İLK DEFA TÜM KİTAPLAR YANINDA; CEPTE, TABLETTE VE MASANDA

Hibrit kitaplarda kullanıcılar;



- 1 Kitabın dijital formatına erişim sağlayabilir.
- 2 Testleri çözebilir.

Yapay zekâ, bırakılan etkileşimler sonrasında kullanıcıların başarı durumlarını tespit ederek karşılına bir analiz ekranı çıkarmaktadır.



Detaylı anlatım için QR kodu okutunuz.

Soru robotunda kullanıcılar;

- 1 10.000+ soru içinden seçtikleri dersin seçtikleri konularından kendilerine testler oluşturabilir.
- 2 Çözdükleri sorular sonrasında Arti - ASİSTAN sekmesinde öğrenme durumlarına dair anahtar kelimeler ile başarılı/başarısız oldukları konuları detaylı olarak görüntüleyebilir.

Yapay zekâ, soruları çözmeye başladıkları andan itibaren kullanıcıların başarı durumlarını tespit edecektir.

Pegem Kampüs web sitesi üzerinden hibrit kitabınıza ve soru robotunuza erişebilmek için aşağıdaki adımları takip ediniz:



**Aktivasyon kodu kitabınızın ilk sayfasında yer almaktadır.
Aktivasyon kodu ile aktif ettiğiniz hibrit kitaba erişim 30.11.2024 tarihine kadar geçerlidir.**



**Pegem Kampüs İletişim Hattı
0312 418 51 55**



İÇİNDEKİLER

Test - 1 / İslamiyet Öncesi Türk Tarihi - 1.....	1
Test - 2 / İslamiyet Öncesi Türk Tarihi - 2.....	5
Test - 3 / İslamiyet Öncesi Türk Tarihi - 3.....	9
Test - 4 / Türk - İslam Tarihi - 1.....	13
Test - 5 / Türk - İslam Tarihi - 2.....	17
Test - 6 / Türk - İslam Tarihi - 3.....	21
Test - 7 / Türkiye Tarihi - 1.....	25
Test - 8 / Türkiye Tarihi - 2.....	29
Test - 9 / Türkiye Tarihi - 3.....	33
Test - 10 / Osmanlı Kuruluş Dönemi (Beylikten Devlete).....	37
Test - 11 / Osmanlı Yükselme Dönemi (Dünya Gücü: Osmanlı Devleti).....	41
Test - 12 / Osmanlı Kültür ve Medeniyeti - 1.....	45
Test - 13 / Osmanlı Kültür ve Medeniyeti - 2.....	49
Test - 14 / Osmanlı Kültür ve Medeniyeti - 3.....	53
Test - 15 / Osmanlı Kültür ve Medeniyeti - 4.....	57
Test - 16 / Osmanlı Duraklama Dönemi Siyasi Tarihi (Arayış Yılları).....	61
Test - 17 / Osmanlı Gerileme Dönemi Siyasi Tarihi (XVIII. Yüzyılda Osmanlı).....	65
Test - 18 / Osmanlı Yenileşme ve Demokratikleşme Hareketleri - 1.....	69
Test - 19 / Osmanlı Yenileşme ve Demokratikleşme Hareketleri - 2.....	73
Test - 20 / Osmanlı Yenileşme ve Demokratikleşme Hareketleri - 3.....	77
Test - 21 / Osmanlı Yenileşme ve Demokratikleşme Hareketleri - 4.....	81
Test - 22 / Osmanlı Yenileşme ve Demokratikleşme Hareketleri - 5.....	85
Test - 23 / Osmanlı Yenileşme ve Demokratikleşme Hareketleri - 6.....	89
Test - 24 / Avrupa Tarihi.....	93
Test - 25 / XX. Yüzyılda Osmanlı Devleti - 1.....	97
Test - 26 / XX. Yüzyılda Osmanlı Devleti - 2.....	101
Test - 27 / I. Dünya Savaşı - 1.....	105
Test - 28 / I. Dünya Savaşı - 2.....	109
Test - 29 / Mondros Ateşkes Anlaşması ve Cemiyetler.....	113
Test - 30 / Kurtuluş Savaşı Hazırlık Dönemi (Genelgeler - Kongreler) - 1.....	117
Test - 31 / Kurtuluş Savaşı Hazırlık Dönemi (Genelgeler - Kongreler) - 2.....	121
Test - 32 / Kurtuluş Savaşı Hazırlık Dönemi (Genelgeler - Kongreler) - 3.....	125
Test - 33 / Kurtuluş Savaşı Hazırlık Dönemi (Genelgeler - Kongreler) - 4.....	129

İÇİNDEKİLER



Test - 34 / I. TBMM Dönemi - 1	133
Test - 35 / I. TBMM Dönemi - 2	138
Test - 36 / Kurtuluş Savaşı (Muharebeler - Antlaşmalar) Dönemi - 1	143
Test - 37 / Kurtuluş Savaşı (Muharebeler - Antlaşmalar) Dönemi - 2	146
Test - 38 / Kurtuluş Savaşı (Muharebeler - Antlaşmalar) Dönemi - 3	150
Test - 39 / Kurtuluş Savaşı (Muharebeler - Antlaşmalar) Dönemi - 4	154
Test - 40 / Atatürk İnkılapları - 1	157
Test - 41 / Atatürk İnkılapları - 2	161
Test - 42 / Atatürk İnkılapları - 3	165
Test - 43 / Atatürk İnkılapları - 4	169
Test - 44 / Atatürk İnkılapları - 5	173
Test - 45 / Atatürk İnkılapları - 6	177
Test - 46 / Atatürk İlkeleri - 1	181
Test - 47 / Atatürk İlkeleri - 2	186
Test - 48 / Atatürk İlkeleri - 3	190
Test - 49 / Atatürk İlkeleri - 4	193
Test - 50 / Türk Dış Politikası ve II. Dünya Savaşı - 1	197
Test - 51 / Türk Dış Politikası ve II. Dünya Savaşı - 2	201
Test - 52 / Türk Dış Politikası ve II. Dünya Savaşı - 3	204
Test - 53 / XX. Yüzyılın Başlarında Dünya	207
Test - 54 / Soğuk Savaş Dönemi	211
Test - 55 / Yumuşama Dönemi	215
Test - 56 / Küreselleşen Dünya	219
Test - 57 / Karma Test - 1	223
Test - 58 / Karma Test - 2	227
Test - 59 / Karma Test - 3	231
Test - 60 / Karma Test - 4	235
Test - 61 / Karma Test - 5	239
Test - 62 / Karma Test - 6	243
Test - 63 / Karma Test - 7	247
Test - 64 / Karma Test - 8	251
Cevap Anahtarı	255

İslamiyet Öncesi Türk Tarihi – I

1.

- I. Hun
II. Göktürk
III. Uygur

Yukarıdaki Türk devletlerinden hangilerinin kendilerine özgü alfabeleri vardır?

- A) Yalnız I B) Yalnız III C) I ve II
D) II ve III E) I, II ve III

2. **Uygurları, Göktürk ve Hun Devleti'nden ayıran özellikler arasında aşağıdakilerden hangisi gösterilemez?**

- A) Yerleşik hayata geçmeleri
B) Maniheizm dinini benimsemeleri
C) Verasetle yönetilmeleri
D) Matbaayı kullanmaları
E) Kalıcı mimari eserler bırakmaları

3. **Aşağıdakilerden hangisinde Töre'yi oluşturan üç ana kaynak bir arada doğru olarak verilmiştir?**

- A) Boy – Budun – İl
B) Tengri – Han – Hatun
C) Halk – Kurultay – Hakan
D) Buyruk – Tudun – Toy
E) Han – Hatun – Buyruk

4. **Aşağıdakilerden hangisi İslamiyet öncesi Türk devletlerinin özellikleri arasında gösterilemez?**

- A) Gök Tanrı inancına sahip olmaları
B) Devlet işlerini Kurultayda görüşmeleri
C) Ölümden sonra yaşam inancına sahip olmaları
D) İkili teşkilatla yönetilmeleri
E) Güçlü bir merkezî otorite benimsemeleri

5. Türkler çeşitli nedenlerle ana yurtlarından göç etmek zorunda kalmışlardır.

Aşağıdakilerden hangisi Türk göçlerinin ekonomik nedenleri arasında gösterilemez?

- A) Kuraklık
B) Otlakların azalması
C) Yağışların yetersizliği
D) Cihan hâkimiyeti düşüncesi
E) Nüfusun artışı

6. **Yabancı devletlerle yapılan savaşlarda başarılı olamayan Türklerin, başka kavimlerin yönetimi altında yaşamayı reddederek göç etmeleri aşağıdakilerden hangisine verdiği önemi gösterir?**

- A) Bağımsızlık
B) Egemenlik
C) Yayılmacılık
D) Cihan hakimiyeti
E) Ordu – millet anlayışı

7.

- Siyasi başarılarından çok kültürel faaliyetleriyle tanınmışlardır.
- Stupa adı verilen kubbeli tapınaklar inşa etmişlerdir.
- Sulama kanalları açarak tarımsal üretim yapmışlardır.

Yukarıda özellikleri verilen Türk devleti aşağıdakilerden hangisidir?

- A) Hun B) Kutluk C) Uygur
D) Kıpçak E) Göktürk

8. **Kutluk Devleti'ne ait Türk kültür ve medeniyeti ile toplum hayatı hakkında bilgi veren millî bir ruhla oluşturulmuş ilk yazılı belge aşağıdakilerden hangisidir?**

- A) Orhun Yazıtları
B) Yenisey Yazıtları
C) Karabalgasun Yazıtları
D) Manas Destanı
E) Ergenekon Destanı



İslamiyet Öncesi Türk Tarihi - I

9. Büyük Hun Devleti ile Çinliler arasında yapılan mücadelelerin temel sebebi aşağıdakilerden hangisidir?

- A) İpek Yolu'na egemen olma isteği
- B) Cihan hâkimiyeti düşüncesi
- C) Cihat anlayışı
- D) Çin'in yayılmacı politikası
- E) Çıkar çatışmaları

10.

- I. Hun
- II. Avar
- III. Macar

Yukarıdaki devletlerden hangileri hem Orta Asya'da hem de Avrupa'da kurulan Türk devletleri arasında gösterilebilir?

- A) Yalnız I
- B) Yalnız II
- C) I ve II
- D) II ve III
- E) I, II ve III

11. Aşağıdakilerden hangisi Kurultay üyeleri arasında yer almaz?

- A) Hükümdar
- B) Yabgu
- C) Buyruk
- D) Hatun
- E) Baksı

12. Devletin her türlü siyasi, sosyal ve ekonomik sorunlarının görüşüldüğü meclise kurultay denirdi.

Kurultay üyelerine verilen isim aşağıdakilerden hangisidir?

- A) Şad
- B) Kengeş
- C) Toygun
- D) Tarkan
- E) Toy

13. Aşağıdaki kavramlardan hangisinin açıklaması yanlış verilmiştir?

- A) Buyruk – Bakan
- B) Tarkan – Askerî görevli
- C) Tudun – Vergi memuru
- D) Tigin – Hükümdarın erkek çocuğu
- E) Bitikçi – Yargıç

14. Türklere ait olan dünyanın en eski halısı aşağıdakilerden hangisinde ortaya çıkarılmıştır?

- A) Pazırık kurganında
- B) Andronova'da
- C) Tagar'da
- D) Esik kurganında
- E) Çatalhöyük'te

15.

- I. Kopuz
- II. Çevgan
- III. Kithara

Yukarıdakilerden hangileri İslamiyet öncesi önemli Türk enstrümanları arasında gösterilebilir?

- A) Yalnız I
- B) Yalnız II
- C) I ve II
- D) II ve III
- E) I, II ve III

16.

- I. Bedizci
- II. Fresko
- III. Kopuz

Orta Asya Türk kültürü içinde yer alan yukarıdaki kavramlardan hangileri sanatla ilgilidir?

- A) Yalnız I
- B) Yalnız II
- C) Yalnız III
- D) II ve III
- E) I, II ve III

17. İslamiyet öncesi Türk topluluklarında kölelik anlayışının görülmemesi;

- I. yazılı hukukun gelişmemiş olması,
- II. özel mülkiyet anlayışının gelişmemiş olması,
- III. göçebe bir yaşamın benimsenmiş olması

durumlarından hangileriyle açıklanabilir?

- A) Yalnız II
- B) I ve II
- C) I ve III
- D) II ve III
- E) I, II ve III

Bütün kitaplar cepte, tablette, masanda

KPSS
2024

Bu seti alan
adaylara ayrıca
Yapay Zekâ
destekli
10.000 soru
çözme hakkı
verilecektir.

Arti - Yapay
Zekâ Asistan

Dijital Öğrenme
Ayak İzi

Hibrit Kitap
Teknolojisi

GENEL YETENEK GENEL KÜLTÜR

Tamamı Çözümlü

SORU

BANKASI

MODÜLER SET

COĞRAFYA



Hibrit kitaba erişebilmek
için QR kodu okutunuz.



PEGEM AKADEMİ



Komisyon
KPSS Lise ve Ön Lisans Coğrafya Soru Bankası

ISBN 978-625-6890-25-1

Kitapta yer alan bölümlerin tüm sorumluluğu yazarlarına aittir.

© Pegem Akademi

Bu kitabın basım, yayım ve satış hakları Pegem Akademi Yay. Eğt. Dan. Hizm. Tic. AŞ'ye aittir. Anılan kuruluşun izni alınmadan kitabın tümü ya da bölümleri, kapak tasarımı; mekanik, elektronik, fotokopi, manyetik kayıt ya da başka yöntemlerle çoğaltılamaz, basılamaz ve dağıtılamaz. Bu kitap, T.C. Kültür ve Turizm Bakanlığı bandrolü ile satılmaktadır. Okuyucularımızın bandrolü olmayan kitaplar hakkında yayınevimize bilgi vermesini ve bandrolsüz yayınları satın almamasını diliyoruz.

Pegem Akademi Yayıncılık, 1998 yılından bugüne uluslararası düzeyde düzenli faaliyet yürüten uluslararası akademik bir yayınevidir. Yayımladığı kitaplar; Yükseköğretim Kurulunca tanınan yükseköğretim kurumlarının kataloglarında yer almaktadır. Dünyadaki en büyük çevrimiçi kamu erişim kataloğu olan WorldCat ve ayrıca Türkiye'de kurulan Turcademy.com tarafından yayınları taranmaktadır, indekslenmektedir. Aynı alanda farklı yazarlara ait 1000'in üzerinde yayını bulunmaktadır. Pegem Akademi Yayınları ile ilgili detaylı bilgilere <http://pegem.net> adresinden ulaşılabilmektedir.

49. Baskı: Temmuz 2023 Ankara

Proje-Yayın: Deniz Şahan
Dizgi-Grafik Tasarım: Arzu Orhan Kaya
Kapak Tasarımı: Pegem Akademi

Baskı: Vadi Grafik Tasarım ve Reklamcılık Ltd. Şti.
İvedik Org. San. 1420. Cad. No: 58/1
Yenimahalle/ANKARA
Tel: 0 312 395 85 71

Yayıncı Sertifika No: 51818
Matbaa Sertifika No: 47479

İletişim

Shira Ticaret Merkezi, Macun Mahallesi 204 Cad.
No: 141/33, Yenimahalle/Ankara
Yayınevi: 0312 430 67 50
Dağıtım: 0312 434 54 24
Hazırlık Kursları: 0312 419 05 60
İnternet: www.pegem.net
E-ileti: pegem@pegem.net
WhatsApp Hattı: 0538 594 92 40



ÖN SÖZ

Değerli Adaylar;

Bu kitap Kamu Personel Seçme Sınavı (KPSS) Genel Kültür Testinde önemli bir yer tutan “**Coğrafya**” kapsamındaki **18 soruyu** etkili bir şekilde **çözebilmeniz amacıyla hazırlanmıştır**. Sınavda başarılı olmanın ön koşulu konu eksiklerinin giderilmesinin ardından düzenli bir şekilde soru çözmektir. Yayınımız hem bu imkânı sağlayacak hem de Arti-Yapay Zekâ teknolojisi ile teknolojiyen yararlanmanıza yardımcı olacaktır.

Kitabın çalışmalarınızda yararlı olması dileğiyle, KPSS’de ve meslek hayatınızda başarılar.

Pegem Akademi



Kitabın baskı tarihinden sonra gerçekleşen değişikliklere aşağıda yer alan kodu okutarak ulaşabilirsiniz.



<https://depo.pegem.net/2024gygk-onlisans-cografya-sb-guncelleme.pdf>

TÜRKİYE'DE İLK DEFA TÜM KİTAPLAR YANINDA; CEPTE, TABLETTE VE MASANDA

Hibrit kitaplarda kullanıcılar;



- 1 Kitabın dijital formatına erişim sağlayabilir.
- 2 Testleri çözebilir.

Yapay zekâ, bırakılan etkileşimler sonrasında kullanıcıların başarı durumlarını tespit ederek karşılına bir analiz ekranı çıkarmaktadır.



Soru robotunda kullanıcılar;

- 1 10.000+ soru içinden seçtikleri dersin seçtikleri konularından kendilerine testler oluşturabilir.
- 2 Çözdükleri sorular sonrasında Arti - ASİSTAN sekmesinde öğrenme durumlarına dair anahtar kelimeler ile başarılı/başarısız oldukları konuları detaylı olarak görüntüleyebilir.

Yapay zekâ, soruları çözmeye başladıkları andan itibaren kullanıcıların başarı durumlarını tespit edecektir.

Pegem Kampüs web sitesi üzerinden hibrit kitabınıza ve soru robotunuza erişebilmek için aşağıdaki adımları takip ediniz:



**Aktivasyon kodu kitabınızın ilk sayfasında yer almaktadır.
Aktivasyon kodu ile aktif ettiğiniz hibrit kitaba erişim 30.11.2024 tarihine kadar geçerlidir.**



**Pegem Kampüs İletişim Hattı
0312 418 51 55**



İÇİNDEKİLER

Test 1 / Türkiye'nin Matematik (Mutlak) ve Özel (Göreceli) Konumu - 1	1
Test 2 / Türkiye'nin Matematik (Mutlak) ve Özel (Göreceli) Konumu - 2	5
Test 3 / Türkiye'nin Matematik (Mutlak) ve Özel (Göreceli) Konumu - 3	10
Test 4 / Türkiye'nin Matematik (Mutlak) ve Özel (Göreceli) Konumu - 4	15
Test 5 / Türkiye'de Dağlar	19
Test 6 / Türkiye'nin Ovaları ve Platoları	23
Test 7 / Türkiye'nin Akarsuları ve Akarsularının Genel Özellikleri - 1	27
Test 8 / Türkiye'nin Akarsuları ve Akarsularının Genel Özellikleri - 2	31
Test 9 / Türkiye'nin Diğer Yer Şekilleri (Rüzgârlar, Buzullar, Karstik Yer Şekilleri ve Kıyı Tipleri)	35
Test 10 / Türkiye'nin Yer Altı Kaynakları, Barajlar, Göller ve Denizleri - 1	38
Test 11 / Türkiye'nin Yer Altı Kaynakları, Barajlar, Göller ve Denizleri - 2	41
Test 12 / Türkiye'de Erozyon, Heyelan ve Toprak - 1	45
Test 13 / Türkiye'de Erozyon, Heyelan ve Toprak - 2	49
Test 14 / Türkiye'de Yer Şekilleri - Tarama 1	52
Test 15 / Türkiye'de Yer Şekilleri - Tarama 2	56
Test 16 / Türkiye'de Yer Şekilleri - Tarama 3	61
Test 17 / Türkiye'de İklim Elemanları (Sıcaklık, Rüzgâr ve Yağış)	66
Test 18 / Türkiye'nin İklimi ve Bitki Örtüsü - 1	69
Test 19 / Türkiye'nin İklimi ve Bitki Örtüsü - 2	74
Test 20 / Türkiye'nin İklim ve Bitki Örtüsü - Tarama 1	77
Test 21 / Türkiye'nin İklim ve Bitki Örtüsü - Tarama 2	83
Test 22 / Türkiye'nin Fiziki Coğrafyası Karma - 1	89
Test 23 / Türkiye'nin Fiziki Coğrafyası Karma - 2	92
Test 24 / Türkiye'de Nüfus Özellikleri ve Nüfusun Dağılışı	95
Test 25 / Türkiye'de Şehirler, Göçler ve Yerleşme	99
Test 26 / Türkiye'de Nüfus ve Yerleşme - Tarama 1	104
Test 27 / Türkiye'de Nüfus ve Yerleşme - Tarama 2	108
Test 28 / Türkiye'de Nüfus ve Yerleşme - Tarama 3	113
Test 29 / Türkiye'de Tarım	118

İÇİNDEKİLER



Test 30 / Türkiye'de Tarım ve Hayvancılık	121
Test 31 / Tarım ve Hayvancılık - Tarama 1	125
Test 32 / Tarım ve Hayvancılık - Tarama 2.....	130
Test 33 / Türkiye'de Sanayi, Ticaret ve Ormanlık.....	135
Test 34 / Türkiye'de Madenler ve Enerji Kaynakları	138
Test 35 / Türkiye'de Turizm ve Ulaşım.....	141
Test 36 / Ekonomik Coğrafya - Tarama 1.....	144
Test 37 / Ekonomik Coğrafya - Tarama 2.....	148
Test 38 / Türkiye'nin Kıyı Bölgeleri - Tarama 1	153
Test 39 / Türkiye'nin Kıyı Bölgeleri - Tarama 2.....	158
Test 40 / Türkiye'nin İç Bölgeleri - Tarama	163
Test 41 / Grafik ve Tablo Yorumu	168
Test 42 / Genel Tarama Testi - 1.....	172
Test 43 / Genel Tarama Testi - 2.....	180
Test 44 / Deneme - 1.....	187
Test 45 / Deneme - 2.....	192
Test 46 / Deneme - 3.....	196
Test 47 / Deneme - 4.....	201
Test 48 / Deneme - 5.....	206
Test 49 / Deneme - 6.....	210
Cevap Anahtarı	215

Türkiye'nin Matematik (Mutlak) ve Özel (Göreceli) Konumu - I

1. Aşağıdakilerden hangisi, Türkiye'nin matematik (mutlak) konumunun sonuçlarından biridir?

- A) İki kıtada topraklarının olması
- B) En fazla komşu ülke sınırının doğuda olması
- C) Yükseltinin batıdan doğuya gidildikçe artması
- D) Üç tarafının denizlerle çevrili olması
- E) Dört mevsimin belirgin olarak yaşanması

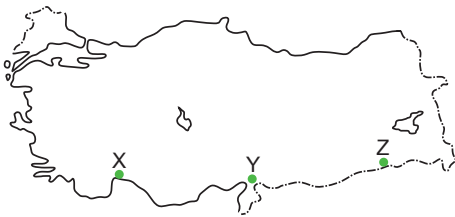
2. Türkiye'de aşağıdakilerden hangisi güneyden kuzeye doğru gidildikçe görülen değişikliklerden değildir?

- A) Gölge boyunun uzaması
- B) Güneş ışınlarının düşme açısının azalması
- C) Çizgisel hızın azalması
- D) Denizlerin tuzluluk oranının azalması
- E) Yağışların azalması

3. Türkiye'de aşağıda verilenlerden hangisi diğer dördünün nedenidir?

- A) Güneyden esen rüzgârların sıcaklığı artırması
- B) Yengeç Dönencesinin kuzeyinde yer alması
- C) Haziran, Temmuz ve Ağustos aylarında sıcaklığın yüksek olması
- D) Kuzeye doğru sıcaklık ortalamalarının azalması
- E) 21 Haziran'da en uzun gündüzün Sinop'ta yaşanması

4.



Yukarıdaki haritada yaklaşık olarak aynı enlem üzerinde yer alan üç noktanın;

- I. sıcaklık ortalamaları,
- II. gündüz süresi,
- III. güneş ışınlarının düşme açısı

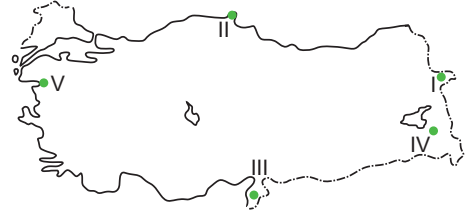
özelliklerinden hangileri kesinlikle aynıdır?

- A) Yalnız I
- B) Yalnız II
- C) Yalnız III
- D) I ve II
- E) II ve III

5. Türkiye'de aşağıdakilerin hangisinin oluşumunda enlem etkisinden söz edilemez?

- A) Kuzeye doğru çizgisel hızın azalması
- B) Güneye doğru gölge boyunun kısalması
- C) Doğuda yerel saatin ileri olması
- D) Yıl içerisinde dört mevsim özelliklerinin yaşanması
- E) Kuzeye doğru gece-gündüz süresinin daha fazla değişmesi

6.



Yukarıda verilen noktaların aşağıdaki özelliklerinden hangisinin oluşumunda matematik konum etkili olmamıştır?

- A) I. noktada yerel saatin daha ileri olması
- B) II. noktada gölge boyunun daha uzun olması
- C) III. noktada gece-gündüz süresi arasındaki zaman farkının az olması
- D) IV. noktada sıcaklığın daha düşük olması
- E) V. noktada güneşin daha geç batması

7. Türkiye'nin Ekvator'a daha yakın enlemlerde yer aldığı varsayılırsa aşağıdaki yargılardan hangisinin oluşması beklenemez?

- A) Doğuya doğru gidildikçe yükseltinin artması
- B) Akdeniz kıyılarında sıcaklık ortalamalarının artması
- C) Karadeniz kıyılarında deniz suyu sıcaklıklarının şimdikine göre artması
- D) Doğusu ile batısı arasındaki mesafenin genişlemesi
- E) Kuzeyindeki çizgisel hızın şimdikine göre artması



Türkiye'nin Matematik (Mutlak) ve Özel (Göreceli) Konumu - I

8.

- I. Transit taşımacılığın gelişmesi
- II. Yıl içinde dört mevsim özelliklerinin görülmesi
- III. Güneş ışınlarının yıl içinde dik gelmemesi

Yukarıda verilenlerden hangileri Türkiye'nin Avrupa ile Asya kıtaları arasında bulunması ile ilgilidir?

- A) Yalnız I
- B) Yalnız II
- C) Yalnız III
- D) I ve II
- E) I, II ve III

9.

Sinop ile Mersin karşılaştırıldığında, Sinop'un aşağıdaki özelliklerinden hangisinin oluşumunda enlemin etkili olduğu söylenemez?

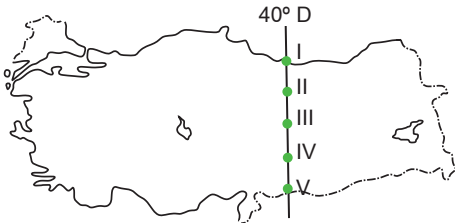
- A) 21 Aralık'ta gece uzunluğunun daha fazla olması
- B) Hinterlandının dar olması
- C) Gölge boyunun daha uzun olması
- D) Çizgisel hızın daha az olması
- E) Deniz suyu sıcaklığının daha düşük olması

10.

Türkiye'deki en uzun gündüz süresi aşağıda verilen yer ve tarihlerin hangisinde yaşanır?

Yer	Tarih
A) Mersin	21 Haziran
B) Hatay	31 Aralık
C) Iğdır	21 Mart
D) Sinop	21 Haziran
E) İzmir	5 Şubat

11.



Yukarıdaki haritada 40° doğu boylamı üzerinde numaralarla gösterilen yerlerden hangisinde, 21 Haziran'da gündüz süresi diğerlerinden daha uzundur?

- A) I
- B) II
- C) III
- D) IV
- E) V

12.

Anadolu'nun, en eski yerleşim merkezlerinden biri olmasında aşağıdakilerden hangisinin etkisi en azdır?

- A) Topraklarının verimli olması
- B) Kayaç türlerinin çeşitli olması
- C) Su kaynakları bakımından zengin olması
- D) İklimin elverişli olması
- E) Önemli ticaret yolları üzerinde bulunması

13.

Aşağıdakilerden hangisi Türkiye'nin orta kuşakta yer aldığının göstergesidir?

- A) Güneyden kuzeye doğru gidildikçe çizgisel hızın azalması
- B) Dört mevsimin belirgin olarak yaşanması
- C) Kısa mesafelerde farklı iklim koşullarının etkili olması
- D) Bölgeler arasında yıllık yağış tutarının farklılık göstermesi
- E) Fön karakterli rüzgârların oluşması

14.

Türkiye, üç tarafı denizlerle çevrili bir ülkedir. Yer şekillerinin konum ve uzanışı ülkenin her yerinde denizel etkinin görülmesini engellemiştir.

Buna göre, Türkiye'nin aşağıdaki özelliklerinden hangisi denize göre konumdan etkilenmez?

- A) Yer altı kaynakları
- B) Yağış miktarı
- C) Yıllık ortalama sıcaklık
- D) Doğal bitki örtüsü
- E) Tarımsal etkinlikler

15.

Türkiye'nin yıllık indirgenmiş sıcaklık dağılışı haritası incelendiğinde, kuzeyi ile güneyi arasında yaklaşık 7 - 8 derecelik bir sıcaklık farkının bulunması aşağıdakilerden hangisiyle açıklanabilir?

- A) Denizden uzaklıkla
- B) Yer şekli özellikleriyle
- C) Yağış özellikleriyle
- D) Matematik (mutlak) konumla
- E) Basınç merkezlerinin etkisiyle

Türkiye'nin Matematik (Mutlak) ve Özel (Göreceli) Konumu - I

ÇÖZÜMLER

1. Matematik konum; bir yerin "Başlangıç Meridyeni"ne ve Ekvatora olan uzaklığının açı cinsinden değeridir. Her iki yarım kürede dönenceler ($23^{\circ}27'$) ile "Kutup Daireleri" ($66^{\circ}33'$) arasındaki alan "Ortak Kuşak" olarak nitelendirilir. Orta kuşak, yıl içinde dört mevsimin belirgin olarak yaşandığı kuşaktır. Türkiye $36^{\circ} - 42^{\circ}$ paralellerinde yer aldığından, dört mevsimin belirgin olarak yaşayan ülkelerdendir.

- İki kıtada topraklarının olması (A)
- En fazla komşu ülke sınırının doğuda olması (B)
- Yükseltinin batıdan doğuya gidildikçe artması (C)
- Üç tarafının denizlerle çevrili olması (D)

ise özel konumla ilgilidir.

Cevap E

2. Türkiye KYK'de bulunduğundan güneyden kuzeye doğru gidildikçe; güneş ışınlarının düşme açısı azalır. Buna bağlı olarak cisimlerin gölge boyu uzarken, sıcaklık ortalamaları kuzeye doğru azalma gösterir. Sıcaklığın kuzeye doğru azalması denizlerde buharlaşmayı azalttığından, kuzeye doğru denizlerin tuzluluk oranı azalır. Dünyanın şeklinden dolayı her iki yarım kürede çizgisel hız kutuplara gidildikçe azalma gösterir. Ancak yağış miktarının değişmesi nemlilik ve yükselti (özel konum koşulları) ile ilgilidir.

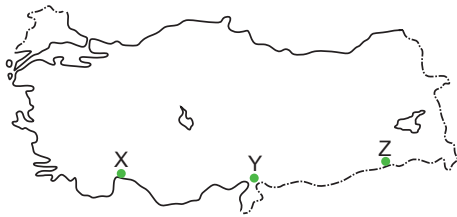
Cevap E

3. Türkiye, konumu itibarıyla Yengeç Dönencesi'nin kuzeyinde yer aldığından;
- Güneyden esen rüzgârların sıcaklığı artırması (A)
 - Haziran, Temmuz ve Ağustos aylarında sıcaklığın yüksek olması (C)
 - Kuzeye doğru sıcaklık ortalamalarının azalması (D)
 - 21 Haziran'da en uzun gündüzün Sinop'ta yaşanması (E)

durumlar ortaya çıkar.

Cevap B

- 4.



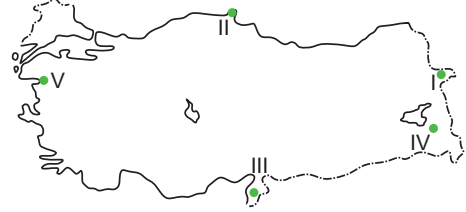
Aynı enlem üzerindeki noktalarda; güneş ışınlarının düşme açısı ve yaşanan gündüz süresi ortaktır. Ancak sıcaklıkları özel konumlarının farklı olmasına bağlı olarak değişebilir.

Cevap E

5. Çizgisel hız, gölge boyu, gece-gündüz süresinin değişimi ve dört mevsim özelliklerinin yaşanması ekvatora uzaklık (enlem etkisi) ile ilgilidir. Doğuda yerel saatin ileri olması dünyanın batıdan doğuya doğru dönmesi (boylam etkisi) ile ilgilidir.

Cevap C

- 6.



Haritada verilen merkezler karşılaştırıldığında;

- A) I. noktada yerel saatin daha ileri olması, en doğuda olması ile,
 B) II. noktada gölge boyunun daha uzun olması, en kuzeyde yer aldığından güneş ışınlarını en küçük açı ile alması ile,
 C) III. noktada gece-gündüz süre farklarının az olması, en güneyde yer alması ile,
 E) V. noktada güneşin daha geç batması, en batıda yer alması (dünyanın dönüş yönü nedeniyle) ile açıklanır.
 D seçeneğindeki IV. noktada sıcaklığın daha kuzeyindeki noktalara (V, II ve I) göre daha düşük olması özel konum ile açıklanır.

Cevap D

7. Türkiye, bugünkü konumuna göre Ekvator'a daha yakın enlemlerde yer alsa;
- Akdeniz kıyılarında sıcaklık ortalamalarının artması (B)
 - Karadeniz kıyılarında deniz suyu sıcaklıklarının şimdikine göre artması (C)
 - Doğusu ile batısı arasındaki mesafenin genişlemesi (D)
 - Kuzeyindeki çizgisel hızın şimdikine göre artması (E)
- durumların tamamı ortaya çıkardı. Ancak A seçeneğinde yer alan, doğusunda yükseltinin artması, Türkiye'nin jeolojik oluşum süreçleri (özel konum koşulları) ile ilgilidir.

Cevap A

8. Türkiye'de yıl içinde dört mevsimin yaşanması ve güneş ışınlarının yıl içinde dik gelmemesi, matematik konum ile açıklanır. Türkiye, Asya ile Avrupa kıtaları arasında köprü durumunda olduğundan iki kıta arasında gerçekleşen transit taşımacılıkta geçiş yolu üzerindedir.

Cevap A

Bütün kitaplar cepte, tablette, masanda

KPSS
2024

Bu seti alan
adaylara ayrıca
Yapay Zekâ
destekli
10.000 soru
çözme hakkı
verilecektir.

Arti - Yapay
Zekâ Asistan

Dijital Öğrenme
Ayak İzi

Hibrit Kitap
Teknolojisi

GENEL YETENEK GENEL KÜLTÜR

Tamamı Çözümlü

SORU

BANKASI

MODÜLER SET

VATANDAŞLIK



Hibrit kitaba erişebilmek
için QR kodu okutunuz.



PEGEM **AKADEMİ**



Komisyon

KPSS Lise ve Ön Lisans Vatandaşlık Soru Bankası

ISBN 978-625-6890-25-1

Kitapta yer alan bölümlerin tüm sorumluluğu yazarlarına aittir.

© Pegem Akademi

Bu kitabın basım, yayım ve satış hakları Pegem Akademi Yay. Eğt. Dan. Hizm. Tic. AŞ'ye aittir. Anılan kuruluşun izni alınmadan kitabın tümü ya da bölümleri, kapak tasarımı; mekanik, elektronik, fotokopi, manyetik kayıt ya da başka yöntemlerle çoğaltılamaz, basılamaz ve dağıtılamaz. Bu kitap, T.C. Kültür ve Turizm Bakanlığı bandrolü ile satılmaktadır. Okuyucularımızın bandrolü olmayan kitaplar hakkında yayinevimize bilgi vermesini ve bandrolsüz yayınları satın almamasını diliyoruz.

Pegem Akademi Yayıncılık, 1998 yılından bugüne uluslararası düzeyde düzenli faaliyet yürüten uluslararası akademik bir yayınevdir. Yayınladığı kitaplar; Yükseköğretim Kurulunca tanınan yükseköğretim kurumlarının kataloglarında yer almaktadır. Dünyadaki en büyük çevrimiçi kamu erişim kataloğu olan WorldCat ve ayrıca Türkiye'de kurulan Turcademy.com tarafından yayınları taranmaktadır, indekslenmektedir. Aynı alanda farklı yazarlara ait 1000'in üzerinde yayını bulunmaktadır. Pegem Akademi Yayınları ile ilgili detaylı bilgilere <http://pegem.net> adresinden ulaşılabilmektedir.

49. Baskı: Temmuz 2023 Ankara

Proje-Yayın: Deniz Şahan

Dizgi-Grafik Tasarım: Arzu Orhan Kaya

Kapak Tasarımı: Pegem Akademi

Baskı: Vadi Grafik Tasarım ve Reklamcılık Ltd. Şti.

İvedik Org. San. 1420. Cad. No: 58/1

Yenimahalle/ANKARA

Tel: 0 312 395 85 71

Yayıncı Sertifika No: 51818

Matbaa Sertifika No: 47479

İletişim

Shira Ticaret Merkezi, Macun Mahallesi 204 Cad.

No: 141/33, Yenimahalle/Ankara

Yayınevi: 0312 430 67 50

Dağıtım: 0312 434 54 24

Hazırlık Kursları: 0312 419 05 60

İnternet: www.pegem.net

E-ileti: pegem@pegem.net

WhatsApp Hattı: 0538 594 92 40



ÖN SÖZ

Değerli Adaylar;

Bu kitap, Kamu Personel Seçme Sınavı (KPSS) Genel Kültür Testinde önemli bir yer tutan **“Temel Yurttaşlık Bilgisi”** kapsamındaki **soruları** etkili bir şekilde çözebilmeniz amacıyla hazırlanmıştır. Sınavda başarılı olmanın ön koşulu konu eksiklerinin giderilmesinin ardından düzenli bir şekilde soru çözmektir. Yayınımız hem bu imkânı sağlayacak hem de Arti-Yapay Zekâ teknolojisi ile teknolojidenden yararlanmanıza yardımcı olacaktır.

Kitabın çalışmalarınızda yararlı olması dileğiyle, KPSS’de ve meslek hayatınızda başarılar.

Pegem Akademi



Kitabın baskı tarihinden sonra gerçekleşen değişikliklere aşağıda yer alan kodu okutarak ulaşabilirsiniz.



<https://depo.pegem.net/2024gygk-onlisans-vatandaslik-sb-guncelleme.pdf>

TÜRKİYE'DE İLK DEFA TÜM KİTAPLAR YANINDA; CEPTE, TABLETTE VE MASANDA

Hibrit kitaplarda kullanıcılar;



- 1 Kitabın dijital formatına erişim sağlayabilir.
- 2 Testleri çözebilir.

Yapay zekâ, bırakılan etkileşimler sonrasında kullanıcıların başarı durumlarını tespit ederek karşılına bir analiz ekranı çıkarmaktadır.

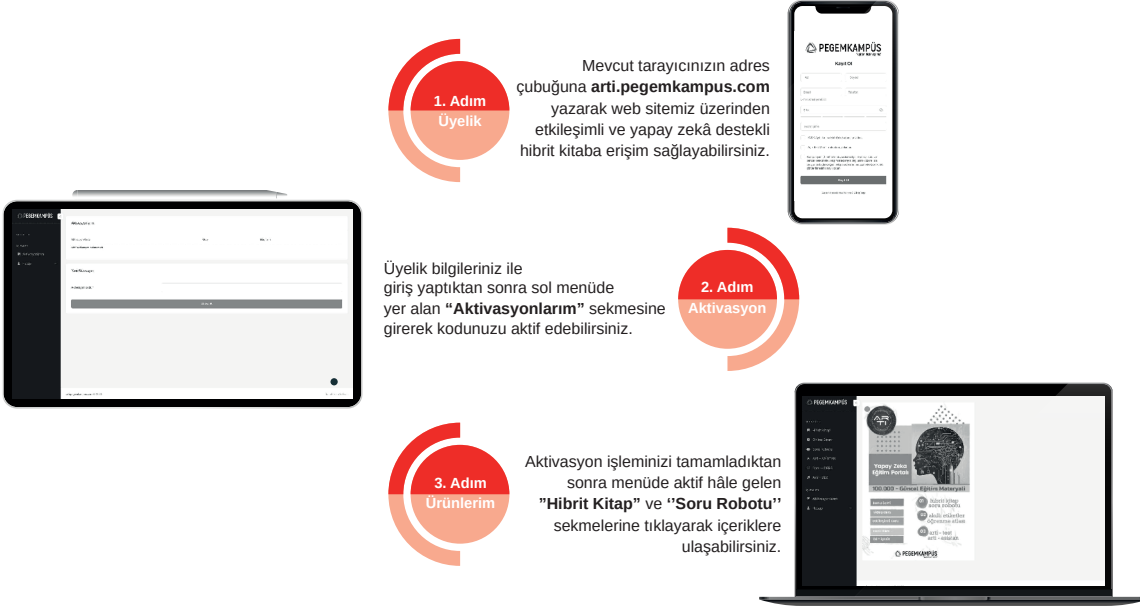


Soru robotunda kullanıcılar;

- 1 10.000+ soru içinden seçtikleri dersin seçtikleri konularından kendilerine testler oluşturabilir.
- 2 Çözdükleri sorular sonrasında Arti - ASİSTAN sekmesinde öğrenme durumlarına dair anahtar kelimeler ile başarılı/başarısız oldukları konuları detaylı olarak görüntüleyebilir.

Yapay zekâ, soruları çözmeye başladıkları andan itibaren kullanıcıların başarı durumlarını tespit edecektir.

Pegem Kampüs web sitesi üzerinden hibrit kitabınıza ve soru robotunuza erişebilmek için aşağıdaki adımları takip ediniz:



Aktivasyon kodu kitabınızın ilk sayfasında yer almaktadır.
Aktivasyon kodu ile aktif ettiğiniz hibrit kitaba erişim 30.11.2024 tarihine kadar geçerlidir.



Pegem Kampüs İletişim Hattı
0312 418 51 55



İÇİNDEKİLER

Test - 1 / Hukukun Temel Kavramları - 1	1
Test - 2 / Hukukun Temel Kavramları - 2	5
Test - 3 / Hukukun Temel Kavramları - 3	9
Test - 4 / Anayasa Tarihi ve Temel Kavramlar - 1	13
Test - 5 / Anayasa Tarihi ve Temel Kavramlar - 2	17
Test - 6 / Anayasa Tarihi ve Temel Kavramlar - 3	21
Test - 7 / 1982 Anayasası ve Temel İlkeleri - 1	25
Test - 8 / 1982 Anayasası ve Temel İlkeleri - 2	29
Test - 9 / Temel Hak ve Hürriyetler	33
Test - 10 / Yasama - 1	37
Test - 11 / Yasama - 2	41
Test - 12 / Yasama - 3	45
Test - 13 / Yürütme - 1	49
Test - 14 / Yürütme - 2	53
Test - 15 / Yürütme - 3	57
Test - 16 / Yürütme - 4	61
Test - 17 / Yargı - 1	65
Test - 18 / Yargı - 2	69
Test - 19 / İdare Hukuku - 1	73
Test - 20 / İdare Hukuku - 2	77
Test - 21 / İdare Hukuku - 3	81
Test - 22 / İdare Hukuku - 4	85
Test - 23 / Uluslararası Örgütler	89

İÇİNDEKİLER



Test - 24 / İnsan Hakları	93
Test - 25 / Karma Test - 1	96
Test - 26 / Karma Test - 2	100
Test - 27 / Karma Test - 3	104
Test - 28 / Karma Test - 4	108
Test - 29 / Karma Test - 5	112
Test - 30 / Karma Test - 6	116
Test - 31 / Deneme - 1	120
Test - 32 / Deneme - 2	124
Cevap Anahtarı	129



Hukukun Temel Kavramları - I

1. Aşağıdakilerden hangisi borçlar hukukuna hâkim olan ilkelerden biri değildir?

- A) Eşitlik
- B) Sözleşme özgürlüğü
- C) Üçüncü kişi aleyhine borç kurulamaması
- D) Nispilek
- E) Zaman aşımına uğramama

2. Hâkim bir uyuşmazlığın çözümünde aşağıdaki kaynaklardan hangisini dikkate almak zorunda değildir?

- A) Doktrin
- B) İçtihadı birleştirme kararı
- C) Cumhurbaşkanlığı karamamesi
- D) Yönetmelik
- E) Milletlerarası antlaşma

3. Alacaklının borçludan isteme hakkına sahip olduğu borçlunun yerine getirmekle yükümlü olduğu davranış biçimine ne ad verilir?

- A) Tereke
- B) Dürüstlük
- C) Edim
- D) Ehliyet
- E) İcra

4. Ayırt etme gücüne sahip olmayan kişiler aşağıdaki ehliyet türlerinden hangisine sahiptir?

- A) Tam ehliyetlilik
- B) Sınırlı ehliyetlilik
- C) Sınırsız ehliyetsizlik
- D) Sınırlı ehliyetsizlik
- E) Tam ehliyetsizlik

5. Henüz ergin olmamış çocukların üzerinde yasalara ana ve babaya tanıdığı hakka ne ad verilir?

- A) Vesayet hakkı
- B) Veraset hakkı
- C) Velayet hakkı
- D) Tereke
- E) Soy bağı

6. Aşağıdakilerden hangisi gaiplik kararı vermeye yetkilidir?

- A) Vali
- B) Mirasçı
- C) Mahkeme
- D) Belediye
- E) Vasi

7. Fiil ehliyetinin yargı kararıyla belli ölçülerde kaldırılması durumu nasıl adlandırılabilir?

- A) Mutlak butlan
- B) Ceza
- C) Kısıtlama
- D) Geri alma
- E) Yokluk

8. Aşağıdakilerden hangisi toplumsal ilişkileri düzenleyen kurallardan değildir?

- A) Hukuk kuralları
- B) Din kuralları
- C) Ahlak kuralları
- D) Bilim kuralları
- E) Görgü kuralları



Hukukun Temel Kavramları - I

9. Resmî evlendirme memuru önünde yapılmayan evlilik için aşağıdaki yaptırım türlerinden hangisi işletilir?

- A) Ceza
- B) Tazminat
- C) Hükümsüzlük
- D) Cebri icra
- E) İptal

10. İki kardeş arasındaki hısımlığın türü aşağıdakilerin hangisinde doğru olarak verilmiştir?

- A) Üst soy hısımlığı
- B) Alt soy hısımlığı
- C) Yarım kan hısımlığı
- D) Kayın hısımlığı
- E) Yan soy hısımlığı

11. Aşağıdakilerden hangisi kısıtlılık nedeni değildir?

- A) Akıl hastalığı
- B) Evlilik
- C) Hapis cezası
- D) Madde bağımlılığı
- E) Savurganlık

12. Aşağıdakilerden hangisi sınırlı ehliyetsizdir?

- A) Evli kişi
- B) Kendisine yasal danışman atanan kişi
- C) Mahkeme kararıyla ergin kılınmış olup ayırt etme gücüne sahip olan kişi
- D) Akıl zayıflığı nedeniyle kısıtlanmış, ayırt etme gücüne sahip kişi
- E) Ayırtım gücü olmayan bir akıl hastası

13. Kullanıldıkları zaman mevcut bir hukuki durumu tamamen ortadan kaldıran haklara ne ad verilir?

- A) Kişilik hakları
- B) Kurucu yenilik doğuran haklar
- C) Hüküm doğuran haklar
- D) Bozucu yenilik doğuran haklar
- E) Değiştirici yenilik doğuran haklar

14. Gerçek kişileri devlete bağlayan hukuki ve siyasi bağa ne ad verilir?

- A) Vatandaşlık
- B) Üyelik
- C) Vekalet
- D) Sığınma
- E) Karşılıklılık

15. Aşağıdakilerden hangisi bir kamu hukuku dalı değildir?

- A) Anayasa hukuku
- B) İdare hukuku
- C) Ceza hukuku
- D) Vergi hukuku
- E) Borçlar hukuku

16. Aşağıdakilerden hangisi fiil ehliyetinin koşullarından biridir?

- A) Dürüstlük
- B) Kısıtlı olmamak
- C) Vatandaş olmak
- D) Kusursuz sorumluluk
- E) Kusurlu sorumluluk