

KPSS

2024

GENEL YETENEK  
GENEL KÜLTÜR

TAMAMI  
VIDEO  
ÇÖZÜMLÜ

EZBERBOZAN

# COĞRAFYA

## SORU BANKASI

Arti - Yapay  
Zekâ Asistan

Dijital Öğrenme  
Ayak İzi

Hibrit Kitap  
Teknolojisi

Bu kitabı alan  
adaylara ayrıca  
Yapay Zekâ  
destekli 600+  
Coğrafya sorusu  
çözme hakkı  
verilecektir.



Hibrit kitaba erişebilmek  
için QR kodu okutunuz.

PEGEM AKADEMİ



**Yazar  
Komisyon**

**Genel Kültür Genel Yetenek Ezberbozan Coğrafya Soru Bankası**

ISBN 978-625-6890-50-3

Kitapta yer alan bölümlerin tüm sorumluluğu yazarına aittir.

© Pegem Akademi

Bu kitabın basım, yayım ve satış hakları Pegem Akademi Yay. Eğt. Dan. Hizm. Tic. AŞ'ye aittir. Anılan kuruluşun izni alınmadan kitabın tümü ya da bölümleri, kapak tasarımı; mekanik, elektronik, fotokopi, manyetik kayıt ya da başka yöntemlerle çoğaltılamaz, basılamaz ve dağıtılamaz. Bu kitap, T.C. Kültür ve Turizm Bakanlığı bandrolü ile satılmaktadır. Okuyucularımızın bandrolü olmayan kitaplar hakkında yayınevimize bilgi vermesini ve bandrolsüz yayınları satın almamasını diliyoruz.

Pegem Akademi Yayıncılık, 1998 yılından bugüne uluslararası düzeyde düzenli faaliyet yürüten uluslararası akademik bir yayınevidir. Yayımladığı kitaplar; Yükseköğretim Kurulunca tanınan yükseköğretim kurumlarının kataloglarında yer almaktadır. Dünyadaki en büyük çevrimiçi kamu erişim kataloğu olan WorldCat ve ayrıca Türkiye'de kurulan Turcademy.com tarafından yayınları taranmaktadır, indekslenmektedir. Aynı alanda farklı yazarlara ait 1000'in üzerinde yayını bulunmaktadır. Pegem Akademi Yayınları ile ilgili detaylı bilgilere <http://pegem.net> adresinden ulaşılabilmektedir.

29. Baskı: Temmuz 2023 Ankara

Proje-Yayın: Deniz Şahan  
Dizgi-Grafik Tasarım: İlnur Öztürk  
Kapak Tasarım: Pegem Akademi

Baskı: Koza Yayın Dağıtım AŞ  
Saray Mahallesi 205 cadde No: 4/2  
Kahramankazan/ANKARA  
Tel: (0312) 385 91 91

Yayıncı Sertifika No: 51818  
Matbaa Sertifika No: 45553

**İletişim**

Shira Ticaret Merkezi, Macun Mahallesi 204 Cad.  
No: 141/33, Yenimahalle/Ankara  
Yayınevi: 0312 430 67 50  
Dağıtım: 0312 434 54 24  
Hazırlık Kursları: 0312 419 05 60  
İnternet: [www.pegem.net](http://www.pegem.net)  
E-ileti: [pegem@pegem.net](mailto:pegem@pegem.net)  
WhatsApp Hattı: 0538 594 92 40

Sevgili Adaylar,

Bu kitap Kamu Personel Seçme Sınavı (KPSS) Genel Kültür Testinde önemli bir yer tutan "Coğrafya" kapsamındaki 18 soruyu etkili bir şekilde çözebilmeniz amacıyla hazırlanmıştır. Kitabımız, her soru için anlaşılır bir dilde hazırlanmış çözümlü anlatım ve açıklamalar içermektedir. Soruları çözerek ÖSYM'nin diline hâkim olacaksınız. Meslek hayatınızda başarılar dileriz.

Pegem Akademi

## TÜRKİYE'DE İLK DEFA TÜM KİTAPLAR YANINDA; CEPTE, TABLETTE VE MASANDA

### Hibrit kitaplarda kullanıcılar;



- 1 Kitabın dijital formatına erişim sağlayabilir.
- 2 Konu konu testlerini çözebilir.
- 3 Soruların çözüm videolarını izleyebilir.

Yapay zekâ, bırakılan etkileşimler sonrasında kullanıcıların başarı durumlarını tespit ederek karşlarına bir analiz ekranı çıkarmaktadır.



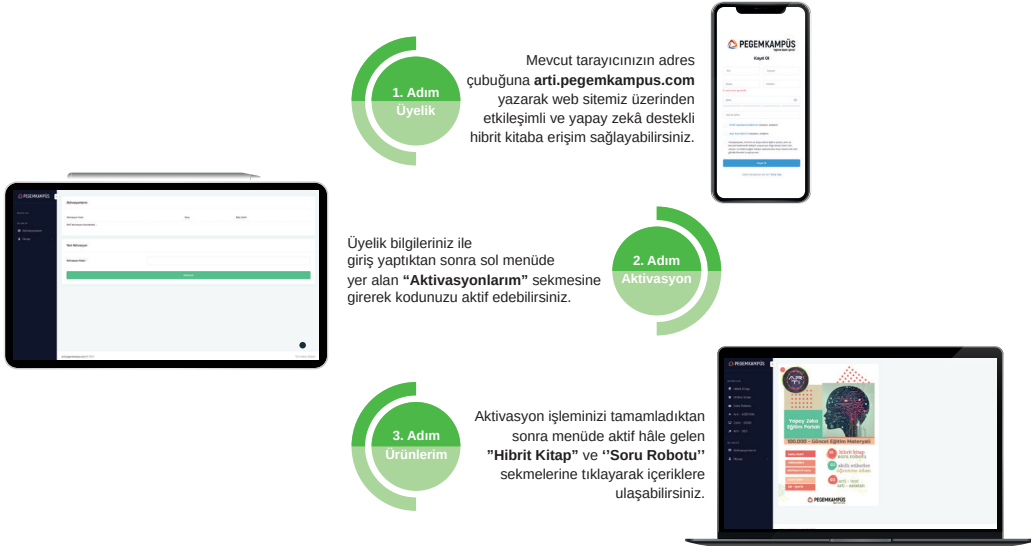
Detaylı anlatım için QR kodu okutunuz.

### Soru robotunda kullanıcılar;

- 1 600+ soru içinden seçtikleri dersin seçtikleri konularından kendilerine testler oluşturabilir.
- 2 Çözdükleri sorular sonrasında Arti - ASİSTAN sekmesinde öğrenme durumlarına dair anahtar kelimeler ile başarılı/başarısız oldukları konuları detaylı olarak görüntüleyebilir.

Yapay zekâ, soruları çözmeye başladıkları andan itibaren kullanıcıların başarı durumlarını tespit edecektir.

## Pegem Kampüs web sitesi üzerinden hibrit kitabınıza ve soru robotunuza erişebilmek için aşağıdaki adımları takip ediniz:



**Aktivasyon kodu kitabınızın ilk sayfasında yer almaktadır.  
Aktivasyon kodu ile aktif ettiğiniz hibrit kitaba erişim 31.08.2024 tarihine kadar geçerlidir.  
Kitaba dair içerikler 1 Eylül 2023'te yayında olacaktır.**



Pegem Kampüs İletişim Hattı  
0312 418 51 55

---

## İÇİNDEKİLER

---

Test - 1	Türkiye'nin Coğrafi Konumu - 1 .....	1
Test - 2	Türkiye'nin Coğrafi Konumu - 2 .....	5
Test - 3	Türkiye'de Dağlar, Ovalar ve Platolar .....	9
Test - 4	Türkiye'de Akarsuların Genel Özellikleri ve Akarsuların Oluşturduğu Yerçekilleri .....	13
Test - 5	Türkiye'de Yer Altı Kaynakları - Barajlar - Göller ve Denizler .....	17
Test - 6	Türkiye'de Diğer Yerçekilleri (Rüzgâr - Buzul - Karstik - Kıyı Tipleri).....	21
Test - 7	Türkiye'de Toprak Oluşumu ve Toprak Tipleri.....	25
Test - 8	Tarama Testi - 1 .....	29
Test - 9	Türkiye'nin İklimi ve Bitki Örtüsü - 1.....	33
Test - 10	Türkiye'nin İklimi ve Bitki Örtüsü - 2.....	37
Test - 11	Türkiye'nin İklimi ve Bitki Örtüsü - 3.....	41
Test - 12	Türkiye'de Doğal Afetler (Erozyon - Heyelan - Çığ - Sel vb.) .....	45
Test - 13	Türkiye'nin Nüfus Özellikleri - 1 .....	49
Test - 14	Türkiye'nin Nüfus Özellikleri - 2 .....	53
Test - 15	Türkiye'de Tarım - 1 .....	57
Test - 16	Türkiye'de Tarım - 2.....	62
Test - 17	Türkiye'de Tarım - Hayvancılık - Ormancılık.....	66
Test - 18	Türkiye'de Madenler ve Enerji Kaynakları .....	70
Test - 19	Türkiye'de Sanayi ve Ticaret .....	74
Test - 20	Türkiye'de Turizm ve Ulaşım .....	78
Test - 21	Tarama Testi - 2 .....	82
Test - 22	Karma Test - 1 .....	86
Test - 23	Karma Test - 2 .....	90
Test - 24	Karma Test - 3 .....	94
Test - 25	Karma Test - 4 .....	98
Test - 26	Genel Tarama Testi.....	102
Test - 27	Deneme - 1 .....	109
Test - 28	Deneme - 2 .....	114
Test - 29	Deneme - 3.....	119
Test - 30	Deneme - 4 .....	124
Test - 31	Deneme - 5 .....	129
Test - 32	Deneme - 6.....	134
Test - 33	Deneme - 7 .....	139
Test - 34	Deneme - 8.....	144
Test - 35	Deneme - 9.....	151
Test - 36	Deneme - 10.....	156
	Cevap Anahtarı.....	162

---

1. Türkiye'de güneyden kuzeye doğru gidildikçe güneş ışınlarının düşme açısının daralmasına bağlı olarak birtakım değişiklikler ortaya çıkar. Bu değişiklikler enlem etkisi olarak açıklanır.

**Buna göre, aşağıdakilerden hangisi enlem etkisi ile açıklanamaz?**

- A) Diyarbakır'ın yıllık ortalama sıcaklığının Kars'tan yüksek olması  
B) Karadeniz'in Akdeniz'den daha soğuk olması  
C) Kışın Samsun'un Ankara'dan sıcak olması  
D) Toroslar'da kalıcı kar sınırının Kuzey Anadolu Dağları'ndan yüksek olması  
E) Antalya'da yaz turizminin İzmir'den daha uzun sürmesi

2.

- I. Gürcistan  
II. Bulgaristan  
III. İran  
IV. Ermenistan

**Yukarıda numaralandırılmış ülkelerden hangilerinin Türkiye ile birlikte aynı denize kıyısı vardır?**

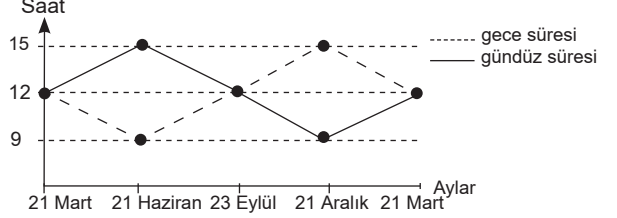
- A) I ve II                      B) I ve III                      C) I ve IV  
D) II ve III                      E) III ve IV

3. Van ve Hakkari'nin yerel saatlerinin ulusal saatten 2 dakika geri olduğu tespit edilmiştir.

**Buna göre, bu illerle ilgili olarak aşağıdakilerden hangisi söylenemez?**

- A) Öğle vakitleri aynıdır.  
B) Boylamları aynıdır.  
C) 45°D meridyenine göre batıdadır.  
D) Gün içinde ulusal saatle 12.00'de cisimlerin gölge boyu en kısa olmaz.  
E) Başlangıç Meridyeni'ne uzaklıkları aynıdır.

4. Aşağıdaki grafikte Türkiye'de yıl içindeki gece-gündüz süresi değişimi gösterilmiştir.



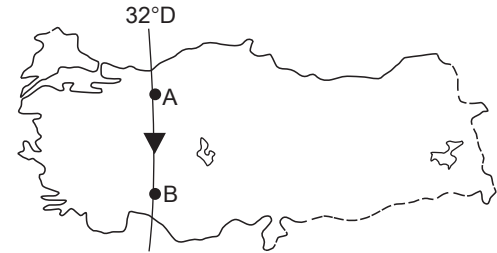
**Yalnızca tablodaki bilgilere göre;**

- I. 21 Mart - 23 Eylül arası dönemde gece-gündüz süre farkı sürekli artar.  
II. 21 Aralık tarihinde en uzun gece yaşanır.  
III. 21 Haziran ve 21 Aralık tarihlerinde gece-gündüz süre farkları eşittir.  
IV. 21 Aralık tarihinden itibaren gündüzler uzamaya başlar.  
V. 21 Mart ve 23 Eylül'de gece-gündüz süreleri eşittir.

**numaralandırılmış ifadelerden hangisine ulaşılamaz?**

- A) I                      B) II                      C) III                      D) IV                      E) V

5.



**Yukarıdaki Türkiye haritasında A'dan B'ye gidildiğinde;**

- I. yerel saat,  
II. Başlangıç Meridyeni'ne uzaklık,  
III. Güneş ışınlarının düşme açısı

**ifadelerinden hangilerinde değişim gözlenmez?**

- A) Yalnız I                      B) Yalnız II                      C) Yalnız III  
D) I ve III                      E) II ve III

6. "Türkiye bulunduğu konum itibarıyla 2. ve 3. saat dilimlerinde yer alır. Bu durum ..... açıklanır." **diyen bir coğrafyacı aşağıdakilerden hangisi ile cümlesini devam ettirirse ifadesini kanıtlamış olur?**
- A) Doğu Yarım Küre ülkesi olması ile  
B) 30°D ve 45°D meridyenlerinin ülkemizden geçmesi ile  
C) Başlangıç Meridyeni'ne göre doğuda olması ile  
D) Doğusu ile batısı arasında 76 dakikalık zaman farkı olması ile  
E) Doğusu ile batısı arasında 19 meridyenlik fark olması ile

7. I. Dört mevsimin belirgin olarak yaşanması  
II. Cephe yağışlarının etkili olması  
III. En uzun gecenin 21 Aralık'ta yaşanması  
IV. Batı rüzgarlarının etkisi altında olması
- Yukarıda numaralandırılmış ifadelerden hangileri Türkiye'nin orta kuşakta yer aldığını kanıtlar?**
- A) I ve II                      B) I ve IV                      C) III ve IV  
D) I, II ve IV                      E) II, III ve IV

8. **Aşağıdaki illerin hangilerinde yerel saat ile ulusal saat arasındaki fark en az ve en fazla olur?**
- |    | En az     | En fazla   |
|----|-----------|------------|
| A) | Erzurum   | İzmir      |
| B) | İzmit     | Diyarbakır |
| C) | Ankara    | Van        |
| D) | Eskişehir | Malatya    |
| E) | Konya     | Sivas      |

9. I. Sinop'ta yıl içinde gölge boyunun Antalya'dan uzun olması  
II. Bitlis'de yıllık sıcaklık ortalamasının İzmir'den düşük olması  
III. Karadeniz'in tuzluluk oranının Akdeniz'den düşük olması  
IV. Akdeniz'de yaz turizmi süresinin Ege'den daha uzun olması  
V. Sinop'ta güneşin doğuş-batış süresinin Adana'dan uzun olması

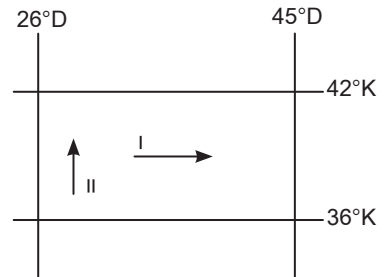
**Yukarıdaki numaralandırılmış ifadelerden hangisi üzerinde mutlak konumun etkili olduğu söylenemez?**

- A) I                      B) II                      C) III                      D) IV                      E) V

10. Bir ülkenin jeopolitik konumu; o ülkenin coğrafi unsurlarını, dünya güç dengesini sürekli ve çok yönlü etkileyecek tarzda kullanabilmesi olarak nitelendirilir. **Buna göre, aşağıdakilerden hangisi Türkiye'nin jeopolitik önemini yansıtmaz?**
- A) İstanbul ve Çanakkale Boğazlarına sahip olması  
B) Orta Doğu petrollerine yakın olması  
C) Dünya transit ticaretinde önemli bir yere sahip olması  
D) Alp-Himalaya kıvrım kuşağında yer alması  
E) Üç kıta arasında köprü durumunda olması

11. Türkiye Kuzey Yarım Küre'de yer alan bir ülkedir. **Aşağıdakilerden hangisi bu duruma kanıt oluşturmaz?**
- A) Güneyden kuzeye doğru sıcaklık ortalamalarının azalması  
B) En uzun gündüzün 21 Haziran'da yaşanması  
C) Karadeniz'in tuzluluk oranının Akdeniz'den az olması  
D) 2. ve 3. saat dilimleri içerisinde yer alması  
E) Güneyden kuzeye doğru çizgisel hızın azalması

- 12.



Türkiye'de I ve II nolu doğrultular boyunca gidildikçe yıllık ortalama sıcaklıklar azalmaktadır.

**Bu durumu ortaya çıkaran temel faktörler aşağıdaki seçeneklerden hangisinde doğru verilmiştir?**

- |    | I          | II         |
|----|------------|------------|
| A) | Yükselti   | Enlem      |
| B) | Boylam     | Enlem      |
| C) | Karasallık | Boylam     |
| D) | Yükselti   | Karasallık |
| E) | Enlem      | Yükselti   |

### ÇÖZÜMLER

1. Türkiye'de güneyden kuzeye doğru gidildikçe güneş ışınlarının düşme açısının daralmasına bağlı olarak birtakım değişiklikler ortaya çıkar. Bu değişiklikler enlem etkisi olarak açıklanır.

Verilen seçenekler incelendiğinde;

- Diyarbakır'ın yıllık ortalama sıcaklığının Kars'tan yüksek olması,
- Karadeniz'in Akdeniz'den daha soğuk olması,
- Antalya'da yaz turizminin İzmir'den daha uzun sürmesi,
- Toroslar'da kalıcı kar sınırının Kuzey Anadolu Dağları'ndan yüksek olması

bilgileri Türkiye'nin enleminin sonucunda ortaya çıkan değişikliklerdir. Ancak kış mevsiminde Samsun'un Ankara'dan daha sıcak olması denizellik ve karasallığın sıcaklık üzerindeki etkisine kanıttır.

**Cevap C**

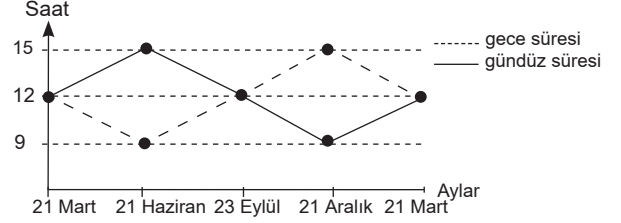
2. Türkiye göreceli konumu itibarıyla üç tarafı denizlerle kaplı bir yarımadadır. Verilen ülkelerle Gürcistan ve Bulgaristan'ın Karadeniz'e kıyısı bulunduğu için Türkiye ile birlikte aynı denize kıyısı bulunmaktadır.

**Cevap A**

3. Van ve Hakkari'nin yerel saatlerinin ulusal saatten 2 dakika geri olduğu tespit edilmiştir. Buna göre Van ve Hakkari aynı boylam üzerindedir ve aynı boylam üzerindeki merkezlerin yerel saatleri ile öğle vakitleri aynıdır. Yerel saatleri 2 dakika geri olduğuna göre, 45°D boylamına göre daha batıda yer alır ve göle boylarının en kısa olduğu an ulusal saate göre 12.02 olur. Ancak bu iki kent Başlangıç Meridyeni'ne uzaklıkları aynı değildir. Çünkü Ekvator'dan kutuplara doğru gidildikçe iki meridyen arası mesafe daralır. Dolayısıyla da Van, Hakkari'ye göre Başlangıç Meridyeni'ne daha yakındır.

**Cevap E**

4.



Grafikte Türkiye'de yıl içindeki gece-gündüz süresi değişimi gösterilmiştir.

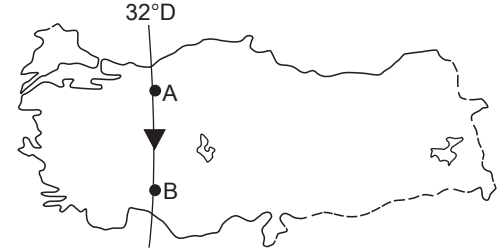
Yalnızca tablodaki veriler dikkate alındığında;

- 21 Aralık tarihinde en uzun gece yaşanır.
- 21 Haziran ve 21 Aralık tarihlerinde gece-gündüz süre farkları eşittir.
- 21 Aralık tarihinden itibaren gündüzler uzamaya başlar.
- 21 Mart ve 23 Eylül'de gece-gündüz süreleri eşittir.

bilgilerine ulaşılır. Ancak I. numaralı öncüdeki 21 Mart - 23 Eylül arası dönemde gece-gündüz süre farkı sürekli artar ifadesi yanlıştır. 21 Mart - 21 Haziran arası dönemde sürekli artar, 21 Haziran - 23 Eylül arası dönemde sürekli azalır.

**Cevap A**

5.



Türkiye haritasında verildiği gibi aynı boylam üzerinde yer alan A merkezinden B merkezine doğru hareket edildiğinde sadece yerel saatlerin değişmediğini söyleyebiliriz. Başlangıç Meridyeni'ne olan uzaklık kutuplara doğru hareket edildiğinde azalır. Güneş ışınlarının düşme açısı ise enlemle ilgili olduğu için güneye doğru hareket edildiğinde değişir ancak aynı boylam üzerinde yerel saatlerde değişim görülmez.

**Cevap A**

6. "Türkiye bulunduğu konum itibarıyla 2. ve 3. saat dilimlerinde yer alır. Bu durum ..... açıklanır." bilgisini kanıtlamak isteyen bir coğrafyacı noktalarla boş bırakılan yeri Türkiye'nin boylam değerleri içerisinde bulunan ulusal saat dilimleri yani 30°D ve 45°D ülkemizden geçmesi ile ilişkilendirir. 0 meridyeninden doğuya doğru her 15 meridyen geçildiğinde 1 saat dilimi geçmiş olur. Dolayısıyla Türkiye 2. ve 3. saat dilimlerinde yer alır diyebiliriz.

**Cevap B**

7. Türkiye mutlak konumu itibarıyla "Kuzey Yarım Küre'de Yengeç Dönencesi'nin Kuzeyinde Orta Kuşak'ta" ve 26°D - 45°D meridyenleri arasında yer alır. Türkiye orta kuşakta bulunduğu için dört mevsim belirgin olarak yaşanır, cephe yağışları etkili olur ve sürekli rüzgarlardan batı rüzgarları etkisi altındadır. Türkiye'de en uzun gecenin 21 Aralık'ta yaşanması Kuzey Yarım Küre'de yer almasının bir sonucudur. Çünkü 21 Aralık'ta Kuzey Yarım Küre'de yer alan tüm merkezler en uzun gece sürelerini yaşar.

**Cevap D**

8. Türkiye'de 2016'dan beri yıl boyunca 45°D'da yer alan Iğdır ulusal saat olarak kullanılır. Yerel saatle ulusal saat arasındaki farkın en az olması için 45°D meridyenine en yakın olan il Erzurum, bu farkın en fazla olması için ise 45°D meridyenine en uzak olan il İzmir seçilmelidir.

**Cevap A**

9. Öncüllerde verilen bilgiler dikkate alındığında;
- Sinop'ta yıl içinde gölge boyunun Antalya'dan uzun olması,
  - Karadeniz'in tuzluluk oranının Akdeniz'den düşük olması,
  - Akdeniz'de yaz turizmi süresinin Ege'den daha uzun olması,
  - Sinop'ta güneşin doğuş-batış süresinin Adana'dan uzun olması

Türkiye'nin mutlak konumunun sonucunda ortaya çıkan durumlarıdır. Ancak Bitlis'de yıllık sıcaklık ortalamalarının İzmir'den düşük olması yükselti, karasallık ve denizellik ile ilgilidir.

**Cevap B**

10. Bir ülkenin jeopolitik konumu; o ülkenin coğrafi unsurlarını dünya güç dengesini sürekli ve çok yönlü etkileyecek tarzda kullanabilmesi olarak nitelendirilir.

Buna göre Türkiye'nin;

- İstanbul ve Çanakkale Boğazlarına sahip olması,
- Orta Doğu petrollerine yakın olması,
- Dünya transit ticaretinde önemli bir yere sahip olması

jeopolitik önemini yansıtır. Ancak Türkiye'deki dağların oluşum şekli, göreceli konumunu yansıtsa da jeopolitik önemini yansıtmaz.

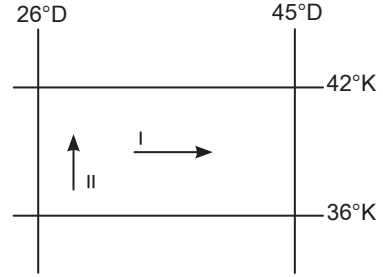
**Cevap D**

11. Türkiye Kuzey Yarım Küre'de yer alır. Bu durumun sonucunda ise;

- güneyden kuzeye doğru sıcaklık ortalamalarının azalması,
  - en uzun gündüzün 21 Haziran'da yaşanması,
  - Karadeniz'in tuzluluk oranının Akdeniz'den az olması,
  - güneyden kuzeye doğru çizgisel hızın azalması
- durumları ortaya çıkar. Ancak Türkiye'nin 2. ve 3 saat dilimleri arasında yer alması boylamların sonuçları arasında incelenir.

**Cevap D**

- 12.

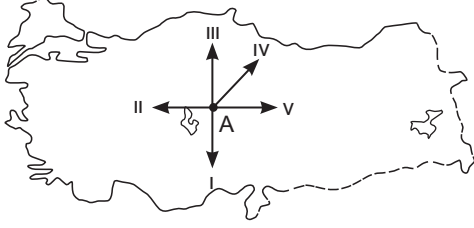


Türkiye'de I ve II nolu doğrultular boyunca gidildikçe yıllık ortalama sıcaklıklar azalmaktadır. Bu durumun ortaya çıkmasındaki faktörler şunlardır: I. numaralı ok yönünde hareket edildiğinde yükseltinin artmasıyla sıcaklık azalırken II. numaralı ok yönünde hareket edildiğinde enlemin etkisiyle sıcaklık azalır.

**Cevap A**



1.



**Yukarıdaki Türkiye haritasında A merkezinden numaralandırılmış oklar yönünde ilerlendiğinde, hangi yönde hem Ekvator'dan hem de Başlangıç Meridyeni'nden uzaklaşılr?**

- A) I      B) II      C) III      D) IV      E) V

2.

**Durum I:** Sıcaklığın dağılışında yükseltinin etkisi ortadan kaldırılarak hesaplanan sıcaklığa indirgenmiş sıcaklık denir.

**Durum II:** Türkiye'nin indirgenmiş sıcaklık dağılışı haritasında; güneyi ile kuzeyi arasındaki sıcaklık farkı 7-8°C'dir.

**Buna göre, Türkiye'nin kuzeyi ile güneyi arasındaki sıcaklık farkı aşağıdakilerden hangisi ile açıklanır?**

- A) Mutlak konum  
B) Yerşekilleri  
C) Karasallık – denizellik  
D) Yükselti  
E) Yağış rejimi

3.

Bir ülkenin sınırları içerisindeki limanların ve kara yollarının başka ülkeler tarafından kullanılmasıyla yapılan ticarete, transit ticaret adı verilir.

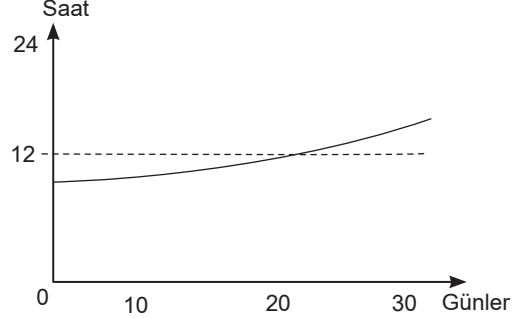
**Buna göre;**

- I. İstanbul ve Çanakkale Boğazlarına sahip olması,
- II. petrol zengini ülkelere komşu olması,
- III. teknoloji bakımından gelişmiş Avrupa'ya yakın olması,
- IV. doğu-batı yönünde geniş olması,
- V. üç kıtanın birbirine yaklaştığı yerde bulunması

**İfadelerinden hangisi Türkiye'nin transit ticaretteki önemini arttırmaz?**

- A) I      B) II      C) III      D) IV      E) V

4.



Yukarıdaki grafikte Türkiye'de gündüz süresinin bir aylık değişimi gösterilmiştir.

**Buna göre, grafiğin gösterdiği ay aşağıdakilerden hangisidir?**

- A) Mart                      B) Aralık                      C) Ocak  
D) Haziran                      E) Eylül

5.

- I. Doğusu ile batısı arasında 76 dakikalık zaman farkının olması
- II. 2. ve 3. saat dilimlerinde yer alması
- III. Yerel saatinin Başlangıç Meridyeni'nden ileri olması
- IV. Doğuya doğru sıcaklıkların azalması
- V. Doğu Yarım Küre'de yer alması

**Yukarıda numaralandırılmış ifadelerden hangisi Türkiye'nin boylam değerleri ile açıklanamaz?**

- A) I      B) II      C) III      D) IV      E) V

6.

Ekvator'dan kutuplara doğru gidildikçe sıcaklığın azalması enlem etkisi ile açıklanır.

**Buna göre, aşağıda verilenlerden hangisi enlem-sıcaklık ilişkisine ters düşer?**

- A) Antalya'da denize girme süresinin Sinop'tan uzun olması
- B) Akdeniz'de tuzluluk oranının Karadeniz'den fazla olması
- C) Ülkemizde güneyden esen rüzgârların sıcaklığı artırması
- D) Ege kıyılarında kuzeye doğru ilerlendikçe sıcaklıkların düşmesi
- E) Doğuya doğru karın yerde kalma süresinin uzaması

7. Aşağıdakilerden hangisinin Antalya Bölümü ile Doğu Karadeniz Bölümü arasında farklılık göstermesi mutlak konum ile açıklanamaz?

- A) Orman üst sınırı
- B) Gündüz süresi uzunluğu
- C) Yaz turizmi süresi
- D) Yıllık yağış miktarı
- E) Kalıcı kar sınırı

8. Türkiye'de cisimlerin gölge yönü yıl boyunca kuzeydir.

**Bu durum, Türkiye'nin aşağıdaki özelliklerinden hangisi ile açıklanabilir?**

- A) Kuzey Yarım Küre'de yer almasıyla
- B) Güneş ışınlarını hiçbir zaman dik almamasıyla
- C) Başlangıç Meridyeni'nin doğusunda yer almasıyla
- D) Orta kuşakta bulunmasıyla
- E) Yengeç Dönencesi'nin kuzeyinde yer almasıyla

9. Aşağıdakilerden hangisi Türkiye'nin göreceli konumu ile açıklanamaz?

- A) Zengin yer altı kaynaklarına sahip olması
- B) Yerçekillerinin doğu-batı doğrultusunda uzanması
- C) Doğuya doğru yıllık sıcaklık ortalamalarının düşmesi
- D) Orta Doğu petrollerine yakın olması
- E) Dört mevsimi belirgin olarak yaşaması

10. Dünya üzerindeki herhangi bir noktanın güneş karşısından geçiş hızı çizgisel hız olarak tanımlanmıştır. Çizgisel hız en fazla Ekvator'dadır ve saatte yaklaşık 1670 km'dir.

**Buna göre, aşağıda verilen merkezlerden hangisinde çizgisel hızın daha az olması beklenir?**

- A) İzmir
- B) Sinop
- C) Ankara
- D) Antalya
- E) Malatya

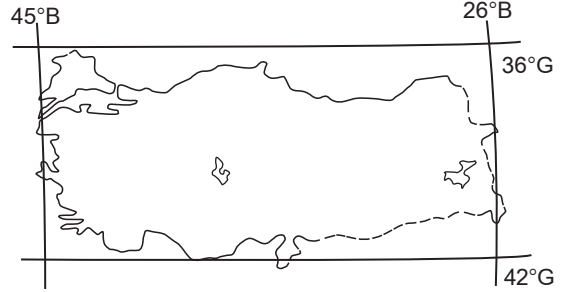
11.



**Yukarıdaki Türkiye haritasında verilen illerimizden hangisinde 21 Haziran tarihinde gece süresi diğerlerinden daha uzundur?**

- A) Ankara
- B) İzmir
- C) Trabzon
- D) Antalya
- E) Erzurum

12.



**Türkiye paralel ve meridyen aralıklarını korumak şartıyla yukarıdaki konuma sahip olsaydı aşağıdakilerden hangisinde değişme görülmezdi?**

- A) Karadeniz kıyılarında yıllık ortalama sıcaklıklar artardı.
- B) Akdeniz'in tuzluluk oranı azalır.
- C) Doğu-batı arasındaki zaman farkı azalır.
- D) Antalya'da yıllık ortalama sıcaklıklar azalır.
- E) Samsun'a güneş ışınlarının düşme açısı bugünkünden daha büyük olurdu.

13. Coğrafi açıdan önemli bir konumda olan Türkiye, elverişli özellikleri nedeniyle tarihin ilk çağlarından beri büyük ölçüde yerleşime açılmış, pek çok medeniyete ev sahipliği yapmıştır.

**Buna göre;**

- I. zengin kültürel mirasa sahip olması,
- II. İstanbul ve Çanakkale Boğazlarına sahip olması,
- III. kültür turizmi potansiyelinin fazla olması

**İfadelerinden hangileri yukarıdaki açıklamaya kanıt oluşturur?**

- A) Yalnız I
- B) Yalnız II
- C) Yalnız III
- D) I ve II
- E) I ve III