

KPSS

2024

**GENEL YETENEK
GENEL KÜLTÜR**



COĞRAFYA

TAMAMI ÇÖZÜMLÜ

30

DENEME

**SORULARIN ÇÖZÜMLERİNE
ULAŞMAK İÇİN
QR KODU OKUTUNUZ**



PEGEM AKADEMİ



KPSS COĞRAFYA TAMAMI ÇÖZÜMLÜ 30 DENEME

Komisyon

ISBN 978-625-6890-67-1

Kitapta yer alan bölümlerin tüm sorumluluğu yazarlarına aittir.

Bu kitabın basım, yayım ve satış hakları Pegem Akademi Yay. Eğt. Dan. Hizm. Tic. AŞ'ye aittir. Anılan kuruluşun izni alınmadan kitabın tümü ya da bölümleri, kapak tasarımı; mekanik, elektronik, fotokopi, manyetik kayıt ya da başka yöntemlerle çoğaltılmaz, basılamaz ve dağıtılamaz. Bu kitap, T.C. Kültür ve Turizm Bakanlığı bandrolü ile satılmaktadır. Okuyucularımızın bandrolü olmayan kitaplar hakkında yayınevimize bilgi vermesini ve bandrolsüz yayınları satın almamasını diliyoruz.

Pegem Akademi Yayıncılık, 1998 yılından bugüne uluslararası düzeyde düzenli faaliyet yürüten uluslararası akademik bir yayınevidir. Yayınladığı kitaplar; Yükseköğretim Kurulunca tanınan yükseköğretim kurumlarının kataloglarında yer almaktadır. Dünyadaki en büyük çevrimiçi kamu erişim kataloğu olan WorldCat ve ayrıca Türkiye'de kurulan Turcademy.com tarafından yayınları taranmaktadır, indekslenmektedir. Aynı alanda farklı yazarlara ait 1000'in üzerinde yayını bulunmaktadır. Pegem Akademi Yayınları ile ilgili detaylı bilgilere <http://pegem.net> adresinden ulaşılabilmektedir.

1. Baskı: Ekim 2023, Ankara

Proje-Yayın: Deniz Şahan
Dizgi-Grafik Tasarım: Seyide Bayraktar
Kapak Tasarımı: Pegem Akademi

Baskı: Vadi Grup Basım AŞ
Saray Mah. 126 Cad. No: 20/A
Kazan/ANKARA
Tel: (0312) 802 00 53-54

Yayıncı Sertifika No: 51818
Matbaa Sertifika No: 49180

İLETİŞİM



Shira Ticaret Merkezi, Macun Mahallesi 204 Cad.
No: 141/33, Yenimahalle/Ankara



Yayınevi: 0312 430 67 50

Dağıtım: 0312 434 54 24

Hazırlık Kursları: 0312 419 05 60



www.pegem.net



pegem@pegem.net



0538 594 92 40



[pegemakademi](https://www.instagram.com/pegemakademi)

Sevgili Kamu Personel Adayları,

KPSS Genel Kültür testinde önemli bir yer tutan “Coğrafya” kapsamındaki sorular, yıllara göre analiz edilmiş ve bu analiz sonuçlarına göre kitabınızda yer alan denemeler oluşturulmuştur.

Sınavda başarılı olabilmek için yeterli bilgi düzeyinin yanı sıra çok sayıda soruyu anlayarak hızlı bir şekilde cevaplamak gerekmektedir. Bu koşul göz önünde bulundurularak sınavda karşınıza çıkabilecek soru türleri çözümleri ile birlikte sizlere sunulmuştur. Çözümlere ulaşabilmeniz için aşağıda yer alan bildirim inceleyebilir, kitaba ilişkin sorularınızı pegem@pegem.net adresine mail yolu ile ya da 0538 594 92 40 numaralı telefonumuza WhatsApp yolu ile iletebilir olduğunuzu belirtiriz.

KPSS yayınlarında hissedilen önemli bir eksikliği gidermek ve adaylara daha nitelikli ve kapsamlı bir kaynak sunmak amacıyla böyle bir çalışma hazırlanmıştır. Kitaptaki denemeler hazırlanırken her sorunun KPSS formatına bire bir uygun olmasına özen gösterilmiş, çıkması muhtemel tüm konulara da gerektiği kadar yer verilmiştir.

“KPSS Coğrafya 30 Deneme” kitabımızın hepimize faydalı olacağını umuyor, Pegem Akademi Yayıncılık olarak bütün KPSS adaylarına başarılar diliyoruz.

Pegem Akademi Yayıncılık

*Coğrafya Sorularının
çözümleri için QR
kodu okutunuz.*



*Karekod okutmak için tavsiye
edilen uygulamalar*



QR Droid



Qrafter

*pegem.net'ten ulaşmak için
<https://depo.pegem.net/2024-gygk-cografya30deneme.cozum.pdf>*

| | |
|---------------------|----|
| Deneme 01..... | 1 |
| Deneme 02..... | 4 |
| Deneme 03..... | 7 |
| Deneme 04..... | 10 |
| Deneme 05..... | 13 |
| Deneme 06..... | 16 |
| Deneme 07..... | 19 |
| Deneme 08..... | 22 |
| Deneme 09..... | 25 |
| Deneme 10..... | 28 |
| Deneme 11..... | 31 |
| Deneme 12..... | 34 |
| Deneme 13..... | 37 |
| Deneme 14..... | 40 |
| Deneme 15..... | 43 |
| Deneme 16..... | 46 |
| Deneme 17..... | 49 |
| Deneme 18..... | 52 |
| Deneme 19..... | 55 |
| Deneme 20..... | 58 |
| Deneme 21..... | 61 |
| Deneme 22..... | 63 |
| Deneme 23..... | 66 |
| Deneme 24..... | 68 |
| Deneme 25..... | 71 |
| Deneme 26..... | 74 |
| Deneme 27..... | 77 |
| Deneme 28..... | 80 |
| Deneme 29..... | 83 |
| Deneme 30..... | 86 |
| Cevap Anahtarı..... | 89 |

1. Türkiye'nin koordinatları belirtilirken aşağıdaki ifadelerden hangisi kullanılmaz?

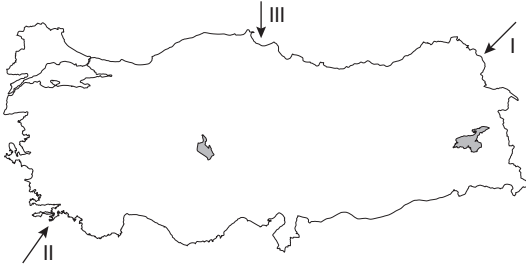
- A) 36° Kuzey B) 26° Doğu
C) 42° Kuzey D) 33° Doğu
E) 45° Doğu

2. Ahmet Bey ve eşi Selma Hanım gençlik hayalleri olan gün doğuşunu uzun uzun seyretme fikrini tekrardan gündeme alırlar. Yurt dışı seyahati için yeterli bütçeleri olmadığını fark eden çift, ülke içinde güzel bir şehir görüp aynı zamanda da gün doğuşunu seyretmeye karar verirler.

Bodrum'da bulunan Ahmet Bey ve eşi aşağıdaki şehirlerin hangisine seyahat ederse en uzun gün doğumunu izleyebilirler?

- A) Sinop B) Mardin
C) Çanakkale D) Erzurum
E) Hatay

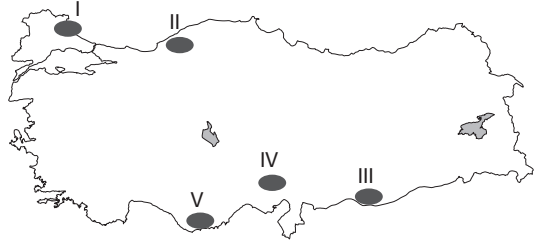
3.



Yukarıdaki Türkiye haritasında numaralandırılarak gösterilen rüzgârlar aşağıdakilerden hangisinde doğru eşleştirilmiştir?

| | I | II | III |
|----|----------|---------|----------|
| A) | Sam yeli | Kible | Lodos |
| B) | Poyraz | Lodos | Yıldız |
| C) | Kible | Karayel | Lodos |
| D) | Lodos | Yıldız | Poyraz |
| E) | Karayel | Poyraz | Sam yeli |

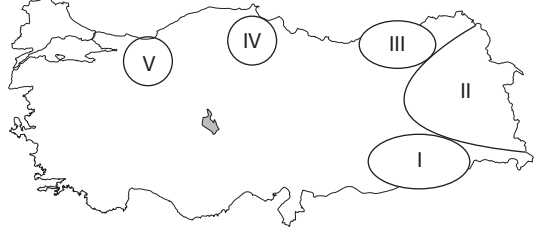
4.



Yukarıdaki Türkiye haritasında numaralandırılarak gösterilen yerlerden hangisi masif arazilerden değildir?

- A) I B) II C) III D) IV E) V

5.



Yukarıda Türkiye haritasında numaralandırılarak verilen yerlerin tümü bölgesel kalkınma planı uygulama alanlarıdır.

Bu alanlardan hangisinde uygulanan ya da uygulanması beklenen projenin temel amacı diğer dördünden farklıdır?

- A) I B) II C) III D) IV E) V

6. Aşağıdaki akarsulardan hangisi hem kaynağını Anadolu'dan alıp, hem de ağzında delta ovası oluşturarak yine Anadolu'dan denize dökülen akarsulardandır?

- A) Fırat B) Gediz C) Dalaman
D) Asi E) Sakarya

7.

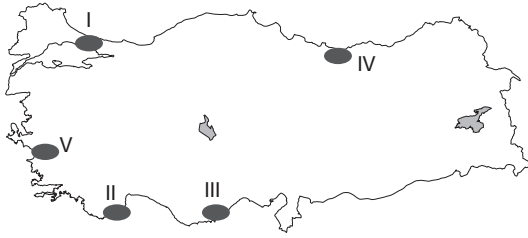
- Fazla çocuklu aileler bazı vergilerden muaf tutulmuştur.
- Evlenme yaşı 15'e indirilmiştir.
- Gebeliği önleyici ilaçların kullanılması ve satılması yasaklanmıştır.

Yukarıda ülkemizde bir dönem uygulanan nüfus politikasına ait özellikler verilmiştir.

Verilen bu özellikler aşağıdaki dönemlerden hangisine aittir?

- A) 1923 - 1963
B) 1963 - 1980
C) 1980 - 2005
D) 2005 - 2014
E) 2014 ve sonrası

8.



Yukarıdaki Türkiye haritası üzerinde numaralandırılmış taralı alanlar ile bu alanlarda görülen kıyı tipleri eşleştirmelerinden hangisi yanlıştır?

- A) I → Ria Kıyı
B) II → Dalmaçya Kıyı
C) III → Boyuna Kıyı
D) IV → Boyuna Kıyı
E) V → Enine Kıyı

9.

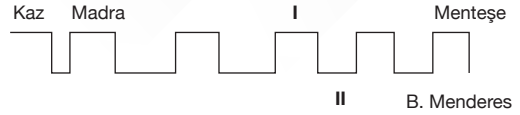
- I. Taş kömürü yataklarının oluşumu - I. Jeolojik Devir
II. Uludağ volkanik yapısının oluşumu - II. Jeolojik Devir
III. İstanbul - Çanakkale boğazlarının oluşumu - IV. Jeolojik Devir

Yukarıda Türkiye'de yaşanan jeolojik olaylar ve yaşandığı jeolojik devirler eşleştirilmiştir.

Yapılan eşleştirmelerin hangileri doğrudur?

- A) Yalnız I
B) I ve II
C) Yalnız III
D) II ve III
E) I, II ve III

10.



Yukarıda Ege Bölgesi'nde bulunan horst ve grabenlerin gösterildiği bir şekil verilmiştir.

Verilen şekilde numaralandırılmış yerlere aşağıdakilerden hangisi yazılmalıdır?

| | I | II |
|----|-------|----------------|
| A) | Boz | Gediz |
| B) | Boz | Küçük Menderes |
| C) | Aydın | Bakırçay |
| D) | Yunt | Gediz |
| E) | Aydın | Küçük Menderes |

P
E
G
E
M
A
K
A
D
E
M
İ

11. Türkiye'de dokusuna göre kırsal yerleşmeler toplu ve dağınık yerleşmeler olarak ikiye ayrılır.

Bu bilgiye göre aşağıdaki yerlerin hangisinde köyaltı yerleşmeleri toplu yerleşme şeklindedir?

- A) Rize
B) Artvin
C) Giresun
D) Karabük
E) Ankara

12.

- Türkiye'nin ilk transit konteyner limanıdır.
- 1200 kişilik istihdam gücüne sahiptir.
- Avrupa'nın 10. büyük transit limanıdır.

Genel özellikleri verilen "Asyaport" aşağıdaki şehirlerden hangisinin sınırları içinde yer alır?

- A) Tekirdağ
B) Samsun
C) İstanbul
D) Mersin
E) Bursa

13. Türkiye 1983 yılında UNESCO'ya resmen üye olmuştur. UNESCO'nun Dünya Mirası Listesi'nde Türkiye'nin 17'si kültürel, 2'si karma olmak üzere 19 miras alanı bulunmaktadır.

Aşağıda verilen alanlardan hangisi UNESCO Dünya Miras Listesi'nde bulunan karma alanlardandır?

- A) İstanbul Tarihi Alanları
B) Ani Arkeolojik Alanı
C) Göreme Millî Parkı ve Kapadokya
D) Safranbolu Şehri
E) Xanthos - Letoon

14. Aşağıdaki yerlerden hangisi Türkiye'nin 2023 Turizm Stratejisi'ne göre İpek Yolu Turizm Koridoru üzerinde yer alır?

- A) Kartalkaya B) Hayrabolu C) Ayaş
D) Hopa E) Mudanya

15.

- I. Sarayköy - Jeotermal
II. Ambarlı - Linyit
III. Yatağan - Taş kömürü
IV. Çatalağzı - Taş kömürü
V. Keban - Su

Yukarıda ülkemizde bulunan beş enerji santrali ve bunların enerji ürettiği kaynaklar eşleştirilmiştir.

Yapılan eşleştirmelerden hangileri yanlıştır?

- A) I ve II B) I ve III C) II ve III
D) I ve V E) IV ve III

16. Aşağıda Türkiye haritasında bazı platolarımız ve bu platolarda yaygın yapılan hayvancılık faaliyetleri verilmiştir.



Buna göre aşağıdaki hayvancılık faaliyetlerinden hangisi yanlış gösterilmiştir?

- A) Büyükbaş (Mera)
B) Kıl keçiciliği
C) Küçükbaş
D) Büyükbaş (Besi)
E) İpek böcekçiliği

17. Aşağıdaki tarım ürünlerinin yetiştirme alanları dikkate alındığında hangisinin ekonomik getirisi az olduğu için üretimi kıyı bölgelerde yapılamaz?

- A) Şeker pancarı B) Çay C) Muz
D) Zeytin E) Mısır

18. Aşağıda verilen sanayi kollarına ait işletmelerden hangisinde kurulum yeri seçilirken ham maddeye yakınlık gözetilmemiştir?

- A) Çanakkale - Konserve Sanayisi
B) Karabük - Demir-Çelik Sanayisi
C) Ankara - Şeker Fabrikası
D) Rize - Çay Fabrikası
E) Giresun - Kâğıt Fabrikası

1. Aşağıdaki özelliklerden hangisi Türkiye'nin Kuzey Yarım Küre'de olduğunu kanıtlar?

- A) En sıcak ayların 6, 7 ve 8. aylar olması
- B) Batı rüzgârlarından etkilenmesi
- C) Akarsuların doğu-batı doğrultusunda akması
- D) Cephe yağışlarının görülmesi
- E) Yıl içinde güneşi dik açıyla almaması

2. Türkiye'de dış kuvvetler içerisinde buzulların etkisi diğer dış kuvvetlere göre çok daha azdır. Orta Kuşak'ta bulunan Türkiye'de buzullar sadece yüksek dağ yamaçlarında etkili olabilir.

Hatta buzul vadilerin sular altında kalmasıyla oluşan fiyort kıyı tipi de Türkiye'de görülmez.

Bu durum Türkiye'nin aşağıdaki özelliklerinden hangisi ile ilgilidir?

- A) Yüz ölçümüyle
- B) Özel konumuyla
- C) Kuzey Yarım Küre'de olmasıyla
- D) Dağların uzanış doğrultusuyla
- E) Orta Kuşak'ta olmasıyla

3. Aşağıda verilen elektrik santrallerinden hangisinde kullanılan enerji kaynağı linyit değildir?

- A) Manisa (Soma)
- B) Muğla (Yatağan)
- C) Denizli (Sarayköy)
- D) Maraş (Elbistan)
- E) Ankara (Çayırhan)

4.

- I. Üretimi devlet kontrolündedir.
- II. Kalitenin düşmemesi için kota koyulan ürünlerdendir.
- III. Bütün coğrafi bölgelerimize uyum sağlamıştır.
- IV. Üretimi en fazla Adıyaman'da yapılır.

Verilen özellikler aşağıdaki tarım ürünlerinden hangisine aittir?

- A) Çeltik
- B) Tütün
- C) Haşhaş
- D) Kenevir
- E) Çay

5. Bir yanardağdan akan lavın üst kısmının soğuyarak kalınlaşması ve bu katı kısmın altından lavların akmaya devam etmesiyle oluşan çoğunlukla tüp şekilli mağaralara "Lav Tüpü Mağarası" denir.

Türkiye'nin bu özelliklere sahip ilk mağarası aşağıdaki illerden hangisinde yer almaktadır?

- A) Konya
- B) Adıyaman
- C) Hatay
- D) İzmir
- E) Manisa

6.

- I. Doğu Anadolu ve Güney Doğu Anadolu'da tarım ve hayvancılık için kurulan sürekli köyaltı yerleşmelerdir.
- II. Türkiye'deki en yaygın köyaltı yerleşmedir. Yazları hayvan otlatmak amacıyla kurulan bu yerleşmeler bazen ekoturizm amaçlı da kullanılır. Karadeniz ve Akdeniz'de yaygın görülür.
- III. Batı Karadeniz'de köyden yüksek ve birbirine uzak kurulmuş evlerden oluşan tarım, hayvancılık alanlarıdır.
- IV. Marmara'nın ve Ege'nin güneyinde kurulan küçük balıkçılık barınaklarıdır.

Verilen bilgiler aşağıdaki köyaltı yerleşmeleri ile eşleştirildiğinde hangisi dışarıda kalır?

- A) Mezra
- B) Divan
- C) Yayla
- D) Kom
- E) Dalyan

7. Aşağıdaki haritada bazı hayvancılık faaliyetlerinin yapıldığı alanlar gösterilmiştir.



Buna göre haritada verilen hayvancılık türlerinden hangisinin yeri yanlış gösterilmiştir?

- A) Kümes hayvancılığı
- B) Arıcılık
- C) Tiftik keçiciliği
- D) İpek böcekçiliği
- E) Sığır yetiştiriciliği

8. Denge profili; bir akarsuyun yatak eğimini tamamen ortadan kaldırarak yatağında menderesler çizerek dönüştürür. Ülkemizdeki akarsuların hiçbiri henüz denge profiline ulaşmamıştır.

Aşağıdaki ifadelerden hangisi bu durumu kanıtlamak için kullanılamaz?

- A) Akarsuların dar ve derin vadilerden akması
B) Akarsuların hidroelektrik potansiyelinin fazla olması
C) Akarsuların kaynağı ve ağız arasındaki yükselti farkının fazla olması
D) Akarsuların kirlilik oranının fazla olması
E) Akarsuların yük ve yolcu taşımaya elverişsiz olması

9. Türkiye'nin aşağıda verilen sınır kapılarından hangisine demir yolu ile ulaşamaz?

- A) Canbaz - Gürcistan
B) Kapıköy - İran
C) Akyaka - Ermenistan
D) Nusaybin - Suriye
E) Dilucu - Nahcivan

10.

- I. Kültepe - Kayseri
II. Çatalhöyük - Konya
III. Alacahöyük - Çorum
IV. Sard - İzmir
V. Gordion - Ankara

Yukarıda verilen tarihi turizm alanı ve il eşleştirmelerinden hangisi yanlıştır?

- A) I B) II C) III D) IV E) V

11.

- Zonguldak'ta taş kömür yataklarının olması
- Dünya bor rezervlerinin yarıdan fazlasının Eskişehir'de olması
- Ege'de kırık dağların yer alması

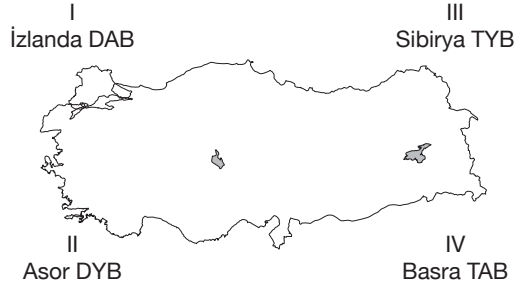
Yukarıda Türkiye'nin jeolojik geçmişiyle ilgili bazı bilgilere yer verilmiştir.

Buna göre ulaşılabilecek en kapsamlı yargı aşağıdakilerden hangisidir?

- A) Ülkemizde farklı jeolojik dönemlere ait oluşumlar yer alır.
B) Ülkemizde maden çeşitliliği fazladır.
C) Ülkemizde sık sık volkanizma etkili olmuştur.
D) Bugünkü şeklini I. Jeolojik Dönem'de almıştır.
E) Akarsular dar ve derin vadilerden akar.

P
E
G
E
M
A
K
A
D
E
M
İ

12.



Yukarıdaki Türkiye haritasında numaralandırılarak gösterilen basınçlardan hangileri ülkemizde kışların yağışlı ve ılıman geçmesine katkı sağlar?

- A) Yalnız I B) Yalnız II C) II ve III
D) I ve IV E) II ve IV

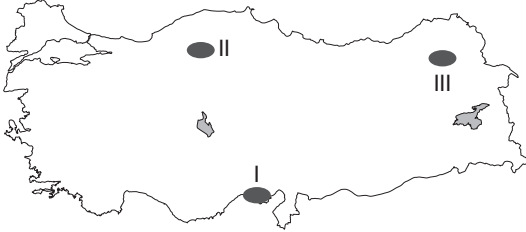
13. Türkiye'nin bitki türü ve çeşitliliği bakımından zengin bir ülke olmasında;

- I. endemik bitki sayısının fazla olması,
II. akarsularının dar ve derin vadilerden akması,
III. kısa mesafelerde yükseltinin ani değişmesi

özelliklerinden hangileri etkili olmuştur?

- A) Yalnız I B) Yalnız II C) Yalnız III
D) I ve III E) II ve III

14.



Haritada numaralandırılan alanlarda yaygın olarak görülen toprak türleri aşağıdakilerin hangisinde doğru eşleştirilmiştir?

| | I | II | III |
|----|-------------|------------------|-----------------|
| A) | Alüvyal | Kahverengi Orman | Laterit |
| B) | Terra Rossa | Laterit | Tundra |
| C) | Alüvyal | Podzol | Çernezyom |
| D) | Kolüvyal | Podzol | Kahverengi Step |
| E) | Alüvyal | Regasol | Çernezyom |

15. Türkiye'nin nüfusuyla ilgili olarak

- I. Tarım sektöründe çalışanların oranı sanayide çalışanlardan fazladır.
- II. En fazla göçü kırdan kente verir.
- III. Kentlerdeki doğal nüfus artış hızı kırsal kesimden daha azdır.
- IV. Kadın nüfusunun ortalama ömür beklentisi erkek nüfusa göre daha fazladır.

yargılarından hangileri doğrudur?

- A) Yalnız II B) II, III ve IV C) II ve III
D) I ve III E) III ve IV

16. Kıyı oklarının büyüyerek bir koyun önünü kapatması sonucunda oluşan göllere kıyı set gölü denir.

Aşağıdaki göllerin oluşum özellikleri dikkate alındığında hangisi kıyı set gölüne örnek gösterilemez?

- A) Küçük Çekmece
B) Büyük Çekmece
C) Mogan
D) Durusu (Terkos)
E) Akyatan

17. Muğla, Antalya ve Rize şehirlerinin mevsimlik işçi göçü almasında,

- I. turizm,
- II. sanayi,
- III. madencilik,
- IV. tarım

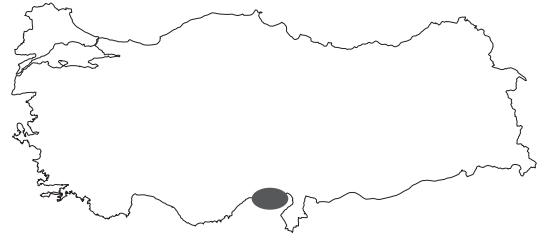
sektörlerinden hangileri etkili olmuştur?

- A) I ve II B) I ve III C) II ve III
D) II ve IV E) I ve IV

P
E
G
E
M

A
K
A
D
E
M
İ

18.



Verilen haritada taralı olarak gösterilen yer aşağıdaki bölge türlerinden hangisine örnek gösterilemez?

- A) Yoğun Nüfus Bölgesi
B) Tarım Bölgesi
C) Maden Bölgesi
D) Sanayi Bölgesi
E) Ticaret Bölgesi

1. Samsun bakır işletmesinin yer seçiminde;

- I. ham maddeye yakınlık,
- II. elverişli ulaşım şartları,
- III. enerji kaynağına yakınlık,
- IV. su kaynaklarına yakınlık,
- V. pazara yakınlık

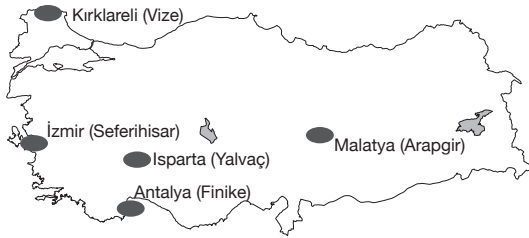
faktörlerinden hangisi etkili olmuştur?

- A) I B) II C) III D) IV E) V

2. Dünyanın en uzun asma köprüsü aşağıdakilerden hangisidir?

- A) Yavuz Sultan Selim Köprüsü
- B) 1915 Çanakkale Köprüsü
- C) Fatih Sultan Mehmet Köprüsü
- D) 15 Temmuz Şehitler Köprüsü
- E) Osmangazi Köprüsü

3.



Yukarıda Türkiye'nin sakin şehirleri verilmiştir.

Haritada verilen yerlerin hangisi son sakin şehrimizdir?

- A) Antalya (Finike)
- B) İzmir (Seferihisar)
- C) Isparta (Yalvaç)
- D) Malatya (Arapgir)
- E) Erzincan (Kemaliye)

4.

- I. Göçler daha çok kırdan-kente doğrudur.
- II. Göçlerin yönü kuzeyden-güneye doğrudur.
- III. Göç alan il sayısı, göç veren il sayısından daha azdır.

Türkiye'de yaşanan göçlerle ilgili yukarıda verilen ifadelerden hangileri yanlıştır?

- A) Yalnız I B) I ve II C) Yalnız II
D) I ve III E) I, II ve III

5. UNESCO Dünya Miras Listesi'ne Türkiye'den aşağıdaki eserlerden hangisi dâhil değildir?

- A) Truva Antik Kenti (Çanakkale)
- B) İstanbul'un Tarihî Alanları (İstanbul)
- C) Kommagene Antik Kenti (Adıyaman)
- D) Bergama Çok Katmanlı Kültürel Peyzaj Alanı (İzmir)
- E) Afrodiasias Antik Kenti (Aydın)

6. Türkiye'nin ilk ve tek su altı millî parkı aşağıdakilerden hangisidir?

- A) Gökçeada (Çanakkale)
- B) Van Gölü (Van)
- C) Manavgat (Antalya)
- D) İnciraltı (İzmir)
- E) Kuşadası (Aydın)